

# هندسة الأساسات

## تصميم وتنفيذ الأساسات السطحية

استاذ دكتور مهندس  
السيد عبد الفتاح القصي



## مقدمة

بالرغم من أن علم الأساسات من العلوم الحديثة التي ظهرت في نهاية الربع الأول من القرن العشرين إلا أن إستخداماته ومبادئه أحس الإنسان القديم بها وتناولها في مبانيه منذ القدم . فالإنسان المصرى القديم كان بفطرته يختار الأرض القوية لبناء مساكنه ومعابده ومقابره مثلما اختار هضبة الهرم لبناء الأهرام عليها رغم بعد هذه الهضبة عن مجرى النيل الذى كان ينقل فيه أحجاره من جنوب الوادى ، كما أستخدم العديد من مبادئ علم الأساسات عند تنفيذ مبانيه ومعابده والتي مازالت باقية حتى الآن شاهدة على عظمة هذا الإنسان .

ومنذ أكثر من ألف سنة كتب أحد المهندسين الرومانيين ( وإسمه فيثروفيوس ) يلخص مبادئ علم الأساسات فيما يلى : - " أن الأساسات وهى الجزء الأسفل من المبنى يجب أن توضع على تربة صلبة إن وجدت وفى حالة عدم وجودها يجب حفر الأرض تحتها للوصول إلى هذه التربة كما يجب التأكد من عدم زيادة ثقل المبنى عن قوة تحمل التربة التى تحتها وإلا حدث هبوط للمبنى " .

ومسئولية مهندس الأساسات كبيرة وخطيرة ولاحتتمل الخطأ ، فالخطأ فى الأساسات هو الخطأ الأول والأخير والذى قد يترتب عليه إتهيار المبنى بالكامل . ودائما ماتقول لطلابنا فى أقسام الهندسة المدنية بأن خطأ الطبيب قد لايتعدى وفاة مريض واحد ، وقد يدفن خطأ الطبيب مع مريضه ، وقد يقال إنتهى عمر المريض وهذا أجله ، وخطأ السائق الذى يقود ركابه إلى الموت قد يقال عنه قضاء وقدر . . . إلخ وهكذا فإن خطأ الآخرين سرعان مايزوب فى عالم النسيان ، أما عمل المهندس المدنى فيبقى دائما واضحا للعيان وخطأه مكشوف للجميع وفضيحته منشورة وقد يكون ضحاياه بالعشرات أو المئات إذا أدى خطأه إلى إتهيار مبنى .

وهذا الجزء من مرجعنا ضم ثمانية أبواب تحتوى على ثمان موضوعات هامة من علم هندسة الأساسات بدأت بباب عن إستكشاف التربة وأبحاث الموقع وقدمنا فى هذا الباب تفصيل خطوات إعداد تقرير التربة والأساسات وهو أول مستند هندسى إنشائى لازم لأى مبنى يراد تنفيذه ، وخصص الباب الثانى لطرق حساب قدرة تحمل التربة سواء الحسابية منها أو الموقعية وضم الباب الثالث أنواع الأساسات السطحية وأحمالها والضغوط عليها كما ضم طريقتى التصميم بالإجهادات القصوى وبالإجهادات التشغيل وضم هذا الباب أيضا كيفية تنفيذ الأساسات من إحلال وخرسانات ورسومات ، وخصص الباب الرابع لتصميم القواعد المنفصلة بطريقتى التصميم المذكورتين . أما تصميم الأساسات الشريطية فلقد إختص بها الباب الخامس ، وفى الباب السادس قدما تصميم القواعد المشتركة والكابولية ، وإحتوى الباب السابع على

الطرق التقريبية والتقليدية لتصميم اللبشة ، ثم قدمنا فى الباب الثامن التحليل العددي للأساسات باستخدام طرق التحليل المختلفة والحديثة التى تعتمد على إستخدام الكمبيوتر ، ولقد أوردنا عددا وفيرا من الأمثلة المحولة على الطرق والنظريات المختلفة الواردة بهذا الكتاب كما أوردنا من الكود المصرى التجارب الموقعية وما يخص الموضوعات المعروضة ، كما راعينا الإشارة الدائمة للكودات الأخرى العربية منها والعالمية ، كما قدمنا فى نهاية كل باب عددا كبيرا من المسائل ليستطيع القارئ تطبيق الطرق المختلفة للتصميم عليها .

ولقد إستخدمنا فى هذا المرجع أسلوب التصميم بطريقة إجهادات التشغيل والتى مازال عدد كبير من المهندسين يستخدمها فى الوقت الحاضر وطريقة الإجهادات القصوى وهى الطريقة الأحدث التى يتجه إلى إستخدامها المهندسون ولقد أوردنا العديد من الأمثلة العديدة بهذين الأسلوبين

أما فيما يخص لغة هذا المرجع فلقد إتبعنا الإسلوب ثنائى اللغة الذى إنتهجناه فى كتابنا " ميكانيكا التربة " والذى لاقى إستحسانا كبيرا فى مصر والعالم العربى وهذا الإسلوب يعتمد على تقديم الموضوعات وشرحها باللغة العربية لإيماننا المطلق بأن اللغة العربية تستوعب العلوم الحديثة مع إحتفاظنا بكتابة المعادلات والعلاقات والمصطلحات والأمثلة والمسائل باللغة الإنجليزية حتى يتمكن القارئ من الرجوع إلى المراجع الأجنبية لمواكبة وملاحقة التطورات التى تحدث فى هذا المجال .

وإتينا على وعد مع قرائنا بإصدار الجزء الثانى من هذا الكتاب وإن شاء الله سوف يتضمن هذا الجزء باقى موضوعات علم هندسة الأساسات مثل الأساسات العميقة من خوازيق وهامات ودعامات وقيسونات ، الحوائط السائدة ، الستائر اللوحية والأساسات الدائرية للخزانات والأبراج، أساسات خزانات البترول ومنصات البترول ، والأساسات الحديثة ، وترميم ومعالجة الأساسات ونظم تصريف المياه الأرضية وقواعد الماكينات وغيرها من الموضوعات الهامة فى هذا العلم .

وإتينا إذ نقدم هذا الكتاب للعاملين والمهتمين بمجال البناء والإنشاء - المهندسين المدنيين والمعماريين وطلاب كليات الهندسة والمعاهد العليا للتكنولوجيا نسأل الله أن تعم فائدته الجميع .

الأستاذ الدكتور/ السيد عبد الفتاح القصبى

أستاذ ورئيس قسم الهندسة المدنية

المعهد العالى للتكنولوجيا ببها



٧	مقدمة
٩	الباب الأول: إستكشاف التربة وأبحاث الموقع
٩	♦ أهمية أبحاث الموقع
٩	♦ البيانات المطلوبة من أبحاث الموقع
١٠	♦ برنامج إستكشاف التربة
١٠	♦ الخطوات التفصيلية لإستكشاف التربة
١١	أولاً : المعلومات الأساسية المتاحة
١١	ثانياً : إستطلاع الموقع
١٢	ثالثاً : جسات التربة
٢٥	رابعاً : عينات التربة
٣٢	خامساً : الإختبارات الموقعية
٤٣	سادساً : المياه الجوفية
٤٦	سابعاً : إعداد تقرير أبحاث التربة
٤٦	ثامناً : تحليل النتائج ودراساتها
٦٣	تاسعاً : إعداد تقارير أبحاث التربة
٦٤	♦ إستكشاف التربة بالطرق الجيو فيزيائية
٦٤	أولاً : طرق إستكشاف الزلزالي
٧٠	ثانياً : طرق الإستكشاف بالمسح الكهربى
٧٥	♦ الإختبارات وفقاً للكوود المصرى
١٠٣	♦ مسائل
١١٣	الباب الثالث: قدرة التحمل
١١٣	مقدمة
١١٣	♦ قدرة التحمل القصوى



١١٥	تعيين قدرة التحمل
١١٥	معادلة ترزاجي لقدرة التحمل
١١٧	تأثير المياه الجوفية
١٢١	معادلة مايرهوف لقدرة التحمل
١٢٣	معادلة هانزن لقدرة التحمل
١٢٤	معادلة فيزك لحساب قدرة التحمل
١٢٤	إختبار معادلة قدرة التحمل
١٣٠	قدرة تحمل التربة الصافية والأمنة والمسموح بها
١٣٥	الأساسات الغير مركزية الحمل
١٤٠	الأساسات على الطين
١٤٢	قدرة تحمل الصخر
١٤٦	قدرة التحمل للأساسات على التربة الطبقية
١٥٥	قدرة تحمل الأساسات على المنحدرات
١٥٨	قدرة التحمل من إختبار الإختراق القياسي
١٦٠	قدرة التحمل من إختبار الإختراق بالمخروط
١٦١	تعيين قدرة التحمل من إختبار التحميل الموقعي
١٦٨	قيم إسترشادية لقدرة التحمل
١٦٩	هبوط الأساسات السطحية
١٨٨	الهبوط النسبي أو المتفاوت
١٩٣	الإختبارات وفقاً للكوود المصري
١٩٩	مسائل
٢١٣	<b>الباب الثالث: الأساسات السطحية</b>
٢١٣	الأساسات والغرض منها
٢١٣	أنواع الأساسات
٢١٤	إختبار نوع الأساس
٢١٦	تحديد عمق التأسيس
٢١٧	الأحمال على الأساسات

٢١٨.....	✧ توزيع ضغط التماس تحت الأساسات السطحية
٢٢٢.....	✧ مساحة الأساس وقدرة التحمل
٢٢٥.....	✧ طرق تصميم القطاعات
٢٢٦.....	✧ التصميم بطريقة المرونة (طريق إجهادات التشغيل)
٢٢٨.....	✧ التصميم بطريقة حالات الحدود
٢٢٩.....	✧ معنى تصميم الأساسات
٢٣٠.....	✧ المقاطع الحرجة لتصميم الأساسات
٢٣٢.....	✧ حديد التسليح للأساسات
٢٣٢.....	✧ أبعاد خرسانية
٢٣٤.....	✧ الخرسانة العادية للأساسات
٢٣٨.....	✧ طبقات الإحلال
٢٤١.....	✧ أسباب فشل الأساسات السطحية
٢٤٧.....	✧ تخطيط الموقع والحفر وتنفيذ الأساسات
٢٤٩.....	✧ رسومات الأساسات
٢٥٠.....	✧ معلومات من الكود المصرى
٢٧٣.....	✧ مسائل
٢٨١.....	<b>الباب الرابع: تصميم القواعد المنفصلة</b>
٢٨٣.....	✧ تصميم القواعد المربعة بطريقة المرونة (إجهاد التشغيل)
٢٩٠.....	✧ التصميم بطريقة المقاومة القصوى
٣٠٠.....	✧ تصميم القواعد المربعة بطريقة المقاومة القصوى
٣١٠.....	✧ تصميم القواعد المستطيلة
٣١٧.....	✧ القواعد المعرضة لعزم إنحناء
٣٣١.....	✧ السمات والميد الرابطة
٣٣٥.....	✧ مسائل
٣٤١.....	<b>الباب الخامس: تصميم الأساسات الشريطية</b>
٣٤١.....	✧ أنواع الأساسات الشريطية
٣٤١.....	✧ الأساسات الشريطية للحوائط

٣٤٨.....	✧ تصميم الأساسات الشريطية للحوائط بطريقة المرونة (إجهاد التشغيل)
٣٤٨.....	✧ تصميم الأساسات الشريطية للحوائط بطريقة المقاومة القصوى
٣٥٥.....	✧ الأساسات الشريطية المعرضة لعزم الإنحناء
٣٥٨.....	✧ إستخدام القواعد الشريطية لحوائط المصاعد ولب المباني
٣٦٢.....	✧ الأساسات الشريطية تحت صفوف الأعمدة
٣٦٩.....	✧ مسائل
٣٧٣.....	<b>الباب السادس: القواعد المشتركة</b>
٣٧٨.....	✧ تصميم القواعد المشتركة المستطيلة
٣٩٢.....	✧ تصميم القواعد المشتركة شبه المنحرف
٤٠١.....	✧ حالة خاصة من القواعد المشتركة المستطيلة وشبه المنحرف
٤٠٣.....	✧ تصميم القواعد المشتركة بطريقة الإجهادات القصوى
٤٠٨.....	✧ تصميم القواعد ذات الشداد (القواعد الكابولية)
٤١٧.....	✧ حالات خاصة للقواعد ذات الشداد
٤٢٣.....	✧ مسائل
٤٢٩.....	<b>الباب السابع: تصميم اللبشة بالطرق التقليدية</b>
٤٢٩.....	✧ أنواع أساسات اللبشة
٤٣١.....	✧ الهبوط المتباين للبشة
٤٣٢.....	✧ تنفيذ اللبشة
٤٣٣.....	✧ تصميم اللبشة
٤٣٤.....	✧ أولاً : تصميم اللبشة كقاعدة مستمرة
٤٤٠.....	✧ ثانياً : تصميم القاعدة كبلطة منبسطة
٤٤٤.....	✧ ثالثاً : تصميم اللبشة بالطريقة التقليدية
٤٦١.....	✧ رابعاً: تصميم اللبشة الكمرية
٤٧١.....	✧ مسائل
٤٧٧.....	<b>الباب الثامن: التحليل العددي للأساسات</b>
٤٧٧.....	✧ معنى تصميم الأساسات
٤٨٠.....	✧ الحلول القياسية المعتمدة على ضغط التماس



٤٨٠	◇ شكل ضغط التماس
٤٨٠	◇ الأساس الجاسئ
٤٨١	◇ الأساس المرن
٤٨٢	◇ نظام حسابات التصميم
٤٨٤	◇ معاملات المرونة للتربة
٤٨٤	أ- معامل المرونة
٤٨٥	ب- معامل بواسن
٤٨٦	ج- معامل الجساءة (القص)
٤٨٧	د- معامل رد فعل التربة
٤٩١	◇ حل هيتي لكمره على تربة مرنة
٥٠٠	◇ طريقة الفروقات المحددة
٥٠٤	◇ طرق تصميم الأساسات المشتركة بطريقة الفروق المحددة
	◇ استخدام أسلوب الفروقات المحددة لتطبيق طريقة الأساس المرن وما تحت
٥٠٥	الأساس بسيط المرونة
٥١١	◇ استخدام الفروقات المحددة للحل بطريقة "الأساس وما تحته مرنان"
٥١٥	◇ الأساسات المتغيرة في عزم القصور الذاتي
٥٢٦	◇ طريقة العناصر المحدودة لكمره على تربة تأسيس مرنة
٥٣٥	◇ تصميم الأساسات المشتركة لكمره على تربة مرنة بالعناصر المحدودة
٥٣٦	◇ تصميم أساسات اللبشة
٥٣٩	◇ تصميم اللبشة بطريقة المرونة التقريبية
٥٤٣	◇ تصميم اللبشة بطريقة الفروق المحدودة
٥٤٩	◇ تصميم اللبشة بطريقة العناصر المحدودة
٥٥٢	◇ طريقة الشبكات المحدودة للبشة
٥٥٦	◇ من الكود الصرى لميكانيكا التربة والأساسات
٥٦٣	◇ مسائل
٥٦٧	◇ المراجع

## الباب الاول

### استكشاف التربة و ابحاث الموقع

### Soil Exploration and Site Investigations

#### أهمية أبحاث الموقع :

تصميم وتنفيذ أى مشروع مدنى يستلزم دراسة تربة موقع هذا المشروع وفهم خصائصها وصفاتها الهندسية، ويؤثر حجم ونوع المشروع فى حجم أبحاث الموقع. فالمشروعات الضخمة والهامة تحتاج إلى دراسة تربة دقيقة وشاملة. وأيضا المشروعات الصغيرة يجب أن يسبقها دراسة مناسبة أيضا للتربة موقعها.

وبالرغم من أهمية وضرورة أبحاث الموقع ودراسة التربة فإنها لا تمثل نسبة عالية فى تكاليف المشروع. وفى أغلب الأحيان تكون هذه النسبة من ٠.٥ إلى ٢٪ فى المائة من التكاليف الكلية للمشروع. وفى حالات خاصة أو تربة غير عادية تمثل هذه التكاليف من ٥٪ إلى ١٪ من التكاليف الكلية للمشروع.

والغرض من أبحاث التربة تحده المواصفات الإنجلىزية فى النقاط الآتية :

- ١- لمعرفة مدى ملائمة الموقع للأعمال المقترح تنفيذها عليه.
- ٢- للتمكن من إعداد أنسب تصميم اقتصادى للمشروع المقترح.
- ٣- لاختيار أفضل الطرق للتنفيذ.
- ٤- لتحديد حالة المياه الجوفية ومناسبتها وتأثيرها على الأعمال المقترحة.
- ٥- لاختبار أنسب المواقع أو أنسب الأماكن فى الموقع لتنفيذ المشروع المقترح عليه.

#### البيانات المطلوبة من أبحاث التربة : Data Required

كمية البيانات المطلوبة لأى مشروع تتوقف على حجم ونوع هذا المشروع وعموما

تكون أهم البيانات المطلوبة من أبحاث التربة هى :

- ١- بيانات لتحديد طبقات التربة فى الموقع وصفات كل منها.
- ٢- بيانات لتحديد نوع وعمق الأساسات المطلوبة.
- ٣- بيانات لتحديد جهد تربة التأسيس.

- ٤- معلومات كافية لحساب القيمة المتوقعة للهبوط ،
- ٥- موقع المياه الجوفية وتأثيراتها .
- ٦- معلومات لتحديد الإحتياجات اللازمة للتأسيس .
- ٧- تحديد مشاكل التربة بالموقع مثل القابلية للإنتفاخ أو للإنهيار .
- ٨- ظروف البيئة حول الأساسات والمبنى ومعالجتها .

### برنامج استكشاف التربة Subsurface Exploration Program :

يمر استكشاف التربة بعدة خطوات منظمة تتمثل في :

- تجميع المعلومات الأساسية المتاحة Avialable Preliminary Information : حيث يتم الحصول على كافة المعلومات المتاحة الخاصة بالبيانات التصميمية للمنشأ المراد تنفيذه .
- استطلاع الموقع Reconnaissance of the Area من الأهمية زيارة الموقع لاستطلاع على الطبيعة وتجميع كافة المعلومات الخاصة بالموقع وما عليه وما يحيط به .
- الأبحاث الأولية Preliminary Site Investigation في هذه المرحلة يتم تنفيذ عدد قليل من الجسات وحفر الاختبار لتكوين فكرة عامة عن طبقات التربة وأنواعها وكذلك تحديد منسوب المياه الجوفية كما يجب عمل جسة واحدة على الأقل للوصول للطبقات الصخرية أو الزلطية السفلية ، ويتوقف حجم هذه المرحلة على حجم المشروع وفي المشروعات الصغيرة تكون هذه المرحلة هي المرحلة الأساسية والتفصيلية لأبحاث الموقع ، كما يجب في المشروعات الكبرى تحديد وسائل تحضير الموقع للعمل مثل وسائل سند الحفر وتصريف المياه من الموقع في حالة وجودها . كما يمكن إجراء بعض التجارب البسيطة مثل تعيين مقاومة القص وخواص التربة اللازمة لحساب الهبوط وحدود أتربرج وتجارب الإختراق .
- الأبحاث التفصيلية Detailed Site Investigation تلزم هذه المرحلة للمشروعات الكبيرة حيث تستكمل عملية تجميع البيانات والمعلومات الخاصة بتربة الموقع ، ويتم ذلك بتحديد أماكن الجسات وأعماقها بالتفصيل لتغطي مواقع البناء تماما ، كما يتم الحصول على عينات متنوعة النوع ومنتالية من هذه الجسات ، ويتم في هذه المرحلة أيضا الحصول على المعلومات والبيانات بطرق تفصيلية ودقيقة ، كما يجب معرفة أماكن الطبقات الضعيفة والردم ودراسة تأثير الحفر على المنشآت المجاورة .
- الخطوات التفصيلية لاستكشاف التربة :
- استكشاف التربة يتم تفصيلا بتنفيذ الخطوات الآتية :
- ١- تجميع المعلومات الأساسية المتاحة .



٢- استطلاع الموقع .

٣- الجسات، طرق تنفيذها، عمقها، توزيعها .

٤- العينات، أنواعها، طرق الحصول عليها .

٥- الاختبارات الموقعية .

٦- المياه الجوفية .

٧- الاختبارات المعملية .

٨- تحليل النتائج ودراستها .

٩- إعداد تقرير أبحاث التربة .

### أولا : المعلومات الأساسية المتاحة **Avialable Preliminary Informations** :

فى هذه المرحلة يجب على القائمين باستكشاف التربة تجميع كافة البيانات والمعلومات المتاحة الخاصة بالأبعاد الرئيسية والتصميمية للمنشأ المراد تنفيذه على الموقع تحت الدراسة . ومن هذه المعلومات أبعاد وبحور الأعمدة، نوع المنشأ والاعتبارات المعمارية الخاصة، وكذلك أحمال الأعمدة وعدد الأتوار المطلوب . كما يجب الإلمام بالمواصفات المحلية والقومية لأعمال الإنشاءات فى المنطقة الواقع فيها الموقع . أما فى حالة الكبارى فيجب معرفة أطوال البحور وأحمال البغال والأكتاف وحركة المياه فى المجارى المائية القريبة من أماكن الكبارى .

### ثانيا : استطلاع الموقع **Reconnaissance of the Area** :

من الأمور الهامة أن يقوم المهندس بزيارة الموقع لاستطلاع . وقد يستخدم فى زيارته التصوير الفوتوغرافى أو التصوير التليفزيونى بالفيديو أو بالتصوير الجوى فى المشروعات الضخمة . كما يجب معرفة المعلومات الآتية :

١- الطبوغرافية العامة للموقع .

٢- دراسة خطوط المرافق من كهرباء ومياه ومجارى .

٣- معرفة عامة عن التربة وطبقاتها من خلال فحص الحفر ودراسة الجسات والتقارير السابق عملها لمنشآت قريبة وكذلك من خلال معرفة نوع المزروعات بالمنطقة والتي تعبر عن طبيعة ونوع التربة .

٤- المياه الجوفية، حالتها وموقعها .

٥- أنواع المنشآت القريبة ونوع الشروخ إن وجدت بها .

٦- حالة المجرى المائى وحركة المياه به فى حالة تنفيذ الكبارى .

٧- دراسة مولى البناء أو التربة التى يمكن استخدامها فى عملية تنفيذ المشروع .

### ثالثا : جسات التربة Soil Borings :

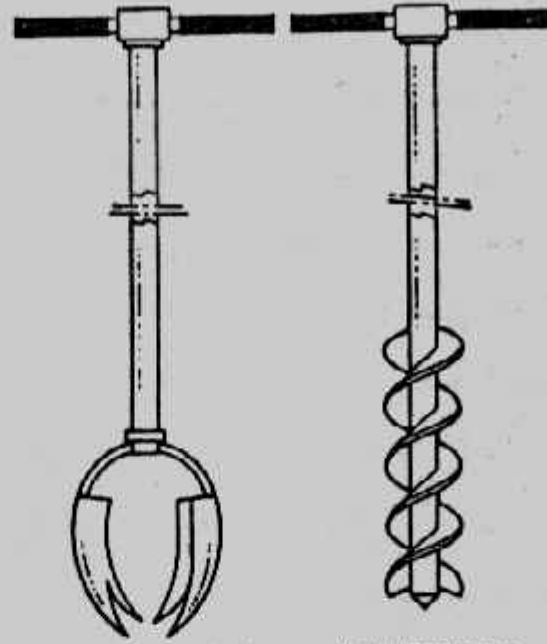
الجسة هي ثقب رأسى ينفذ فى موقع المنشأ المراد استكشافه بغرض الحصول على عينات من التربة لدراستها أو التعرف على طبيعة طبقات التربة وسمكها وصفاتها .  
/ - طرق تنفيذ الجسات : يتم تنفيذ الجسات إما يدويا أو ميكانيكيا باستخدام معدات ميكانيكية بأحد الطرق الآتية :

١- جسات التنقيب بالبريمة Auger Boring : هذه الطريقة هي أبسط الطرق لعمل الجسات . وبين شكل (١-١) الأدوات اليدوية التى تستخدم فى الحصول على عينات التربة عن طريق عمل حفر اختبار Test Pit . ويمكن استخدام الأدوات اليدوية فى الحصول على عينات مقلقة Disturbed Sample بقطر فى حدود ١٠ سم وتستخدم هذه الأدوات لعمق لا يزيد عن ٣-٥ مترا وهذه الأعماق مناسبة لأعمال الطرق والمطارات والمنشآت الصغيرة أما عند الأعماق الأكبر التى قد تصل إلى ٦٠ مترا فيمكن استخدام المتقاب الميكانيكى حيث يتم دفعه ميكانيكيا مع إزالة التربة المعلقة بصفة دورية . كما يمكن استخدام المتقاب الميكانيكى أحيانا بصفة مستمرة ورفع مرة واحدة . ويمكن فحص التربة المزالة للتعرف على نوع التربة على طول عمق الجسة ويصل قطر الجسة فى هذه الطريقة إلى ٢٥ سم . كما أن المتقاب الميكانيكى يمكن أن يخترق التربة والصخر الناعم إلى عمق ٣٠ مترا فى أقل من ساعة .

كما يمكن استخدام طريقة المتقاب المفرغ لأخذ عينات مقلقة أو غير مقلقة على أعماق كبيرة . وفى هذه الطريقة يتم الدفع الميكانيكى لمتقاب بريمة مفرغ من الداخل . ولا تصلح هذه الطريقة للحصول على عينات غير مقلقة من التربة الرملية أو الطميية .

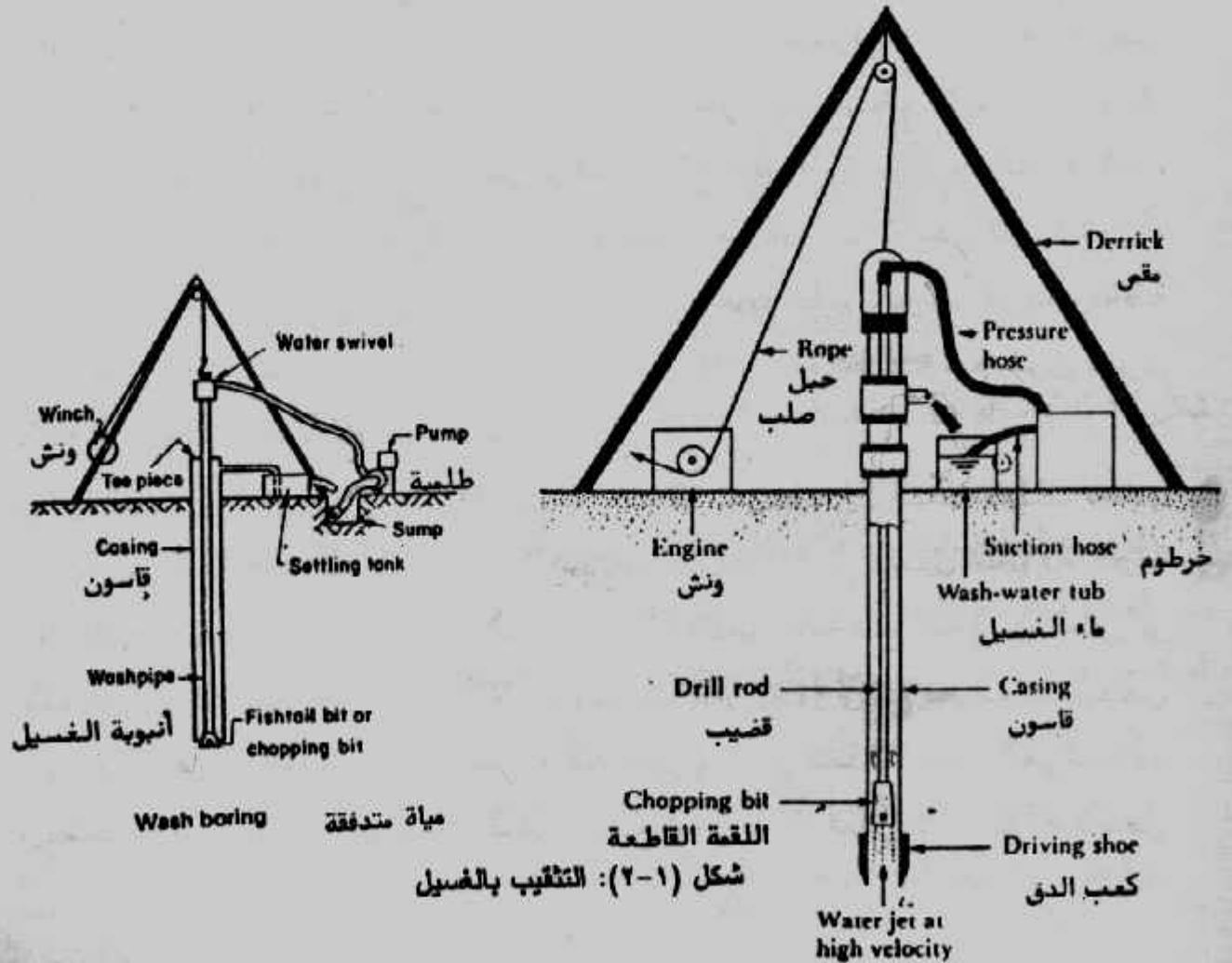
٢- جسات التنقيب بالغسيل Wash Boring : يبين شكل (٢-١) طريقة عمل الجسات بالغسيل . وفى هذه الطريقة يتم دق ماسورة (قاسون) بطول من ١,٥-٣ مترا وبقطر من ٥ إلى ١٠ سم . ثم تزال التربة من داخل القاسون بواسطة دفع الماء من خلال لقمة القطع Chopping Bit والتى تتركب فى أسفل زراع التنقيب Drill Rod وتنزل داخل القاسون . وتتدفق المياه تحت ضغط وبسرعة عالية خلال ثقب ضيقة فى لقمة القطع فتعمل على تقطيع وتفكيك التربة داخل القاسورة . وتقل المياه فتات التربة عند اندفاعها إلى أعلى القاسون من خلال الفراغ بين القاسون وزراع التنقيب حيث تخرج من وصله على شكل حرف T ويتم تجميع مياه الغسيل (المياه وفتات التربة) فى إناء حيث يتم ترسيب فتات

التربة . ويتم التعرف على طبقات التربة وأنواعها حسب تسلسل الطبقات عن طريق معدل الحفر ومن فحص مكونات فتات التربة المترسبة .



Hand tools: (a) post hole euger; (b) helical euger

شكل (١-١): الأدوات اليدوية للحصول على العينات



شكل (٢-١): التفقيب بالغسيل




ويمكن أخذ عينات مقلقة من التربة المترسبة . وتصلح هذه الطريقة للتربة الرملية والزلطية والطميية . كما يعيب هذه الطريقة عدم إمكانية الحصول على عينات غير مقلقة وصعوبة تحديد منسوب المياه الجوفية . < < <

٣- جسات التنقيب بالدوران Rotary Drilling : يتم في هذه الطريقة الدفع مع الدوران لقواطع التربة ميكانيكيا بسرعات عالية مع ضخ سوائل حفر لقطع وطحن التربة إلى أجزاء صغيرة وإزالة مخلفات الحفر . ويتم التعرف على التربة وطبقاتها من معرفة معدل تقدم الحفر ومن فحص مخلفات الحفر . وقد يستخدم القاسون في بعض الأحيان عند سطح الجسة . ويمكن الحصول على عينات مقلقة من التربة على أعماق مختلفة باستخدام اسطوانات أخذ العينات Samplers بعد رفع زراع التنقيب ولقمة التنقيب . وسوائل الحفر قد تكون مياه أو طين التنقيب . وطين التنقيب يتكون من الماء والبننتوينت Bentonite . وتصلح هذه الطريقة لجميع أنواع التربة ما عدا الزلط الكبير . وبالرغم من أن هذه الطريقة تعتبر من أسرع طرق عمل الجسات إلا أنه يصعب فيها تحديد التغير في طبقات التربة بالدقة العالية .

٤- جسات التنقيب بالدق Percussion Drilling : في هذه الطريقة يتم تفطيت التربة بواسطة تكرار رفع وإسقاط لقمة تنقيب ثقيلة مع استخدام كمية محدودة من الماء لتكوين خليط خفيف القوام في قاع الحفرة ثم يتم سحب خليط التربة والماء بصفة مستمرة بالبلف أو بطلمبة رمل وقد تحتاج هذه الطريقة إلى استخدام قاسون . ويستدل على تغير طبقات التربة عن طريق معدل الحفر وصعوبة إنزال أدوات الحفر أو فحص ناتج الحفر . وتستخدم هذه الطريقة لعمل الجسات في التربة الصلبة أو في الصخور . ولا تفضل هذه الطريقة لفحص التربة العادية عند ضرورة الحصول على عينات غير مقلقة نظرا لصعوبة تحديد تغيرات التربة والقلقلة التي تحدث للتربة تحت سطح قواطع التربة . وقد تستخدم هذه الطريقة مع طرق أخرى لاختراق طبقات الزلط والكتل الصخرية .

٥- جسات التنقيب في الصخر Rock Core Drilling : حينما يقابل الجسة طبقات صخر ويصبح من الضروري أخذ عينة صخرية Rock Coring فإنه يتم توصيل اسطوانة العينة Core Barrel بقضيب توصيل . وتركب في اسطوانة العينة لقمة قطع تصنع من الماس أو التيجستين أو الكربيت . ويتم أخذ العينات عن طريق الحفر بالدوران مع استخدام دفع بعض المياه في الحفر أو استخدام سوائل الحفر وذلك للتبريد ودفع مخلفات الحفر أعلى الحفرة . ويستخدم القاسون مع هذا النوع من الحفر . ومع تقدم أعمال الحفر تدخل عينة الصخر

اسطوانة العينة . وتصلح هذه الطريقة لأعمال الجسات فى الصخر والتربة الركامية ذات المقاسات الكبيرة . وفى حالة الصخور الضعيفة أو المتشققة فإنه يفضل استخدام أقطار داخلية للأسطوانات أكبر من ٥ سم . ويوجد نوعان من اسطوانات القطع، النوع الأول هو اسطوانة القطع ذات الأنبوبة المفردة Single-tube core barrel شكل (١-٣) . والنوع الثانى هو اسطوانة القطع مزدوجة الأنبوبة شكل (١-٤) Double-tube core barrel والنوع الأول يعطى عينات عالية الفلقة .



شكل (١-٣): اسطوانة القطع مفردة الأنبوبة شكل (١-٤): اسطوانة القطع مزدوجة الأنبوبة

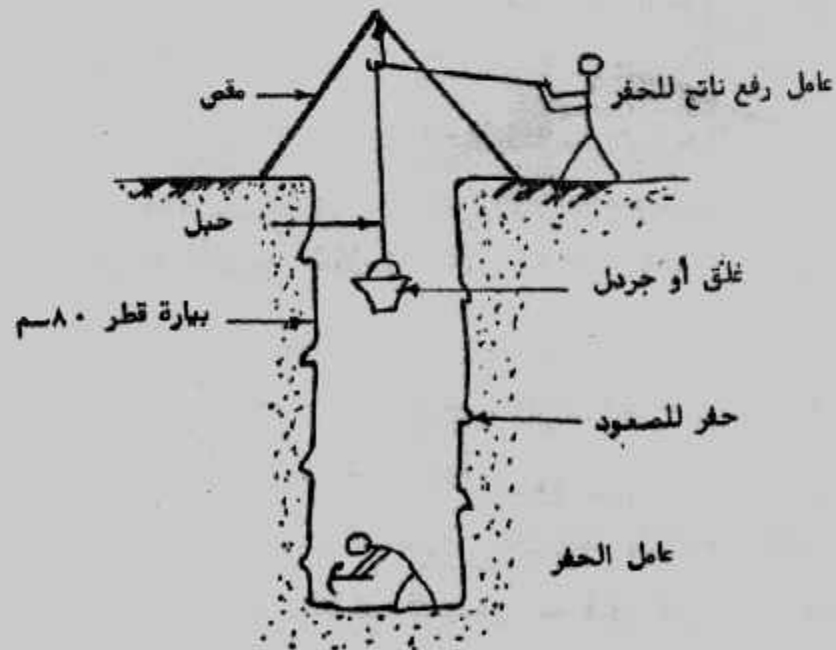
٦- طرق عمل الجسات بمصر : يتم استكشاف الموقع فى مصر عن طريق الجسات والتي أهمها الحفر المكشوفة أو الجسات اليدوية أو الميكانيكية :

أ- الحفر المكشوفة (المفتوحة) Open Pits : يتم فى الموقع عمل حفر بالأدوات التقليدية للحفر على شكل مربع أو مستطيل أو دائرة للإستكشاف السطحى لطبقات التربة . وقطاع الحفر وعمقها يتوقف على طبيعة التربة وثبات جوانب الحفر وتزداد تكاليف الحفر بزيادة العمق . والحفر المكشوفة أما حفر سطحية Shallow open pits يصل عمقها إلى ٥ مترا أو آبار

عميقة (بيارات) Deep wells ويمكن احدى عيانات مقلقة وغير مقلقة من هذه الحفر سواء من جوانبها أو قاعها، ويقوم بأعمال الحفر عمال مدربون وعادة ما يكون قطر البيرة مساويا لعامل واحد يحفر بحجارى (أزمة بيد قصيرة) وعادة ما يكون القطر ٨٠ سم فى الحفر الدائرية. ومع زيادة الحفر يعمل على سطح الأرض وفوق الحفرة مقص خشب يعلق به خطاف وسلية (حبل سميك) لرفع ناتج الحفر. ويقوم عامل الحفر مع تقدم الحفر بعمل حفر سند تبادلية يستخدمها للنزول والخروج من الحفرة شكل (١-٥) وتستخدم الحفر المكشوفة عند تنفيذ المنشآت الصغيرة وفى الأماكن التى يصعب فيها عمل جسات سواء لضيق المكان أو بعده. والحفر المكشوفة لا يمكن تنفيذها أسفل منسوب المياه الجوفية أو فى التربة المتحجرة أو التى تنهال أثناء الحفر.

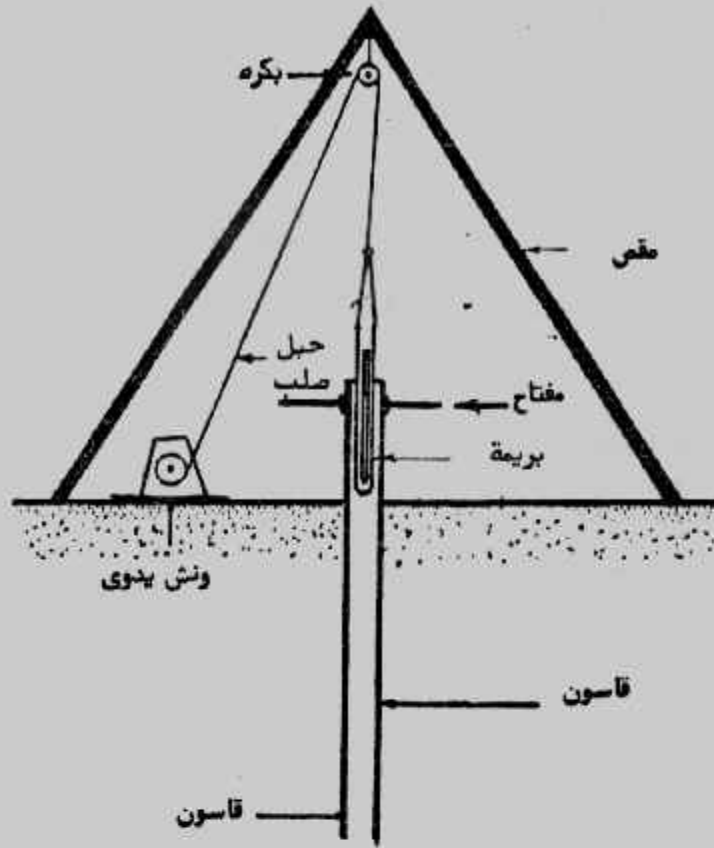
ب- الجسات اليدوية : تعتبر الجسات اليدوية أكثر الطرق انتشارا فى مصر شكل (١-٦) وتنفذ بالخطوات الآتية :

- تنصب مكان الجسة ثلاثة مواسير بطول ٦ مترا من مواسير الحديد لعمل مقص يعلق أعلاه خطاف ببكرة.
- يعلق بالخطاف حبل صلب مربوط بونش يدوى لإنزال ورفع المواسير والأدوات.
- تعمل حفرة صغيرة مكان الجسة بعمق حوالى ٥، مترا توضع بها الوصلة الأولى من القاسون الحديد قطر ١٥ سم.



شكل (١-٥): الحفر المكشوفة





شكل (١-٦): الجساة اليدوية

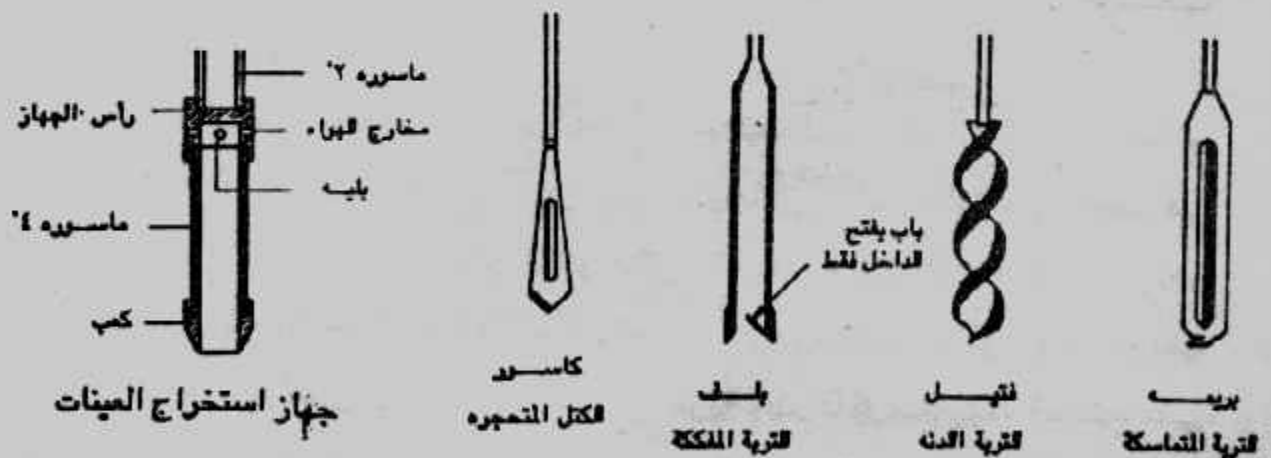
والتي تكون عادة بطول ٢ متراً ٠ والقاسون يبطن جوانب الحفر ويحافظ على بقاء الجسة مفتوحة ويتكون عادة من وصلات بطول من ٢-٣ متراً مع جلب لتوصيل هذه الوصلات ببعضها مع تقدم الحفر رأسياً ٠

• ترفع باستخدام الونش وصلة من المواسير بقطر ٥ سم يثبت في نهايتها أداة الحفر بريمة أو فتيل شكل (١-٧) والتي تمسك بمفاتيح كبيرة يصل طولها إلى ٨٠ سم وتلف حتى تحفر في التربة في قاع القاسون ويتجمع ناتج الحفر بداخل البريمة أو بين أجنحة الفتيل ٠ وعند الإمتلاء ترفع لسطح الأرض بواسطة ربطها بالحبل الصلب واستخدام الونش ٠ وبعد تفريغها من التربة تسقط مرة أخرى في القاسون وتلف في التربة ويتم ذلك مع ربط المفاتيح على القاسون ودفعه إلى أسفل ليغوص في التربة ليحمي جوانب الجسة ٠ وعندما تغوص وصلة من القاسون في التربة تترك وصلة ثابتة وكذلك يتم زيادة وصلات المواسير قطر ٥ سم للوصول إلى قاع الحفر ٠ وعندما يصل الحفر إلى تربة رملية يوصل بالمواسير أداة حفر في التربة المفككة تسمى بلف تترك لتسقط إلى قاع الحفر بالجسة تحت تأثير وزنها ليصطدم بقاع الحفرة الرملية إلى قاع الحفر بالجسة تحت تأثير وزنها ليصطدم بقاع الحفرة الرملية فيدخل الرمل به ٠ والبلف يسمح بدخول الرمل أو التربة الخشنة بداخله عند سقوطه في قاع

الحفر ولا يسمح بخروجها أثناء رفعه من الجسة حيث يوجد بأسفله باب صغير يفتح للداخل فقط. وعندما يقابل الحفر تربة متحجرة يتم إنزال الكاسور وهى أداة حفر للكتل المتحجرة برفعه إلى أعلى وتركه يسقط على التربة حيث تعمل نهايته المدببة على تقطيعها ثم ترفع الأجزاء إلى خارج الجسة باستخدام البلف.

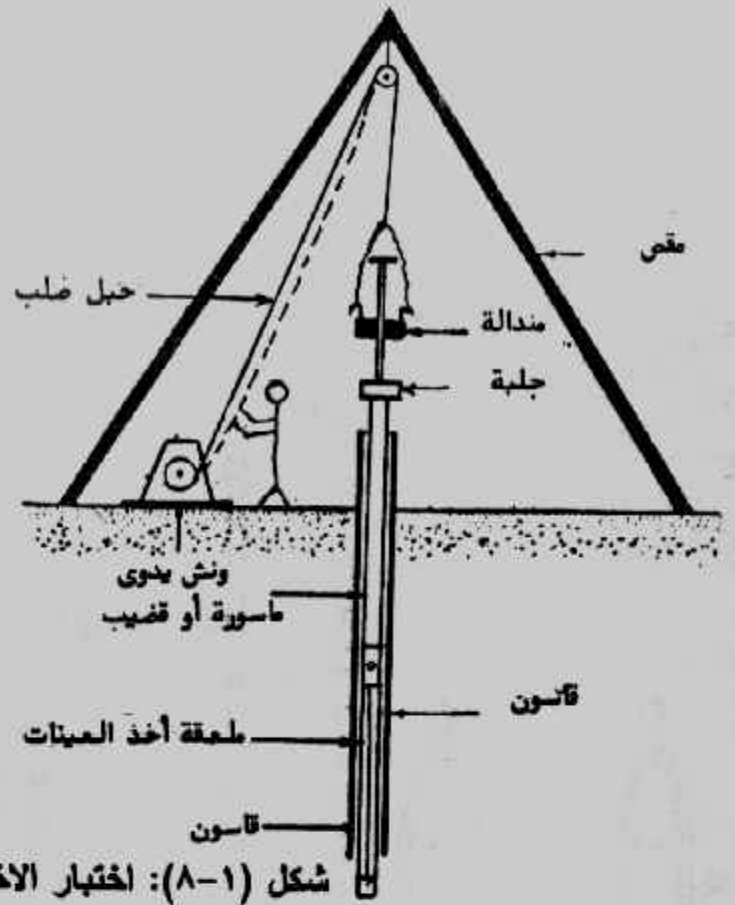
- عند تواجد التربة وخاصة الرمل فوق منسوب المياه الجوفية يتم سكب كمية من الماء داخل القاسون. كما يجب تسجيل منسوب المياه الابتدائى عند بدء ظهورها وكذلك بعد انتهاء الجسة.

- يجب ملاحظة التربة التى تخرج من الجسة وبيان أعماق تغير طبقات التربة.
- تؤخذ عينات مقلقة من التربة كل متر أو عند تغير الطبقات وتوضح العينات فى أكياس بلاستيك لحين توصيلها للمعمل. كما تؤخذ عينات متحجرة غير مقلقة كل متر عندما يقابل الحفر تربة متماسكة باستخدام جهاز استخراج العينات قطر ٧,٥ سم أو بملقعة أخذ العينات قطر ٣,٧٥ سم. ويدق الجهاز أو ملقعة أخذ العينات فى التربة بواسطة منداله يدق بها على وصله عريضة تركيب على الماسورة المركب بها الجهاز أو الملقعة. ثم يرفع جهاز العينات إلى سطح الأرض ويفك من المواسير وتستخرج العينة منه وتغلف بالشمع السائل الساخن.



شكل (١-٧): أدوات الحفر واستخراج العينات فى الجسات اليدوية

- أثناء تنفيذ الجسة وعلى أعماق مختلفة وعند تغير الطبقات يتم إجراء الاختبارات الموقعية والتى أهمها اختبار الاختراق القياسى SPT ، شكل (١-٨).

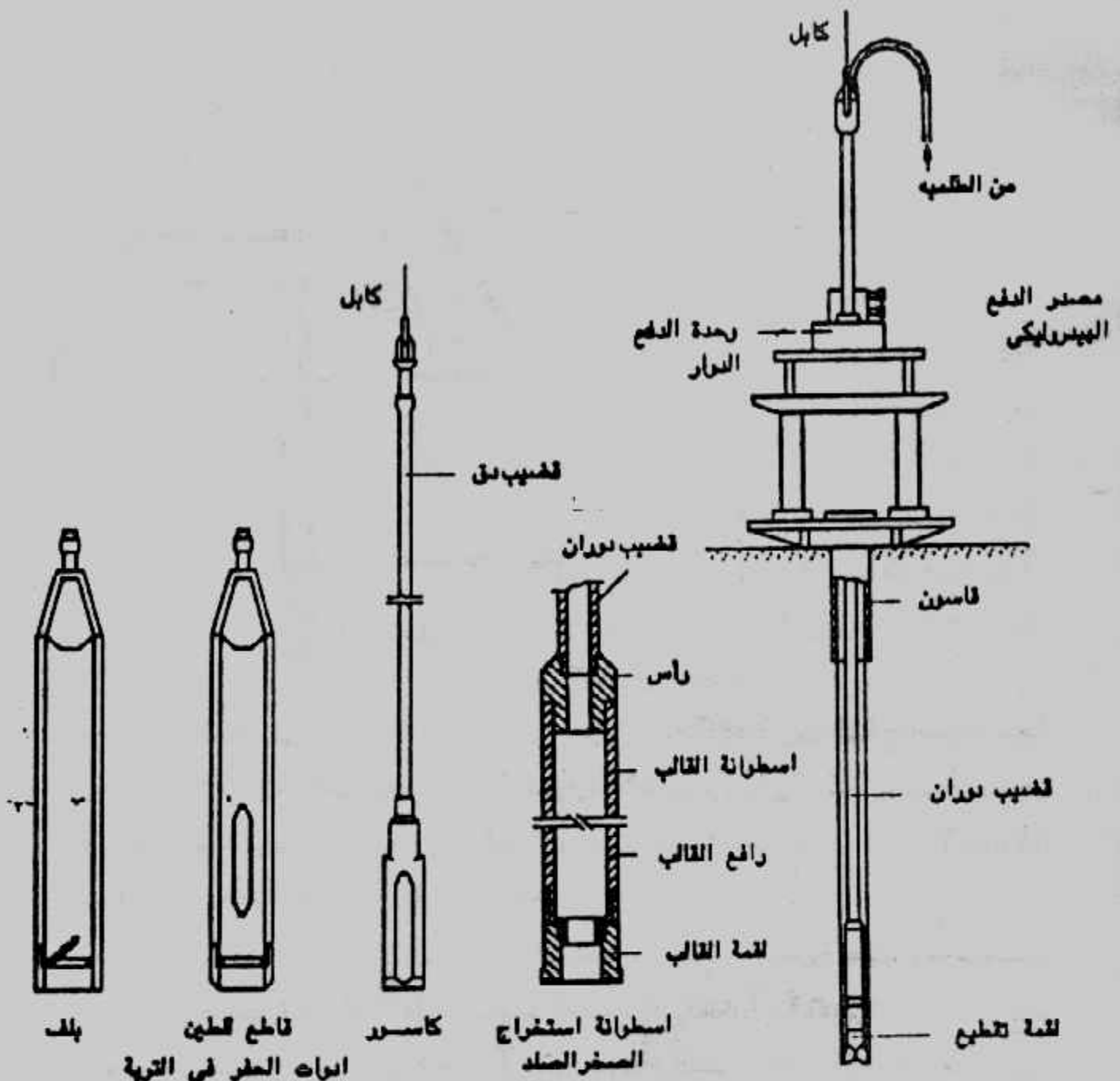


شكل (٨-١): اختبار الاختراق القياسي

- منفذ الجسة يسجل في تقرير حقل ملاحظاته عن التربة الناتجة وطبقاتها ومنسوب بداية ونهاية هذه الطبقات وكذلك منسوب المياه الجوفية الابتدائي والنهائي. كما يجب أن يسجل على كل عينة بيانات الموقع ورقم الجسة وعمق العينة. كما يسجل نتائج الاختبارات الموقعية مثل اختبار الاختراق القياسي SPT.

ج- الجسات الميكانيكية : حينما لا تصلح تربة الموقع لعمل الجسات اليدوية بسبب وجود طبقات صخرية أو متحجرة أو زلطية فإنه تستخدم الجسات الميكانيكية بالتنقيب الدوار حيث يتم الحفر بدفع ودوران قواطع التربة بسرعة عالية مع دفع قاسون بالتربة للحفاظ على جدران الحفر بالجسة وتستخدم ماكينة أو معدة ذات قدرة على الدفع والإدارة وملحق بها تجهيزات مساعدة مثل مضخة لدفع المياه أو سائل حفر لتبريد قواطع التربة. وكل ١,٥ مترا يوقف العمل وتستخرج قواطع التربة وبها العينة. شكل (٩-١). ويبين شكل (١٠-١) أدوات استخراج العينات من الجسات الميكانيكية حيث يستخدم الفتيل للحفر واستخراج عينات مقلقة وباقي الأدوات تستخدم في استخراج العينات الغير مقلقة.

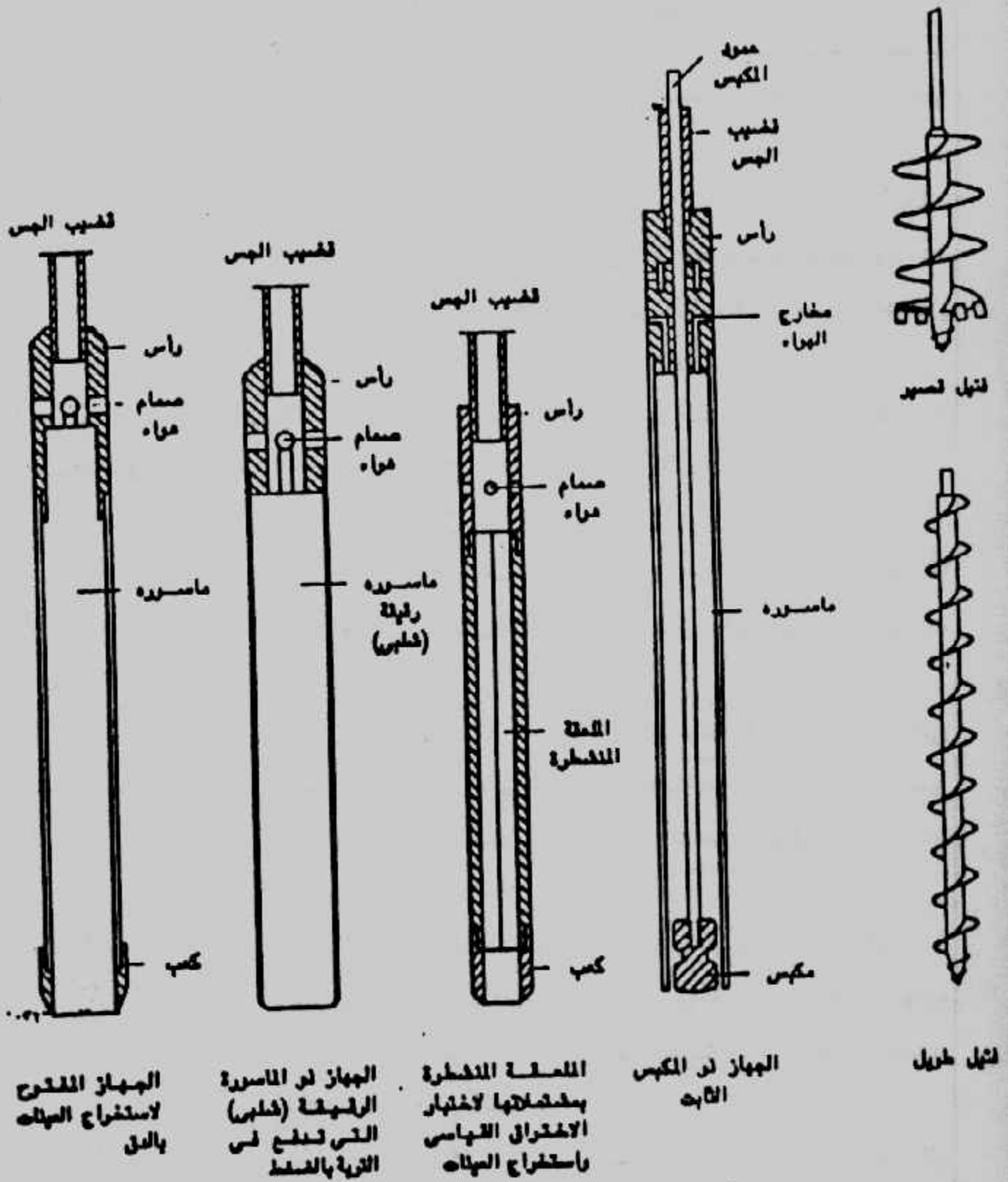
ب- توزيع وعدد الجسات Distribution and Number of Boring : توزيع الجسات واختيار أماكنها وعددها يتوقف على نوع المنشأ وحجمه والغرض من الدراسة. ويجب الحرص في اختيار وتحديد أماكن الجسات. ولا توجد قاعدة عامة لتحديد عدد الجسات



شكل (١-٩): الجسات الميكانيكية والأدوات المستخدمة فيها.

بالموقع . وقد تحدد بعض الآراء أن ثلاث جسات هي الحد الأدنى للمبنى الواحد . وقد تكون اثنتان كافيتان عند انتظام التربة . كما تفضل بعض الآراء خمس جسات للأركان والمركز كحد أدنى . وقد تكون جسة واحدة كافية لبعض الأعمال الصغيرة مثل الهوائيات أو أبراج الكهرباء وما يماثلها . كما يجب أن تتناسب أعمال الجسات مع التكاليف الكلية للمنشأ المراد تنفيذه، وعموما فإن أعمال أبحاث واستكشاف التربة تمثل حوالى من ٠,١٪ إلى ٠,٥٪ من التكاليف الكلية، وقد تصل فى بعض الحالات الخاصة إلى ١٪ . وينصح الكود المصرى (١٩٩١) بتوزيع الجسات على النحو المبين بالجدول (١' ١) على ألا يقل عدد الجسات فى الموقع الواحد عن جستين .

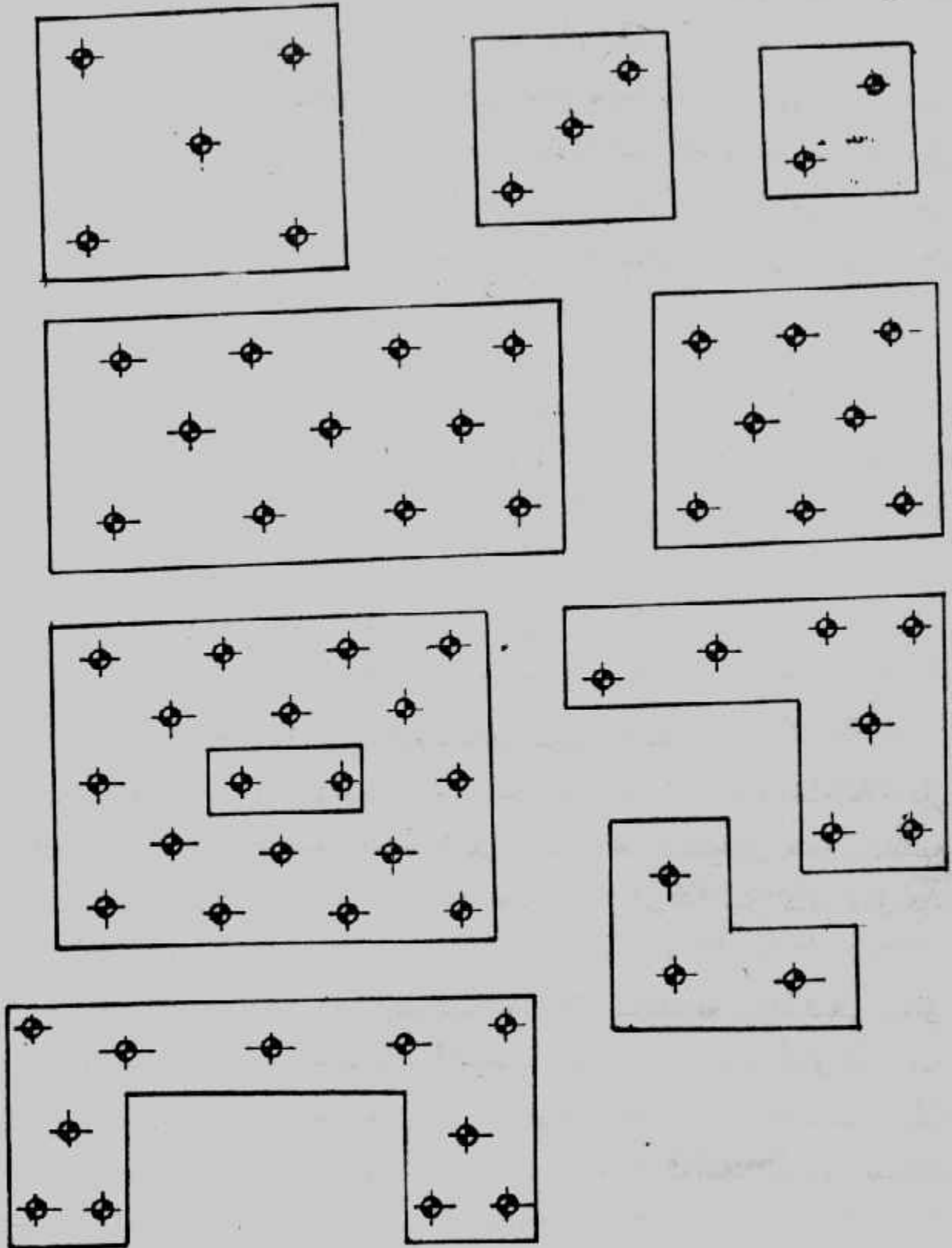




جدول (١-١) متطلبات تحديد عدد الجسات بالمواقع المختلفة.

مناطق البحث	تخطيط الجسات
المواقع العمرانية الجديدة	تخطط الجسات المبدئية فى المناطق الغير مستوية بحيث تبعد عن بعضها مسافات بين ٦٠ و ١٥٠ متر ويجب ان تكون المساحة المحصورة بين أى أربعة جسات حوالى ١٠٪ من المساحة الكلية وفى حالة الأبحاث التفصيلية يزداد عدد الجسات للحصول على قطاعات جيولوجية دقيقة أما فى المناطق المستوية أو ذات الميل البسيط فيمكن توزيع الجسات على شبكة من ٣٠٠ × ٣٠٠ متر إلى ٤٠٠ × ٤٠٠ متر .
المواقع المختبرية على طبقات رخوة قابلة للتضاغط	المسافة بين الجسات من ٣٠ إلى ٦٠ متر عند أماكن المنشآت المحتملة وتضاف جسات عند المنشآت بعد تحديد أماكن هذه المنشآت .
المنشآت الكهري وذات الأساسات السطحية المتقاربة	يتم اختيار الجسات بحيث تبعد عن بعضها من ١٥ إلى ٢٠ متر فى كلا الاتجاهين بحيث يمكن تحديد قطاع جيولوجى دقيق على مسار أساسات المنشأ.
المنشآت الخفيفة وذات المساحات الكبيرة مثل المخازن	يتم اختيار أربع جسات على الأقل عند أركان المنشآت بالإضافة إلى جسات داخلية عند أماكن الأساسات المحتملة بحيث تكون كافية لتحديد قطاع التربة . بحيث لا تقل عدد الجسات عن جسة لكل ١٠٠٠ متر مسطح.
السدود وخزانات المياه	يتم اختيار الجسات بحيث تكون المسافة بينها فى حدود من ٦٠ إلى ١٠٠ متر فى مناطق الأساسات وتقل المسافة بين الجسات عند خط منتصف المنشأ وتصبح حوالى ٣٠ متر . وتوزع الجسات عند مناطق التجهيل والدعامات ومخارج المياه.
الحد الأدنى للجسات	يمكن عمل جسة كل ٣٠٠ متر مسطح بحيث لا تقل عن جستين لكل موقع.

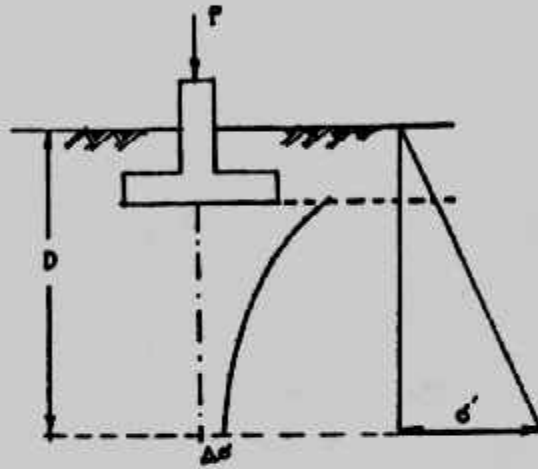
ويجب الحذر في توقييع مواضع الجسات حيث يجب اختبار المواضع بطريقة يمكن من اعطاء فكرة كاملة عن طبيعة التربة وطبقاتها بالموقع . كما يجب أن تؤخذ الجسات وتوزع في أماكن المباني والأعمال المدنية وليس بعيدا عنها . وبين شكل (١-١١) توزيع الجسات في موقع المباني .



شكل (١-١١) توزيع الجسات في مواقع المنشآت

ج- أعماق الجسات : Boring Depth : تحدد أعماق الجسات بناءً على حجم المنشأ المراد تنفيذه وبوعه وكذلك على خواص الطبقات وتتابعها وانتظامها . ويجب النزول بالجسات لأعماق تتخطى الطبقات الغير صالحة للتأسيس مثل طبقات الردم الغير مضغوط أو طبقات المواد العضوية أو الرخوة أو الرمال المفككة . كذلك يجب النزول بالجسات خلال طبقات الطين الصلبة أو الرمل المدموك إذا تواجدت هذه الطبقات على أعماق سطحية .

وعموماً تحدد أعماق الجسات بالأعماق التي يصبح عندها الإجهاد الناشئ عن المنشآت صغير للدرجة التي لا تحدث أى انضغاط أو هبوط ملحوظ للمنشأ . وتحدد كثير من الآراء أن هذه الأعماق بالمناسيب التي يكون فيها الإجهاد الواصل من الأساس قد وصل إلى ١٠٪ من قيمته . ومن دراسة توزيع الإجهادات أسفل الأساس نجد أن ذلك يتحقق عن عمق مساو لضعف عرض الأساس شكل (١-١٢) .

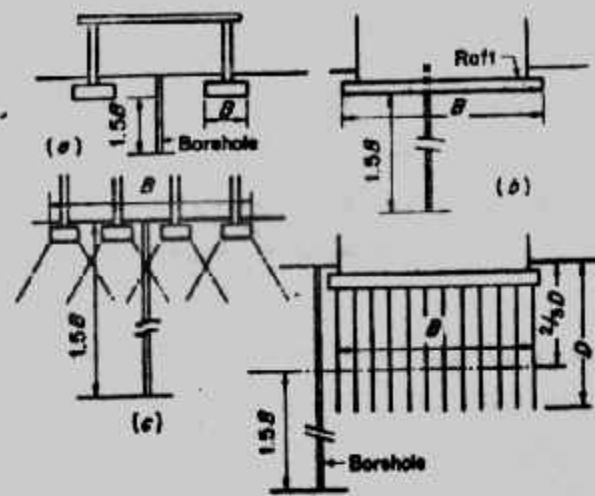


شكل (١-١٢) : الإجهادات أسفل الأساس

وعند إجراء الجسات يكون عرض الأساس غير معروف بعد، ولذلك وبحالة عامة فإن عمل الجسة يمكن أن يصل إلى ضعف عرض المبنى . ويصبح هذا الوضع غير منطقي بالنسبة للمباني الواسعة ذات الدور الواحد مثلاً، ولذلك فإن عمق من ٦ إلى ١٥ مترًا كافٍ لمثل هذه الحالات .

ولل منشآت الهامة يجب أن يتم النزول بجسة على الأقل للطبقات الصخرية السفلية وبعمرق فيها من ١,٥٠ إلى ٣,٠٠ مترًا . وهناك اتجاه آخر يحدد عمق الجسة بالعمق الذي تصل فيه الإجهادات الواصلة من الأساسات إلى قيمة ٢٠٪ وهذا يتم على عمق مساو لمرة ونصف عرض الأساس (أو المبنى)، شكل (١-١٣) . ويحدد الكود المصرى أعماق الجسات للمنشآت المختلفة فى جدول (١-٢) .





شكل (١-١٣): عمق الجسات

وفى حالة الأساسات الخازوقية يستحسن النزول بعمق بعض الجسات إلى ١٠ متراً أسفل كعوب الخوازيق . وفى المباني العالية المرتكزة على خوازيق فيجب النزول بجسة واحدة على الأقل إلى عمق ٢٠-٣٠ متراً أسفل قاع الخوازيق .

#### رابعاً : عينات التربة Soil Sampling :

من أغراض عمل الجسات الحصول على عينات من التربة وطبقاتها على طول الجسة . وعينات التربة تستخدم فى أبحاث توصيف ودراسة التربة والتعرف على بعض صفاتها وخصائصها . وعينات التربة المستخرجة من الجسات تكون إما عينات مقلقة وهى نواتج حفر أو عينات غير مقلقة وهى عينات من التربة بوضعها وتركيبها الطبيعي لحدما .

أ- عينات مقلقة Disturbed Samples : العينات المقلقة تستخرج من الجسات أو حفر الاستكشاف أو من نواتج حفر التربة بأى شكل من الأشكال . وتستخرج العينات من الجسات كل ١,٥٠ متراً على الأكثر أو عند كل تغير للطبقات . وتستخرج هذه العينات فى طريقة الغسيل من أحواض الترسيب ومن الملعقة القياسية فى اختبار الاختراق القياسى ومن خلال جهاز الحفر (البلف) فى الجسات اليدوية بالقاسون . كما يمكن استخراج العينات المقلقة من أدوات الجسة اليدوية . وتستخدم العينات المقلقة فى تجارب التحليل الحبيبي وتوصيف التربة وفى تعيين حدى السيولة واللدونة والوزن النوعى والإنتفاخ الحر . كما تستخدم فى تعيين محتوى المواد العضوية بالتربة .

ب- عينات غير مقلقة Undisturbed Samples : العينات الغير مقلقة تستخدم لمعرفة الخواص الميكانيكية للتربة فى الطبيعة مثل التصلب والتضاغط، مقاومة القص بالإضافة إلى

جدول (١-٢): متطلبات تحديد أعماق الجسات

مناطق البحث	أعماق الجسات
المنشآت الكبرى وذات الأساسات السطحية المتقاربة	تحدد أعماق الجسات بحيث تصل إلى العمق الذي يصبح عنده الزيادة في الاجتهاد الرأسى الناتج من المنشآت أقل من ١٠٪ من وزن عمود التربة المؤثر . وعموماً فلا بد من ألا يقل عمق الجسات عن ١٠ متر إلا في حالة ظهور الضرر على أعماق سطحية وضمان استمراره.
الأساسات المنفصلة	تحدد أعماق الجسات بحيث تمتد أعماق تلك الجسات إلى أن يقل الاجتهاد الرأسى داخل التربة عن ١٠٪ من قبة إجهاد التأسيس . ويجب ألا يقل أعماق الجسات عن ١٠ متر من أقل منسوب بالموقع إلا إذا ظهرت طبقات صخرية عند أعماق سطحية فيتم النزول في طبقات الصخر المتجانسة لعمق ٣ متر مع ضرورة التأكد من وجود فجوات أو تشققات داخل هذه الطبقات الصخرية من عدمه.
الحوائط الطولية والأرصفة	يتم تعميق الجسات من ٠.٧٥ إلى ١.٥ مرة الارتفاع الحر من الحائط أعماق من منسوب الأرض أمام الحائط وعندما تدل طبقات التربة على ضرورة دراسة الاتزان العميق فلا بد من الوصول ببعض الجسات إلى الطبقات اللازمة لإتمام الدراسة .
دراسة اتزان المبول	لا بد من النزول بأعماق الجسات إلى مستوى أقل من مستوى سطح الانهيار المحتمل وحتى الوصول إلى الطبقات الصلبة أو الوصول إلى الأعماق التي لا يمكن حدوث انهيار عندها.
الحفر العميق	يجب النزول بالجسات إلى عمق $(1 \leftarrow \frac{3}{4})$ إلى مرة عرض الحفر المستوي أو المقترح وفي حالة إذا ما كان قاع الحفر أعلى من منسوب المياه الأرضية وفي تربة متزنة فيمكن الوصول بأعماق الجسات من ١.٥ إلى ٢.٥ متر أعماق من منسوب قاع الحفرة على الأقل . وفي حالة إذا ما كان منسوب قاع الحفر أوطأ من منسوب المياه الأرضية فلا بد من الوصول إلى نهاية الطبقات المنقلة للماء .
الجسور	يجب تحديد أعماق الجسات بحيث تزيد من نصف إلى مرة وربع الطول الأفقى لأسطح المبول في الطبقات المتجانسة . وفي حالة ظهور الطبقات الرخوة فلا بد من الوصول إلى الطبقات الصلبة.
السدود وخزانات المياه	يجب الوصول بأعماق الجسات إلى نصف عرض قاع السدود الترابية أو من مرة إلى مرة ونصف ارتفاع السدود الخرسانية في الطبقات المتجانسة . ويمكن انتهاء الجسات بعد اختراق الطبقات الغير منفلة للماء مسافة من ٣ إلى ٦ متر إذا استمرت هذه الطبقات بأعماق كبيرة.

أن هذه العينات تستخدم في عيير المحتوى المائى والنفاذية والكثافة (أو حده الأوزان) .  
وعملية الحصول على عياد غير مقلقة تماما هى عملية فى غاية الصعوبة ولذلك فإننا  
نحصل على عينات ذات انسى حـ من القلقة . وتحسب درجة الفلقة Degree of  
Disturbance للعينات من العلاقة الآتية :

$$A_R(\%) = \frac{D_o^2 - D_i^2}{D_i^2} \times 100$$

حيث :

$A_R$  = area ratio      نسبة المساحة

$D_o$  = Outside diameter of sampling tube      القطر الخارجى لأنبوبة أخذ العينات

$D_i$  = Inside diameter of sampling tube      القطر الداخلى لأنبوبة أخذ العينات

وحينما تكون نسبة المساحة مساوية ١٠٪ أو أقل فإن العينة يمكن اعتبارها غير مقلقة .  
وأنايب استخراج العينات التى يمكن اعتبارها غير مقلقة يجب أن تصنع من حيث الأقطار  
والتخانات بحيث تحقق النسبة المذكورة . ويتوقف عدد العينات الغير مقلقة على نوع المنشأ  
ومتطلبات التصميم والاختبارات المراد إجراؤها . وفى الطبقات الطينية فمن الضرورى أخذ عينة  
غير مقلقة على الأقل كل ٢ متر .

ويجب الأخذ فى الاعتبار عند استخراج العينات ما يلى :

- يستخدم سائل الحفر أو مواسير سند التربة بالعمق المطلوب عند تهيل التربة .
- لا تستخدم المياه فى الحفر عند استخراج عينات من أعلى منسوب المياه الجوفية .
- يجب ملئ الحفر بالمياه أو بسائل الحفر عند استخراج عينات من أسفل منسوب المياه الجوفية .
- يجب المحافظة على عياد التربة الضعيفة أو المفككة والموجودة أسفل التربة القوية أو  
الكثيفة فى نفس العينة .

ويجب الحرص عند نقل العينات الغير مقلقة من الموقع للمعمل . فيجب عند استخراج  
العينات تغليفها بالشمع المنصهر بطريقة جيدة تضمن عزل العينات تماما حتى لا تفقد الماء أو  
أى من خصائصها كما يجب رص العينات بعد كتابة البيانات عليها فى صندوق خشبى يحفظ  
بعيدا عن الشمس والحرارة والإهتراز . ويجب نقلها بسرعة وبرفق للمعمل . وعند اختبارها تزال  
طبقات الشمع الرقيقة التى تكون قد تجمدت عليها . ويجب كتابة بيانات العينة على ورقة بحبر لا  
يمحى أو بحبر عادى مع تغليف الورقة بالشمع المنصهر أيضا حتى لا تتعرض بيانات العينة  
للتلف . وعادة ما تكون بيانات العينة هى اسم الموقع ورقم الجسة وعمق العينة .

**Example 1-1 :** What is the area ratio of 5.08 cm thin wall sample tube, inside diameter is 4.763 cm.

**Solution :**

$$A_R(\%) = \frac{D_o^2 - D_i^2}{D_i^2} \times 100$$

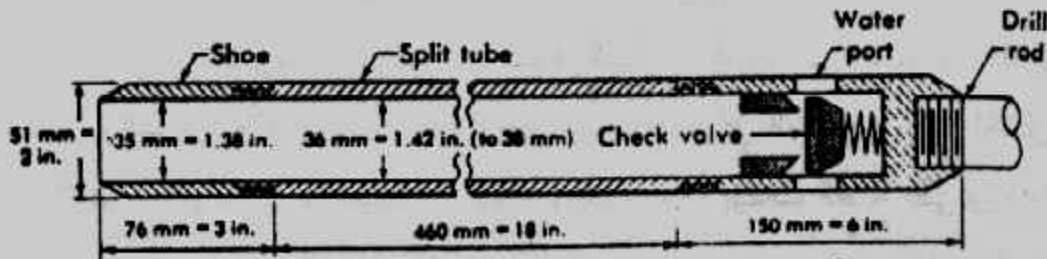
$$= \frac{(5.08)^2 - (4.763)^2}{(4.763)^2} \times 100 = 13.75\%$$

ج- طرق الحصول على العينات : Sampling Methods :

١- ملعقة أخذ العينات Split-Spoon Sampler : يبين الشكل (١-١٤) ملعقة أخذ العينات. وهي تستخدم لأخذ العينات من الجسة حيث تزال أدوات التنقيب ثم تنزل الملعقة إلى قاع الجسة وتغرز في التربة بواسطة الدق عليها بمطرقة قياسية تتركب على قضيب التنقيب والذي تتركب في نهايته الملعقة.

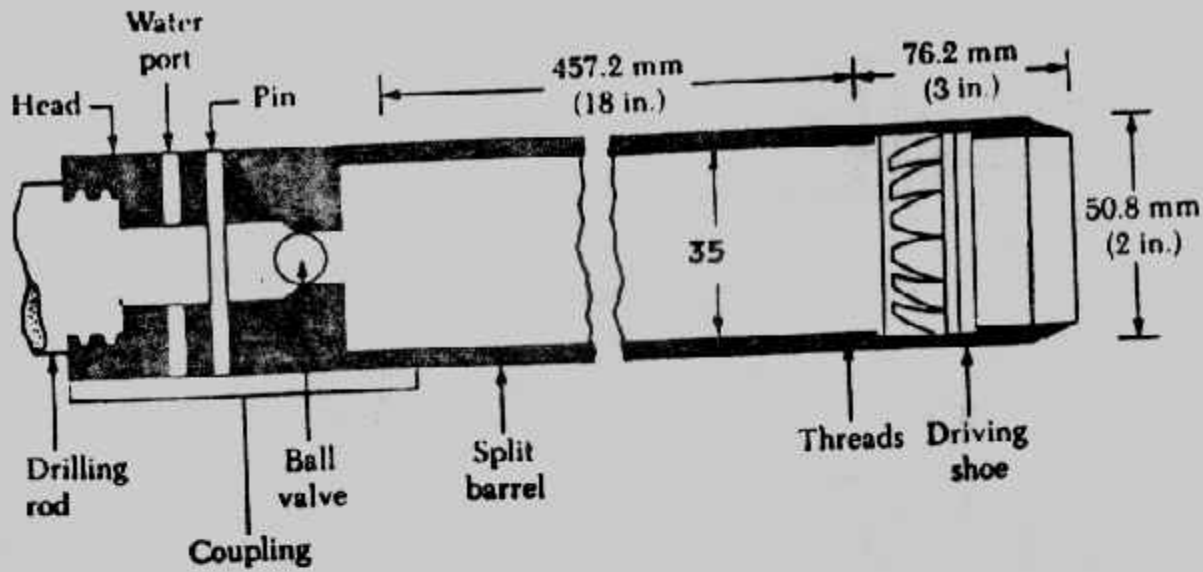
والمطرقة القياسية وزنها ٦٢٢,٧٢ نيوتن (أى ٦٣,٥ كجم أو ١٤٠ رطل) وتسقط من ارتفاع حر مقداره ٧٦ سم وترفع المطرقة وتترك لتسقط حتى يتم اختراق مسافة ٣٠ سم الأخيرة من الملعقة في التربة عند العمق المراد فحصه. ويسمى عدد الدقات اللازمة لاختراق هذه المسافة بمقاومة التربة للاختراق (N) Standard Penetration Number , وبالإضافة لتعين عدد الدقات N فإنه بعد رفع الملعقة تؤخذ من داخلها عينات غير مقلقلة تستخدم في فحص وتصنيف التربة.

وحيثما تكون التربة خشنة مثل الرمل فإنه من الصعوبة استخراج عينات منها. وعلى ذلك فإنه يمكن تركيب لقمة إمساك داخل الملعقة Spring core catcher والمبينة في شكل (١-١٥). وهذه الطريقة فى أخذ العينات تكحل ضمن اختبار الاختراق القياسى Standard penetration test



شكل (١-١٤): ملعقة أخذ العينات.

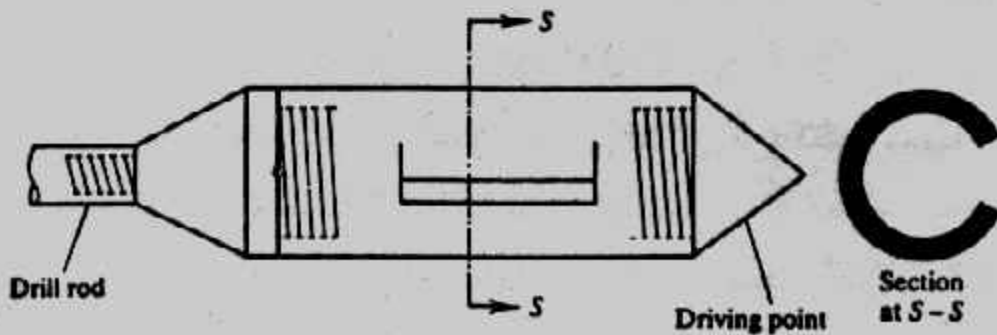




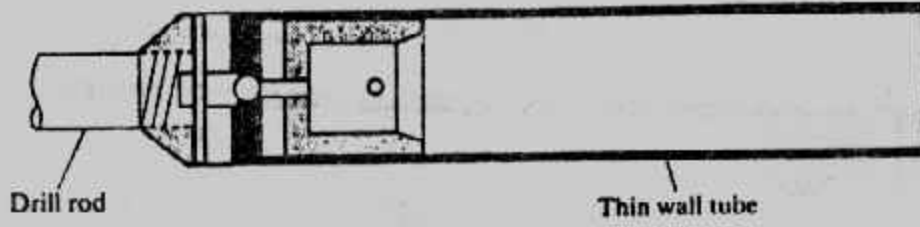
شكل (١٥-١): ملعقة عينات بلقمة إمساك

٢- الدلو الكاشط Scraper Bucket : حينما تكون التربة عبارة عن رمل مختلط بحصى فإنه يصعب الحصول على عينات بواسطة الملعقة ذات الماسك لأن الحصى قد يمنع الماسك من الإنغلاق . وفي هذه الحالة يمكن استخدام الدلو الكاشط للحصول على عينات مقلقة . والدلو الكاشط له سن اختراق كما يمكن توصيله بقضيب النقب . وعند استخراج العينات يدفع الدلو في التربة ثم يلف فتسقط التربة المكشوفة إلى داخل الدلو . شكل (١٦-١) .

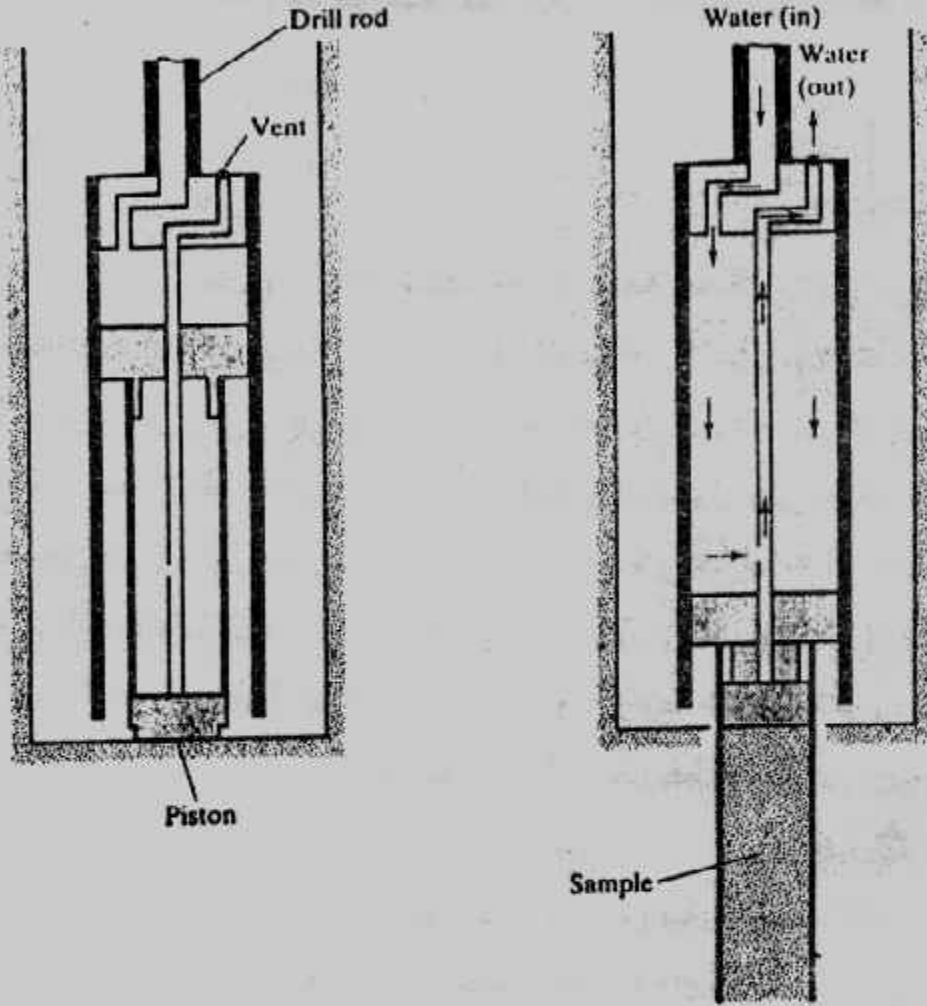
٣- الأنبوبة رفيعة الجدران Thin Wall Tube : الأنبوبة رفيعة الجدران تعرف بأنابيب شلبى Shelby Tubes وهذه الأنبوبة تصنع من الصلب بقطر داخلي ٥٠,٨ مم وبقطر خارجي ٧٦,٢ مم ولها نهاية حادة . ويمكن لهذه الأنبوبة أن توصل بقضيب النقب . وتستخدم أنابيب شلبى في الحصول على عينات غير مقلقة من التربة الطينية وذلك بإنزال قضيب النقب وبه أنبوبة العينات ويدفع في التربة فتدخل التربة داخل الأنبوبة . وبعد الرفع من التربة تفك الأنبوبة بما بها من تربة وترسل للمعمل . شكل (١٧-١) .



شكل (١٦-١): الدلو الكاشط .



شكل (١٧-١): أنابيب شلبي الرفيعة.




شكل (١٨-١): أخذ العينات الكباس.

٤- أخذ العينات الكباس Piston Samper : حينما تكون العينات الغير مقلقة ذات قطر أكبر من ٧٦,٢ مم فإنها تكون معرضة للسقوط. ولذلك فإن أخذ العينات الكباس يكون مفيدا في هذه الحالة. شكل (١٨-١). ويتكون أخذ العينات الكباس من أنبوبة رفيعة بمكبس. وفي البداية تكون الأنبوبة مغلقة بالمكبس وينزل أخذ العينات إلى قاع الحفرة وحينئذ تدفع الأنبوبة في التربة هيدروليكيًا بواسطة المكبس ويترك الضغط خلال ثقب في قضيب الكباس للمحافظة على بقاء العينة عند رفع أخذ العينات من التربة والعينات التي يتم الحصول عليها بهذه الطريقة ذات قلقة أقل من العينات التي يتم الحصول عليها بأنابيب شلبي.

٥- عينات الصخر Rock Sampling : عينات الصخر يمكن الحصول عليها بواسطة اسطوانات العينة Core Barrels شكل (١-١٩) وهذه الاسطوانات توجد على أنواع مختلفة وحجوم وأطوال متنوعة . واسطوانات العينات الصخرية مرودة بلقم قطع مصنوعة من الماس أو التتجستين أو الكربيت . حيث يستخدم الماس للصخر والتتجستين أو الكربيت لعينات الطين الجامد . ويتم أخذ العينات عن طريق الحفر بالدوران . ولقد سبق القول أن اسطوانات القطع منها ما هو مفرد ومنها ما هو مزدوج .



Diamond-studded rock-coring bits. (Courtesy of Law Engineering Testing Co.)



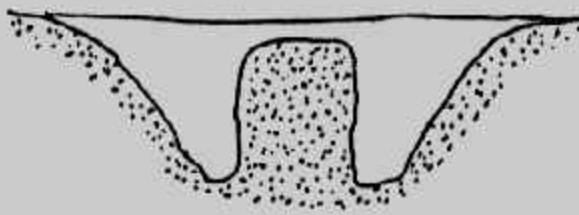
double-tube  
core barrel




Diamond coring bits

شكل (١-١٩): اسطوانات عينات الصخر .

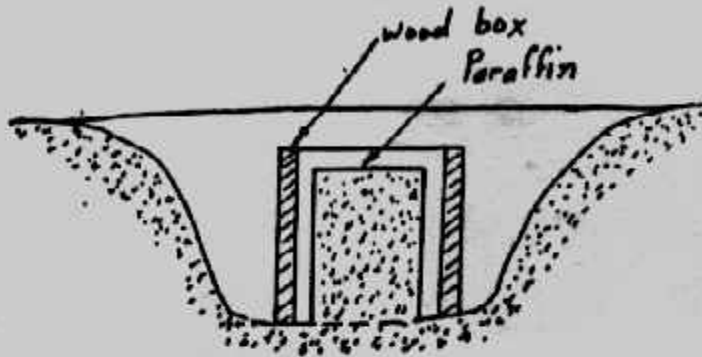
٦- العينات الكتلية Chunk Sampling : العينات الكتلية يمكن الحصول عليها بالحفر يدويا بعناية في التربة ويمكن الحصول على كتلة غير مقلقة تماما من التربة لأن هذه الطريقة لا تستخدم معدات أو أنابيب وهي التي تسبب قلقلة للتربة . ويوضح شكل (١-٢٠) خطوات الحصول على العينات الكتلية الغير مقلقة ويجب عمل الاحتياطات اللازمة عند رفع العينة وحفظها ونقلها للمعمل ويميز هذه الطريقة سهولتها ورخصها ولكن بعيها عدم إمكانية الحصول على عينات من أعماق بعيدة حيث يمكن استخدام هذه الطريقة في الأعماق القريبة فقط بحد أقصى ١٠ مترا .



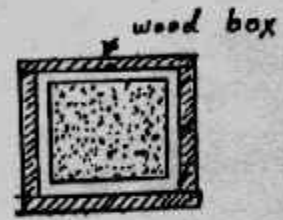
١- الحفر حول العينة



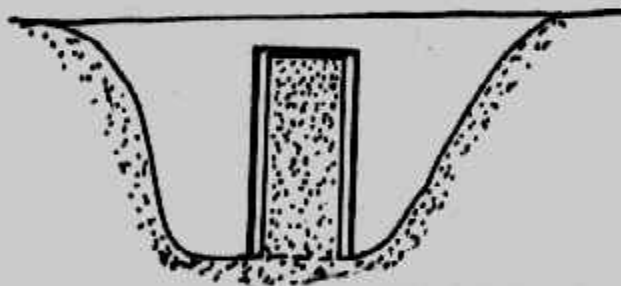
٢- عينة مهذبة



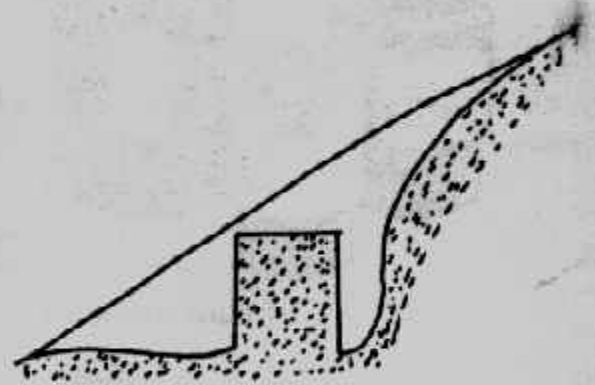
٣- عينة مصندقة ومغلقة بالشمع



٤- العينة في الصندوق ومحاطة بشمع البرافين



٥- عينة داخلية



٦- عينة من ميل

شكل (١-٢٠): العينات الكتلية.

خامسا : الإختبارات الموقعية Field Tests :

الاختبارات الموقعية هي الاختبارات التي تتم على الطبيعة في الموقع، وهذه الاختبارات تعطي نتائج طبيعية دقيقة، والعينات التي تستخرج من التربة ومهما قلت درجة قلقلتها لا تعطي نتائج طبيعية ودقيقة مائة في المائة، ولذلك فإن الاختبارات الموقعية تعطي أفضل وأدق النتائج بغض النظر عن ارتفاع تكاليف تنفيذها.



أ - اختبار الاختراق القياسي (Standard Penetration Test (SPT) : اختبار الاختراق القياسي هو أهم الاختبارات الحقلية وهو اختبار للاختراق الديناميكي للتربة . وهذا الاختبار ينفذ على أعماق مختلفة على طول الجسة وخاصة عند المنسوب المتوقع للتأسيس . وفي هذا الاختبار يتم دق ملعقة أخذ العينات القياسية Split-Spoon Sampler لمسافة ٤٦ سم (١٨ بوصة) في التربة عند قاع الحفر الجسة (منسوب الاختبار) . وتستخدم في عملية الدق مطرقة وزنها ٦٢,٧٢ نيوتن (٦٣,٥ كجم أو ١٤٠ رطل) تسقط من ارتفاع حر قدره ٧٦ سم (٣٠ بوصة) وشكل (١-١٨) يبين كيفية إجراء الاختبار . وحسب عدد الدقات اللازمة ليتم اختراق مسافة ٣٠,٥ سم (١٢ بوصة) الأخيرة من ملعقة أخذ العينات في التربة ويطلق على هذا العدد N . ويتم الحساب بوضع علامات على قضيب الاسترشاد (Guide rod) كل ١٥ سم . وتدق المعلقة في ١٥ سم الأولى . ثم يؤخذ عدد الدقات المقابل لاختراق ١٥ سم الثانية و ١٥ سم الثالثة، ولا تحسب الدقات الزائدة عن ٥٠ دقة وتكون N في هذه الحالة أكبر من ٥٠ .

والملعقة القياسية تتكون من ثلاثة أجزاء متصلة ببعضها بقطر خارجي قدره ٥١ مم والحد الأدنى لطول الجزء الأوسط هو ٤٥٧ مم ولقمة الحفر (الكعب) طولها ٧٦ مم والقطر الداخلي للمعلقة هو ٣٥ مم . ويمكن زيادة القطر الداخلي إلى ٣٨,١ مم على أن تغلف المعلقة من الداخل بغشاء بسمك ١,٥ مم . ويجب أن تكون لقمة الحفر من الصلب المقوى ومعدنه بقلواط بحيث يمكن استبدالها عند الحاجة . شكل (١-١٤) . وتتأثر قيمة N بعاملين . أولهما هو وجود منسوب للمياه الجوفية وثانيهما هو وزن التربة أعلى منسوب الاختبار . ولذلك فإن قيم N تخضع للتصحيح بسبب هذين العاملين .

وفي حالة الرمل الرقيق والطيني فإن N تصحح إذا كانت بقيمة أكبر من ١٥ دقة بالمعادلة الآتية :

$$N_{corrected} = 15 + \frac{1}{2} (N - 15) \dots\dots\dots (1-1)$$

و N في المعادلة هي المقاسة في الاختبار . وللتربة الخشنة تصحح N نتيجة لتأثير أوزان التربة فوق منسوب الاختبار (الإجهاد المؤثر  $\sigma_v$ ) وقيمة N المقاسة من الاختبار عند إجهاد مؤثر معين يجب أن تعدل لتتناسب قيمة قياسية للإجهاد المؤثر  $\sigma_v$  هي :

$$N_{corrected} = C_N N_F \dots\dots\dots (1-2)$$

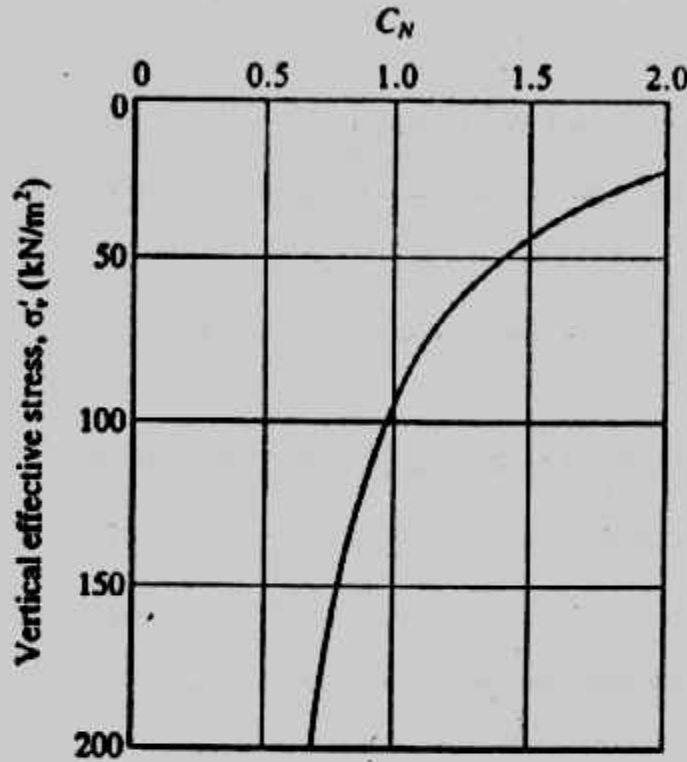
Where :  $C_N$  = correction factor

$N_F$  = N-value obtained from the field

وقدم ليوا و وايت مان (Liao and Whitman, 1986) أفضل معامل للتصحيح بالمعادلة الآتية:

$$C_N = 9.78 \sqrt{\frac{1}{\sigma_v \text{ (kN/m}^2\text{)}}} \dots\dots\dots (1-3)$$

كما يمكن إيجاد قيمة  $C_N$  من الشكل (٢١-١).



شكل (٢١-١): تعيين  $C_N$

وبالإضافة للحصول على عينات غير مقلقة من هذا الاختبار فإنه يعطى معلومات مفيدة عن التربة حيث يمكن استنتاج قوام الطين ومقاومة الضغط الغير محصور من قيمة عدد النقات  $N$  كما هو مبين في جداول (٢٣-١) (٤-١).

جدول (٣-١): علاقة  $N$  وقوام التربة المتماسكة المشبعة.

Consistency of saturated cohesive soils†

Consistency	$N$	Remarks
Very soft	0-2	Squishes between fingers when squeezed
Soft	3-5	Very easily deformed by squeezing
Medium	6-9	
Stiff	10-16	Hard to deform by hand squeezing
Very stiff	17-30	Very hard to deform by hand
Hard	> 30	Nearly impossible to deform by hand

جدول (٤-١): العلاقة بين  $N$  وقوام الطين و  $q_u$

Consistency of Clays and  
Approximate Correlation to the Standard  
Penetration Number,  $N$

Standard penetration number, $N$	Consistency	Unconfined compression strength, $q_u$ ( $\text{kN/m}^2$ )
0-2	Very soft	0-25
2-5	Soft	25-50
5-10	Medium stiff	50-100
10-20	Stiff	100-200
20-30	Very stiff	200-400
> 30	Hard	> 400

جدول (٥-١): علاقة  $\phi$ ,  $N$

Empirical values for  $\phi$ ,  $D_r$ , and unit weight of granular soils based on the SPT at about 6 m depth and normally consolidated

Description	Very loose	Loose	Medium	Dense	Very dense
Relative density $D_r$	0	0.15	0.35	0.65	0.85
SPT $N$ : fine	1-2	3-6	7-15	16-30	?
medium	2-3	4-7	8-20	21-40	> 40
coarse	3-6	5-9	10-25	26-45	> 45
$\phi$ : fine	26-28	28-30	30-34	33-38	
medium	27-28	30-32	32-36	36-42	< 50
coarse	28-30	30-34	33-40	40-50	
$\gamma_{sat}$ , pcf ( $\text{kN/m}^3$ )	70-100† (11-16)	90-115 (14-18)	110-130 (17-20)	110-140 (17-22)	130-150 (20-23)

† Excavated soil or material dumped from a truck will weigh 11 to 14  $\text{kN/m}^3$  and must be quite dense to weigh much over 21  $\text{kN/m}^3$ . No existing soil has a  $D_r = 0.00$  nor a value of 1.00—common ranges are from 0.3 to 0.7.

جدول (٧-١): علاقة  $\phi$ ,  $N$ ,  $D_r$

Relation between  $N$ -values, Relative  
Density, and Angle of Friction in Sands

Standard penetration number, $N$	Approximate relative density, $D_r$ (%)	Approximate angle of friction of soil, $\phi$ (deg)
0-5	0-5	26-30
5-10	5-30	28-35
10-30	30-60	35-42
30-50	60-95	38-46

جدول (٦-١): علاقة  $N$  والكثافة النسبية

RELATIVE DENSITY  
OF SAND—STANDARD  
PENETRATION TEST  
(After Terzaghi and Peck<sup>7,12</sup>)

Blows	Relative Density
0-4	Very loose
5-10	Loose
11-20	Firm
21-30	Very firm
31-50	Dense
51+	Very dense

## ب- اختبارات أخرى للاختراق Other Penetration Test :

يبين شكل (٢٢-١) طرق أخرى لاختبار الإختراق والتي تستخدم المخروط بدلا من الملعقة. ومن هذه الاختبارات ما يسمى بتجارب الاختراق بالمخروط الديناميكي، وفيها يتم دق مخروط مثبت في نهاية قضبان بواسطة مطرقة ذات وزن وسقوط محددين. وجهاز الإختراق الديناميكي يتكون من رأس مخروطية الشكل من الصلب بزاوية رأس مقدارها ٦٠° و هذا الجهاز قد يكون خفيفا أو متوسطا أو ثقيلًا حيث يكون قطر المخروط لها على الترتيب هو ٢٥,٦، ٣٥,٦، ٤٣,٧ مم وقطاع للمخروط مساحته ٥، ١٠، ١,٥ سم<sup>٢</sup> ويتم الدق على مواسير الإختراق المتصل بها المخروط بمعدل ٢٠ دقة في الدقيقة بدون توقف باستخدام مطرقة وزنها ١٠ كجم لأجهزة الإختراق الخفيفة، ٢٠ كجم للأجهزة المتوسطة، ٥٠ كجم للأجهزة الثقيلة بسقوط قدره ٥٠ سم. ويسجل عدد الدقات اللازمة لإختراق المخروط ٢٠ سم في التربة، ويعرف عدد هذه الدقات بالاختراق الديناميكي.

كما يوجد اختبار آخر يسمى بالمخروط السويدي. حيث يستخدم مخروط حلزوني طوله ٢٠ سم وأقصى قطر له من ٣٠ إلى ٣٥ مم وتستخدم ١٠٠ كجم للتحميل على المخروط مع لفة إلى أن يخترق التربة ويحسب عدد أنصاف اللغات اللازمة لإختراق المخروط للتربة.

## ج- اختبار الإختراق بالمخروط The Cone Penetration Test (CPT) :

اختبار الإختراق بالمخروط أو اختبار المخروط الإستاتيكي اختبار بسيط يستخدم بسهولة في التربة الطينية اللينة أو الرمل الناعم إلى متوسط ويصعب استخدام هذا الاختبار في الطين الجامد أو الصلب وفي الزلط أيضا وينفذ هذا الاختبار بدفع مخروط قياسى بزاوية رأس مقدارها ٦٠° وقطر قاعدته ٣٥,٧ مم وبمساحة مقطع مقدارها ١٠ سم<sup>٢</sup> ويتم الدفع في التربة بمعدل ٢٠ مم/ثانية. ويقاس إجهاد الدفع وهو مقدار مقاومة التربة لإختراق المخروط بها ويسمى Static Cone Resistance  $q_c$  شكل (٢٣-١) وتوجد علاقات رابطة بين  $N$ ,  $q_c$  مثل :

للتربة الرملية :

$$q_c = \frac{N}{400-600} \dots\dots\dots (1-4)$$

للتربة الطينية :

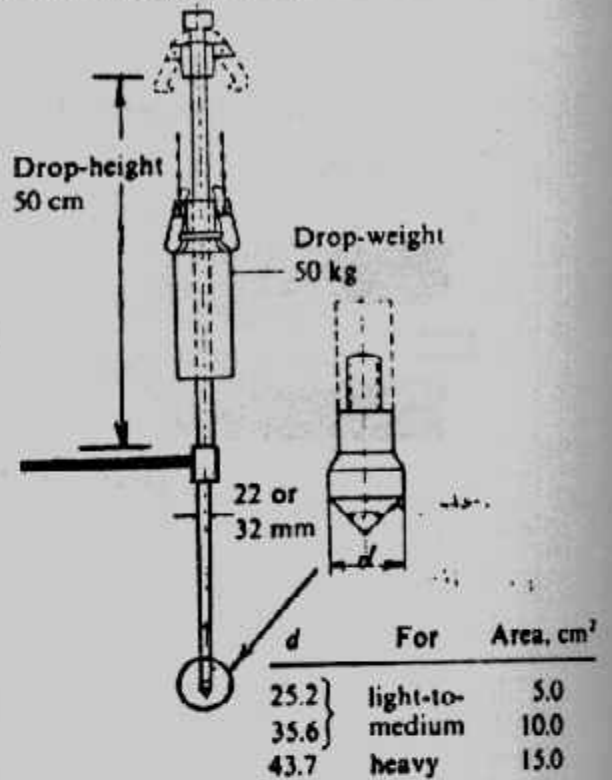
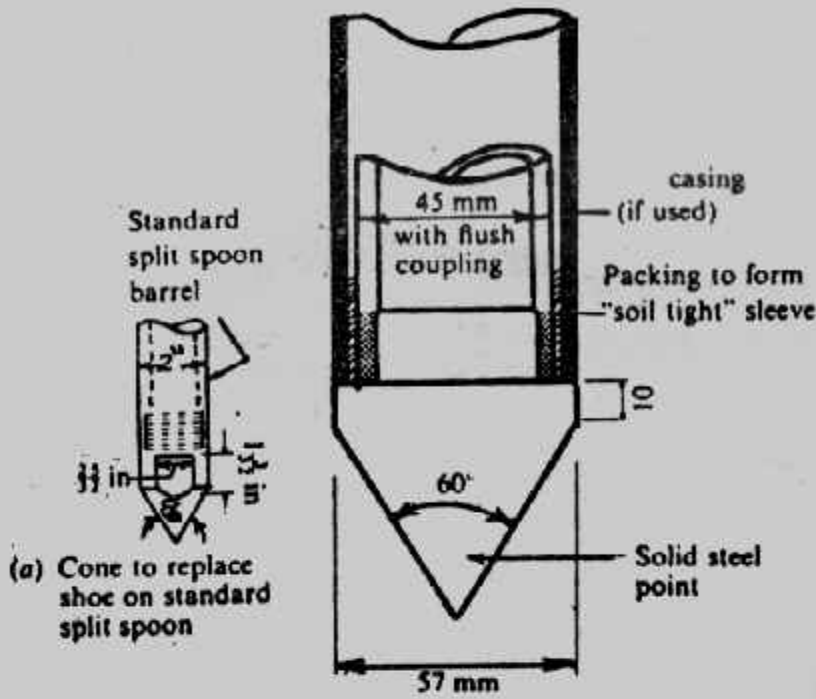
$$q_c = \frac{N}{800-1000} \dots\dots\dots (1-5)$$

$N$  = Standard penetration number

حيث :

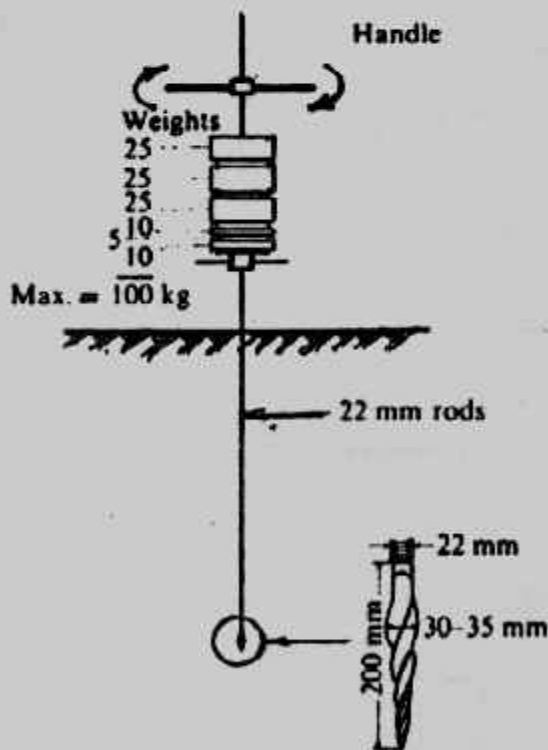
$q_c$  = Static cone resistance, kN/m<sup>2</sup>

Tombi type trip release as used in Japan for the SPT as well as for dynamic cone

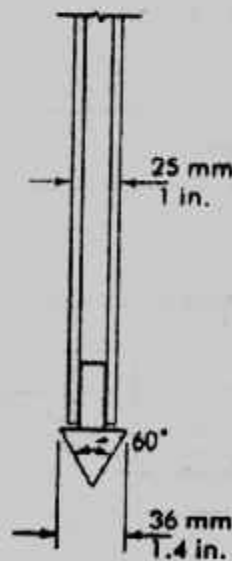


Two dynamic type cones driven using the SPT or larger drive weights.

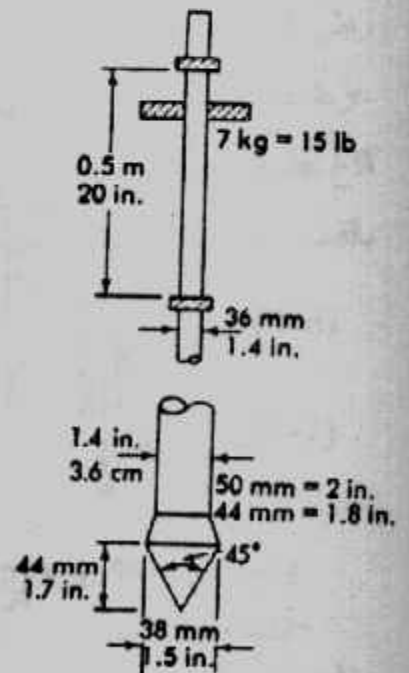
Dynamic cone penetration test.



Swedish weight sounding equipment.



Drive cone on 25 mm drill rod

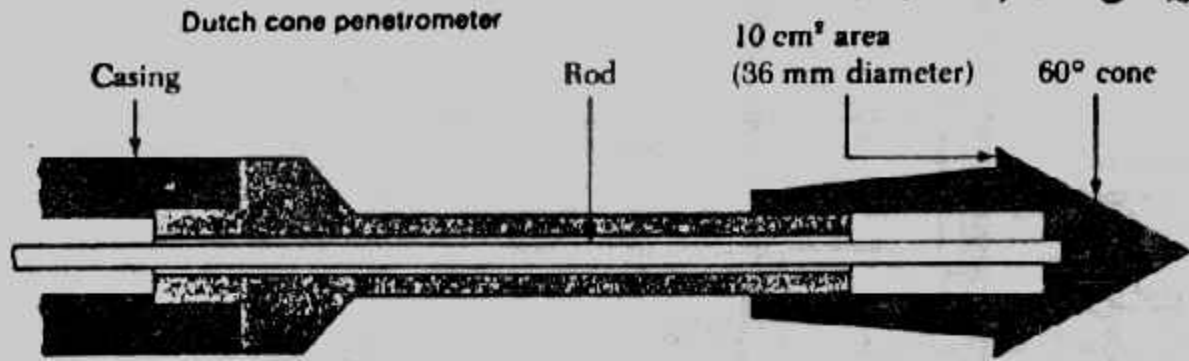


Dynamic cone

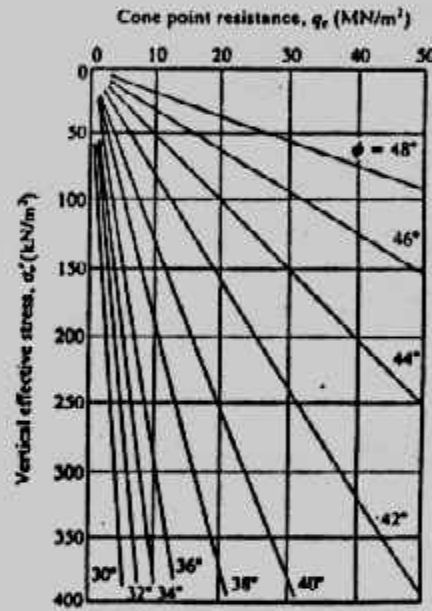
شكل (٢٢-١): اختبارات أخرى للاختراق.



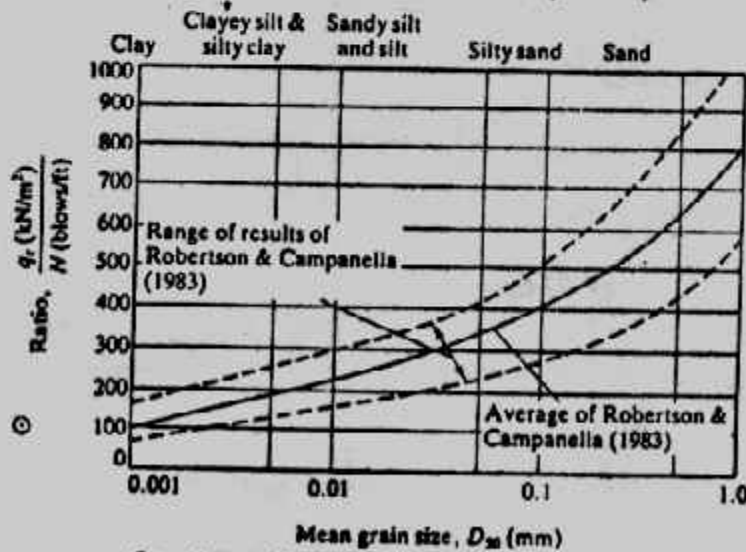
ويمكن من قيمة  $q_c$  تعيين زاوية الاحتكاك الداخلي للتربة الخشنة شكل (٢٤-١). كما  
يمكن تعيين قوام التربة الناعمة بمعرفة قيمة  $q_c$  ويعطى شكل (٢٥-١) العلاقة العامة بين  $N$ ,  
 $q_c$  ويعطى شكل (٢٦-١) أنواعا أخرى للمخروط الإستاتيكي.



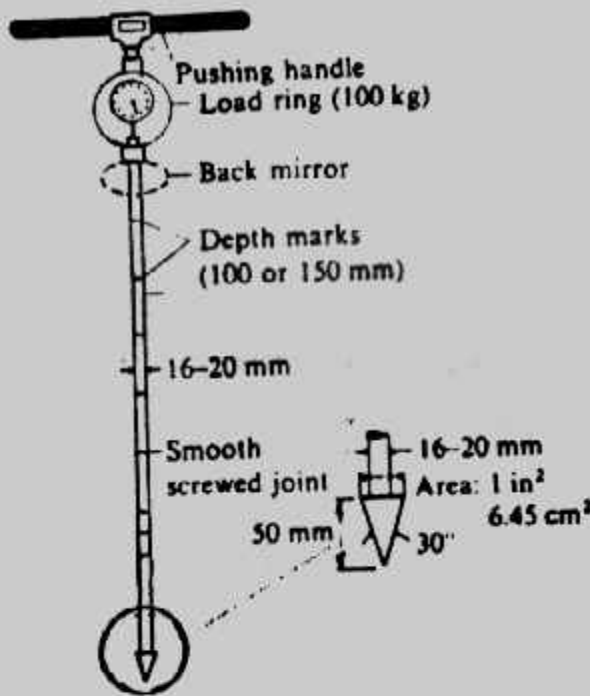
شكل (٢٣-١): الإختراق بالمخروط الإستاتيكي.



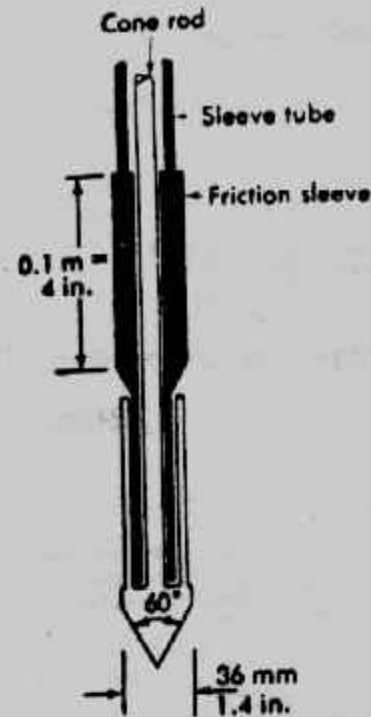
شكل (٢٤-١): العلاقة بين  $q_c$ ,  $\sigma$ ,  $\phi$  للرمل



شكل (٢٥-١): العلاقة بين  $N$ ,  $q_c$



Hand held penetrometer for shallow depths. The resistance is read in mirror from load ring gauge necessary to push the cone 50 mm into soil.



Dutch cone with friction sleeve

شكل (٢٦-١): أنواع أخرى للمخروط الإستاتيكي.

د- اختبار مروحة القص Vane Shear Test :

اختبار مروحة القص من الاختبارات التي تجرى بالموقع أثناء عمل الجسة لتعيين مقاومة القص الغير منصرف في الموقع للتربة الطينية. وجهاز مروحة القص يتكون من أربع ريش في نهاية قضيب يمكن زيادة طوله على وصلات. شكل (٢٧-١) ويؤخذ طول الريش إلى عرضها كنسبة ٢ : ١ دائماً. وتنفذ تجربة مروحة القص في الموقع بدفع الريش في التربة عند قاع حفرة الجسة والعزم المحوري المبذول عند قمة قضيب لف الريش سوف يسبب إنهيار بالقص على شكل إسطوانى يحيط بالريش. وأقصى عزم مبذول هو :

$$T = C_u \pi D^2 \left( \frac{H}{2} + \frac{D}{6} \right) \dots \dots \dots (1-6)$$

$$\text{or } C_u = \frac{T}{\pi D^2 \left( \frac{H}{2} + \frac{D}{6} \right)} \dots \dots \dots (1-7)$$

Where : T = maximum torque applied. D = diameter of the vanes  
C<sub>u</sub> = undrained shear strength (ϕ = 0 concept), H = height of the vanes

ولأغراض التصميم تصحح قيم القص الناتجة كما يلي :

$$C_{u(\text{corrected})} = \lambda C_{u(\text{field})} \dots \dots \dots (1-8)$$

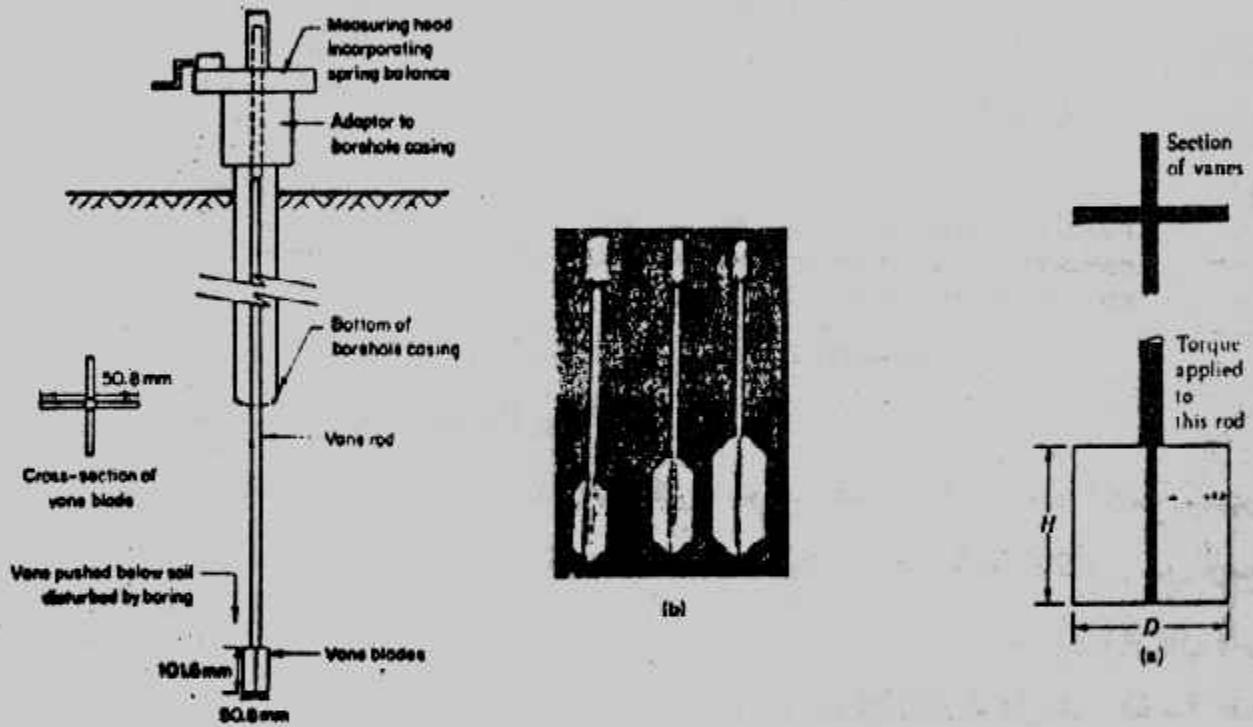
where : λ = correction factor

وقد يكون التصحيح باستخدام معامل اللدونة شكل (٢٨-١) وقد يكون طبقاً لأبحاث أحدث منسوباً لقيمة  $C_u(\text{field})$  إلى قيمة الإجهاد الفعال  $\sigma_v$  شكل (٢٩-١). ومن هذا الاختبار يمكن تقدير قيمة نسبة سبق التصلب  $\text{Overconsolidation ratio, OCR}$  لتربة الطين في الموقع من العلاقة العملية الآتية :

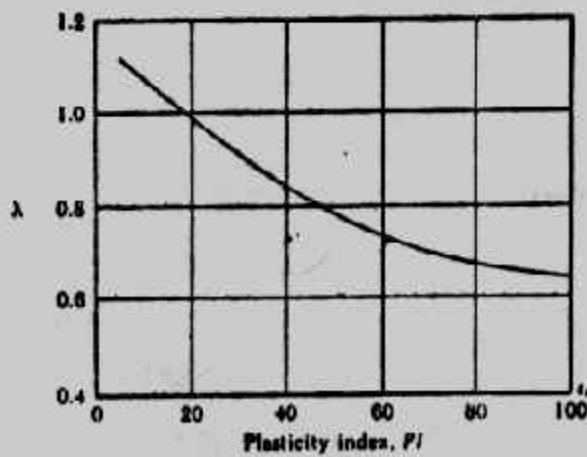
$$\text{OCR} = \beta \left[ \frac{C_{u(\text{field})}}{\sigma'_v} \right] \dots \dots \dots (1-9)$$

Where :  $\sigma'_v$  = presnet effective overburden pressure.

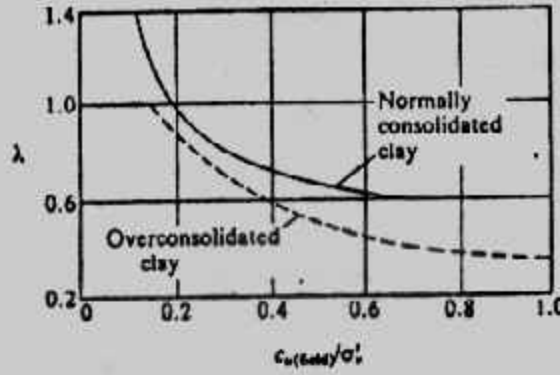
$$\beta = 22(\text{PI})^{-0.48} \text{ (where PI = Pasticity index)}$$



شكل (٢٧-١): اختبار مروحة القص في الموقع.



شكل (٢٨-١): التصحيح بمعامل اللدونة.



شكل (١-٢٩): التصحيح بالتصلب.

وتعيين معامل النفاذية في الموقع :

توجد طرق كثيرة لتعيين معامل النفاذية في الموقع وأهم وأسهل الطرق هما طريقة النهاية المفتوحة وطريقة الحشوة.

١- اختبار النهاية المفتوحة Open End Test : في هذا الاختبار تنفذ الحفرة حسب العمق المطلوب ثم تنزل ماسورة إلى قاع الحفرة، وتسحب المياه من أعلى الماسورة وهذه المياه هي التي تسرب من خلال قاع الحفرة، ويكون سحب المياه بمعدل ثابت ويكون منسوب المياه في الماسورة ثانياً وتقدر كمية المياه المسحوبة ثم يحسب معامل النفاذية كما يلي :

$$K = \frac{Q}{5.5rH} \quad (1-10)$$

Where : K = Coefficient of permeability.

Q = Constant rate of supply of water to the borehole

r = Inside radius

H = Differential head of water

والمعادلة السابقة تصلح لأي نوع من الوحدات كما أن H معرفة في الشكل (١-٣٠) وهي تتكون من جزئين :

$$H = H_{\text{gravity}} + H_{\text{pressure}} \quad (1-11)$$

٢- اختبار الحشوة Packer Test : هذا الاختبار يمكن تنفيذه في جزء من حفرة الجسة أثناء أو بعد تنفيذها حيث تدفع المياه تحت ضغط بمعدل ثابت إلى هذا الجزء من الحفرة. ومعامل النفاذية يعين من :

$$K = \frac{Q}{2\pi LH} \log_e \left( \frac{L}{r} \right) \quad (\text{for } L \geq 10r) \quad (1-12)$$

$$K = \frac{Q}{2\pi LH} \sinh^{-1} \left( \frac{L}{2r} \right) \quad (\text{for } 10r > L \geq r) \quad (1-13)$$

Where : K = coefficient of permeability

$Q$  = constant rate of flow into the hole

$L$  = length of portion of the hole under test

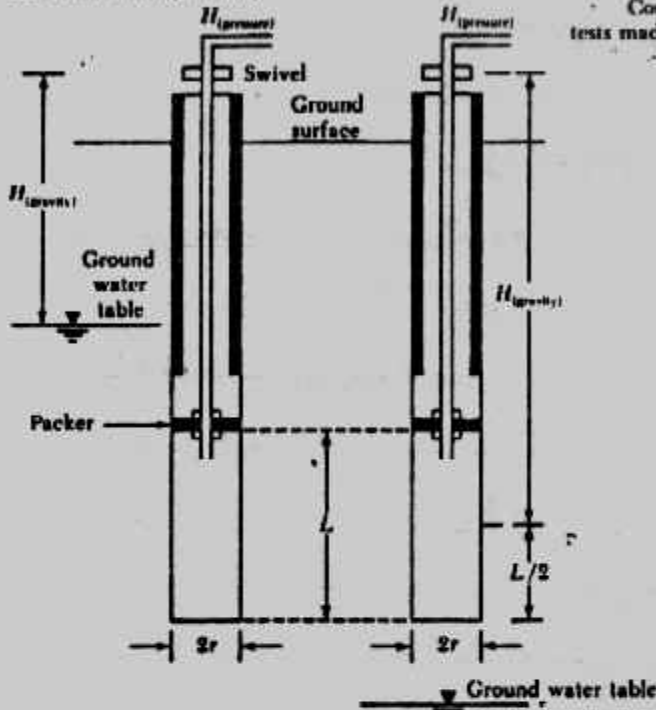
$r$  = radius of the hole

$H$  = differential pressure head

وهذه الطريقة تستخدم أساسا لتحديد معامل النفاذية في الصخر كما يمكن استخدامها لأنواع التربة

الأخرى. شكل (٣١-١)

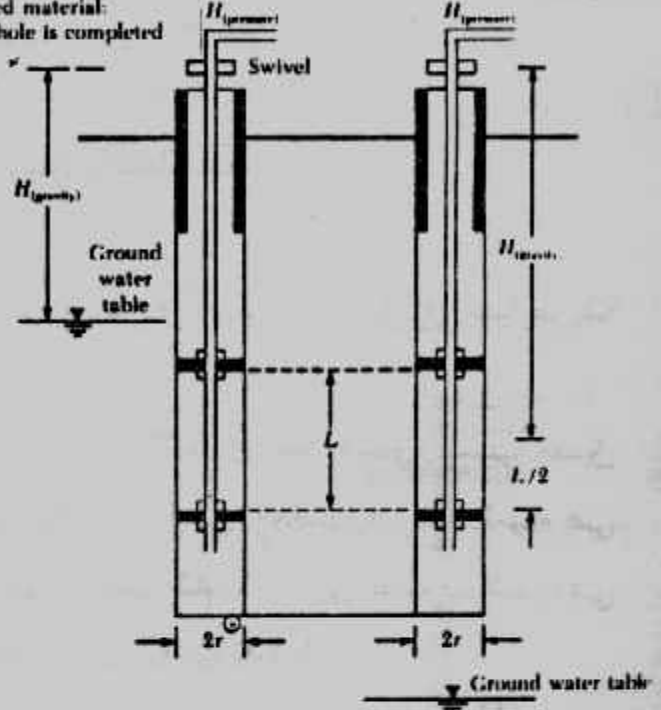
Consolidated material:  
tests made during drilling



(a) Saturated material

(b) Unsaturated material

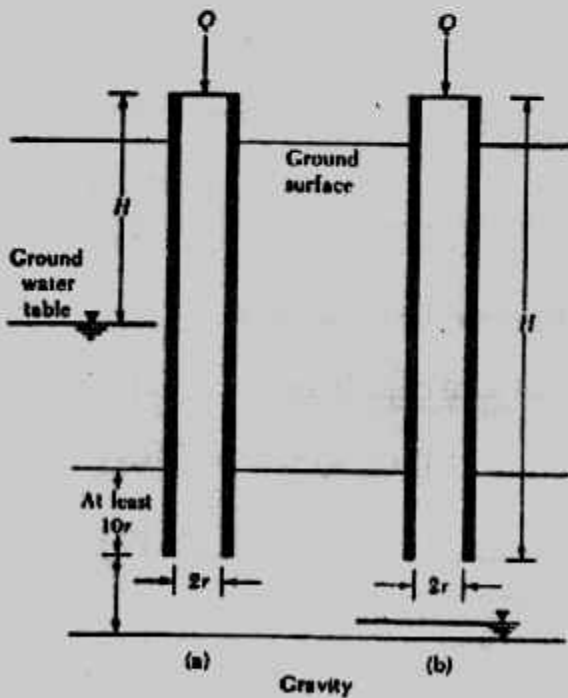
Consolidated material:  
tests made after hole is completed



(c) Saturated material

(d) Unsaturated material

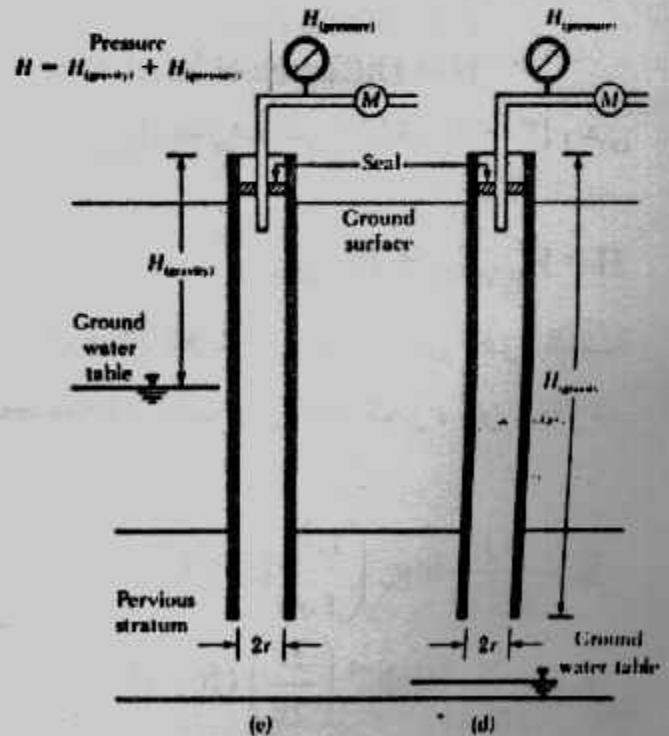
شكل (٣٠-١): اختبار النهاية المفتوحة لتحديد معامل النفاذية في الموقع.



(a)

Gravity

(b)



(c)

(d)

شكل (٣١-١): اختبار الحثوة لتحديد معامل النفاذية في الموقع.



## سادسا : المياه الجوفية Ground Water :

أ- تحديد منسوب المياه الجوفية Ground water table : وجود المياه الجوفية بالقرب من الأساسات يؤثر على هبوط الأساسات وقدرة تحملها . ومنسوب المياه الجوفية يتغير موسميا ولذلك فمن الضروري تحديد أعلى وأوطى منسوب للمياه الجوفية على طول عمر المنشأ . وأثناء عمل حفرة الجسة يجب تسجيل بداية ظهور المياه الجوفية فيها . ويستقر منسوب المياه الجوفية بعد ٢٤ ساعة من إتمام الجسة للتربة المتجانسة عالية النفاذية وتسمى هذه الطريقة بالآبار المفتوحة . ويتم قياس عمق منسوب المياه الجوفية بإنزال سلسلة أو شريط مساحي داخل الحفرة ، وقد تستخدم أجهزة كهربية تعطى إشارات صوتية أو صوتية عند ملامستها للمياه . أما التربة منخفضة النفاذية فإن منسوب المياه الجوفية يستغرق عدة أيام لكي يستقر . وفى هذه الحالة يجب قياس مناسب المياه الجوفية بطريقة دقيقة باستخدام مقياس ضغط السوائل (بيزومتر) Piezometer والذي يتكون من حجر نفاذ أو أنبوبة مثقبة تعمل كمرشح يسمح بدخول المياه دون التربة ومعلق بالحجر النفاذ أو الأنبوبة المثقبة ماسورة أو أنبوبة بلاستيك رفيعة ويوضع البيزومتر كما هو مبين بالشكل (١-٣٢) .

وتوجد أنواع عديدة من البيزومترات :

أ- البيزومتر ذو المواسير الرأسية وهو بسيط وسهل الاستخدام ونظرا لبطء معدل ثبات القراءة فإنه يستخدم للتربة ذات النفاذية العالية شكل (١-٣٢) .

ب- البيزومترات التى تعمل بالهواء حيث معدل ثبات القراءة بها سريع ولكن لابد من الحرص فى منع دخول الهواء الجوى داخل مواسير ضغط الهواء كما يجب معايرة الأجهزة قبل استخدام شكل (١-٣٢) .

ج- البيزومترات الكهربائية وهى ذات دقة عالية ومعدل ثبات سريع ولكنها مكلفة وتحتاج للقراءات إلى تصحيح .

وللتربة الطميية يمكن رصد مناسب المياه الجوفية بالخطوات الآتية :

١- تنزح بعض المياه الجوفية من الحفرة .

٢- ترصد مناسب المياه الجوفية فى الحفرة عند أزمنة صفر،  $t_1$ ،  $t_2$ ،  $t_3$  وهى أى أزمنة مختارة .

٣- تحسب  $\Delta H_1$  ،  $\Delta H_2$  ،  $\Delta H_3$  ، كما هو مبين بالشكل (١-٣٣)

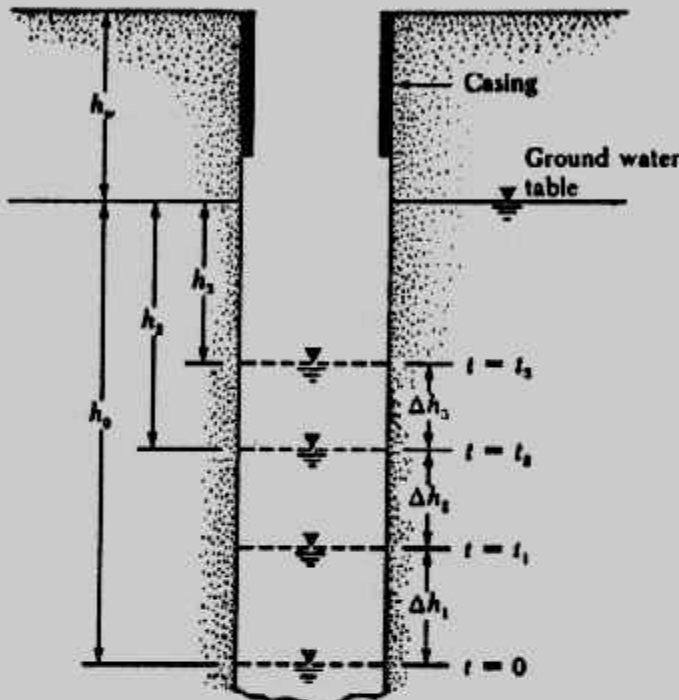
٤- تحسب :

$$h_o = \frac{\Delta h_1^2}{\Delta h_1 - \Delta h_2} \dots \dots \dots (1-14)$$

$$h_2 = \frac{\Delta h_2^2}{\Delta h_1 - \Delta h_2}$$

$$h_3 = \frac{\Delta h_3^2}{\Delta h_2 - \Delta h_3}$$

٥- توقع قيم  $h_o$ ،  $h_2$ ،  $h_3$  ، عند الأزمنة المختلفة لإيجاد مستوى المياه الجوفية.



Determination of ground water table

شكل (١-٣٣)

تعيين منسوب المياه الجوفية بالقياس

### Example 1-2 :

Refer to Fig. (1-34) for a borehole, given :  $h_w + h_o = 9.5$  m

$$\Delta t = 24 \text{ h}$$

$$\Delta h_1 = 0.9 \text{ m}$$

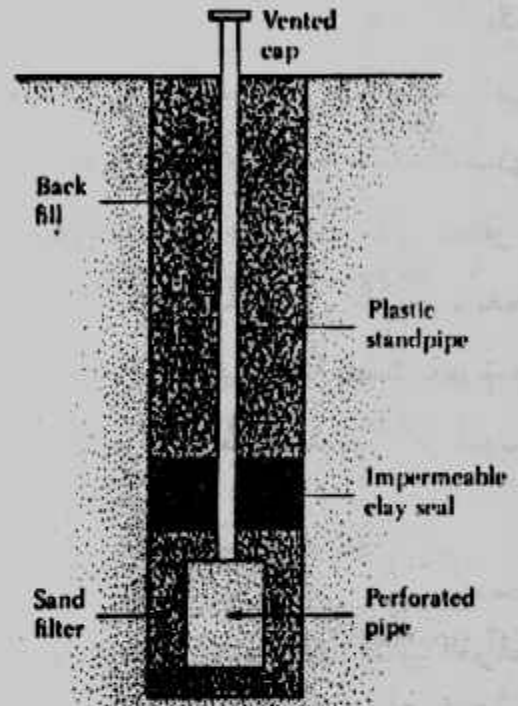
$$\Delta h_3 = 0.70 \text{ m}$$

$$\Delta h_2 = 0.54 \text{ m}$$

Make the necessary calculations and locate the ground water level.

**Soltuion :** Using Eq. (1-14).

$$h_o = \frac{\Delta h_1^2}{\Delta h_1 - \Delta h_2} = \frac{0.9^2}{0.9 - 0.70} = 4.05 \text{ m}$$



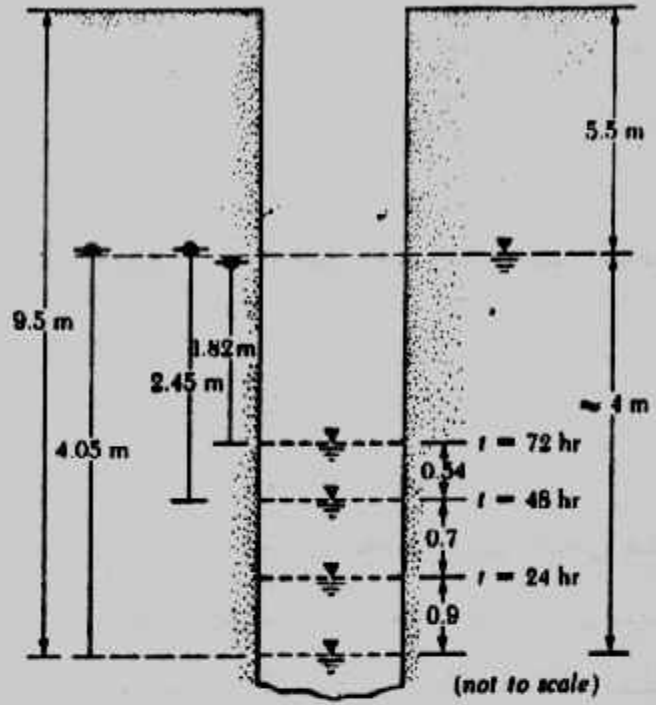
Casagrande-type porous storage piezometer

شكل (١-٣٢)

تعيين منسوب المياه الجوفية بالبيزومتر

$$h_2 = \frac{\Delta h_3^2}{\Delta h_1 - \Delta h_2} = \frac{0.7^2}{0.9 - 0.7} = 4.05 \text{ m}$$

$$h_3 = \frac{\Delta h_3^2}{\Delta h_2 - \Delta h_3} = \frac{0.54^2}{0.7 - 0.54} = 1.82 \text{ m}$$



شكل (١-٣٤): مثال

#### ب- التحليل الكيميائي للمياه الجوفية :

عند تنفيذ أساسات أى منشأ فى التربة فإن خرسانة هذه الأساسات تتأثر بالمواد الضارة الموجودة فى التربة. كما أن وجود المياه يعتبر عاملاً ضرورياً للتفاعلات الكيميائية ولذلك يجب الاهتمام بدراسة الوسط المحيط بخرسانة الأساسات للتعرف على الأملاح المتواجدة بالتربة وبالمياه الجوفية وعمل الاحتياطات اللازمة لحماية الخرسانة حالياً ومستقبلاً وعند الاحتمالات المختلفة للوسط المحيط بها. ولذلك فمن الأمور الهامة هو إجراء التحليل الكيميائى لكل من التربة المحيطة بالأساسات والمياه الجوفية. ولإستخراج عينة مياه جوفية يمكن استخدام طرق بسيطة كقارورة المياه المدلاه داخل الحفرة، أو استخدام أجهزة أكثر دقة وتحتوى على صمام يفتح عند المناسب المطلوب أخذ عينات المياه عندها.

ويتم الفحص الكيميائى للمياه بتقدير المحتويات الآتية :

- ١- الأس الهيدروجينى.
- ٢- الرائحة واللون.
- ٣- محتوى الأملاح الكلية الذائبة.
- ٤- محتوى المغنسيوم والأمونيوم.
- ٥- محتوى الكبريتات على هيئة ثالث أكسيد الكبريت.
- ٦- محتوى الكلوريدات.

وتتميز المياه الضارة عند فحصها ظاهريا باللون الداكن والرائحة غير الطبيعية، ووجود ترسيبات جبسية وخروج غازات والمكونات الضارة في المياه الجوفية تؤثر تأثيرا ضارا على خرسانة الأساسات، ويتزايد هذا التأثير مع درجات الحرارة العالية والضغط العالي أو تعرض الخرسانة لمياه متحركة أو تحت ضغط هيدروستاتيكي.

وسوف نبين دراسة التحليل الكيميائي للمياه الجوفية وكذلك للتربة في بند تحليل النتائج ودراستها في هذا الباب.

### سابعا : الاختبارات المعملية :

بعد توصيل العينات إلى المعمل ترص متجاورة حسب تسلسل العينات ويتم فحص هذه العينات بصريا بغرض التعرف على التربة ولونها وطبقاتها مبدئيا وهذا ما يسمى بالتوصيف المبدئي . ويقوم بهذه المهمة مهندسون تربة ذوي خبرة عالية في التوصيف . ويتم بعد ذلك تحديد الاختبارات الواجب إجراؤها وكذلك العينات المطلوبة لهذه الاختبارات ليتم تحديد الصفات الجيوتكنيكية للتربة وخصائصها الميكانيكية بدقة . وأهم الاختبارات التي تجرى على التربة هي اختبارات الكثافة والمحتوى المائي وحدود أتربرج والتحليل الحبيبي ومقاومة القص والتصلب والقابلية للانفخاخ والإتهارية والتحليل الكيميائي للمياه الجوفية والتربة .

والتوصيف المبدئي بالفحص البصري يجب أن يتم تأكيده بالتجارب المعملية المعروفة للوصول للتوصيف النهائي الصحيح . هذا بالإضافة للتوصيف البصري وتسلسل الطبقات الذي يسجله مهندس الجسات في الموقع والتجارب المعملية هي التأكيد العلمى والرابط لكل هذه التوصيفات . وبين الجدول (٨-١) أهم الاختبارات المعملية للعينات والكمية المطلوبة من العينات لهذه الاختبارات .

### ثامنا : تحليل النتائج ودراستها :

بعد الانتهاء من إجراء جميع الاختبارات الموقعية والمعملية يتم تحليل دراسة نتائج هذه الاختبارات للوصول إلى النتائج النهائية والدقيقة لأبحاث تربة الموقع . وتسجل النتائج النهائية التي تم الوصول إليها في تقرير التربة بطريقة منظمة وواضحة .

#### أ- تصنيف التربة Soil Classification :

وللوصول إلى التصنيف العلمى السليم لطبقات التربة يجب عمل الاختبارات لإيجاد العوامل المصنفة للتربة والتي أهمها حدود أتربرج والتحليل الحبيبي للتربة ولقد عالجنها هـ

جدول (٨-١): الاختبارات المعملية وكميات العينات اللازمة لها.

Test	Types of Soils	Size of Sample (gram)	Type of Sample	Use of Data
Specific gravity of solids	All	100	Auger or split barrel	Void ratio, minerals.
Grain size	Cohesionless (sands, gravels)	200	Auger or split barrel	Classification. Estimate permeability, shear strength, frost action, and compaction.
Grain shape	Cohesionless (sands, gravels)	200	Auger or split tube	Classification. Estimate shear strength.
Liquid plastic limits	Cohesive (silts, clays)	200	Auger or split tube	Classification. Estimate compressibility and compaction.
Water content	Cohesive	100	Auger or split tube	Correlate with strength, compressibility, and compaction.
Void ratio	Cohesive	200	Split tube*	Estimate compressibility and strength.
Unconfined compression	Cohesive	200	Split tube*	Estimate shear strength.

\* Sample must be relatively undisturbed.

الموضوع بالتفصيل في الباب الثالث من كتابنا ميكانيكا التربة. وعادة تسجل حدود أثربرج في تقرير التربة أو قطاع الجسة بينما تقدم منحنيات التحليل الحبيبي على أحد مخطوطات التدرج الحبيبي المختلفة وفقا لأحد المدارس العلمية التي سبق الحديث عنها في المرجع المذكور. ونقدم في شكل (٣٥-١) وشكل (٣٦-١) بعض هذه المخطوطات من أنظمة مختلفة.

#### ب- الصفات الجيوتكنيكية Geotechnical Properties :

يجب تجميع الصفات الجيوتكنيكية عند مواضع إجراء الاختبارات كما يجب أن تعطى بياناتها جميع أنواع طبقات التربة وخاصة طبقات التأسيس والطبقات الحرجة ذات مشاكل الهبوط أو الانتفاخ أو الإنهيارية. ويفضل تسجيل هذه الصفات في جداول أو على قطاع الجسة مباشرة في مواضعها.

#### ج- إعداد قطاع الجسة Preparation of Boring Log :

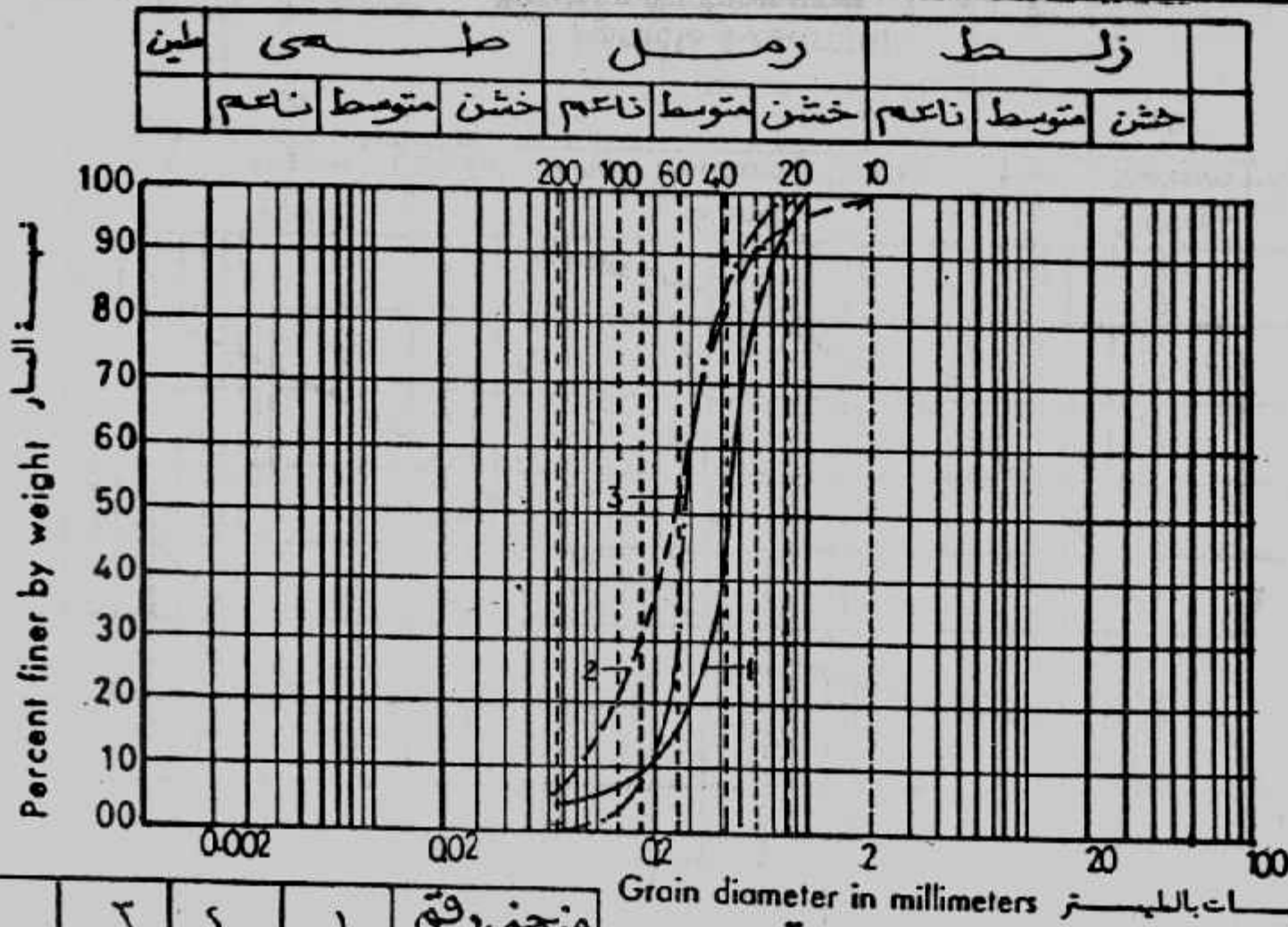
البيانات والمعلومات المجمعة من كل جسة تم تنفيذها تقدم على شكل بياني يسمى قطاع الجسة Boring Log ويجب على منفذ الجسة أن يسجل هذه البيانات على قطاع الجسة :

١- اسم وعنوان مقاول أو شركة الجسات.



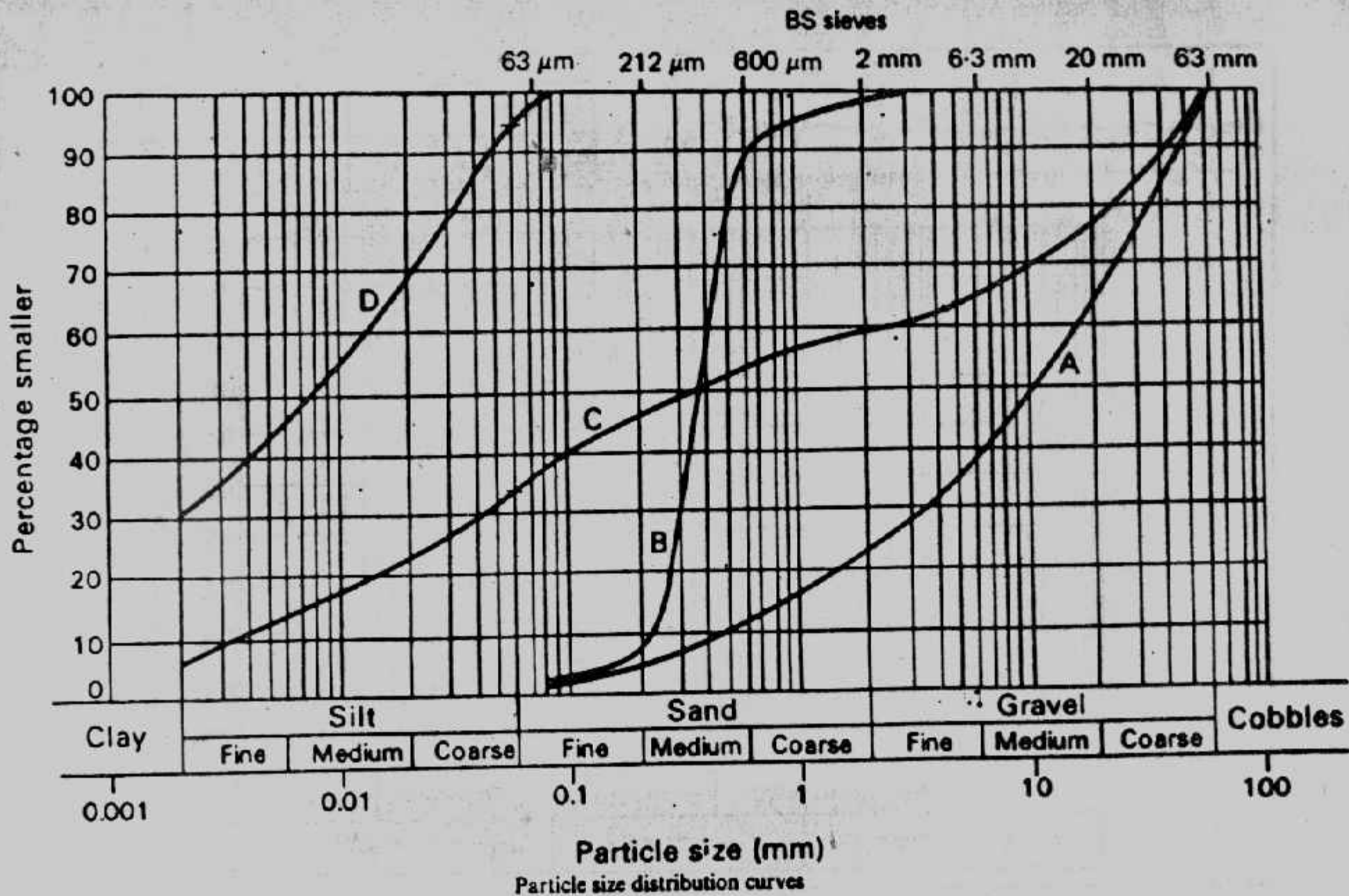
- ٢- اسم منفذ الجسة أو المشرف على تنفيذها.
  - ٣- اسم ورقم المشروع وعنوانه.
  - ٤- تاريخ تنفيذ الجسة.
  - ٥- رقم الجسة ومكانها.
  - ٦- طبقات التربة فى الموقع كما شوهدت أثناء تنفيذ الجسة.
  - ٧- مناسيب المياه الابتدائية والنهائية كما ظهرت فى الجسة.
  - ٨- قيم تجارب الاختراق الموقعية ومناسيبها وكذلك نتائج التجارب الموقعية الأخرى.
  - ٩- عدد وأنواع وأعماق العينات المأخوذة.
  - ١٠- فى حالة عينات الصخر يسجل نوع اسطوانة القطع.
- كما يجب أن يقدم منفذ الجسات كروكى للموقع العام يوضح عليه أماكن الجسات وعددها ونوعها وعمقها، أشكال (١-٣٧)، (١-٣٨) وبعد استكمال الاختبارات المعملية على العينات المستخرجة يقوم مهندس التربة والأساسات بإعداد شكل قطاع الجسة النهائى والدقيق، الذى يضم بالإضافة للبيانات الموقعية لمنفذ الجسة نتائج التجارب المعملية، وتضم أشكال قطاعات الجسة إلى تقرير أبحاث التربة وهى تشكل جزءاً هاماً فيه، وتبين الأشكال (١-٣٩) إلى (١-٤٣) نماذجاً مختلفة لأشكال قطاع الجسة.
- ويلاحظ أن نماذج قطاع الجسة تضم المعلومات والبيانات الآتية :
- ١- اسم الموقع أو العملية.
  - ٢- رقم الجسة.
  - ٣- قطاع التربة على طول الجسة بالاستعانة برموز التربة شكل (١-٤٤).
  - ٤- مناسيب الطبقات وحدودها.
  - ٥- مناسيب المياه الجوفية.
  - ٦- اسم كل طبقة ولونها.
  - ٧- الصفات الجيوتكنيكية ومنها حدود أثربرج والكثافة والمحتوى المائى والانتفاخ.
  - ٨- الصفات الميكانيكية مثل مقاومة القص وقيمة الضغط الغير محصور وزاوية الاحتكاك الداخلى للتربة الخشنة.
  - ٩- نتائج الاختبارات الموقعية وأهمها اختبارات الاختراق.
  - ١٠- تاريخ تنفيذ الجسة واسم منفذها.

شكل (٢٥-١): مخطوط التدرج الحبيبي



منحني رقم	١	٢	٣	
العمق	٣	٩	١٧	

منحنيات التدرج الحبيبي - جسد رقم ١



شكل (١-٣٦): التدرج الحبيبي

#### د- قطاع التربة في الموقع Subsurface Profile :

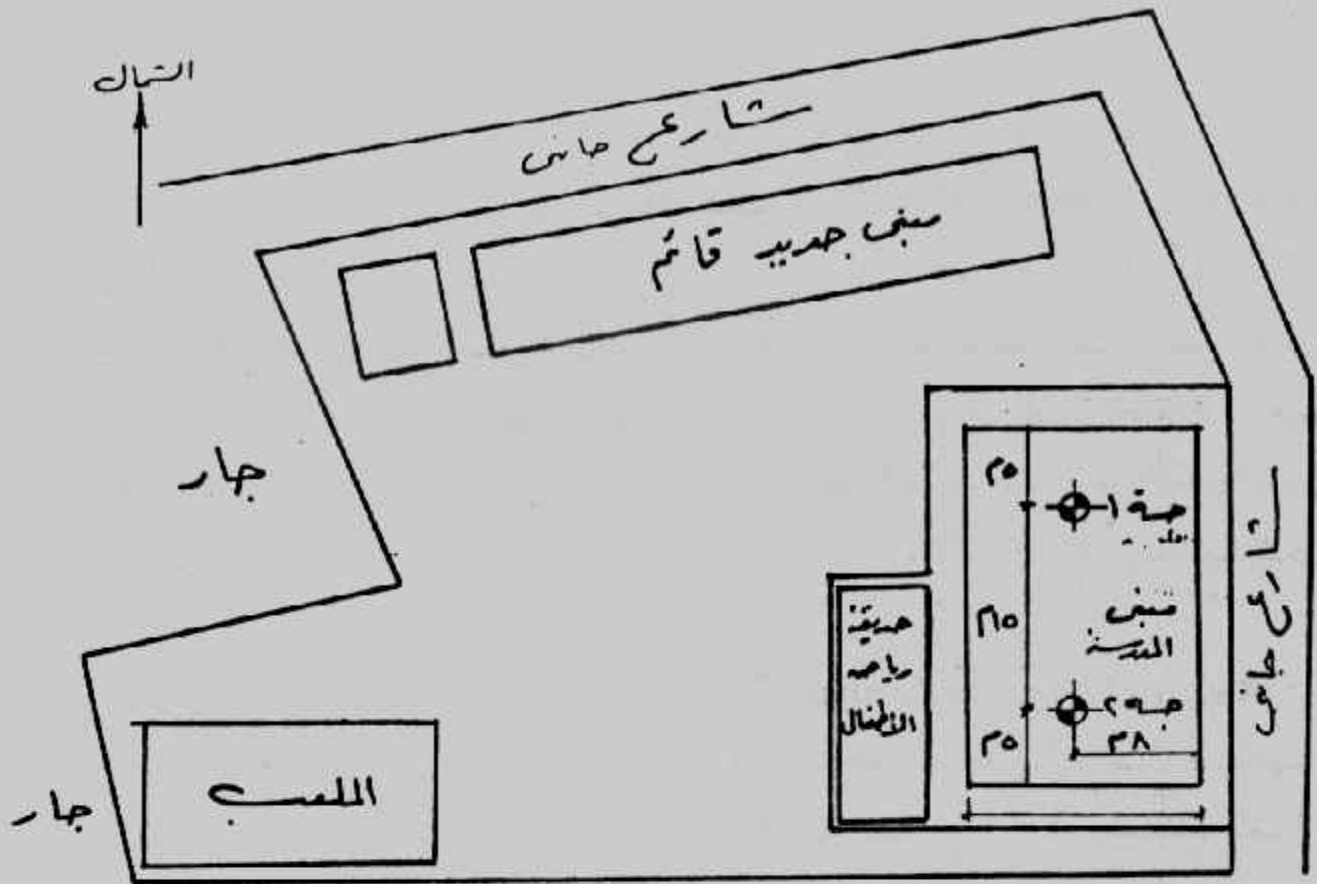
من أشكال قطاعات الجسات أو الحفر الاستكشافية في الموقع يمكن وضع تصور عام لشكل وتسلسل الطبقات في الموقع ويسمى هذا التصور بقطاع التربة Subsurface Profile شكل (٤٥-١). وقد يستلزم رسم قطاع التربة عمل جسات إضافية أو حفر استكشافية إضافية. وهذا القطاع يساعد في إعطاء صورة أكثر وضوحاً لحالة الطبقات السطحية من حيث انتظامها أو اختلافها أو تغير سمكها أو بدايتها أو نهايتها كذلك يبين القطاع حجم وحدود الطبقات الضعيفة والطبقات القوية. ويجب ملاحظة أن شكل القطاع في مناطق الجسات المنفذة هو الأصح أما في المناطق بين الجسات فإنها وقعت بالتصور وبالمقارنة بين مناطق الجسات وبعضها أشكال (٤٦-١)، (٤٧-١)، (٤٨-١).

#### هـ- دراسة التحليل الكيميائي للتربة والمياه الجوفية Study of Chemical Analysis :

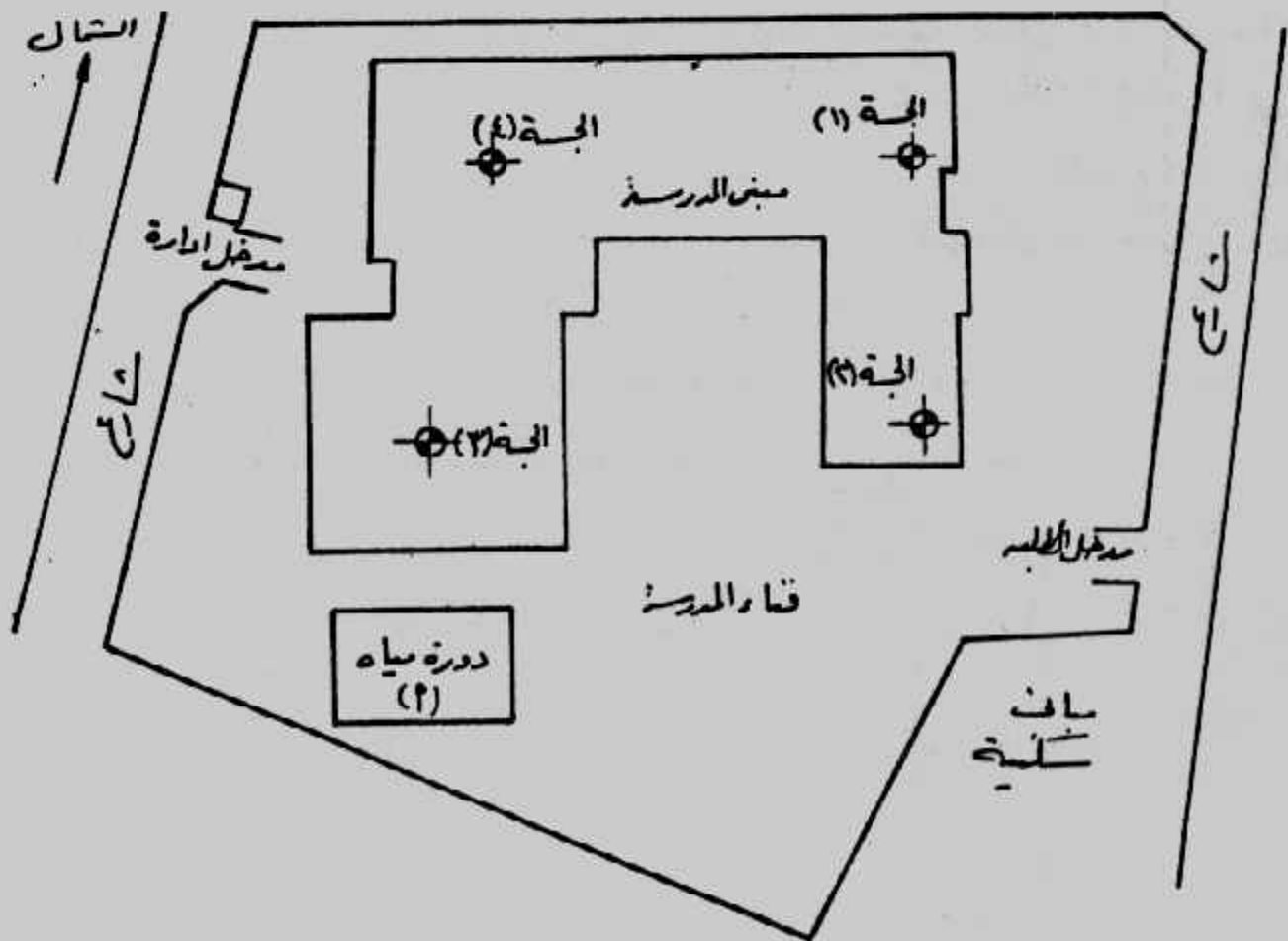
تتأثر كثيراً خرسانة الأساسات بالمواد الضارة الموجودة في الوسط المحيط بها. والوسط المحيط يعنى الماء والتربة والغاز المحيط بالخرسانة المتصلدة. والعناصر الضارة بالخرسانة هي الأحماض الحرة (ويعبر عنها بالأس الهيدروجيني) والأحماض المعدنية ومنها كبريتيد الهيدروجين وثاني أكسيد الكبريت وحمض الكربونيك وكذلك الأحماض العضوية الحرة والكبريتات وأملاح المغنسيوم وأملاح الأمونيوم والدهون والزيوت النباتية والحيوانية والقار. وكل هذه المواد تعمل بأسلوب أو بآخر على إذابة المركبات الأسمنتية وبالتالي تفتت الخرسانة. وكذلك تعمل على تفتت المونة الأسمنتية لمباني الطوب. أما الكلوريدات فيكون تأثيرها على حديد التسليح حيث تساعده على الصدأ وقد تكون المواد الضارة في التربة وتنشط عند وصول المياه الجوفية لها أو مع حركتها، وقد تكون المواد الضارة في المياه الجوفية نفسها. ويبين جدول (٩-١) تقييم خطورة المكونات الضارة بالمياه.

جدول (٩-١): حدود التقييم للمكونات الضارة بالمياه.

٢	اللمص	الأضرار		
		أضرار قليلة	أضرار متوسطة	أضرار خطيرة
١	الأس الهيدروجيني	٥.٥ - ٦.٥	٤.٥ - ٥.٥	أقل من ٤.٥
٢	حامض الكربونيك على هيئة (ك أ) / مجم / لتر.	٢٠ - ١٥	٣٠ - ٢٠	أعلى من ٦٠
٣	الأمونيا (ن يد+) / مجم / لتر	٢٠ - ١٥	٣٠ - ٢٠	أعلى من ٦٠
٤	المغنسيوم (ما+) / مجم / لتر	٢٠٠ - ١٠٠	٣٠٠ - ١٥٠	أعلى من ١٥٠٠
٥	الكبريتات (ك ب أ) / مجم / لتر	٢٠٠ - ١٠٠	٣٠٠ - ٢٠٠	أعلى من ٢٠٠٠



شكل (١-٣٧): كروكي للموقع العام وأماكن الجسبات

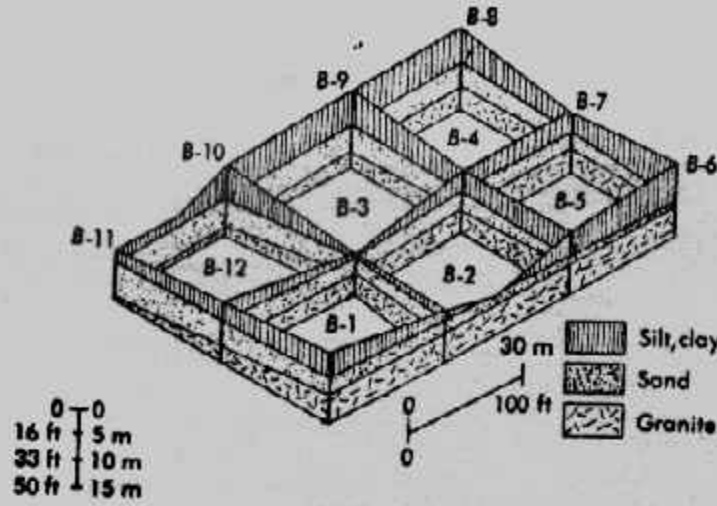


شكل (١-٣٨): كروكي عام وأماكن الجسبات



مشروع :		جمله رقم :		ملف رقم :	
منسوب سطح الأرض :		عمق المياه الأرضية		تاريخ : تاريخ :	
مهندس المسجل :		مهندس الموقع :		المطارة :	
تاريخ :		المعدات :		لوحة رقم : من	
الارتفاع	العمق	الطبقة	الوصف	رقم	العلامة
١.٠	١.٠	١.٠	ردم مكون من الطين والطين والرمل رمادي داكن		
١.٢	١.٢	١.٢	طين طميي شديد التماسك . بني	CH	
١.٤	١.٤	١.٤	$w/c = 32 \% , q_{un} = 2.3 \text{ kg/cm}^2$		
١.٦	١.٦	١.٦	رمل ناعم مع آثار من الطمي . بني		
١.٨	١.٨	١.٨	طين طميي شديد التماسك . بني	CH	
٢.٠	٢.٠	٢.٠	$w/c = 36 \% , q_{un} = 2.80 \text{ kg/cm}^2$		
٢.٢	٢.٢	٢.٢	نهاية الجهد على عمق ١.٠٠٠ متر		

شكل (١-٣٩): تسجيل البيانات في قطاع نموذجي للجسات



Note: Base of diagram = Elev 600 m

### شكل (١-٤٨) : قطاع التربة في ثلاث اتجاهات .

أما التربة الصارة بالخرسانة فتكون دائما ذات لون يختلف عن اللون العادي للتربة . ويجب الحذر من التربة الرمادية خاصة إذا احتوت على صداً بنى مصفر أو التربة الرمادية الفاتح المائلة للبياض والمتواجدة تحت طبقة من التربة ذات لون بنى غامق يميل إلى الأسود . كما تدل النباتات المتحللة على وجود الحامضية في التربة . ويجب أن يضم التحليل الكيميائي للتربة قيم الحامضية العضوية ومحتوى الكبريتات والكبريتيد للتربة المجففة بالهواء . ويبين جدول (١-١٠) تقييم خطورة التربة في مهاجمة الخرسانة .

جدول (١-١٠): حدود وتقييم خطورة التربة المهاجمة على الخرسانة .

الخطورة		الاختبارات
خطورة بسيطة	خطورة جسيمة	
أعلى من ٢٠ مللى	-	الحامضية طبقاً للبند (١-٩-٨-٢)
٠.١٧ - ٠.٤٢	أعلى من ٠.٤٢	الكبريتات (كـ أ ٣) للتربة المبردة هوائياً (%)

وبالإضافة إلى أهمية تصنيع الخرسانة جيداً لمقاومة الكبريتات فإنه يمكن استخدام الأسمنت المقاوم للكبريتات في الخلطات الخرسانية عندما تزيد نسبة الكبريتات في المياه أو في التربة المحيطة عن الحدود المسموح بها في جداول الكود المصري جدول (١-١١)، جدول (١-١٢) كما يبين جدول (١-١٣) تأثير الكبريتات على الخرسانة في وجود الكبريتات. أما أملاح الكلوريدات فليس لها تأثير ضار مباشر على الخرسانة مهما كان تركيزها، إلا أن اختراق أملاح الكلوريدات للغطاء الخرساني يساعد على صدأ حديد التسليح. ولذلك يجب التأكيد على أهمية أن تكون الخرسانة كثيفة وسمك الغطاء الخرساني من ٥ إلى ٧ سنتيمترات ويفضل ٧ سنتيمترات وذلك في حالة زيادة كمية الكلوريدات عن ٣٠٠٠ جزء في المليون مع استخدام الأغشية العازلة أو الدهانات العازلة مثل الأسفلت أو البيتومين أو تغليف الخرسانة بمادة غير منفذة للمياه، وعموماً فإن خرسانة الأساسات يمكن أن تقاوم التأثير الضار للكيماويات في حالة ما إذا كانت الخرسانة عالية الكثافة وذات محتوى أسمنتي غني مع زيادة سمك الغطاء الخرساني لحديد التسليح.

جدول (١-١١): تأثير الخرسانة بالتربة والمياه المحتوية على تركيزات مختلفة من الكبريتات

الكبريتات درجة التأثير	التربة	المياه الجوفية
	الكبريتات القابلة للذوبان في الماء (كـ بـ أ) %	الكبريتات في المياه (كـ بـ أ) جزء في المليون
تأثير ضعيف	صفر - ٠.٠٨	صفر - ١٢٥
تأثير إيجابي	٠.٠٨ - ٠.١٧	١٢٥ - ٨٠٠
تأثير محسوس	٠.١٧ - ٠.٤٢ *	٨٠٠ - ١٦٠٠
تأثير خطير	أكثر من ٠.٤٢	أكثر من ١٦٠٠

\* كبريتات مهاجمة للخرسانة

جدول (١-١٢): تأثير الخرسانة بالكبريتات في وجود الكلوريدات

مهاجمة المياه في الظروف العادية درجة المهاجمة	الكبريتات (كـ بـ أ) الذائبة في الماء		
	أكثر من ١٠٠٠ جم / لتر	١٠٠ - ١٠٠٠ جم / لتر	أقل من ١٠٠ جم / لتر
	أكثر من ١٠٠٠ جم / لتر	١٠٠ - ١٠٠٠ جم / لتر	أقل من ١٠٠ جم / لتر
عملياً ليس خطير	أقل من ١٥٠	أقل من ٢٠٠	أقل من ١٠٠
ضعيف المهاجمة	١٥٠ - ٣٠٠	٢٠٠ - ٣٥٠	١٠٠ - ١٥٠
متوسط المهاجمة	٣٠٠ - ٥٠٠	٣٥٠ - ٦٠٠	١٥٠ - ٣٠٠
عالي المهاجمة	٥٠٠ - ١٠٠٠	٦٠٠ - ١٢٥٠	٣٠٠ - ٥٠٠
خطير المهاجمة	أكثر من ١٠٠٠	أكثر من ١٢٥٠	أكثر من ٥٠٠

• ما ٢+ = الماغنسيوم (أيون)  
• ن يدع + = الألومينا (أيون)  
• كل- = كلور (أيون)

## تاسعا : إعداد تقرير أبحاث التربة : Preparation of Soil Investigation Report:

فى نهاية برنامج استكشاف التربة يكون قد تجمع لدينا بيانات التربة، منها البيانات المجمعة من الموقع أو بالفحص البصرى أو من التجارب المعملية، وتسجل كل هذه البيانات ودراستها ونتائج تحليلها فى تقرير "أبحاث التربة والأساسات" الذى يعد ليستخدمه المهندس المصمم عند تعامله مع تربة الموقع أو عند تصميم الأساسات، وليكون هذا التقرير مرجعا للأعمال المستقبلية فى المبنى فيما بعد. وبالرغم من اختلاف حجم التقرير وكمية البيانات به حسب حجم كل مشروع وأهميته وتكاليفه وكذلك حسب المهندس المعد للتقرير إلا أن كل تقرير يجب أن يحتوى على :

- ١- مجال البحث ويشمل المقدمة والجهة الطالبة وحجم برنامج أبحاث التربة.
  - ٢- وصف المبنى المقترح تنفيذه بالموقع وطريقة تنفيذه.
  - ٣- وصف عام للموقع والمباني حوله وما يحيط به.
  - ٤- الوضع الجيولوجى للموقع.
  - ٥- تفاصيل العمل الموقعى وعدد الجسات وعمقها ونوعها.
  - ٦- وصف عام لطبقات التربة.
  - ٧- نتائج الاختبارات المعملية والموقعية.
  - ٨- حالة منسوب المياه الجوفية ونتائج تحليلها الكيميائى.
  - ٩- توصيات التأسيس وتشمل :
    - أ - منسوب التأسيس المقترح.
    - ب- قدرة تحمل التربة المسموح بها (جهد التربة).
    - ج- نوع الأساسات المناسب.
    - د- خطوات تنفيذ الأساسات.
    - هـ- اعتبارات التصميم مثل جهد الخرسانة ونوعها وطريقة العزل والخلطات الخرسانية. ونوع الحديد وسمك الغطاء الخرسانى ونوع الأسمنت المستخدم وكميته.
  - ١٠- اعتبارات أخرى خاصة بطريقة الحفر وسند جوانبه وتطهير الموقع ونزح المياه الجوفية عند ظهورها.
  - ١١- خلاصة وحدود استخدام التقرير.
- ويجب إلحاق الأشكال والرسومات الآتية بالتقرير :
- ١- كروكى الموقع العام Site Location Map

- ٢- مواقع الجسات وعلاقتها بالمبنى المطلوب .
  - ٣- قطاع الجسات وقطاع التربة .
  - ٤- جداول نتائج الاختبارات المعملية والتحليل الكيميائية .
  - ٥- أى أشكال أخرى مثل منحنيات التدرج الحبيبي .
- وتقارير "أبحاث التربة والأساسات" يجب أن تصاغ بطريقة علمية لا لبس فيها وتوثق جيدا من معدها .

## استكشاف التربة بالطرق الجيوفيزيائية Geophysical Exploration

توجد أنواع أخرى من طرق استكشاف التربة تختلف فى الأسلوب ومن هذه الطرق الاستكشاف الجيوفيزيائى والذى يقدم بسرعة بيانات التربة . والاستكشاف الجيوفيزيائى يسمح باستكشاف المساحات الواسعة بتكلفة أقل من الطرق المعتادة المعروفة بالجسات، ومع ذلك وفى حالات كثيرة يصعب الحصول على نتائج دقيقة وكاملة لطبقات التربة . وعلى ذلك فالطرق الجيوفيزيائية تستخدم فى الاستكشاف المبدئى للأعمال الكبيرة .

ومن طرق الاستكشاف الجيوفيزيائى :

- أ- طرق الاستكشاف الزلزالى Seismic Exploration ومنها طريقة المسح بالانعكاس الزلزالى وطريقة المسح بالإنكسار الزلزالى، وطريقة المسح الزلزالى بالحفر المقطعية .
- ب- طرق الاستكشاف بالمسح الكهربى Resistivity Survey ومنها طريقة الجهد المتساوى وطريقة المقاومة الكهربائية .

### أولا : طرق الاستكشاف الزلزالى Seismic Exploration :

يعتمد الاستكشاف الزلزالى على التباين فى خواص المرونة للصخور المكونة للقشرة الأرضية . وينشأ عن اختلاف معاملات المرونة للصخور انعكاسات وانكسارات للموجات الزلزالية تشبه إنعكاس وإنكسار الأشعة الضوئية عند مرورها خلال مواد مختلفة التركيب . وبإحداث موجات زلزالية فى التربة المفككة أو فى الصخور وتسجيل سرعة انتقال هذه الموجات فيها بأجهزة خاصة يمكن استنتاج عمق ونوع وتوزيع وتركيب التربة .

### ١- المسح بالإنكسار الزلزالى Seismic Refraction Survey :

المسح بالإنكسار الزلزالى يستخدم فى الحصول على البيانات المبدئية حول سمك الطبقات المختلفة للتربة فى الموقع وكذلك العمق للصخر أو للتربة الجامدة . وتتخذ هذه الطريقة بإحداث "صدمة" عند نقطة الصدم A، شكل (١-٤٩ أ) ثم تستقبل أول موجة واصله عن هذه



الصدمة بواسطة جهاز استقبال خاص يسمى جيفون Geophone موضوع عند عدة نقاط على مسافات من A مثل نقطة B, C, D ... والصدمة الزلزالية يمكن إحداثها بواسطة الدق بمطرقة ضخمة أو تفجير شحنة متفجرات صغيرة.

والصدمة التي تم إحداثها على سطح الأرض تخلق نوعين من موجات الضغط هي موجات مستوية (Plane-waves (p-waves حيث تتحرك الجزيئات في اتجاه انتشار الموجات وموجات قص (Shear-waves (S-waves حيث تتحرك الجزيئات في اتجاه عمودي على اتجاه انتشار الموجات. والموجات المستوية تنتقل أسرع من موجات القص ولذلك فستكون أسرع الموجات الواصلة عن الصدمة سوف تنتمي إلى الموجات المستوية P-waves في الطبقات المختلفة. وسرعة هذه الموجات في أى وسط تعين من :

$$v = \sqrt{\frac{E}{\left(\frac{\gamma}{g}\right)}} \sqrt{\frac{(1-\mu)}{(1-2\mu)(1+\mu)}} \dots\dots\dots (1-15)$$

where : E = Young's modulus of the medium

$\gamma$  = Unit weight of the medium

g = Aceleration due to gravity

$\mu$  = Poisson's ratio

ولتعيين سرعة الموجات المستوية (v) في الطبقات المختلفة وسلك هذه الطبقات يتبع الآتى :

١- يتم الحصول على زمن وصول أول موجة  $t_1, t_2, t_3, \dots$  على مسافات مختلفة  $X_1, X_2, \dots$  من نقطة الصدمة.

٢- ترسم علاقة الزمن - المسافة شكل (١-٤٩ ب).

٣- تعين ميول الخطوط ab, bc, cd, ..... ،

$$\text{Slope of } ab = \frac{1}{v_1}$$

$$\text{Slope of } bc = \frac{1}{v_2}$$

$$\text{Slope of } cd = \frac{1}{v_3}$$

حيث  $v_1, v_2, v_3$  هي سرعة الموجات المستوية في الطبقات I, II, III ، على التوالي، شكل (١-٤٩ أ).

٤- يعين سمك الطبقة العلوية  $Z_1$  من :

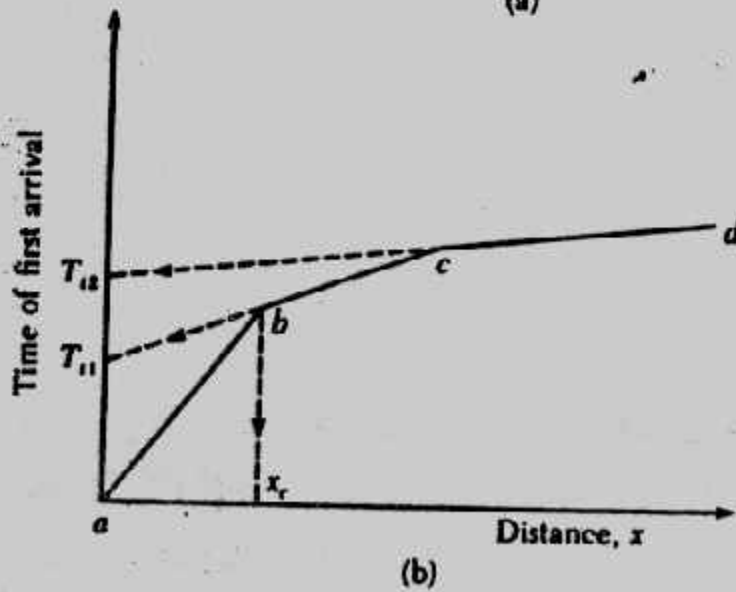
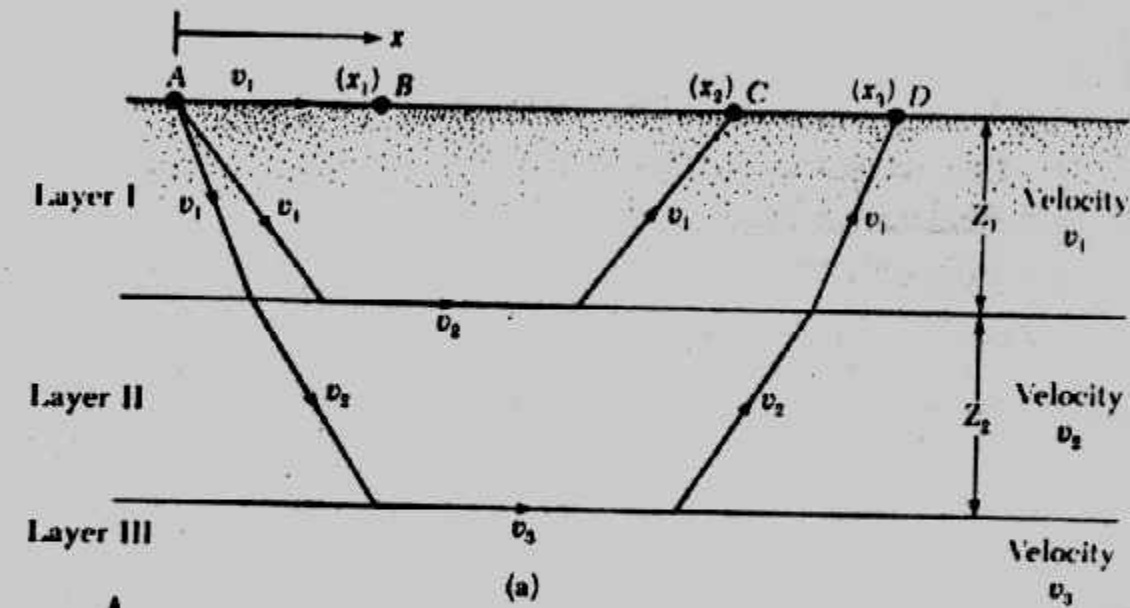
$$Z_1 = \frac{1}{2} \sqrt{\frac{v_2 - v_1}{v_2 + v_1}} x_c \quad (1-16)$$

حيث  $x_c$  تعين من رسم علاقة الزمن - المسافة .

٥- يعين سمك الطبقة الثانية  $Z_2$  من :

$$Z_2 = \frac{1}{2} \left[ T_{12} - 2Z_1 \frac{\sqrt{v_3^2 - v_1^2}}{v_3 \cdot v_1} \right] \frac{v_3 \cdot v_2}{\sqrt{v_3^2 - v_2^2}} \quad (1-17)$$

حيث  $T_{12}$  تعين من رسم علاقة الزمن - المسافة .



شكل (١-٤٩): المسح بالانعكاس الزلزالي .

وبمعرفة سرعة الموجات المستوية في الطبقات المختلفة يمكن التعرف على نوع التربة أو الصخر المتواجد تحت سطح الأرض مباشرة. وبين جدول (١-١٤) سرعة الموجات المستوية لبعض أنواع التربة المختلفة. وعند تحليل نتائج هذه الطريقة يجب مراعاة أن  $v_3 < v_2 < v_1$  عند استخدام المعادلات المذكورة في هذه الطريقة. كما يجب معرفة أن التربة المشبعة بالماء تحت منسوب المياه الجوفية تعطي نتائجاً خادعة. وسرعة الموجات المستوية في الماء هي ١٥٠٠ م/ثانية. وللتربة الجافة أو المتباعدة Loose تكون سرعة الموجات أقل من ١٥٠٠ م/ثانية بينما في حالة التربة المشبعة تكون سرعة الموجات حول ١٥٠٠ م/ثانية حيث تنتشر الموجات خلال الماء الموجود في فراغات التربة.

جدول (١-١٤): سرعة الموجات المستوية في التربة والصخور المختلفة.

Range of P-Wave Velocity in Various Soils and Rocks

Type of soil or rock	P-wave velocity	
	(m/sec)	ft/sec
<b>Soil</b>		
Sand, dry silt, and fine-grained top soil	200 to 1,000	650- 3,300
Alluvium	500 to 2,000	1,650- 6,600
Compacted clays, clayey gravel, and dense clayey sand	1,000 to 2,500	3,300- 8,200
Loess	250 to 750	800- 2,450
<b>Rock</b>		
Slate and shale	2,500 to 5,000	8,200-16,400
Sandstone	1,500 to 5,000	4,900-16,400
Granite	4,000 to 6,000	13,100-19,700
Sound limestone	5,000 to 10,000	16,400-32,800

وهذه الطريقة صالحة الاستخدام حتى أعماق ٤٠ متراً.

### Example 1-3 :

The results of a refraction survey at a site are given in the following table. Determine the velocity of P-waves and the thickness of the material encountered.

Distance from the source of disturbance (m)	Time of first arrival (sec × 10 <sup>3</sup> )
2.5	11.2
5	23.3
7.5	33.5
10	42.4
15	50.9
20	57.2
25	64.4
30	68.6
35	71.1
40	72.1
50	75.5

**Solution : Velocity :** In Fig. (1-50) the time of first arrival are plotted against the distance from the source of disturbance. The plot has three straight-line segments. The velocity of the top three layers can now be calculated in the following manner :

$$\text{Slope of segment } 0a = \frac{1}{v_1} = \frac{\text{time}}{\text{distance}} = \frac{23 \times 10^{-3}}{5.25}$$

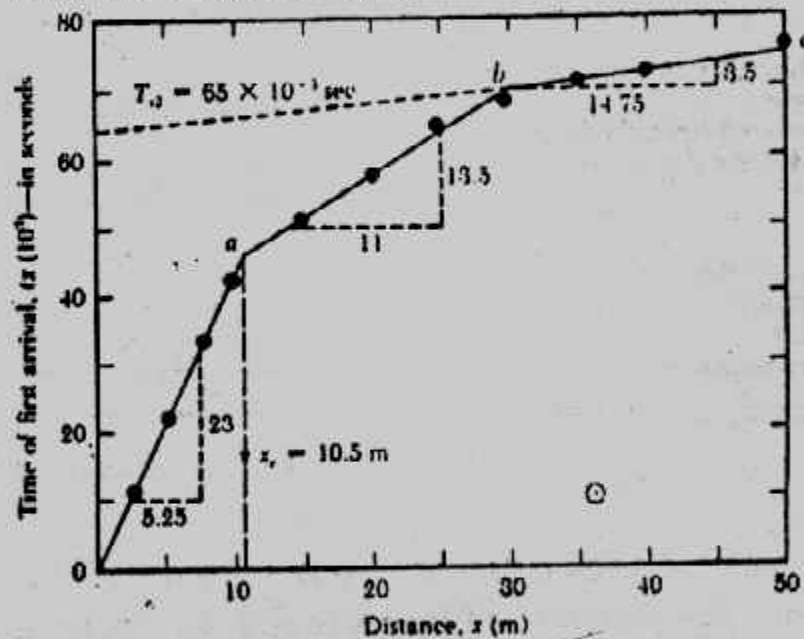
or  $v_1 = \frac{5.25 \times 10^3}{23} = 228 \text{ m/sec (top layer)}$

$$\text{Slope of segment } ab = \frac{1}{v_2} = \frac{13.5 \times 10^{-3}}{11}$$

or  $v_2 = \frac{11 \times 10^3}{13.5} = 814.8 \text{ m/sec (middle layer)}$

$$\text{Slope of segment } bc = \frac{1}{v_3} = \frac{14.75 \times 10^{-3}}{3.5}$$

$v_3 = 4214 \text{ m/sec (third layer)}$



شكل (١-٥٠): مثال - علاقة الزمن والمسافة

#### Example 1-4 :

Comparing the velocities obtained here with those given in Table (1-14) it appears that the third layer is a rock layer.

Thickness of layers.

From Fig. (1-50),  $x_c = 105 \text{ m}$ . So

$$Z_1 = \frac{1}{2} \sqrt{\frac{v_2 - v_1}{v_2 + v_1}} x_c \quad [\text{Eq. 1-16}]$$

$$\text{So } Z_1 = \frac{1}{2} \sqrt{\frac{814.8 - 228}{814.8 + 228}} \times 10.5 = 3.94 \text{ m}$$

Again, from Eq. (1-17)

$$Z_2 = \frac{1}{2} \left[ T_{12} - \frac{2Z_1 \sqrt{v_3^2 - v_1^2}}{(v_3 \cdot v_1)} \right] \frac{(v_3)(v_2)}{\sqrt{v_3^2 - v_2^2}}$$

The value of  $T_{12}$  can be determined from Fig. (1-44) as  $65 \times 10^{-3}$  sec.

$$\begin{aligned} \text{So } Z_2 &= \frac{1}{2} \left[ 65 \times 10^{-3} - \frac{2(3.94) \sqrt{(4214)^2 - (228)^2}}{(4214)(228)} \right] \frac{(4214)(814.8)}{\sqrt{(4214)^2 - (814.8)^2}} \\ &= \frac{1}{2} (0.065 - 0.0345) 830.47 = 12.66 \text{ m} \end{aligned}$$

Hence, the rock layer is located at a depth of  $Z_1 + Z_2 = 3.94 + 12.66 = 16.60 \text{ m}$  measured from the ground surface.

## ٢- المسح الزلزالي بالحفر المقطعية Cross-Hole Seismic Survey

سرعة موجات القص S-waves الناتجة عن أحداث صدمة على التربة يمكن تعيينها بالمسح الزلزالي بالحفر المقطعية، شكل (١-٥) حيث يتم ثقب حفرتين في التربة المسافة بينهما هي  $L$  وفي قاع أحد الحفرتين يتم أحداث نبضة (أو ضربة) Impulse بواسطة قضيب النبض وتستقبل موجات القص الناتجة عن النبضة بواسطة محول طاقة حساس Transducer وتعين سرعة موجات القص  $v_s$  من :

$$v_s = \frac{L}{t} \dots\dots\dots (1-18)$$

Where :  $t$  = travel time of shear waves

كما يمكن تعيين معامل الجساءة للتربة (معامل القص) من سرعة الموجات :

$$v_s = \sqrt{\frac{G}{\left(\frac{\gamma}{g}\right)}} \dots\dots\dots (1-19)$$

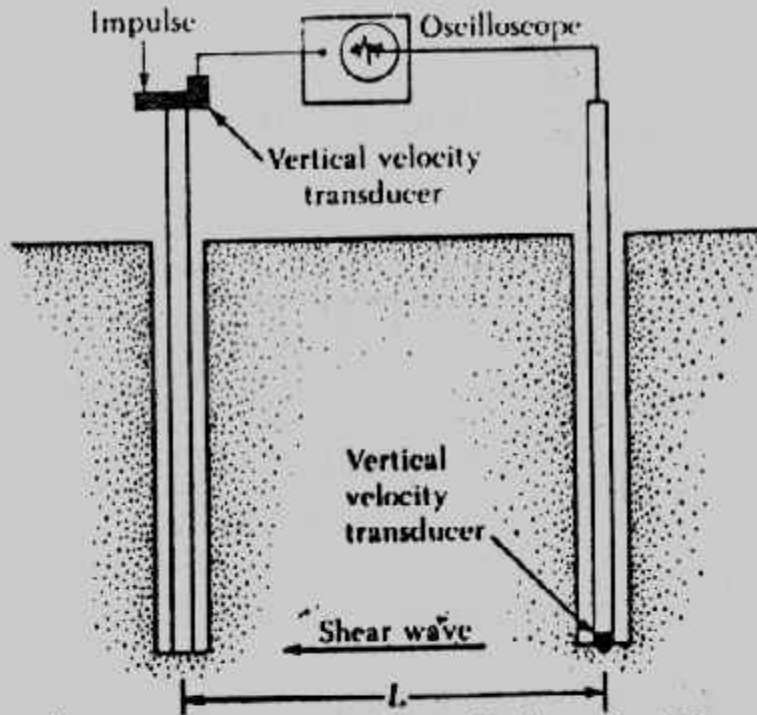
$$G = \frac{v_s^2 \gamma}{g} \dots\dots\dots (1-20)$$

where  $G$  = shear modulus of soil

$\gamma$  = soil unit weight

$g$  = acceleration due to gravity





شكل (١-٥١): المسح الزلزالي بالحفر المقطعية.

٣- المسح بالانعكاس الزلزالي :

تستخدم هذه الطريقة لاستكشاف الطبقات التى يزيد عمقها عن ٣٠٠ مترا من سطح الأرض وهى أكثر استخداما فى عمليات البحث عن البترول .

ثانيا : طرق الاستكشاف بالمسح الكهربى :

تختلف الخواص الكهربائية للتربة المكونة للقشرة الأرضية سواء كانت مفككة أو متماسكة . ويتوقف توصيل التربة للكهرباء على عوامل عديدة منها حجم الفراغات وحجم ونوع السوائل بها . وكذلك تختلف فى مقاومتها لمرور التيار الكهربى بها . ومن طرق المسح الكهربى طريقة المقاومة وطريقة الجهد المتساوى .

١- المسح بالمقاومة الكهربائية Electrical Resistivity Survey :

المقاومة الكهربائية P لأى وسط طوله L ومساحة مقطعة A تعرف كما يلى :

$$P = \frac{RA}{L} \dots\dots\dots(1-21)$$

where R = electrical resistance

والمقاومة الكهربائية لأنواع التربة المختلفة تعتمد أساسا على المحتوى المائى للتربة وعلى تركيز الأيونات المتحللة بها . والطين المشبع له أقل مقاومة كهربية وعلى العكس فإن التربة الجافة والصخر لهما أعلى مقاومة كهربية . ويعطى جدول (١-١٥)، و جدول (١-١٦) المقاومة الكهربائية لبعض أنواع التربة .

وأغلب طرق قياس المقاومة الكهربائية للتربة تستخدم أربعة أقطاب Electrode تدفن على سطح التربة على مسافات متساوية على خط واحد (Wenner Method) . والقبطان الخارجيان

جدول (١-١٥): المقاومة الكهربائية لبعض الأنواع الرئيسية للتربة.

Material	Resistivity (ohm-m)
Sand	500-1500
Clays, saturated silt	0- 100
Clayey sand	200- 500
Gravel	1500-4000
Weathered rock	1500-2500
Sound rock	> 5000

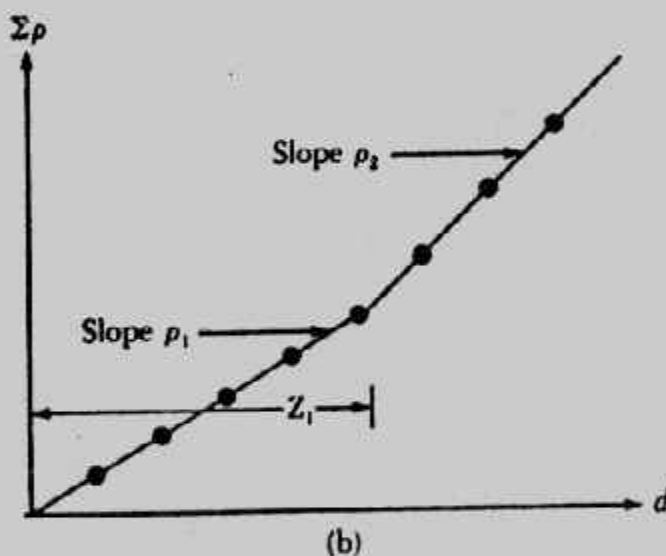
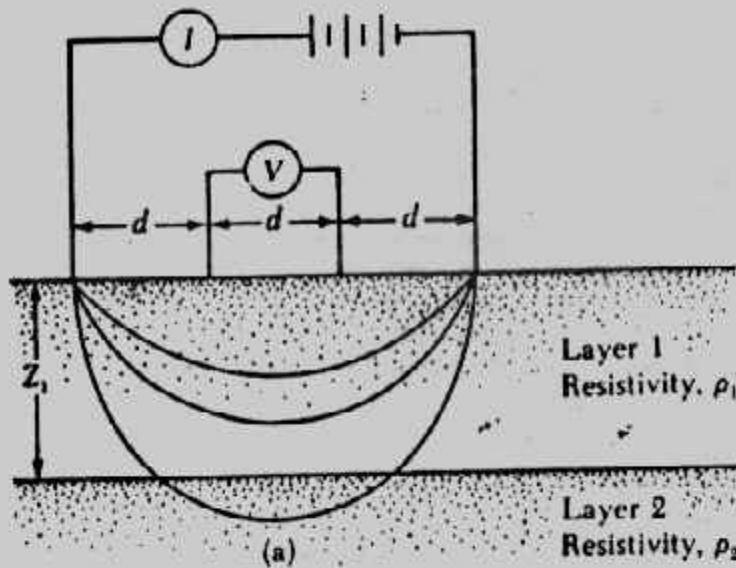
جدول (١-١٦): المقاومة الكهربائية للتربة والصخور.

Material	Resistivity in Ohm-meters
Saturated organic clay or silt	5-20
Saturated inorganic clay or silt	10-50
Hard, partially saturated clays and silts:	
saturated sands and gravels	50-150
Shales, dry clays, and silts	100-500
Sandstones, dry sands, and gravels	200-2000
Crystalline rocks, sound	1,000-10,000

يستخدمان لمرار التيار الكهربى بهما I للتربة . ويكون التيار فى حدود من ٥٠ إلى ١٠٠ ميللى أمبير . وفرق الجهد V يقاس خلال القطبين الداخلين . وفى حالة تجانس التربة تكون المقاومة الكهربائية .

$$P = \frac{2\pi V}{I} \dots\dots\dots (1-22)$$

فى أغلب الحالات تتكون التربة من عدة طبقات مختلفة لها مقاومات مختلفة . وفى هذه الحالة فإن المقاومة الناتجة من المعادلة السابقة تعطى المقاومة الظاهرة (أو المجمعة) . ولإيجاد المقاومة الفعلية للطبقات المختلفة وتخاناتها فإنه تستخدم طريقة عملية . وهذه الطريقة تتلخص فى إجراء اختبار المقاومة على مسافات بين الأقطاب مختلفة أى أن d هنا متغيرة ويمكن تجميع المقاومات الظاهرية وتمثيلها مع المسافة d كما هو مبين بالشكل (١-٥١ أ) وسوف ينتج من العلاقة خطوط مستقيمة ويكون ميل هذه الخطوط معبرا عن المقاومة المفردة للطبقة الواحدة . أما سمك هذه الطبقات فيمكن تقديره كما هو مبين فى شكل (١-٥١ ب) . وهذه الطريقة مفيدة جدا فى حالة الطبقات الزلزالية المتداخلة فى التربة الناعمة . كما أن هذه الطريقة تستخدم على نطاق واسع فى حل كثير من المشكلات الهندسية مثل تعيين عمق الصخور الصلبة ومعرفة نوع التراكيب الجيولوجية تحت السطحية والتي قد تؤثر لدرجة كبيرة على تصميم وتنفيذ المنشآت الكبيرة كالسدود والخزانات وتقسيم الطبقات تحت السطحية من الناحية الهندسية إلى تربة وصخور



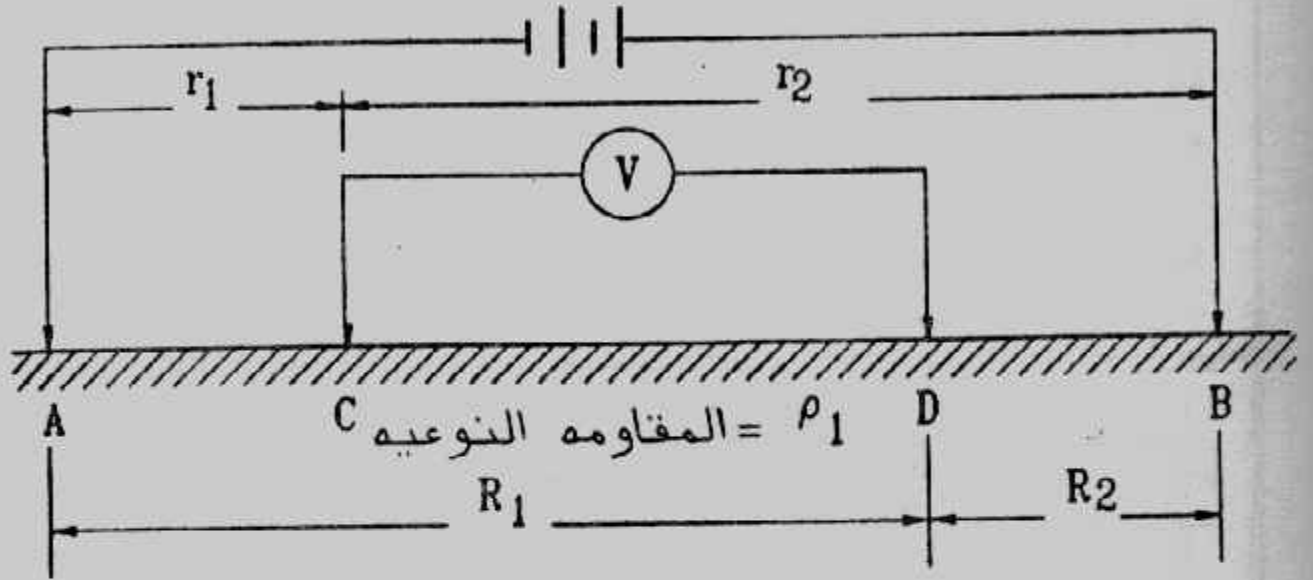
Electrical resistivity survey: (a) Wenner method; (b) empirical method for determination of resistivity and thickness of each layer

شكل (١-٥١): طريقة المسح بالمقاومة الكهربائية.

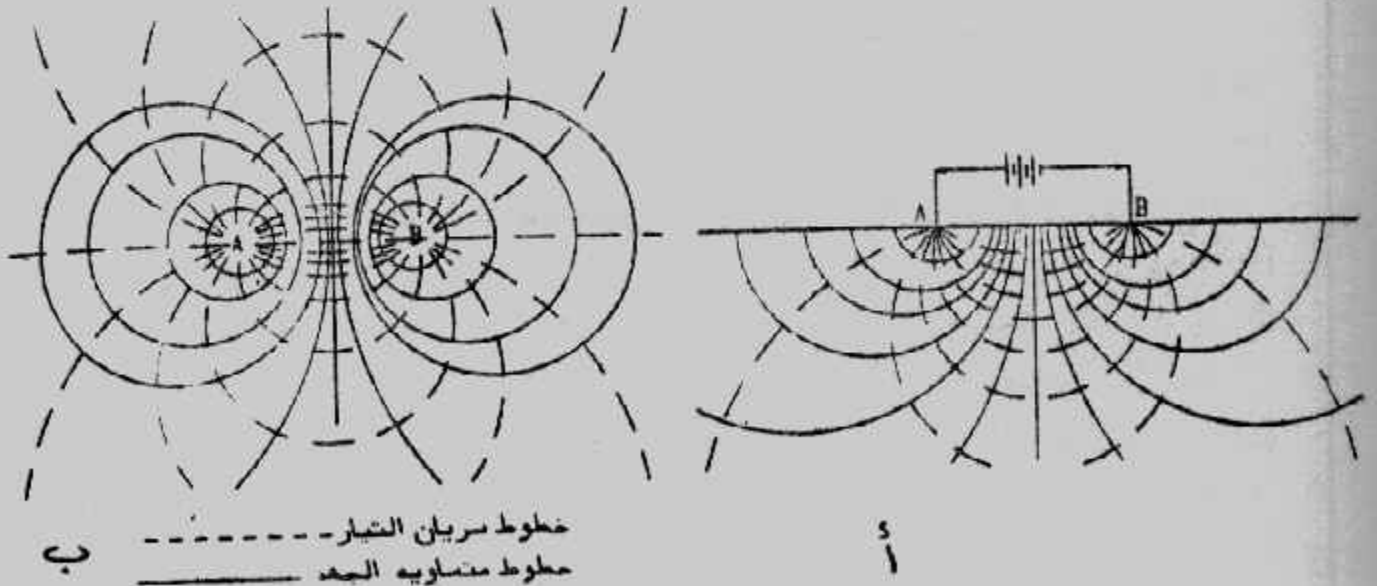
## ٢- طريقة الجهد المتساوى Equipotential Method :

يتم إمرار تيار كهربى فى الأرض بواسطة قطبى التيار فيمر التيار بينهما نتيجة لاختلاف الجهد ويتم رسم خطوط الجهد المتساوى بواسطة قطبين غير مستقيبين متصلين بمكبر يصل إلى سماعات خاصة، شكل (١-٥٢). ويبقى أحد القطبين مثبتاً فى الأرض بينما يحرك القطب الآخر حتى تستقبل فى السماعات أدنى درجة من الصوت وفى هذه النقطة يكون القطبان على نفس خط الجهد المتساوى. وفى حالة التربة المتجانسة تكون خطوط الجهد المتساوى متماثلة

فى توزيعها حول القطبين، شكل (٥٣-١)، أما فى حالة وجود صخور جيدة أو رديئة التوصيل الكهربى فى التربة فإنه ينشأ إنحراف فى خطوط الجهد المتساوى، شكل (٥٤-١)، وفى حالة الصخور جيدة التوصيل الكهربى فإن خطوط التيار تتجذب إليها بينما تتنافر منحنيات الجهد المتساوى، بينما يحدث عكس ذلك فى حالة الصخور رديئة التوصيل الكهربى واستكشاف التربة بهذه الطريقة مناسب لدراسة التكاوين الجيولوجية التى تفضلها حدود رأسية أو شديدة الانحدار وقليل ما تستخدم هذه الطريقة فى أعمال الهندسة المدنية.

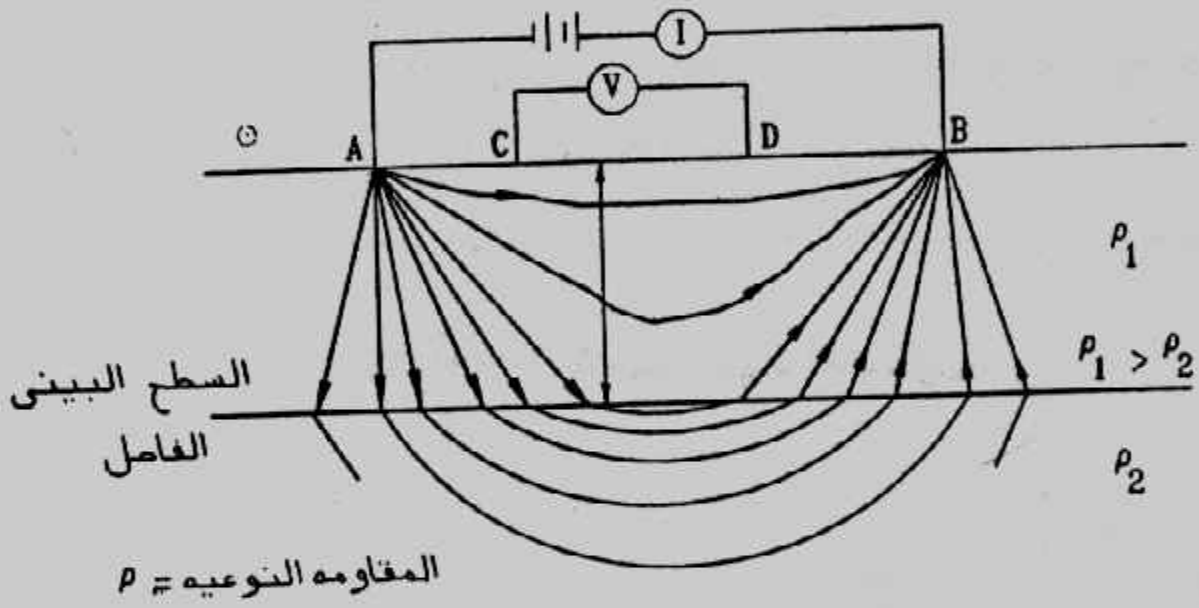


شكل (٥٢-١): طريقة الجهد المتساوى.



شكل (٥٣-١): خطوط الجهد المتساوى فى حالة الأرض المتجانسة.

١- أسفل سطح الأرض فى المستوى الرأسى للأقطاب، ب- على مستوى سطح الأرض - الأقطاب عند A, B.



شكل (١-٥٤): خطوط سريان التيار بين القطبين A, B في تربة ذات طبقتين



## الباب الثانى

### قدرة التحمل Bearing Capacity

#### مقدمة :

عندما يقوم المهندس المصمم بأعمال تصميم الأساسات أى تحديد أبعادها وتسليحها بالإضافة إلى عمق التأسيس فإنه يحتاج إلى معرفة مقدار ما تتحمله تربة التأسيس من أحمال وهو ما يطلق عليه قدرة التحمل (أو جهد التربة) .

والأساسات السطحية المصممة يجب أن تحقق ما يلى :

أ- أن تكون آمنة تماما ضد الإنهيار بالقص للتربة الحاملة لها .

ب- أن لا تتعرض الأساسات للحركة أو للهبوط الضارين .

وفى هذا الباب نعرض الطرق المختلفة لتقدير قدرة تحمل التربة كما نلخص طرق

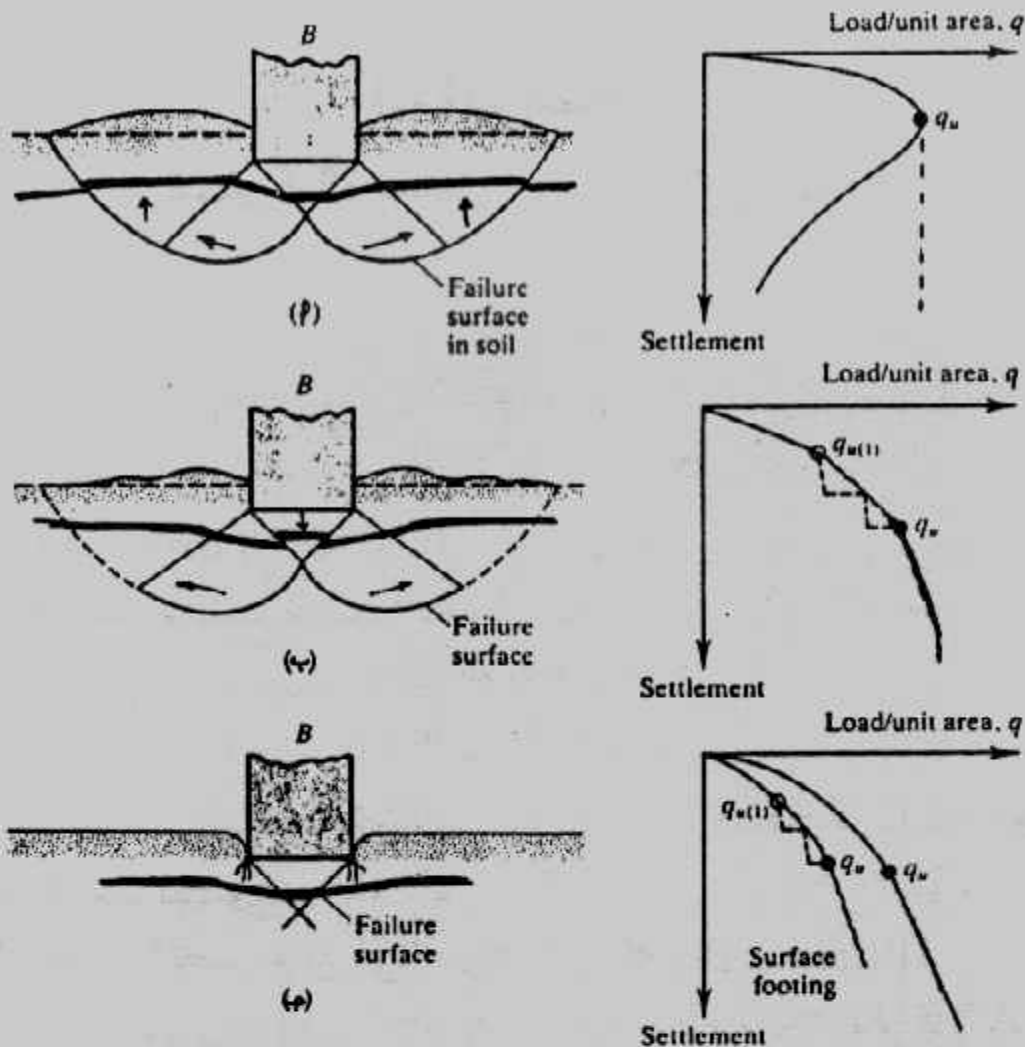
حساب الهبوط والقيم المسموح بها له .

#### قدرة التحمل القصوى Ultimate Bearing Capacity

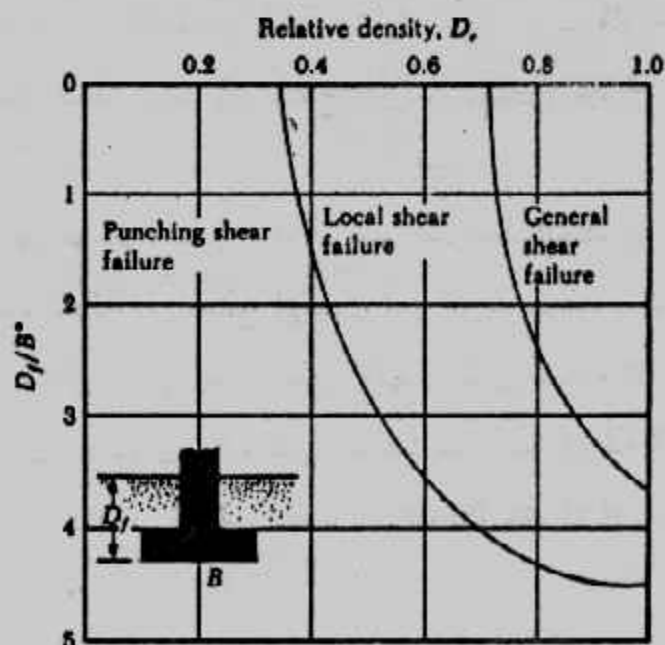
إذا اعتبرنا أساس شريطى مرتكز على سطح تربة ناعمة جامدة أو على رمل متقارب كما هو مبين بالشكل (٢-١) وليكن عرض هذا الأساس هو  $B$  مع زيادة الحمل على الأساس يزداد معدل الهبوط وعند الوصول لقيمة  $q_u$  (الحمل بالنسبة لوحدة المساحة) تنهار التربة الحاملة للأساس فجأة ويمتد سطح الإنهيار إلى سطح التربة . وهذه القيمة للإجهاد  $q_u$  التى حدث عندها الإنهيار تسمى قدرة التحمل القصوى للأساس (وقد تسمى جهد التربة الأقصى) . وفى هذه الحالة وعندما يحدث الانهيار فجأة ويمتد إلى سطح الأرض يسمى انهيار عام بالقص General Shear Failure .

أما إذا كان الأساس مرتكزا على رمل أو طين متوسط الدمك فإن زيادة الحمل يصاحبها زيادة فى الهبوط . وفى هذه الحالة فإن سطح الإنهيار فى التربة سوف يمتد لخارج الأساس ، شكل (٢-١ب) وحركة الأساس مطلوبة لكى يمتد سطح الإنهيار إلى سطح الأرض (الجزء المنكسر) وهذا يحدث عند قدرة التحمل القصوى  $q_u$  والتى بعدها يصاحب زيادة الحمل زيادة كبيرة فى الهبوط ويسمى هذا الانهيار بالانهيار المحلى بالقص Local shear failure

وإذا كان الأساس على رمل متباعد أو تربة غير مدموكة فإن علاقة الحمل بالهبوط تكون كما فى شكل (٢-١ج) حيث لا يمتد سطح الانهيار إلى سطح الأرض وبعد الوصول إلى



شكل (٢-١): طبيعة انهيار قدرة التحمل (أ) انهيار القص العام (ب) انهيار القص المحلي (ج) انهيار القص الخارقي



شكل (٢-٢): نماذج انهيار الأساسات في الرمل

قدرة التحمل القصوى  $q_{lu}$  تكون علاقة الحمل - الهبوط خط مستقيم مائل وهذا النوع من الانهيار يسمى بالانهيار القص الثاقب Punshing shear failure .

وبناء على نتائج معملية قدم العالم فيزك تقسيما للحالات التى يحدث بها أنواع الانهيارات السابقة للرمل فى شكل (٢-٢) حيث  $B^*$  فى الشكل تعين من العلاقة الآتية :

$$B^* = \frac{2BL}{B + L} \dots\dots\dots (2-1)$$

Where :  $B$  = width of foundation

$L$  = length of foundation

(Note :  $L$  is always greater than  $B$ .)

$D_r$  = relative density of sand

$D_f$  = depth of foundation measured from the ground surface.

وللأساس المربع يكون  $B = L$  وللأساس الدائرى :

$$B^* = B \quad \text{وتكون} \quad B = L = \text{القطر}$$

ولقد وجد للأساسات القريبة من سطح الأرض حيث  $D_r / B$  تكون صغيرة فإن الانهيار بالقص العام يحدث عند ٤-١٠٪ من قيمة العرض  $B$  والانهيار بالقص المحلى أو بالقص الثاقب يحدث عند ١٥-٢٥٪ من قيمة  $B$  عرض الأساس .

### تعيين قدرة التحمل : Determination of Bearing Capacity

تعيين قدرة التحمل إما بالمعادلات الحسابية أو من التجارب الموقعية . والمعادلات الحسابية تعتمد على التحليل النظرى لحركة الأساس فى التربة وتوجد معادلات كثيرة ومتنوعة فى هذا المجال وسوف نستعرض أهمها فى الفقرات التالية . أما تعيين قدرة التحمل من التجارب الموقعية فيتم من تجارب التحميل والاختراق القياسى والاختراق الديناميكى وسوف نقدم هذه الطرق أيضا فى هذا الباب .

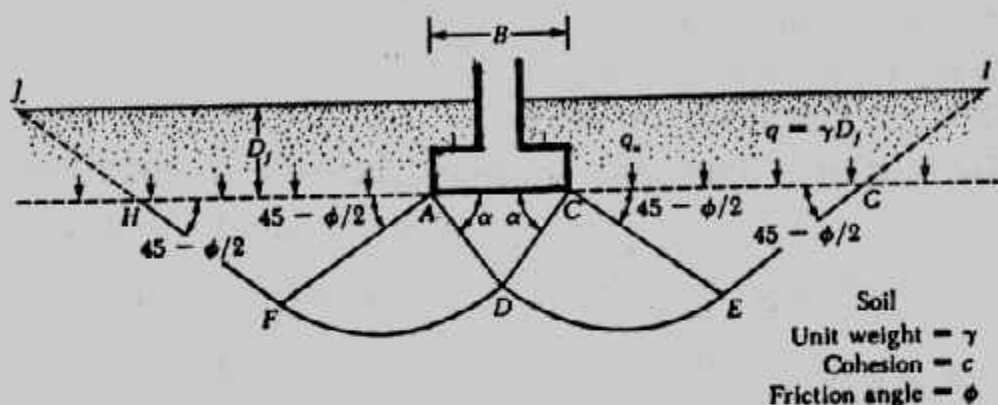
### معادلة ترزاجى لقدرة التحمل :

#### Terzaghi's Bearing Capacity Equation

قدم ترزاجى (١٩٤٣) نظرية لقدرة التحمل للأساسات السطحية . ويعتبر ترزاجى الأساس سطحى Shallow إذا كان  $B \leq D_f$  ، شكل (٢-٣) بينما اعتبر العلماء حديثا أن الأساس يكون سطحيا إذا كان  $D_f \leq 3 \rightarrow 4B$  .

ولقد درس ترزاجى الأساس الشريطى الممتد Strip footing وقدم شكل الانهيار كما هو بشكل (٢-٣) . ولقد استعاض ترزاجى عن التربة فوق منسوب التأسيس بحمل موزع  $q$  . ومنطقة الإتهيار أسفل الأساس يمكن تقسيمها إلى ثلاث مناطق :

- ١- المثلث ACD تحت الأساس مباشرة وهي تسمى Triangular zone
  - ٢- المناطق ADF, CDE بمنحنيات حلزونية لوجارتمية وتسمى هذه المناطق بمناطق القص القطري Radial shear zones
  - ٣- المثلثات AFH, CEG وهي تسمى مناطق رانكين المقاومة Rankine passive zones
- ويلاحظ أن الزوايا CAD, ACD هي زاوية الإحتكاك الداخلي للتربة. كما يلاحظ أن ترزاجي قد أهمل مقاومة القص للتربة على الطولين HL, GI



شكل (٢-٣): إتهيار قدرة التحمل تحت أساس شريطي ممتد.

ومن دراسة الإتهيار قدم ترزاجي المعادلة الآتية لحساب قدرة التحمل للأساس الشريطي:

$$q_u = cN_c + qN_q + \frac{1}{2}\gamma BN_\gamma \quad (\text{Strip foundation}) \quad (2-2)$$

Where :  
 $c$  = cohesion of soil.  
 $\gamma$  = unit weight of soil.  
 $q = \gamma D_f$

$N_c, N_q, N_\gamma$  = bearing capacity factors that are nondimensional and are only functions of the soil friction angle,  $\phi$

ومعاملات قدرة التحمل تعرف من المعادلات الآتية :

$$N_c = \cot \phi \left[ \frac{e^{2(3\pi/4 - \phi/2) \tan \phi}}{2 \cos^2 \left( \frac{\pi}{4} + \frac{\phi}{2} \right)} - 1 \right] \quad (2-3)$$

$$N_q = \frac{e^{2(3\pi/4 - \phi/2) \tan \phi}}{2 \cos^2 \left( 45 + \frac{\phi}{2} \right)} \quad (2-4)$$

$$N_r = \frac{1}{2} \left( \frac{K_{py}}{\cos^2 \phi} - 1 \right) \tan \phi \dots (2-5)$$

Where :  $K_{py}$  = passive pressure coefficient.

كما أن هذه المعاملات يمكن إيجادها مباشرة من شكل (٢-٤).

ولتعيين قدرة تحمل الأساسات المربعة أو الدائرية تستخدم العلاقات الآتية :

$$q_u = 1.3cN_c + qN_q + 0.4\gamma BN_r \quad (\text{Square foundation}) \dots (2-6)$$

$$q_u = 1.3cN_c + qN_q + 0.3\gamma BN_r \quad (\text{Circular foundation}) \dots (2-7)$$

حيث B فى المعادلة (2-6) هى طول ضلع الأساس، B قطر الأساس الدائرى فى المعادلة (2-7)

وبالنسبة لحالة الانهيار بالقص المحلى فإن نرزاچى اقترح استخدام المعادلات السابقة

ولكن بأخذ  $C'$  ,  $\phi'$  حيث :

$$C' = \frac{2}{3} C, \quad \phi' = \tan^{-1} \left( \frac{2}{3} \tan \phi \right) \dots (2-8)$$

أو يمكن استخدام المعادلات الآتية :

$$q_u = 0.667cN'_c + qN'_q + 0.5\gamma BN'_r \quad (\text{Strip foundation}) \dots (2-9)$$

$$q_u = 0.867cN'_c + qN'_q + 0.4\gamma BN'_r \quad (\text{Square foundation}) \dots (2-10)$$

$$q_u = 0.867cN'_c + qN'_q + 0.3\gamma BN'_r \quad (\text{Circular foundation}) \dots (2-11)$$

وتؤخذ فى هذه المعادلات معاملات قدرة التحمل المعدلة من شكل (٢-٥) باستخدام

زاوية الاحتكاك الداخلى  $\phi$

ولقد قام فيزك بتعديل قيم المعامل المعدل  $N'_q$  بناء على تجارب متعددة وهو معطى

على شكل (٢-٥) على شكل منحنى منقط كما يمكن تعيينه من المعادلة الآتية:

$$N'_q = (e^{1.8\phi \tan \phi}) \tan^2 \left( 45 + \frac{\phi}{2} \right) \dots (2-12)$$

كما يعطى جدول (٢-١) معاملات قدرة التحمل فى حالة الإتهيار بالقص العام.

## تأثير المياه الجوفية على قدرة التحمل:

### Effect of Water Table on Bearing Capacity

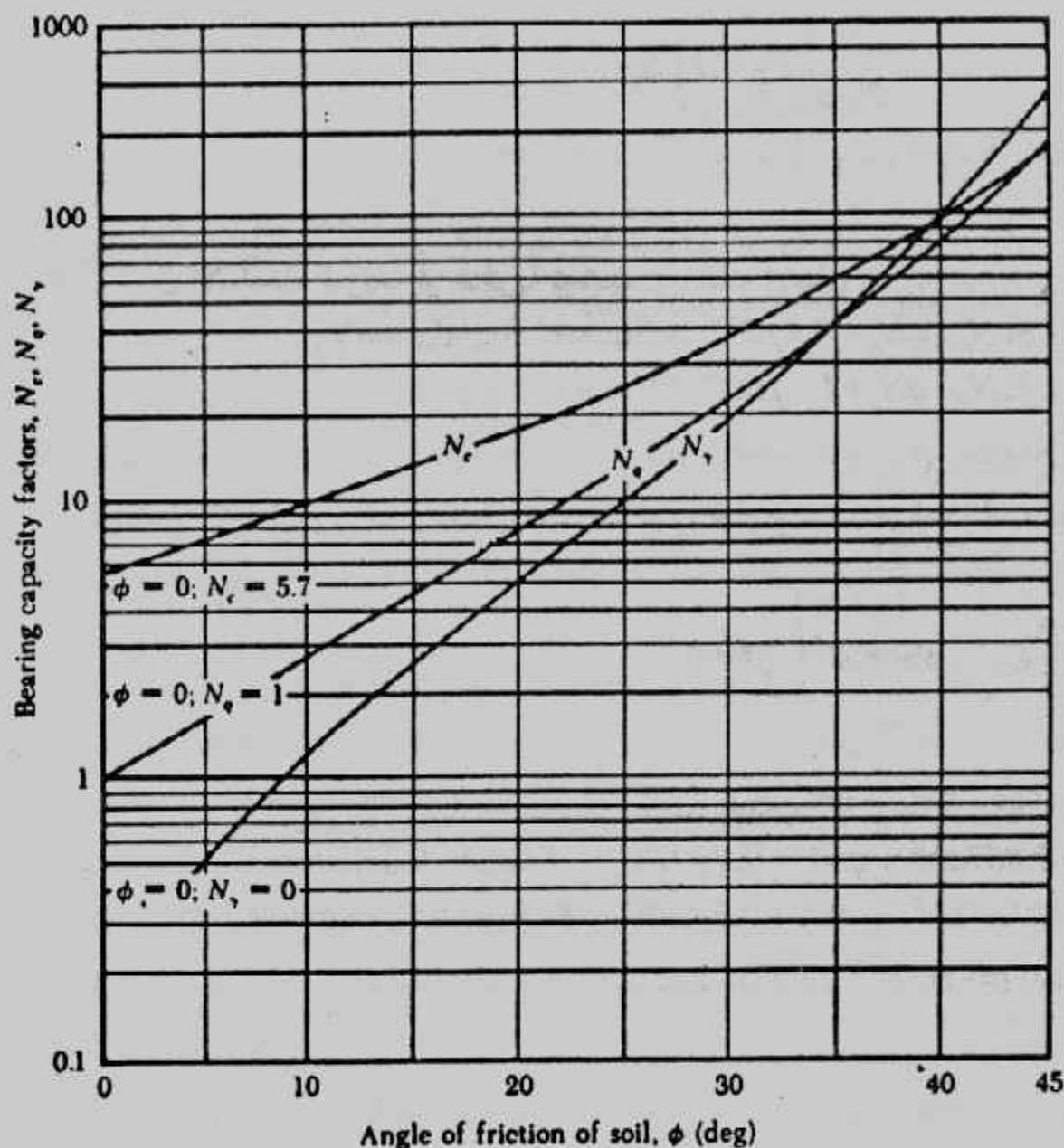
فى معاملات نرزاچى لقدرة التحمل يوجد جزئين من الأجزاء الثلاثة للمعادلات يضم

كثافة التربة وبذلك فإن كثافة التربة تؤثر على قدرة التحمل وفى الجزء الثانى من أى معادلة يكون

تأثير كثافة التربة المتواجدة فوق مستوى التأسيس وفى الجزء الثالث يكون تأثير كثافة التربة

المتواجدة أسفل منسوب التأسيس :





Terzaghi's bearing capacity factors for general shear failure.

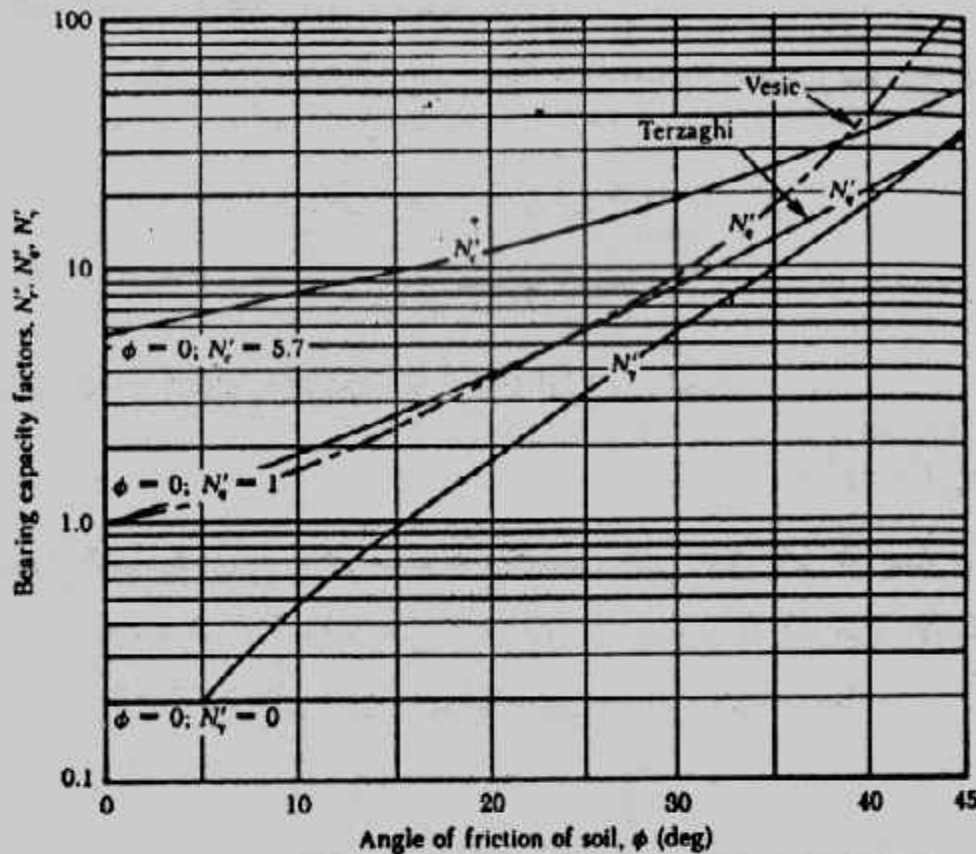
شكل (٢-٤): تعيين معاملات قدرة التحمل (انهيار بالقص العام)

Bearing-capacity factors for the Terzaghi equations

Values of  $N_\gamma$  for  $\phi$  of 34 and 48° are original Terzaghi values and used to back-compute  $K_p$ ,  $t = 1.5\phi + 1$ .

$\phi$ , deg	$N_c$	$N_q$	$N_\gamma$	$K_p$
0	5.71	1.0	0.0	10.8
5	7.3	1.6	0.5	12.2
10	9.6	2.7	1.2	14.7
15	12.9	4.4	2.5	18.6
20	17.7	7.4	5.0	25.0
25	25.1	12.7	9.7	35.0
30	37.2	22.5	19.7	52.0
34	52.6	36.5	36.0	
35	57.8	41.4	42.4	82.0
40	95.7	81.3	100.4	141.0
45	172.3	173.3	297.5	298.0
48	258.3	287.9	780.1	
50	347.5	415.1	1153.2	800.0

جدول (٢-١): معاملات قدرة التحمل لترازي.



Terzaghi's modified bearing capacity factors:  $N_c$ ,  $N_q$ ,  $N_\gamma$  and Vesic's  $N_c$ .

شكل (٢-٥): تعيين معاملات قدرة التحمل المعدلة (الانهيار بالقص المحلى)

$$q_u = cN_c + qN_q + \frac{1}{2}\gamma BN_\gamma$$

تأثير التربة أسفل منسوب      تأثير التربة فوق منسوب      تأثير التماسك للتربة تحت  
التأسيس (جزء العرض      التأسيس (جزء العمق)      الأساس (جزء التماسك  
والاختراق)       $q = \gamma_1 D$       على خط الانهيار DFH

وهذا يعنى أن  $\gamma_1$  هى وحدة الأوزان للتربة فوق منسوب التأسيس و  $\gamma$  هى وحدة الأوزان للتربة تحت منسوب التأسيس. ومعادلات ترزاغى بشكلها السابق بنيت على أساس وجود المياه الجوفية على أعماق كبيرة أسفل منسوب التأسيس. ولكن وجود المياه الجوفية فوق منسوب التأسيس أو قريباً منه يؤثر على تركيب معادلات ترزاغى.

أ- وجود المياه الجوفية فوق منسوب التأسيس :

حيث  $D_1 < D_f$  فى شكل (٢-٦) وتكون  $q$  فى معادلات ترزاغى فى هذه الحالة :

$$q = \text{effective surcharge} = D_1\gamma + D_2(\gamma_{\text{sat}} - \gamma_w) \quad (2-13)$$

Where :  $\gamma_{\text{sat}}$  = saturated unit weight of soil.

$\gamma_w$  = unit weight of water

وتكون وحدة الأوزان فى الجزء الأخير من المعادلات :

$$\gamma' = \gamma_{\text{sat}} - \gamma_w \quad (2-14)$$

ب- وجود المياه الجوفية أسفل منسوب التأسيس :

حينما تكون المياه الجوفية على عمق من منسوب التأسيس يتراوح بين صفر و B أى :

$$0 \leq d \leq B$$

وفى هذه الحالة لا يتأثر الجزء الثانى فى المعادلات أى

$$q = \gamma D_f \dots \dots \dots (2-15)$$

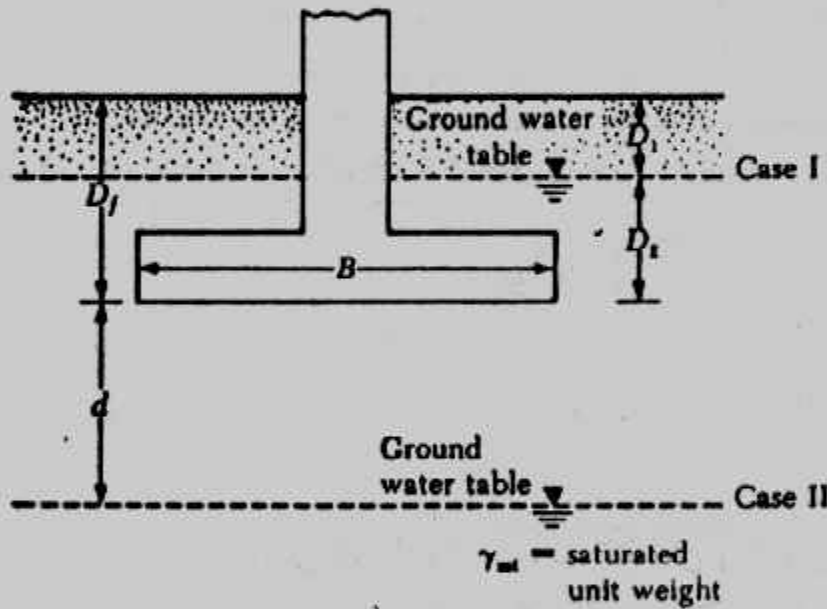
بينما يتأثر الجزء الثالث بالتعويض عن وحدة الأوزان بالقيمة

$$\bar{\gamma} = \gamma' + \frac{d}{B} (\gamma - \gamma') \dots \dots \dots (2-16)$$

ج- وجود المياه الجوفية أسفل منسوب التأسيس على عمق أكبر أو يساوى B :

إذا تواجد المياه الجوفية على عمق أكبر أو يساوى B (عرض الأساس) أسفل منسوب

التأسيس أى  $d \geq B$  فلا تأثير للمياه الجوفية على معادلات قدرة التحمل .



شكل (٢-٦): تأثير المياه الجوفية على قدرة التحمل .

#### Example (2-1):

A square foundation is 1.5 m x 1.5 m in plan. The soil supporting the foundation has a friction angle of  $\phi = 20^\circ$  and  $c = 15.2 \text{ kN/m}^2$ . The unit weight of soil,  $\gamma$ , is  $17.8 \text{ kN/m}^3$ . Determine the allowable gross load on the foundation with a factor of safety (FS) of 4. Assume that the depth of the foundation ( $D_f$ ) is 1 m and that general shear failure occurs in the soil.

**Solution :**

From Eq. (2-6)

$$q_u = 1.3cN_c + qN_q + 0.4\gamma B N_\gamma$$

From Figure (2-4) for  $\phi = 20^\circ$

$$N_c = 17.7$$

$$N_q = 7.4$$

$$N_\gamma = 5$$

Thus

$$q_u = (1.3) (15.2) (17.7) + (1 \times 17.8) (7.4) + (0.4) (17.8) (1.5) (5) \\ = 349.75 + 131.72 + 53.4 = 534.87 \approx 535 \text{ kN/m}^2$$

So, allowable load per unit area of the foundation =

$$q_{all} = \frac{q_u}{FS} = \frac{535}{4} = 133.75 \text{ kN/m}^2$$

Thus, the total allowable gross load

$$Q = (133.75) B^2 = (133.75) (1.5 \times 1.5) = 300.9 \approx 300 \text{ kN}$$

### Example 2-2 :

Repeat Example (2.1): Assuming that local shear failure occurs in the soil supporting the foundation

**Solution :**

From Eq. 2.10

$$q_u = 0.867 c N'_c + q N'_q + 0.4 \gamma B N'_\gamma$$

From figure (2.5) for  $\phi = 20^\circ$

$$N'_c = 12$$

$$N'_q = 4$$

$$N'_\gamma = 1.7$$

So :

$$q_u = (0.867) (15.2) (12) + (1 \times 17.8) (4) + (0.4) (17.8) (1.5) (1.7) \\ = 158.1 + 71.2 + 18.2 = 247.5 \text{ kN/m}^2$$

$$q_{all} = \frac{247.5}{4} = 61.9 \text{ kN/m}^2$$

$$\text{Allowable gross load} = Q = (q_{all}) (B^2) = (61.9) (1.5^2) = 139 \text{ kN}$$

معادلة مايرهوف لقدرة التحمل :

### Meyerhof's Bearing Capacity Equation

قدم ترزاجي ثلاث معادلات لأشكال الشريطي والمربع والدائري ولم يقدم معادلات للأساس المستطيل. كما أن المعادلات لم تأخذ في اعتبارها مقاومة القص على طول سطح الإنهيار فوق منسوب التأسيس كما أنها لم تأخذ في الاعتبار أيضا حالات الأحمال المائلة. ولقد بحث مايرهوف كل هذه الأمور، شكل (٢-٧)، وقدم معادلة عامة لحساب قدرة التحمل.

$$q_u = c N_c S_c d_c j_c + q N_q S_q d_q j_q + \frac{1}{2} \gamma B N_\gamma S_\gamma d_\gamma j_\gamma \dots\dots\dots (2-17)$$

Where:  $c$  = cohesion

$q$  = effective stress at the level of the bottom of foundation

$\gamma$  = unit weight of soil

$B$  = width of foundation (= diameter for a circular foundation)

$S_c, S_q, S_\gamma$  = shape factors,

معاملات الشكل



## معاملات العمق

## معاملات الميل

$$N_c = (N_q - 1) \cot \alpha \dots\dots\dots (2-19)$$

ويعطى جدول (٢-٢): معادلات لحساب معاملات الشكل والعمق والميل .

جدول (٢-٢): المعاملات المختلفة لمعادلة مايرهوف .

Factors	Value	For
Shape:	$s_1 = 1 + 0.2K_r \frac{B}{L}$	Any $\phi$
	$s_2 = s_1 = 1 + 0.1K_r \frac{B}{L}$	$\phi > 10^\circ$
	$s_2 = s_1 = 1$	$\phi = 0$
Depth:	$d_1 = 1 + 0.2\sqrt{K_r} \frac{D}{B}$	Any $\phi$
	$d_2 = d_1 = 1 + 0.1\sqrt{K_r} \frac{D}{B}$	$\phi > 10^\circ$
	$d_2 = d_1 = 1$	$\phi = 0$
Inclination:	$i_1 = i_2 = \left(1 - \frac{\theta^2}{90^\circ}\right)^2$	Any $\phi$
	$i_1 = i_2 = \left(1 - \frac{\theta^2}{\phi^2}\right)^2$	$\phi > 0$
	$i_1 = i_2 = 0$	$\phi = 0$

$\beta$  = angle of resultant measured from vertical without a sign  
B, L, D = previously defined



أما قيم معاملات قدرة التحمل فهي معطاه في جدول (٣-٢) .  
 جدول (٣-٢): معاملات قدرة التحمل لمعادلات ماير هوف وهاتزن وفيزك .

#### Bearing-capacity factors for the Meyerhof, Hansen, and Vesic bearing-capacity equations

Note that  $N_c$  and  $N_q$  are same for all three methods; subscripts identify author for  $N_\gamma$

$\phi$	$N_c$	$N_q$	$N_{MH}$	$N_{HM}$	$N_{MV}$	$N_\phi/N_c$	$2 \tan \phi (1 - \sin \phi)^2$
0	5.14	1.0	0.0	0.0	0.0	0.195	0.000
5	6.49	1.6	0.1	0.1	0.4	0.242	0.146
10	8.34	2.5	0.4	0.4	1.2	0.296	0.241
15	10.97	3.9	1.2	1.1	2.6	0.359	0.294
20	14.83	6.4	2.9	2.9	5.4	0.431	0.315
25	20.71	10.7	6.8	6.8	10.9	0.514	0.311
26	22.25	11.8	7.9	8.0	12.5	0.533	0.308
28	25.79	14.7	10.9	11.2	16.7	0.570	0.299
30	30.13	18.4	15.1	15.7	22.4	0.610	0.289
32	35.47	23.2	20.8	22.0	30.2	0.653	0.276
34	42.14	29.4	28.7	31.1	41.0	0.698	0.262
36	50.55	37.7	40.0	44.4	56.2	0.746	0.247
38	61.31	48.9	56.1	64.0	77.9	0.797	0.231
40	75.25	64.1	79.4	93.6	109.3	0.852	0.214
45	133.73	134.7	200.5	262.3	271.3	1.007	0.172
50	266.50	318.5	567.4	871.7	761.3	1.195	0.131

#### معادلة هاتزن لقدرة التحمل Hansen's Bearing Capacity Equation

قدم هاتزن (سنة ١٩٧٠) معادلة عامة لحساب قدرة التحمل لأي شكل وعمق وميل :

$$q_u = CN_c S_c d_c i_c g_c + q N_q S_q d_q i_q g_q + \frac{1}{2} \gamma B N_\gamma S_\gamma d_\gamma i_\gamma g_\gamma \dots \dots \dots (2-21)$$

$$N = \text{same as Meyerhof} = (N_q - 1) \cot \phi$$

$$N = \text{same as Meyerhof} = \tan^2 \left( 45 + \frac{\phi}{2} \right) e^{\pi \tan \phi}$$

$$N_\gamma = 1.5 (N_q - 1) \tan \phi \dots \dots \dots (2-22)$$

وهذه المعاملات معطاه في جدول (٣-٢) أو شكل (٨-٢) أما باقي المعاملات فمعطاه في جدول (٤-٢) . أما المعاملات  $g$  فهي تمثل ميل سطح الأرض بالنسبة للأساس . ونظرا لأهمية معادلة

هائزن لأنها أكثر المعادلات عمومية فلقد أعطيت معاملاتها على الأشكال (٢-٨)، (٢-١٠)، (٢-١١)، (٢-١٢) وجدول (٢-٥)، جدول (٢-٦).

### معادلة فيزك لحساب قدرة التحمل:

#### Vesic's Bearing Capacity Equation

قام فيزك (سنة ١٩٧٣، سنة ١٩٧٤) يعمل بعض التعديلات في معاملات قدرة التحمل

رغم استخدامه لمعادلة هائزن (2-21) ولكنه غير  $N\gamma$  لتصبح على النحو الآتي :

$$N\gamma = 2 (Nq + 1) \tan \phi \dots \dots \dots (2-23)$$

أما  $N_c$ ,  $N_q$  فلم يغيرهما . ومعاملات قدرة التحمل معطاه في جدول (٢-٤) كما أنها معطاه في جدول (٢-٧) . أما باقى المعاملات فهي معطاه في جدول (٢-٢) وجدول (٢-٣) .

### اختيار معادلة قدرة التحمل :

يلخص جدول (٢-٨) الطرق السابق ذكرها تفصيلا لحساب قدرة التحمل ولا بد أن يختار

المهندس المدنى عند حساب قدرة التحمل، أى الطرق يمكن أن يستخدمها .

ومعادلة ترزاجى ما زالت تستخدم بتوسع لأنها قليلة المعاملات وتفضل عند حساب قدرة

التحمل لأساس عليه حمل رأس على أساس أفقى وللتربة منخفضة التماسك . كذلك تفضل حينما

يكون عمق التأسيس مساويا قيمة تتراوح بين  $B/2 \rightarrow 2B$  .

أما معادلات ماير هوف وهائزن فإنها تستخدم بصفة أساسية وعامة نظرا لاحتوائها على

جميع المتغيرات ويقترح استخدام المعاملات المعطاه في جدول (٢-٩) وهى مقدمة فى أبسط

الصور لتسهيل استخدامها . أما معادلة فيزك فإنها لا تستخدم كثيرا نظرا لتقاربها الشديد بمعادلة


هائزن الأكثر انتشارا .

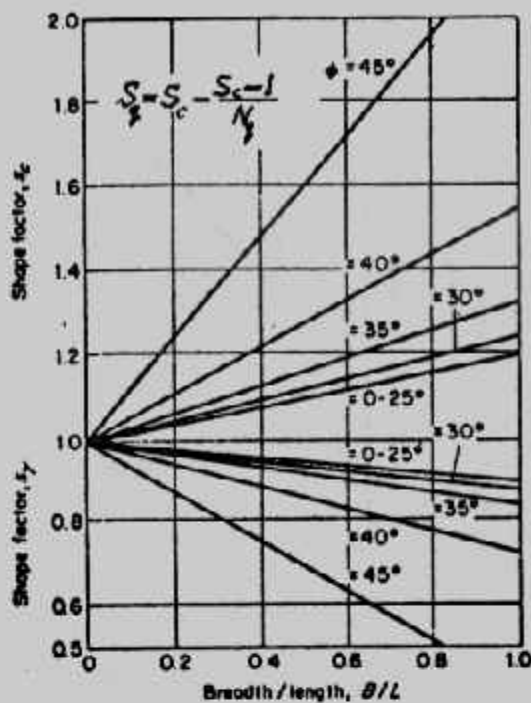
ويجب مراعاة ما يلى عند استخدام معادلات قدرة التحمل :

- فى التربة التماسكة يكون الجزء الأول من المعادلات (جزء التماسك) هو الأكثر تأثيرا فى قيمة قدرة التحمل .
- فى التربة الغير متماسكة يكون الجزء الثانى من المعادلات (جزء العمق) هو الأكثر تأثيرا حيث تزيد قدرة التحمل بزيادة العمق .
- لا يجب وضع الأساس على سطح التربة الغير متماسكة نظرا لهروب هذا النوع من التربة من أسفل حواف الأساس عند تحميله .

جدول (٢-٤) : المعاملات المختلفة في معادلات هانزن وفيزك

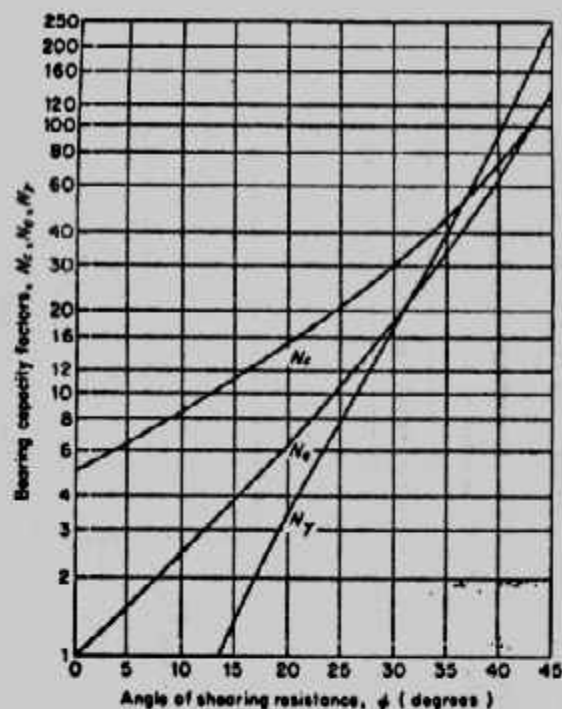
Shape, depth, inclination, ground and base factors for use in either the Hansen (1970) or Vesic (1973) bearing capacity equations of Table 2-3. Factors apply to either method unless subscripted with (H) or (V). Use primed factors when  $\phi = 0$

Shape factors	Depth factors	Inclination factors	Ground factors (base on slope)
$s_1 = 0.2 \cdot \frac{B}{L}$ $s_2 = 1 + \frac{N_q}{N_c} \cdot \frac{B}{L}$ $s_3 = 1$ for strip	$d_1 = 0.4k$ $d_2 = 1 + 0.4k$	$i_{qm1} = 0.5 - 0.5 \sqrt{1 - \frac{H}{A_f c_a}}$ $i_{qv1} = 1 - \frac{mH}{A_f c_a N_c}$ $i_c = i_q - \frac{1 - i_q}{N_c - 1}$ (Hansen and Vesic)	$s_1 = \frac{B'}{147}$ for Vesic use $N_c = -2 \sin \beta$ for $\phi = 0$ $s_2 = 1 - \frac{B'}{147}$
$s_4 = 1 + \frac{B}{L} \tan \phi$	$d_3 = 1 + 2 \tan \phi (1 - \sin \phi) k$		$g_{qm1} = g_{qm2} = (1 - 0.5 \tan \beta)^2$ $g_{qv1} = g_{qv2} = (1 - \tan \beta)^2$
$s_5 = 1 - 0.4 \cdot \frac{B}{L}$	$d_4 = 1.00$ for all $\phi$ $k = \frac{D}{B}$ for $\frac{D}{B} \leq 1$ $k = \tan^{-1} \frac{D}{B}$ for $\frac{D}{B} > 1$ (rad)	$i_{qm} = \left(1 - \frac{0.5H}{V + A_f c_a \cot \phi}\right)^2$ $i_{qv} = \left(1 - \frac{H}{V + A_f c_a \cot \phi}\right)^2$	Base factors (tilted base) $b_1 = \frac{\eta'}{147}$ $b_2 = 1 - \frac{\eta'}{147}$
Where $A_f$ = effective footing area $B' \times L'$ $c_a$ = adhesion to base = cohesion or a reduced value $D$ = depth of footing in ground (used with $B$ and not $B'$ ) $e, e_1$ = eccentricity of load with respect to center of footing area $H$ = horizontal component of footing load with $H \leq V \tan \delta + c_a A_f$ $V$ = total vertical load on footing $\beta$ = slope of ground away from base with downward = (+) $\delta$ = friction angle between base and soil—usually $\delta = \phi$ for concrete on soil $\eta$ = tilt angle of base from horizontal with (+) upward as usual case		$i_{qm} = \left(1 - \frac{0.7H}{V + A_f c_a \cot \phi}\right)^2$ ( $\eta = 0$ ) $i_{qm} = \left(1 - \frac{(0.7 - \eta'/450)H}{V + A_f c_a \cot \phi}\right)^2$ ( $\eta > 0$ ) $i_{qv} = \left(1 - \frac{H}{V + A_f c_a \cot \phi}\right)^{m+1}$	$b_{qm} = \exp(-2\eta \tan \phi)$ $b_{qm} = \exp(-2.7\eta \tan \phi)$ $b_{qv} = b_{qv1} = (1 - \eta \tan \phi)^2$ Notes: $\beta + \eta \leq 90^\circ$ $\beta \leq \phi$
General: 1. Do not use $s_1$ in combination with $i_c$ . 2. Can use $s_1$ in combination with $d_1$ , $s_4$ , and $b_1$ . 3. For $L/B \leq 2$ use $\phi_s$ . For $L/B > 2$ use $\phi_{ps} = 1.5\phi_s - 17$ For $\phi \leq 34^\circ$ use $\phi_{ps} = \phi_s$		$m = m_g = \frac{2 + B/L}{1 + B/L}$ $H$ parallel to $B$ $m = m_L = \frac{2 + L/B}{1 + L/B}$ $H$ parallel to $L$	
		Note: $i_q, i_r > 0$	



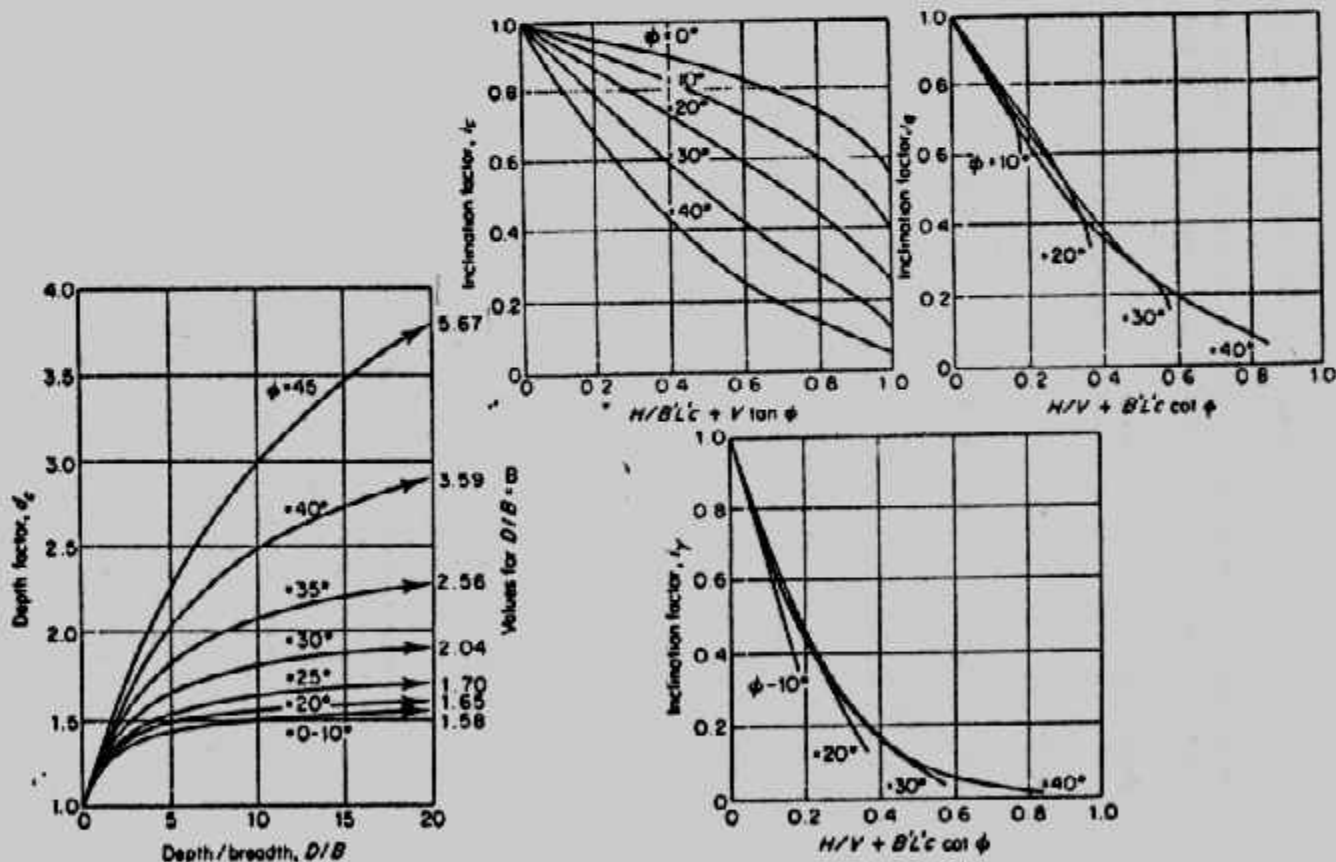
Shape factors  $s_x$  and  $s_y$  (after Brinch Hansen ).

شكل (١٠-٢) معامل الشكل



Bearing capacity factors  $N_c, N_q,$  and  $N_\gamma$  (after Brinch Hansen ).

شكل (٨-٢): معاملات هاتزن لقدرة التحمل



Depth factor  $d_s$  (after Brinch Hansen ). Inclination factors  $i_c, i_q,$  and  $i_\gamma$  (after Brinch Hansen ).

شكل (١١-٢) معامل العمق

شكل (٩-٢): معامل الميل

جدول (٢-٥): قيم تقريبية لمعاملات الشكل يمكن استخدامها في معادلات هاتزن وفيزك.

Shape factors for shallow foundations ( $\varphi > 0$ )

Shape of footing	$s_c$	$s_q$	$s_\gamma$
Strip	1.00	1.00	1.00
Rectangle	$1 + \left(\frac{B}{L}\right) \left(\frac{N_q}{N_c}\right)$	$1 + \left(\frac{B}{L}\right) \tan \varphi$	$1 - 0.4 \left(\frac{B}{L}\right)$
Circle or square	$1 + \frac{N_q}{N_c}$	$1 + \tan \varphi$	0.6

After DeBeer (1967) and Vesic (1970)

جدول (٢-٦): معاملات قدرة التحمل لهاتزن

Bearing capacity factors ( $\varphi > 0$ )

$\varphi$	$N_c$	$N_q$	$N_\gamma$	$\varphi$	$N_c$	$N_q$	$N_\gamma$	$\varphi$	$N_c$	$N_q$	$N_\gamma$
0	5.14	1.00	0.00	15	11.0	3.94	1.42	30	30.1	18.4	18.1
1	5.38	1.09	0.00	16	11.6	4.34	1.72	31	32.7	20.6	21.2
2	5.63	1.20	0.01	17	12.3	4.77	2.08	32	35.5	23.2	24.9
3	5.90	1.31	0.03	18	13.1	5.26	2.49	33	38.6	26.1	29.3
4	6.19	1.43	0.06	19	13.9	5.80	2.97	34	42.2	29.4	34.5
5	6.49	1.57	0.09	20	14.8	6.40	3.54	35	46.1	33.3	40.7
6	6.81	1.72	0.14	21	15.8	7.07	4.19	36	50.6	37.8	48.1
7	7.16	1.88	0.19	22	16.9	7.82	4.96	37	55.8	42.9	56.9
8	7.53	2.06	0.27	23	18.1	8.66	5.85	38	61.4	48.9	67.4
9	7.92	2.25	0.36	24	19.3	9.60	6.89	39	67.9	56.0	80.1
10	8.34	2.47	0.47	25	20.7	10.7	8.11	40	75.3	64.2	95.5
11	8.80	2.71	0.60	26	22.3	11.9	9.53	41	83.9	73.9	114
12	9.28	2.97	0.76	27	23.9	13.2	11.20	42	93.7	85.4	137
13	9.81	3.26	0.94	28	25.8	14.7	13.10	43	105	99	165
14	10.4	3.59	1.16	29	27.9	16.4	15.40	44	118	115	199
Values of $N_c$ after Prandtl $N_q$ after Reissner $N_\gamma$ after Hansen For $\varphi=0$ soil see Fig. 11.5								45	134	135	241
								46	152	159	294
								47	174	187	359
								48	199	222	442
								49	230	266	548
								50	267	319	682

$N_c$  and  $N_q$  together with Hansen's values of  $N_\gamma$ .



جدول (٧-٢): معاملات قدرة التحمل لفيك

Bearing Capacity Factors\*

$\phi$	$N_c$	$N_q$	$N_\gamma$	$N_q/N_c$	$\tan \phi$
0	5.14	1.00	0.00	0.20	0.00
1	5.38	1.09	0.07	0.20	0.02
2	5.63	1.20	0.15	0.21	0.03
3	5.90	1.31	0.24	0.22	0.05
4	6.19	1.43	0.34	0.23	0.07
5	6.49	1.57	0.45	0.24	0.09
6	6.81	1.72	0.57	0.25	0.11
7	7.16	1.88	0.71	0.26	0.12
8	7.53	2.06	0.86	0.27	0.14
9	7.92	2.25	1.03	0.28	0.16
10	8.35	2.47	1.22	0.30	0.18
11	8.80	2.71	1.44	0.31	0.19
12	9.28	2.97	1.69	0.32	0.21
13	9.81	3.26	1.97	0.33	0.23
14	10.37	3.59	2.29	0.35	0.25
15	10.98	3.94	2.65	0.36	0.27
16	11.63	4.34	3.06	0.37	0.29
17	12.34	4.77	3.53	0.39	0.31
18	13.10	5.26	4.07	0.40	0.32
19	13.93	5.80	4.68	0.42	0.34
20	14.83	6.40	5.39	0.43	0.36
21	15.82	7.07	6.20	0.45	0.38
22	16.88	7.82	7.13	0.46	0.40
23	18.05	8.66	8.20	0.48	0.42
24	19.32	9.60	9.44	0.50	0.45
25	20.72	10.66	10.88	0.51	0.47
26	22.25	11.85	12.54	0.53	0.49
27	23.94	13.20	14.47	0.55	0.51
28	25.80	14.72	16.72	0.57	0.53
29	27.86	16.44	19.34	0.59	0.55
30	30.14	18.40	22.40	0.61	0.58
31	32.67	20.63	25.99	0.63	0.60
32	35.49	23.18	30.22	0.65	0.62
33	38.64	26.09	35.19	0.68	0.65
34	42.16	29.44	41.06	0.70	0.67
35	46.12	33.30	48.03	0.72	0.70
36	50.59	37.75	56.31	0.75	0.73
37	55.63	42.92	66.19	0.77	0.75
38	61.35	48.93	78.03	0.80	0.78
39	67.87	55.96	92.25	0.82	0.81
40	75.31	64.20	109.41	0.85	0.84
41	83.86	73.90	130.22	0.88	0.87
42	93.71	85.38	155.55	0.91	0.90
43	105.11	99.02	186.54	0.94	0.93
44	118.37	115.31	224.64	0.97	0.97
45	133.88	134.88	271.76	1.01	1.00
46	152.10	158.51	330.35	1.04	1.04
47	173.64	187.21	403.67	1.08	1.07
48	199.26	222.31	496.01	1.12	1.11
49	229.93	265.51	613.16	1.15	1.15
50	266.89	319.07	762.89	1.20	1.19

\* After Vesic (1973)

## Bearing-capacity equations by the several authors indicated

Terzaghi (see Table 2-1 for typical values and for  $K_{py}$  values)

$$q_{ult} = cN_c s_c + \bar{q}N_q + 0.5\gamma BN_r s_r \quad N_q = \frac{a^2}{2 \cos^2 (45 + \phi/2)}$$

$$a = e^{(0.75\pi - \phi/2) \tan \phi}$$

$$N_c = (N_q - 1) \cot \phi$$

$$N_r = \frac{\tan \phi}{2} \left( \frac{K_{py}}{\cos^2 \phi} - 1 \right)$$

For:	strip	round	square
$s_c =$	1.0	1.3	1.3
$s_r =$	1.0	0.6	0.8

Meyerhof (see Table 2-2 for shape, depth, and inclination factors)

Vertical load:  $q_{ult} = cN_c s_c d_c + \bar{q}N_q s_q d_q + 0.5\gamma BN_r s_r d_r$

Inclined load:  $q_{ult} = cN_c d_c i_c + \bar{q}N_q d_q i_q + 0.5\gamma BN_r d_r i_r$

$$N_q = e^{\pi \tan \phi} \tan^2 \left( 45 + \frac{\phi}{2} \right)$$

$$N_c = (N_q - 1) \cot \phi$$

$$N_r = (N_q - 1) \tan (1.4\phi)$$

Hansen (see Table 2-4 for shape, depth, and other factors)

General:  $q_{ult} = cN_c s_c d_c i_c \mu_c h_c + \bar{q}N_q s_q d_q i_q \mu_q h_q + 0.5\gamma BN_r s_r d_r i_r \mu_r h_r$

when  $\phi = 0$

use  $q_{ult} = 5.14s_u(1 + s'_c + d'_c - i'_c - h'_c - g'_c) + \bar{q}$

$$N_q = \text{same as Meyerhof above}$$

$$N_c = \text{same as Meyerhof above}$$

$$N_r = 1.5(N_q - 1) \tan \phi$$

Vesic (see Table 2-4 for shape, depth, and other factors)

Use Hansen's equations above

$$N_q = \text{same as Meyerhof above}$$

$$N_c = \text{same as Meyerhof above}$$

$$N_r = 2(N_q + 1) \tan \phi$$

## قدرة تحمل التربة الصافية والامنة والمسوح بها :

قدرة التحمل المحسوبة من المعادلات تسمى قدرة التحمل القصوى Ultimate  $q_u$  Bearing Capacity وهى أقل اجهاد كلى مؤثر على قاع الأساس بسبب انهيار التربة تحت الأساس بالقص . أما قدرة تحمل التربة القصوى الصافية Net Ultimate Bearing Capacity  $q_{nu}$  فهى أقل اجهاد صافى بسبب انهيار التربة بالقص .  
 $q_{nu} = q_u - q$   
 وتعين قدرة التربة الصافية الأمانة من قسمة قدرة التربة القصوى الصافية على معامل الأمان .

$$q_{ns} = q_{nu}/F$$

F = Factor of safety      معامل الأمان

$q_{ns}$  = Net safe bearing capacity

كما يمكن تعيين قدرة التحمل الأمانة  $q_s$  Safe bearing capacity من

$$q_s = q_{ns} + q = \frac{q_{nu}}{F} + \gamma D \dots \dots \dots (2-25)$$

ويجب ملاحظة أن الفرق بين قدرة التحمل القصوى وقدرة التحمل القصوى الصافية هو وزن عمود التربة ( $q = \gamma D$ ) من سطح الأرض لمنسوب التأسيس . ولقد حدد الكود المصرى لتصميم وتنفيذ الأساسات وميكانيكا التربة الصادر فى سنة ١٩٩٠ معاملات الأمان لقدرة التحمل فى الحالات الآتية :

الحالة (١): يؤخذ معامل الأمان  $FS = 2.5$  إذا أخذت الأحمال الدائمة المؤثرة على الأساس الناتجة من الأحمال الميتة والأحمال الحية وضغط الماء وضغط التربة والأحمال المتحركة بصورة منتظمة .

الحالة (٢) : يؤخذ معامل الأمان  $FS = 2$  إذا أخذت الأحمال غير الدائمة المؤثرة على الأساس مثل ضغط الرياح والأحمال المتحركة بالإضافة إلى الأحمال المذكورة فى حالة التحميل رقم (١) .  
 الحالة (٣): يؤخذ معامل الأمان  $FS = 1.5$  إذا أخذت الأحمال النادرة الحدوث التى تتجم عن الزلازل والكوارث الطبيعية وذلك بالإضافة إلى حالة التحميل رقم (٢) . وتطبق هذه الحالة للمنشآت الهامة وذات الطبيعة الخاصة .

أما قدرة التحمل المسموح بها Allowable Bearing Capacity  $q_a$  فهى أقصى قدرة أمانة لكل من انهيار القص والهبوط، بمعنى أنه يمكن حساب  $q_s$  أو  $q_{ns}$  وهى قيم أمانة من انهيار القص وعند حساب الهبوط نجد أنه لكى يكون فى حدود المسموح به فإنه يجب خفض الجهد المعرض

للترربة أى نخفض من قيم  $q_{ns}$  أو  $q_s$  فتصبح قيمهما  $q_a$  • وقد تخفض قيم  $q_{ns}$  أو  $q_s$  للحصول على أبعاد معقولة ومناسبة لتنفيذ الأساسات.

### Example (2-3):

A shallow strip footing of breadth 3.5m is to be founded at a depth of 2.0 m in a soil which has the following properties :

$$c = 12 \text{ kN/m}^2 \quad \phi = 25^\circ \quad \gamma = 19.0 \text{ kN/m}^3$$

Determine the safe load/m run.

#### Solution :

First determine the net ultimate bearing capacity.

$$\text{From Table (2-6): } N_c = 20.7 \quad N_q = 10.7 \quad N_\gamma = 8.11$$

$$\begin{aligned} \text{So } q_{u(net)} &= cN_c + \gamma D(N_q - 1) + \frac{1}{2} \gamma B N_\gamma \\ &= 12 \times 20.7 + 19.0 \times 2 \times 9.7 + \frac{1}{2} \times 19.0 \times 3.5 \times 8.11 \\ &= 886 \text{ kN/m}^2 \end{aligned}$$

From eqn 2-25, putting  $F = 3$

$$\begin{aligned} \text{Safe bearing capacity, } q_s &= \frac{q_{u(net)}}{F} + \gamma D \\ &= \frac{886}{3} + 19.0 \times 2.0 \\ &= 333 \text{ kN/m}^2 \end{aligned}$$

Therefore safe load  $= 333 \times 3.5 = 1166 \text{ kN/m}$

### Example (2-4):

Determine the safe uniform load intensity for a rectangular foundation of breadth 8m, length 12 m and founded 2.4 m below the surface.

$$C_u = 25 \text{ kN/m}^2 \quad \phi_u = 10^\circ \quad \gamma = 18 \text{ kN/m}^3$$

#### Solution :

$$\text{From Tabel (2-6): } N_c = 8.34 \quad N_q = 2.47 \quad N_\gamma = 0.47$$

$$B/L = 8/12 = 0.667$$

Then from Table 2-5

$$S_c = 1 + 0.667 \times 2.47/8.34 = 1.20$$

$$S_q = 1 + 0.667 \tan 10^\circ = 1.12$$

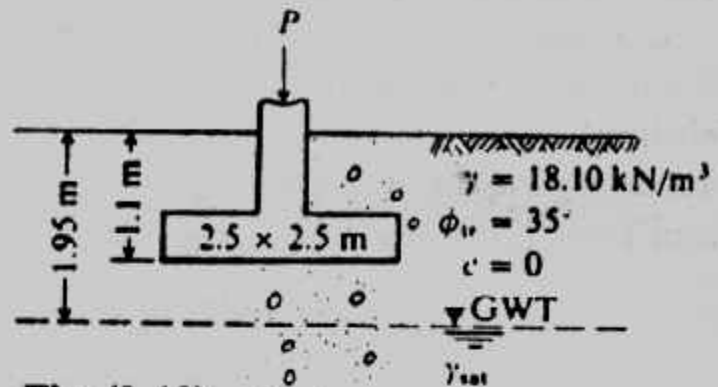
$$S_\gamma = 1 - 0.4 \times 0.667 = 0.73$$

$$\begin{aligned} \text{So } q_{u(net)} &= c_u N_c S_c + \gamma B N_q S_q - \gamma D \\ &= 25.0 \times 8.34 \times 1.20 + 18 \times 2.4 \times 2.47 \times 1.12 \\ &\quad + \frac{1}{2} \times 18 \times 8 \times 0.47 \times 0.73 - 18 \times 2.4 \\ &= 351 \text{ kN/m}^2 \end{aligned}$$

Therefore the safe bearing capacity,  $q_s = \frac{351}{3} + 18 \times 2.4 = \underline{160 \text{ kN/m}^2}$

**Example (2-5):**

A square footing vertically and concentrically loaded is to be placed on a cohesionless soil as shown in Fig. (2-12). The soil and other data are as shown :



**Fig. (2-12)**

**Required.** What is the allowable bearing capacity using the Hansen equation and a  $SF = 2.0$ ?

**Solution :**

We should note that  $B$  would, in general, not be known but would depend on the column load and the allowable soil pressure. We could, however, compute several values of  $q_a$  and make a plot of  $q_a$  versus  $B$ . Here we will compute a single value of  $q_a$ .

**Step. 1.** Since the effective soil unit weight is required, let us find these values. Estimate the "wet" soil has  $W_w = 10$  percent and  $G_s = 2.68$ .

$$\gamma_{dry} = \frac{\gamma_{wet}}{1+w} = \frac{18.10}{1+0.10} = 16.45 \text{ kN/m}^3$$

$$V_s = \frac{\gamma_{dry}}{G_s(9.807)} = \frac{16.45}{2.68(9.807)} = 2.626 \text{ m}^3$$

$$V_v = 1.0 - V_s = 1.0 - 0.626 = 0.374 \text{ m}^3$$

The saturated unit weight is the dry weight + weight of water in voids

$$\gamma_{sat} = 16.45 + 0.374(9.807) = 20.12 \text{ kN/m}^3$$

From Fig. (2-12): we obtain  $d = 0.85 \text{ m}$

$$\gamma' = (\gamma_{sat} - \gamma_w) = 20.12 - 9.81 = 10.31 \text{ kN/m}^3$$

$$\begin{aligned} \bar{\gamma} &= 10.31 + (0.85/2.5)(18.10 - 10.31) \\ &= 12.96 \text{ kN/m}^3 \end{aligned}$$

**Step 2.** Obtain bearing-capacity factors for the Hansen equation using  $D_0$  not compute  $\phi_{ps}$ , since footing is square. Computing,

$$N = 33$$

$$N_\gamma = 34$$



$$S_q = 1 + \frac{B}{L} \tan \phi = 1.70$$

$$S_\gamma = 1 - 0.4 \frac{B}{L} = 0.6$$

$$d_q = 1 + 0.25 \frac{1.1}{2.5} = 1.11$$

$$d_\gamma = 1.10$$

From Table (2-1): and dropping any terms that are not used or are 1.0,

$$q_{ult} = \gamma D N_q S_q d_q + 0.5 \gamma_e B N_\gamma S_\gamma d_\gamma$$

Substituting values,

$$q_{ult} = 18.10(1.1)(33)(1.70)(1.11) + 0.5 (12.96)(2.5)(34)(0.6)(1.0) \\ = 1240 + 330 = 1570 \text{ kPa}$$

$$q_a = \frac{1570}{2} = 785 \text{ kPa (a very large bearing pressure).}$$

وهذه قيمة كبيرة للتصميم حيث ينصح ألا تزيد قدرة التحمل الأمانة عن ٥٠٠ كيلو نيوتن/م<sup>٢</sup> (٥٠ كجم/سم<sup>٢</sup>). وفي هذا المثال يمكن إهمال الجزء الثالث من المعادلة. كما يجب التأكد من أن قدرة التحمل المأخوذة في التصميم تعطى هبوطاً مسموحاً به.

#### Example (2-6):

A square column foundation has to carry a gross allowable total load of 150 kN. The depth of the foundation is 0.7m. The load is inclined at an angle of 20° to the vertical (Fig. 2-13). Determine the width of the foundation,  $B$ . Use Eq. 2-21 and a factor of safety of 3.

**Solution :**

With  $c = 0$ , the ultimate bearing capacity [Eq. 2-21] becomes.

$$q_u = q N_q S_q d_q i_q + \frac{1}{2} \gamma B N_\gamma S_\gamma i_\gamma \quad (g = 1)$$

$$q = (0.7) (18) = 12.6 \text{ kN/m}^2$$

$$\gamma = 18 \text{ kN/m}^3$$

From Table (2-6), for  $\phi = 30^\circ$

$$N_q = 18.4$$

$$N_\gamma = 22.4$$

From Table (2-9)

$$S_q = 1 + \left( \frac{B}{L} \right) \tan \phi = 1 + 0.577 = 1.577$$

$$S_\gamma = 1 - 0.4 \left( \frac{B}{L} \right) = 0.6$$

$$d_q = 1 + 2 \tan \phi (1 - \sin \phi)^2 \frac{D_f}{B} \\ = 1 + \frac{(0.289)(0.7)}{B} = 1 + \frac{0.202}{B}$$

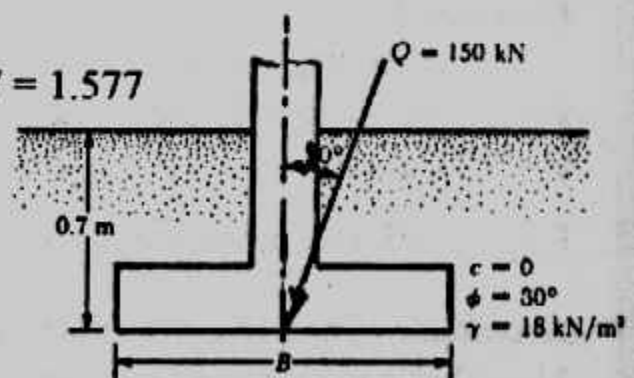


Fig.(2-13)

$$d_\gamma = 1$$

$$i_q = \left(1 - \frac{B^\circ}{90^\circ}\right)^2 = \left(1 - \frac{20}{90}\right)^2 = 0.605$$

$$i_\gamma = \left(1 - \frac{\beta^\circ}{\phi}\right)^2 = \left(1 - \frac{20}{30}\right)^2 = 0.11$$

Hence :

$$q_u = (12.6)(18.4)(1.577) \left(1 + \frac{0.202}{B}\right) (0.605) + (0.5)(18)(B)(22.4)(0.6)(1)(0.11)$$

$$= 212.2 + \frac{44.68}{B} + 13.3B \quad (a)$$

$$q_{all} = \frac{q_u}{B} = 73.73 + \frac{14.68}{B} + 4.43B \quad (b)$$

$$\text{Given } Q = \text{total allowable load} = q_{all} \times B^2 \text{ or } q_{all} = \frac{150}{B^2} \quad (c)$$

Equating the right-hand sides of Eqs. (b) and (c)

$$\frac{150}{B^2} = 73.73 + \frac{14.89}{B} + 4.43B$$

By trial and error,  $B \approx 1.3 \text{ m}$

#### Example (2-7):

Refer to Example 2-6, Determine the net allowable load for the foundation using the definition of factor of safety. Use  $FS = 4$ .

**Solution :** From Example (2-6).

$$q_u = 535 \text{ kN/m}^2$$

$$q = (1)(17.8) = 17.8 \text{ kN/m}^2$$

$$q_{net(all)} = \frac{q_u - q}{FS} = \frac{535 - 17.8}{4} = 129.3 \text{ kN/m}^2$$

Hence :

$$Q_{net(all)} = (129.3)(1.5)(1.5) \approx 291 \text{ kN}$$

#### Example (2-8):

A footing load test. Produced the following data :

$$D = 0.5 \text{ m} \quad B = 0.5 \text{ m} \quad L = 2.0 \text{ m}$$

$$\gamma' = 9.31 \text{ kN/m}^3$$

$$\phi_{\text{triaxial}} = 42.7^\circ$$

$$\text{cohesion } c = 0$$

$$P_{ult} = 1863 \text{ kN (measured)} \quad q_{ult} = \frac{P_{ult}}{BL} = \frac{1863}{0.5 \times 2} = 1863 \text{ kPa (computed)}$$

**Required.** Compute the ultimate bearing capacity by both Hansen and Meyerhof equations and compare computed with measured values.

**Solution :**

(a) Since  $c = 0$ , any factors with subscript  $c$  do not need computing. All  $g_i$  and  $b_i$  factors are 1.00; with these factors identified, the Hansen equation simplifies to :

$$q_{ult} = \gamma' DN_q S_q d_q + 0.5 \gamma BN_\gamma S_\gamma d_\gamma$$

$$L/B = \frac{2}{0.5} = 4 \rightarrow \phi_{ps} = 1.5 (42.5) - 17 = 46.75^\circ, \text{ Use } \phi = 47^\circ$$

From a table of  $\phi$  in  $1^\circ$  increments obtain :  $N_q = 186.9$  ,  $N_\gamma = 299$

Using linear interpolation of Table (2-3) gives 208.2 and 347.2. Using Table (2-4) get the  $2 \tan \phi (1 - \sin \phi)^2$  part of  $d_q$  term from Table (2-3).

$$S_q = 1 + \frac{B}{L} \tan \phi = 1.27$$

$$S_\gamma = 1 - 0.4 \frac{B}{L} = 0.9$$

$$d_q = 1 + 0.155 \frac{D}{B}$$

$$d_\gamma = 1.0$$

$$= 1 + 0.155 \left( \frac{0.5}{0.5} \right) = 1.155$$

With these values obtain

$$q_{ult} = 0.31(0.5)(186.9)(1.27)(1.155) + 0.5(9.31)(0.5)(299)(0.9)(1) \\ = 1902.5 \text{ kPa vs } 1863 \text{ measured}$$

(b) By Meyerhof equations of Tables (2-8) and (2-2) and  $\phi_{ps} = 47^\circ$

**Step. 1.** Obtain  $N_q = 186.9$   $N_\gamma = (N_q - 1) \tan (1.4\phi) = 413.6$

$$K_p = \tan^2 \left( 45 + \frac{\phi}{2} \right) = 6.44 \rightarrow \sqrt{K_p} = 2.54$$

$$S_q = S_\gamma = 1 + 0.1 K_p \frac{B}{L} = 1 + 0.1(6.44) \frac{0.5}{2.0} = 1.16$$

$$d_q = d_\gamma = 1 + 0.1 \sqrt{K_p} \frac{D}{B} = 1 + 0.1 (2.54) \frac{0.5}{0.5} = 1.25$$

**Step. 2.** Substitute into the Meyerhof equation (ignoring any  $c$  subscripts)

$$q_{ult} = \gamma' DN_q S_q d_q + 0.5 \gamma BN_\gamma S_\gamma d_\gamma \\ = 0.31(0.5)(187)(1.16)(1.25) + 0.5(9.31)(0.5)(414)(1.16)(1.25) \\ = 1262 + 1397 = 2659 \text{ kPa}$$

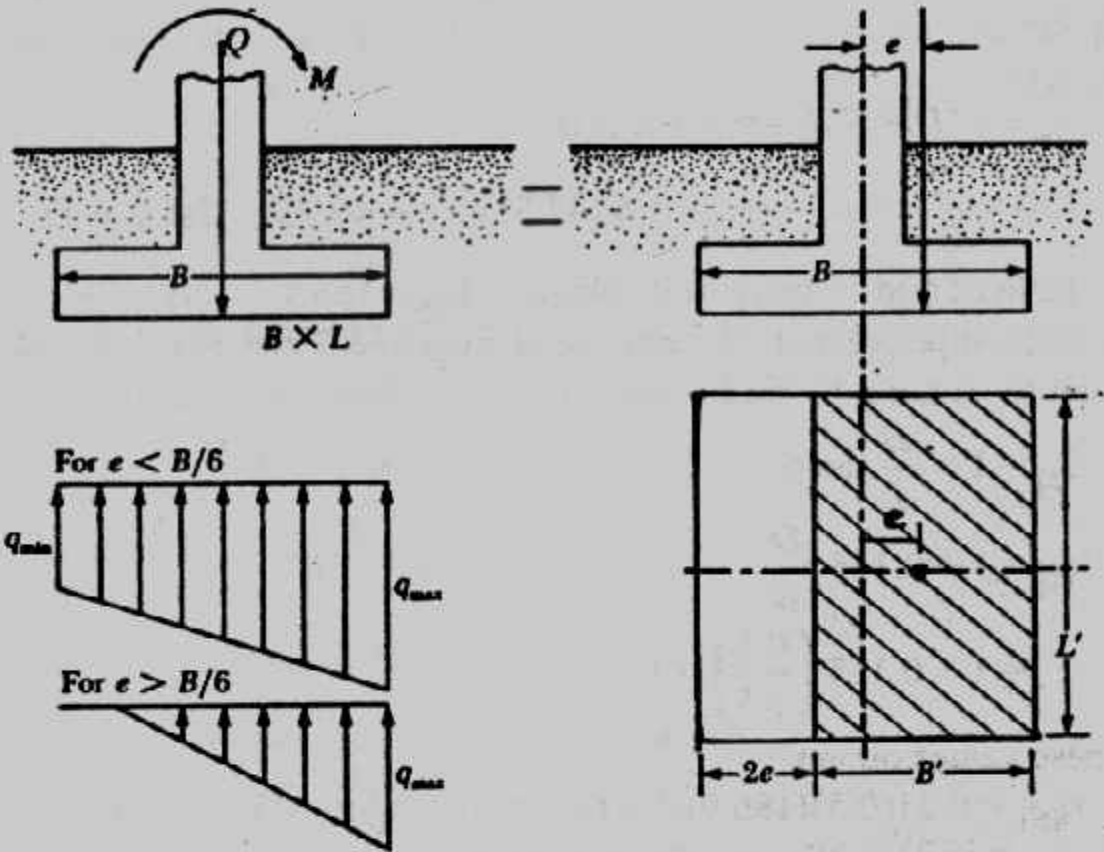
**الأساسات الغير مركزية الحمل :**

### Foundations with Eccentric Loadings

قواعد الأساسات قد تكون غير مركزية الحمل بسبب عدم تمركز العمود في القاعدة أو

بسبب وجود عمود متمركز في القاعدة بحمل محوري مع وجود عدم انحناء ويكون عدم التمرکز

على محور واحد شكل (١٤-٢) أو على محورين شكل (١٥-٢).



شكل (٢-١٤) الأساسات الغير مركزية الحمل .

وحيثما تكون القاعدة غير متمركزة على محور واحد تحسب الإزاحة  $e$  من

$$e = \frac{M}{Q} \quad (2-26)$$

ويحسب الجهد على حافتي الأساس من المعادلات :

$$q_{\max} = \frac{Q}{BL} \left( 1 + \frac{6e}{B} \right) \quad (2-27)$$

$$q_{\min} = \frac{Q}{BL} \left( 1 - \frac{6e}{B} \right) \quad (2-28)$$

والمعادلات السابقة تستخدم عندما تكون  $e < B/6$  وتكون  $q_{\min} = 0$  عندما تكون  $e = B/6$  ويكون الجهد على الأساس على شكل مثلث حينما يكون  $e > B/6$  حيث يتكون جزء من الشد من أحد الحواف . ولأن التربة لا تتحمل الشد فإنه يحدث انفصال بين الأساس والتربة ويجب تجنب هذه الحالة بقدر الإمكان وهنا تحسب  $q_{\max}$  من :

$$q_{\max} = \frac{4Q}{3L(B - 2e)} \quad (2-29)$$

وتكون الاجهادات تحت الأساسات منتظمة التوزيع إذا انطبقت نقطة تأثير محصلة الأحمال على مركز ثقل الأساس . وعلى ذلك ولتحويل الاجهادات الغير متساوية تحت القواعد الغير متمركزة إلى اجهادات منتظمة التوزيع توجد الأبعاد الفعالة  $B'$ ,  $L'$  :

$$B' = \text{effective width} = B - 2e \dots \dots \dots (2-30)$$

$$L' = \text{effective length} = L'$$

وإذا كان عدم التمرکز في الاتجاه الآخر تؤخذ :

$$L' = L - 2e$$

وتحسب قدرة التحمل بواسطة وباستخدام الأبعاد الفعالة  $B'$ ,  $L'$  كما أن أقصى حمل يتحملة الأساس  $Q_{ult}$  يحسب عن :

$$Q_{ult} = q'_{u} A' \dots \dots \dots (2-31)$$

$$A' = \text{effective area} = B'L' \dots \dots \dots (2-32)$$

وحينما يكون الأساس غير متمركز في الاتجاهين أو عليه حل محور بالإضافة إلى  $M_x$ ,  $M_y$  شكل (٢-١٥) فتحسب :

$$e_x = \frac{M_x}{V}, \quad e_y = \frac{M_y}{V}$$

$$B' = B - 2e_x$$

$$L' = L - 2e_y$$

$$A' = B'L'$$

وتحسب قدرة التحمل باستخدام  $B'$ ,  $L'$  وهذا يعنى أن قيمة قدرة التحمل سوف تكون مخفضة . ولقد اقترح مايرهوف طريقة أخرى لإيجاد نسبة التخفيض في قدرة التحمل  $R_e$  حيث تخفض قدرة التحمل في هذه الحالة وتصبح :

$$q'_{ult} = q_{ult} \cdot R_e \dots \dots \dots (2-33)$$

وتحسب  $R_e$  من :

$$R_e = 1 - 2 \frac{e}{B} \text{ (cohesive soil)} \dots \dots \dots (2-34)$$

$$R_e = 1 - \left( \frac{e}{B} \right)^{\frac{1}{2}} \text{ (cohesionless soil)} \dots \dots \dots (2-35)$$

$$(0 < e/B < 0.03)$$

#### Example (2-9):

A square foundation is shown in Fig. (2-16) assume that the load eccentricity  $e = 0.15$  m. Determine the ultimate load,  $Q_{ult}$ .

**Soltuion :**

With  $c = 0$ , Eq. 2-21 becomes

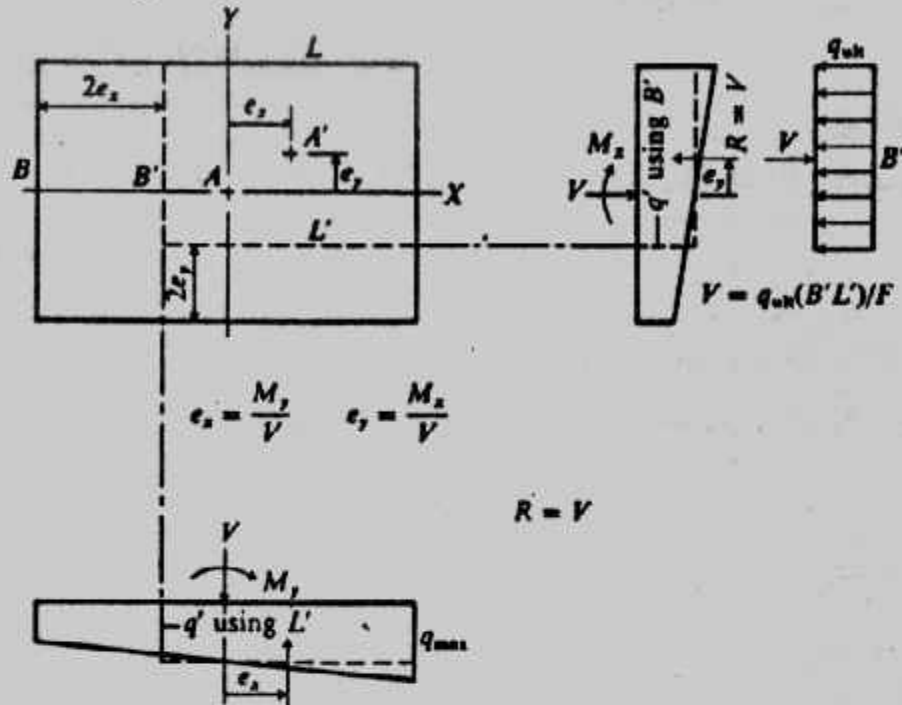


$$q'_u = q N_q S_q d_{q_i} + \frac{1}{2} \gamma B' N_\gamma S_\gamma d_{\gamma_i} \quad , (g = 1)$$

$$q = (0.7)(18) = 12.6 \text{ kN/m}^2$$

For  $\phi = 30^\circ$ , from Table (2-7)  $N_q = 18.4$  and  $N_\gamma = 22.4$ .

$$B' = 1.5 - 2(0.15) = 1.2 \text{ m}$$



شكل (٢-١٥) الأساس الغير متمركز في الاتجاهين .

$$L' = 1.5 \text{ m}$$

From Table (2-9)

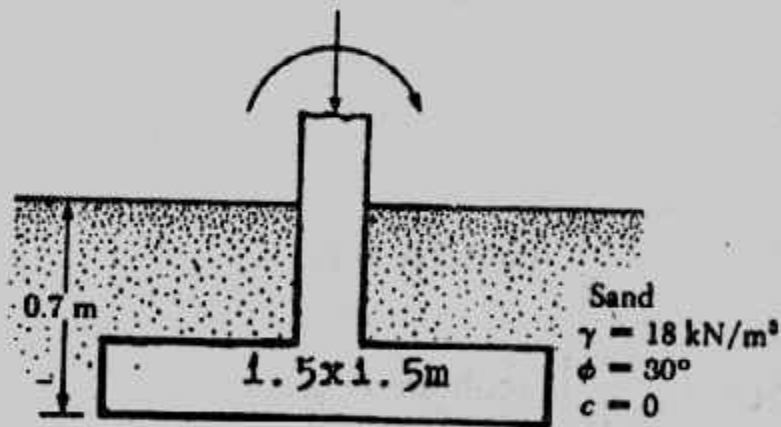


Fig. (2-16)

$$S_q = 1 + \frac{B'}{L'} \tan \phi = 1 + \left( \frac{1.2}{1.5} \right) \tan 30^\circ = 1.462$$

$$d_q = 1 + 2 \tan \phi (1 - \sin \phi)^2 \frac{D_f}{B} = 1 - \frac{(0.289)(0.7)}{1.5} = 1.135$$

$$S_\gamma = 1 - 0.4 \left( \frac{B'}{L'} \right) = 1 - 0.4 \left( \frac{1.2}{1.5} \right) = 0.68$$

$$dy = 1 \quad \text{So :}$$

$$q'_u = (12.6)(18.4)(1.462)(1.135) + \frac{1}{2} (18)(1.2)(22.4)(0.68)(1) \\ = 384.3 + 164.50 = 548.8 \text{ kN/m}^2$$

Hence

$$Q_{ult} = B'L' (q'_u) = (1.2)(1.5)(548.8) = 988 \text{ kN}$$

### Example (2-10):

A footing  $1.8 \times 1.8 \text{ m}$  square is loaded with an axial load of  $1800 \text{ kN}$  and  $M_x = 20 \text{ kN.m}$ ,  $M_y = 160 \text{ kN.m}$ . Underdrained triaxial tests give  $\phi = 36^\circ$  and  $c = 9.61 \text{ kN/m}^2$ . The footing depth  $D = 1.8 \text{ m}$ ; the soil unit weight is  $18 \text{ kN/m}^3$ , the water table is  $6 \text{ m}$ .

**Solution :**

**Step 1.** Compute eccentricity and adjusted dimensions.

$$e_x = \frac{M_y}{P} = \frac{160}{1800} = 0.089, 2e_x = 0.178, \frac{e_y}{B} = 0.08$$

$$e_y = \frac{270}{1800} = 0.15, 2e_y = 0.3, \frac{e_x}{B} = 0.08$$

$$B' = 1.8 - 0.3 = 1.5 \text{ m}, L' = 1.8 - 0.178 = 1.622 \text{ m}$$

$$\text{and } N_c = 51 \quad N_q = 38 \quad N_\gamma = 40 \quad (\text{Table 2-3})$$

$$\frac{D}{B} = \frac{1.8}{1.8} = 1$$

$$S_c = 1 + \frac{N_q}{N_c} \frac{B'}{L'} = 1.69 \quad d_c = 1 + 0.4 \frac{D}{B} = 1.4$$

$$S_q = 1 + \frac{B'}{L'} \tan \phi = 1.67 \quad d_q = 1 + 2 \tan \phi (1 - \sin \phi)^2 \frac{D}{B} = 1.25$$

$$S_\gamma = 1 - 0.4 \frac{B'}{L'} = 0.63 \quad d_\gamma = 1.00$$

$$\text{All } i = g = b = 1.0 \quad (\text{note if } H > 0 \text{ all } S_i = 1.0)$$

$$q_{ult} = cN_c S_c d_c + \bar{q} N_q S_q d_q + \frac{1}{2} \gamma B' N_\gamma S_\gamma d_\gamma$$

$$= 9.61(51)(1.69)(1.4) + (18)(1.8)(38)(1.67)(1.25) + 0.5(1.8)(18)(40)(0.63)1.0 \\ = 1158 + 2568.5 + 338.1 = 4064.6 \text{ kN/m}^2$$

$$\text{With } SF = 3, \quad q_a = \frac{4064.6}{3} = 1354.9 \text{ kN/m}^2$$

The allowable load is based on the effective footing area to obtain

$$P_a = 1354.9 \times 1.5 \times 1.622 = 3296.5 \text{ kN.}$$

$$q_{act} = 1354.9 \times \frac{1800}{3296.5} = 739.8 \text{ kN/m}^2$$

By the alternative method using Meyerhof's reduction factor :  
Use factors for cohesionless soil, as c is very small

$$R_{ex} = 1 - \left( \frac{e_x}{B} \right)^{\frac{1}{2}} = 1 - (0.05)^{\frac{1}{2}} = 0.78$$

$$R_{ey} = 1 - \left( \frac{e_y}{B} \right)^{\frac{1}{2}} = 1 - (0.08)^{\frac{1}{2}} = 0.72$$

Recompute  $q_{ult}$  as for a centrally loaded footing; the depth factors are unchanged; the revised shape factors are :

$$S_c = 1 + \frac{N_q}{N_c} \frac{B}{L} = 1.75$$

$$S_q = 1 + \frac{B}{L} \tan \phi = 1.73$$

$$S_\gamma = 1 - 0.4 \frac{B}{L} = 0.60$$

$$q_{ult} = 9.61(51)(1.75)(1.4) + 18(1.8)(38)(1.73)(1.25) + 0.5(18)(1.5)(40)(0.6)(1.0) \\ = 1199.1 + 2660.8 + 386.2 = 4246.1 \text{ kN/m}^2$$

$$q_a = \frac{4246.1}{3} = 1415.4 \text{ kN/m}^2$$

$$P_a = q_a(BL)R_{ex}R_{ey} = 1415.4 \times 1.8 \times 1.8 \times 0.78 \times 0.72 = 2575.4 \text{ kN}$$

The reduced allowable pressure is

$$q_a = \frac{2575.4}{1.8 \times 1.8} = 794.9 \text{ kN/m}^2$$

The actual pressure is approximately  $794.9 (1800 / 2575.4) = 555.6 \text{ kN/m}^2$

وهذه القيمة المسموح بها لقدرة التحمل عالية ويجب حساب الهبوط الذى قد يستلزم تخفيض هذه القيمة. وينصح ألا تزيد القيمة المسموح بها لقدرة التحمل التى تستخدم فى التصميم عن ٥٠٠ كيلو نيوتن/م<sup>٢</sup> (٥ كجم/سم<sup>٢</sup>).

### الأساسات على الطين : Foundation on Clay

لحساب قدرة التحمل للأساسات على التربة الطينية تستخدم أحد المعادلات المذكورة فى

هذا الباب على اعتبار  $\phi = 0$ . ولقد قدم سكبتون Skempton طريقة مبسطة لحساب قدرة التحمل للأساسات على الطين حيث :

$$q_{ult} = cN_c + \gamma D \dots \dots \dots (2-36)$$

$$q_{net ult} = cN_c \dots \dots \dots (2-37)$$

حيث تعين  $N_c$  من الشكل (٢-١٧) بالنسبة للأساسات الشريطية والدائرية والمربعة أما بالنسبة للأساسات المستطيلة :

$$N_{c \text{ rectangular}} = (0.84 + 0.16 \frac{B}{L}) N_{c \text{ square}} \dots\dots\dots(2-38)$$

**Example (2-11):**

A rectangular footing of breadth 6 m and length 15 m is founded at a depth of 4.5 m in a cohesive soil having the following properties:

$$C_u = 40 \text{ kN/m}^2 \quad \phi_u = 0 \quad \gamma = 18 \text{ kN/m}^3$$

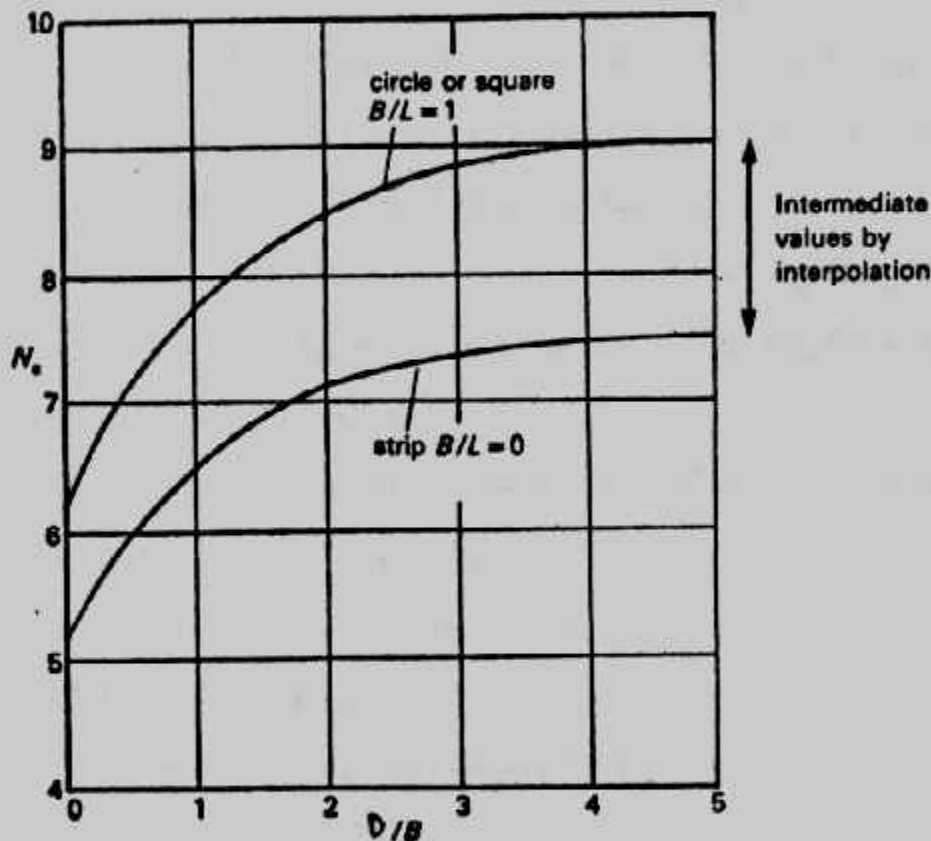
Determine the ultimate bearing capacity for the footing.

**Solution :**

$$D/B = 4.5/6.0 = 0.75 \quad B/L = 6/15 = 0.40$$

Using Skempton's  $N_c$  from Fig. (2-17) (interpolating):  $N_c = 6.7$

$$\text{So : } q_u = c_u N_c + \gamma D$$



Skempton's values of  $N_c$  when  $\phi = 0$

شكل (٢-١٧): معامل سكينتون للأساسات على الطين .

$$= 40 \times 6.7 + 18 \times 4.5 = \underline{349 \text{ kN/m}^2}$$

Using eqn [2-38] :

$$N_c = 6.2 (0.8 + 0.16 \times 0.4) = 5.6$$

$$\text{So } q_u = 40 \times 5.6 + 18 \times 4.5 = \underline{305 \text{ kN/m}^2}$$

Using the Hansen eqn [2.2] and factors from Tables 3.2 and 2.4 "

$$N_c = 5.14, \quad N_q = 1, \quad N_\gamma = 0$$

$$S_c = 1 + 0.40 \frac{1}{5.14} = 1.078, \quad S_q = 1.0$$

$$\text{So : } S_q = 40 \times 5.14 \times 1.078 + 18 \times 4.5 = 303 \text{ kN/m}^2$$

### قدرة تحمل الصخر : Bearing Capacity of Rock

الصخور نوع من أنواع التربة المكونة للقشرة الأرضية تتميز بالصلابة والتماسك .  
وهي كتل شديدة الترابط لا تكسر بسهولة باليد ولا تنفقت بسهولة ويعتبر الصخر أفضل أنواع  
التربة للتأسيس عليه . ورغم ذلك يجب الاهتمام بتصميم الأساسات على الصخر حيث قد تتجم  
مخاطر تؤدي إلى حركة صخرية كبيرة أو فشل مفاجئ .

ويوجد في بعض أنواع الصخور ما يمكن معاملته تماما كأي نوع عادي من أنواع  
التربة مثل الصخور اللينة أو ضعيفة التلاحم (مقاومتها لضغط الغير محصور تقل عن ١٠ كجم/  
سم<sup>٢</sup>) والصخور التي يمكن الحفر فيها بالوسائل اليدوية والرمل أو الزلط المتحجر الغير مستمر  
التلاحم والطباشير والطين الجيري والرماد البركاني والصخور المطحونة والصخور ذات  
الفواصل المستمرة المتقاربة والتربة المحتوية على كسر الصخور .

وتصنف الصخور طبقا لمقارنة الضغط الغير محصور لها على النحو الآتي :

- صخور عالية المقاومة جدا وهي صخور مقاومتها أكبر بكثير من الخرسانة حيث تتعدى  
٢٠٠ ميجا نيوتن/م<sup>٢</sup> (٢٠٠٠ كجم/سم<sup>٢</sup>) .
- صخور عالية المقاومة ومقاومتها أكبر من مقاومة الخرسانة حيث تتراوح بين ٥٠ - ٢٠٠  
ميجانيوتن/م<sup>٢</sup> (٥٠٠ إلى ٢٠٠٠ كجم/سم<sup>٢</sup>) .
- صخور متوسطة المقاومة : وهي التي مقاومتها تقترب من مقاومة الخرسانة بين ١٥ - ٥٠  
ميجانيوتن/م<sup>٢</sup> (١٥٠ - ٥٠٠ كجم/سم<sup>٢</sup>) .
- صخور ضعيفة المقاومة : وهي التي مقاومتها تقترب من مقاومة الطوب بين ٤ - ١٥  
ميجانيوتن/م<sup>٢</sup> (٤٠ - ١٥٠ كجم/سم<sup>٢</sup>) .
- صخور ضعيفة المقاومة جدا : وهي التي مقاومتها أقل من مقاومة الطوب ولا تتعدى ٤  
ميجانيوتن/م<sup>٢</sup> (٤٠ كجم/سم<sup>٢</sup>) .

كما تصنف الصخور طبقا للمسافات بين الفواصل الصخرية بها على النحو الآتي :

- صخور ذات فواصل متباعدة جدا وهي التي تزيد المسافات بين فواصلها عن ٣ مترا .
- صخور ذات فواصل متباعدة وهي التي تتراوح المسافات بين فواصلها من ١ - ٣ مترا .



• صخور ذات فواصل متقاربة نسبياً وهي التى تتراوح المسافات بين فواصلها من ٣, - ١,٠٠ متراً.

• صخور ذات فواصل متقاربة وهي التى تتراوح المسافات بين فواصلها من ٥-٣٠ سم.

• صخور ذات فواصل متقاربة جداً وهي التى تكون المسافات بين فواصلها أقل من ٥ سم.

كما تؤثر طبيعة الفواصل فى الصخور على تصنيفها من حيث عرض هذه الفواصل والمادة المائلة لها واتجاه هذه الفواصل ومدى تعرض اسطح تلامس الصخر للعوامل الجوية، وتتأثر صلاحية الصخر للتأسيس باتجاه الفواصل بالنسبة لاتجاه الحمل حيث أن وجود فاصل تحت الأساس قد يقلل من قدرة تحمل التكوين الصخرى. وقد يوصف الصخر بأنه يحتوى على فواصل ذات اتجاه حرج إذا كان هناك احتمال للإنزلاق على سطح الفاصل تحت تأثير محصلة أحمال الأساس. والصخر يعتبر سليماً إذا زادت المسافات بين فواصله عن ١,٠٠ متراً وإذا زادت مقاومة الضغط الغير محصور له عن ١٠٠٠ كيلو نيوتن/م<sup>٢</sup> (١٠ كجم/م<sup>٢</sup>) ويشترط أن تكون الفواصل من النوع المقفول والفواصل ذات اتجاه غير حرج.

وعند حساب قدرة التحمل قبل التصميم يجب دراسة ما يلى :

\* تحديد نوع وأماكن وجود الفواصل الواقعة فى مجال تأثير الأساس بما فى ذلك تحديد سمك هذه الفواصل.

\* تحديد مقاومة مادة الصخر.

ويمكن تقدير قدرة التحمل المسموح بها للتكوينات الصخرية ذى الخصائص الغير حرجة (أى الذى لا توجد به فواصل مفتوحة و سطح الصخر يكون عمودياً على الأساس أى الحمل ليس له مركبة مماسة) من :

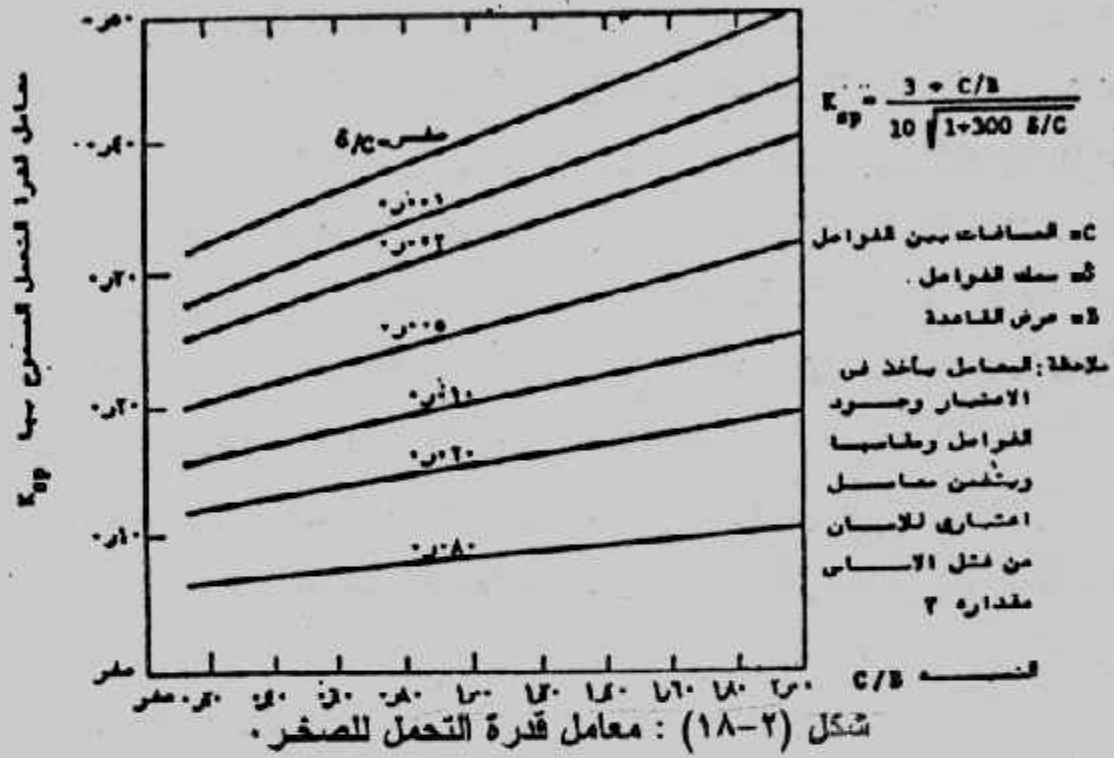
$$q_{all} = K_{sp} \cdot q_{u-core} \dots \dots \dots (2-39)$$

حيث  $q_{all}$  قدرة التحمل المسموح بها باعتبار معامل أمان مقداره ٣  $q_{u-core}$  مقاومة الضغط غير المحصور لعينات الصخر  $K_{sp}$  معامل يعتمد على المسافات بين الفواصل كما هو فى جدول (٢-٩).

جدول (٢-٩) قيم المعامل  $K_{sp}$

$K_{sp}$	المسافات بين الفواصل
٠,٤٠	متعادلة جداً (٣٠ متراً)
٠,٢٥	متعادلة (١ - ٣ متراً)
٠,١٠	متقاربة نسبياً (٠,٣ - ١,٠ متراً)

ويمكن اعتبار الصخر المحتوى على فواصل متقاربة نسبياً (٠,٣ - ١,٠٠ متراً) كحالة انتقالية من الصخر السليم والصخر الغير سليم . والعلاقة السابقة صالحة للصخور ذات الفواصل التى لا تقل المسافات بينها عن ٣٠ سم وسمكها أقل من ٥ مم أو سمكها أقل من ٢٥ مم لو كانت محتوية على مواد مائنة على ألا يقل عرض الأساس عن ٣٠ سم ويبين الشكل (٢-١٨) العوامل المؤثرة على قيمة المعامل  $K_{sp}$  وتأثير الفواصل على قدرة التحمل .



أما فى حالة الصخور الغير سليمة التى فيها فواصل شديدة التقارب أو كان الصخر مفتتاً أو متكسراً فإن الصخر يعامل معاملة التربة الغير متماسكة فى تعيين قدرة التحمل . وهناك تصنيف آخر للصخور حسب صلابتها طبقاً لمقاومتها للضغط . وهذا التصنيف مبين فى جدول (٢-١٠) .

جدول (٢-١٠): تصنيف الصخر طبقاً لمقاومة الضغط

النسبة المئوية للثروة للمعادن التى صلابتها أكبر من ٥.٥				الترتيب الضخمية للصخر (م/م/م)
صلب - ٢٥٪	٥٠ - ٧٥٪	٢٥ - ٥٠٪	٧٥ - ١٠٠٪	
لين		لين جداً		أقل من ٦٠
متوسط الصلابة		لين		٦٠ - ١٠٠
متوسط الصلابة		لين		١٠٠ - ١٤٠
صلب		متوسط الصلابة		١٤٠ - ١٨٠
صلب		متوسط الصلابة		١٨٠ - ٢٠٠
أكثر من ٢٠٠		متوسط الصلابة		٢٠٠ - ٢٤٠
أكثر من ٢٤٠		متوسط الصلابة		٢٤٠ - ٢٨٠
أكثر من ٢٨٠		متوسط الصلابة		٢٨٠ - ٣٢٠
أكثر من ٣٢٠		متوسط الصلابة		٣٢٠ - ٣٦٠
أكثر من ٣٦٠		متوسط الصلابة		٣٦٠ - ٤٠٠
أكثر من ٤٠٠		متوسط الصلابة		٤٠٠ - ٤٤٠
أكثر من ٤٤٠		متوسط الصلابة		٤٤٠ - ٤٨٠
أكثر من ٤٨٠		متوسط الصلابة		٤٨٠ - ٥٢٠
أكثر من ٥٢٠		متوسط الصلابة		٥٢٠ - ٥٦٠
أكثر من ٥٦٠		متوسط الصلابة		٥٦٠ - ٦٠٠
أكثر من ٦٠٠		متوسط الصلابة		٦٠٠ - ٦٤٠
أكثر من ٦٤٠		متوسط الصلابة		٦٤٠ - ٦٨٠
أكثر من ٦٨٠		متوسط الصلابة		٦٨٠ - ٧٢٠
أكثر من ٧٢٠		متوسط الصلابة		٧٢٠ - ٧٦٠
أكثر من ٧٦٠		متوسط الصلابة		٧٦٠ - ٨٠٠
أكثر من ٨٠٠		متوسط الصلابة		٨٠٠ - ٨٤٠
أكثر من ٨٤٠		متوسط الصلابة		٨٤٠ - ٨٨٠
أكثر من ٨٨٠		متوسط الصلابة		٨٨٠ - ٩٢٠
أكثر من ٩٢٠		متوسط الصلابة		٩٢٠ - ٩٦٠
أكثر من ٩٦٠		متوسط الصلابة		٩٦٠ - ١٠٠٠

ويمكن تعيين قدرة التحمل للصخر باستخدام معادلة ترزاغى على أن تكون معاملات قدرة التحمل على النحو الآتى :

$$N_q = \tan^6 (45 + \frac{\phi}{2}) \dots\dots\dots (2-40)$$

$$N_c = 5 \tan^4 (45 + \frac{\phi}{2}) \dots\dots\dots (2-41)$$

$$N_\gamma = N_q + 1 \dots\dots\dots (2-42)$$

وتعين  $\phi$ ,  $c$  للصخر من اختبار الضغط الثلاثى العالى التحميل وغالبا لا تقل عن  $\phi$  عن ٤٠ درجة ( $\phi$  للصخر من ٤٥ إلى ٥٥ درجة) وتتراوح  $c$  بين ٢,٥ إلى ٣٥ ميجاباسكال MPa . ومعادلات ترزاغى تعطى فيما عاليا لقدرة التحمل القصوى . وفى أغلب الحالات تؤخذ  $\phi = 45^\circ$  ما عدا الحجر الجيري فيؤخذ من ٣٨-٤٥ ° كما تؤخذ  $c = 5 \text{ MPa}$  كقيمة مقابلة .

ولذلك يستخدم معامل جودة الصخور Rock Quality Designation RQD فى حساب قدرة التحمل المطلوبة للتصميم  $q'_{ult}$  من :

$$q'_{ult} = q_{ult} (RQD)^2 \dots\dots\dots (2-43)$$

حيث  $q_{ult}$  هى المحسوبة من معادلات ترزاغى التى تعطى قيما عالية أما RQD فيعرف من :

$$RQD = \frac{\text{مجموع أطوال القطع السليمة الخارجة من اسطوانة العينات وأكبر من ١٠ سم}}{\text{طول اسطوانة العينات}}$$

ومثلا لو كان طول اسطوانة العينات ١٥٠ سم خرج منها عينات طولها ١٣١ سم من قطع الصخر السليمة والزلط والتراب وكان مجموع أطوال القطع السليمة الأكبر من ١٠ سم هى ٨٩ سم فإن :

$$RQD = 89/150 = 0.59$$

ويمكن تصنيف الصخر طبقا لقيمة RQD كما هو مبين فى جدول (٢-١١) .

جدول (٢-١١) تصنيف الصخر طبقا لقيمة RQD

RQD	Rock description
< 0.25	Very poor
0.25 - 0.50	Poor
0.50 - 0.75	Fair
0.75 - 0.90	Good
> 0.90	Excellent

#### Example (2-12) :

A drilled pier with a diameter = 1m to be founded at a depth of 3m. in a rock mass. From the cores the average RQD = 0.50 below the pier point.

**Solution :** Assume from inspection of the rock cores that :

$$\phi = 45^\circ \text{ and take } c = 5 \text{ kN/m}^2$$

The Terzaghi shape factors are  $S_c = 1.3$  and  $S_\gamma = 0.6$

Assume the unit weight of the dense rock  $\gamma = 25 \text{ kN/m}^3$

$$N_c = 5 \tan^4 \left( 45 + \frac{45}{2} \right) = 170$$

$$N_q = \tan^6 \left( 45 + \frac{45}{2} \right) = 198$$

$$N_\gamma = N_q + 1 = 199$$

$$\begin{aligned} q_{ult} &= cN_c S_c + qN_q + 0.5\gamma BN_\gamma S_\gamma \\ &= 5 \times 170 \times 1.3 + 25 \times 3 \times 198 + 0.5 \times 25 \times 1 \times 199 \times 0.6 \\ &= 17447.5 \text{ kN/m}^2 \end{aligned}$$

Use  $FS = 3$  and for  $RQD = 0.5$  obtain the reduced allowable bearing

$$\text{capacity as : } q_a = \frac{q_{ult} (RQD)^2}{3} = \frac{17447.5 (0.5)^2}{3} = 1453 \text{ kN/m}^2 \approx 15 \text{ kg/cm}^2$$

**قدرة التحمل للأساسات على التربة الطبقية :**

### Bearing Capacity for Footings on Layered Soils :

حينما يوضع الأساس على طبقات متتالية بحيث تكون الطبقة العلوية غير كافية لاحتواء منطقة

الإنهيار بالكامل تحت الأساس فإن قدرة التحمل القصوى يجب أن تعدل :

والحالات الآتية يمكن أن نقابلنا بالنسبة للتربة الطبقية :

١- الأساسات على تربة طبقية طينية ( $\phi = 0$ )

أ- الطبقة العلوية أضعف من الطبقة السفلية  $C_1 < C_2$

ب- الطبقة العلوية أقوى من الطبقة السفلية  $C_1 > C_2$

٢- الأساسات على تربة طبقية رملية أو طبقية طينية.

أ- رمل أسفله طين.

ب- طين أسفله رمل.

٣- الأساسات على تربة طبقية عامة ( $C-\phi$ )

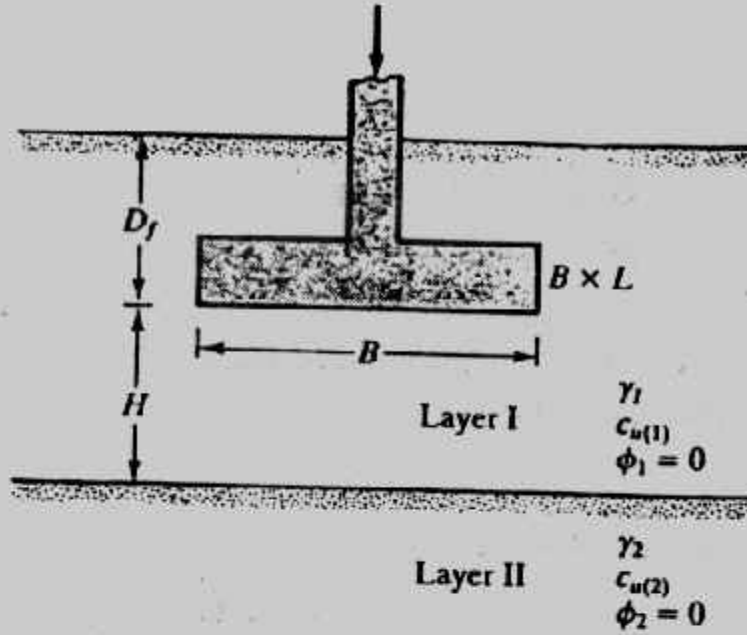
أ- الطبقة العلوية أضعف من الطبقة السفلية.

ب- الطبقة العلوية أقوى من الطبقة السفلية.

أولا : الأساسات على تربة طبقية طينية  $\phi = 0$  :

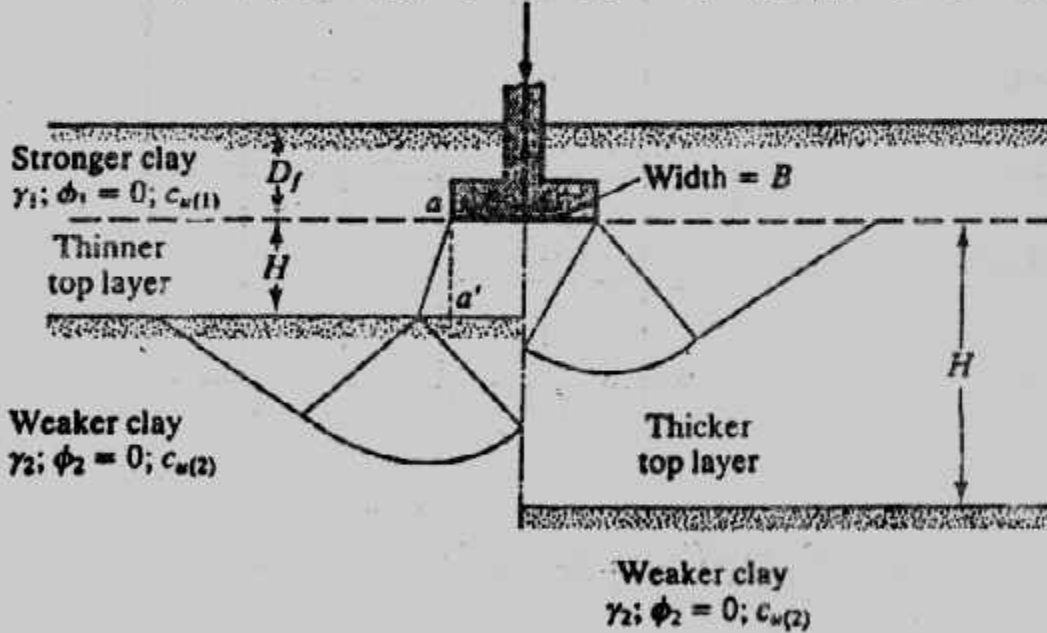
يبين الشكل (٢-١٨) أساس طحى على تربة مكونة من طبقتين طينيتين العلوية منها تمتد

إلى عمق  $H$  أسفل منسوب التأسيس والطبقة السفلية تمتد إلى امتداد كبير.



شكل (١٨-٢) : الأساسات على تربة طبقية طينية

فإذا كانت  $C_{u(1)}/C_{u(2)} > 1$  فإن الأساسات تتركز على طبقة طينية قوية أسفلها طبقة طينية ضعيفة. وإذا كانت  $H/B$  صغيرة نسبياً فإن انهيار التربة تحت الأساس سوف يتم بالإختراق في الطبقة العلوية وبالقصر العام في الطبقة السفلية، أما إذا كانت  $H/B$  كبيرة نسبياً فإن الإنهيار بالكامل سوف يتم في الطبقة العلوية كما هو مبين بشكل (١٩-٢).



شكل (١٩-٢) قدرة التحمل لطبقة طين قوية على طبقة ضعيفة.

ويمكن حساب قدرة التحمل من :

$$q_u = \left[ 1 + 0.2 \left( \frac{B}{L} \right) \right] C_{u(2)} N_c + \left( 1 + \frac{B}{L} \right) \left( \frac{2c_u H}{B} \right) + \gamma_1 D_f$$



من انهيار الاختراق  
على الطبقة العلوية

من انهيار القص  
العام على الطبقة السفلية

$$\leq \left[ 1 + 0.2 \left( \frac{B}{L} \right) \right] C_{u(1)} N_c + \gamma_f D_f \dots (2-44)$$

من انهيار القص العام على الطبقة العلوية

Where B = width of foundation

L = length of foundation

$N_c = 5.4$  (bearing capacity factor for  $\phi = 0$ )

$C_a$  = adhesion along the interface aa'

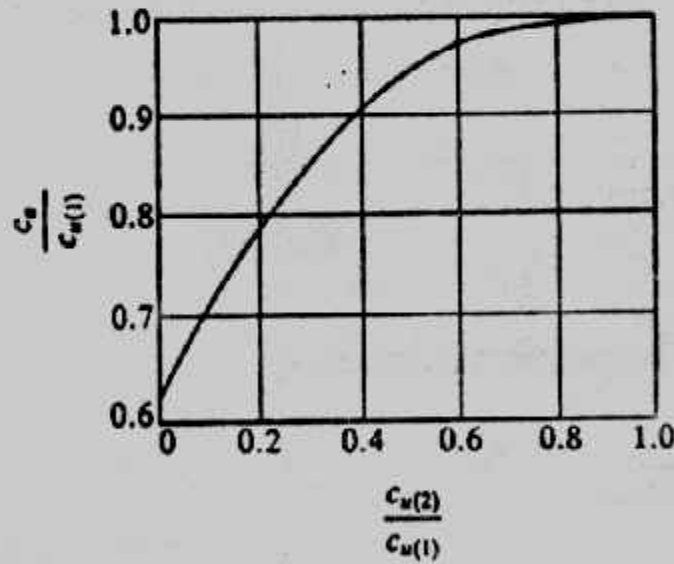
وبين شكل (٢٠-٢) التغير في  $C_a/C_u(1)$  مع  $C_u(2)/C_u(1)$

أما إذا كانت  $C_u(1)/C_u(2) < 1$  فإن الأساسات تتركز على طبقة طينية ضعيفة أسفلها طبقة طينية قوية وتحسب قرة التحمل في هذه الحالة من :

$$q_u = q_t + (q_b - q_t) \left( 1 - \frac{H}{H_f} \right)^2 \geq q_t \dots (2-45)$$

Where :

$$q_t = \left[ 1 + 0.2 \left( \frac{B}{L} \right) \right] C_{u(1)} N_c + \gamma_f D_f \dots (2-46)$$



شكل (٢٠-٢) التغير في  $C_a/C_u(1)$  مع  $C_u(2)/C_u(1)$

$$q_b = \left[ 1 + 0.2 \left( \frac{B}{L} \right) \right] C_{u(2)} N_c + \gamma_f D_f \dots (2-47)$$

$H_f \approx B$

Note that  $N_c = 5.14$  since  $\phi = 0$

ثانيا : الأساسات على الرمل المدموك وأسفله طين ناعم :

حينما تتركز الأساسات على رمل مدموك أو متقارب Loose or Compacted متبوع بطين ناعم فإنه فى حالة ما يكون سمك طبقة الرمل أسفل الأساس صغير نسبيا فإن سطح الإنهيار يمتد إلى طبقة الطين الناعم . شكل (٢-٢١) وإذا كانت طبقة الرمل تحت الأساس كبيرة نسبيا فإن سطح الإنهيار سوف يقع فى طبقة الرمل . وتحسب قدرة التحمل من :

$$q_u = cN_c + \gamma H^2 \left( 1 - \frac{2D_f}{H} \right) K_s \frac{\tan \phi}{B} + \bar{\gamma} D_f \dots (2-48)$$

وبقيمة قصوى

$$q_u = \frac{1}{2} \gamma B N_\gamma + \gamma D_f N_q \dots (2-49)$$

Where  $\phi$  = angle of friction of top sand layer

$\gamma$  = unit weight of sand

$K_s$  = punching shear resistance coefficient

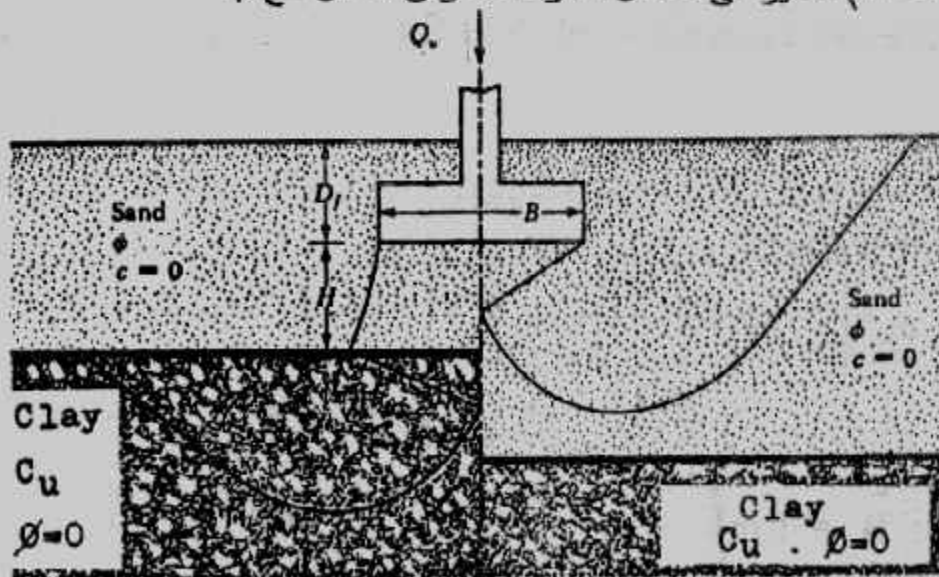
وتعين  $N_q$  ،  $N_\gamma$  بواسطة  $\phi$  من الجداول أو المنحنيات . وعندما تكون  $\phi = 0$  تؤخذ  $N_c = 5.14$  أما بالنسبة للأساس المستطيل :

$$q_u = \left( 1 + 0.2 \frac{B}{L} \right) C_u N_c + \left( 1 + \frac{B}{L} \right) \gamma H^2 \left( 1 + \frac{2D_f}{H} \right) K_s \frac{\tan \phi}{B} + \gamma D_f \dots (2-50)$$

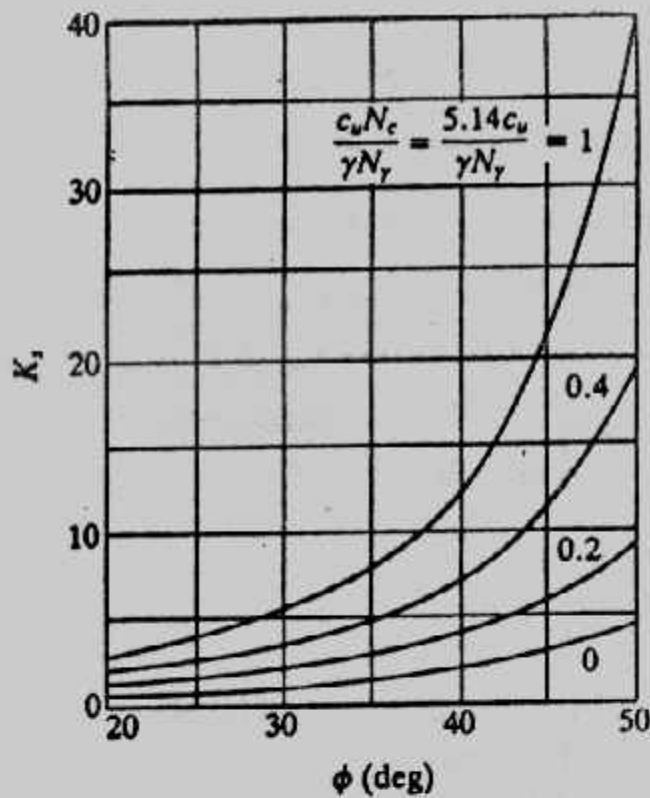
وبقيمة قصوى

$$q_u = \frac{1}{2} \left( 1 - 0.4 \frac{B}{L} \right) \gamma B N_\gamma + \gamma D_f N_q \dots (2-51)$$

وبين شكل (٢-٢٢) التغير فى معامل مقاومة اختراق القص مع  $\phi$  .



شكل (٢-٢١) أساس مرتكز على رمل مدموك أسفله طين .



شكل (٢-٢٢) تغير  $K_s$  مع  $\phi$

### Example (2-13):

Refer to Fig. (2-18) a foundation 1.5 m x 1 m is located at a depth ( $D_f$ ) of 1 m in a clay. A soft clay layer is located at a depth ( $H$ ) of 1 m measured from the bottom of the foundation Given:

For top clay layer :

Undrained shear strength = 120 kN/m<sup>2</sup>

Unit weight = 16.8 kN/m<sup>3</sup>

For bottom clay layer :

Undrained shear strength = 48 kN/m<sup>2</sup>

Unit weight = 16.2 kN/m<sup>3</sup>

Determine the gross allowable load for the foundation with a factor of safety of 4.

**Solution :**

Given :  $C_{u(1)} = 120$  kN/m<sup>2</sup>;  $C_{u(2)} = 48$  kN/m<sup>2</sup>. Since  $C_{u(1)}/C_{u(2)} > 1$ , Eq. 2-44 will apply, or :

$$\begin{aligned}
 q_u &= \left[ 1 + (0.2) \left( \frac{B}{L} \right) \right] C_{u(2)} N_c + \left( 1 + \frac{B}{L} \right) \left( \frac{2c_u H}{B} \right) + \gamma_f D_f \\
 &\leq \left[ 1 + (0.2) \left( \frac{B}{L} \right) \right] C_{u(1)} N_c + \gamma_f D_f
 \end{aligned}$$

Where :  $B = 1$  m

$L = 1.5$  m

$$D_f = 1 \text{ m}$$

$$H = 1 \text{ m}$$

$$N_c = 5.14$$

$$\gamma_1 = 16.8 \text{ kN/m}^3$$

From Fig. (2-20) for  $C_{u(2)}/C_{u(1)} = 48/120 = 0.4$ , the value of  $C_a/C_u(1) \approx 0.9$

$$\text{So : } C_a = (0.2)(120) = 108 \text{ kN/m}^2$$

$$\begin{aligned} \text{So } q_u &= \left[ 1 + (0.2) \left( \frac{B}{L} \right) \right] C_{u(2)} N_c + \left( 1 + \frac{B}{L} \right) \left( \frac{2c_a H}{B} \right) + \gamma_1 D_f \\ &= \left[ 1 + (0.2) \left( \frac{1}{1.5} \right) \right] (48)(5.14) + \left( 1 + \frac{1}{1.5} \right) \left[ \frac{(2)(108)(1)}{1} \right] (16.8)(1) \\ &= 279.6 + 460 + 16.8 = 656.4 \text{ kN/m}^2 \end{aligned}$$

Now check :

$$\begin{aligned} q_u &= \left[ 1 + (0.2) \left( \frac{B}{L} \right) \right] C_{u(2)} N_c + \gamma_1 D_f \\ &= \left[ 1 + (0.2) \left( \frac{1}{1.5} \right) \right] (120)(5.14) + (16.8)(1) \\ &= 699 + 16.8 = 715.8 \text{ kN/m}^2 \end{aligned}$$

So,  $q_u = 656.4 \text{ kN/m}^2$  (that is, the smaller of the two values calculated above)

$$q_{all} = \frac{q_u}{FS} = \frac{656.4}{4} = 164.1 \text{ kN/m}^2$$

Total allowable load is

$$(q_{all})(1 \times 1.5) = 246.15 \text{ kN}$$

### Example : 2-14

Refer to Fig. (2-21) Given :

For sand :

$$\gamma = 18.6 \text{ kN/m}^3$$

$$\phi = 40^\circ$$

For clay :

$$C_u = 19.15 \text{ kN/m}^2$$

For foundation :

$$B = 1 \text{ m} \quad L = 1.5 \text{ m} \quad D_f = 1 \text{ m} \quad H = 1.2 \text{ m}$$

Determine the gross ultimate bearing capacity of the foundation.

**Solution :**

Since the foundation is rectangular, Eqs. 2-50 and 2-51 will apply.

For  $\phi = 40^\circ$ , from Table (2-7)  $N_\gamma = 109.41$ .

$$\frac{C_u N_c}{\gamma N_\gamma} = \frac{19.15 \times 5.14}{18.6 \times 109.41} = 0.05$$

From Fig. (2-22) for  $C_u N_c / \gamma N_\gamma = 0.05$  and  $\phi = 40^\circ$ , the value of  $K_s \approx 3.1$

Using Eq. (2-50):

$$\begin{aligned}
q_u &= \left[ 1 + (0.2) \left( \frac{B}{L} \right) \right] C_u N_c + \left( 1 + \frac{B}{L} \right) \gamma H^2 \left( 1 + \frac{2D_f}{H} \right) K_s \frac{\tan \phi}{B} + \gamma D_f \\
&= \left[ 1 + (0.2) \left( \frac{1}{1.5} \right) \right] (19.15 \times 5.14) + \left( 1 + \frac{1}{1.5} \right) (18.6 \times 1.2)^2 \\
&\quad \times \left[ 1 + \frac{(2 \times 1)}{1.2} \right] (3.1) \frac{\tan 40}{1} + (18.6 \times 1) \\
&= 111.56 + 309.8 + 18.6 = 439.96 \text{ kN/m}^2
\end{aligned}$$

Again, from Eq. 2-51 :

$$q_u = \frac{1}{2} \left[ 1 - (0.4) \left( \frac{B}{L} \right) \right] \gamma B N_\gamma + \gamma D_f N_q$$

For  $\phi = 40^\circ$ ,  $N_q = 64.20$  (Table 2-7).

$$\begin{aligned}
\text{So : } q_u &= (0.5) \left[ 1 - (0.4) \left( \frac{1}{1.5} \right) \right] (18.6 \times 1 \times 109.41) + (18.6 \times 1 \times 64.20) \\
&= 746.18 + 1194.1 = 1940.3 \text{ kN/m}^2
\end{aligned}$$

Hence :

$$q_u = 439.96 \text{ kN/m}^2$$

أما بالنسبة للأساسات المرتكزة على طين متبوع برمل فتحسب قدرة التحمل بالطريقة الآتية والتي يمكن استخدامها أيضا للأساسات المرتكزة على رمل أسفله طين .

- تحسب القيمة H حيث :

$$H = 0.5 B \tan \left( 45 + \frac{\phi}{2} \right) \dots \dots \dots (2-52)$$

وذلك باستخدام  $\phi$  للتربة العلوية .

- إذا كانت  $H > d_1$  في شكل (٢-٢٣) فتحسب  $q_{ult}$  كما يلي :

- توجد  $q_{ult}$  بأى معادلة من المعادلات المعروفة وباستخدام بيانات الطبقة العلوية .
- بفرض أن انهيار الاختراق المرتبط بمحيط القاعدة ووزن الأتربة  $q_1$  والناتج عن  $d_1$  تحسب  $q_{ult}$  للطبقة السفلية باستخدام هذا المحيط . ويمكن زيادة  $q_{ult}$  بإضافة احتكاك مقاومة القص على محيط الإختراق .

• تقارن  $q_{ult}$  و  $q'_{ult}$  وتستخدم الأصغر قيمة .

• الخطوات السابقة يمكن ترجمتها للمعادلة الآتية :

$$q'_{ult} = q''_{ult} + \frac{p P_v K_s \tan \phi}{A_f} + \frac{p d_f c}{A_f} \leq q_{ult} \dots \dots \dots (2-53)$$

Where :

$q_{ult}$  = bearing capacity of top layer from equations in Table (2-8).



$q_{ult}''$  = bearing capacity of lower layer computed as for qult but using.

$B$  = footing dimension,  $\bar{q} = \gamma d_1$ ;  $c, \phi$  of lower layer.

$P$  = total perimeter for punching [may use  $2(B + L)$  or  $\pi \times \text{diam.}$ ]

$P_v$  = total vertical pressure from footing base to lower soil computed as  $\int_0^{d_1} \gamma h (dh) + \bar{q} d_1$

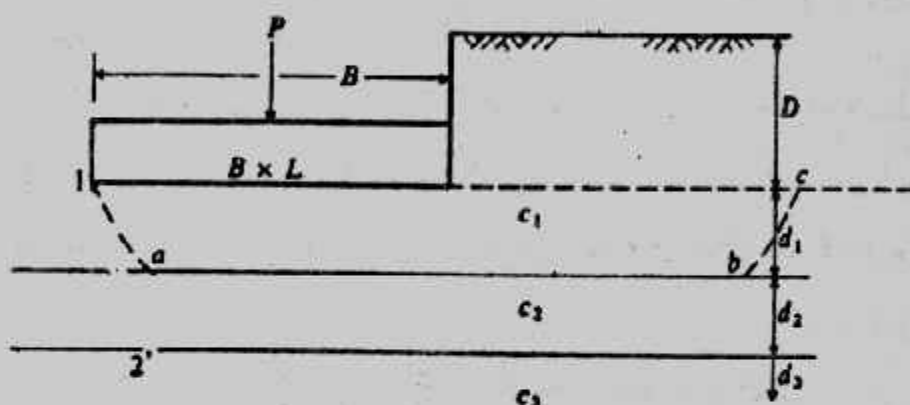
$K_s$  = lateral earth pressure coefficient which may range from  $\tan^2 \phi$  =  $(45 + \phi/2)$  or use  $K_o$ .

$\tan \phi$  = coefficient of friction between  $P_v K_s$  and perimeter shear zone wall.

$P d_1 c$  = cohesion on perimeter as a force.

$A_f$  = area of footing (converts perimeter shear forces to a stress).

والمعادلة السابقة يمكن أن تطبق لجميع أنواع التربة.



شكل (٢-٢٣): الأساسات على طين متبوع برمل أو العكس.

ثالثا : الأساسات على تربة طبقية عامة ( $C - \phi$  soil) :

هناك طرق متعددة لحساب قدرة التحمل على تربة طبقية عامة وأبسطها ما يقترح إيجاد

قيم  $C, \phi$  المعدلة بالنحو الآتى :

• تحسب  $H'$  بالمعادلة :

$$H' = 0.5 B \tan \left( 45 + \frac{\phi}{2} \right) \quad (2-56)$$

باستخدام  $\phi$  للطبقة العليا.

• إذا كان  $H' > d_1$  تحسب قيمة  $\phi$  المعدلة كما يلى :

$$\phi' = \frac{d_1 \phi_1 + (H' - d_1) \phi_2}{H'} \quad (2-55)$$

تحسب  $C$  المعدلة بنفس الطريقة التى حسبت بها  $\phi'$  للحصول على  $C'$  :

$$C' = \frac{d_1 c_1 + (H' - d_1) c_2}{H'} \quad (2-56)$$

• تستخدم أى معادلة فى المعادلات المذكورة فى أول هذا الباب لتعيين  $q_{ult}$  باستخدام  $\phi', c'$ .

• إذا كانت التربة العلوية أضعف أى  $\phi, C$  أقل فيجب التأكد من :

$$q_{ult} = 4c + \gamma D \quad (2-57)$$

وتصلح هذه الطريقة لأى امتداد من الطبقات المتوالية، ويوجد حل آخر للتربة الطبقة العامة المكونة من طبقات رفيعة بأخذ  $\phi, C$  المتوسطه لهذه الطبقات ثم استخدام أحد المعادلات المذكورة فى هذا الباب :

$$C_{av} = \frac{C_1 H_1 + C_2 H_2 + C_3 H_3 + \dots + C_n H_n}{\sum H_i} \quad (2-58)$$

$$\phi_{av} = \tan^{-1} \frac{H_1 \tan \phi_1 + H_2 \tan \phi_2 + \dots + H_n \tan \phi_n}{\sum H_i} \quad (2-59)$$

where :  $C_i$  = cohesion in stratum of thickness  $H_i$ ;  $c$  may be 0

$\phi_i$  = angle of internal friction in stratum of thickness  $H_i$ ;  $\phi$  may be zero

رابعاً : طريقة تقريبية لحساب قدرة التحمل للتربة الطبقة :

إذا كانت الطبقات السفلية ذات مقاومة مساوية أو أعلى من مقاومة الطبقة السطحية التى يركز عليها الأساس فلا تلزم دراسة تحمل الطبقات السفلية حيث أن جزءاً صغيراً من حمل الأساس سوف ينتقل إلى تلك الطبقات وسوف يكون من السهل لها أن تتحمل هذا الجزء الواصل إليها .

أما إذا كانت الطبقات السفلية ذات تحمل أقل أو أضعف فيتم اتباع الآتى :

• يوزع حمل الأساس بأى طريقة من طرق حساب الإجهاد الرأسى وأبسطها طريقة ٢ : ١

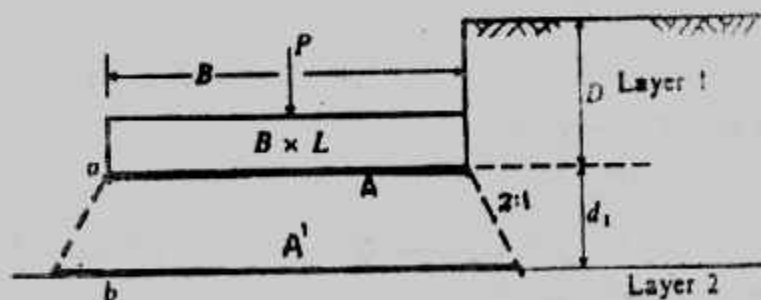
وتعين مساحة التحميل عند سطح الطبقة السفلية وليكن  $A'$  شكل (٢-٢٤) .

• تحسب  $q_{ult}$  للطبقة السفلية على اعتبار الحمل الواصل إليها على مساحة  $A'$  وبأى طريقة من

طرق الحساب المذكورة بهذا الباب ومنها :

$$q_{a. net} = \frac{q_{ult} - \gamma D}{FS} = \Delta \delta \quad (2-60)$$

• تحسب القيمة المسموح بها عند منسوب التأسيس من العلاقة :



(٢-٢٤) : توزيع الأحمال

$$q_a = \Delta\delta \cdot \frac{A'}{A} \dots\dots\dots(2-61)$$

• تعتبر أقل قيمة ناتجة من المعادلات السابقة هي قدرة التحمل المسموح بها.

### قدرة تحمل الأساسات على المنحدرات :

#### Bearing Capacity of Footing on Slopes :

تقل قدرة التحمل حينما تنفذ الأساسات على منحدرات أو قريبا وتتناقص قدرة التحمل كلما زاد ميل هذا الإتحدار وهذا التأثير يكون أكبر في حالة التربة غير المتعاسكة، وتحسب قدرة التحمل القصوى لأساسات شريطية Strip footings معرضة لحمل رأسي مركزي على منحدر أو قريبا منه، شكل (٢-٢٥) بالخطوات الآتية :

- تحدد نقطة e على المنحدر، وحيث أن خط الإتحدار يمثل مستوى أساسي Principal plane فإن الزاوية  $\alpha$  تساوي  $(45 - \phi/2)$
- يحدد معامل قدرة التحمل المنخفض  $N'_c$  من :

$$N'_c = N_c \frac{L_1}{L_0} \dots\dots\dots(2-62)$$

حيث :  $L_1$  = طول خط الإنزلاق adE في شكل (٢-٢٥).

$L_0$  = طول خط الإنزلاق ade في شكل (٢-٧)

- يحسب معامل قدرة التحمل المخفض  $N'_q$  من :

$$N'_q = N_q \frac{A'}{A} \dots\dots\dots(2-63)$$

حيث :  $A_1$  : مساحة الجزء gfe في شكل (٢-٥٢) (أ).

$A_0$  : أو مساحة الجزء hgfE في شكل (٢-٢٥) (ب)

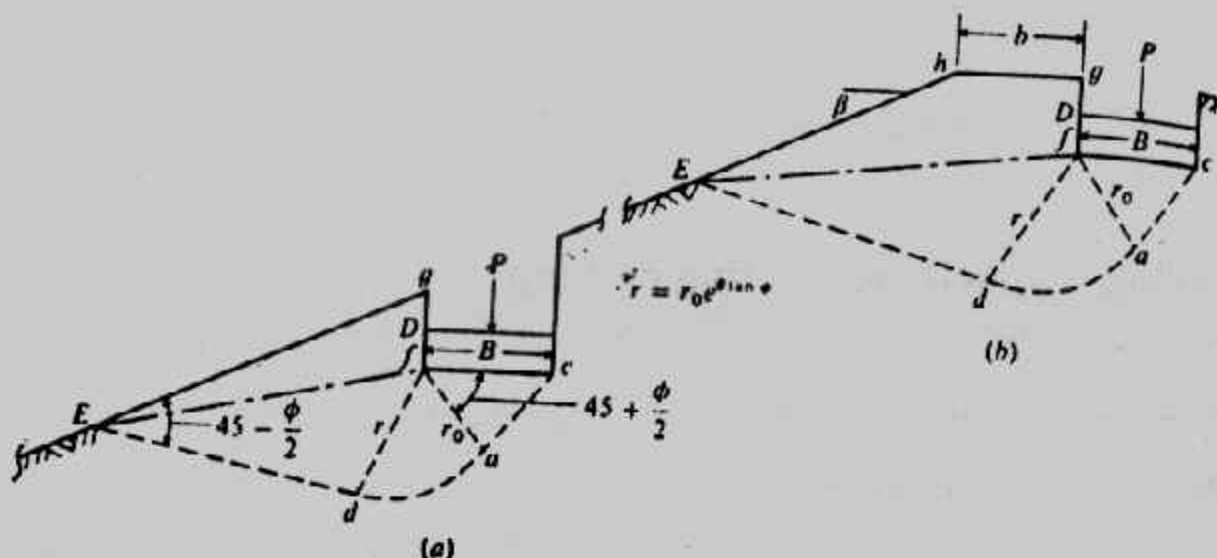
$A_0$  : مساحة الجزء ecnm في شكل (٢-٧)

- تؤخذ  $N_\gamma$  دون تغيير من جداول معادلة هاتزن . حيث أن قيمة  $N_\gamma$  لا تتأثر حيث أنها ترتبط بجزء الاختراق fca .

- تحسب قدرة التحمل باستخدام  $N'_c$  ،  $N'_q$  ،  $N_\gamma$  في معادلة هاتزن :

$$q_{ult} = cN'_c S_{c_i} + \bar{q}N'_q S_{q_i} + \frac{1}{2}\gamma B N_\gamma d_i i_\gamma$$

ولقد قدم باولسي جداول (٢- ) لتعيين  $N'_c$  ،  $N'_q$  مباشرة بدلالة عرض الأساس وبعده عن المنحدر ومنسوب التأسيس وزاوية الإحتكاك الداخلي وزاوية ميل المنحدر .



شكل (٢-٢٥) الأساسات على الميول أو بجوارها.

ولتعيين قدرة التحمل لأساس غير شريطي على منحدر أو قريب منه تستخدم العلاقة الآتية :

$$q_{ult} \text{ أساس شريطي على سطح أفقي} = q_{ult} \text{ أساس غير شريطي على سطح منحدر}$$

$q_{ult}$  أساس غير شريطي على سطح أفقي

$q_{ult}$  أساس غير شريطي على سطح منحدر

كما يجب التأكد من ثبات الميول تحت تأثير الأساسات على المنحدرات أو قريبا منها :

#### Example (2-15):

**Given :** A strip footing near the edge of a slope. The angle of internal friction is obtained from interpretation of the reference figure of  $\phi$  versus confining pressure.

Slope = 1 on 2 ( $\beta = 26.5^\circ$ ) and "compact sand"

$$\phi_t = 36^\circ$$

$$c = 0$$

$$\gamma = 14.85 \text{ kN/m}^3$$

Case I :  $b/B = 0.75$ ,  $D/B = 1.50$

Case II :  $b/B = 1.50$ ,  $D/B = 0.0$

Required :  $q_{ult}$

**Solution :** Case 1 :

$$(a) \text{ By cited method, } q_{ult} = cN_c + \frac{1}{2} \gamma B N_{\gamma q}$$

$$\text{and } N_{\gamma q} \approx 120$$

$$q_{ult} = \frac{1}{2} (14.86)(120) B = 891B$$

(b) Using the Hansen  $N_{\gamma}$ . Do not adjust  $\phi_{tr}$  to  $\phi_{ps}$ . For strip footing

$$S_q = S_c = S_{\gamma} = d_{\gamma} = 1.0$$

$$D = 1.5B$$

$$q_{ult} = \gamma D N_q + \frac{1}{2} B N_\gamma$$

$N'_q = 27$  (obtained and not direct linear interpolation)

$N_\gamma = 38$  (direct computation of Hansen value)

$$\begin{aligned} q_{ult} &= \bar{q} N_q + \frac{1}{2} \gamma B N_\gamma \\ &= 14.85 (1.5B)(27) + \frac{1}{2} (14.85) B (38) \\ &= 601 B + 282 B = 883 B < 891 B \end{aligned}$$

Case II: For a footing on the surface ( $D/B = 0$ ) and at  $1.5B$  from the edge of slope ( $b/B = 1.5$ ). Experimentally.

$$q_{ult} = \frac{1}{2} (14.85)(B)(35) = 260 B \text{ kpa}$$

By Bowles,  $\bar{q} = 0$  and  $N_\gamma = 38$  (computed)

$$q_{ult} = \frac{1}{2} (14.85)(B)(38) = 282 B \text{ kpa}$$

The largest difference is obtained at  $D/B = 0$  and  $b/B = 0$ . These experimental results will be greatly influenced by tack of confinement at  $D/B = 0$  and produce results which are different from theory. Note, however, no one would place a footing at  $D/B = 0$  on sand.

جدول (٢-١٢): معاملات قدرة التحمل للأساسات على الميول أو القريبة منها (Bowles)

	$D/B = 0$					$D/B = 0.75$					$D/B = 1.50$				
	$\phi = 0$	10	20	30	40	0	10	20	30	40	0	10	20	30	40
$N_q$	5.14	8.15	14.83	30.14	75.31	5.14	8.35	14.83	30.14	75.31	5.14	8.35	14.83	30.14	75.31
$N_\gamma$	1.03	2.47	6.40	18.40	64.20	1.03	2.47	6.40	18.40	64.20	1.03	2.47	6.40	18.40	64.20
10	4.89	7.80	13.37	26.80	64.42	5.14	8.35	14.83	30.14	75.31	5.14	8.35	14.83	30.14	75.31
	1.05	2.47	6.40	18.40	64.20	0.92	1.95	4.43	11.16	33.94	1.03	2.47	6.40	18.40	64.20
20	4.63	7.28	12.39	23.78	55.01	5.14	8.35	14.83	30.14	66.51	5.14	8.35	14.83	30.14	75.31
	1.03	2.47	6.40	18.40	64.20	0.94	1.90	4.11	9.84	28.21	1.03	2.47	6.40	18.40	64.20
25	4.51	7.03	11.82	22.34	50.30	5.14	8.35	14.83	28.76	62.18	5.14	8.35	14.83	30.14	75.31
	1.03	2.47	6.40	18.40	64.20	0.93	1.82	3.85	9.00	25.09	1.03	2.47	6.40	18.40	64.20
30	4.38	6.77	11.28	21.03	46.33	5.14	8.35	14.83	27.16	57.76	5.14	8.35	14.83	30.14	68.84
	1.03	2.47	6.40	18.40	64.20	0.88	1.71	3.34	8.08	21.91	1.03	2.47	6.40	18.40	64.20
40	3.62	5.53	8.35	14.34	28.54	4.70	6.83	10.55	17.83	34.84	5.14	8.35	12.76	21.37	41.12
	1.03	2.47	6.40	18.40	64.20	0.37	0.63	1.17	2.34	5.52	0.42	1.04	1.93	3.93	7.90
	$D/B = 0$					$D/B = 0.75$					$D/B = 1.50$				
	$\phi = 0$	10	20	30	40	0	10	20	30	40	0	10	20	30	40
10	5.14	8.35	14.34	28.02	66.00	5.14	8.35	14.83	30.14	75.31	5.14	8.35	14.83	30.14	75.31
	1.03	2.47	6.40	18.40	64.20	1.03	2.34	5.34	13.47	40.83	1.03	2.47	6.40	13.79	43.43
20	5.14	8.31	13.90	26.19	59.31	5.14	8.35	14.83	30.14	71.11	5.14	8.35	14.83	30.14	75.31
	1.03	2.47	6.40	18.40	64.20	1.03	2.47	6.04	14.39	40.84	1.03	2.47	6.40	16.31	43.96
25	5.14	8.29	13.69	25.36	56.11	5.14	8.35	14.83	30.14	67.49	5.14	8.35	14.83	30.14	75.31
	1.03	2.47	6.40	18.40	64.20	1.03	2.47	6.27	14.56	40.04	1.03	2.47	6.40	16.30	43.35
30	5.14	8.27	13.49	24.37	53.16	5.14	8.35	14.83	30.14	64.04	5.14	8.35	14.83	30.14	74.92
	1.03	2.47	6.40	18.40	64.20	1.03	2.47	6.40	14.52	38.72	1.03	2.47	6.40	13.85	40.33
40	5.14	7.94	12.77	20.43	39.44	5.14	8.35	14.38	23.84	45.72	5.14	8.35	14.83	27.46	52.00
	1.03	2.47	6.40	18.40	64.20	1.03	2.47	5.14	10.05	32.56	1.03	2.47	4.97	9.41	30.33
	$D/B = 0$					$D/B = 0.75$					$D/B = 1.50$				
	$\phi = 0$	10	20	30	40	0	10	20	30	40	0	10	20	30	40
10	5.14	8.35	14.83	29.24	68.78	5.14	8.35	14.83	30.14	75.31	5.14	8.35	14.83	30.14	75.31
	1.03	2.47	6.40	18.40	64.20	1.03	2.47	6.01	15.39	49.09	1.03	2.47	6.40	17.24	49.77
20	5.14	8.35	14.83	28.59	63.80	5.14	8.35	14.83	30.14	75.31	5.14	8.35	14.83	30.14	75.31
	1.03	2.47	6.40	18.40	64.20	1.03	2.47	6.40	18.40	53.31	1.03	2.47	6.40	18.40	52.58
25	5.14	8.35	14.83	28.33	61.41	5.14	8.35	14.83	30.14	72.80	5.14	8.35	14.83	30.14	75.31
	1.03	2.47	6.40	18.40	64.20	1.03	2.47	6.40	18.40	53.20	1.03	2.47	6.40	18.40	52.97
30	5.14	8.35	14.83	28.09	59.44	5.14	8.35	14.83	30.14	70.32	5.14	8.35	14.83	30.14	75.31
	1.03	2.47	6.40	18.40	64.20	1.03	2.47	6.40	18.40	56.41	1.03	2.47	6.40	18.40	52.63
40	5.14	8.35	14.83	26.32	50.32	5.14	8.35	14.83	30.03	54.60	5.14	8.35	14.83	30.14	62.88
	1.03	2.47	6.40	18.40	64.20	1.03	2.47	6.40	18.40	46.18	1.03	2.47	6.40	16.72	46.17



## قدرة التحمل من اختبار الاختراق القياسي : Bearing Capacity from SPT

اختبار الاختراق القياسي من الاختبارات الهامة التي تجرى في الموقع أثناء تنفيذ الجسات ولذلك فمن الأهمية تعيين قدرة التحمل من نتائج هذا الاختبار على اعتبار حدوث هبوط مقداره ٢٥ مم :

$$\text{For } B \leq 1.2 \text{ m : } q_{\text{net, all}} = 11.98 N \text{ kN/m}^2 \dots\dots\dots(2-64)$$

$$\text{For } B > 1.2 \text{ m : } q_{\text{net, all}} = 7.88 N \left( \frac{3.28B+1}{3.28B} \right)^2 \text{ kN/m}^2 \dots\dots\dots(2-65)$$

$N$  = corrected standard penetration number

ويقترح بولس Bowles زيادة قدرة التحمل الصافية المسموح بها بمقدار لا يقل عن ٥٠% لتصبح القيم المعد له على النحو الآتي :

$$\text{For } B \leq 1.2 \text{ m : } q_{\text{net all}} = 19.16 N F_d \left( \frac{S}{25.4} \right) \text{ kN/m}^2 \dots\dots\dots(2-66)$$

$$\text{For } B > 1.2 \text{ m : } q_{\text{net all}} = 11.98 N \left( \frac{3.28B+1}{3.25B} \right)^2 F_d \left( \frac{S}{25.4} \right) \text{ kN/m}^2 \dots\dots\dots(2-67)$$

$$F_d = \text{depth factor} = \left( 1 + 0.33 \frac{D_f}{B} \right) \leq 1.33$$

ويمكن حساب قدرة التحمل الصافية المسموح بها من الأشكال (٢-٢٦، ب، ج) كما

يمكن حساب قدرة التحمل المسموح بها من :

$$\text{For } B \leq 1.2 \text{ m : } q_{\text{all}} = \frac{N}{0.05} F_d \text{ kN/m}^2 \dots\dots\dots(2-68)$$

$$\text{For } B > 1.2 \text{ m : } q_{\text{all}} = \frac{N}{0.08} \left( \frac{B+0.3}{B} \right)^2 F_d \text{ kN/m}^2 \dots\dots\dots(2-69)$$

وفي حالة الحساب لهبوط يختلف عن ٢٥ مم تستخدم :

$$S \text{ لاي هبوط } q_{\text{all}} = \frac{S}{25} q_{\text{all}} \dots\dots\dots(2-70)$$

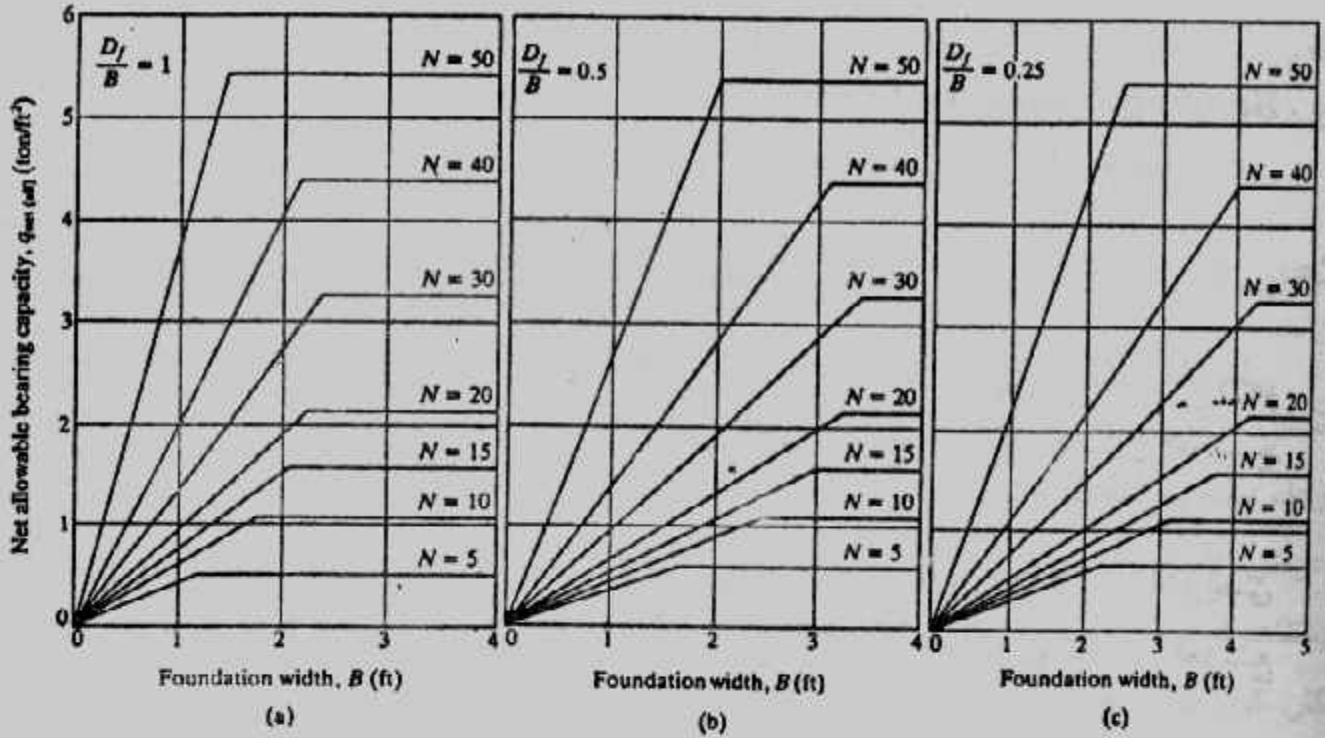
$S$  = Settlement in mm.

كما يمكن تعيين  $q_{\text{all}}$  من المنحنيات في شكل ٢-٢٧ طبقاً لقيم  $N$  ،  $B$  كما يجب ملاحظة أن

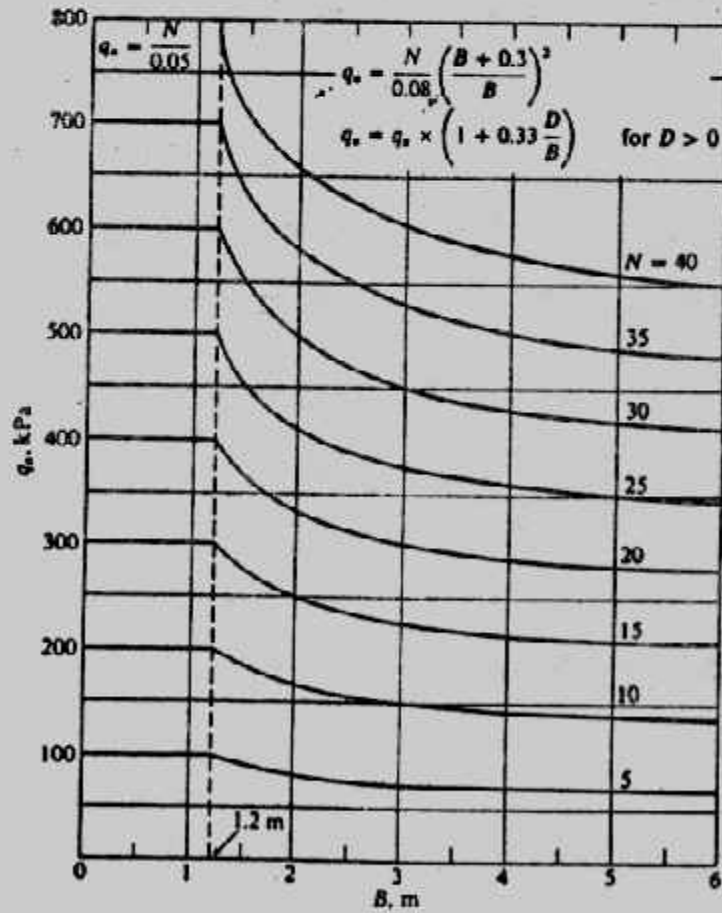
$N$  المستخدمة في العلاقات السابقة وفي المنحنيات هي  $N$  بعد إجراء التصحيحات اللازمة.

كما قدم باري Parry معادلة عامة :

$$q_{\text{ult}} = 30 N \text{ kN/m}^2 (D \leq B) \dots\dots\dots(2-71)$$



شكل (٢-٢٦): تعيين قدرة التحمل الصافية الأمان من  $N$



شكل (٢-٢٧): قدرة التحمل المسموح بها لهبوط أقصى ٢٥ مم

## قدرة التحمل من اختبار الاختراق بالمخروط :

### Bearing Capacity from CPT

أما إذا أجرى اختبار الاختراق بالمخروط في الموقع فإنه يمكن تقدير قدرة التحمل من

نتيجة هذا الاختبار  $q_u$  :

للتربة الغير متماسكة وبشرط  $D/B \leq 1.5$

$$q_{ult} = 28 - 0.0052 (300 - q_c)^{1.5} \text{ kg/cm}^2 \dots\dots\dots(2-72)$$

$$q_{ult} = 48 - 0.009 (300 - q_c)^{1.5} \text{ kg/cm}^2 \dots\dots\dots(2-73)$$

وللتربة الطينية :

$$q_{ult} = 2 + 0.28 q_c \text{ kg/cm}^2 \dots\dots\dots(2-74)$$

$$q_{ult} = 5 + 0.34 q_c \text{ kg/cm}^2 \dots\dots\dots(2-75)$$

كما يمكن تعيين قدرة التحمل الامنة الصافية من :

$$\text{For } B \leq 1.2\text{m}, q_{net \text{ all}} = \frac{q_c}{15} \dots\dots\dots(2-76)$$

$$\text{For } B > 1.2 \text{ m}, q_{net \text{ all}} = \frac{q_c}{25} \left( \frac{3.28B+1}{3.28B} \right)^2 \dots\dots\dots(2-77)$$

وذلك لقيم هبوط مقدارها  $S = 25.4 \text{ mm}$

كما يمكن تعيين قدرة التحمل المسموح بها من :

للقواعد المربعة والشريطية وحينما يكون  $B \leq 1.2\text{m}$

$$q_{all} = 3.6 q_c \text{ kN/m}^2 \approx \frac{q_c}{30} \text{ kg/cm}^2 \dots\dots\dots(2-78)$$

للقواعد المربعة والشريطية وحينما يكون  $B > 1.2 \text{ m}$

$$q_{all} = 2.1 q_c \left( 1 + \frac{1}{B} \right)^2 \text{ kN/m}^2 \approx \frac{q_c}{50} \left( 1 + \frac{1}{B} \right)^2 \text{ kg/cm}^2 \dots\dots\dots(2-79)$$

وبصفة عامة :

$$q_{all} = 2.7 q_c \text{ kN/m}^2 \approx \frac{q_c}{40} \text{ kg/cm}^2 \dots\dots\dots(2-80)$$

كما يمكن إيجاد  $N$  من  $q_c$  :

$$N = \frac{q_c}{4} \dots\dots\dots(2-81)$$

ومن N يمكن تعيين قدرة التحمل بأى من الطرق المذكورة سابقاً. ويجب ملاحظة أن القيم السابقة تخفض للنصف إذا كان الرمل المتأثر بالأساس مغموراً، وتضاعف فى حالة أساس اللبشة أو الدعامات.

### تعيين قدرة التحمل من اختبار التحميل الموقعى Field Load Test :

قدرة التحمل القصوى وكذلك قدرة التحمل الأمانة للهبوط يمكن تعيينهما من اختبار تحميل موقعى يسمى التحميل باللوح Plate Load Test ويفضل إجراء هذا الاختبار فى الموقع وعند منسوب التأسيس المقترح فى حالة تجانس التربة وعند كل طبقة حتى عمق يساوى ضعف عرض الأساس المقترح أسفل منسوب التأسيس إذا كانت التربة متعددة الطبقات وفى هذا الاختبار يستخدم لوح من الصلب تخالته ٢٥ مم وبقطر أو طول ضلع يتراوح بين ١٥ إلى ٧٥ سم. وإن كان أشهر لوح مستخدم هو ٣٠,٥ × ٣٠,٥ سم (مربع الشكل).

وعند تنفيذ الاختبار يتم الحفر إلى عمق التأسيس أو إلى عمق لا يقل عن أربع أمثال عرض أو قطر اللوح ثم يوضع اللوح فى مركز الحفرة ويتم تحميله على مراحل تعادل ١/٤ إلى ٥/١ الحمل الأقصى المحسوب باستخدام رافعة هيدروليكية شكل (٢-٢٨)، ولكل مرحلة تحميل يسجل الهبوط باستخدام مقياس الانفعال Dial gauge وتؤثر كل مرحلة تحميل فترة لا تقل عن ساعة واحدة قبل التأثير بالحمل التالى. ويستمر التحميل للوصول إلى مرحلة الإتهيار أو حدوث هبوط مقداره ٢٥ مم. وتمثل العلاقة بين الأحمال والهبوط ومنها يتم الحصول على أقصى حمل لوحدة المساحة من اللوح وهو الذى يحدث عنده تغير كبير فى ميل المنحنى بمقياس لوغارىتمى شكل (٢-٢٨).

ومن نتائج هذا الاختبار يمكن تعيين قدرة التحمل القصوى وفقاً لنوع التربة :

بالنسبة للتربة المتماسكة :

$$q_u(F) = q_u(p) \dots \dots \dots (2-82)$$

بالنسبة للتربة الغير متماسكة :

$$q_u(F) = q_u(P) \frac{B_F}{B_p} \dots \dots \dots (2-83)$$

where :  $B_F$  = width of the foundation

$B_p$  = width of the test plate

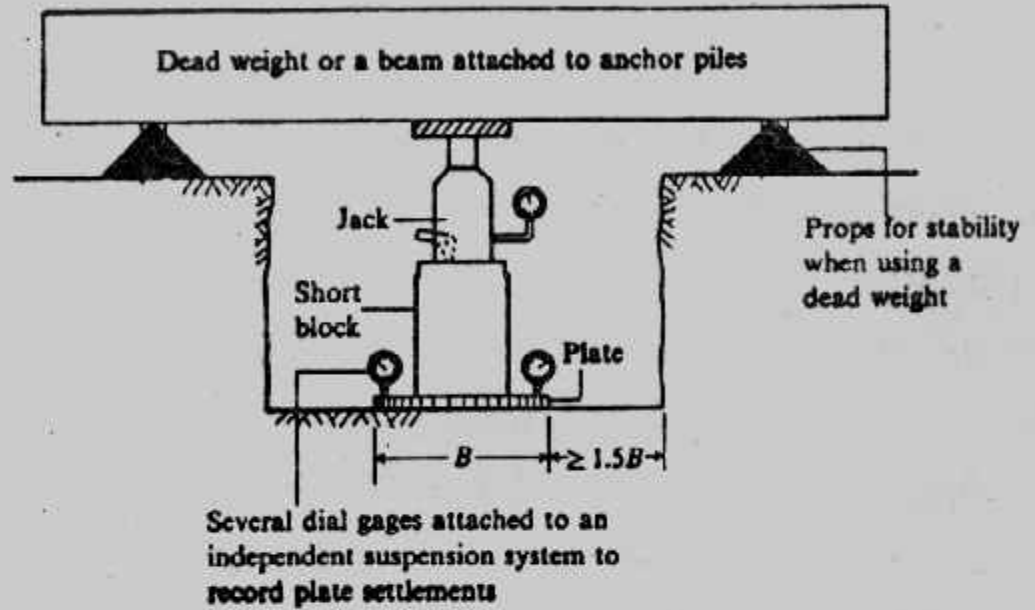
$q_u(F)$  = ultimate bearing capacity of proposed foundation.

$q_u(P)$  = ultimate bearing capacity of the test plate.

وللحصول على قدرة التحمل المسموح بها باعتبار الهبوط فى الحساب تستخدم المعادلات الآتية :

$$S_F = S_P \frac{B_F}{B_P} \text{ (for clayey soil) } \dots\dots\dots(2-84)$$

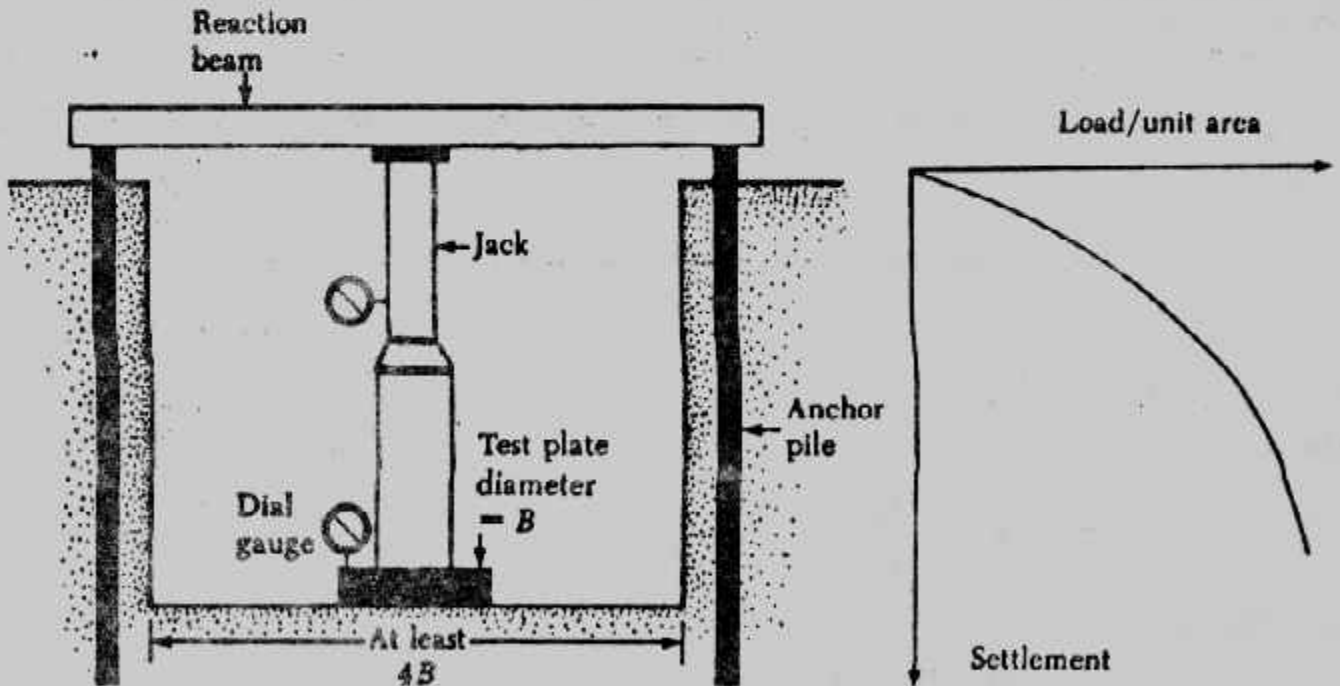
$$S_F = S_P \left( \frac{B_F}{B_P} \right)^2 \left( \frac{3.28 B_P + 1}{3.28 B_F + 1} \right)^2 \text{ (for sandy soil) } \dots\dots\dots(2-85)$$



أ- اختبار التحميل بإجمال

ب- اختبار التحميل بخوازيق

ج- علاقة الهبوط بالحمل



شكل (٨-٢) اختبار التحميل الموقعي

ويمكن حساب قدرة التحمل باعتبار الهبوط في الحساب بتنفيذ اختبار التحميل على لوحين مفردين أبعادهما  $B_1$  ،  $B_2$  ويتم الحصول على أقصى حمل لكل منهما  $Q_1$  ،  $Q_2$  ونجد أن :



$$Q_1 = A_1 m + P_1 n \dots\dots\dots(2-86)$$

$$Q_2 = A_2 m + P_2 n \dots\dots\dots(2-87)$$

where :  $A_1, A_2$  = areas of the plates No. 1 and No.2, respectively

$P_1, P_2$  = perimeters of the plates No. 1 and No.2, respectively.

$m, n$  = two constants that correspond to the bearing pressure and perimeter shear, respectively.

وقيم  $m, n$  تعينان بحل المعادلتين السابقتين ولأى أساس فى هذا الموقع يكون :

$$Q_o = A m + P n \dots\dots\dots(2-88)$$

where :  $A$  = area of the foundation

$P$  = perimeter of the foundation

ومن هذه المعادلة يمكن تعيين عرض الأساس من مساحته :

### Example 2-16 :

The results of a plate load test in a sandy soil are shown in Fig. (2-29). The size of the plate is 0.305 m x 0.305 m. Determine the size of a square column foundation that should carry a load of 2500 kN with a maximum settlement of 25 mm.

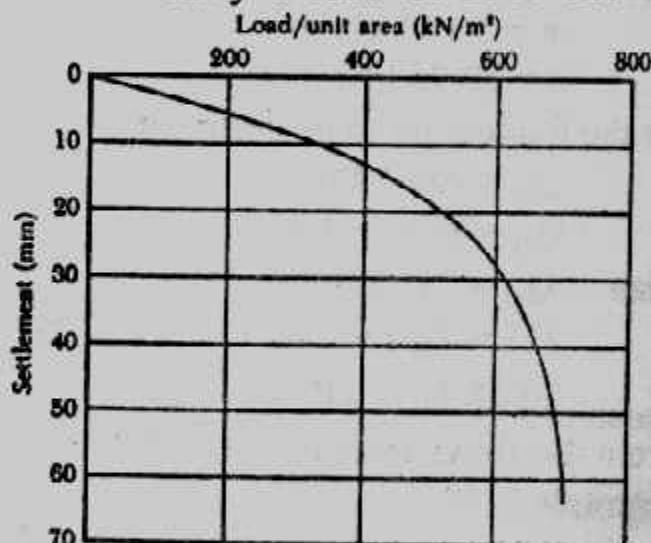


Fig. (2-29)

### Solution :

The problem has to be solved by a trial and error procedure. Use the following table and Eq (2-85).

$Q_o$ (kN) (1)	Assume width $B_f$ (m) (2)	$q_o = \frac{Q_o}{B_f^2}$ (kN/m²) (3)	$S_f$ corresponding to $q_o$ in Col. 3 (mm) (4)	$S_f$ from Eq. (3.116) (mm) (5)
2500	4.0	156.25	4.0	13.80
2500	3.0	277.80	8.0	26.35
2500	3.2	244.10	6.8	22.70
2500	3.1*	260.10	7.2	23.86

\* So, a column footing with dimensions of 3.1 m x 3.1 m will be appropriate.

\* So, a column footing with dimensions of 3.1 m x 3.1 m will be appropriate.

**Example 2-17 :**

The results of two plate load tests are given in the following table.

Plate diameter, $B$ (m)	Total load, $Q$ (kN)	Settlement (mm)
0.305	32.2	20
0.610	71.8	20

A square column foundation has to be constructed to carry a total load of 715 kN. The tolerable settlement is 20 mm. Determine the size of the foundation.

**Solution :**

Referring to Eqs. (2-86) and (2-87)

$$32.2 = \frac{\pi}{4} (0.305)^2 m + \pi (0.305) n \quad \dots\dots\dots (a)$$

$$71.8 = \frac{\pi}{4} (0.610)^2 m + \pi (0.610) n \quad \dots\dots\dots (b)$$

From the preceding two equations,

$$m = 50.68 \text{ kN/m}^2$$

$$n = 29.75 \text{ kN/m}$$

for the foundation to be designed

$$Q_o = Am + Pn$$

or  $Q_o = B_f^2 m + 4 B_f n$

Given :  $Q_o = 715 \text{ kN}$ . So,

$$715 = B_f^2 (50.68) + 4 B_f (29.75)$$

or  $50.68 B_f^2 + 119 B_f - 715 = 0$

From the above equation,  $B_f \approx 2.8 \text{ m}$

**Example 2-18 :**

A footing 3 m x 3 m is existing over a sandy soil. The maximum settlement allowed is 15 cm. Two load tests are made of the site, one with a 1 m x 1 m test plate and the other with a 2.0 m x 2.0 m plate. For 1.5 cm settlements, the corresponding loads for the two tests were found to be 10 tonnes and 30 tonnes respectively. Calculate the bearing capacity of the soil. What load the 5m x 5 m footing shall be able to carry on the same soil?

**Solution :** Following equation has been given by Housel to determine bearing capacity of the soil.

$$W = Ap = Am + Pn$$

where :  $W = \text{total load in kg.}$

$A = \text{area in m}^2.$

$Po = \text{perimeter in metres.}$

$p = \text{bearing capacity in kg/m}^2.$

$m$  = comp. stress on soil in column directly below the foundation in  $\text{kg/m}^2$ .

$n$  = perimeter shear in  $\text{kg/m}$ .

For 1 m x 1 m test plate

$$A = 1 \times 1 = 1 \text{ m}^2$$

$$P = 4 \times 1 = 4 \text{ m}$$

$$W = Am + Pn \text{ or } 10,000 = x + 4y \dots\dots\dots(1)$$

For 2.0 m x 2.0 m test plate

$$A = 2.0 \times 2.0 = 4.0 \text{ m}^2$$

$$P = 4 \times 2.0 = 8.0 \text{ m}$$

Taking 2nd case

$$30,000 = 4m + 8n$$

Solving for  $m$  and  $n$  .....(2)

$$\text{and } 20,000 = 2m + 8n$$

For which, we get  $m = 5000$  and  $n = 1250$

Now for 5 m x 5 m footing

$$A = 5 \times 5 = 25 \text{ m}^2$$

$$\text{and } P = 4 \times 5 = 20 \text{ m}$$

Now, we have  $AP = Ax + Py$

$$\begin{aligned} \text{or } P &= m + \frac{P}{A} n \\ &= 5000 + \frac{20}{25} \times 1250 \\ &= 5000 + 1000 = 6000 \text{ kg/m}^2 \end{aligned}$$

The maximum load which the footing of 5 m x 5 m size can take with a maximum settlement of 1.5 cm.

$$\begin{aligned} W &= p A = 6000 \times 5 \times 5 \\ &= 6 \times 25 = 150 \text{ tonnes.} \end{aligned}$$

Hence, bearing capacity of the soil is  $6000 \text{ kg/m}^2$  and the given footing will be able to take 150 tonnes of load.

#### Example 2-19 :

A structure was built on a raft foundation. The raft rested at the ground surface on a stratum of uniform soft clay ( $\phi = 0$ ) which extended to a depth of 50 m. If failure occurred at a uniformly distributed load of 25 tonnes sq. m, and size of the raft was 20m x 20m, calculate the average value of  $c$  for the clay.

**Solution** : From equation 2-6 bearing capacity for a square footing is given by

$$q = 1.3cN_c + \gamma d N_q + 0.4\gamma b N_\gamma$$

Since the foundation is at ground surface  $d = 0$  and hence 2nd term of the equation will vanish.

Again for  $\phi = 0$ , bearing capacity factors  $N_c = 5.70$ ,  $N_q = 1.00$  and  $N_\gamma = 0$  hence we are having above expression as  $q = 1.3 c N_c$ .

Since at stress of 25 tonnes/m<sup>2</sup> failure occurred hence this may be taken as ultimate value of bearing capacity.

$$\therefore 25 = 1.3 c \times 5.70$$

$$\therefore c = \frac{25}{5.7 \times 1.3} = 3.37 \text{ tonnes/m}^2.$$

$$\therefore \text{Average value of cohesion for the clay} = 3.37 \text{ t/m}^2.$$

### Example 2-20 :

Size of an isolated footing is to be limited to 1.5 metres square. Calculate the depth at which the footing should be placed to take a load of 200 tonnes, with a factor of safety 3. The soil is having angle of internal friction  $\phi = 30^\circ$ .

Given : Weight of the footing 5% of the external load.

Weight of the soil 2.1 gm/c.c.

Bearing capacity factor for  $\phi = 30$ ,  $N_q = 22$  and  $N_\gamma = 20$

**Solution:** The soil is sandy, therefore, it is assumed that there is no cohesion in the soil.

From equation (2-6) allowable bearing capacity of a square footing.

$$q_a = \frac{1}{F} [\gamma \cdot d (N_q - 1) + 0.4 \gamma_b N_\gamma] + \gamma \cdot d.$$

$$\text{Now total load} = 200 + \frac{200 \times 5}{100} = 210 \text{ tonnes.}$$

$$\therefore \frac{210}{1.5 \times 1.5} = \frac{1}{3} [2.1 \times d (22-1) + 0.4 \times 2.1 \times 1.5 \times 20] + 2.1 \times d$$

$$= \frac{1}{3} [2.1 \times 21 \times d + 25.2] + 2.1 d$$

$$= [14.7 d + 8.4 + 2.1 d]$$

$$\text{or } 16.8 d = 93.4 - 8.4 = 85$$

$$d = \frac{85.0}{16.8} = 5.6 \text{ metres.}$$

$\therefore$  The footing will be placed at 5.6 metres below the ground level.

### Example 2-21 :

A load test was made with a 35 cm square plate at a depth of one metre below the ground level in soil with  $\phi = 0$ . The watertable was located at of depth 5 metres below the ground level. Failure occurred at a load of 5200 kg. What would be the ultimate bearing capacity per unit area for a 1.6

metres wide continuous footing with its base located at the same depth in the same soil? Unit weight of soil was 1.9 gm/c.c. above watertable. For  $\phi = 0$ ,  $N_c = 5.7$ ,  $N_q = 1$  and  $N_\gamma = 0$ .

**Solution :** For square footing ultimate bearing capacity

$$q_u = [1.3 c N_c + \gamma d N_q + 0.4 \gamma b N_\gamma]$$

Taking the case of load test.

$$b = 0.35 \text{ m, } d = 1 \text{ and since } \phi = 0, N_\gamma = 0$$

and hence the term containing  $N_\gamma$  of the above equation will be zero.

$$q_u = 1.3 c N_c + \gamma d N_q$$

$$\text{or } \frac{5200}{1000 \times 0.35 \times 0.35} = 5.7 \times 1.3c + 1.9$$

$$\text{or } \frac{5.2}{0.35 \times 0.35} = 5.7 \times 1.3c + 1.9$$

$$7.42c = 42.5 - 1.9 = 40.6$$

$$c = \frac{40.6}{7.42} = 5.47 \text{ tonnes/m}^2.$$

Now taking the case of continuous footing of width 1.6 m. Ultimate bearing capacity.

$$\begin{aligned} q_u &= c N_c - \gamma d N_q + \frac{1}{2} \gamma b N_\gamma \\ &= 5.47 \times 5.7 + 1.9 \times 1 \times 1 + 0 \\ &= 31.2 + 1.9 = 33.1 \text{ tonnes/m}^2. \end{aligned}$$

### Example 2-22 :

A 3.0 metres strip footing rests 2.5 metres below ground level over sandy clay having unit weight of 2250 kg/m<sup>3</sup>. Quick tests in a shear box apparatus gave shear strength of 0.37 and 0.50 kg/cm<sup>2</sup> for normal stress of 0.75 and 1.5 kg/m<sup>2</sup> respectively. Find out the cohesion and angle of internal friction. From Terzaghi's formula calculate the ultimate load per metre run of the foundation.

Given that  $N_c = 9$ ,  $N_q = 3.5$  and  $N_\gamma = 2$

**Solution :** We have the Coulomb equation  $\tau = c + \sigma \tan \phi$ . For first case of shear test.

$$0.37 = c + 0.75 \tan \phi \dots\dots\dots(i)$$

and for second case shear test

$$0.50 = c + 1.5 \tan \phi \dots\dots\dots(ii)$$

Solving Eqs. (i) and (ii) for  $\phi$  and  $c$

$$\tan \phi = 0.1733 \therefore \phi = 9.83^\circ \text{ and } c = 0.25 \text{ kg/cm}^2.$$

From Eq. (8.11) ultimate bearing capacity



$$\begin{aligned}
q_c &= cN_c + \frac{1}{2} d N_q + \frac{1}{2} \gamma b N_\gamma \\
&= \frac{0.25 \times 100 \times 100}{1000} \times 9 + \frac{2250}{1000} \times 2.5 \times 3.5 + \frac{1}{2} \\
&\quad \times \frac{2250}{1000} \times 3 \times 2 \\
&= 2.5 \times 9 + 2.25 \times 2.5 \times 3.5 + 2.25 \times 3 \\
&= 22.5 + 19.7 + 6.75 = 48.95 \text{ tonnes/m}^2.
\end{aligned}$$

Ultimate load per metre run of the foundation.

$$= 48.95 \times 3.0$$

$$= 146.85 \text{ tonnes per metre length.}$$

### قيم إسترشادية لقدرة التحمل : Presumptive Bearing Capacity

كثير من الكودات والمواصفات العامة تقدم قيما لقدرة التحمل المسموح بها ليستعين بها المهندسون كقيم إرشادية أو تقديرية. وفي المباني الصغيرة أو المؤقتة قد تكون هذه القيم كافية. ولكن للمباني والمنشآت الكبيرة تكون هذه القيم إسترشادية وبدائية فقط وذلك لأن هذه القيم لم تأخذ في الاعتبار تاريخ إجهاد التربة ووضع المياه الجوفية ومنسوب التأسيس المحتمل.

ويبين جدول (٢-١٢) القيم التقديرية الإسترشادية لقدرة التحمل المسموح بها الواردة في الكود المصري الميكانيكا التربة وتصميم الأساسات الصادر في سنة ١٩٩١. كما تبين جداول (٢-١٣)، (٢-١٤) القيم التقديرية لقدرة التحمل الواردة في بعض الكودات الأخرى.

#### جدول (٢-١٣) قيم إسترشادية لقدرة التحمل المسموح بها

Material*	N <sup>+</sup> (Standard Penetration Resistance)	kN/m <sup>2</sup>	kips/ft <sup>2</sup>	kg/cm <sup>2</sup>
Loose sand, dry	5-10	70-140	1.5-3	0.75-1.5
Firm sand, dry	11-20	150-300	3-6	1.5-3
Dense sand, dry	31-50	400-600	8-12	4-6
Loose sand, inundated	5-10	40-80	0.8-1.6	0.4-0.8
Firm sand, inundated	11-20	80-170	1.6-3.5	0.8-1.8
Dense sand, inundated	31-50	240+	5+	2.5+
Soft clay	2-4	30-60	0.6-1.2	0.3-0.6
Firm clay	5-8	70-120	1.5-2.5	0.8-1.2
Stiff clay	9-15	150-200	3-4.5	1.5-2.2
Hard clay	30+	400+	8+	4+
Loose mica silty sand, damp	5-10	120-200	2.5-4.5	1.2-2.0
Firm mica silty sand, damp	11-20	200-350	4.5-7.5	2.2-3.8
Badly fractured or partially weathered rock	50+	500-1200	10-25	5-12
Hard rock, occasional soft seams	RQD <sup>+</sup> = 50%	1500-5000	30-100	15-50
Massive hard rock	RQD <sup>+</sup> = 90%	10,000+	200+	100+

جدول (٢-١٢) قيم إسترشادية لقدرة التحمل المسمو بها فى الكود المصرى .

نوع التربة	الوصف	قدرة التحمل كيلو نيوتن/م <sup>٢</sup> (كجم/سم <sup>٢</sup> )	ملاحظات
تكوينات كريستالية من الصخور النارية والمتحولة	صخور سليمة	١٠٠٠٠ - ٥٠٠٠ (١٠٠ - ٥٠)	
صخور رقائقية متحولة	صخور سليمة	٤٠٠٠ - ٢٠٠٠ (٤٠ - ٢٠)	
صخور رسوبية (حجر طميى - حجر رملى - حجر جبرى)	صخور سليمة	٣٥٠٠ - ١٠٠٠ (٣٥ - ١٠)	
الصخور المعرضة للعوامل الجوية والخسور الطينية	صخور رخوة	١٠٠٠ - ٥٠٠ (١٠ - ٥)	مالم تكن تتأثر بالماء
زلط - خليط من الزلط والرمل أو خليط من الزلط والرضام (١)	على الدمك متوسط الدمك سائب	٧٠٠ - ٥٠٠ (٧-٥) ٦٠٠ - ٤٠٠ (٦-٤) ٤٠٠ - ٢٠٠ (٤-٢)	عرض الأساس لا يقل عن ١,٠ متر
رمل خشن إلى متوسط أو رمل مع قليل من الزلط (١)	كثيف جدا متوسط إلى كثيف سائب	٥٠٠ - ٣٠٠ (٥-٣) ٣٠٠ - ١٥٠ (٣-١,٥) ٢٠٠ - ١٠٠ (٢-١)	
رمل ناعم إلى متوسط أو رمل متوسط إلى خشن طميى أو طينى (١)	كثيف جدا متوسط إلى كثيف سائب	٤٠٠ - ٢٠٠ (٤,٠-٢,٠) ٢٥٠ - ١٥٠ (٢,٥-١,٥) ١٥٠ - ١٠٠ (١,٥-١,٠)	عرض الأساس لا يقل عن ١,٠ متر
طميى غير عضوى أو طميى رملى		٢٠٠ - ١٠٠ (٢-١)	عمق التأسيس من ٨, وإلى ١,٥ متر وأكثر
طين متجانس غير عضوى أو طين رملى أو طين طميى أو طميى طينى (٢)	صلد شديد التماسك متماسك، متوسط التماسك ضعيف ضعيف جدا	٤٠٠ < (٤,٠ <) ٤٠٠ - ٢٠٠ (٤,٠-٢,٠) ٢٠٠ - ١٠٠ (٢,٠-١,٠) ١٠٠ - ٥٠ (١,٠ - ,٥) ٥٠ - ٢٥ (,٥ - ,٢٥) ٢٥ > (,٢٥ >)	هذه المجموعة عرضة للهبوط نتيجة التضاغط على المدى الطويل

(١) القيم الواردة فى هذا الجدول تسرى فى حالة التربة غير المغمورة وتؤخذ نصف هذه القيمة

فى حالة ما إذا كانت التربة مغمورة أسفل منسوب المياه الأرضية .

(٢) القيم الواردة فى هذا الجدول تسرى فى حالة التربة كاملة التشبع .

### هبوط الأساسات السطحية : Settlement of shallow foundation

هبوط الأساسات يحدث نتيجة حدوث هبوط فى طبقات التربة أسفل منسوب التأسيس .

وهبوط طبقات التربة يحدث نتيجة زيادة الإجهادات عليها شكل (٢-٣١)، (٢-٣٢) وهبوط

الأساسات يجب أن يحسب بدقة عالية للمباني والكبارى والأبراج والمصانع والسدود . ولقد

جدول (٢-١٤) قيم قدرة التحمل مع هبوط لا يزيد عن ٥٠ مم.

(a) Strip foundations not exceeding 3 m wide, length not more than 10 times width, bearing on surface of rock

Rock group	Strength grade	Discontinuity spacing (mm)	Presumed allowable bearing value (kN/m <sup>2</sup> )
Pure limestones and dolomites, carbonate sandstones of low porosity	Strong	60 to > 1000	> 12 500 <sup>1</sup>
	Moderately strong	> 600	> 10 000 <sup>3</sup>
		200 to 600	7500 to 10 000
	Moderately weak	60 to 200	3000 to 7500
		600 to > 1000	> 5000 <sup>1</sup>
		200 to 600	3000 to 5000
		60 to 200	1000 to 3000
	Weak	> 600	> 1000 <sup>1</sup>
		200 to 600	750 to 1000
		60 to 200	250 to 750
	Very weak		2
Igneous, oolitic, and marly limestones; well-cemented sandstones; indurated carbonate mudstones; metamorphic rocks (including slates and schists with flat cleavage/foliation)	Strong	200 to > 1000	10 000 to > 12 500 <sup>1</sup>
	Moderately strong	60 to 200	5000 to 10 000
		600 to > 1000	8000 to > 10 000 <sup>1</sup>
		200 to 600	4000 to 8000
	Moderately weak	60 to 200	1500 to 4000
		600 to > 1000	3000 to > 5000 <sup>1</sup>
		200 to 600	1500 to 3000
		60 to 200	500 to 1500
	Weak	600 to > 1000	750 to > 1000 <sup>1</sup>
		< 200	2
	Very weak	All	2

(b) Foundations in non-cohesive soils at a minimum depth of 0.75 m below ground level

Description of soil	N-value in standard penetration test	Presumed bearing value (kN/m <sup>2</sup> or kgf/cm <sup>2</sup> × 100) for foundation of width		
		1 m	2 m	4 m
Very dense sands and gravels	> 50	600	500	400
Dense sands and gravels	30-50	350-600	300-500	250-400
Medium-dense sands and gravels	10-30	150-350	100-300	100-250
Loose sands and gravels	5-10	50-150	50-100	50-100

Notes: (1) Corrections to N-values to be applied to observed N-value before using this table  
 (2) The water table is assumed not to be close to base of foundation. If the water table is at the base of the foundation or within a depth equal to the width of the foundation then these presumed bearing values should be halved.

(c) Foundations in cohesive soils at a minimum depth of 1 m below ground level

Description	Cohesive strength (kN/m <sup>2</sup> or kgf/cm <sup>2</sup> × 100)	Presumed bearing value (kN/m <sup>2</sup> or kgf/cm <sup>2</sup> × 100) for foundation of width		
		1 m	2 m	4 m
Hard boulder clays, hard fissured clays (e.g. deeper London and Gault clays)	> 300	800	600	400
Very stiff boulder clay, very stiff 'blue' London Clay	150-300	400-800	300-500	150-250
Stiff fissured clays (e.g. stiff 'blue' and brown London clay), stiff weathered boulder clay	75-150	200-400	150-250	75-125
Firm normally consolidated clays (at depth), fluvioglacial and lake clays, upper weathered 'brown' London clay	40-75	100-200	75-100	50-75
Soft normally consolidated alluvial clays (e.g. marine, river and estuarine clays)	20-40	50-100	25-50	Negligible

نُعرضنا لموضوع الهبوط باختصار في الباب التاسع من كتابنا "ميكانيكا التربة"، وفي الفقرات القادمة سوف نتعرض لهذا الموضوع بالتفصيل.

وعادة ما يحدث الهبوط نتيجة زيادة الأحمال الإستاتيكية أو الأحمال الحية على طبقات التربة، وكذلك عند انخفاض مستوى المياه الجوفية والذي يترتب عليه زيادة الإجهاد الفعال وبالتالي زيادة الإجهاد على التربة. كذلك يحدث الهبوط عند إحداث تغيير في الإجهاد الفعال على طبقات التربة مثلما يحدث في أعمال المناجم والأنفاق. والهبوط ثلاثة أنواع هي الهبوط الفوري (المرن) وهبوط التصلب والهبوط الثانوي. ويكون الهبوط الكلي هو مجموع الأنواع الثلاثة من الهبوط.

أ- الهبوط الفوري (المرن) Immediate (Elastic) Settlement,  $S_i$

الهبوط الفوري أو المرن هو أثناء تنفيذ المبنى وينتهي بانتهاء تنفيذه أو فور الانتهاء من تنفيذه، توجد عدة طرق لحساب الهبوط المرن منها طريقة هار (Harr, 1966) التي تستخدم للأساسات المرنة، شكل (٢-٣٣) :

$$s_i = \frac{Bq_0}{E_s} (1 - \mu_s^2) \frac{\alpha}{2} \text{ (corner of the flexible foundation).....(2-89)}$$

$$s_i = \frac{Bq_0}{E_s} (1 - \mu_s^2) \alpha \text{ (center of the flexible foundation) .....(2-90)}$$

$$\text{where } \alpha = \frac{1}{\pi} \left[ \ln \left( \frac{\sqrt{1+m^2} + m}{\sqrt{1+m^2} - m} \right) + m \ln \left( \frac{\sqrt{1+m^2} + 1}{\sqrt{1+m^2} - 1} \right) \right]$$

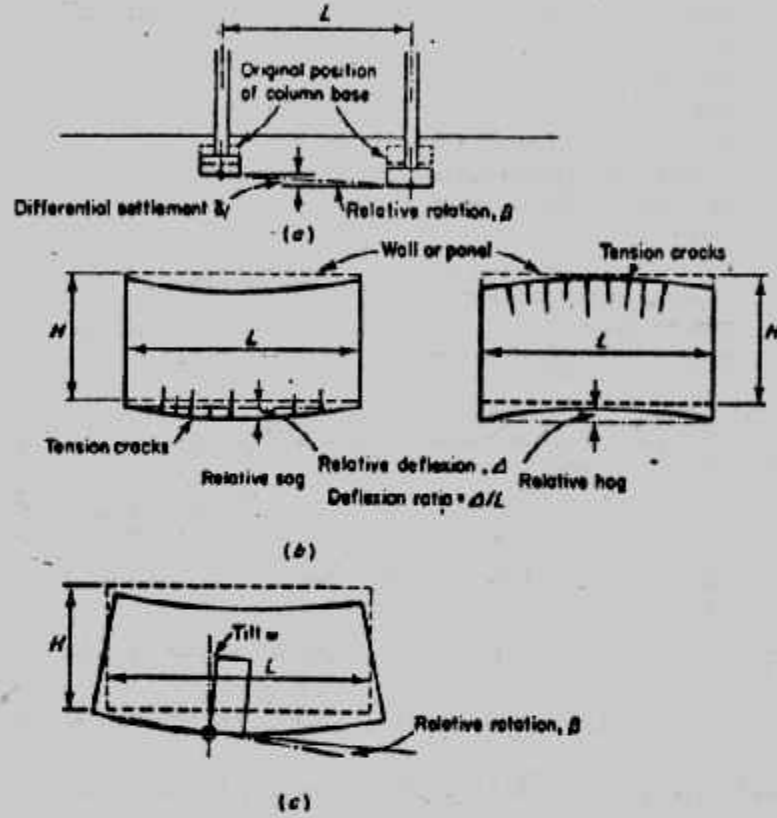
$$m = B/L$$

B = width of foundation

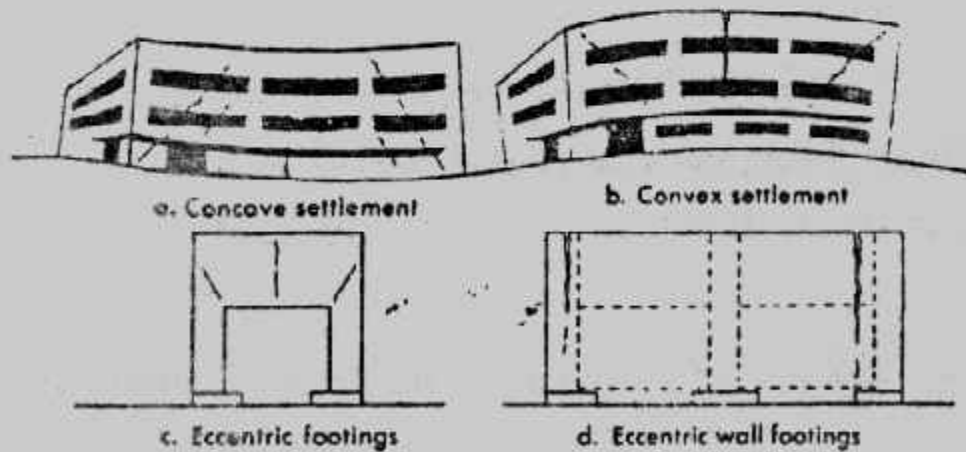
L = length of foundation

وعلاقة  $\alpha$  بقيمة  $L/B$  مبينة في الشكل (٣٤-٢) كما يمكن تعيين الهبوط الفوري للأساس المرن من :

$$s_i = \frac{Bq_0}{E_s} (1 - \mu_s^2) \alpha_r \text{ (rigid foundation)} \quad (2-91)$$

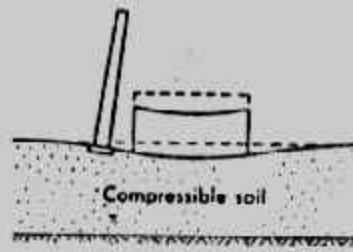


شكل (٣٠-٢) تعاريف الهبوط والهبوط المتفاوت

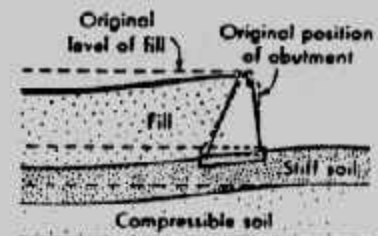


شكل (٣١-٢) شروخ الهبوط في المباني



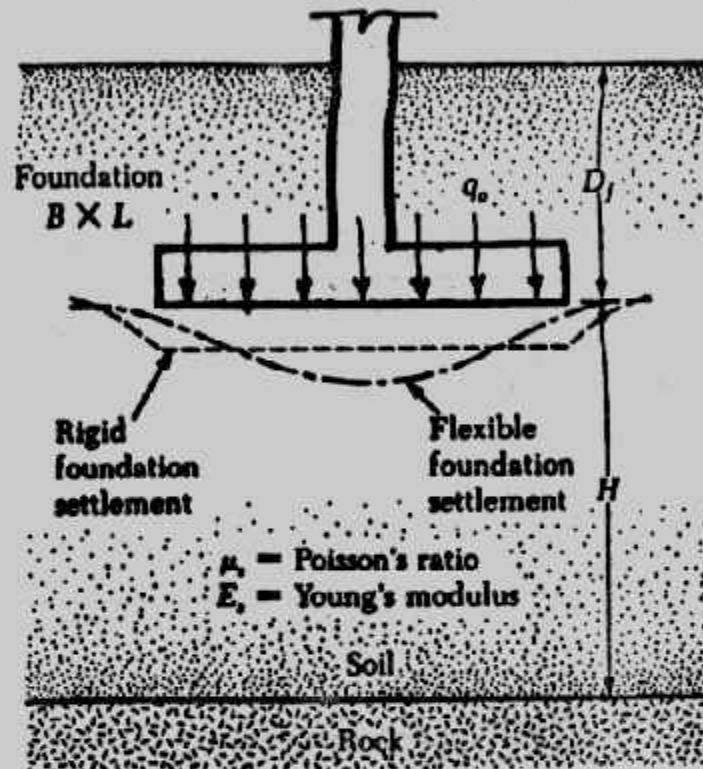


a. Tilt of smokestack caused by settlement profile of adjacent heavy building

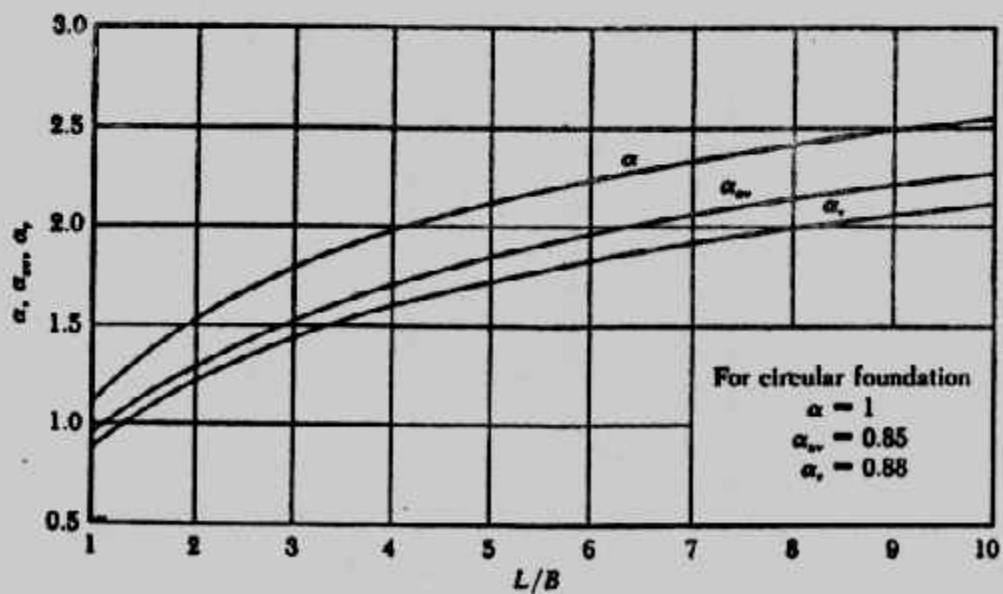


b. Backward tilt of bridge abutment from consolidation of compressible soil under fill weight

شكل (٢-٣٢) الهبوط في المنشآت الثقيلة



شكل (٢-٣٣) الهبوط المرن للأساس المرن والجاسن



شكل (٢-٣٤) علاقة  $L/B$ ,  $\alpha$

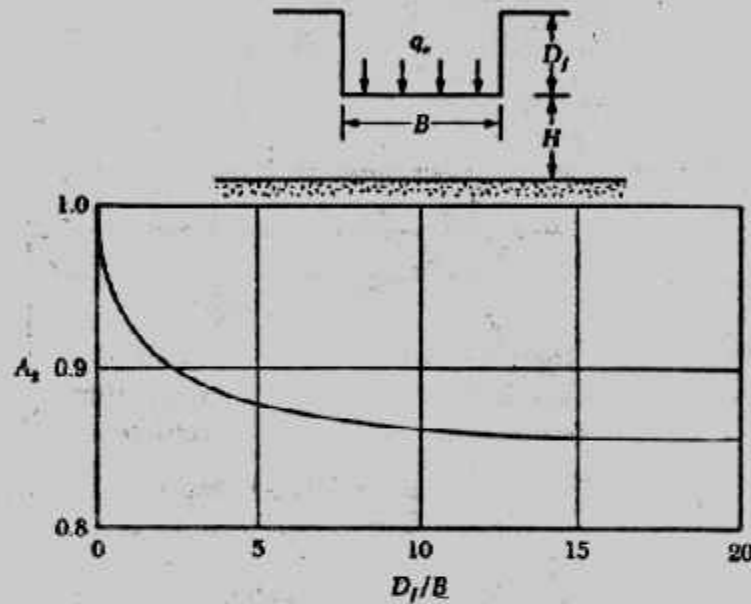
وفي حالة الأساسات الخاسنة تستخدم العلاقة :

$$s_i = \frac{Bq_0}{E_s} (1 - \mu_s^2) \alpha_{av} \quad (\text{average for flexible foundation}) \quad (2-92)$$

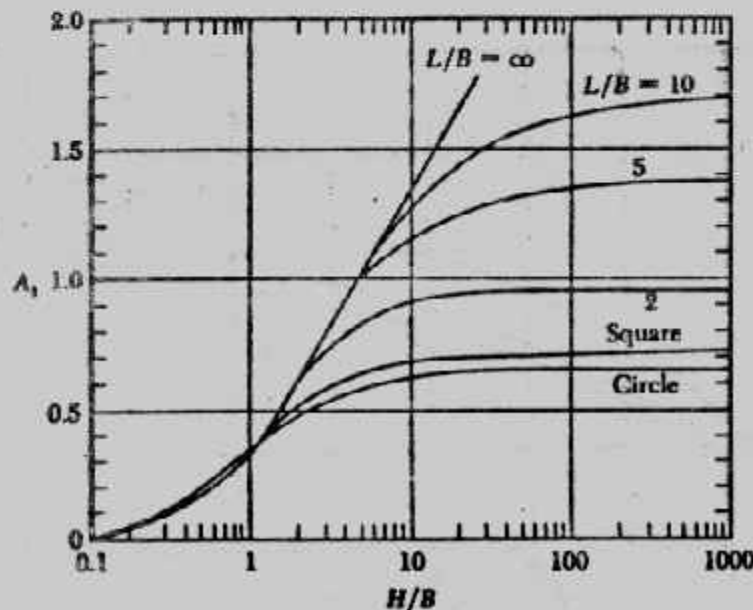
ولحساب الهبوط المرن على الطين المشبع للأساسات المرنة تستخدم المعادلة الآتية :

$$s_i = A_1 A_2 \frac{q_0 B}{E_3} \quad (2-93)$$

حيث  $A_1$  ،  $A_2$  تعينان من شكل (٢-٣٥)، شكل (٢-٣٦) ويجب ملاحظة أنه قد أخذ في المعادلة السابقة  $\mu = 0.5$  حيث للطين تكون نسبة بواسن مساوية 0.5 .



شكل (٢-٣٥) تعيين  $A_2$  (كرستيان وكارير ١٩٧٨)



شكل (٢-٣٦) تعيين  $A_1$  (كرستيان وكارير ١٩٧٨)

ويمكن تعيين الهبوط المرن للتربة الرملية باستخدام معامل تأثير الانفعال باستخدام الطريقة المقترحة من شميرتمان وهيرثمان (١٩٧٨).

$$s_i = C_1 C_2 (\bar{q} - q) \sum_0^z \frac{I_z}{E_s} \Delta z \quad (2-94)$$

where :  $I_z$  = strain influence factor

$C_1$  = a correction factor for the depth of foundation

$$\text{embedment} = 1 - 0.5 \left[ q / (\bar{q} - q) \right]$$

$C_2$  = a correction factor to account for creep in soil

$$= 1 + 0.2 \log (\text{time in years} / 0.1)$$

$\bar{q}$  = stress at the level of the foundation

$$q = \gamma D_f$$

وتغير معامل تأثير الانفعال مع العمق تحت الأساس معطى فى الشكل . ويلاحظ أنه للأساس المربع والدائرى يكون :

$$I_z = 0.1 \text{ at } z = 0$$

$$I_z = 0.5 \text{ at } z = z_1 = 0.5B$$

$$I_z = 0 \text{ at } z = z_2 = 2B$$

$$I_z = 0.2 \text{ at } z = 0$$

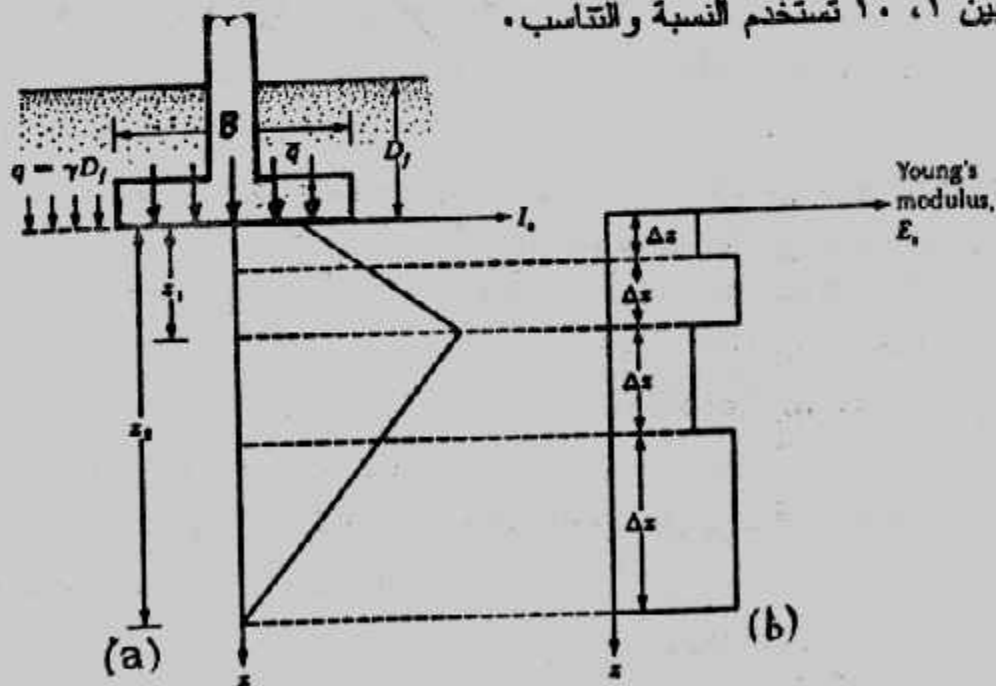
$$I_z = 0.5 \text{ at } z = z_1 = B$$

$$I_z = 0 \text{ at } z = z_2 = 4B$$

وبالمثل للأساس الذى له  $L/B \geq 10$  يكون :

where :  $B$  = width of the foundation and  $L$  = length of the foundation.

ولقيم  $L/B$  بين ١ ، ١٠ تستخدم النسبة والتناسب .



شكل (٢-٣٧) معامل المرونة مع العمق

وفى هذه الطريقة يقدر معامل المرونة مع العمق كما فى شكل (٢-٣٧) ويمكن ذلك باستخدام رقم الاختراق القياسى  $N$  أو مقاومة الاختراق للمخروط. وتنقسم طبقة التربة إلى طبقات عديدة حيث يعين الهبوط المرن لكل طبقة منها ويكون الهبوط المرن الكلى  $S_i$  مجموع الهبوطات المرنة للطبقات. وهناك طرق أخرى عديدة لحساب الهبوط المرن وفى أحد أبحاث المؤلف ثم تجميع هذه الطرق لحساب الهبوط المرن للرمل وهى معطاة فى جدول (٢-١٥). ويلاحظ أن حساب الهبوط المرن يحتاج إلى معاملات المرونة للتربة وهى معامل ينج ونسبة بواس ويقدم جدول (٢-١٦) قيمًا إسترشادية لهما. كما يقدم الكود المصرى قيمًا إسترشادية لمعامل ينج فى جدول (٢-١٧). وكثير من العلماء ربط بين معامل المرونة للتربة ورقم الاختراق القياسى  $N$  أو مقاومة إختراق المخروط  $q_c$ . ويتعطى جداول (٢-١٨)، (٢-١٩)، (٢-٢٠) العلاقات الرابطة بين معامل المرونة وكل من  $N$ ،  $q_c$  كما جمعها المؤلف فى أحد أبحاثه. وللتربة المتماسكة قدم المؤلف فى جدول (٢-٢١) المعادلات الرابطة بين معامل المرونة ومقاومة القص  $C_u$ .

وقدم شمرتمان المعادلة الآتية :

$$E_s \text{ (kN/m}^2\text{)} = 766N \text{ ..... (2-95)}$$

وقدم المؤلف (١٩٩١) المعادلة الآتية وهى أكثر واقعية :

$$E_s \text{ (kN/m}^2\text{)} = 15000 + 900 N \text{ ..... (2-96)}$$

وتقدم بعض المراجع العلاقة الآتية للربط بين  $q_c$ ،  $E_s$  :

$$E_s = 2q_c \text{ ..... (2-97)}$$

where :  $q_c$  = static cone penetration resistance

بينما أثبت المؤلف أن العلاقة التالية أكثر دقة وأقرب للواقع :

$$E_s = 3q_c \text{ (for sand) ..... (2-97')}$$

وقدم العلاقات الآتية لأنواع التربة الأخرى :

$$E_s = 5 \rightarrow 6 q_c \text{ (for coarse sand and gravel) ..... (2-98)}$$

$$E_s = 1 \rightarrow 4 q_c \text{ (for silty sand) ..... (2-99)}$$

$$E_s = 3 \rightarrow 6 q_c \text{ (for clayay sand) ..... (2-100)}$$

$$E_s = 1.8 \rightarrow 3 q_c \text{ (for clayay silt) ..... (2-101)}$$

$$E_s = 5 \rightarrow 8 q_c \text{ (for clay) ..... (2-102)}$$

وللتربة الطينية عادية التصلب يحسب  $E_s$  من :

$$E_s = 250c \text{ to } 500 c \text{ (for normalty consolidated clay) ..... (2-103)}$$

وللطين فوق المتصلب Over consolidated clay

$$E_s = 750c \text{ to } 1000c \text{ ..... (2-104)}$$

وفى جدول (٢-٢١) قدم المؤلف علاقات أخرى، كما قدم الكود المصرى الجدول (٢-٢٢)

جدول (٢-١٥) الطرق المختلفة لحساب الهبوط المرن

Methods for computing the elastic settlements .

Method No	References	Relationship
1	Steinbrenner , 1934	$S_1 = q_n B \frac{(1 - \nu^2)}{E} I_p$
2	Buisman - De Beer 1965[9,10]	$S_1 = \frac{2.3H}{\alpha_c} \log_{10} \frac{\sigma'_0 + \Delta\sigma'}{\sigma'_0}$ $\alpha_c = \frac{Bq_c}{\sigma_0}$ <p> <math>B = 1</math> for medium sand.  <math>B = 1.5</math> for all sand ( De Beer)  <math>B = 1.9</math> for all sand. (Meyerhof) </p>
3	Schmertmann, 1970	$S_1 = C_1 C_2 \Delta\sigma'_0 \sqrt{2B} \frac{1}{E} \cdot \Delta H$ <p> <math>C_1</math> = depth correction factor  <math>C_2</math> = creep factor. </p>
4	Parry, 1971,	$S_1 = 100 C_0 C_1 W_Y \cdot q_n B \left( \frac{1 - \nu^2}{E} \right)$ <p> <math>C_0</math> = coefficient depends on breadth and depth of foundation.  <math>C_1</math> = coefficient depends on the thickness of the layer below foundation.  <math>W_Y</math> = correction factor for water table. </p>
5	D'Appolonia, 1971	$S_1 = 100 C_0 C_1 q_n B \left( \frac{1 - \nu^2}{E} \right)$ <p> <math>C_0</math> = coefficient depends on breadth and depth of foundation.  <math>C_1</math> = coefficient depends on the thickness of the layer below the foundation. </p>
6	Giroud , 1972,	$S_1 = \frac{q_n \cdot B}{E} P_{Hm}$ <p><math>P_{Hm}</math> = dimensionless coefficient depending on <math>\nu</math>, <math>L/B</math> and <math>B/H</math></p>
7	Winter korn , 1975,	$S_1 = C_d q_n B \left( \frac{1 - \nu^2}{E} \right)$ <p><math>C_d</math> = shape and rigidity factor</p>
8	Christian and Carrier 1978,	$S_1 = \mu_0 \mu_1 \frac{q_n \cdot B}{E}$ <p> <math>\mu_0</math> = coefficient depends on breadth and depth of the foundation  <math>\mu_1</math> = coefficient depends on the thickness of the layer below the foundation </p>
9	Burland and Surbridge , 1985	$S_1 = f_s \cdot f_d \cdot f_t \left( q'_n - \frac{1}{2} \sigma'_0 \right) \times B^{0.7} \times I_c$ <p> <math>f_s</math> = shape factor  <math>f_d</math> = correction factor for depth  <math>f_t</math> = time factor.  <math>I_c</math> = compressibility index. </p>
10	Bowles, 1987,	$S_1 = q_n B \left( \frac{1 - \nu^2}{E} \right) I_s I_f$ <p> <math>I_s</math> = Steinbrenner settlement influence factor.  <math>I_f</math> = Fox depth correction factor. </p>

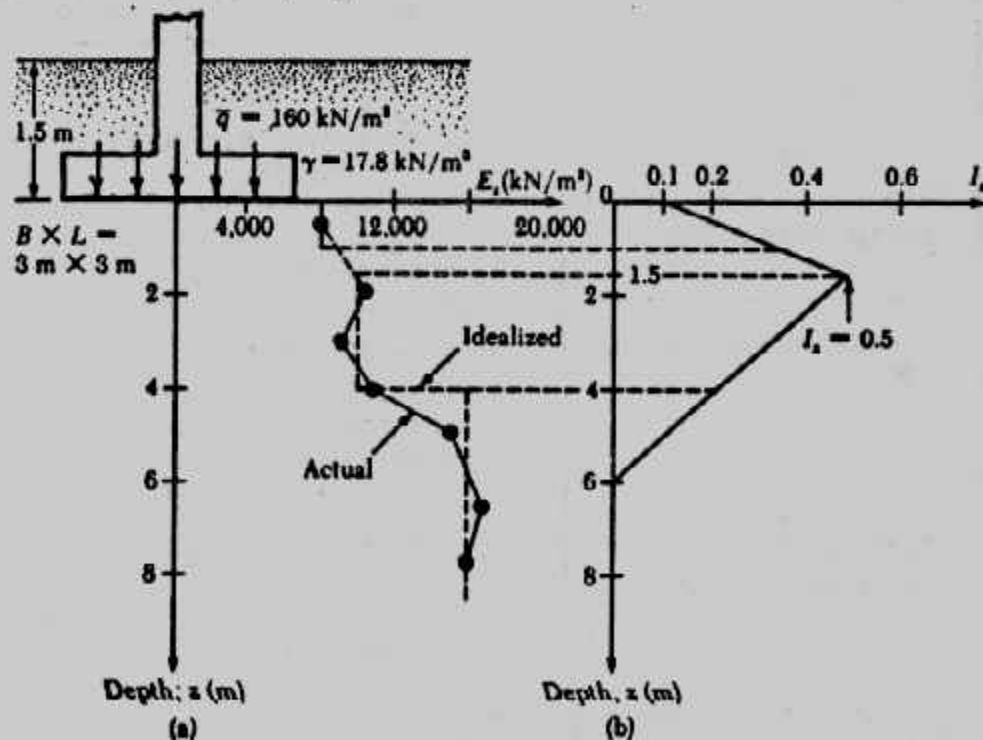


Type of soil	Young's modulus, $E_s$	Poisson's ratio, $\mu_s$
	$\text{MN/m}^2$	
Loose sand	10.35– 24.15	0.20–0.40
Medium dense sand	17.25– 27.60	0.25–0.40
Dense sand	34.50– 55.20	0.30–0.45
Silty sand	10.35– 17.25	0.20–0.40
Sand and gravel	69.00–172.50	0.15–0.35
Soft clay	2.07– 5.18	
Medium clay	5.18– 10.35	0.20–0.50
Stiff clay	10.35– 24.15	

### Example 2-23 :

Fig.(3.26a) shows a shallow foundation on a deposit of sandy soil that is 3 m x 3 m in plan. The actual variation of the values of Young's modulus with depth determined by using the standard penetration numbers of Eq (2-95) are also shown in Fig. (2-38a). Using the strain influence factor method, estimate the settlement of the foundation five years after construction.

**Solution :** By observing the actual variation of Young's modulus with depth, one can plot an estimated idealized form of the variation of  $E_s$  as shown in Fig. (2-38a) Fig. (2-38b) shows the plot of the strain influence factor. The following table can now be prepared.



شكل (٢-٣٨) مثال ٢-٢٣ .

Depth (m)	$\Delta z$ (m)	$E_s$ (kN/m <sup>2</sup> )	Average $I_s$	$\frac{I_s}{E_s} \cdot \Delta z$ (m <sup>3</sup> /kN)
0-1	1	8,000	0.233	$0.291 \times 10^{-4}$
1.0-1.5	0.5	10,000	0.433	$0.217 \times 10^{-4}$
1.5-4	2.5	10,000	0.361	$0.903 \times 10^{-4}$
4.0-6	2	16,000	0.111	$0.139 \times 10^{-4}$
				$\Sigma = 1.55 \times 10^{-4}$

$$C_1 = 1 - 0.5 \left( \frac{q}{\bar{q} - q} \right) = 1 - 0.5 \left[ \frac{17.8 \times 1.5}{160 - (17.8 \times 1.5)} \right] = 0.9$$

$$C_2 = 1 + 0.2 \log \left( \frac{5}{0.1} \right) = 1.34$$

Hence :

$$S_e = C_1 \cdot C_2 (\bar{q} - q) \sum \frac{I_z}{E_s} \Delta z$$

$$= (0.9)(1.34) [160 - (17.8 \times 1.5)] (1.55 \times 10^{-4})$$

$$= 249.2 \times 10^{-4} \text{ m} \approx 24.9 \text{ mm}$$

جدول (٢-١٧) قيم إسترشادية لمعامل المرونة لأنواع التربة المختلفة.

معامل الانضغاط $E_s$		الوصف	نوع التربة
كجم / سم <sup>٢</sup>	ميغا نيوتن / م <sup>٢</sup>		
٢٠ - ٥	٢ - ٠,٥	ضعيف التماسك	طين
٦٠ - ١٥	٦ - ١,٥	متوسط التماسك	
١٠٠ - ٢٥	١٠ - ٢,٥	متماسك	
٢٠٠ - ٥٠	٢٠ - ٥	شديد التماسك	
٤٠٠ - ١٠٠	٤٠ - ١٠	صلد	
٣٠٠ - ٢٠	٣٠ - ٢		طلي
٢٥٠ - ١٠٠	٢٥ - ١٠	سائب	رمل
٧٥٠ - ٢٥٠	٧٥ - ٢٥	متوسط الكثافة	
١٥٠٠ - ٧٥٠	١٥٠ - ٧٥	كثيف	
٤٠٠٠ - ١٥٠٠	٤٠٠ - ١٥٠	كثيف جداً	
٤٠٠٠ - ١٠٠٠	٤٠٠ - ١٠٠		زلط
٢٠ - ٥	٢ - ٠,٥		تربة عضوية أو بقايا نباتية

جدول (٢-١٨) تعيين معامل المرونة من رقم الإختراق القياس .

Rel.No	Soil type	Relationship	Remark
1	sand	$E_s = 500(N+15)$	kpa
2	sand	$E_s = 18000 + 750 N$	kpa NCS
3	sand	$E_s = 41600 + 1090 N$	kpa OCS
4	sand	$E_s = 1200(N+6)$	kpa
5	sand	$E_s = 5 N$	kg/cm <sup>2</sup>
6	sand	$E_s = 13500 N$	kpa
7	sand	$E_s = 7.5(1 - \gamma^2) N$	kg/cm <sup>2</sup>
8	sand	$E_s = (15200 \text{ to } 22000) \ln N$	kpa
<hr/>			
9	gravel with sand	$E_s = 12(N+6)$	kg/cm <sup>2</sup> $N < 15$
10	gravel with sand	$E_s = 40 + 12(N-6)$	kg/cm <sup>2</sup> $N > 15$
11	dry sand	$E_s = V \sigma_0^{0.522}$ $V = 246.2 \log N - 263.4 \sigma_0 + 375.6 \pm 57.6$	$0 < \sigma_0 < 1.2$
12	silty sand	$E_s = 300(N+6)$	kpa
13	silt with sand	$E_s = 23(N+6)$	kg/cm <sup>2</sup> $N < 15$
14	silt with sand	$E_s = 40 + 3(N-6)$	kg/cm <sup>2</sup> $N > 15$
15	clayey sand	$E_s = 320(N+15)$	kpa
16	clayey sand	$E_s = 3.33(N+5)$	kg/cm <sup>2</sup>

جدول (٢-٢٠) تقدير معامل الإضطغاط ( $E_s$ ) من تجربة المضغوط الإستاتيكي

معامل الإضطغاط	نوع التربة
$E_s = 1.5 q_{cone}$ $= 2 q_{cone}$ $= 3 q_{cone}$ $= 4 q_{cone}$	طمي ورمل رمل متوسط الكثافة رمل كثيف رمل وزلط
$E_s = (3-8) q_{cone}$	طين

جدول (٢-١٩) : تعيين معامل المرونة من مقاومة الإختراق بالمخروط.

Rel.No	Soil types	Relationship	Remarks	Reference
1	coarse sand	$E_s = (1.5 \text{ to } 3) q_0$		Trofimenkov,
2	coarse sand, sand+gravel	$E_s = 5 q_0$		Schmertmann,
3	sandy gravel, gravel	$E_s = 6 q_0$		Schmertmann,
4	sandy gravels	$E_s = 1.5 q_0$		Trofimenkov,
5	sandy gravel, gravelly sand	$E_s = (5 \text{ to } 7) q_0$	$q_0 > 40 \text{ kg/cm}^2$	Bogdanovic,
6	dry sand	$E_s = V \frac{30.522}{0.522}$ $V = 301.11 \log q_0 -$ $382.36 q_0 + 60.3 + 50.3$	$0 < \sigma_0 < 8 \text{ kg/cm}^2$ $q_0 = 0.778 \text{ for } 90$ tests	Schultze and Welzer,
7	Submerged sand	$E_s = 2.5(q_0 + 30) \text{ t/ft}^2$		Wel,
8	submerged sand	$E_s = 2 (q_0 + 25)$		Schmertmann,
9	fine sand	$E_s = (1.5 \text{ to } 2) q_0$		Trofimenkov,
10	fine to medium sand	$E_s = 2.5(q_0 + 3200) \text{ kN/m}^2$	South African pr.	De Beer,
11	fine to medium sand	$E_s = 3.5 q_0$		Schmertmann,
12	fine to medium sand	$E_s = (2 \text{ to } 4) q_0$		Trofimenkov,
13	silty sand	$E_s = (1 \text{ to } 2) q_0$		Vesio,
14	silty sand	$E_s = (2 \text{ to } 4) q_0$		Trofimenkov,
15	silty sand	$E_s = (1.3 \text{ to } 1.9) q_0$		Bachelier and Parez,
16	silty sat. sand	$E_s = (1.5 \text{ to } 1.8) q_0$	$20 < q_0 < 40$	Bogdanovic,
17	silty sand	$E_s = (2 \text{ to } 3.5) q_0$		Schmertmann,
18	clayey sand	$E_s = (3 \text{ to } 6) q_0$		Vesio,
19	clayey sand	$E_s = (3.8 \text{ to } 5.7) q_0$		Bachelier and Parez,
20	clayey sand	$E_s = 1.67(q_0 + 1600) \text{ kN/m}^2$	$I_p < 15 \%$	De Beer,
21	sub. clayey sand	$E_s = 1.67(q_0 + 15)$		Webb,
22	silt	$E_s = (1.5 \text{ to } 2) q_0$		Trofimenkov,
23	silt, sandy silt	$E_s = 2 q_0$		Schmertmann,
24	clayey silt	$E_s = (1.8 \text{ to } 2.5) q_0$	$10 < q_0 < 20$	Bogdanovic,
25	clayey silt	$E_s = (2.5 \text{ to } 3) q_0$	$5 < q_0 < 10$	Bogdanovic,
26	sandy clay, stiff clay	$E_s = (5 \text{ to } 7) q_0$	U.S.S.R practice	Trofimenkov,
27	clay	$E_s = 7 q_0$	U.S.S.R practice	Trofimenkov,
28	soft clay	$E_s = (6 \text{ to } 8) q_0$		Vesio,
29	soft clay	$E_s = 7.7 q_0$		Bachelier and Parez,

جدول (٢-٢١) معامل المرونة للتربة بدلالة قوة التماسك

Rel. No	Soil types	Relationship	Reference
1	clay	$E_s = (500 \text{ to } 1500) C$	Bjerrum,
2	lean organic clays	$E_s = (1000 \text{ to } 1500) C$	D'Appolonia et al,
3	soft sensitive clays	$E_s = 500 C$	NRC of Canada,
4	fine to stiff clays	$E_s = 1000 C$	NRC of Canada,
5	very stiff clays	$E_s = 1500 C$	NRC of Canada,
6	clay $I_p > 30$ , or organic	$E_s = (100 \text{ to } 500) C$	Boveles,
7	„ $I_p < 30$ , or stiff	$E_s = (500 \text{ to } 1500) C$	„
8	„ $1 < OCR < 2$	$E_s = (800 \text{ to } 1200) C$	„
9	„ $OCR > 2$	$E_s = (1500 \text{ to } 2000) C$	„

جدول (٢-٢٢): معامل الإضغاط بدلالة قوة التماسك  $C_u$  بواسطة تجربة القص بالمرحلة

معامل الإضغاط	نوع التربة
$E = 50 (c_u)$	طين ضعيف التماسك
$E = 100 (c_u)$	طين متوسط التماسك إلى متماسك
$E = 150 (c_u)$	طين شديد التماسك

أما في حالة الأساسات المعرضة لحمل غير مركزي فإنه يحدث بها بالإضافة للهبوط الفوري الرأسى  $Se$  دوران  $t$  ولقد اقترح جورجيانس وبترفيلد (١٩٨٨) الطريقة الآتية لحساب الهبوط والدوران :

١- ليكن الحمل  $Q$  والإزاحة  $e$  والمطلوب إيجاد  $t$ ,  $Se$  شكل (٢-٣٩) .

٢- بحسب أقصى حمل  $Q_{ult}(e)$  يمكن أن يتحملة الأساس .

٣- يعين معامل الأمان للحمل الغير مركزي :

$$FS = \frac{Q_{ult}(e)}{Q} = F_1$$

٤- يعين  $Q_{ult}(e=0)$  لنفس الأساس كما لو كان  $e=0$



$$\frac{Q_{ult}(e=0)}{F_1} = Q_{(e=0)} : \text{تعيين} - ٥$$

• حيث  $Q(e=0)$  هي الحمل المسموح به للأساس بمعامل أمان  $FS = F_1$

٦- باستخدام  $Q(e=0)$  تعين الهبوط الفوري  $S_e(e=0)$

٧- والآن يمكن تعيين  $S_e$  من  $t$  :

$$S_e = S_e(e=0) \left[ 1 - 2 \left( \frac{e}{B} \right)^2 \right] \dots \dots \dots (2-105)$$

$$t = \tan^{-1} \left[ C S_e \left( \frac{e/B}{\sqrt{BL}} \right) \right] \dots \dots \dots (2-106)$$

where :  $C = \beta_1 \beta_2$

$\beta_1, \beta_2$  = factors dependent on the  $L/B$  ratio

وتعيين  $B_1, B_2$  أو  $C$  من شكل (٢-٤٠).

### Example 2-24 :

A square foundation is shown in Fig. (2-41). It is subjected to a load of 180 kN and a moment of 27 kN-m. Determine the settlement of the foundation ( $S_e$  and  $t$ ) according to the presented method.

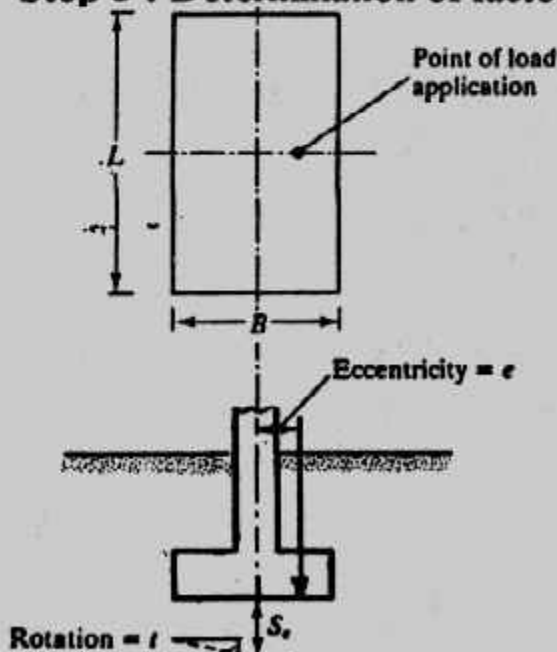
**Solution :**

**Step 1:** Given :  $Q = 180$  kN and moment =  $M = 27$  kN-m, load eccentricity =  $e = M/Q = 27/180 = 0.15$  m.

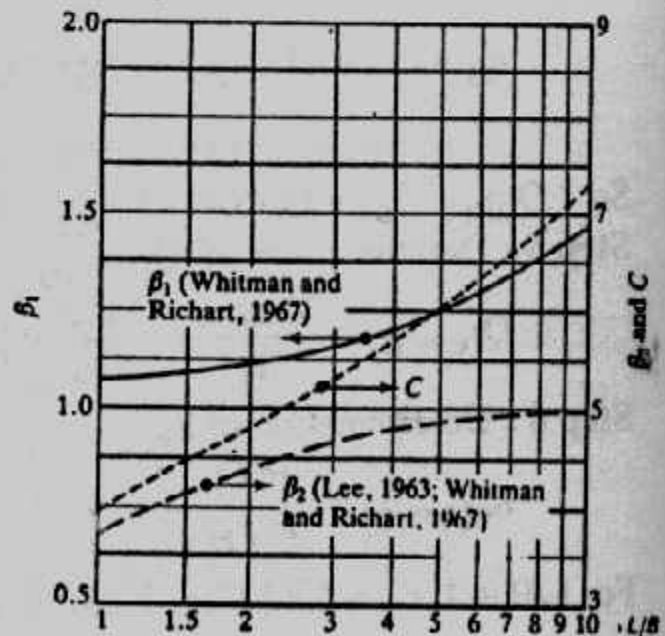
**Step 2 :** The magnitude of  $Q_{ult}(e)$  has been calculated in Example 2-9.

$$Q_{ult}(e) = 988 \text{ kN}$$

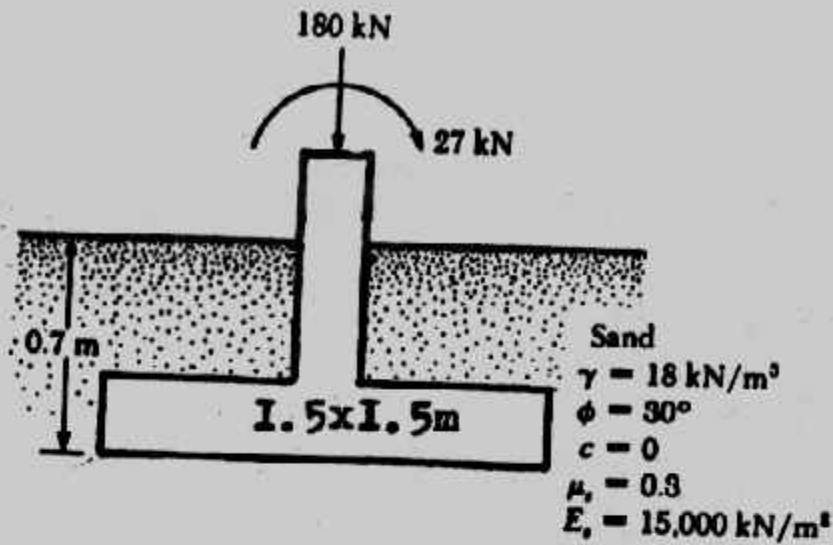
**Step 3 :** Determination of factor of safety,  $F_1$  :



شكل (٢-٣٩) : أساس غير مركزي للحمل



شكل (٢-٤٠) : تعيين  $P_1, P_2$  أو  $C$



**Fig. (2-41)**

$$\text{Factor of safety} = F_1 = \frac{Q_{ult}(e)}{Q} = \frac{988 \text{ kN}}{180} = 5.49$$

**Step 4 :** Determination of  $Q_{ult}(e = 0)$  : From Eq. (2-17), because  $c = 0$ ,

$$q_u = q N_q S_q d_q + \frac{1}{2} \gamma B N_\gamma S_\gamma d_\gamma, \quad q_u = 12.6 \text{ kN/m}^2$$

From  $\phi = 30^\circ$  (From Table (2-7),  $N_q = 18.4$  and  $N_\gamma = 22.4$ ), From Table 3.4,

$$S_q = 1 + \frac{B}{L} \tan \phi = 1 + \left( \frac{1.5}{1.5} \right) \tan 30 = 1.577$$

$$d_q = 1 + 2 \tan \phi (1 - \sin \phi)^2 \frac{D_f}{B} = 1 + \frac{(0.289)(0.7)}{1.5} = 1.135$$

$$S_\gamma = 1 - 0.4 \left( \frac{B}{L} \right) = 1 - 0.4 \left( \frac{1.5}{1.5} \right) = 0.6, \quad d_\gamma = 1$$

$$q_u = (12.6)(18.4)(1.577)(1.135) + \left( \frac{1}{2} \right) (18)(1.5)(22.4)(0.6)(1)$$

$$= 414.97 + 181.44 = 596.41 \text{ kN/m}^2$$

$$\text{So : } Q_{ult}(e = 0) = (596.41)(1.5) \times 1.5 = 1342 \text{ kN}$$

**Step 5 :** Determination of  $Q(e = 0)$  :

$$Q(e = 0) = \frac{Q_{ult}(e = 0)}{F_1} = \frac{1342}{5.49} = 244.4 \text{ kN/m}^2$$

**Step 6 :** Determination of  $S_e(e = 0)$  :

$$S_e(e = 0) = \frac{B(Q_{e=0})}{E_s(B \times L)} (1 - \mu_s^2) \alpha_r$$

For  $L/B = 1$ ,  $\alpha_r \approx 0.82$  (Fig. 2-35). Given  $\mu_s = 0.3$  and  $E_s = 15,000 \text{ kN/m}^2$ ,

$$S_e(e=0) = \frac{(1.5)(244.4)}{(15,000)(1.5 \times 1.5)} (1-0.3^2) 0.82 = 0.0081 \text{ m} = 8.1 \text{ mm}$$

Step 7 : From Eq (2-105)

$$S_e = S_e(e=0) \left[ 1 - 2 \left( \frac{e}{B} \right) \right]^2$$

$$= (8.1) [1 - (2)(0.1)]^2 = 5.18 \text{ mm}$$

From Eq. (2-106)

$$t = \tan^{-1} \left[ C S_e \left( \frac{e/B}{\sqrt{BL}} \right) \right]$$

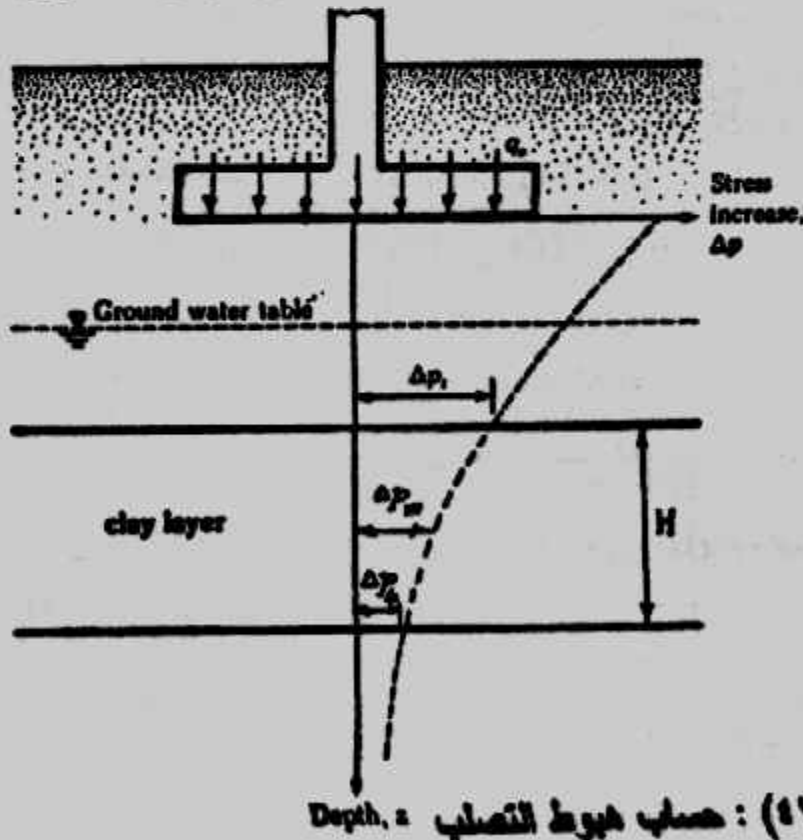
For  $B/L = 1$ ,  $C \approx 3.95$  (from Fig. 3.28). So

$$t = \tan^{-1} \left[ (3.95) \left( \frac{5.18 \text{ mm}}{1000} \right) \left( \frac{0.1}{\sqrt{(1.5)(1.5)}} \right) \right] = 0.078 \text{ deg}$$

ب- هبوط التصلب Consolidation Settlement :

هبوط التصلب يحدث مع الزمن للتربة الطينية المشبعة عند تعرضها لزيادة التحميل

عليها ويتكون هذا الهبوط من شقين هما هبوط التصلب الرئيسى Primary consolidation settlement ، هبوط التصلب الثانوى Secondary consolidation settlement ، والهبوط الثانوى يحدث بعد انتهاء حدوث الهبوط الرئيسى ويكون الهبوط الرئيسى مؤثرا أكثر فى حالة التربة الطينية والتربة الطميية الطينية غير العضوية بينما للتربة العضوية يكون الهبوط الثانوى هو الأكثر تأثيرا.



شكل (٢-٢) : حساب هبوط التصلب

ويحسب هبوط التصلب، شكل (٢-٤٢) من :

$$S_c = \int \epsilon_v : dz$$

where :  $\epsilon_v$  = vertical strain

$$= \frac{\Delta e}{1 + e_o}$$

$\Delta e$  = change of void ratio

=  $f(P_o, P_c, \text{ and } \Delta P)$

So

$$S_c = \frac{C_c H_c}{1 + e_o} \log \frac{P_o + \Delta P_{av}}{P_o} \text{ (for normally consolidated clays)....(2-108)}$$

$$S_c = \frac{C_s H_c}{1 + e_o} \log \frac{P_o + \Delta P_{av}}{P_o} \text{ (for overconsolidated clays).....(2-109)}$$

$$S_c = \frac{C_s H_c}{1 + e_o} \log \frac{P_c}{P_o} + \frac{C_c H_c}{1 + e_o} \log \frac{P_o + \Delta P_{av}}{P_o} \text{.....(2-110)}$$

(for overconsolidated clays with  $P_o < P_c < P_o + \Delta P_{av}$ )

where :  $P_o$  = average effective pressure on the clay layer before the construction of the foundation.

$\Delta P_{av}$  = average increase of pressure on the clay layer caused by the foundation construction.

$P_c$  = preconsolidation pressure.

$e_o$  = initial void ratio of the clay layer.

$C_c$  = compression index.

0.007 (LL-10%)

للتربة زائدة التصلب

0.009 (LL - 10%)

للتربة عادية التصلب

LL = Liquid limit

للتربة العضوية

Lw = water content

$C_s$  = swelling index.

$H_c$  = thickness of the clay layer.

وزيادة الإجهاد  $\Delta P$  فى طبقة الطين تقل بزيادة العمل ولذلك يمكن قياس زيادة

الإجهاد المتوسطة من :

$$\Delta P_{av} = \frac{1}{6} (\Delta P_t + 4\Delta P_m + \Delta P_b) \text{.....(2-111)}$$

حيث  $\Delta P_b$  ،  $\Delta P_m$  ،  $\Delta P_t$  هي الزيادة في الإجهاد على قمة الطبقة وفي وسطها وفي قاعها على الترتيب . ولحساب هذه القيم يرجع إلى الباب السادس من كتابنا "ميكانيكا التربة" . كما يمكن حساب الهبوط باستخدام معامل التغير الحجمي من :

$$S_c = \int \frac{\Delta e}{1+e_0} dz = \int m_v \Delta P_{(1)} dz \quad (2-112)$$

where :  $S_c$  = consolidation settlement

$\Delta P_{(1)}$  = vertical stress increase

$m_v$  = volume coefficient of compressibility

وللطبقات الصغيرة التي لا يزيد سمكها عن ٣ مترا يمكن استخدام :

$$S_c = m_v \cdot \Delta P_{(1)} \cdot H \quad (2-113)$$

حيث  $H$  هو سمك الطبقة، أما الهبوط الثانوي (وهو مثل ظاهرة الزحف Creep في الخرسانة) فيحسب بعد زمن معين مقداره  $t_2 = t_1 + \Delta t$  من :

$$S_s = H_f C_\alpha \log \frac{t_1 + \Delta t}{t_1} \quad (2-114)$$

$H_i$  = thickness of laboratory sample

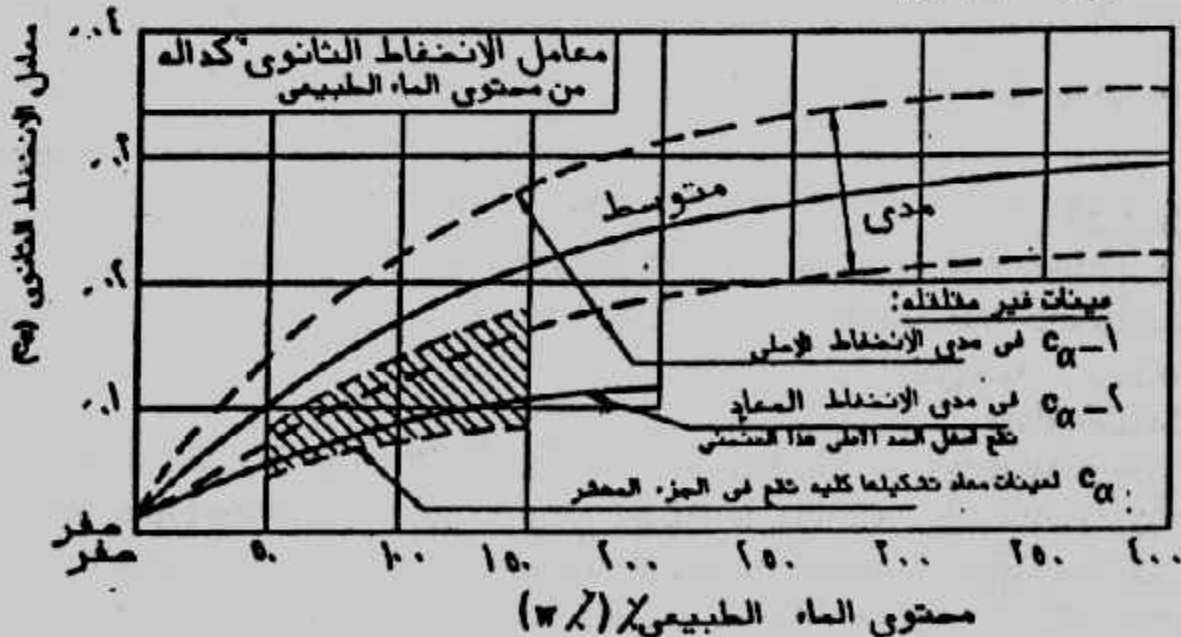
حيث :

$\Delta H_s$  = change in laboratory sample thickness from  $t_1$ , to  $t_2$

$H_f$  = thickness of field consolidation stratum.

$$C_\alpha = \frac{\Delta H_s / H_i}{\log t_2 / t_1}$$

وفي حالة عدم توافر قيم للمعامل  $C_\alpha$  يمكن الإستعانة بالعلاقات المبينة في شكل (٤٣-٢) باستخدام المحتوى المائي للتربة .



شكل (٤٣-٢): تعيين  $C_\alpha$  من المحتوى الثاني



## الهبوط النسبى أو المتفاوت Differential Settlement :

عندما يتعرض مبنى أو أساس لهبوط غير متساوى فإننا نقول أن الهبوط هنا متفاوت أو نسبى، ويحدث ذلك بسبب اختلاف الأحمال المؤثرة على الأجزاء المختلفة للمبنى أو الأساس أو نتيجة لاختلاف أعماق أو أبعاد أو أشكال الأساس أو لاختلاف خواص التربة وسمك طبقاتها أو لاختلاف زمن الإنشاء. وإذا كان الهبوط المتساوى للأساسات لا يسبب أضرارا لسلامة المنشأ مثل الشروخ أو التصدعات فإن الهبوط النسبى أو المتفاوت يلحق أضرارا كبيرة بالمبنى قد تصل إلى الإنهيار الكامل. أما إذا كان الهبوط المتساوى كبيرا فقد يؤثر ذلك على سلامة وصلات المياه والمجارى ومظهر المنشأ معماریا. ويحدد الكود المصرى (١٩٩١) أنه يجب ألا تتجاوز قيم أقصى هبوط كلى للأساسات السطحية القيم المذكورة فى الجدول (٢-٢٣).

جدول (٢-٢٣) : أقصى هبوط كلى مسموح به للأساسات السطحية

نوع الأساس	نوع التربة	أقصى هبوط (مم)
قواعد منفصلة	متماسكة (طينية)	٧٠
قواعد منفصلة	غير متماسكة (رملية)	٥٠
لبشة	متماسكة	١٥٠
لبشة	غير متماسكة	١٠٠

وعمليا توجد علاقة بين قيم الهبوط الكلى والهبوط المتفاوت الذى قد يلحق أضرارا بالمنشأ، وعموما فإن عدم تجاوز المنشأ لقيم الهبوط المذكورة بالجدول السابق يكون كافيا لتحمله الهبوط المتفاوت بدون أضرار. ويعطى الكود المصرى أيضا قيم الهبوط المتفاوت المسموح به بدلالة زاوية الدوران للمنشآت المختلفة حيث تعرف زاوية الدوران بأنها الهبوط المتفاوت بين عمودين مثلا مقسوما على المسافة بينهما، جدول (٢-٢٤) وبدراسة حوالى مائتين مبنى قدم بعض العلماء الجدول (٢-٢٥) لقيم الهبوط والهبوط المتفاوت المسموح بهما. كما تقدم بعض المراجع الجداول (٢-٢٦)، (٢-٢٧)، (٢-٢٨) للقيم المسموح بها والمعمول بها فى بعض الدول للهبوط والهبوط المتفاوت.

### Example 2-25 :

A foundation 1x 2 m in plan is shown in Fig. 2- Estimate the total settlement of the foundation.

#### Solution :

#### Elastic Settlement :

The clay layer is located at a depth of 2 m that is,  $2B$  below the foundation. From Fig. (2-44), it can be seen that the soil located at a depth  $z > 2B$  has very little influence on the elastic settlement. Hence, if Eq. (2-91) is used for the elastic settlement calculation. is reasonable to use the Young's modulus and Poisson's ratio values of the sand layer. Thus :

جدول (٢-٢٤) : الهبوط النسبي أو المتفاوت المسموح به للمنشآت

الهبوط بدلالة ظل زاوية الدوران	تصنيف الحالة
١ : ٧٥٠	الحد المتوقع عنده وجود مشاكل للماكينات الحساسة للهبوط المتفاوت.
١ : ٦٠٠	الحد المتوقع عنده حدوث شروخ كبيرة فى الإطارات من الخرسانة المسلحة الغير محددة استاتيكيًا بدرجة كبيرة.
١ : ٥٠٠	الحد المطلوب للمنشآت المراد خلوها من أية شروخ على وجه العموم.
١ : ٣٠٠	الحد المتوقع عنده حدوث شروخ بالحوائط فى المباني الهيكلية وصعوبات فى المنشآت المحتوية على أوناش.
١ : ٢٥٠	الحد الذي يمكن عنده ملاحظة ميل المباني العالية بالعين المجردة.
١ : ١٥٠	الحد المتوقع عنده حدوث شروخ كبيرة فى حوائط المباني الهيكلية .
	الحد المتوقع عنده حدوث شروخ فى الحوائط الحاملة من الطوب أو الحجر ( نسبة ارتفاع الحائط إلى طوله أقل من ٢٥٪ ) .
	الحد الذي يحدث عنده أضرار فى هيكل المنشأ .

جدول (٢-٢٥) : قيم الهبوط الكلى والنسبى المقترحة .

نوع الهبوط والتربة	قواعد منفصلة	لبشة
<ul style="list-style-type: none"> <li>* زاوية الدوران</li> <li>* الهبوط النسبى أو المتفاوت</li> <li>- للتربة الطينية</li> <li>- للتربة الرملية</li> <li>* الهبوط الكلى</li> <li>- للتربة الطينية</li> <li>- للتربة الرملية</li> </ul>	٣٠٠/١	
	٤٠ مم	
	٢٥ - ٣٠ مم	
	٨٠ مم	٨٠ - ١٣٠ مم
	٥٠ مم	٥٠ - ٨٠ مم

جدول (٢-٢٦): الهبوط المسموح به للمباني المختلفة.

Kind of building	Allowable average settlement, in inches (millimeters)
Building with plain brick walls $L/H \geq 2.5$	3 (80)
$L/H \leq 1.5$	4 (100)
Building with brick walls, reinforced with reinforced concrete or reinforced brick	6 (150)
Framed building	4 (100)
Solid reinforced concrete foundations of smokestacks, silos, towers, and so on	12 (300)

\* After Wahls, 1981

جدول (٢-٢٧): قيم مسموح بها للهبوط

Type of Movement	Limiting Factor	Maximum Settlement
Total settlement	Drainage and access	0.15 to 0.6 m (0.5 to 2 ft)
	Probability of differential settlement	
	Masonry walls	25 to 50 mm (1 to 2 in.)
	Framed buildings	50 to 100 mm (2 to 4 in.)
Tilting	Tower, stacks	$0.004B^\dagger$
	Rolling of trucks, stacking of goods	$0.01S^\dagger$
	Crane rails	$0.003S^\dagger$
Curvature	Brick walls in buildings	$0.0005S$ to $0.002S^\dagger$
	Reinforced concrete building frame	$0.003S^\dagger$
	Steel building frame, continuous	$0.002S^\dagger$
	Steel building frame, simple	$0.005S^\dagger$
Maximum permissible settlement	Front slab, 100 mm thick	$0.02S^\dagger$

\* B is base width; S is column spacing.

† Differential settlement in distance B or S.

## جدول (٢-٢٨): القيم المسموح بها للهبوط في بعض الكودات

All values to be multiplied by  $L$  = length between two adjacent points under consideration,  $H$  = height of wall above foundation

Structure	On sand or hard clay	On plastic clay	Average max. settlement, mm
Crane runway	0.003	0.003	
Steel and concrete frames	0.002	0.002	100
End rows of brick-clad frame	0.0007	0.001	150
Where strain does not occur	0.005	0.005	
Multistory brick wall			25 $L/H \geq 2.5$
$L/H$ to 3	0.0003	0.0004	100 $L/H \leq 1.5$
Multistory brick wall			
$L/H$ over 3	0.0005	0.0007	
One-story mill buildings	0.001	0.001	
Smokestacks, water towers,			
Ring foundations	0.004	0.004	300

Structures on permafrost			
Reinforced concrete	0.002-0.0015		150 at 40 mm/year
Masonry, precast concrete	0.003-0.002		200 at 60 mm/year
Steel frames	0.004-0.0025		250 at 80 mm/year
Timber	0.007-0.005		400 at 129 mm/year

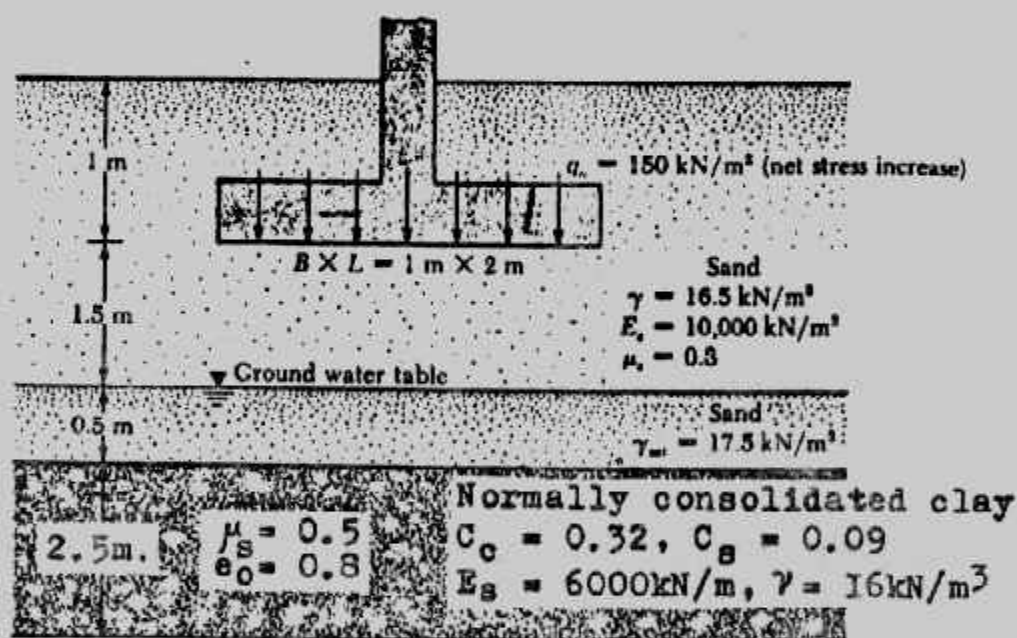


Fig.(2- 44)

$$S_e = \frac{Bq_0}{E_s} (1 - \mu_s^2) \alpha_r$$

Given :  $q_0 = 150 \text{ kN/m}^2$ ,  $E_s = 10,000 \text{ kN/m}^2$ ,  $\mu_s = 0.3$ , and  $\alpha_r \approx 1.2$  (Fig. 2-34). So

$$S_e = \frac{(1)(150)}{10,000} (1 - 0.3^2) (1.2) = 0.0163 \text{ m} = 16.38 \text{ mm}$$

**Consolidation Settlement**

The clay is normally consolidated.

$$S_c = \frac{C_c H}{1 + e_o} \log \frac{P_o + \Delta P_{av}}{P_o}$$

$$P_o = (2.5)(16.5) + (0.5)(17.5 - 9.81) + 1.25(16 - 9.81)$$

From Eq. 2-111 :

$$\Delta P_{av} = \frac{1}{6} (\Delta P_t + 4\Delta P_m + \Delta P_b)$$

Using the 2 : 1 method

$$\Delta P = \frac{q_o \times B \times L}{(B+z)(L+z)}$$

For the top of the clay layer,  $z = 2\text{m}$ , so

$$\Delta P_t = \frac{(150)(1)(2)}{(1+2)(2+2)} = 25 \text{ kN/m}^2$$

Similarly :

$$\Delta P_m = \frac{(150)(1)(2)}{(1+3.25)(2+3.25)} = 13.45 \text{ kN/m}^2$$

and

$$\Delta P_b = \frac{(150)(1)(2)}{(1+4.5)(2+4.5)} = 8.39 \text{ kN/m}^2$$

Thus

$$\Delta P_{av} = \frac{1}{6} [25 + 4(13.45) + 8.39] = 14.53 \text{ kN/m}^2$$

So

$$S_e = \frac{(0.32)(2.5)}{1+0.8} \log \left( \frac{52.84 + 14.53}{52.84} \right) = 0.0469 \text{ m} = 46.90 \text{ mm}$$

Hence, total settlement =  $S = S_e + S_c = 16.38 + 46.90 = 63.28 \text{ mm}$

**Note :** The total settlement just calculated may exceed the tolerable settlement of the foundation. In order to reduce the settlement, the foundation size may be changed so that it will carry the same total load of 300 kN but cause less settlement.



## الباب الثالث

### الأساسات السطحية

### Shallow foundations

#### الأساسات والغرض منها :

الأساس هو الجزء السفلى من المنشأ والمتصل بالأرض . والأساس هو العنصر الإنشائي الذي ينقل أحمال المنشأ سواء كانت حية أو ميتة أو غيرها بطريقة آمنة إلى تربة الأرض . وعامة تنفذ الأساسات أسفل مستوى سطح الأرض وإن كانت في بعض الأحيان قد تمتد إلى أعلى سطح الأرض .

والأساسات عند تصميمها وتنفيذها يجب أن تحقق الأغراض الآتية :

- ١- تتحمل بأمان وزن المنشأ والأحمال الأخرى المعرض لها المنشأ مثل أحمال الرياح أو الزلازل أو أى أحمال أخرى تحدد حسب نوع المنشأ واستخدامه .
- ٢- توزيع ونقل جميع الأحمال الواصلة للأساسات إلى مساحة أكبر من التربة تحت الأساس وبما لا يسبب إجهادات على التربة أكبر من قدرة تحمل هذه التربة .
- ٣- مقاومة الهبوط النسبي المتفاوت لأجزاء المنشأ ومقاومة انتفاخ التربة .
- ٤- تحقيق الإتزان والاستقرار للمنشأ ضد أى تأثير خارجى مثل الرياح والأمطار والزلازل وضغط المياه وصدم الأمواج .
- ٥- مقاومة تأثير المياه الجوفية أو التأثيرات البيئية المحيطة بالأساسات .

#### أنواع الأساسات : Types of Foundations

الأساسات تنقسم إلى نوعين أساسيين ويضم كل نوع عدة أشكال للأساسات :

#### أ- الأساسات السطحية : Shallow Foundations

وهى الأساسات التى تنفذ على أعماق قريبة من سطح الأرض حيث يكون عمق التأسيس أقل من ضعف عرض الأساس . والأساسات السطحية تضم القواعد المنفصلة والأساسات الشريطية المستمرة والقواعد المشتركة واللبشة . ويضم شكل (١-٣) أنواع الأساسات السطحية المختلفة . والأساسات السطحية تمثل فى الأساسات الجزء الأكثر استخداما والأسهل تنفيذا والأكثر اقتصادا . وفى أغلب الأحوال ينصح باستخدام الأساسات السطحية إلا إذا

تعد ذلك بسبب طبيعة التربة ونوع المنشأ وأحماله فيضطر إلى استخدام الأساسات العميقة الأكثر تكلفة والأصعب تنفيذاً.

ويمكن استخدام الأساسات السطحية عند وجود طبقة من التربة ذات قدرة تحمل مناسبة وقريبة من سطح الأرض مع عدم وجود طبقات عالية الإلتصاف على أعماق قريبة من منسوب التأسيس حتى يكون الهبوط المحسوب للأساس في حدود القيم المسموح بها.

### ب- الأساسات العميقة Deep Foundations :

حينما يتعذر الحصول على طبقة صالحة للتأسيس بالقرب من سطح الأرض لتنفيذ أساسات سطحية يتم اللجوء اضطراراً إلى اختراق التربة لأعماق كبيرة للحصول على العمق الصالح للتأسيس . ويتم ذلك بتنفيذ أساسات عميقة مثل الأساسات الخازوقية وأساسات الدعامات والقيسونات شكل (٣-٢) وتستخدم الأساسات العميقة في الحالات الآتية :

أ- حينما تكون الطبقات السطحية من التربة ضعيفة لدرجة لا تسمح لها بتحمل الإجهادات المنقولة إليها من الأساسات .

ب- حينما يكون تنفيذ الأساسات السطحية صعباً مثل التنفيذ في قاع البحر أو في الأنهار .

ج- حينما تكون أحمال المنشأ كبيرة بدرجة لا تكفي معها استخدام الأساسات السطحية على كامل موقع المنشأ .

د- حينما تتواجد أحمال جانبية كبيرة مؤثرة على المنشأ مما يستلزم تنفيذ نظام إنشائي للأساسات لتحمل المركبات الأفقية المنقولة للأساسات مثل استخدام الخوازيق المائلة .

### اختيار نوع الأساس Type of Foundation :

يتم اختيار نوع الأساس المناسب طبقاً للعوامل الآتية :

١- المتطلبات الإنشائية مثل نوع المنشأ ووظيفته واستخدامه وأبعاده الرئيسية وحساسيته للهبوط العكافوت .

٢- أحمال الأساس مثل قيمة الأحمال الحية والميتة وأنواع وقيمة الأحمال الأخرى وكيفية توزيع هذه الأحمال وانتقالها للتربة .

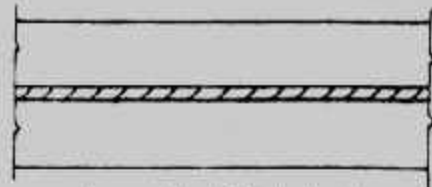
٣- حالة التربة وتشمل مقاومتها وانضغاطها وخواصها الانتفاخية أو الإنهيارية وكيفية انتقال الأحمال فيها ووجود طبقات الردم وحجمها وتأثير وجود الكيماويات بالتربة .



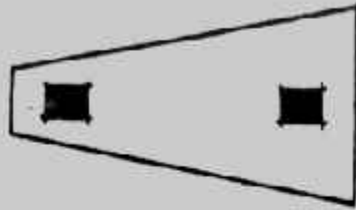
قاعدة مستطيلة




قاعدة مربعة




اساس لحائط اشريطي



اساس متحد شبه منحرف




اساس متحد مستطيل



اساس متحد مستمر بكرة ( شريطي )



اساس متحد مستمر



اساس لينة



اساس ذو شفاط ( حار او كابولي )

Shallow Foundation  $D_f < 2B$

شكل (١-٣) : الأساسات السطحية

(a)



خوازيق

(b)



دعامات

(c)



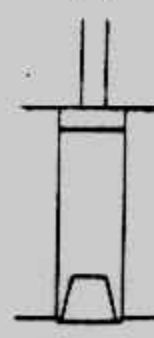
حوايط حازره

(d)



قيسون مفتوح

(e)



قيسون

Deep Foundation

شكل (٢-٣) : الأساسات العميقة

- ٤- المياه الجوفية وتشمل منسوبها وتغيراتها وتأثيرها على خواص التربة المحيطة بالأساسات وكذلك تأثيرها على الأساسات نفسها وما تحتويه من كيمائيات.
- ٥- الموقع وحالته المناخية من حيث طبوغرافيته ومدى تأثيره بحركة مياه البحر أو الفيضان أو الأمطار أو الجليد كذلك التأثيرات الحرارية والزلازل.
- ٦- متطلبات التنفيذ مثل زمن التنفيذ وأساليب التنفيذ في الحفر وسند جوانبه وتصريف المياه والتأثيرات الناتجة عن تنفيذ الأساسات.
- ٧- الناحية الاقتصادية والتكاليف المقدرة لتنفيذ المنشأ وكذلك تكلفة المواد والمعدات الداخلة في تنفيذ الأساسات.

### ٤٠ تحديد عمق التأسيس Foundation Depth :

عند اختيار عمق أو منسوب التأسيس يجب مراعاة ما يلي :

- ١- أن يكون الأساس أسفل خط المتجمد Forst Line في المناطق المعرضة للأجواء الباردة نظراً للتغيرات الحجمية المصاحبة.
- ٢- أن يكون الأساس أسفل مناطق التغير الحجمي الكبير حيث لا ينصح بالتأسيس على الردم Fill وكذلك على التربة الطينية أو الطميية ذات التغيرات الحجمية العالية High إلى العالية جداً Very High الموضح حدود أتربرج لها في جدول (١-٣).

#### جدول (١-٣) التغير الحجمي للتربة

Potential soil volume change as related to the plasticity index  $I_p$  and the liquid limit  $w_L$ †

Potential for volume change	Plasticity index $I_p$	Shrinkage limit $w_s$ , %	Liquid limit $w_L$ , %
Low	< 18	> 15	20-35
Medium	15-28	10-15	35-50
High	25-41	7-12	50-70
Very high	> 35	< 11	> 70

- ٣- أن يكون الأساس أسفل التربة السطحية Topsoil أو المواد العضوية.
- ٤- تجنب التأسيس على الطبقات الضعيفة مثل التربة العضوية Peat.
- ٥- موقع الطبقات الضعيفة والقوية.

- ٦- موقع منسوب المياه الجوفية حيث ينصح بالتأسيس أسفل المنسوب الأدنى لتذبذب سطح المياه الجوفية حيث تكون التربة في منطقة تذبذب المياه فيها أقل ثباتاً ومقاومة.
- ٧- التربة ذات المشاكل مثل التربة الإنهيارية والتربة القابلة للإنفخ . ويجب الحذر في التأسيس على التربة الإنهيارية والتي تحتاج عادة إلى معالجة وتحسين لخواصها قبل التأسيس عليها . كما يجب الحذر عند التأسيس على التربة الجافة القابلة للإنفخ والتي قد تنتفخ عند هطول الأمطار أو وصول المياه إليها من أى مصدر آخر . وعند التأسيس على طبقات طينية جافة يجب ألا يقل عمق التأسيس عن ١,٥ متراً .
- ٨- فى حالة وجود فراغات صناعية فى التربة تحت منسوب التأسيس مثل خطوط المجارى أو الأنفاق أو خزانات الصرف . إلخ . يتم ملء هذه الفراغات بردمها بتربة أقوى مثل الزلط أو الرمل مع الدمك الجيد أو النزول بمنسوب التأسيس أسفل هذه الفراغات .
- ٩- موقع الأساسات المجاورة حيث يجب البعد بالأساسات الجديدة عنها بمسافة تحدد كما فى شكل (٣-٣) لتجنب تراكب وتداخل الإجهادات حيث يكون  $m > Z_f$  .
- وعموماً يجب ألا يقل عمق التأسيس عن ٠,٨ متراً تحت منسوب سطح الأرض وذلك لضمان عدم تأثر التربة عند منسوب التأسيس بالعوامل الجوية ويمكن أن يقل هذا العمق فى حالات التربة الصخرية السليمة والمباني المؤقتة أو الصغيرة .

### الأحمال على الأساسات : Loads on Foundations

الأساسات يجب أن تصمم على الأحمال الميتة (الدائمة) والأحمال الحية وأحمال الرياح والزلازل والحرارة وغيرها .

١- الأحمال الميتة (الدائمة) **Dead Loads** : الأحمال الميتة هى مجموع الأحمال الثابتة والمستديمة سواء منها الأتقال الذاتية للعناصر الإنشائية أو الأتقال الثابتة المحمولة بواسطة هذه العناصر الحاملة . ويدخل ضمن هذه الأحمال وزن الأتربة وقوة دفعها الجانبية وكذلك الأرضيات والحوائط الحاملة والتركيبات . وبحسب الحد الأدنى للأحمال والقوى لتصميم المنشآت من جداول الأحمال المختلفة أو تقاس الأوزان الفعلية .

٢- الأحمال الحية **Live Loads** : الأحمال الحية هى الأحمال المتغيرة والمتحركة التى يتعرض لها أى جزء من المنشأ بما فى ذلك الأحمال الموزعة والمركزة وأحمال الصدم والاهتزازات والقصور الذاتى وهى تشمل :

أ- أوزان الأشخاص مستعملى المنشأ مثل صالات الاجتماعات .



ب- أحمال الماكينات واهتزازاتها .

ج- أحمال الأثاث والأجهزة والآلات غير المثبتة ومواد التخزين، وكذلك أوزان الشدات والأوناش والمعدات المستخدمة في التنفيذ .

ويعطى جدول (٣-٢) الحدود الدنيا للأحمال التي يجب أن تؤخذ في الاعتبار عند التصميم . ويحدد المهندس المصمم القيم الفعلية التي قد تتجاوز تلك القيم حسب المتطلبات الفنية للمنشأ . وفي المباني السكنية متعددة الطوابق التي تزيد عن خمسة أدوار يراعى تخفيض الأحمال الحية وفقا للجدول (٣-٣) عند حساب الأحمال على نقط الارتكاز كالجدران والأعمدة والأساسات . وفي حالة الأحمال الحية الناتجة عن الماكينات أو الأوناش أو أى جهاز له تأثير ديناميكي يؤخذ تأثير هذا الحمل في الاعتبار بأن يزيد الحمل الحى المحسوب بنسبة مئوية محددة ما لم يذكر خلاف ذلك في المواصفات الخاصة بالماكينة كالاتى :

توربينات، مصاعد	١٠٠%
أوناش متحركة كهربائية	٢٥%
أوناش متحركة يدوية	١٠%
ماكينات ثابتة تحدث اهتزازات	٥٠%

٣- أحمال الرياح Wind Loads : يجب تصميم المباني العالية والعريضة لتقاوم أحمال الرياح ولقد بينت الكودات المصرية للخرسانة والأحمال تفاصيل حساب القوى الناتجة عن الرياح . ويهمل تأثير أحمال الرياح للمباني ذات الارتفاع المساوى أو أقل من عرضه .

٤- أحمال الزلازل Earthquake Loads : تصميم الأساسات لتقاوم الزلازل حسب المنطقة الزلزالية الموجود بها المبنى . وسوف نفرد فصلا مستقلا لتصميم الأساسات المقاومة للزلازل . كما أن أحمال الرياح والزلازل لا تؤخذان معا في نفس الوقت وذلك لبعد احتمال تواجد أحمال الرياح فى وجود الزلازل .

توزيع ضغط التماس تحت الأساسات السطحية :

#### Pressure Distribution Under Shallows Foundation (Contact Pressure)

توزيع ضغط التماس بين الأساس وتربة التأسيس من المتطلبات الرئيسية لتصميم الأساسات السطحية حيث أنه بمعرفة الأحمال المؤثرة على الأساس وتوزيع ضغط التماس أسفله يمكن حساب القوى الداخلية من قص وعزوم باستخدام نظرية الإنشاءات . ونظرا للحساسية الكبيرة فى عزوم الإنحناء نتيجة أى تغير بسيط فى توزيع ضغط التماس فإنه يجب اختيار توزيع

جدول (٣-٢) : الحدود الدنيا للأحمال الحية

نوع المنشأ	الحمل كجم/م <sup>٢</sup>
أ- اسطح نهائية	
أقلية لا يوصل إليها (خبر مستظمة)	١٠٠
مائلة (زاوية الميل أكثر من ٥٢°) لا يوصل إليها (خبر مستظمة)	٥٠
أقلية أو مائلة يوصل إليها في مائتي سكتية	٢٠٠
أقلية يوصل إليها في مائتي عامة	٤٠٠
ب- المائتي السكتية	
غرف سكتية	٢٠٠
سلام	٣٠٠
مكورات	٢٠٠
ج- المائتي الإدارية	
غرف مكاتب	٢٠٠
سلام	٤٠٠
مكورات	٤٠٠
أرشيف (أوراق ومستندات تحت الحفظ)	١٠٠٠-٥٠٠
د- المستشفيات	
غرف علاج المرضى	٣٠٠
سلالم وطرق	٤٠٠
مكورات	٤٠٠
غرف علاج المرضى	٤٠٠
غرف الراحة	٣٠٠ - ٥٠٠
غرف الأشعة	٨٠٠ - ٥٠٠
هـ- المدارس	
فصول تعليمية	٢٠٠
سلام وطرق	٤٠٠
معامل	٤٠٠
مكتبات	٥٠٠
صالات رياضية	٥٠٠

تابع جدول (٣-٢) : الحدود الدنيا للأحمال الحية

نوع المنشأ	الحمل كجم/م <sup>٢</sup>
و- القاعات والصالات	
القاعات والصالات ذات المقاعد الثابتة	٥٠٠
القاعات والصالات ذات المقاعد غير الثابتة	٦٠٠
ز- محلات البيع بالطعام	٥٠٠ لو أكثر
محلات البيع بالجملة والمخازن (حسب نوع المواد المخزنة والآلات)	١٠٠٠ لو أكثر
ح- الفنادق	
غرف النزلاء	٢٠٠
غرف للخدمة العامة	٤٠٠
السلام والطرق	٤٠٠
غرف الطعام والمطاعم	٤٠٠
ط- المكاتب	
غرف الإطلاع	٤٠٠
غرف الحفظ للمكتب	١٠٠٠
١٤- المسارح وصالات السينما	
الطرق والسلام	٥٠٠
غرف خلع الملابس	٣٠٠
الشرفات	٥٠٠
القاعة الرئيسية والهكونات (ذات المقاعد الثابتة)	٥٠٠
القاعة الرئيسية والهكونات (ذات المقاعد غير الثابتة)	٦٠٠

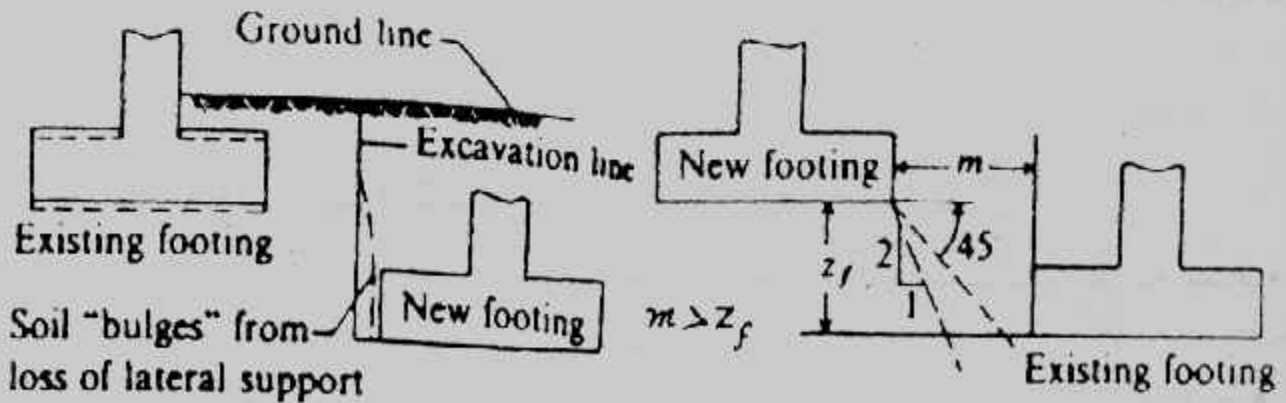
تابع جدول (٣-٢) : الحدود الدنيا للأحمال الحية

نوع المنشأ	الحمل كجم/م <sup>٢</sup>
١- السور	يجب حساب الأحمال طبقاً لإستخدام المبنى بالإضافة إلى التأثير الدائم يمكن لافتزاز الماكينات التي يجب أن يوضع في الإعتبار.
٢- المراجعات	جراجات لعربات الركوب لا يزيد الإرتفاع الصافي عند الداخل عن ٢.٤ م جراجات لعربات الركوب والعربات السياحية والأنهيسات المرات للجراجات المذكورة
	٣٠٠
	٤٠٠
	٥٠٠

جدول (٣-٣) : تخفيض الأحمال الحية في المباني السكنية

موقع السقف	قيمة الحمل الإضافي
السقف الأعلى أو السطح	P
السقف الأول تحت السطح	P
السقف الثاني تحت السطح	0.9 P
السقف الثالث تحت السطح	0.8 P
السقف الرابع تحت السطح	0.7 P
السقف الخامس تحت السطح	0.6 P
السقف السادس تحت السطح	0.5 P

ويحتفظ بمعامل التخفيض (0.5 P) لكل من الطوابق الباقية .



شكل (٣-٣) : موقع الأساسات الجديدة بالنسبة للمجاورة

ضغط التماس الذي يمثل السلوك الفعلي للأساس والذي يؤدي إلى تنفيذه بأبعاد اقتصادية . ولقد بينت الدراسات التحليلية لنظرية المرونة وبعض الدراسات المعملية والموقعية أن جهد التماس تحت الأساس - المحمل بحمل منتظم - لا يكون منتظماً وتوزيع الإجهاد تحت الأساس يعتمد على :

١- جساءة الأساس ونوعه .

٢- نوع تربة التأسيس .

وبين شكل (٣-٤) وشكل (٣-٥) أشكال ضغط التماس حيث يكون تحت مركز الأساس قيمة قصوى للتربة الخشنة وقيمة دنيا للتربة الناعمة . ولقد تبين أن هذا التوزيع يكون واضحاً حينما يكون الأساس على سطح الأرض . ويتأثر هذا التوزيع بعمق التأسيس ودرجة دمك التربة والهبوط . ولقد اتضح أنه كلما زاد عمق التأسيس وأحيط الأساس بالتربة من جميع الاتجاهات وكان الأساس جاسئاً فإن توزيع ضغط التماس يقترب من الحالة الخطية ويصبح أكثر انتظاماً لكل من التربة الناعمة والخشنة .

وعموماً فعند تصميم الأساسات يؤخذ ضغط التماس خطياً ومنتظماً تحت الحمل المتمركز في مركز الأساس وخطى التوزيع حينما يكون الحمل غير مركزي شكل (٣-٦) وعند تصميم المقاطع الحرسانية تأخذ بعض المواصفات والكودات (مثل AASHTO و ACI) قيم الإجهادات المسموح بها للخرسانة دون تخفيض . بينما تأخذ كودات أخرى مثل AREA الجمعية الأمريكية لهندسة السكة الحديد الإجهادات بعد تخفيضها بنسبة ١٠٪ ذلك عند اعتبار ضغط التماس منتظم التوزيع .

ولقد أعطى الكود المصري بالتفصيل عدة طرق لحساب ضغط التماس (التلامس) للأنواع المختلفة للأساسات ولقد أوردنا هذه الطرق في نهاية هذا الباب . وتبين الأشكال (٣-٥)، (٣-٦) بعض توزيعات ضغط التماس أسفل نموذج أساس، وكذلك أسفل أساسات عند تحميل مختلف .

### مساحة الأساس وقدرة التحمل :

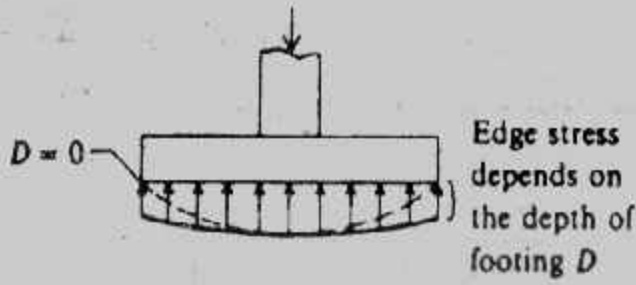
تحسب الأحمال للمنشأ عند منسوب سطح الأرض  $P$ ، فإذا كانت قدرة التربة الصافية الآمنة  $q_{na}$  معلومة فإن مساحة الأساس  $A$  تحسب من :

$$A = P / q_{na}$$

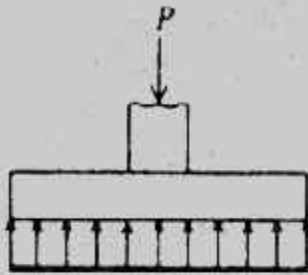
فإذا كانت قدرة تحمل التربة  $q_a$  هي المعطاه فإن مساحة الأساس تحسب من

$$A = P / q_a - \gamma_a D$$

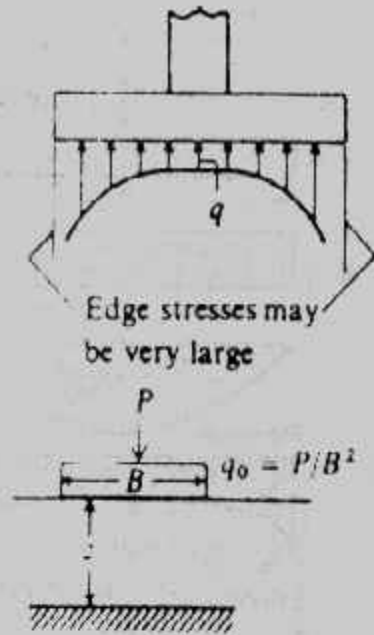




(a)  
On a cohesionless soil;



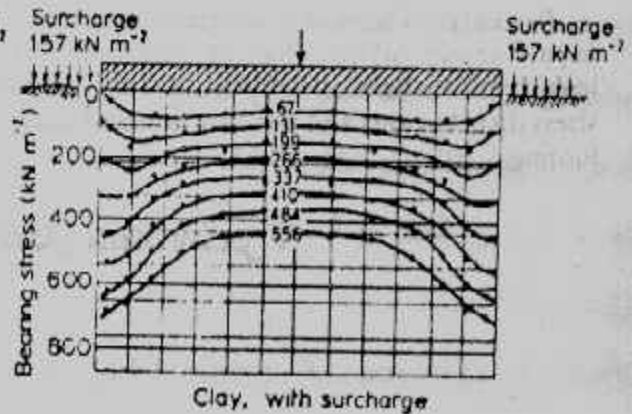
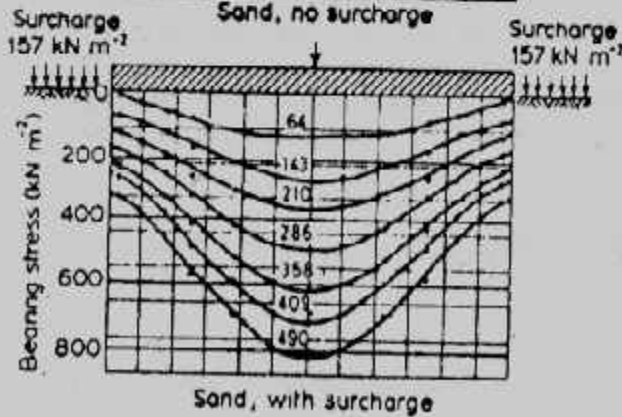
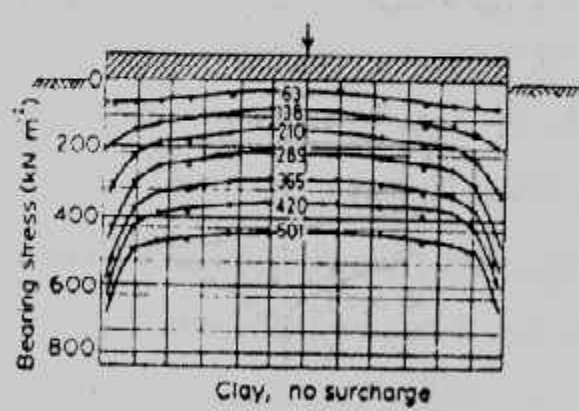
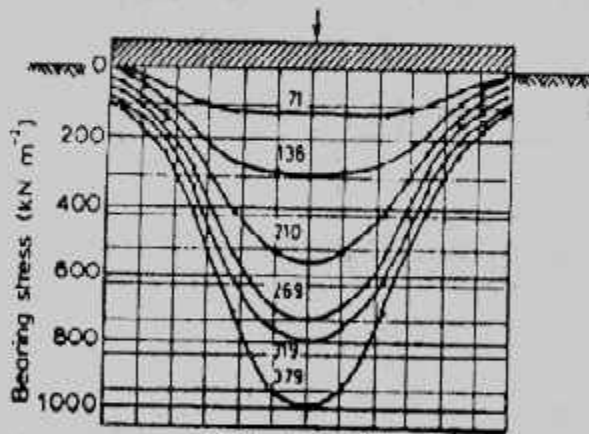
(c)  
usual assumed linear distribution.



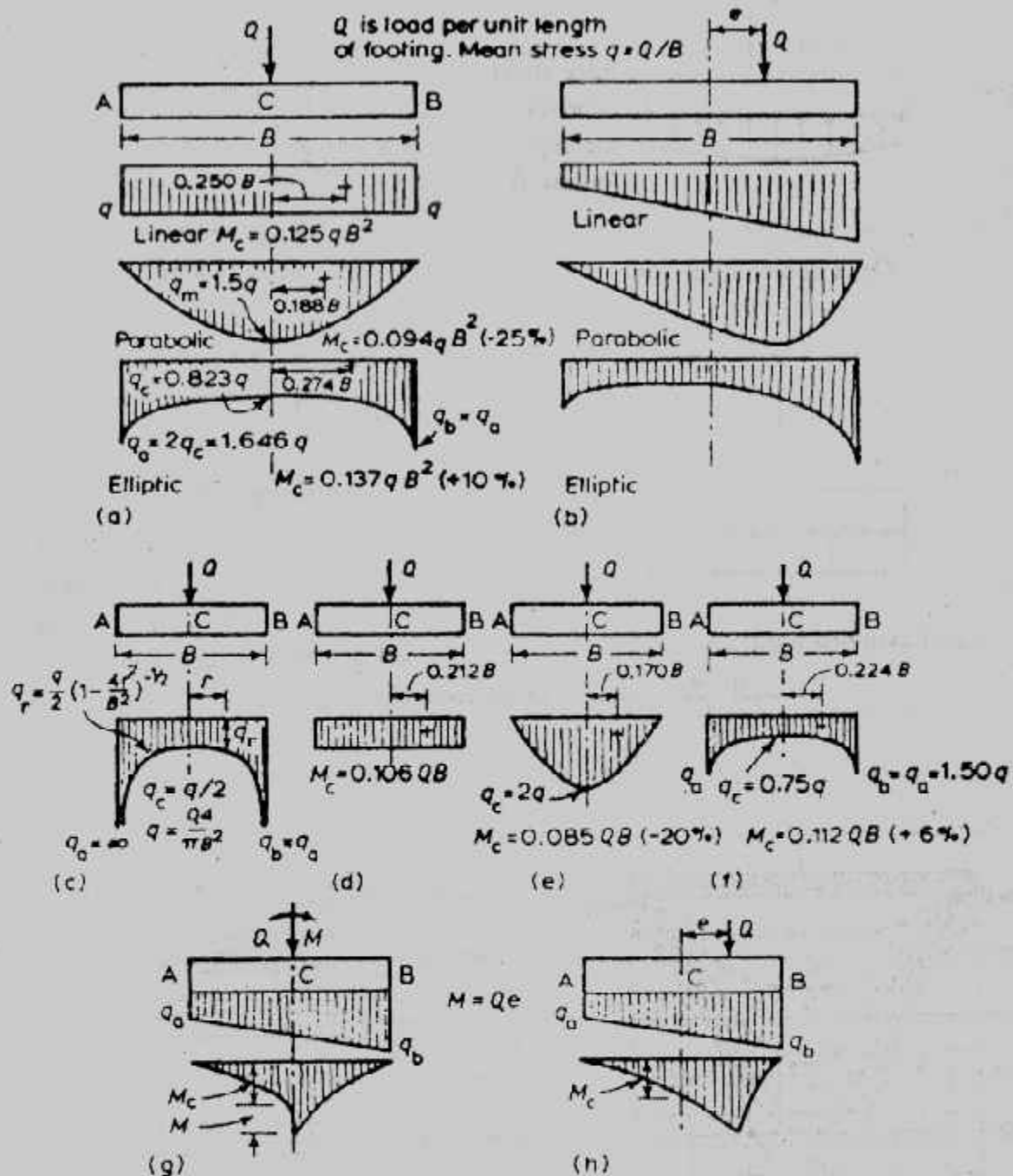
When:  $z/B = \infty$   $q \approx 0.64 q_0$   
 $z/B = 1.00$   $q \approx 0.70 q_0$   
 $z/B = 0.25$   $q \approx 0.92 q_0$

(b) generally for cohesive soils;

شكل (٣-٤): ضغط التماس للأساس على الجساءة



شكل (٣-٥): توزيع ضغط التماس أسفل نموذج أساس



Distribution of bearing stress beneath foundations. Centres of stress marked +. Percentage increase or decrease in  $M_c$  compared with  $M_c$  for linear distribution given in parentheses. (a) Strip footing, axial load; (b) strip footing, eccentric load; (c) elastic; (d) linear; (e) parabolic; (f) elliptic; (c) to (f) circular footing, axial load; (g) and (h) bearing stress distributions and bending moment diagrams for eccentric loading on a rectangular footing.

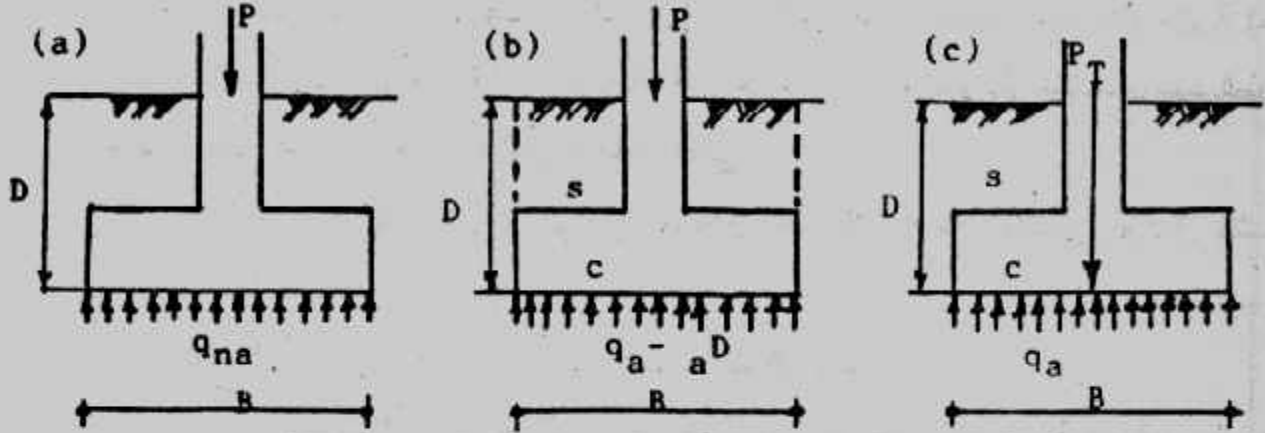
شكل (٣-٦): أشكال ضغط التماس.

حيث  $D$  هو عمق منسوب التأسيس،  $\gamma_a$  هي الكثافة المتوسطة بين كثافة خرسانة الأساس  $(1.9 \text{ kg/cm}^2)$  وعلى ذلك فتؤخذ  $\gamma_a$  مساوية  $(2.2 \text{ kg/cm}^2)$  لتسهيل الحسابات شكل (٧-٣) أما إذا حسب الحمل الكلي  $P_T$  عند منسوب التأسيس حيث :

$$P_T = P + \gamma_a D$$

فإن مساحة الأساس تحسب من :

$$A = P_T - q_a$$



شكل (٧-٣): مساحة الأساس وقدرة التحمل

### طرق تصميم القطاعات Design Methods of Section :

عند تصميم قطاعات العناصر الخرسانية للأساسات يلزم مسبقاً اختيار طريقة التصميم .  
ويسمح الكود المصرى لتصميم وتنفيذ المنشآت الخرسانية المسلحة لسنة ١٩٨٩ باستعمال إحدى الطريقتين التاليتين للتصميم :

- طريقة المرونة (طريقة اجهادات التشغيل) Elastic Method (Working Stress Method)

- طريقة حالات الحدود Limit States Method

ويمكن تلخيص أسس التصميم لكل من الطريقتين المذكورتين فيما يلى :

- أ- تحديد الخواص والمقاومات للمواد الداخلة فى تركيب الخرسانات وكذلك تحديد العوامل المؤثرة عليها . تحديد الخواص المميزة التى يتم تصميم المنشأ على أساسها وتحديد معاملات الأمان الكافية أثناء مرحلتى الإنشاء والتشغيل .
- ب- تحديد القوى الخارجية والأحمال الثابتة والمتحركة التى تؤثر على المنشأ فى مرحلتى الإنشاء والتشغيل .
- ج- الأفعال الداخلية Straining Actions فى عناصر المنشأ المختلفة (عزم الانحناء - قوى القص واللى - القوى المحورية) الناجمة عن القوى والأحمال المذكورة فى الفقرة (ب) .

ويجب أن تضمن طريقة التصميم أن يحقق المنشأ فى أجزائه المختلفة ومجموعاته كوحدة متكاملة متطلبات الاستعمال والتشغيل التى نفذ من أجلها طوال فترة استخدامه مع ضمان عدم حدوث تشوهات أو شروخ معيبة وتوافر معامل أمان كاف ضد الإتهيار وعدم الإتران .

### ٣٠ التصميم بطريقة المرونة (طريقة إجهاد التشغيل)

#### : Elastic (Working Stress) Design Method

طريقة المرونة (طريقة إجهاد التشغيل) ما زالت تستخدم فى عدة بلاد نامية (منها مصر) حيث الإمكانيات متواضعة وتكنولوجيا تنفيذ الخرسانة محدودة وعند استخدام هذه الطريقة فى التصميم يجب استيفاء شروط الأمان بتحقيق الآتى :

أ- أن لا تتعدى قيم الإجهادات فى كل من الخرسانة وصلب التسليح تحت تأثير أحمال التشغيل قيم الإجهادات المسموح بها .

ب- أن يتم استيفاء الشروط الخاصة بحالات حدود التشكل والتخيم .

ويبين الجدول (٣-٤) الإجهادات المسموح بها لتشغيل الخرسانة وصلب التسليح

لخرسانة تتراوح إجهاداتها المميزة بعد ٢٨ يوما بين ١٥٠ ، ٣٠٠ كجم/سم<sup>٢</sup> ،

**جدول (٣-٤) إجهادات التشغيل للخرسانة والصلب**

المصطلح							نوع الاجهـــــــــزات	
							مقاومة الخرسانة المميزة	
							الضغط المحوري ( $c = c_{min}$ )	
							الانحناء أو الضغط كبير كلا مركزي bending or comp. + big ecc.	
							كسرت وبلطات $t_s > 20\text{ cm}$	
							بلطات $12 < t_s \leq 20\text{ cm}$	
							بلطات $10 < t_s \leq 12\text{ cm}$	
							بلطات $8 < t_s \leq 10\text{ cm}$	
							بلطات $t_s \leq 8\text{ cm}$	
							الانحناء أو الضغط صغير اللامركزي bending or comp. + small ecc.	
							$e/t = 0.1$	
							$e/t = 0.2$	
							$e/t = 0.3$	
							$e/t = 0.4$	
							$e/t = 0.5$	
							القوى أو اللي لمقاومة الخرسانة :	
							* بدون تسليح في البلاطات والقواعد	
							* بدون تسليح في الأعمدة الأخرى	
							* وجود تسليح جذعي في جسم الأعمدة للقوى والتي معها	
							إرسال التي إذا كان	
							punching القص للثقوب	
							bond مقاومة التماسك	
							bearing = 0.3 fc مقاومة الإرتكاز	
							مقاومة شد الترسيع	
							$f_{ctc} = 0.75 (f_{cu})^{3/2}$	
							الشد المحوري	
							$f_{cto} = f_{ctr}/1.7$	
							الانحناء البسيط	
							$f_{cd}(M) = f_{ctr}/\eta$	
							لوة الشد المركزي	
							$f_{cl} = [f_{ct}(N) + f_{ct}(M)] \leq f_{ctr}/\eta$	
							$f_v = t[1 + f_{ct}(N)/f_{ct}(M)]$	
							نوع الصلب	
							صلب طوي	
							صلب	
							fs kg/cm <sup>2</sup>	
							نوع التسليح	
							تسليح	



وتعرف أحمال التشغيل بأنها الأحمال المنتظر حدوثها تحت ظروف التشغيل والتي تكون احتمالات الزيادة في قيمتها لا تتعدى ٥٪ وتشمل هذه الأحمال كل الأحمال الحية والدائمة وضغط الرياح والأترربة والسوائل والأحمال الديناميكية وأيضاً تأثيرات فرق الهبوط وأفعال الزحف والانتكماش وتغيرات درجة الحرارة. ويؤخذ تأثير الزلازل في الأجزاء المعرضة لها.

### التصميم بطريقة حالات الحدود Limit States Design Method :

لا يجوز استخدام هذه الطريقة للتصميم في حالة ما إذا كانت المقاومة المميزة للخرسانة بعد ٢٨ يوماً أقل من ٢٠٠ كجم/سم<sup>٢</sup> (الكود المصرى) أو أقل من ٢١٠ كجم/سم<sup>٢</sup> (ACI) . وفى هذه الطريقة يتم استيفاء شروط استخدام معاملات أمان كافية لأحمال وأفعال التشغيل للحصول على الأحمال والأفعال القصوى التى يبلغ عندها المنشأ حداً من حالات الحدود ويؤخذ عند حساب هذه الحدود كافة العوامل التى تؤثر سلبياً على مقدرة المنشأ فى مقاومة الأحمال والنتيجة عن عوامل تخفيض لمقاومات المواد والتفاوتات المقبولة سواء فى التنفيذ أو فى الحسابات على ألا يتجاوز ذلك الحدود المسموح بها. ويمكن تحديد حالات الحدود فيما يلى :

- حالة حد المقاومة القصوى Ultimate Strength Limit State وهو الحد الذى يضمن عدم حدوث انهيار للمنشأ أو لأجزاء منه والنتيجة عن وصول القطاع إلى حد المقاومة القصوى له. وهذا الحد يتحكم فى طبيعة انهيار أجزاء المنشأ.

- حالة حد الإرتان Stability Limit State وهو الحد الذى يضمن عدم حدوث انهيارات ناتجة عن الإتبعاك Buckling أو الإنقلاب Overturning أو الطفو Uplift أو الإنزلاق Sliding للمنشأ.

- حالات حدوث التشغيل Serviceability Limit State وهى الحدود التى يؤثر تجاوزها سلبياً على استخدام المنشأ ومتانته وهى تضم حالات حدود التشكل والترخيم وهى الحالات التى تضمن عدم حدوث تشكلات أو ترخيم يتجاوز الحدود المسموح بها والتى تؤثر على كفاءة استخدام عناصر المنشأ. كما تضم حالات حد التشرخ وهى الحالة التى تضمن عدم حدوث شروخ باتساع يؤثر سلبياً على كفاءة المنشأ أو تحد من صلاحيته أو طول فترة هذه الصلاحية أو تؤثر على المظهر العام لأجزائه.

وفى هذه الطريقة تحسب الأحمال والأفعال القصوى على عناصر المنشأ المختلفة بضرب أحمال التشغيل - المعرفة فى طريقة إجهاد التشغيل - فى معاملات زيادة الأحمال كما هو مبين فى جدول (٣-٥).

جدول (٣-٥) : الأحمال القصوى •

كود المعهد الأمريكى للخرسانة ACI	الكود المصرى للمنشآت الخرسانية •	حالة التجهيل
$U = 1.4 D + 1.7 L$	$U = 1.4 D + 1.6 L$	$L > 0.75 D$
$U = 1.4 D + 1.7 L$	$U = 1.5 (D + L)$	$L \leq 0.75 D$
$U = 0.75 (1.4 D + 1.7 L + 1.7 W)$ $U = 0.9 D + 1.3 W$	$U = 0.8 (1.4 D + 1.6 L + 1.6 W)$ $U = 0.9 D + 1.3 W$	الحمل الحى + ضغط الرياح (W)
$U = 0.75 (1.4 D + 1.7 L + 1.7 S)$ $U = 0.9 D + 1.3 S$	$U = 0.8 (1.4 D + 1.6 L + 1.6 S)$ $U = 0.9 D + 1.3 S$	الحمل الحى + حمل الزلازل (S)
	$U = 0.8 (1.4 D + 1.6 L + 1.4 T)$ $U = 1.4 (D + T)$	الحمل الحى + تأثير التغيرات الحرارية، الزحف، الانكماش هبوط الركائز (T)
	$U = 1.4 D + 1.6 L + 1.6 K$	الحمل الحى + الأحمال الديناميكية (K)

D - الأحمال الدائمة (الميتة)، L - الأحمال الحية

معنى تصميم الأساسات :

تصميم الأساس يعنى إيجاد المعلومات الآتية :

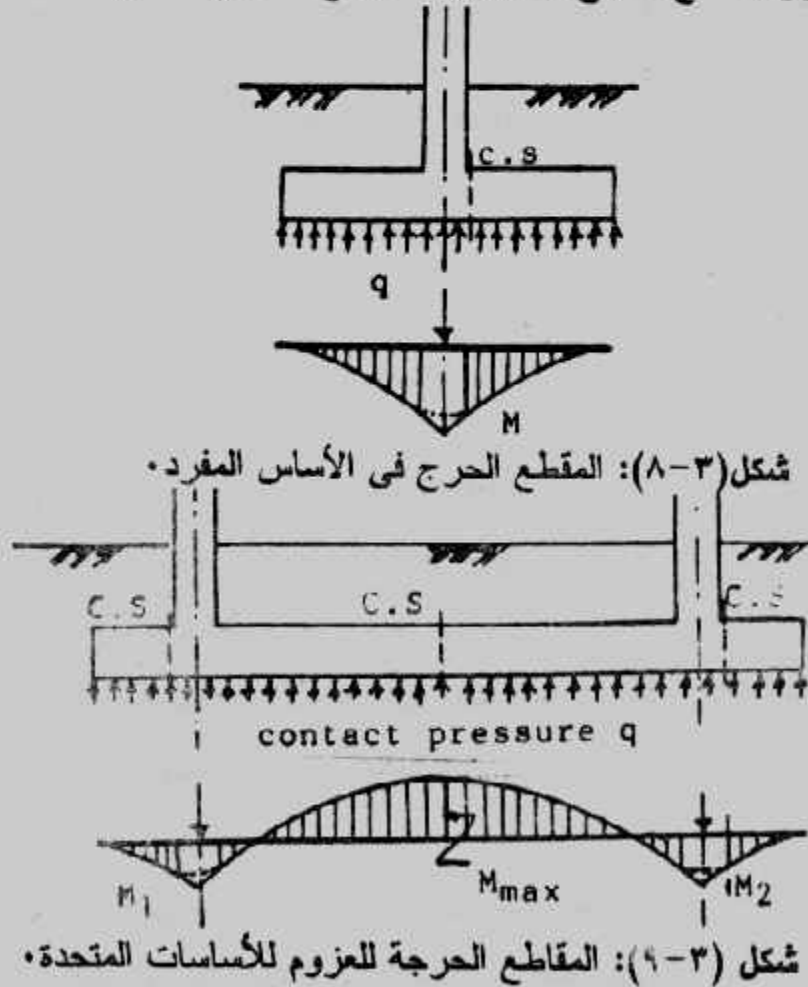
- عمق ومنسوب التأسيس •
- مساحة الأساس وأبعاده من حيث الطول والعرض •
- سمك الأساس ومنها تحديد الغطاء الخرسانى •
- حديد التسليح اللازم للأساس وتوزيعه •
- عمل التأكيدات اللازمة ليتحمل الأساس إجهادات القص والتعب والتماسك •
- كما يجب على مصمم الأساس تحديد :
- إحتياطات الحفر وسند جوانبه •
- الإحتياطات الواجب تنفيذها لحماية مباني وأساسات الجيران •
- إحتياطات تربة التأسيس مثل الدمك أو الإحلال أو التحسين •
- طريقة وكيفية نزع المياه الجوفية •


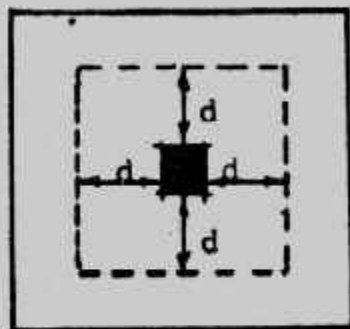
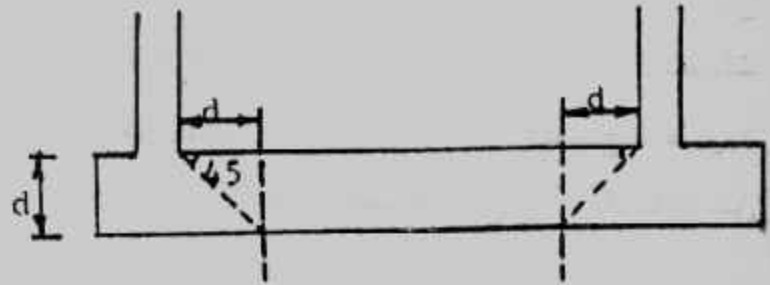
- طريقة حماية الأساسات من الظروف المحيطة بها مثل العزل بالمواد الغير منفذة.
- مكونات خرسانة الأساسات ونوع الأسمنت المستخدم وطريقة التنفيذ.
- مادة الردم حول الأساسات وكيفية تنفيذه.
- بيان الكمرات الرابطة للأساسات وتفصيلاتها الإنشائية وكذلك السمات الحاملة للحوائط.
- أى احتياطات أخرى لتنفيذ الأساسات.

### المقاطع الحرجة لتصميم الأساسات : Critical Sections

بعد تحديد عمق التأسيس وتعيين مساحة الأساس بمعرفة الحمل وضغط التماس يعين عزم الانحناء وتؤخذ أقصى قيمة له. وعادة يكون المقطع الحرج للعزم للأساس المفرد حول العمود شكل (٣-٨) أما للأساسات المتحدة فيتم رسم عزم الانحناء وتعين القيمة القصوى منه شكل (٣-٩).

أما المقطع الحرج للقص Shear فيؤخذ على بعد  $d$  من وجه العمود شكل (٣-١٠) أما المقطع الحرج للقص الثاقب Punshing فيؤخذ حول العمود على بعد  $d/2$  ويلاحظ أن المقطع الحرج للقص الثاقب لعمود الركن يكون من اتجاهين فقط ولعمود الحافة من ثلاث اتجاهات أما العمود الداخلى فيكون المقطع الحرج من الجهات الأربع شكل (٣-١١).

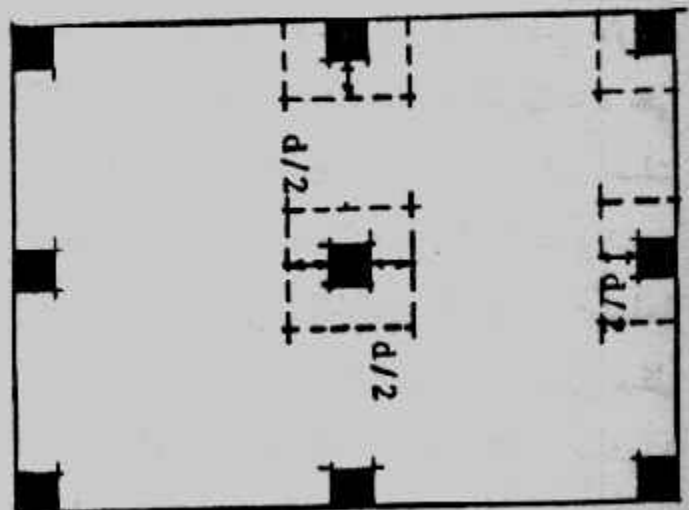
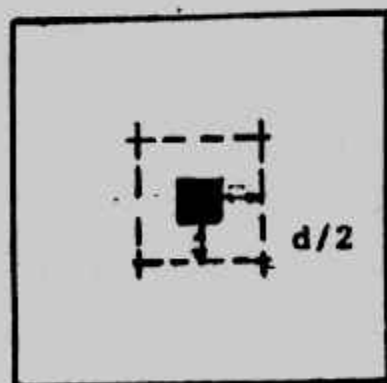
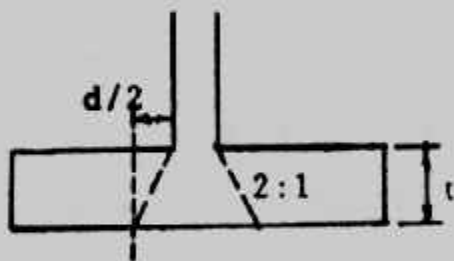




اساس متحد

اساس مفرد

شكل (٣-١٠): المقاطع الحرجة للقوس.



شكل (٣-١١): المقاطع الحرجة للقوس الثاقب.

## حديد التسليح للأساسات : Foundation Reinforcements :

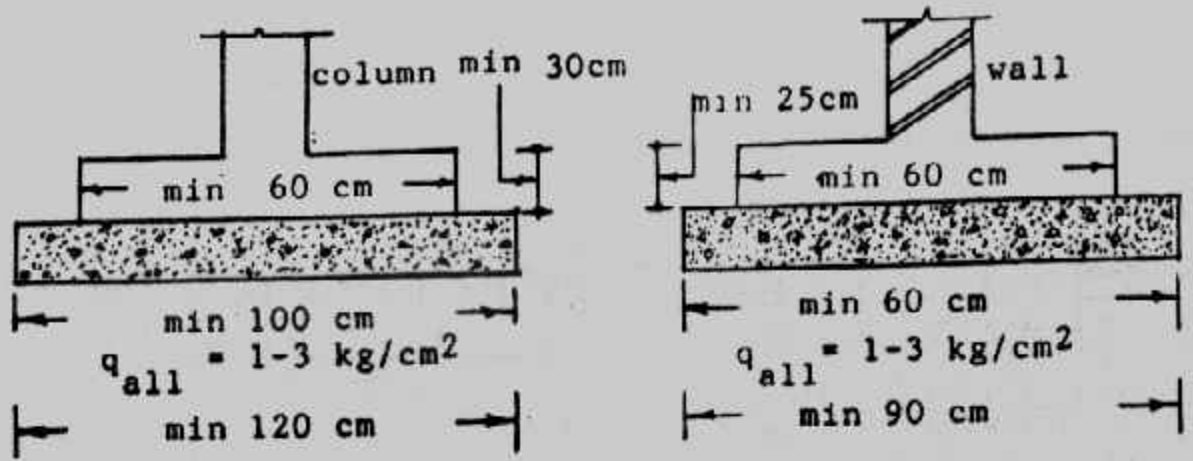
الأساسات تعامل معاملة البلاطات حيث يجب أن تسليح بما لا يقل عن خمسة أسياخ في المتر في التصميم بطريقة اجهادات التشغيل على أن يكون التسليح شبكة (أى فى الاتجاهين) . كما يجب ألا يقل قطر أسياخ التسليح عن  $\phi 13 \text{ mm}$  . كما يجب ألا تقل المسافة بين أسياخ التسليح عن ٢,٥ سم أو ١,٣٣ من المقياس الاعتبارى الأكبر (ACI) وتحدد بعض الكودات العربية (مثل السورى) مسافة ٨ سم كأقل مسافة بين حديد التسليح وعلى ذلك فينصح بالآلا يزيد عدد الأسياخ عن ١٢ سيخا فى المبانى الإعتيادية ويجب ألا تزيد المسافة بين أسياخ التسليح عن ٢٠ سم فى جميع الحالات عند التصميم بطريقة إجهادات التشغيل .

أما عن أدنى نسب حديد تسليح فى الأساسات فلقد اختلفت فيها الكودات فبعضها يأخذ نسبة ٠,٢٥٪ من مساحة المقطع الخرسانى للصلب الطرى ٣٥/٢٤ و ٠,١٥٪ للصلب عالى المقاومة (الكود المصرى) وبعضها الآخر يأخذ أقل نسبة حديد تسليح بين ٠,١٨٪ إلى ٠,٢٠٪ من مساحة القطاع الخرسانى حسب قيمة إجهاد الخضوع لحديد التسليح  $(ACI)F_y$  وتبين الجداول (٣-٦، ٣-٧) أسياخ حديد التسليح التى يمكن استخدامها .

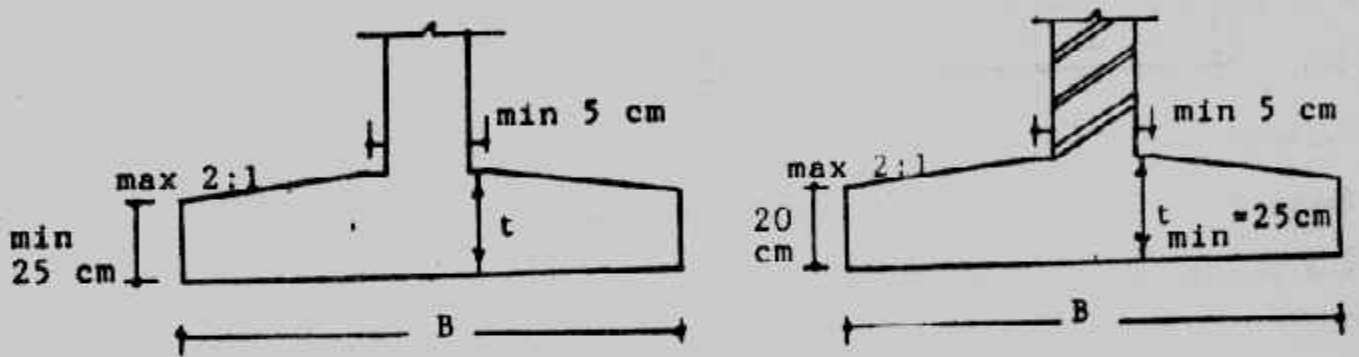
## أبعاد خرسانية Concrete Dimensions :

تُحسب من التصميم الأبعاد الخرسانية مثل مساحة الأساس وتخاثنه كما تقترح قيمة الغطاء الخرسانى . وأقل أبعاد للأساس الخرسانة المسلحة الغير حامل والمستعمل أسفل الشدادات الطويلة هى ٦٠ سم × ٦٠ سم × ٣٠ سم سمك وبتسليح  $\phi 13$  فى كل اتجاه . أما بالنسبة لأساسات الأعمدة فلا يقل البعد الأصغر لها عن ١٠٠ سم للتربة القوية ( $q_{na} < 3$ ) وعن ١٢٠ سم فى التربة الضعيفة ( $q_{all} \leq 1 \text{ kg/cm}^2$ ) هذا بالنسبة للأساسات المرتكزة على الأرض مباشرة (أساسات الخرسانة العادية) أما بالنسبة لأساسات الخرسانة المسلحة المرتكزة على لخرسانة العادية فلا يقل البعد الأصغر لها عن ٦٠ سم . وبالنسبة لأساسات الحوائط أو الأساسات الشريطية المرتكزة على التربة مباشرة فلا يقل عرضها عن ٦٠ سم فى التربة القوية ولا عن ٩٠ سم فى التربة الضعيفة شكل (٣-١٢) . أما الحد الأدنى لسمك (تخانة) الأساسات المسلحة فيجب ألا يقل عن ٢٥ سم لأساس الحوائط أو الشريطية وألا يقل عن ٣٠ سم لباقي الأنواع شكل (٣-١٢) . أما القواعد الهرمية ذات الميل فلا يقل سمك الأساس عند الحافة عن القيم المذكورة فى الفقرة السابقة ولا يزيد الميل عن ١ : ٢ وألا تطلب عمل شدات للسطح العلوى للأساس . كما يجب أن يترك سطح الأساس أفقيا حول العمود بمسافة لا تقل عن ٥ سم وذلك لتسهيل تنفيذ الشدة الخشبية الرأسية للعمود . شكل (٣-١٣) .





شكل (٣-١٢): الأبعاد الدنيا للقواعد.



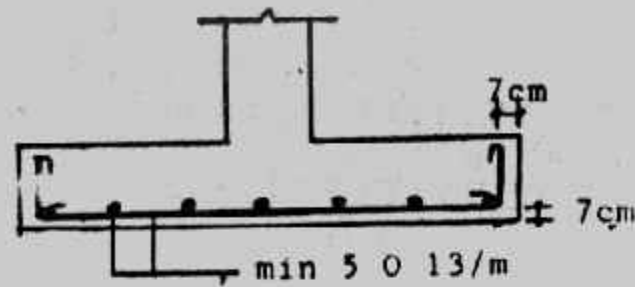
شكل (٣-١٣): القواعد الهرمية.

ويحدد سمك الأساس من التصميم بحيث يغطي جهد التماسك للأشبار الواصلة من تسليح العمود للأساس، جهد النقب أو اختراق العمود بالقاعدة، جهد القص والعزوم. ويجب تحديد سمك الغطاء الخرساني بحيث يكون كافياً لحماية حديد التسليح من التآكل. وبالنسبة لأعمال الخرسانة المعرضة للتربة بشكل مستمر يجب ألا يقل الغطاء الخرساني عن ٥ سم. أما الأعمال الخرسانية المعرضة لتأثير الكيماويات في التربة أو المياه الجوفية فيجب ألا يقل هذا الغطاء عن ٧ سم. ويحدد معهد الخرسانة الأمريكي (ACI) سمك الغطاء الخرساني للأساسات بقيمة ٧,٥ سم. وعموماً فإننا ننصح بألا يقل الغطاء الخرساني للأساسات عن ٧ سم. شكل (٣-١٤).

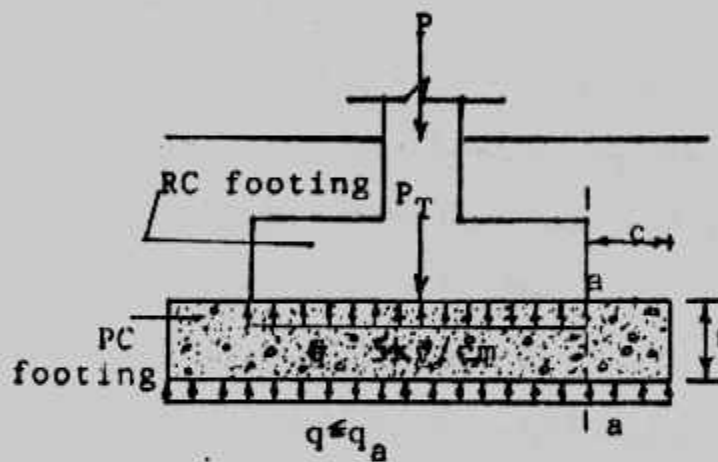
#### الخرسانة العادية للأساسات Foundation Plain Concrete :

لا تنفذ القواعد المسلحة للأساسات على تربة التأسيس مباشرة بل تنفذ على فرشاة من الخرسانة العادية أو فوق قواعد من الخرسانة العادية أو لبشة من الخرسانة العادية. وفائدة الخرسانة العادية أسفل الخرسانة المسلحة للأساسات متعددة، منها عدم اختلاط الخرسانة المسلحة بالتربة وكذلك تسوية سطح التأسيس بالخرسانة العادية ثم استخدامها في إعداد سطح مستو نظيف

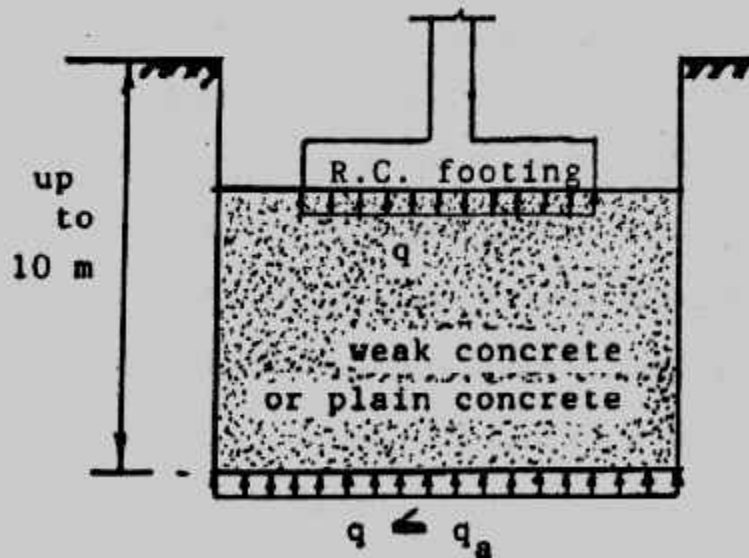
لتتفيذ أعمال الحدادة والشدات للخرسانة المسلحة . إضافة إلى ذلك فتستخدم الخرسانة العادية في توزيع الأحمال الواصلة من الخرسانة المسلحة للتربة . وقد تستخدم لنقل الحمل لطبقة من التربة على بعد غير سطحي وللخرسانة العادية أسفل الخرسانة المسلحة عدة حالات نوردها فيما يلي :



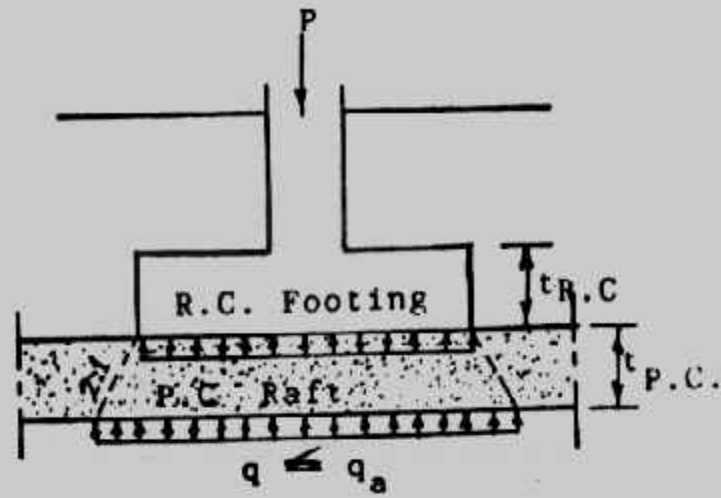
شكل (٣-١٤): الغطاء الخرساني .



شكل (٣-١٥): قاعدة من الخرسانة العادية .



شكل (٣-١٦): الابار الإسكندراني .



شكل (١٧-٣): لبشة من الخرسانة العادية.

#### الحالة الأولى : فرشاة من الخرسانة العادية :

توضع فوق تربة التأسيس طبقة نظافة من الخرسانة العادية بسمك ١٥-٢٠ سم وتعمل هذه الطبقة كطبقة نظافة فقط ولا تؤثر على قدرة التحمل أو على إجهادات التصميم ولذلك فتحسب مساحة الأساس من حمل العمود وقدرة التحمل للتربة (جهد التربة) وفي هذه الحالة يكفي أن يكون بروز الخرسانة العادية عن المسلحة بمقدار ١٥-٢٠ سم.

#### الحالة الثانية : قواعد منفصلة من الخرسانة العادية بسمك $\leq 30$ سم :

توضع فوق تربة التأسيس قاعدة منفصلة من الخرسانة العادية بسمك أكبر أو يساوي ٣٠ سم وتنفذ فوقها القواعد المسلحة. وتعمل قاعدة الخرسانة العادية على توزيع الإجهاد الواصل إليها من القاعدة المسلحة إلى قيمة أقل من الجهد إلى التربة بينما يتناسب مع قدرة تحملها. وفي هذه الحالة تحسب مساحة القاعدة الخرسانية العادية من :

$$A_{p.c} = P_T / q_a \quad , \quad q = P_T / A_{p.c} \text{ actual}$$

ثم يفرض سمك الخرسانة العادية بقيمة أكبر أو يساوي ٣٠ سم حسب منسوب تربة التأسيس وجهد التربة المراد الوصول إليه ويجب أن يكون جهد الشد في الخرسانة العادية عند المقطع a.a في شكل (١٥-٣) أقل من جهد الشد المسموح به لنوعية الخرسانة العادية المستعملة وهو يساوي حوالي ٣ إلى ٤ كجم/سم<sup>٢</sup> . ويأخذ العزوم عند المقطع a.a

$$M = 0.5 q_c^2$$

حيث  $q$  هي الإجهادات الفعلية للتربة الناتجة من قسمة الحمل على المساحة الفعلية المأخوذة للقاعدة العادية (بعد تقريب أبعادها لأقرب سم) وهي قيمة مساوية أو أقل قليلا من جهد التربة (قدرة التحمل)  $q_{all}$ .

واجهادات الشد القصوى على قاع المقطع a.a هي :

$$q_t = \frac{6M}{t^2}$$

$$\therefore q_t = \frac{3qC^2}{t^2}$$

ومن ذلك نجد أن :

$$C = t \sqrt{\frac{q_t}{3q}}$$

وعلى اعتبار أن  $q_t = 4 \text{ kg/cm}^2$  للخرسانة فإن :

$$C = t \sqrt{\frac{1.33}{q}}$$

وعلى ذلك ففرافة الخرسانة العادية عن المسلحة  $C$  تكون

$q \approx q_{all} = 1$	1.25	1.5	2	2.5	3	$\text{kg/cm}^2$
$C = 1.15$	1.06	0.94	0.82	0.73	0.67	$t$

وبمعرفة  $C$  يمكن تحديد مساحة القاعدة المسلحة ثم يعين ضغط التماس بين الخرسانة العادية والمسلحة  $q$  حيث :

$$q = P_T / A_{R.C.} \leq 5 \text{ kg/cm}^2$$

ويجب ألا يزيد ضغط التماس بين الخرسانة العادية والمسلحة عن ٥ كجم/سم<sup>٢</sup> وإذا زاد هذا الضغط عن ٥ كجم/سم<sup>٢</sup> فيجب زيادة مساحة القاعدة وتصمم القاعدة المسلحة على ضغط التماس بينها وبين الخرسانة العادية وتستخدم هذه الحالة إلى سمك يصل إلى ١,٠٠٠ مترا. وتستخدم هذه الحالة أيضا لرفع منسوب التأسيس بالخرسانة العادية بقيمة تصل إلى ١,٠٠٠ مترا.

**الحالة الثالثة : آبار من الخرسانة العادية (الآبار الإسكندراتي) :**

حينما يزيد سمك القواعد العادية عن ١,٠٠٠ مترا للوصول للطبقة القوية التي تتحمل الإجهادات المطلوبة والتي قد يصل عمقها إلى ١٠ أمتار فإن الخرسانة العادية تشكل بنرا عميقا شكل (٣-١٦) ولتعيين مساحة مقطع البئر تستخدم الطريقة المبينة في الحالة الثانية ويحدد عمق البئر حسب بعد الطبقة التي تتحمل الإجهادات الواصلة من العمود. ونظرا للعمق الكبير للبئر فإن جهد التماس بين الخرسانة العادية للبئر والخرسانة المسلحة فوقها يؤخذ بقيمة مرتفعة تتراوح

بين ٥ إلى ١٠ كجم/سم<sup>٢</sup> وتتوقف هذه القيمة فى اختيارها على عمق البئر ونوعية الخرسانة وطريقة التنفيذ. ويطلق على آبار الخرسانة العادية هذه الآبار الإسكندرانى. وهى حل وسط بين الأساسات السطحية والعميقة وتستخدم الآبار الإسكندرانى فى حالة عدم وجود مياه أرضية وينفذ حفر البئر يدويا وبدون سند للجوانب إلا نادرا ويملأ البئر بخرسانة عادية فقيرة أو رمل مثبت أو طبقات مدكوكة من الرمل والزلط وعادة لا تقل أقطارها عن ١,٥ مترا والعمق إلى القطر يكون أقل من ١٠.

#### الحالة الرابعة : لبشة من الخرسانة العادية :

حينما تتقارب القواعد الخرسانة العادية المنفصلة من بعضها فإنه يمكن عمل قاعدة واحدة تغطى الموقع كله أو جزء منه تسمى لبشة من الخرسانة العادية. كذلك تستخدم اللبشة العادية حينما تربط القواعد المسلحة بميد الربط والتشادات فى نفس منسوب القواعد المسلحة. لأن ميد الربط يجب أن تنفذ على خرسانة عادية أيضا. وفى هذه الحالة يعين ضغط التماس بين التربة واللبشة من تأثير كل الأحمال على مساحة اللبشة ويجب أن تكون أكبر قيمة لضغط التماس أقل من الجهد الأمن للتربة. كذلك الفروق فى ضغط التماس يجب ألا تكون كبيرة حتى لا تتعرض اللبشة إلى فرق كبير فى الإجهادات وبالتالي هبوط نسبى متفاوت. كما لا يسمح بتكون إجهادات شد بأى حال من الأحوال. وحينما تكون المسافات بين القواعد المسلحة كبيرة نسبيا فإن ضغط التماس بين اللبشة والتربة أسفل كل عمود يجب أن يكون متساويا ويتم ذلك بتحديد المساحة من اللبشة أسفل العمود المعرضة لضغط التماس حيث يتم توزيع الحمل من القاعدة المسلحة إلى اللبشة بميل ٢ : ١ شكل (٣-١٧) ويتم تحديد هذه المساحة من قسمة الحمل على جهد التربة وبالأرجح يمكن تعيين مساحة القاعدة المسلحة وضغط التماس بينها وبين اللبشة والذي يجب ألا يتعدى ٥ كجم/سم<sup>٢</sup> وتصمم القاعدة المسلحة على هذه القيمة. وإذا تعدى ضغط التماس بين القاعدة المسلحة واللبشة هذه القيمة يراد سمك اللبشة العادية.

#### طبقات الإحلال Replacement Layers :

عند تنفيذ الأساسات على التربة قد يستلزم الأمر رفع منسوب التأسيس أو زيادة قدرة تحمل التربة أو البعد عن منطقة تأثير المياه الجوفية أو حماية الأساسات من تأثير هاء ويتحقق هذا كله أو بعضه باستخدام طبقات إحلال من تربة أخرى تورد وتنفذ على تربة الموقع. وعادة ما تنفذ تربة الإحلال من تربة أقوى من التربة الأصلية فى الموقع أو على الأقل مساوية لها. كما تنفذ تربة الإحلال على طبقات سمك كل منها لا يتعدى ٣٠ سم حيث يتم دمك كل طبقة إلى قيم ٩٥-٩٧% من أقصى كثافة جافة معسبة ويستلزم ذلك بطبيعة الحال إتمام الدمك بإحدى الوسائل

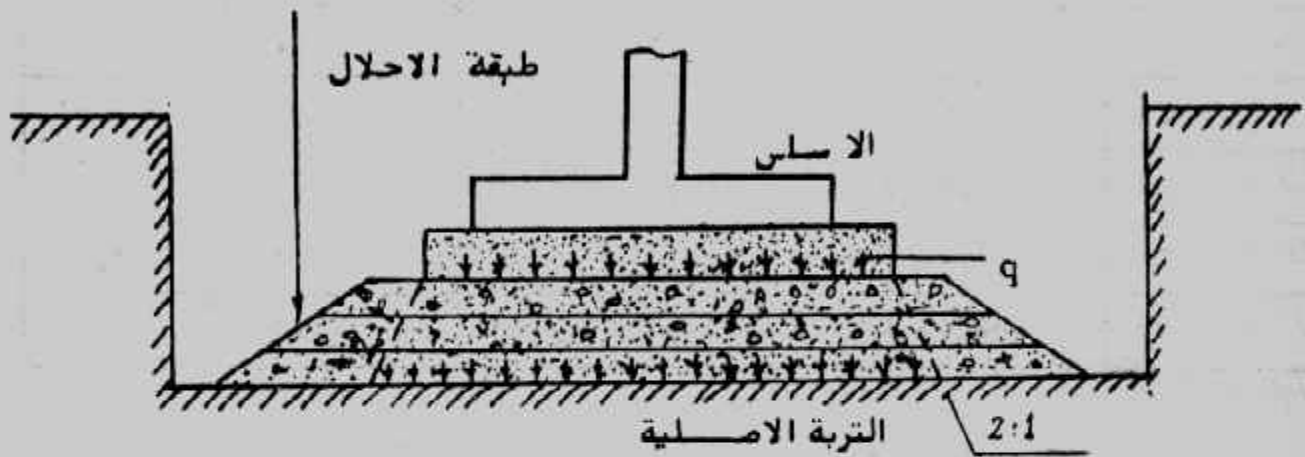


المعروفة مع الرش بالمياه بالمحتوى المائى الأمثل (OMC) للوصول إلى أقصى دمك بأقل جهد دمك .

وتوجد عدة أنواع لتربة أو طبقات الإحلال حسب الغرض منها :

#### ١- الإحلال بتربة الزلط والرمل :

حينما يراد رفع منسوب التأسيس أو زيادة قدرة تحمل التربة عند منسوب التأسيس تستخدم طبقات إحلال من خليط الزلط والرمل بنسبة ٢ : ١ أو ١ : ١ حسب نوع كل من الزلط والرمل شكل (٣-١٨) .



شكل (٣-١٨): طبقات الإحلال .

وفى حالة القواعد المنفصلة فإن طبقات الإحلال تلعب دورا كبيرا فى تخفيف الإجهاد الواصل من القواعد إلى التربة الأصلية حيث تصمم القواعد على جهد تربة الإحلال  $q_0$  والتي تتوقف على نوع مادة الإحلال وتقوم طبقات الإحلال بتوزيع الجهد  $q_0$  بنسبة ٢ : ١ خلالها لتصل إلى التربة بمقدار  $q_1$  التى يجب أن تكون أقل أو تساوى قدرة تحمل التربة الأصلية . وبطريقة عكسية يحدد سمك طبقة الإحلال التى تعطى قيمة معقولة لجهد التربة التصميمى عند منسوب التأسيس أعلى طبقة الإحلال .

فإذا كان جهد التربة الأصلية هو ٠.٤ كجم/سم<sup>٢</sup> ومطلوب تحديد سمك طبقة الإحلال من الزلط والرمل للحصول على جهد تصميمى أعلى طبقة الإحلال مقداره ١ كجم/سم<sup>٢</sup> لقواعد مساحة التماس لها ٢ × ٢ مترا فإن :

$$q_1 = q_0 A_0 / A_1$$

$$0.4 = 1 \times 2 \times 2 / (2 + y) (2 + y)$$

ومن ذلك فإن سمك طبقة الإحلال  $\gamma$  يكون ١,٢ متراً يحقق المطلوب ويبين الجدول (٣-٨) قيم تخفيض الإجهاد  $\frac{q_0}{q_1}$  للقواعد المربعة عند التخانات المختلفة لطبقات الإحلال.

جدول (٣-٨) قيم  $\frac{q_0}{q_1}$  المناظرة لسمك طبقة الإحلال للقواعد المربعة.

عرض القاعدة المربعة بالمتر					سمك طبقة الإحلال بالمتر
٣	٢,٥	٢	١,٥	١	
٠,٧٣	٠,٦٩	٠,٦٤	٠,٥٦	٠,٤٤	٠,٥
٠,٥٦	٠,٥١	٠,٤٤	٠,٣٦	٠,٢٥	١,٠٠
٠,٤٤	٠,٣٩	٠,٣٣	٠,٢٥	٠,١٦	١,٥٠
٠,٣٦	٠,٣١	٠,٢٥	٠,١٨	٠,١١	٢,٠٠
٠,٣٠	٠,٢٥	٠,٢٠	٠,١٤	٠,٠٨	٢,٥٠
٠,٢٥	٠,٢١	٠,١٦	٠,١١	٠,٠٦	٣,٠٠

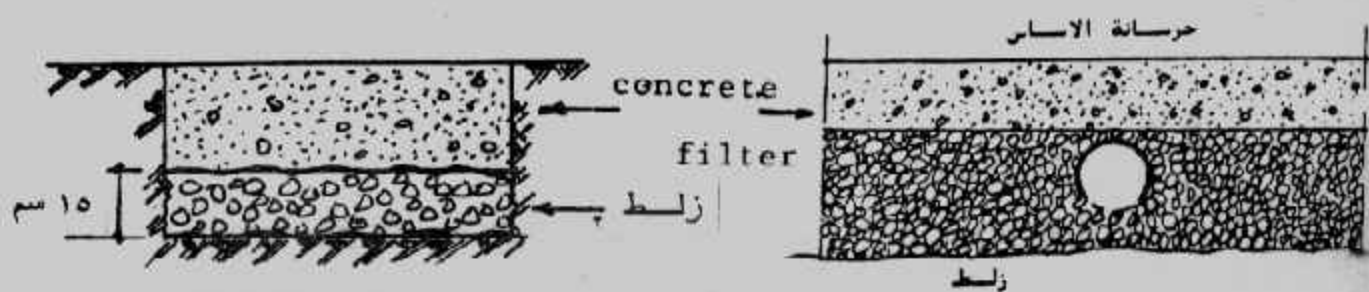
يلاحظ أنه في حالة أساسات اللبشة فإن طبقات الإحلال تكون عديمة الجدوى في تخفيض الإجهادات على التربة الأصلية ولكن تستخدم طبقات الإحلال في هذه الحالة لرفع منسوب التأسيس فقط. وقد يكون رفع منسوب التأسيس بغرض إبعاد الأساسات المسلحة عن منطقة تذبذب منسوب المياه الجوفية. أو قد يكون بغرض رفع الأساسات المسلحة فوق منسوب المياه الجوفية.

## ٢- الإحلال بتربة الزلط :

تستخدم تربة الإحلال بالزلط أسفل الأساسات لتعمل كنظام لتصريف المياه الجوفية أو لأبعاد المياه الجوفية عن خرسانة الأساسات، ١٥ سم من التربة الزلطية كافية لتحقيق هذا الغرض وفي هذه الحالة تعمل تربة الزلط كمرشح Filter حيث تتحرك المياه أفقياً لتستقبلها أنظمة الصرف إلى الشبكات العمومية أو إلى مصدر آخر للصرف وشكل (٣-١٩) يبين بعض حالات استخدام تربة المرشح لتحريك المياه الجوفية أسفل الأساسات.

## ٣- الإحلال بالخرسانة الضعيفة : ( الإحلال المثبت ) :

قد لا تجدى وسائل تصريف المياه الجوفية في التخلص من كل المياه الجوفية بعد الحفر للتأسيس ولذلك تنفذ طبقة إحلال من الخرسانة الضعيفة الأسمنت القليلة الماء (المفلطة) التي وقد



شكل (٣-١٩): الإحلال بترية الزلط.

ترمى بالموقع والذي به بعض المياه الجوفية التي تدخل في خلطة الخرسانة الضعيفة. وقد تعمل هذه الطبقة على كتم المياه الجوفية لحين إتمام تنفيذ الأساسات.

#### ٤- الإحلال بترية الرمل :

قد يستخدم الرمل في الإحلال لرفع المنسوب أو لتخفيض الإجهادات على التربة الأصلية نظرا لرخص ثمن الرمل ولكن الرمل يستخدم أساسا حينما تكون التربة الأصلية تربة قابلة للانتفاخ. ويعمل الرمل الخشن عند استخدامه كتربة إحلال في هذه الحالة كطبقة مرنة يمكنها امتصاص الانتفاخ الناتج من التربة الأصلية السفلية.

#### ٥- طبقة النظافة :


عند الحفر للأساسات قد يحدث ترويب للتربة الناعمة أو فوران للتربة الرملية وذلك في وجود المياه الجوفية ويمكن هنا استخدام طبقة رفيعة من الرمل أو الزلط والرمل كطبقة نظافة لتنفيذ الأساسات فوقها ويكون سمك هذه الطبقة من ١٠ إلى ٢٥ سم.

### أسباب فشل الأساسات السطحية :

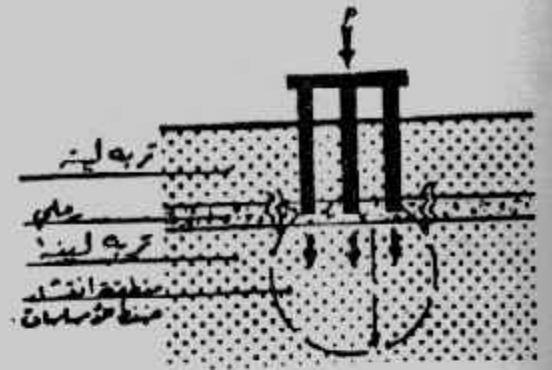
كثير من تصدعات وانهيارات المنشآت ترجع إلى تصدع أو فشل الأساسات وفيما يلي بعض أسباب فشل أو تصدع الأساسات :

- ١- عدم القيام بدراسة الموقع وأبحاث التربة أو الدراسة الغير سليمة من حيث عدد الجسات وأعماقها ونوعها.
- ٢- التوصيف الخاطئ لتربة الموقع.
- ٣- عدم مراعاة الدقة في تحديد خواص التربة.
- ٤- التغير مستقبلا في خواص التربة وفي منسوب المياه الجوفية.
- ٥- عدم إجراء تحليل كيميائي للتربة وللمياه الجوفية.
- ٦- الحفر لعمق يزيد عن أعماق أساسات المنشآت المجاورة بدون عمل الدراسات والاحتياطات اللازمة أو اختلاف مستوى التأسيس أو الحفر بجوار مبنى قديم.

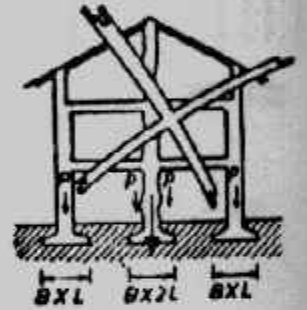
- ٧- استخدام طريقة غير مناسبة لنزح المياه الأرضية أو سحب مياه جوفية من بئر مجاور أو تسرب المياه الجوفية من حفرة مجاورة.
  - ٨- وجود مصدر لاهتزازات زائدة أو مرور مركبات ثقيلة بجوار مبنى قائم.
  - ٩- عدم إتزان القوى الأفقية أو تعرض طبقة التأسيس للهزات الأرضية.
  - ١٠- التحميل الزائد على التربة أو على المبنى أو جزء منه أو بجوار المبنى.
  - ١١- الهبوط الكلى للتربة والهبوط النسبى المتفاوت.
  - ١٢- استخدام أنواع غير مناسبة من الأساسات أو عدم تناسب أبعاد الأساسات مع الحمل.
  - ١٣- تأسيس الأجزاء المختلفة لنفس المنشأ على طبقة مختلفة من التربة أو نفذت بطريقة سيئة.
  - ١٤- طفق المياه داخل البدرومات.
  - ١٥- صدأ حديد التسليح فى الأساسات والعناصر القريبة من التربة.
  - ١٦- تفتت الخرسانة العادية والمسلحة المعرضة للمياه الأرضية.
  - ١٧- تسرب المياه إلى الحوائط والأرضيات والبدرومات مما يؤدي إلى هبوط الأرضيات وتلف توصيلات الكهرباء والتليفون وتدهور البياض والرخام.
- وتلعب المياه الأرضية مع التربة دورا كبيرا فى تكوين وسلوك الظروف المحيطة بالأساسات حيث تتعرض العناصر الإنشائية الملامسة للتربة أو الواقعة قرب وتحت منسوب المياه الجوفية لأضرار متنوعة بسبب التأثير الكيميائى للرطوبة والأملاح بها أو فى التربة وخاصة :
- إذا تلوثت المياه الجوفية بمياه مجارى ولمدة غير بسيطة.
  - عندما تكون العناصر الإنشائية غير محمية تماما بمواد عازلة أو مقاومة للرطوبة والأملاح، وغالبا ما يكون هذا التأثير الكيميائى بطيئا بحيث يحتاج إلى عدة سنوات كى يشكل خطرا حقيقيا على استقرار هذه العناصر ومقاومتها للأحمال الواقعة عليها، ولقد اعتاد كثير من المهندسين هذا التأثير لأنه لا يمثل خطرا إلا على المدى البعيد خلال خمس سنوات أو أكثر، وتتوقف سرعة هذا التأثير على عدة عوامل بعضها يختص بالتربة مثل التركيب الكيميائى وتركيز الأملاح فى المياه الأرضية وفى التربة، ومسامية التربة والبخر ودرجة الحرارة وبعضها الآخر يختص بالعناصر الإنشائية نفسها مثل جودة ونوعية المواد العازلة ونفاذية الخرسانة ونوعية المواد المستعملة وكمية الأملاح الموجودة فيها ونوع الأسمنت والإضافات.




٢- الهبوط



١- التأسيس على طبقة غير سميكة.

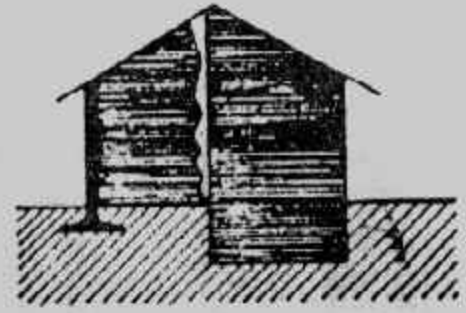
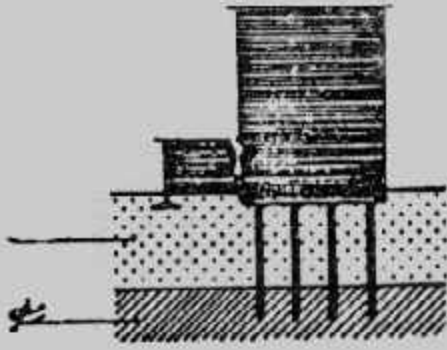


٣- الخطأ في تصميم القواعد (المساحة، العمق، التسليح).

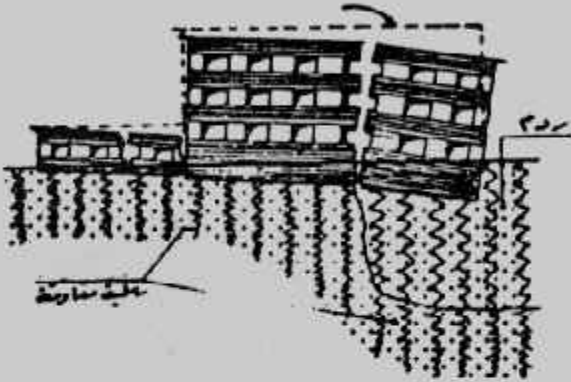


٤- تنفيذ مبان صغيرة ملاصقة لمبانى عالية (أساسات مفردة أو لبشة).


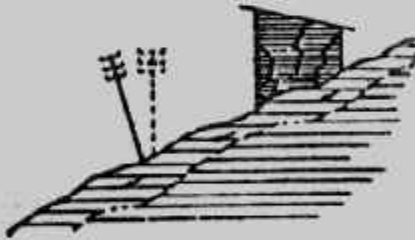




٥- اختلاف مناسيب التأسيس .




٦- تأسيس جزء من المبنى على ردم أو تربة لينة أو عضوية .




٨- التأسيس على تربة قابلة للانزلاق .

٧- التأسيس على إنشاءات قديمة .




١٠- تنفيذ مبنى جديد على بجوار مبنى صغير قديم

٩- التأسيس على مضبة منزلة بجميع الاتجاهات




١٢- التحميل على جزء من المبنى.



١١- التحميل بجانب المبنى.



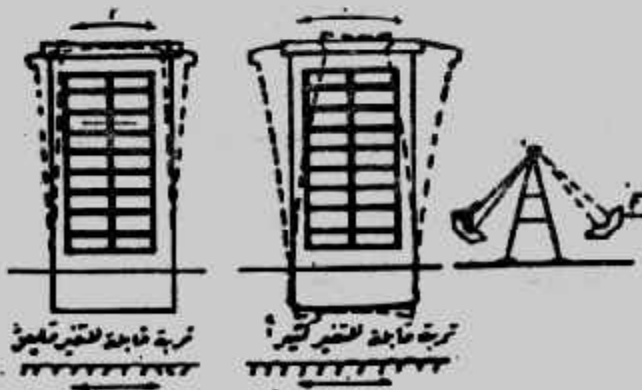
١٣- عمل حفر بجوار مبنى لمبنى جديد أو لأعمال المجارى أو المياه.



١٥- مرور مركبات ثقيلة بجوار المبنى




١٤- إنهيار التدعيم المجاور لمبنى



١٧- تعرض تربة الأساس للهزات الأرضية.




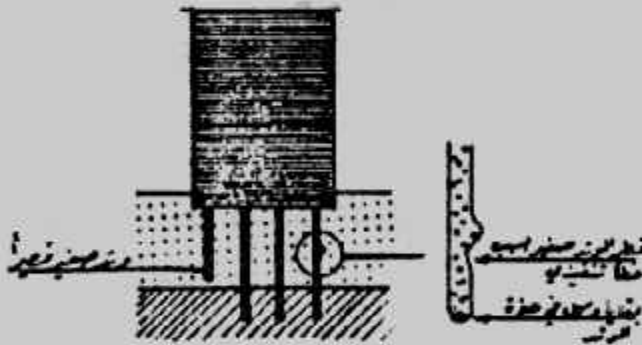
١٦- تدق خوازيق بجوار مبنى قديم.



- ١٨- سحب مياه جوفية من بئر مجاور . ١٩- تسرب المياه الجوفية من حفرة مجاورة .



- ٢٠- إنكماش تربة التأسيس المحيطة . ٢١- وجود أشجار قريبة من المبنى .



- ٢٢- إنتفاخ تربة التأسيس المحيطة . ٢٣- خطأ في تنفيذ الأساسات .

شكل (٣-٢٠): أسباب فشل الأساسات .

وتعتبر الكبريتات التي توجد بالتربة والمياه الجوفية وكذلك الأحماض الموجودة في التربة العضوية من أكثر الكيماويات الضارة بخرسانة الأساسات . وكقاعدة عامة فإن الأساسات يمكن أن تقاوم التأثير الضار لهذه الكيماويات في حالة ما إذا كانت الخرسانة المستخدمة في الأساسات عالية الكثافة، ذات محتوى أسمنتى غنى مع زيادة سمك الغطاء الخرساني لحديد التسليح .

ولقد بينا بالباب الأول الإحتياجات الواجب مراعاتها في تصميم الخلطات الخرسانية المسلحة للأساسات لمقاومة الكبريتات . أما بالنسبة للكلوريدات فليس لها تأثير ضاراً مباشراً على الخرسانة مهما كان تركيزها إلا أن اختراق أملاح الكلوريدات للغطاء الخرساني يساعد على صدأ حديد التسليح . ولذلك يجب التأكيد على أهمية أن تكون الخرسانة كثيفة وسمك الغطاء الخرساني من ٥-٧ سم ويفضل ٧ سم في حالة زيادة كمية الكلوريدات عن ٣٠٠٠ جزء في المليون مع استخدام غطاء عازل لخرسانة الأساسات مثل الأسفلت أو البيتومين أو تغليف الأساس بمادة غير منفذة للمياه .

ولحماية الأساسات الخرسانية من تأثير المياه الجوفية التي تحتوى على نسب عالية من الأملاح تتبع الخطوات الآتية :

١- يجب أن تكون الخرسانة المستخدمة ذات تكوين يعطى كثافة عالية ونفاذية قليلة ويتم ذلك بأن تحتوى الخرسانة المستعملة على نسب عالية من الأسمنت لا تقل عن ٣٥٠ كجم/م<sup>٣</sup> ولا تقل مقاومة الإنضغاط للخرسانة عن ٢٠٠ كجم/سم<sup>٢</sup> بعد ٢٨ يوماً . كما يضاف إلى الخرسانة أحد الإضافات التي تقلل من نفاذية الخرسانة . كما يجب أن يكون الركام المستخدم في الخرسانة من النوع السيلسى الخالى من الشوائب الكلسية . كما يمكن استعمال الأسمنت البورتلاندى العادى فى الحالات التى لا تزيد درجة تركيز أملاح الكبريتات فى المياه الجوفية عن ٣٠٠ جزء فى المليون، أما فى الحالات التى تزيد فيها درجة تركيز أملاح الكبريتات عن ذلك فتستخدم أنواع خاصة من الأسمنت مثل الأسمنت المقاوم للكبريتات .

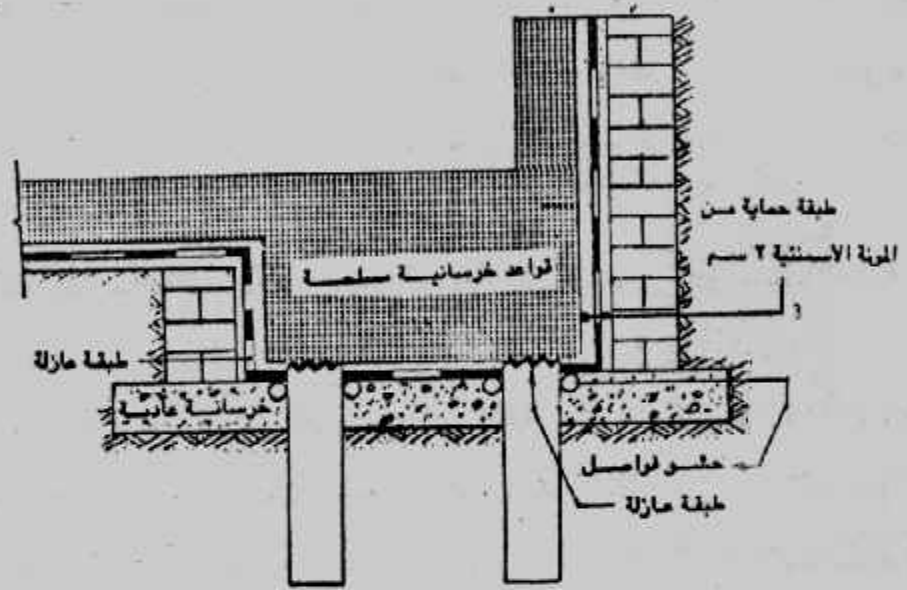
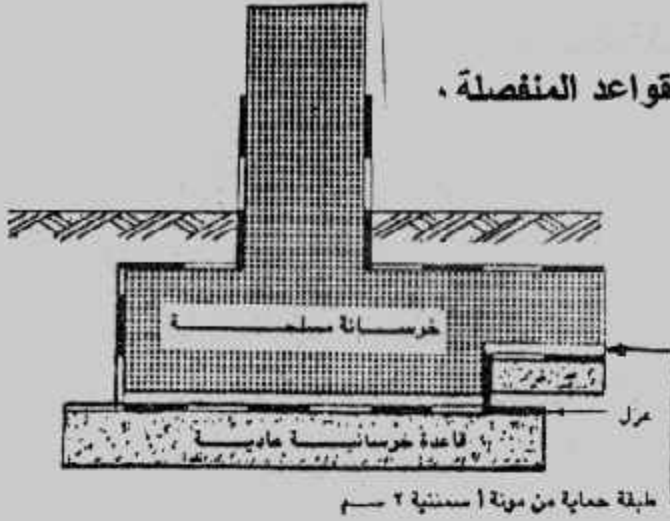
٢- يتم عمل طبقة عازلة للأساسات من مستحلبات بيتومينية أو من البيتومين المؤكسد الغير قابل للتشقق درجة ٢٥/٨٥ . ويمكن استخدام طبقة حماية من مونة أسمنتية بسمك ٢ سم على الأسطح الأفقية الواقعة بين الخرسانة العادية والمسلحة شكل (٣-٢١)، وشكل (٣-٢٢) .

تخطيط الموقع والحفر وتنفيذ الأساسات :

تخطيط الموقع للحفر وتنفيذ الأساسات يمر بالمراحل الآتية :

١- تحديد الموقع بواسطة الأجهزة المساحية (مثل التيودوليت) ودق الأوتاد التى تحدد الموقع .

شكل (٣-٢١): عزل القواعد المنفصلة .



شكل (٣-٢٢): عزل الأساسات الخازوقية .

- ٢- عمل ميزانية شبكية للموقع لتحديد مناسب الأماكن المراد التنفيذ عليها .
- ٣- إعداد الخنزيرة ودق المحاور عليها بدقة .
- ٤- تحديد القواعد بالجير .
- ٥- الحفر مع استعمال الميزان في تحديد مناسب الحفر .
- ٦- تنفيذ طبقات الإحلال إن وجدت .
- ٧- تنفيذ الخرسانة العادية أو الدكات ومعالجتها بالمياه .
- ٨- تنفيذ المرحلة الأولى للعزل الأفقي بين الخرسانة العادية والمسلحة إذا لزم .
- ٩- تنفيذ شدات الخرسانات المسلحة للأساسات .
- ١٠- رص حديد التسليح للأساسات بعد تنظيف مكانها .
- ١١- صب الخرسانة المسلحة للأساسات ومعالجتها بالمياه بالمدة الكافية .
- ١٢- تنفيذ المرحلة الثانية للعزل .



وعند تنفيذ الأساسات يجب مراعاة ما يلي :

- ١- تزال من الموقع جميع المواد الضارة بالعمال أو بالمباني .
- ٢- إذا كان بالموقع أساسات أو مباني قديمة تزال وإذا تم عند الإزالة النزول أسفل منسوب التأسيس يتم الردم على طبقات مكان الأعمال المزالة بالرمل الخشن إلى منسوب التأسيس مع الدمك الجيد .
- ٣- يجب أن يكون الأساس مرتكزا على طبقة متجانسة في جميع أجزائه ولا يستحب التأسيس على أنواع مختلفة من التربة وإذا اضطر للتأسيس على أنواع مختلفة من التربة فيجب عمل فواصل هبوط بين الأجزاء وبعضها .
- ٤- يجب أن يكون توزيع الأحمال على الأرض أسفل الأساسات منتظما بحيث يكون الضغط الواقع على التربة في جميع أجزاء المبنى واحدا .
- ٥- تجنب أسباب فشل الأساسات المذكورة تفصيلا بهذا الباب .

### رسومات الأساسات :

لوحة الأساسات يجب أن تضم التفاصيل الإنشائية للأساسات وهي مواقع القواعد من المحاور وأماكن الأعمدة وأشكال القواعد والكمرات والميد الرابطة والشدادات وأبعاد جميع العناصر الإنشائية كما يمكن عمل جداول باللوحة لتلخيص بيانات القواعد مثل مساحاتها وسمكها وحديد التسليح . كما يجب بيان تفاصيل وشكل حديد التسليح . وفي أساسات اللبشة يجب إيضاح تفاصيل تسليحها على المساقط المختلفة . كما يجب أن تضم لوحة الأساسات ملاحظات التنفيذ والتي تضم :

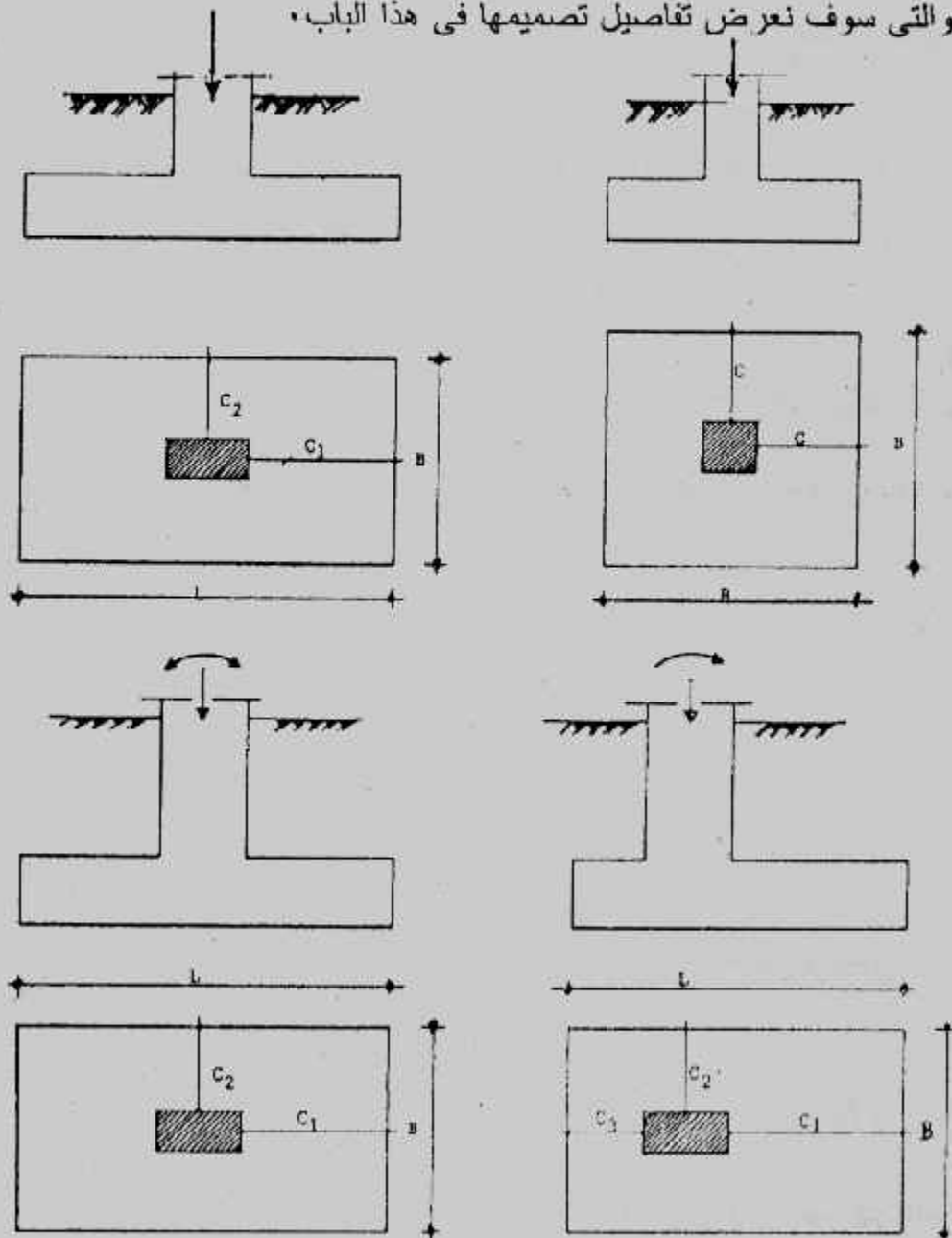
- ١- جهد التربة والمستخدم في تصميم الأساسات .
  - ٢- عدد الأدوار التي صممت الأساسات عليها .
  - ٣- طريقة العزل المستخدمة للأساسات .
  - ٤- نوع ومكونات الخرسانة العادية المستخدمة .
  - ٥- نوع ومكونات الخرسانة المسلحة ودرجتها .
  - ٦- نوع حديد التسليح المستخدم .
  - ٧- منسوب التأسيس .
  - ٨- إحتياجات طبقة التأسيس .
  - ٩- كيفية تنفيذ طبقة الإحلال إن وجدت .
- كما يجب تحديد منسوب الصفر للعملية وربطه بالمنسوب المساحي إن وجد .

## الباب الرابع

### تصميم القواعد المنفصلة

### Design of Isolated Footing

القواعد المنفصلة تستخدم حينما يمكن تنفيذ قاعدة مستقلة واحدة لكل عمود وقد تكون القواعد المنفصلة مربعة الشكل أو مستطيلة. وتنفذ القواعد المنفصلة للأعمدة الحاملة لحمل محوري أو حمل غير محوري (حمل محوري وعزم معا). ويبين شكل (١-٤) أنواع القواعد المنفصلة والتي سوف نعرض تفاصيل تصميمها في هذا الباب.



شكل (١-٤) أنواع القواعد المنفصلة.

وعادة فإن الأساس المربع هو أبسط أنواع الأساسات للعمود المربع، أما إذا كان العمود مستطيل فيفضل له أساس مستطيل. كما تنفذ القواعد المنفصلة المستطيلة للأعمدة المربعة في الحالات الاضطرارية التي لا تصلح فيها القواعد المربعة. وتساوى الرفرفة في القواعد المستطيلة (أى  $C_1 = C_2$ ) ببسط خطوات التصميم.

### تصميم القواعد المربعة بطريقة المرونة (اجهاد التشغيل) :

عند تصميم القواعد المربعة بطريقة المرونة (اجهاد التشغيل) تتبع الخطوات الآتية :

- ١- حساب أقصى حمل متوقع في العمود من الأحمال الحية والدائمة إلى منسوب سطح الأرض  $P$  أو إلى منسوب التأسيس  $P_1$ .
- ٢- الحصول على قدرة تحمل التربة الآمنة (جهد التربة الآمن)  $q_a$  أو الآمنة الصافية  $q_{na}$ .
- ٣- حساب مساحة القاعدة من :

$$\text{Area of footing} = B^2 = \frac{P}{q_{na}} \text{ or } \frac{P}{q_a - \gamma_a D} \text{ or } \frac{P_1}{q_a} \dots\dots\dots (4-1)$$

حيث  $D$  عمق التأسيس،  $\gamma_a$  الكثافة المتوسطة للخرسانة وتربة الردم. ويعين عرض الأساس  $B$  بعد تقريبه لأقرب ٥ سم.

$$\text{offset } C = \frac{B - b}{2} \text{ : تحسب الرفرفة } C \text{ من :}$$

حيث  $b$  عرض العمود.

٥- حساب جهد التربة الفعلى اللازم للتصميم  $q$  :

$$q = \frac{P}{B_{\text{actual}}^2} \dots\dots\dots (4-2)$$

٦- حساب عزم الانحناء عند المقطع الحرج على وجه العمود شكل (٤-٢) حيث تعتبر القاعدة بلاطة كابولية في ناحيتي العمود. ويمكن حساب عزم الانحناء من عزم مساحة المستطيل  $abcd$  حول المقطع الحرج، شكل (٤-٣-أ) كما يلي :

$$M_{\text{max}} = q \cdot A_{abcd} \cdot \frac{C}{2} \dots\dots\dots (4-3)$$

كما يمكن حساب عزم الانحناء من أخذ عزم شبه المنحرف  $abgf$  حول المقطع الحرج، شكل (٤-٣-ب) كما يلي :

$$M_{\text{max}} = q \cdot A_{abgf} \cdot C' \dots\dots\dots (4-4)$$

حيث C' بعد مركز ثقل شبه المنحرف عن وجه العمود.

٧- تعيين عمق الأساس d المقاوم للعزم من :

$$d = k_1 \sqrt{\frac{M_{\max}}{b'}} \quad \dots\dots\dots (4-5)$$

وإذا استخدمنا العزم في المعادلة (4-3) تكون b' مساوية لعرض الأساس وهذا يعطى d صغيرة :

$$b' = B$$

وإذا استخدمنا العزم في المعادلة (4-4) تكون b' مساوية عرض العمود مضافا إليه ٢٠ سم . أى

$$b' = b + 20 \text{ cm} \text{ وهذا يعطى } d \text{ كبيرة.}$$

ويمكن اختبار d للأساس وسط بين القيمتين الناتجتين . أو أخذ قيمة d المناسبة لإعطاء

كميات مناسبة من الخرسانة أو حديد التسليح، وفى حالة استخدام حديد تسليح على المقاومة

$$\text{يفضل استخدام } b' = B$$

٨- التأكد من أن العمق المحسوب من العزم كاف لمقاومة القص الثاقب فإن لم يكن يزداد العمق .

كما يمكن حساب العزم المقاوم للقص الثاقب مباشرة . واختبار العمق الأكبر من كل من عمق

العزم وعمق القص الثاقب . وتحسب اجهادات القص الثاقب  $q_p$  من :

$$q_p = \frac{Q_b}{d.b_o} \geq q_{p \text{ allowable}} \quad \dots\dots\dots (4-6)$$

حيث  $b_o$  طول محيط القطاع الحرج . والقطاع الحرج يقع على بعد  $d/2$  من محيط تأثير القوة

المركزة (أى على بعد  $d/2$  من أوجه العمود) . و  $Q_b$  هى قوة القص الثاقب عند القطاع الحرج .

٩- تعيين تخانة الأساس t حيث  $t = d + \text{cover}$  حيث يؤخذ الغطاء الخرساني cover من ٥

إلى ٧ سم ويفضل ٧ سم .

١٠- تعيين حديد التسليح من :

$$A_s = \frac{M}{k_2 d} \quad \dots\dots\dots (4-7)$$

١١- التأكد من أن الحديد المطلوب لا يقل عن النسبة الأدنى لحديد التسليح وتنصح بالآتقل عن

٠,٠٠٢ من مساحة قطاع الأساس

$$\mu = \frac{A_s}{bd} > 0.002$$

١٢- التأكد من أن اجهادات التماسك bond فى حدود المسموح به وتحسب اجهادات التماسك

$q_b$  من :

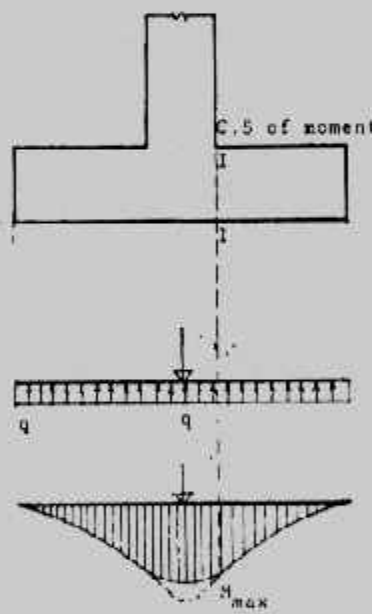
$$q_b = \frac{Q_b}{0.87d \Sigma o} \geq q_b \text{ allowable} \dots\dots\dots(4-8)$$

حيث  $Q_b$  هي القوة المسببة للعرزوم عند المقطع الحرج للعرز،  $\Sigma o$  هي محيط أسياخ حديد التسليح عند المقطع الحرج للعرز. ويجب الإشارة إلى أن قيم  $q_b$  المسموح بها تتوقف على شكل نهاية السيخ كما هو معطى فى الشكل (٤-٤) • وإن لم تكن اجهادات التماسك فى حدود المسموح به فيمكن استخدام أقطار أقل لحديد التسليح أو زيادة عددها أو زيادة العمق أو استخدام حديد تسليح ذو نتوءات (مشرشر) وهو ذو مقاومة عالية للتماسك •

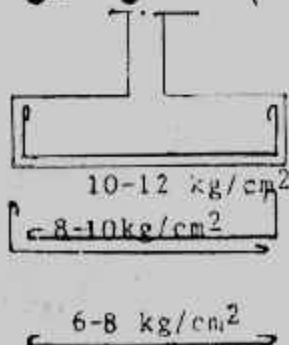
١٣- التأكد من أن اجهادات القص shear فى حدود المسموح به أو يزداد العمق وتحسب اجهادات القص  $q_s$  من :

$$q_s = \frac{Q_s}{b.d} \geq q_s \text{ allowable} \dots\dots\dots(4-9)$$

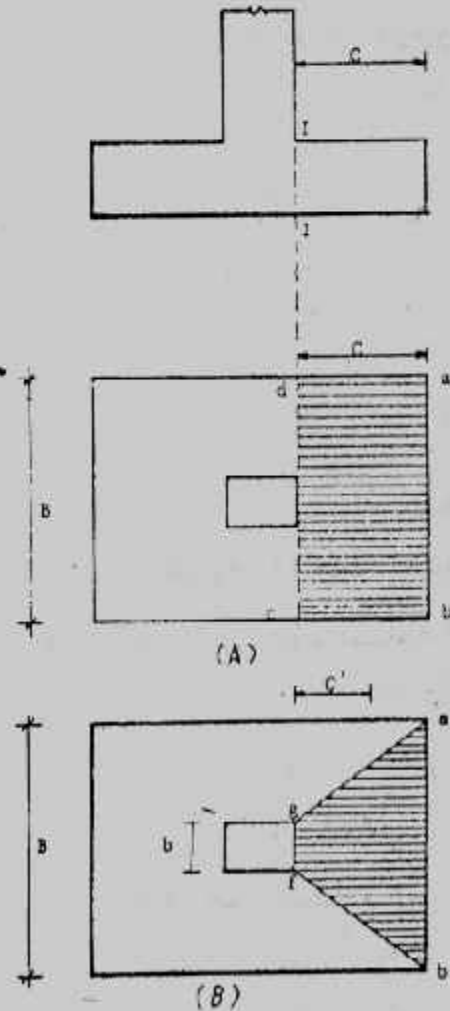
حيث  $Q_s$  = قوة القص عند مقطع القص الحرج •  
 $b$  = عرض مقطع القص الحرج •



شكل (٢-٤) : المقطع الحرج لعرز الانحناء



شكل (٤-٤) التماسك



شكل (٣-٤) حساب عزم الانحناء



**Example (4-1):**

Design a square footing to support a column  $0.4 \times 0.4$  m reinforced by  $8 \phi 16$  carries a load of 80t. The net allowable soil pressure is  $1.25 \text{ kg/cm}^2$ . Use working stresses method. Take  $f_c = 55 \text{ kg/cm}^2$ ,  $f_s = 1400 \text{ kg/cm}^2$ ,  $q_{sh} = 6 \text{ kg/cm}^2$ ,  $q_p = 8 \text{ kg/cm}^2$ , and 20 cm plain concrete.

**Solution :**

$$A = \frac{80}{12.5} = 6.4 \text{ m}^2$$

$$B = \sqrt{A} = \sqrt{6.4} = 2.53 \text{ m}$$

take  $B = 2.6 \text{ m}$

$$q = \frac{80}{2.6 \times 2.6} = 11.83 \text{ t/m}^2$$

$$C = \frac{B - b}{2} = \frac{2.6 - 0.4}{2} = 1.1 \text{ m}$$

Maximum bending moment at the column face

$$M_{\max} = q B \frac{C^2}{2} = 11.83 \times 2.6 \times \frac{(1.1)^2}{2} = 18.6 \text{ mt}$$

$$d = k_1 \sqrt{\frac{M}{B}} \quad (\text{American codes})$$

$$= 0.334 \sqrt{\frac{18.6 \times 10^5}{260}} = 28.2 \text{ cm}$$

$$d = k_1 \sqrt{\frac{M}{b}} \quad (\text{Continental codes})$$

$$= 0.334 \sqrt{\frac{18.6 \times 10^5}{(40 + 20)}} = 58.8 \text{ cm}$$

take  $t = 50 \text{ cm}$

and  $d = 50 - 7 = 43 \text{ cm}$

$$A_s = \frac{M}{K_2 d} = \frac{18.6 \times 10^5}{1227 \times 43} = 35.3 \text{ cm}^2$$

Choose  $18 \phi 16$  in each side ( $36.2 \text{ cm}^2$ ).

Check minimum percentage of steel :

$$\mu = \frac{A_s}{A_c} = \frac{A_s}{Bd} = \frac{35.91}{260 \times 43} = 0.0032 > 0.002 \text{ safe}$$

Check punching :

$$Q_p = q [B^2 - (b + d)^2] \\ = 11.83 [2.6^2 - (0.4 + 0.43)^2] = 71.82 \text{ t}$$

$$q_p = \frac{Q_p}{d \cdot b_o} = \frac{71.82 \times 1000}{43(40+43) \cdot 4} = 5.03 \text{ kg/cm}^2 < 8 \text{ kg/cm}^2 \text{ safe}$$

Check bond :

$$Q_b = q \times B \times C = 11.83 \times 2.6 \times 1.1 = 33.83 \text{ t}$$

$$q_b = \frac{Q_b}{0.87 d \Sigma o} = \frac{33.83 \times 1000}{0.87 \times 43 \times 18 \times 5.03} = 9.99 \text{ kg/cm}^2$$

If L - shape reinforcements is used,  $q_b \geq 10 \text{ kg/cm}^2$ . This reinforcements mean 7  $\phi$  16 in each metre of breadth in two directions.

$$\text{Anchorage length } d_d = \frac{A_s f_s}{\rho \cdot q_b} = \frac{2.01 \times 1400}{p \times 1.6 \times 10} = 55.98 \text{ cm} < 110 \text{ cm}$$

Check shear :

$$Q_{sh} = q [B^2 - (b + 2d)^2]$$

$$= 11.83 [(2.6)^2 - (0.4 + 2 \times 0.43)^2] = 61.19 \text{ t}$$

$$q_{sh} = Q_{sh}/db_o = \frac{61.19 \times 1000}{43 \times 4 (40 + 2 \times 43)} = 2.82 \text{ kg/cm}^2 < 8 \text{ kg/cm}^2 \text{ safe.}$$

Details of the footing are shown in Fig. (4-5).

#### Example 4.2 :

Redesign the footing required in example 4.1 using 40cm plain concrete.

**Solution :**

$$A_{pc} = \frac{80}{12.5} = 6.4 \text{ m}^2$$

$$B_{pc} = \sqrt{6.4} = 2.53 \text{ m}$$

take  $B_{pc} = 2.6 \text{ m}$

$$= \frac{80}{2.6 \times 2.6} = 11.83 \text{ t/m}^2 < 12.5 \text{ t/m}^2$$

$$C_{pc} = t \sqrt{\frac{f_t}{3f_n}} = 0.4 \sqrt{\frac{40}{3 \times 11.83}} = 0.425 \text{ m}$$

take  $C_{pc} = 0.4 \text{ m}$

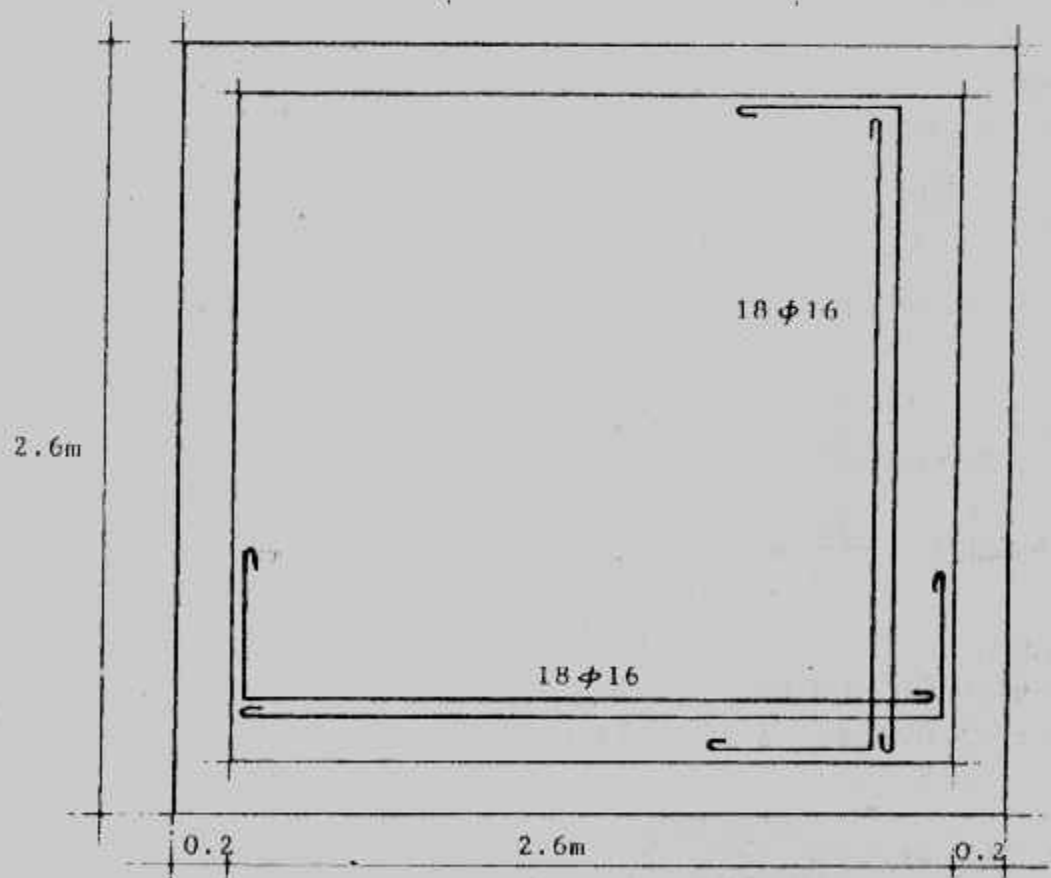
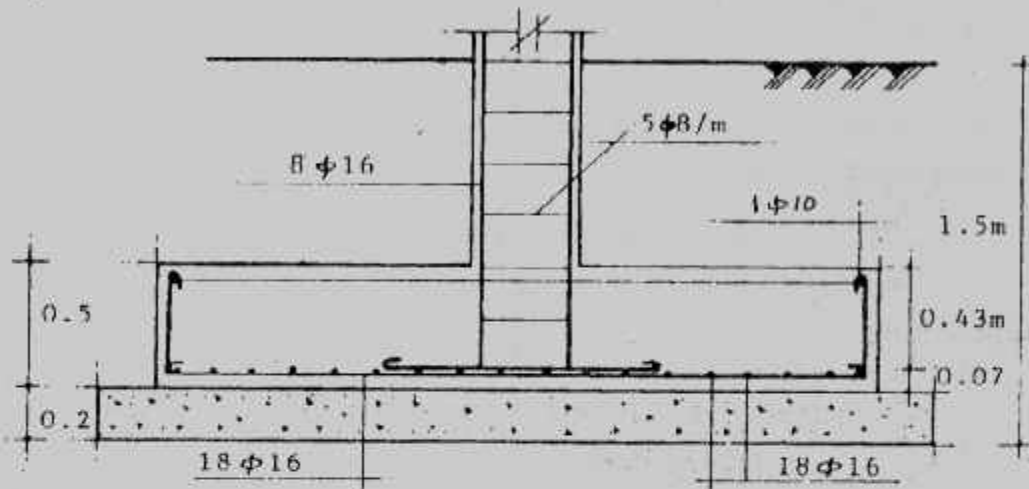
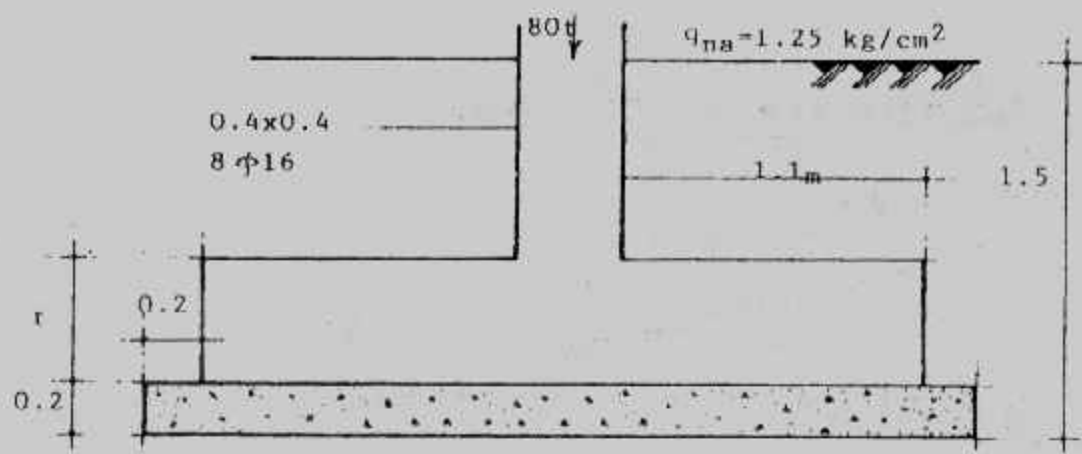
$$B_{RC} = 2.6 - 2 \times 0.4 = 1.8 \text{ m}$$

use RC footing 1.8 x 1.8 m

q between plain concrete and reinforced concrete.

$$= \frac{80}{1.8 \times 1.8} = 24.69 \text{ t/m}^2$$

$$C_{RC} = 1.8 - 0.4 = 0.7 \text{ m}$$



شكل (٥-٤) مثال (١-٤)

$$M_{\max} = 24.69 \times 1.8 \times (0.7)^2 / 2 = 10.89 \text{ mt}$$

$$d = 0.334 \sqrt{\frac{10.89 \times 10^5}{180}} = 25.99 \text{ cm}$$

$$d = 0.334 \sqrt{\frac{10.89 \times 10^5}{(40 + 20)}} = 45 \text{ cm}$$

take  $d = 43 \text{ cm}$  and  $t = 50 \text{ cm}$

$$A_s = \frac{10.89 \times 10^5}{1227 \times 43} = 22.5 \text{ cm}^2$$

take 12  $\phi$  16 in each side ( $24.12 \text{ cm}^2$ )

check minimum percentage of steel :

$$\mu = \frac{A_s}{A_c} = \frac{24.12}{180 \times 43} = 0.0031 > 0.002 \quad \text{safe}$$

**Check punching :**

$$Q_p = f_n [B^2 - (b + d)^2] \\ = 24.59 [1.8 \times 1.8 - (0.4 + 0.43)^2] = 62.99 \text{ t}$$

$$q_p = Q_p / db_o = \frac{62.99 \times 1000}{43 \times 4 (40 + 43)} = 4.41 \text{ kg/cm}^2 < 8 \text{ kg/cm}^2 \quad \text{safe}$$

**Check bond :**

$$Q_p = f_n \times B \times C_{RC} = 24.69 \times 1.8 \times 0.7 = 31.11 \text{ t}$$

$$q_b = \frac{Q_b}{0.87 d \Sigma o} = \frac{31.11 \times 10^3}{0.87 \times 43 \times 12 \times 5.03} = 13.78 \text{ kg/cm}^2 > 10 \text{ kg/cm}^2$$

take 17  $\phi$  16 in each side (L-shape). that means 9  $\phi$  16 in each metre of breadth in each side.

$$q_b = \frac{31.11 \times 10^3}{0.87 \times 43 \times 17 \times 5.03} = 9.73 \text{ kg/cm}^2 < 10 \text{ kg/cm}^2$$

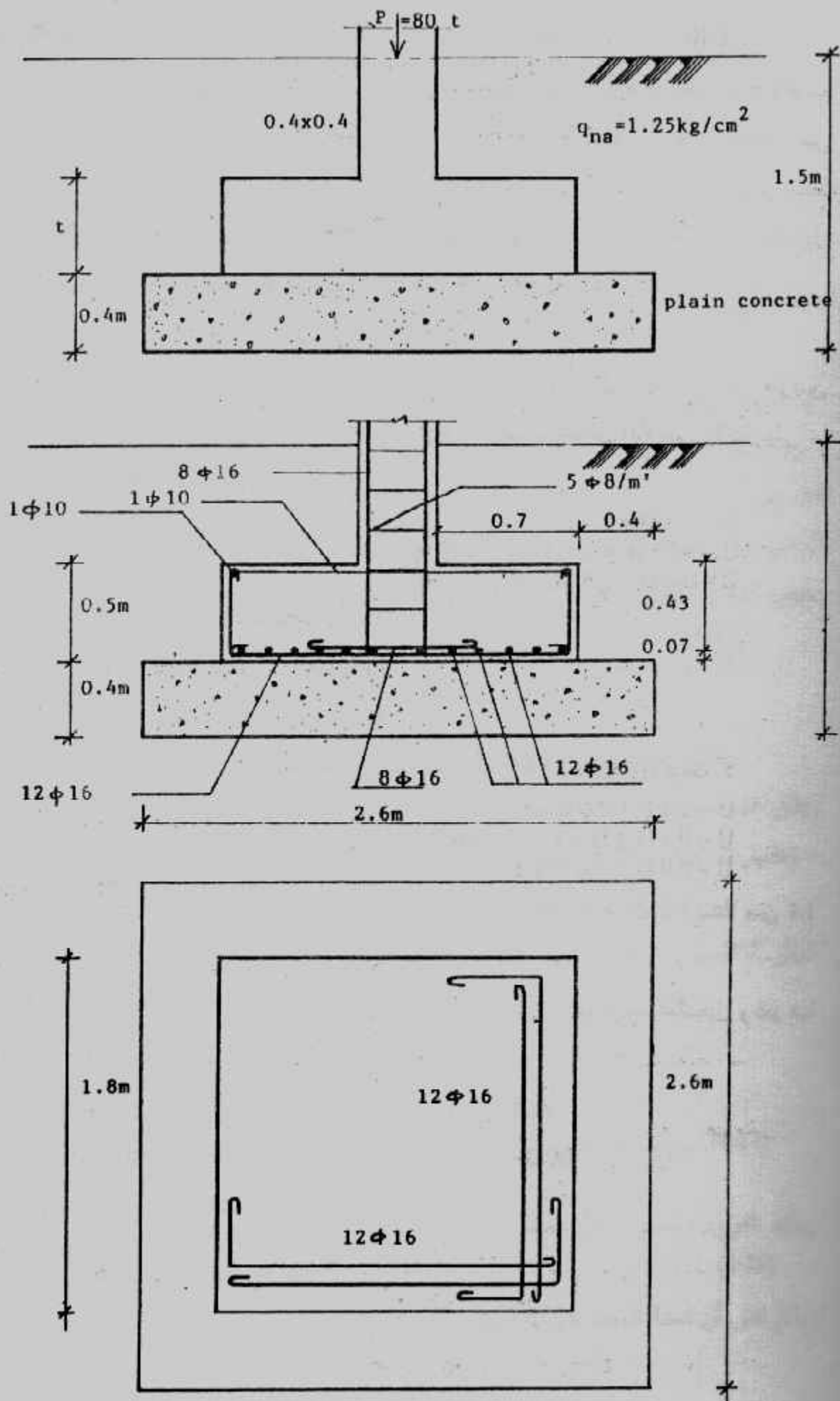
$$\text{Anchored length } d_d = \frac{A_s}{\rho q_b} = \frac{2.01 \times 1400}{\pi \times 1.6 \times 10} = 55.98 \text{ cm} < 70 \text{ cm}$$

**Check shear :**

$$Q_{sh} = f_n [B^2 - (b + 2d)^2] \\ = 24.69 [1.8 \times 1.8 - (0.4 + 2 \times 0.43)^2] \\ = 40.8 \text{ t}$$

$$q_{sh} = Q_{sh} / db_o = \frac{40.8 \times 1000}{43 \times 4 (40 + 2 \times 43)} = < 1.88 \text{ kg/cm}^2 < 8 \text{ kg/cm}^2$$

Details of the footing are shown in Fig. (4-6).



شكل (٦-٤) مثال (٢-٤)



## التصميم بطريقة المقاومة القصوى (USD) : Ultimate Strength Design

اتجهت كثير من الدول المتقدمة إلى طريقة التصميم بحد المقاومة القصوى. وتضم أغلب الكودات الآن تفاصيل التصميم بهذه الطريقة، وفي مصر توجد الآن مرحلة انتقالية من التصميم بطريقة اجهاد التشغيل إلى التصميم بطريقة المقاومة القصوى. ومع تقدم تكنولوجيا تنفيذ الخرسانة وزيادة الإمكانيات المادية والتكنيكية سوف نودع في القريب طريقة اجهاد التشغيل ولتحل محلها طريقة المقاومة القصوى في كل أعمال التصميم بما فيها الأساسات.

### الأحمال : Loads

المقاومة القصوى تتطلب تحويل أحمال التشغيل إلى الأحمال القصوى عن طريق استخدام معاملات تحميل Load factors تحدد في كل كود. ويحسب الحمل الأقصى U كما يلي : طبقاً لكود معهد الخرسانة الأمريكي ACI :

$$U = 1.4 D + 1.7 L \dots\dots\dots (4-10)$$

$$U = 0.75 (1.4 D + 1.7 L + 1.7 W) \dots\dots\dots (4-11)$$

$$U = 0.9 D + 1.3 W \quad (IF \ L = 0)$$

حيث : D = الحمل الدائم Dead load

L = الحمل الحى Live load

W = حمل الرياح Wind load

أما الكود المصرى لتصميم وتنفيذ المنشآت الخرسانية المسلحة ١٩٨٩ (ECOP) فيحدد :

$$U = 1.4 D + 1.6 L \dots\dots\dots (4-12)$$

$$U = 0.8 (1.4 D + 1.6 L + 1.6 W) \dots\dots\dots (4-13)$$

$$U = 0.9 D + 1.6 W \quad (IF \ L = 0) \dots\dots\dots (4-14)$$

بينما يختلف الكود السورى عن الكود المصرى بأن أخذ المعامل 1.5 بدلا من 1.4 والمعامل 1.8 بدلا من 1.6 .

والتصميم بالمقاومة القصوى يخفض مقاومة الخرسانة لاعتبارات التشغيل وغيرها باستخدام معامل التخفيض  $\phi$  أو  $\gamma$  :

الكود الأمريكى ACI : Design strength =  $\phi$  (theoretical strength)

الكود المصرى ECOP : Design strength = theoretical strength /  $\gamma$

ويحدد جدول (١-٤) قيم  $\phi$  فى الحالات المختلفة.

جدول (٤-١) قيم معامل التخفيض  $\phi$

Condition	Value of $\phi$
a. Axial tension; flexure with or without axial tension.	0.9
b. Shear or torsion, bond, anchorage.	0.85
c. Axial compression with or without flexure, spiral reinforcement.	0.75
d. Axial compression with or without flexure, tied reinforcement.	0.7
e. Bearing on concrete.	0.7
f. Flexure in plain concrete.	0.65

أما الكود المصري فيأخذ معاملات خفض المقاومة للخرسانة  $\gamma_c$  واصلب التسليح  $\gamma_s$  لتأثيرات قوة الشد المحورية وقوى الشد اللامركزية وعزم الانحناء وقوى القص واللي والارتكاز والتماسك كما يلي :

$$\gamma_c = 1.5, \gamma_s = 1.15$$

أما في حالة عزوم الانحناء المصحوبة بقوى ضغط محورية (ضغط لا محوري) فتؤخذ معاملات خفض المقارنة المميزة كما يلي :

$$\gamma_c = 1.75 - 0.50 (e/t) \geq 1.5 \quad (4-15)$$

$$\gamma_s = 1.36 - 0.43 (e/t) \geq 1.15 \quad (4-16)$$

$$e/t \geq 0.05 \quad \text{حيث :}$$

$$\gamma_c = \gamma_s = 1 \quad \text{ولتأثيرات الترخيم والتشكل والتشريح يكون :}$$

ويتفق الكود السوري تقريبا مع الكود الأمريكي في معاملات التخفيض .

- اعتبارات تصميم القطاع الخرساني تحت تأثيرا العزوم :

بين شكل (٤-٧) مقطع خرساني معرف عليه الرموز المستخدمة في معادلات طريقة

المقاومة القصوى USD بالكود الأمريكي ACI .

$$\text{Compressive force} \quad C = 0.85 f_{cu} a.b$$

$$\text{Tensile force} \quad T = A_s f_y$$

$$C = T$$

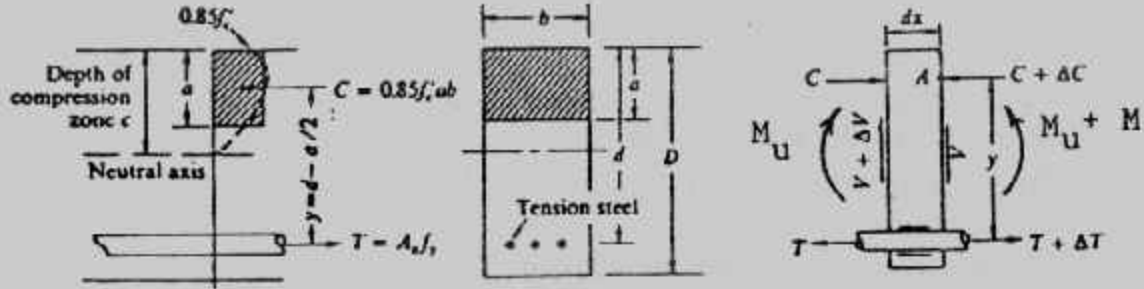
$$0.85 f_{cu} a.b = A_s f_y$$

$$a = \frac{A_s f_y}{0.85 f_{cu} b} \quad (4-17)$$

ويأخذ العزوم والضرب في معامل التخفيض تحصل على العزوم القصوى  $M_u$  :

$$M_u = \phi A_s f_y (d - a/2) \quad (4-18)$$

$$\mu = \frac{A_s}{bd} \quad \text{وبافتراض أن نسبة الحديد هي } \mu \text{ حيث}$$



شكل (٧-٤) القطاع الخرساني في طريقة المقاومة القصوى

$$M_u = \phi b d^2 f_{cu} \cdot \frac{\mu f_y}{f_{cu}} \left( 1 - 0.59 \frac{\mu f_y}{f_{cu}} \right)$$

$$M_u = \phi b d^2 \mu f_y \left( 1 - 0.59 \frac{\mu f_y}{f_{cu}} \right) \dots \dots \dots (4-19)$$

وبفرض نسبة التسليح  $\mu$  يمكن من هذه المعادلة حساب العمق  $d$  اللازم للعزوم  $M_u$  حيث  $R$  يمكن تحديد قيمتها :

$$M_u = b d^2 R \dots \dots \dots (4-20)$$

$$\text{Where : } R = \phi \cdot \mu f_y \left( 1 - 0.59 \frac{\mu f_y}{f_{cu}} \right)$$

$$d = \sqrt{\frac{M_u}{b \cdot R}} \dots \dots \dots (4-21)$$

وعند الاتزان قد يحدث الانهيار المفاجئ بتفشي الخرسانة ووصول الحديد على الخضوع وتكون نسبة الحديد عند الاتزان هي  $\mu_b$  وعلى اعتبار أن الانفعال الأقصى هو 0.003 ويأخذ معامل مرونة لصلب التسليح هو  $200 \text{ MN/m}^2$  يكون :

$$\mu_b = \frac{0.85 f_{cu}}{f_y} \beta \left( \frac{600}{600 + f_y} \right)$$

$f_{cu}, f_y$  in  $\text{MN/m}^2$

ولتجنب الانهيار المفاجئ بدون تحذير يؤخذ نسبة حديد التسليح القصوى بالقيمة :

$$M_{max} = 0.76 M_{ub}$$

ويعطى الجدول (٢-٤) قيم نسبة حديد التسليح القصوى بدلالة  $f_{cu}, f_y$

أما الكود المصري فلقد استخدم المعادلة (4-18) الخاصة بالعزم الحدي الأقصى على الصورة

$$(d - a/2) \frac{A_s f_y}{\gamma_s} M_u = \dots \dots \dots \text{الآتية :}$$

ويتم حساب عمق المستطيل المكافئ  $a$  من :

جدول (٢-٤) قيم  $M_{max}$

$f_y$ MN/m <sup>2</sup>	$f_{cu}$			
	21 MN/m <sup>2</sup>	28 MN/m <sup>2</sup>	35 MN/m <sup>2</sup>	42 MN/m <sup>2</sup>
276	0.0284	0.0378	0.0445	0.0501
345	0.0209	0.0279	0.0329	0.0370
414	0.0163	0.0217	0.0255	0.0287
	$\beta = 0.85$	$\beta = 0.85$	$\beta = 0.80$	$\beta = 0.75$

$$a = \frac{A_s f_y}{\gamma_s} / \left[ 0.67 b \left( \frac{f_{cu}}{\gamma_c} \right) \right] \dots (4-22)$$

وأعلى قيم مسموح بها للعزوم  $M_{max}$  ولنسب صلب التسليح  $\mu_{max}$  في مقاطع خرسانية مسلحة جهة الشد فقط ومعرضة لعزم انحناء هي :

$$M_{u \max} = R_{max} \cdot f_{cu} \cdot b \cdot d^2 / \gamma_c$$

$$\mu_{max} = \frac{A_s}{b \cdot d} = [0.67 (f_{cu} / \gamma_c) / (f_y / \gamma_s) (a_{max} / d)]$$

$$d = \sqrt{\frac{M_u \gamma_c}{R_{max} \cdot f_{cu} \cdot b}}$$

$$A_s = \frac{M_u}{0.87 f_y \cdot Z}$$

حيث :  $f_{cu}$  = هو مقاومة الضغط المميزة للخرسانة .

$f_y$  = هو اجهاد الخضوع للصلب .

$\mu_{max}$ ,  $R_{max}$  تعين من الجداول (٢-٤)، (٣-٤)،  $Z$  تعين من جدول (٥-٤) بمعرفة  $d$

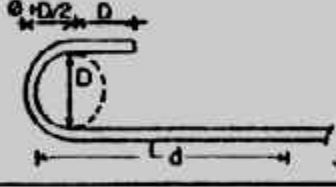
جدول (٣-٤)

قيم  $\mu_{max}$ ,  $R_{max}$  بدون توزيع للعزوم

Type of steel	$F_y$ (kg/cm <sup>2</sup> )	$X_{max}/d$	$\mu_{max}$	$R_{max}$
24/35	2400	0.5	$8.56 \times 10^{-5} f_{cu}$	0.214
28/45	2800	0.48	$7.0 \times 10^{-5} f_{cu}$	0.208
36/52	3600	0.44	$5.0 \times 10^{-5} f_{cu}$	0.190
40/60	4000	0.42	$4.31 \times 10^{-5} f_{cu}$	0.187
45/52	4200	0.41	$3.65 \times 10^{-5} f_{cu}$	0.180

كما يجوز أخذ طول التماسك من الجدول (٤-٩) مع مراعاة قيمة  $\eta$  كما يجب ألا يقل طول تماسك أسياخ الصلب الملساء عن ٤٠ سم والأسياخ ذات النتوءات فيجب ألا يقل عن طول التماسك لها عن ٣٠ سم (شكل ٤-٨).

جدول (٤-٧) قيم معامل التصحيح  $\alpha$

نوع الأسياخ	شكل طرف الأسياخ	المعامل $\alpha$	
		في الشد	في الضغط
الأسياخ الصلبة	١- مستقيم	١	١
	٢- منحنى على شكل 	٠.٧٥	١
	٣- منحنى على شكل L High grade steel	٠.٧٥	١
	٤- منحنى على شكل V High grade steel	٠.٧٥	١
	٥- أسياخ مستقيمة ولا يوجد سطح مرصع في الطرف	١	١
المعلومات	٦- أسياخ مستقيمة ويوجد واحد في الطرف	٠.٧	٠.٧
	٧- أسياخ مستقيمة ويوجد سطح مرصع في الطرف	٠.٧	٠.٧
	٨- أسياخ مستقيمة ويوجد سطح مرصع في الطرف	٠.٧	٠.٧

$D = 4 \phi$  for steel 24/35

$D = 6 \phi$  for 0 mm through 25 mm high grade steel.

$D = 8 \phi$  for more than 25 mm high grade steel.



- b. Reinforcement with  $f_y > 414 \text{ MPa}$   $2 - \frac{414}{f_y \text{ (MN/m}^2\text{)}}$
- c. For lightweight concrete. 1.33
- d. Reinforcement spaced at least 152 mm on center and at least 76 mm in from all sides. 0.8
- e. Reinforcement in excess of that required  $\left( \frac{\text{as required}}{\text{as provided}} \right)$

وفى أى حالة يجب ألا يقل طول التماسك  $L_d$  عن ٣٠ سم. أما طول التماسك فى أسياخ الضغط (مثل الأشاير بين الأعمدة والأساسات) فيحسب من :

$$0.25 f_y d_b / \sqrt{f_{cu}} \text{ or } 0.044 f_y d_b \text{ or } 200 \text{ mm}$$

ويمكن استخدام الجنش لتخفيض قيمة  $L_d$ . ولكن الجنش لا يستخدم عادة فى الأساسات، أما الكود المصرى فلقد أعطى معادلة واحدة لحساب طول التماسك بها عدد من العوامل تعالج الحالات المختلفة للتسليح :

$$L_d = \phi . \alpha . \beta . \eta \left( \frac{f_y}{\gamma_s} \right) / 4 f_{bu}$$

وهذا الطول يقاس من المقاطع الحرجة التى يحدث عندها أقصى إجهاد شد أو ضغط فى الأسياخ وكذلك التى ينتهى أو تكسح عندها الأسياخ حيث :

$\phi$  - القطر الاسمى للسيخ.

$\eta = 1.4$  للأسياخ العلوية لصلب التسليح الرئيسى التى يزيد سمك الخرسانة المصبوبة تحتها على ٣٠ سم.

$\eta = 1.0$  لجميع الحالات الأخرى لصلب التسليح.

$f_{bu}$  - إجهاد التماسك الحدى للخرسانة مع صلب التسليح ويحسب من

$$f_{bu} = 0.87 \sqrt{f_{cu} / \gamma_c} \text{ kg/cm}^2$$

$\alpha$  : معامل تصحيح يتوقف على شكل طرف السيخ (بجنش أو بدون جنش) ومعطى فى جدول (٧-٤).

$\beta$  : معامل التصحيح يتوقف على نوعية سطح السيخ (أملس أو ذو نتوءات) ومعطى فى جدول (٨-٤).

$$V_c = 0.17 \sqrt{f'_c} b d \quad (\text{for member subjected to shear and flexure})$$

and

$$V_c = 0.34 \sqrt{f'_c} b d \quad (\text{for member subjected to diagonal tension})$$

where :  $f'_c$  is in  $\text{MN/m}^2$ ,  $V_c$  is in MN, and  $b$  and  $d$  are in m.

وبلاحظ أن :

$$v_c = \frac{V_c}{b d} \quad (4-23)$$

where,  $v_c$  is the shear stress

وبناء على ذلك نحصل على مقاومة القص المسموح بها .

$$\text{Permissible shear stress} = v_c = \frac{V_u}{b d} = 0.17 \phi \sqrt{f'_c} \quad \text{one-way} \quad (4-24)$$

$$v_c = 0.34 \phi \sqrt{f'_c} \quad \text{Two-way shear} \quad (4-25)$$

ويعطى جدول (٦-٤) قيم  $V_u/\phi$  في المعادلتين السابقتين .

جدول (٦-٤) قيم  $V_u/\phi$

Equation number	$f'_c$ ( $\text{MN/m}^2$ )			
	21	28	35	42
Eq. (4-24)	0.78	0.90	1.0	1.1
Eq. (4-25)	1.56	1.80	2.0	2.2

أما بالنسبة لطول التماسك Development length فهو الطول اللازم لمنع انفصال الخرسانة عن أسياخ التسليم المعرضة لإجهاد الشد أو الضغط ويعطى كود ACI طول التماسك لحديد الشد على النحو الآتي :

$$\text{a. 35-mm bar and smaller but } 0.019 A_b f_y / \sqrt{f'_c}$$

$$\text{not less than } 0.058 d_b f$$

$$\text{b. 43-mm bar } 26 f_y / \sqrt{f'_c}$$

$$\text{c. 57-mm bar } 34 f_y / \sqrt{f'_c}$$

where  $A_b$  = area of the individual bar ( $\text{mm}^2$ )

$d_b$  = nominal diameter of the bar (mm)

وتؤخذ  $f_y$  بوحدة  $\text{MN/m}^2$  تؤخذ  $L_d$  بالمليمتر وقيم طول التماسك يجب أن تضرب في

المعاملات الآتية لتكون ممكنة التطبيق :

a. top reinforcement.

1.4

#### جدول (٤-٤)

قيم  $X_{max}/d$ ,  $\mu_{max}$ ,  $R_{max}$  في حالة إعادة توزيع عزوم  $\pm 10\%$

Type of steel	$F_y$ (kg/cm <sup>2</sup> )	$X_{max}/d$	$\mu_{max}$	$R_{max}$
24/35	2400	0.4	$6.85 \times 10^{-5} f_{cu}$	0.18
28/45	2800	0.38	$5.58 \times 10^{-5} f_{cu}$	0.178
36/52	3600	0.34	$3.88 \times 10^{-5} f_{cu}$	0.157
40/60	4000	0.32	$3.29 \times 10^{-5} f_{cu}$	0.15
45/52	4200	0.30	$2.74 \times 10^{-5} f_{cu}$	0.142

وعند تحديد قيم  $f_y$ ,  $f_{cu}$  عند التصميم يراعى أن لأساسات المباني نادرا  
 $f_{cu} \leq 21 \text{ Mpa}$  ( $f_{cu} \leq 210 \text{ kg/cm}^2$ ) ولأساسات الكبارى  $f_{cu} \leq 28 \text{ Mpa}$  ( $f_{cu} \leq 280 \text{ kg/cm}^2$ ) وبغض  
 النظر عن أن المقاومة المنخفضة تخفض من تكاليف الخرسانة إلا أن الأكثر أهمية لخفض  
 مقاومة الخرسانة هو الحصول على أساسات بتخانات أكبر لتعطى جساءة عالية. أما عند تصميم  
 أساسات اللبشة فيمكن استخدام خرسانة عالية المقاومة. وبالنسبة لقيم  $f_y$  فقد تصل إلى  
 $550 \text{ Mpa}$  ( $5500 \text{ kg/cm}^2$ ) ولكن الحديد الأكثر انتشارا يعطى  $f_y \approx 400 \text{ Mpa}$  ( $f_y \approx 4000 \text{ kg/cm}^2$ )  
 ويحدد الكود المصرى ألا تزيد  $f_y$  عن  $400 \text{ Mpa}$  ( $4000 \text{ kg/cm}^2$ ) للحديد ذو النتوءات أما للصلب  
 الأملس فيؤخذ  $f_y = 240 \text{ Mpa}$  ( $f_y = 2400 \text{ kg/cm}^2$ ) حتى لو أعطت الاختبارات قيما أكبر من ذلك.

#### جدول (٥-٤) تعيين قيم $Z$

$K = \frac{M}{bd^2 f_{cu}}$	0.044	0.054	0.063	0.072	0.081	0.092	0.095	0.100	0.108	0.118	0.121	0.128	0.133	0.137	0.144
$Z/d$	0.948	0.936	0.924	0.912	0.900	0.880	0.880	0.870	0.860	0.844	0.840	0.830	0.820	0.812	0.800
$x/d$	0.130	0.160	0.190	0.220	0.250	0.290	0.300	0.320	0.350	0.390	0.400	0.430	0.450	0.470	0.500

← redistribution 0 - 10% →
← No redistribution →

أما بالنسبة للقص فإن مقاومة القص النظرية للقطاع  $V_n$  فإنه تحسب من :

$$V_n = V_c + V_s$$

where :  $V_c$  = nominal shear strength of concrete.

$V_s$  = nominal shear strength of reinforcement.

أما مقاومة القص المسموح بها فهي :


$$V_u = \phi V_n = \phi (V_c + V_s)$$

جدول (٨-٤) قيم معامل التصحيح  $\beta$

نوع سيخ التسليح	في الشد	في الضغط
١- سيخ أملس	١,٠٠	٠,٧٠
٢- سيخ ذو نتوءات	٠,٧٥	٠,٥٠
٣- سيخ ذو نتوءات في حزمة مؤلفة من سيخين	١,١٠	٠,٧٥
٤- سيخ ذو نتوءات في حزمة مؤلفة من ثلاثة أسياخ	١,٢٠	٠,٨٠

جدول (٩-٤) طول التماسك مضاعف من قطر السيخ ( $\eta = 1.0$ )

نوع الصلب	شد		ضغط
	مستقيم	مجنش	للحالتين
أسياخ ملساء ٣٥/٢٤	—	٤٠	٣٥
أسياخ ذات نتوءات ٤٥/٢٨	٥٠	٤٠	٣٥
أسياخ ذات نتوءات ٥٢/٣٦	٦٥	٥٠	٤٥
أسياخ ذات نتوءات ٦٠/٤٠	٧٠	٥٥	٤٥

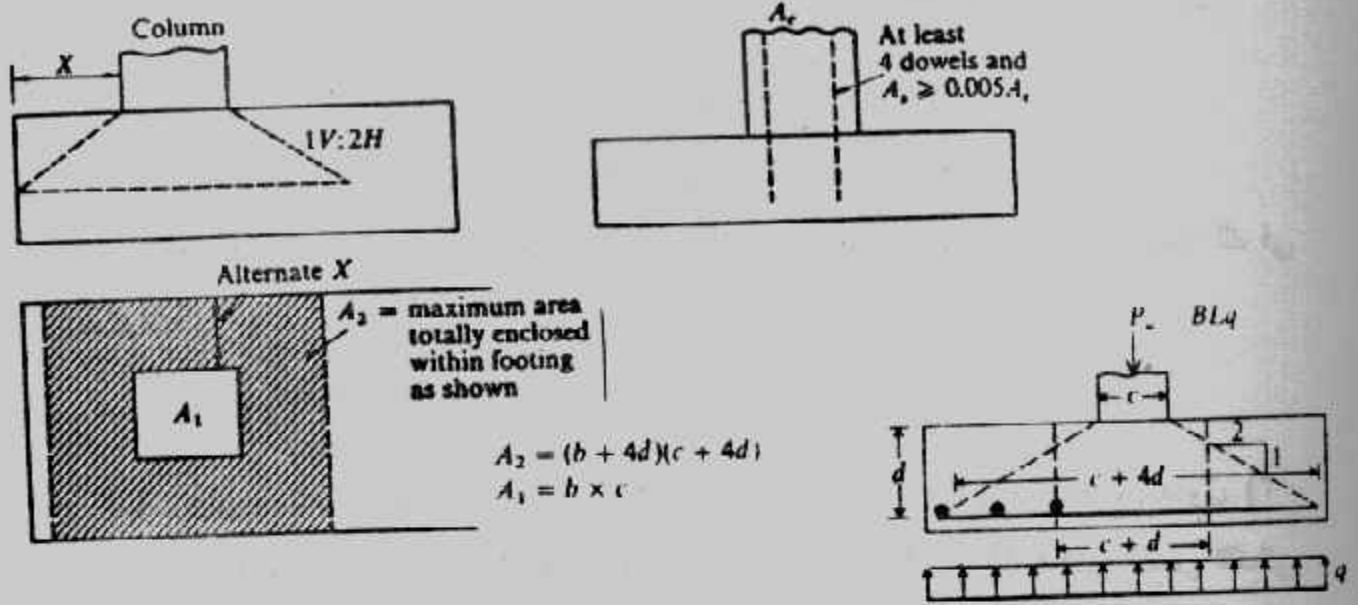


شكل (٨-٤): طول التماسك  $L_d$  cover

أما بالنسبة لمقاومة التحميل (الارتكاز) Bearing Strength بين العمود والأساس فإنها قد تتدخل في تقدير عمق الأساس وخاصة إذا كنت مقاومة الضغط لخرسانة الأعمدة أكبر من مقاومة الضغط لخرسانة الأساسات، ومقاومة الارتكاز وفقا لكود ACI يجب ألا تزيد عن :

$$f_c \leq 0.85 \phi f_{cu} \sqrt{A_2 / A_1} \dots\dots\dots(4-26)$$

حيث  $\sqrt{A_2 / A_1}$  يجب ألا تتعدى 2 وقيمة  $\phi$  تؤخذ 0.70،  $A_1$  هي مساحة العمود (التحميل)،  $A_2$  هي أكبر مساحة للتوزيع من المسطح المقاوم والمتماثلة في الشكل مع مسطح التحميل والمحورية معه والتي تصنع ميلا مقداره 2 : 1 شكل (٩-٤).



شكل (٩-٤) مقاومة التحميل

والأشبار تستخدم لربط العمود بالأساس. وقد تستخدم الأشبار لنقل إجهاد العمود للأساس وخاصة إذا كانت خرسانة العمود أقوى من خرسانة الأساس. والأشبار تكون ضرورية إذا زاد إجهاد التماس بين العمود والأساس عن :

$$f_c = 0.85 \phi f_{cu} \sqrt{A_2 / A_1}$$

وفي هذه الحالة تحسب أقل مساحة لحديد الأشبار من :

Minimum area of steel = 0.005  $A_c$   
where  $A_c$  = area of column

ويفضل أخذ أقطار حديد التسليح من نفس أقطار حديد العمود على الأقل، أما الكود المصري فلم يختلف عن الكود ACI السابق إلا في معادلة مقاومة الارتكاز، وهي :

$$f_c = 0.67 f_{cu} \sqrt{A_2 / A_1} / \gamma_c \quad (4-27)$$

- وبالنسبة لحديد التسليح فإن كود ACI يحدد المسافة الصافية بين الأسياخ بما لا يقل عن ٢٥،٤ مم (بوصة واحدة) ولا تزيد عن ثلاثة أضعاف تخانة الحائط أو البلاطة أو ٤٥٧ مم (١٨ بوصة). والغطاء الخرساني cover لا يقل عن ٧٦ مم (٣ بوصة) للعناصر الخرسانية المعرضة للتربة (عناصر الأساسات).

- ويبين جدول (١٠-٤) اعتبارات التصميم بطريقة المقاومة القصوى طبقاً لكود معهد الخرسانة الأمريكي ACI.



## تصميم القواعد المربعة بطريقة المقاومة القصوى :

يمكن تلخيص خطوات تصميم القواعد المربعة كما يلي :

- ١- حساب مساحة الخرسانة العادية (لو كانت تخانتها ٠,٣ متر أو أكبر) أو مساحة الخرسانة المسلحة من جهد التربة باستخدام الأحمال الفعلية :

$$\text{Area} = A = \frac{P}{q_{na}} \text{ or } \frac{P_T}{q_a}$$

- ٢- تعيين جهد التربة التصميمي باستخدام الأحمال القصوى وهو الذى سوف يستخدم بعد ذلك فى الحسابات :

$$q = \frac{P_u}{A}$$

- ٣- حساب مقاومة القص الثنائية المسموح بها  $V_c$  two-way action shear stress من جدول (٣-١)

(١١) أو تحسب من المعادلات الخاصة بها . كما بين شكل (٣-١٠) حالتى القص الثنائى

التأثير Two-way action ، والأحادى wide beam - ثم يحسب العمق  $d$  من جميع القوى

الرأسية ومساوتها بالصفر بما فى ذلك قوى القص :  $\Sigma Y = 0$

أى أن للقص الثنائى التأثير يكون :

[الحمل الأقصى - جهد التربة التصميمى  $\times$  مساحة المقطع الحرج للقص - مقاومة القص على

محيط المقطع الحرج = صفر]

وبالرجوع لشكل (٣-١٠) نجد أن :

$$P_u - q (c + d) (b + d) + 2dV_c [(b + d) + (c + d)] = 0$$

وبوضع  $P_u = q BL$  للعمود المستطيل والأساس المستطيل يكون :

$$d^2 (4V_c + q) + (2V_c + q) (b + c) d = (BL - cb) q \dots\dots\dots(4-28)$$

وهذه المعادلة للأساس المستطيل . وتصبح للأساس المربع على الشكل الآتى :

$$d^2 (4V_c + q) + 2 (V_c + q) bd = (B^2 - b^2) q \dots\dots\dots(4-29)$$

ويمكن اختصار معادلة الأساس المستطيل إذا أهمل تأثير جهد التربة على القص القطرى فتحصل

على :

$$4d^2 + 2 (b + c) d = BL q/V_c \dots\dots\dots(4-30)$$

# جدول (٣-١٠) اعتبارات التصميم بطريقة المقاومة القصوى طبقا للكواد ACI

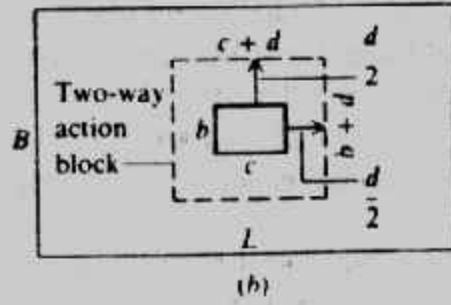
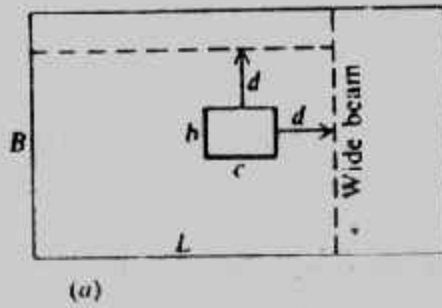
Summary of ACI 318-83 Code Requirements (Revised 1986)

Principles	Design items	Code requirements	Code section
General	Load	$U = 1.4D + 1.7L$ $U = 0.75(1.4D + 1.7L + 1.7W)$ $U = 0.9D + 1.3W$	9.2
	Load factor, $\phi$	Flexure: 0.9 Shear and torsion: 0.85 Bearing: 0.7 Flexure in plain concrete: 0.65	9.3
	Flexure	$M_u = \phi A_s f_y \left[ d - \frac{0.59 A_s f_y}{f_c b} \right]$	10.2
	Maximum flexure reinforcement	$\rho_{max} = 0.75 \rho_b$	10.3.3
	Minimum flexure reinforcement—steel percentage	$\rho_{min} = \frac{1.4}{f_y (MN/m^2)}$ Uniform thickness: use steel percentage equal to that required for shrinkage and temperature	10.5
	Shrinkage and temperature reinforcement—steel percentage	For $f_y = 275 \text{ MN/m}^2$ (40 ksi) or $345 \text{ MN/m}^2$ (50 ksi): $\rho_s = (0.002)(\text{gross concrete area})$ For $f_y = 414 \text{ MN/m}^2$ (60 ksi): $\rho_s = (0.0018)(\text{gross concrete area})$	7.12
	$\beta$ factor	$\beta = 0.85$ for $f'_c \leq 28 \text{ MN/m}^2$ (4000 lb/in. <sup>2</sup> ) and reduces by 0.05 for every 7 MN/m <sup>2</sup> (1000 lb/in. <sup>2</sup> ) in excess of 28 MN/m <sup>2</sup> . Minimum value = 0.65	10.2.7
	Shear reinforcement	Refer to ACI Code	11.11
	Development length, $L_d$	See Section	12.2
	Reinforcement spacing	Clear distance not less than diameter of bar or 25.4 mm (1 in.)	7.6.1
		Walls and slabs: not to be spaced farther apart than 3 times the wall or slab thickness or 457 mm (18 in.)	7.6.3
	Minimum reinforcement cover	76 mm (3 in.) for concrete cast against and permanently exposed to earth	7.7.1
	Modulus of elasticity of concrete, $E_c$	SI system: $E_c (MN/m^2) = (W_c^{1.5})(0.043)\sqrt{f'_c (MN/m^2)}$ $W_c$ = density of concrete (for 1440 kg/m <sup>3</sup> to 2400 kg/m <sup>3</sup> ) $E_c (MN/m^2) = 4730\sqrt{f'_c (MN/m^2)}$ (for normal weight concrete)	8.5

## جدول (٣-١١) قيم مقاومة القص المسموح بها

$\phi = 0.85$	20 (200)	225 (225)	25 (250)	27.5 (275)	30 (300)	32.5 (325)	35 (350)
Wide beam $0.17 \phi \sqrt{f_{cu}}$	0.65	0.685	0.722	0.758	0.79	0.824	0.855
Two-way action $0.34 \phi \sqrt{f_{cu}}$	1.30	1.37	1.445	1.516	1.58	1.648	1.71

Principles	Design items	Code requirements	Code section
	Shear strength	$v_u = \frac{V_u}{bd}$ <p>Wide beam:</p> $v_u \text{ (MN/m}^2\text{)} = 0.17\sqrt{f'_c \text{ (MN/m}^2\text{)}}$ $v_u \text{ (lb/in.}^2\text{)} = 2\sqrt{f'_c \text{ (lb/in.}^2\text{)}}$ <p>Diagonal tension:</p> $v_u \text{ (MN/m}^2\text{)} = 0.34\sqrt{f'_c \text{ (MN/m}^2\text{)}}$ $v_u \text{ (lb/in.}^2\text{)} = 4\sqrt{f'_c \text{ (lb/in.}^2\text{)}}$	11.3 11.11
	Bearing strength	<p>Bearing strength = <math>0.85\phi f'_c A_1</math></p> <p><math>\phi = 0.7</math></p> <p>Exceptions: when supporting surface is wider on all sides than the loaded area, the bearing strength on the loaded area is equal to <math>0.85\phi f'_c A_1 \sqrt{A_2/A_1}</math>. Limit of <math>\sqrt{A_2/A_1} \leq 2</math>. <math>A_1</math> = loaded area; <math>A_2</math> = area of the portion of the supporting surface that is concentric and geometrically similar to the loaded area</p>	10.15
<b>FOUNDATIONS</b>			
Footings	General considerations	See ACI Code	15
	Maximum moment	See ACI Code	15.4
	Shear	$v_u \text{ (MN/m}^2\text{)} = 0.083 \left( 2 + \frac{4}{\beta_c} \right) \sqrt{f'_c \text{ (MN/m}^2\text{)}}$ $\leq 0.34\sqrt{f'_c \text{ (MN/m}^2\text{)}}$ <p><math>\beta_c</math> = ratio of long side to short side of concentrated load or reaction area</p>	11.11.2.1, 15.5
	Minimum footing depth	Not less than 152 mm (6 in.) above the bottom of reinforcement for footing on soil. Not less than 305 mm (12 in.) for footing on piles	15.7
	Transfer of force at base of column or reinforced pedestal	Area of reinforcement $\geq 0.005$ gross area of supported member	15.8.2.1
	Round columns	Treat as square columns with same area for location of critical sections for moment, shear, and development of reinforcement in footings	15.3
<b>WALLS</b>			
	General considerations	Refer to ACI Code	14
	Minimum thickness	Not less than $1/12$ the supported height or length, whichever is shorter; not less than 102 mm (4 in.)	14.5.3.1
		Exterior basement walls and foundation walls not less than 191 mm (7.5 in.)	14.5.3.2
	Grade beam	See ACI Code	14.7
	Reinforcement	Horizontal: $A_s \geq 0.0025A_g$ of wall Vertical: $A_s \geq 0.0015A_g$ of wall $A_s$ = area of reinforcement $A_g$ = gross area of the wall	14.3.3. 14.3.2



#### شكل (٤-١٠) حالتا القص .

ومن هذه المعادلات يمكن تعيين عمق الأساس  $d$  بحل معادلة من الدرجة الثانية . وفي حالة الأساس المستطيل يعمل تأكيد على القص الأحادي wide - beam ويؤخذ العمق الأكبر من الحالتين .

٤- حساب عزم الانحناء على المقطع الخارج على وجه العمود  $M_u$  وكذلك حساب  $a$  حيث :

$$M_u = \phi A_s f_y (d - a/2)$$

وبعوض عن  $A_s$  بدلالة  $a$  من  $A_s = 0.85 a f_{cu}$

فتنتج معادلة من الدرجة الثانية في  $a$  وبالأرجح يمكن تعيين  $A_s$  والتي يجب ألا تتعدى النسبة الأدنى المسموح بها وهي  $0.0018 bd$  . كما يجب ألا تزيد عن النسبة القصوى المسموح بها والمبينة في جدول (٤-١٢) .

#### جدول (٤-١٢) نسبة الحديد القصوى المسموح بها

$f_{cu}, MPa$	$f_y, MPa$		
	275	345	400
21	0.028	0.021	0.016
24	0.032	0.024	0.019
28	0.037	0.028	0.021
35	0.044	0.032	0.025

٥- عمل تأكيد على طول التماسك والتي يجب ألا تقل عن ٣٠ سم بأي حال .

٦- عمل تأكيد على مقاومة التحميل (الارتكاز) وحساب الأضابير . وإذا كانت مقاومة التحميل أقل من المسموح به (والمحسوب من المعادلة الخاصة بذلك) تستخدم أقل نسبة أضابير وهي  $0.005 A_c$  أما إذا زادت مقاومة التحميل عن المسموح به فتحسب الأضابير من الفرق بين المقاومة الفعلية والمقاومة المسموح بها للتحميل مضروباً في مساحة العمود، ثم يقسم الناتج على  $f_y$  فنحصل على مساحة الأضابير المطلوبة للتحميل . أي أنه في هذه الحالة .

مساحة حديد الأضابير =  $\frac{1}{f_y}$  (مقاومة التحميل الفعلية - مقاومة التحميل المسموح بها)

٧- تبين نتائج التصميم تفصيلاً على الرسومات بقطاعات مختلفة .

**Example (4-3):**

Figure (4-11) shows a square column foundation with the following conditions :

Live load = 450 kN, Dead load = 350 kN

Allowable gross soil-bearing capacity  $q_{all} = 152.5 \text{ kN/m}^2$

Column size =  $0.5 \times 0.5 \text{ m}$

$f_c = 22.5 \text{ MN/m}^2$  ( $225 \text{ kg/cm}^2$ ),  $f_y = 240 \text{ MN/m}^2$  ( $2400 \text{ kg/cm}^2$ ).

Design the foundation according to ultimate strength design (USL)

**Solution:**

Let the average unit weight of concrete and soil above foundation level be  $22 \text{ kN/m}^3$

$$q_{net\ all} = q_{all} - \gamma_a D_f = 152.5 - 1.25 \times 22 = 125 \text{ kN/m}^2$$

$$A = B^2 = \frac{D + L}{q_{net\ all}} = \frac{350 + 450}{125}$$

Use a foundation with dimension of  $2.6 \times 2.6 \text{ m}$

The factored load  $U = 1.4 D + 1.6 L$  (ECOP)

$$= 1.4 \times 350 + 1.6 \times 450 = 1210 \text{ kN}$$

$$q = U/A = 1210 / 2.6 \times 2.6 = 179 \text{ kN/m}^2 = 0.179 \text{ MN/m}^2$$

Punching (two-way action shear):

$$V_c = 0.85 (0.34) \sqrt{f_c}$$

$$= 0.85 \times 0.34 \sqrt{22.5} = 1.37 \text{ MN/m}^2$$

for square footing

$$d^2 \left( V_c + \frac{q}{4} \right) + d \left( V_c + \frac{q}{2} \right) b = (A_f - A_c) \frac{q}{4}$$

$$d^2 \left( 1.37 + \frac{0.179}{4} \right) + d \left( 1.37 + \frac{0.179}{2} \right) 0.5 = (2.6 \times 2.6 - 0.5 \times 0.5) \frac{0.179}{4}$$

$$1.41 d^2 + 0.73 d - 0.29 = 0$$

$$d^2 + 0.52 d = 0.206$$

completing the square

$$(d + 0.26)^2 = 0.206 + 0.26^2 = 0.2736$$

$$d + 0.26 = \pm \sqrt{0.2736}$$

$$\therefore d = \pm 0.523 - 0.26$$

$$= 0.263 \text{ m}$$

Not necessary to check wide-beam shear :

The approximate footing depth is :

$$d^2 + bd = B^2 q/4 V_c$$

$$d^2 + 0.5 d = \frac{2.6^2 \times 0.179}{4 \times 1.37} = 0.221$$

Completing the square :

$$(d + 0.25)^2 = 0.221 + 0.25^2 = 0.284$$

$$\therefore d = 0.283 \text{ m}$$

take  $t = 0.50 \text{ m}$  and  $d = 0.43 \text{ m}$



$$c = \frac{2.6 - 0.5}{2} = 1.05 \text{ m}$$

$$M_u = q B C^2/2 = 179 \times 2.6 \times 1.05^2/2 = 256.6 \text{ kN.m}$$

$$a = \frac{A_s f_y}{0.85 f_{cu} B}$$

$$A_s = 0.85 a f_{cu} B / f_y = 0.85 \times 22.5 \times 2.6 a / 240 = 0.207 a$$

$$M_u = \phi A_s f_y (d - a/2)$$

$$\text{with } \phi = 0.9 \text{ and } A_s = 0.207 a$$

$$\therefore M_u = 0.9 \times 0.207 a \times 240000 (0.43 - a/2)$$

$$256.6 = 19226.2a - 22356 a^2$$

$$a^2 - 0.86 a + 0.0115 = 0$$

$$a = \frac{0.86 \pm \sqrt{(0.86)^2 - 4 \times 0.0115}}{2}$$

$$a = 0.0136$$

$$A_s = 0.207 \times 0.0136 = 0.0028 \text{ m}^2 = 28 \text{ cm}^2$$

**Check percent steel :**

$$\mu = \frac{A_s}{Bd} = \frac{0.0028}{2.6 \times 0.43} = 0.0025$$

$$> \mu_{\min} = 0.0018 \text{ (ACI code)}$$

use 14  $\phi$  16 in each side

✓ **check development length :**

$$L_d = 0.019 A_b \frac{f_y}{\sqrt{f_c}} = 0.019 \times 201 \times \frac{240}{\sqrt{22.5}} = 193.2 \text{ mm}$$

$$\text{also } L_d \geq 0.05 d b f_y = 0.058 \times 16 \times 240 = 222.7 \text{ mm}$$

$$\text{So } L_{d\min} = 300 \text{ mm controls}$$

$$\text{Actual } L_d = C - \text{over} = 105 - 0.075 = 0.975 \text{ m} > 300 \text{ mm}$$

**Check for bearing strength and dowels :**

$$\sqrt{\frac{A_2}{A_1}} = \sqrt{\frac{(0.5 + 4 \times 0.43)^2}{0.5 \times 0.5}} = 2.9$$

$$\text{So use } \sqrt{A_2 / A_1} = 2 \text{ and } \phi = 0.7.$$

$$\text{The design bearing strength} = 0.85 \phi f_c A_1 \sqrt{A_2 / A_1}$$

$$= 0.85 \times 0.7 \times 22.5 \times 0.5 \times 0.5 \sqrt{2}$$

$$= 4.733 \text{ MN} = 4733 \text{ kN}$$

The factored column load

$$u = 1210 \text{ kN} < 4733 \text{ kN}$$

So, a minimum area of dowels should be provided across the interface of the column and foundation. Minimum area of steel

$$= 0.005 (\text{area of column}) = 0.005 \times 40 \times 40$$

$$= 8 \text{ cm use } 4 \phi 16 \text{ as dowels}$$

The final design section is shown in Fig. (4-11).

#### Example (4-4):

Redesign the footing given in example (4-3) using 40 cm plain concrete.

**Solution :**

$$q_{\text{net all}} = q_{\text{ult}} - \gamma_a D_f = 152.5 - 1.25 \times 22 = 125 \text{ kN/m}^2$$

$$A_{\text{pc}} = \frac{350 + 450}{125} = 6.4 \text{ m}^2$$

Take plain concrete  $2.6 \times 2.6 \text{ m}$  and  $C_{\text{pc}} = 0.4$

$$B_{\text{RC}} = 2.6 - 2 \times 0.4 = 1.8 \text{ m}$$

Use RC footing  $1.8 \times 1.8 \text{ m}$

The factored load,

$$U = 1.4 D + 1.6 L$$

$$= 1.4 \times 350 + 1.6 \times 450 = 120 \text{ kN}$$

$$q = \frac{U}{A_{\text{RC}}} = \frac{120}{1.8 \times 1.8} = 37.35 \text{ kN/m}^2 = 0.3735 \text{ MN/m}^2$$

Punishing (two-way action shear)

$$V_c = 0.85 (0.34) \sqrt{f_c}$$

$$= 0.85 \times 0.34 \sqrt{22.5} = 1.37 \text{ MN/m}^2$$

For square footing :

$$d^2 \left( V_c + \frac{q}{4} \right) + d \left( V_c + \frac{q}{2} \right) b = (A_f - A_c) \frac{q}{4}$$

$$d^2 \left( 1.37 + \frac{0.3735}{4} \right) + d \left( 1.37 + \frac{0.3735}{2} \right) 0.5 = (1.8 \times 1.8 - 0.5 \times 0.5) \frac{0.3735}{4}$$

$$1.46 d^2 + 0.78 d = 0.28$$

$$d^2 + 0.5 d = \frac{1.8^2 \times 0.3735}{4 \times 1.37} = 0.221$$

$$\therefore d = 0.283 \text{ m}$$

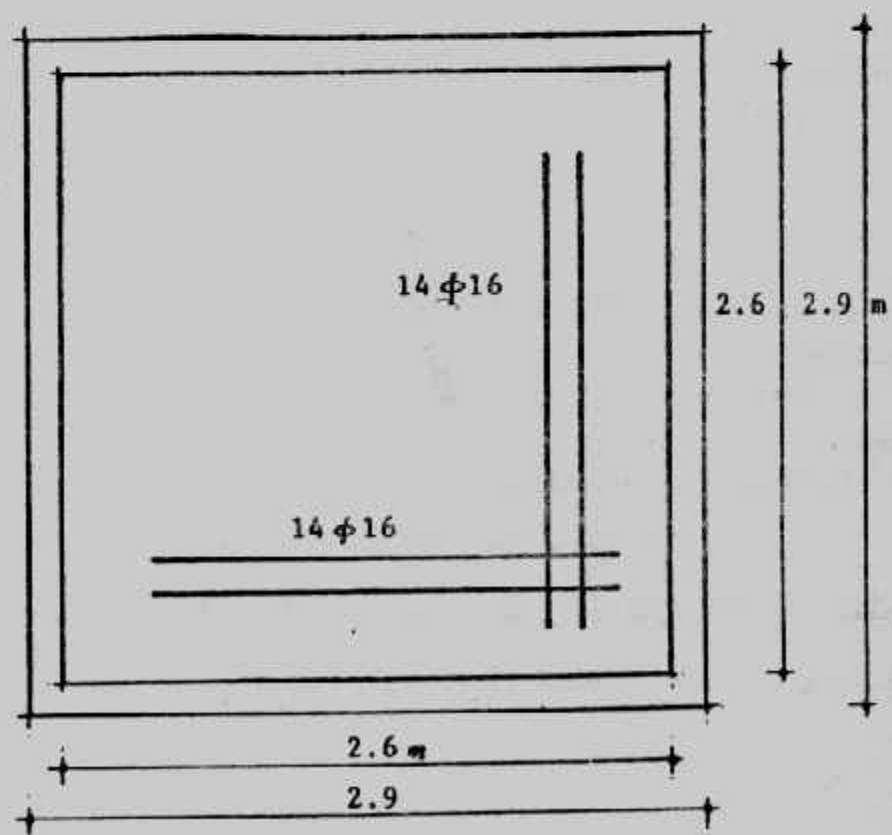
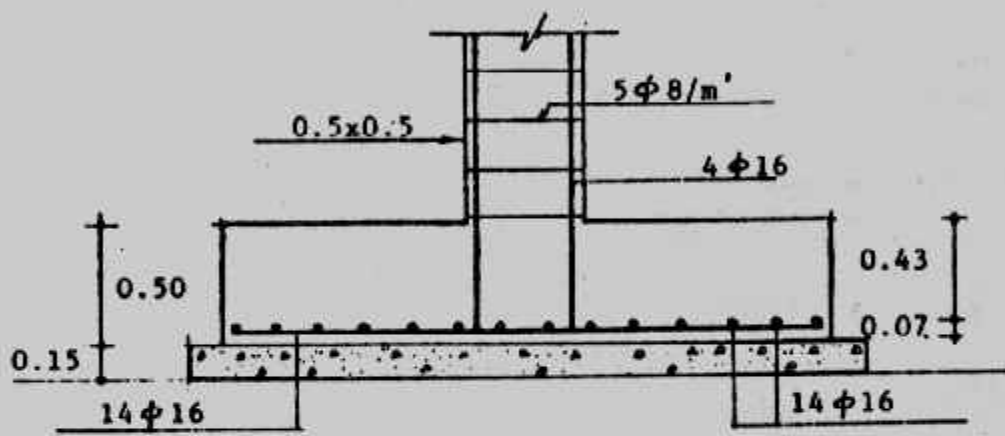
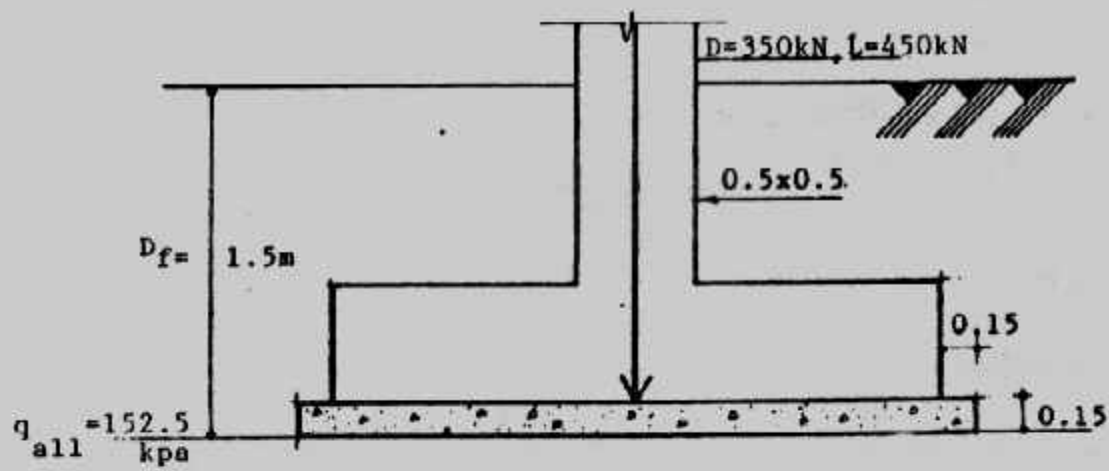
If we take  $t = 0.5 \text{ m}$  and  $d = 0.43$

$$c = \frac{1.8 - 0.5}{2} = 0.675 \text{ m}$$

$$M_u = q B c^2 / 2 = 37.35 \times 1.8 \times 0.675^2 / 2 = 257.4 \text{ kN.m}$$

$$A_s = 0.85 a f_y B / f_y = 0.85 \times 22.5 \times 1.8 a / 240 = 0.143 a$$

$$M_u = \phi A_s f_y (d - a/2)$$



شكل (١١-٤) مثال (٣-٤)

with  $\phi = 0.9$  and  $A_s = 0.143a$   
 $M_u = 0.9 \times 0.143a \times 240000 (0.43 - a/2) = 257.4$   
 $15444 a^2 - 13281.8a + 257.4 = 0$

Solution of this equation gives :

$$a = 0.0199$$

$$A_s = 0.143 \times 0.0199 = 0.0028 \text{ m}^2 = 28 \text{ cm}^2$$

$$\mu = \frac{A_s}{Bd} = \frac{0.0028}{1.8 \times 0.43} = 0.0036 > \mu_{\min} = 0.0018$$

use 14  $\phi$  16 in each side

Check development length :

$$L_d = 0.019 A_b \frac{f_y}{\sqrt{f_c}} = 0.019 \times 201 \times \frac{240}{\sqrt{225}} = 193.2 \text{ mm}$$

also  $L_d \geq 0.058 d_b f_y = 0.058 \times 16 \times 240 = 222.7 \text{ mm}$

So  $L_{d\min} = 300 \text{ mm}$  controls

Actual  $L_d = c\text{-cover} = 0.875 - 0.075 = 0.8 \text{ m} > 300 \text{ mm}$

Check for bearing capacity :

$$\sqrt{\frac{A_2}{A_1}} = \sqrt{\frac{(0.5 + x \cdot 0.43)}{0.5 \times 0.5}} = 2.93$$

So use  $\sqrt{\frac{A_2}{A_1}} = 2$  and  $\phi = 0.7$

The design bearing strength  $= 0.85 \phi f_c A_1 \sqrt{\frac{A_2}{A_1}}$   
 $= 0.85 \times 0.7 \times 22.5 \times 0.5 \times 0.5 \sqrt{2}$   
 $= 4.733 \text{ MN} = 4733 \text{ kN}$   
 $> U = 1210 \text{ kN} \quad \text{o.k.}$

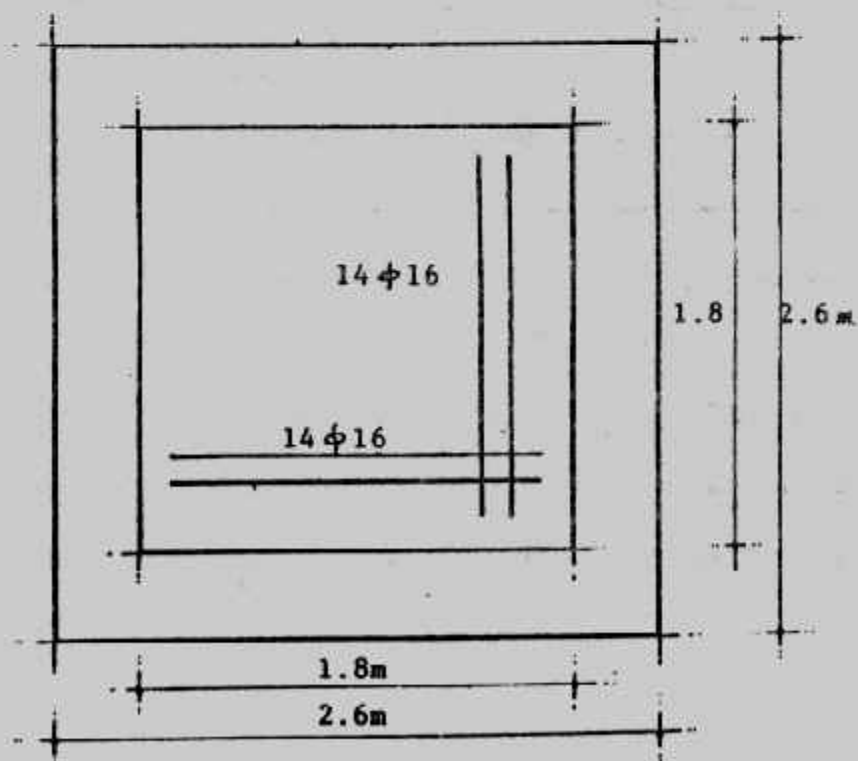
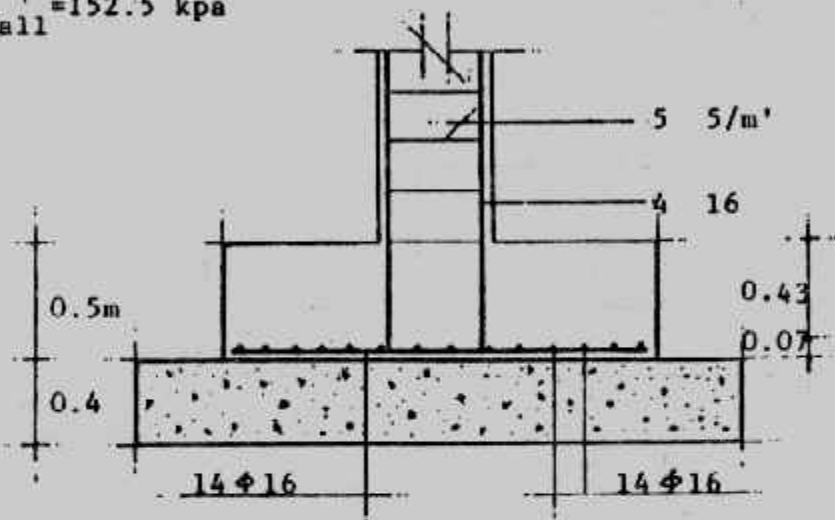
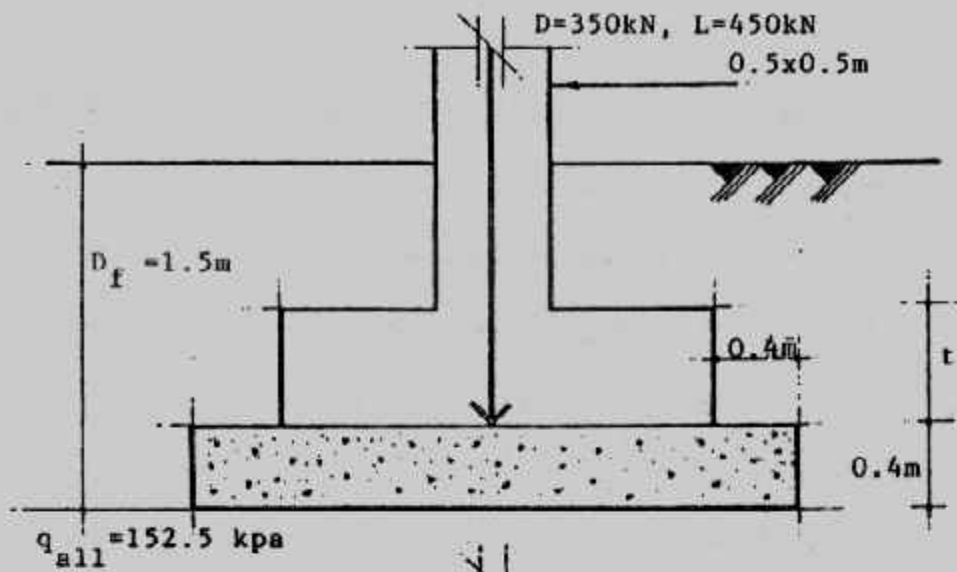
So, a minimum area of dowels should be provided across the interface of the column and foundation :

$$\text{Minimum area of steel} = 0.005 A_1 = 0.005 \times 40 \times 40 = 8 \text{ cm}^2$$

So, use 4  $\phi$  16 as a dowels.

The final design section is shown in Fig. (4-12).

- ملحوظة : قطر حديد الأساور dowels يجب ألا يقل عن قطر حديد تسليح العمود .
- ومن خلال الأمثلة السابقة وبمقارنة نتائج الحلول في طريقتي إجهادات التشغيل والمقاومة القصوى يجب ملاحظة أن حديد التسليح المستخدم في طريقة المقاومة القصوى غالباً يكون



شكل (١٧-٤) مثال (٤-٤)

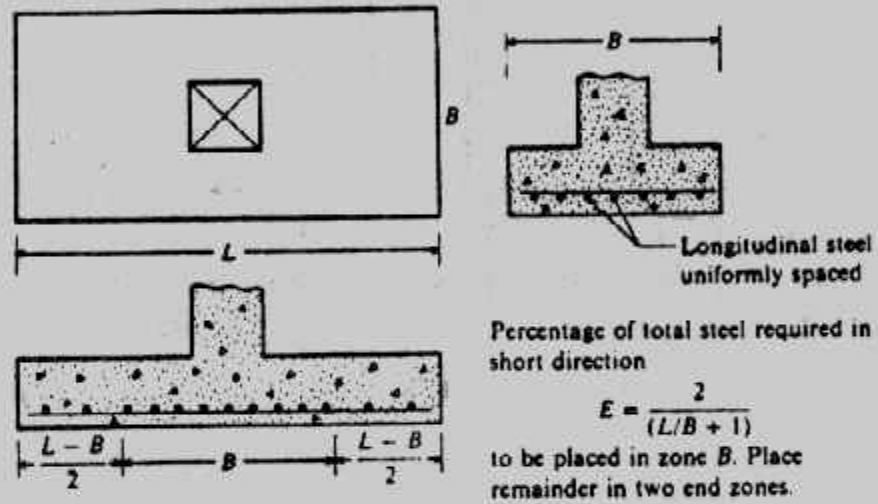


✓  
حديد عالى المقاومة والمفروض فى هذه الطريقة (طريقة المقاومة القصوى) أن ينتج من التصميم تخانات للأساس أقل وكمية أكبر من حديد التسليح.

### تصميم القواعد المستطيلة : Design of Rectangular Footings

تستخدم القواعد المستطيلة فى الحالات الاضطرارية التى لا يصلح معها استخدام القواعد المربعة بسبب تقارب المسافات بين الأعمدة وتداخل القواعد المربعة معا. كما تستخدم القواعد المستطيلة للأعمدة المعرضة لعزوم انحناء حيث تكون هى الأكثر اقتصادا.

ومع تشابه خطوات تصميم القواعد المستطيلة مع القواعد المربعة إلا أن الحديد الطولى قد يختلف عن الحديد العرضى. ونظرا لأن المنطقة من الأساس المحيطة بالعمود فى مساحة  $B \times B$  تكون أكثر تأثيراً فى مقاومة عزم الانحناء فإن الحديد العرضى تركز منه نسبة معينة ومحددة فى مسافة  $B$  أسفل العمود كما هو مبين فى شكل (٤-١٣).



شكل (٤-١٣) تركيز الحديد فى القواعد المستطيلة

وعند استخدام طريقة المرونة (اجهاد التشغيل) فإن خطوات التصميم للقواعد المستطيلة تتشابه مع القواعد المربعة إلا أن الخطوات تتكرر للاتجاهين الطولى والعرضى عند حساب العزوم وحديد التسليح والتماسك ويحسب العمق من العزم الأكبر تأثيراً.

وعند استخدام طريقة الحدود القصوى فإن خطوات التصميم تتشابه أيضاً مع القواعد المربعة حيث يكون القص هو المتحكم فى العمق ما عدا فى حالات القواعد المستطيلة المعرضة لعزوم أو التى يكون فيها  $L/B$  أكبر كثيراً من ١ فإن القص الأحادى wide-beam يكون هو الأكثر تأثيراً فى العمق.

### Example (4-5) :

Design a rectangular footing to support a square column 40 x 60 cm reinforced by 8  $\phi$  19 mm carries a load of 100 t. The net allowable bearing pressure on the soil is 1.5 kg/cm<sup>2</sup>. Assume  $f_c = 60$  kg/cm<sup>2</sup>,  $f_s = 1400$  kg/cm<sup>2</sup>,  $q_s = 7$  kg/cm<sup>2</sup>,  $q_p = 10$  kg/cm<sup>2</sup>, use working stress method. Plain concrete is taken 40 cm, depth of foundation 2.0 m.

**Solution :**

$$A_{po} = 100 / 15 = 6.67 \text{ m}^2$$

take plain concrete 2.3 x 3 m and  $C_{po} = 40$  cm

Use RC footing 1.5 x 2.2 m

Stress between plain and reinforced concrete is  $q = \frac{100}{1.5 \times 2.2} = 30.3 < 50 \text{ t/m}^2$

وعلى اعتبار أن المقطع الحرج للنقص الثاقب يكون حول العمود فإن :

$$d_p = \frac{P - A_{c,q}}{b_o \times q_p} = \frac{100 - 0.4 \times 0.6 \times 30.3}{2(0.4 + 0.6) \times 100} = 0.46 \text{ m}^2$$

وبحساب العزوم عند المقاطع الحرجة في الاتجاهين

$$M_x = 30.3 \times 2.2 \times 0.552/2 = 10.08 \text{ mt} = 4.58 \text{ mt/m'}$$

$$M_y = 30.3 \times 1.5 \times 0.82/2 = 14.54 \text{ mt} = 9.69 \text{ mt/m'}$$

$$d_m = 0.313 \sqrt{\frac{0.69 \times 100000}{100}} = 30.81 \text{ cm}$$

$$\text{and } d_m = 0.313 \sqrt{\frac{14.54 \times 100000}{(40 + 20)}} = 48.72 \text{ cm}$$

as  $L > B$  it is preferable to compute the depth required for shear

$$d_{sh} = \frac{Q_{sh}}{b \times q_{sh}}$$

$$d_{sh} = \frac{(0.80 - d_{sh}) \times 1 \times 30.3}{1 \times 70}$$

$$\therefore d_s = 0.24 \text{ m}$$

take  $d = 53$  cm and

$$t = 53 + 7 = 60 \text{ cm}$$

steel in long direction.

$$A_s = \frac{M_y}{k_2 d} = \frac{14.54 \times 10^5}{1217 \times 53} = 22.5 \text{ cm}^2$$

take 12  $\phi$  16 (24.12 cm<sup>2</sup>)

$$\text{percentage of steel } \mu = \frac{24.12}{150 \times 53} = 0.003 > 0.002$$

Check bond stresses :  $Q_b = 30.3 \times 0.8 \times 1.5 = 36.36 \text{ t/m}^2$ .

$$q_b = \frac{Q_b}{0.87 \times d \Sigma o}$$

$$= \frac{36.36 \times 1000}{0.87 \times 54 \times 12\pi \times 16} = 12.82 \text{ kg/cm}^2 > 12 \text{ kg/cm}^2$$

increase the reinforcement to 14  $\phi$  16 by U-shape.

$$q_b = \frac{36.36 \times 1000}{0.87 \times 54 \times 12\pi \times 16} = 10.99 \text{ kg/cm}^2$$

$$\text{Anchorage length } d_d = \frac{A_s f_s}{\rho q_b} = \frac{2.01 \times 1400}{\pi \times 1.6 \times 11} = 50.9 \text{ cm} < 80 \text{ cm.}$$

**Steel in short direction :**

$$A_s = \frac{M_x}{k_2 d} = \frac{10.08 \times 10^5}{1217 (54 - 16)} = 15.81 \text{ cm}^2$$

$$\text{minimum } A_s = 0.002 \times 54 \times 2.20 = 23.76 \text{ cm}^2$$

$$E = \frac{2}{(22/15 + 1)} = 0.81$$

$$\text{Area of steel in central zone of width } B = 0.81 \times 23.76 = 19.25 \text{ cm}^2$$

Use 10  $\phi$  16 in 1.5 m middle zone.

Use 2  $\phi$  16 in each 0.35m end zone.

**Check bond stresses :**

$$Q = 30.3 \times 0.55 \times 2.2 = 36.66 \text{ t}$$

$$q_b = \frac{36.66 \times 1000}{0.87 \times 526 \times 14\pi \times 1.6}$$

use 14  $\phi$  16 in U-shape

$$\text{Anchorage length } d_d = \frac{A_s f_s}{\rho q_b} = \frac{2.01 \times 1400}{0.87 \times 526 \times 14\pi \times 1.6} = 50.9 \text{ cm} < 55 \text{ cm}$$

Details of the footing are shown in Fig. (4 -15).

**Example : (4 -6);**

Design a rectangular reinforced concrete footing for the following :

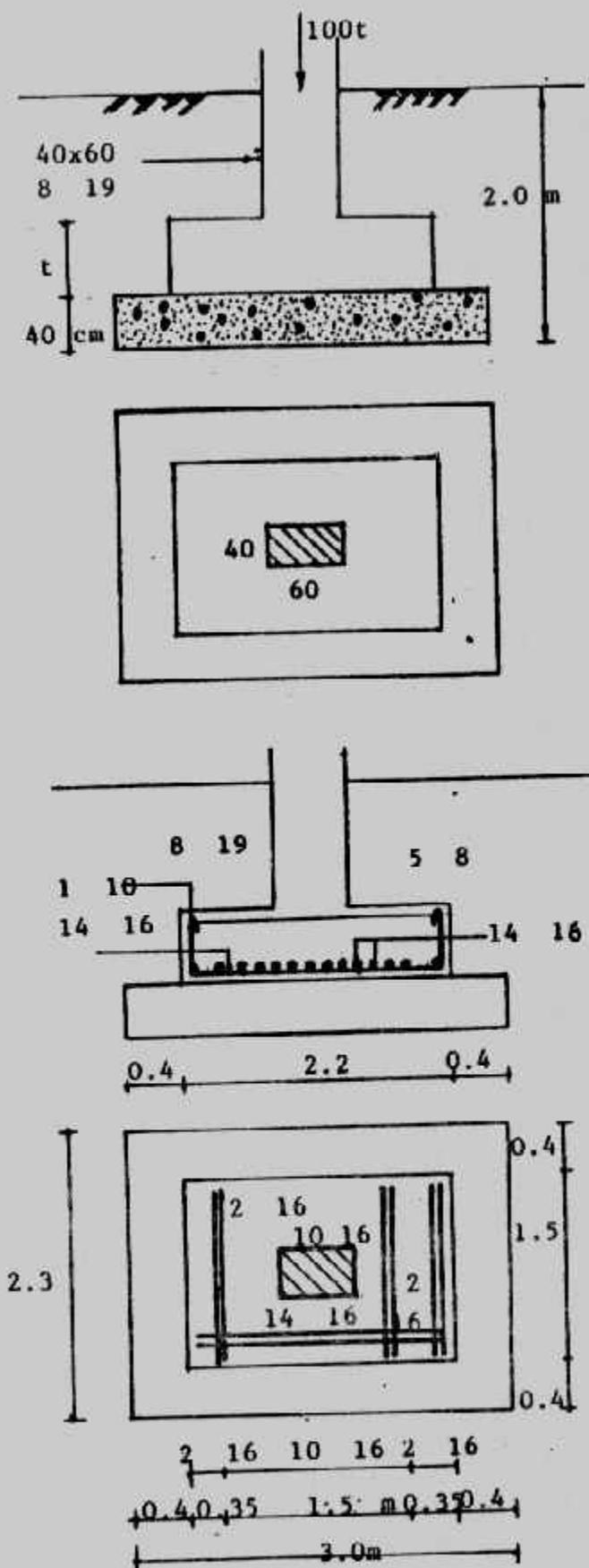
D = 1100 kN, L = 1000 kN at foundation level at 2m

footing : B = 2.2m,  $q_a = 240 \text{ kPa}$ ,  $f_c = 21 \text{ Mpa}$ ,  $f_y = 400 \text{ Mpa}$

**Solution :**

$$P = 1100 + 1000 = 2100 \text{ kN}$$

$$A = \frac{2100}{240} = 8.75 \text{ m}^2$$



شكل (٤-١٥) مثال (٤-٥) تفاصيل الخرسانة والحديد

$$L = A/B = \frac{8.75}{2.2} = 3.98\text{m}$$

Use  $L = 4.0\text{ m}$

$$U = 1.4 \times 1100 + 1.7 \times 1000 \quad (\text{ACI code})$$

$$= 1540 + 1700 = 3240\text{ kN}$$

$$q = \frac{3240}{2.2 \times 4} = 368.2\text{ kPa}$$

Depth for shear (wide-beam action)

$$V_c = 0.17 \phi \sqrt{f_c} = 0.17 \times 0.85 \sqrt{21} = 0.65\text{ MPa}$$

$\Sigma F = 0$  on a 1 m wide section on right end of footing

$$\text{gives : } d(1.0) V_c - \left( \frac{4.0 - 0.45}{2} - d \right) q = 0$$

$$0.65 d + 0.368 d = 0.654$$

$$1.018 d = 0.654$$

$$d = 0.642\text{ m} \quad \text{taken } 0.65$$

Use this value of  $d$  to check the two-way action :

Perimeter of two-way action block  $= (0.45 + 0.65) 4 = 4.4\text{ m}$

$$P_s = \text{Perimeter} \times d \times V_c = 4.4 (0.65) \times 0.34 \times 0.85 \sqrt{21}$$

$$= 3788\text{ kN} > 3291.4\text{ kN}$$

$$C_1 = \frac{4.0 - 0.45}{2} = 1.775\text{ m}$$

$$M_u = M_{u1} = q C_1^2 / 2 = \frac{368.2 \times 1.775^2}{2} = 580.03\text{ kN.m}$$

$$a = \frac{A_s A_y}{0.85 f_c B} = \frac{400 A_s}{0.85 \times 21 \times 1} = 22.41 A_s$$

$$M_u = \phi A_s f_y (d - a/2)$$

$$\frac{580.03}{1000} = 0.9 A_s \times 400 (0.65 - \frac{22.41}{2} A_s)$$

Cleaning up, we obtain

$$A_s^2 - 0.058 A_s + 0.0014 = 0$$

$$A_s = 0.0025\text{ m}^2/\text{m}'$$

$$\text{Check percent steel : } \mu = \frac{0.0025}{1 \times 0.65} = 0.0038 > 0.0018 < 0.016$$

$$\text{total steel } A_s = 0.0025 \times 2.2 = 0.0055\text{ m}^2 = 55\text{cm}^2$$

Use 20  $\phi$  19 as a longitudinal reinforcements.

Check development length :

$$L_d = 0.019 A_b f_y / \sqrt{f_c} = 0.019 \times 284 \times 400 / \sqrt{21} = 471\text{ mm}$$

$$\text{also } L_d \geq 0.058 d_b f_y = 0.058 \times 19 \times 400 = 440.8\text{mm}$$

$$L_d \text{ actual} = C\text{-cover} = 1775 - 75 = 1700 \text{ mm} > 471 \text{ mm}$$

**Short direction :**

Assuming short bars also  $\phi$  19 mm

$$d' = 0.65 - 0.019 = 0.631 \text{ m}$$

$$C_2 = \frac{2.2 - 0.45}{2} = 0.875 \text{ m}$$

$$M_u = \frac{368.2 \times 0.875^2}{2} = 140.95 \text{ kN.m}$$

$$a = \text{same as before} = 22.41 A_s$$

$$M_u = \phi A_s f_y (d - a/2)$$

$$0.14095 = 0.9 A_s \times 400 (0.631 - \frac{22.41}{2} A_s)$$

$$A_s^2 - 0.0563 A_s + 0.000035 = 0$$

$$A_s = 0.00063 \text{ m}^2/\text{m of width}$$

$$\text{Check percent steel : } \mu = \frac{0.00063}{1 \times 0.631} = 0.000998 < 0.0018$$

$$A_s \text{ required} = 0.0018 \times 1 \times 0.631 = 0.0011 \text{ m}^2/\text{m}$$

$$A_s \text{ total} = 0.0011 \times 4.0 = 0.0044 \text{ m}^2 = 44 \text{ cm}^2$$

use 16  $\phi$  19 or 24  $\phi$  16

This reinforcement may be distributed by :

$$\text{In the central zone of } 2.2\text{m} = A_s \times \frac{2}{S+1} = A_s \times (2/\frac{4}{2.2} + 1) \approx 17 \phi 16 \text{ and in each out}$$

side zone of 0.9 m  $\approx 4 \phi 16$

it is not necessary to check  $L_d$ .

**Check bearing and design dowels :**

$$A_1 = 0.45 \times 0.45 = 0.2025 \text{ m}^2$$

$$A_2 = (0.45 + 4 \times 0.65)^2 = 9.30 \text{ m}^2$$

$$\sqrt{A_2 / A_1} = \sqrt{\frac{9.30}{0.2025}} = 6.8 \gg 2$$

$$\text{so use } \sqrt{A_2 / A_1} = 2 \text{ and } \phi = 0.7$$

$$\begin{aligned} \text{design bearing strength} &= 0.85 \phi f_c A_1 \sqrt{A_2 / A_1} \\ &= 0.85 \times 0.7 \times 21 \times 0.2025 \times 2 \\ &= 5.06 \text{ MN} = 5060 \text{ kN} \end{aligned}$$

$$\text{The factored column load } U = 3240 \text{ kN} < 5060 \text{ kN}$$

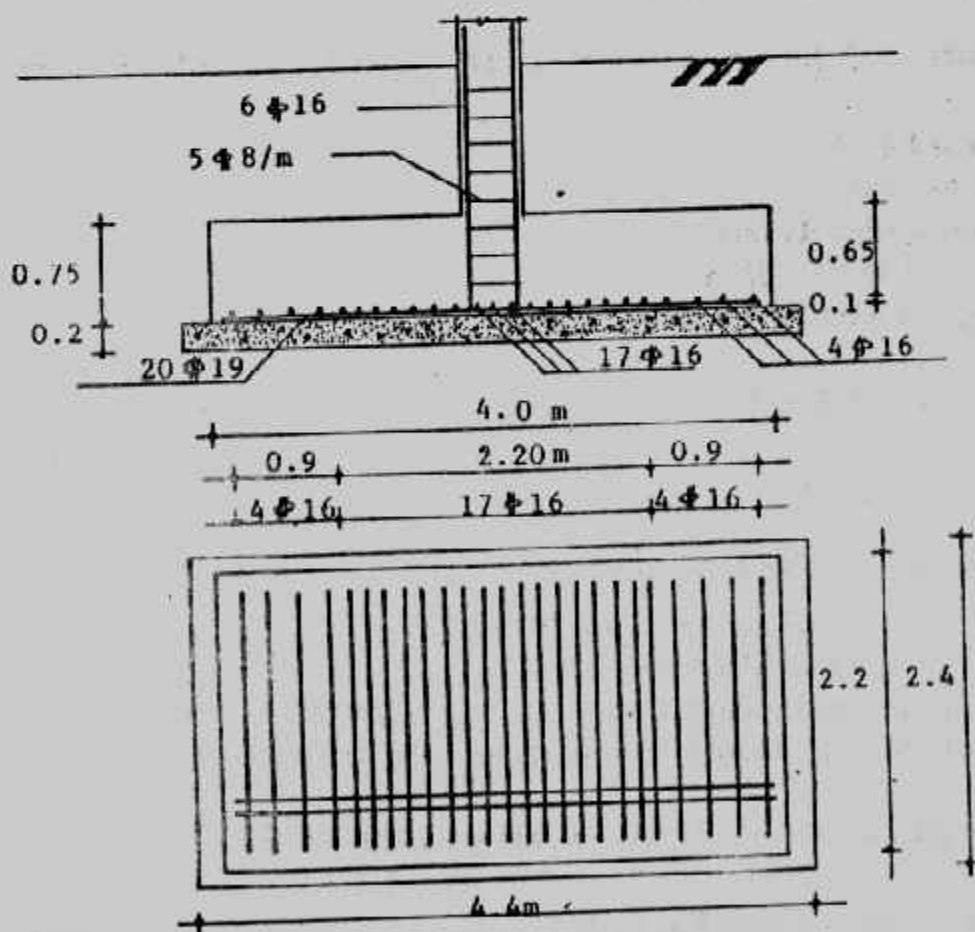
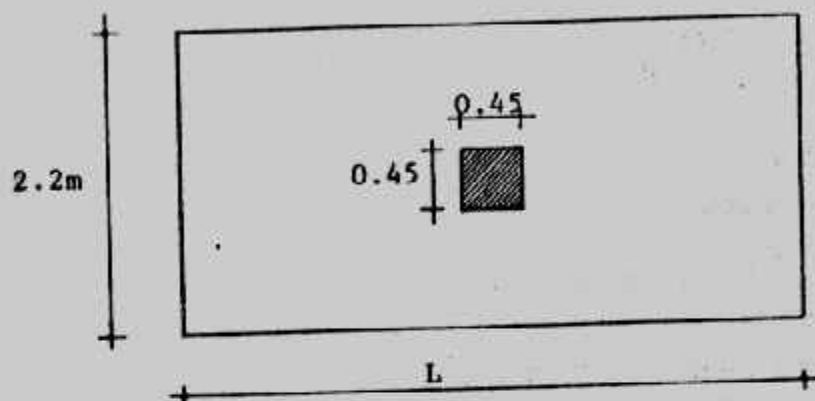
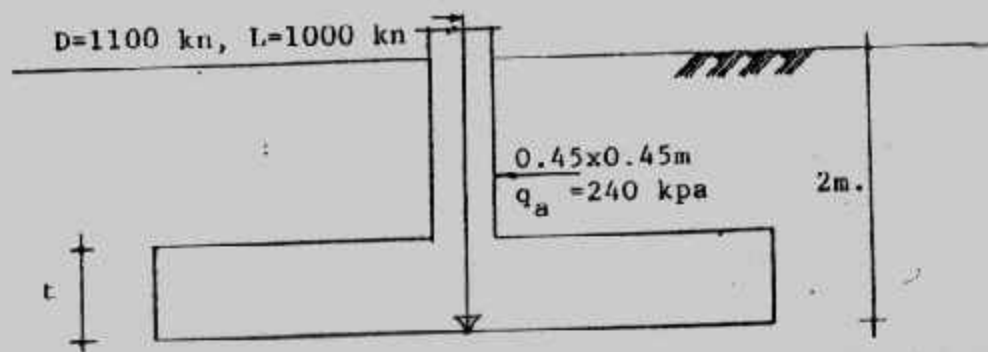
minimum area of dowels should be used across the interface of the column and foundation:

$$\text{Minimum area of steel} = 0.005 A_1 = 0.005 \times 0.2025 = 10.1$$

so, use 6  $\phi$  16

The final design section is shown in Fig. (4-16).





شكل (١٦-٤) مثال (٦-٤) تفاصيل الخرسانة والحديد

## القواعد المعرضة لعزم انحناء : Footing Subjected to Moment

القواعد تنقل الأحمال المحورية للتربة وإضافة لذلك فإنها قد تتعرض لعزوم انحناء حول محور أو محورين. ومن أمثلة هذه القواعد : قواعد الكبارى والحوائط الساندة وقواعد الإطارات والمباني العالية ... وغيرها. وينتج عن الأحمال والعزوم - المعرضة لها القواعد - إجهادا على التربة خطى غير منتظم التوزيع. ويجب ألا يتخطى هذا الإجهاد الجهد المسموح به للتربة. وحينما يتعرض الأساس لحمل غير مركزي أو عزم حول أحد محاوره فإنه يمكن حساب توزيع ضغط التماس أسفله من حساب الإنشاءات شكل (٤-١٧). وعندما تقع محصلة الأحمال فى الثلث الأوسط من القاعدة فإنه توزيع الإجهاد أسفل الأساس يأخذ شكل شبه منحرف ويحسب من:

$$q_2 = \frac{P}{BL} \left( 1 \pm \frac{6e}{L} \right) \dots \dots \dots (4-45)$$

$$e = \frac{M}{P}$$

و حينما تقع محصلة الأحمال على حدود الثلث الأوسط تماما حيث  $e = L/6$  فإن توزيع الإجهاد أسفل الأساس يأخذ شكل مثلث حيث :

$$q_1 = \frac{2P}{BL}, q_2 = 0 \dots \dots \dots (4-46)$$

و حينما تقع محصلة الأحمال خارج الثلث الأوسط للقاعدة فإن توزيع الإجهاد أسفل الأساس سوف يكون من جزئين : شد وآخر ضغط وحيث أن التربة لا تتحمل الشد فإن القاعدة سوف تتعرض لإجهادات الضغط فى جزء منها وتحسب من :

$$q_1 = \frac{2P}{3B(L/2 - e)} \dots \dots \dots (4-47)$$

و حينما تتعرض القاعدة لعزم انحناء على محورين فيها فإن الإجهاد أسفلها يحسب من المعادلة العامة للإجهادات :

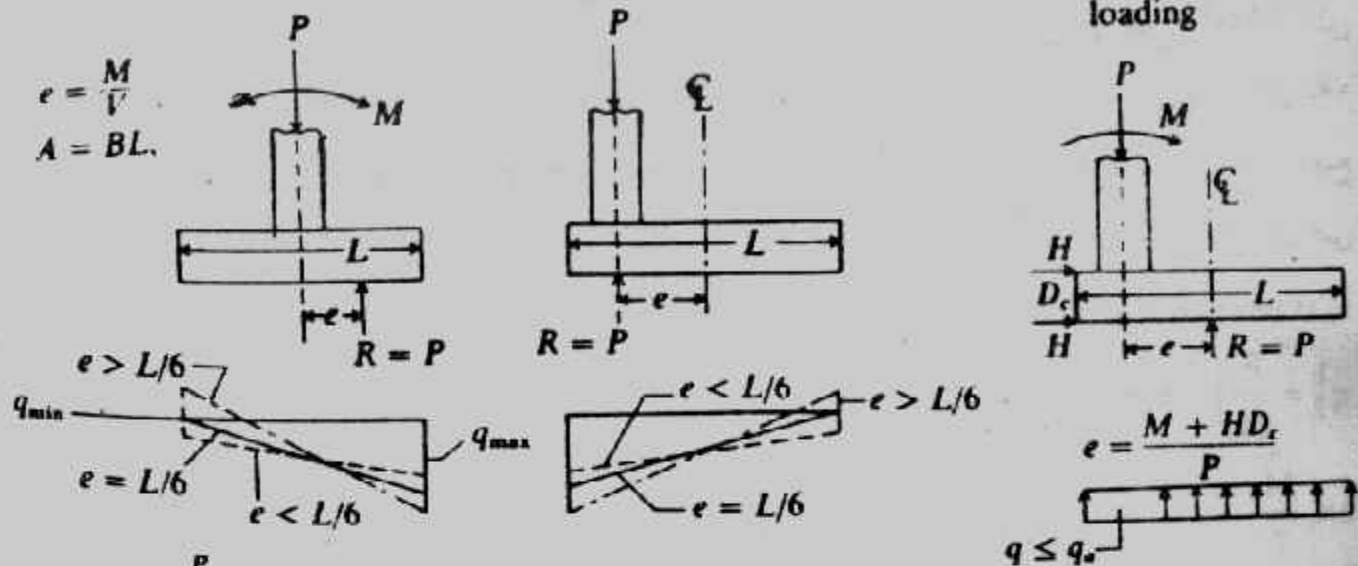
$$q_2 = \frac{P}{A} \pm \frac{M_x \cdot y}{I_x} \pm \frac{M_y \cdot x}{I_y} \dots \dots \dots (4-48)$$

وسوف نقدم أمثلة على نوعين من القواعد المعرضة لعزم الانحناء. النوع الأول للقواعد المعرضة لعزم انحناء متعاكس أى يغير اتجاهه حسب التحميل ولهذا النوع يفترض أن العزم فى اتجاه واحد فقط ينتج عنه إجهاد شبه منحرف أسفل القاعدة ويتم التصميم على ذلك للجانب الحرج ثم تطبق نتائج التصميم على الجانب الآخر عندما يغير العزم اتجاهه للعكس. والنوع الثانى للقواعد المعرضة لعزم دائم الاتجاه (أى اتجاه واحد فقط) ولهذا النوع نجعل محصلة

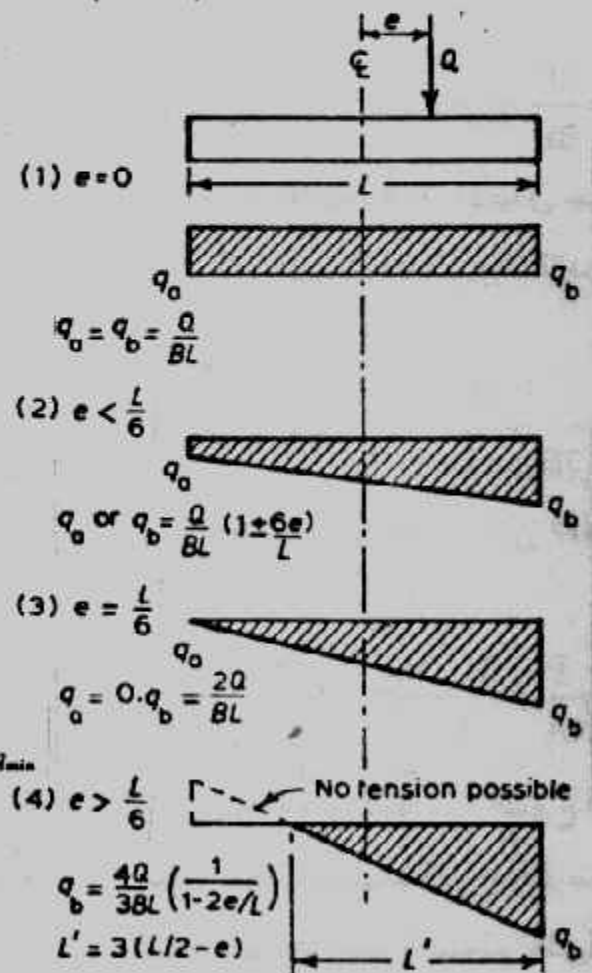
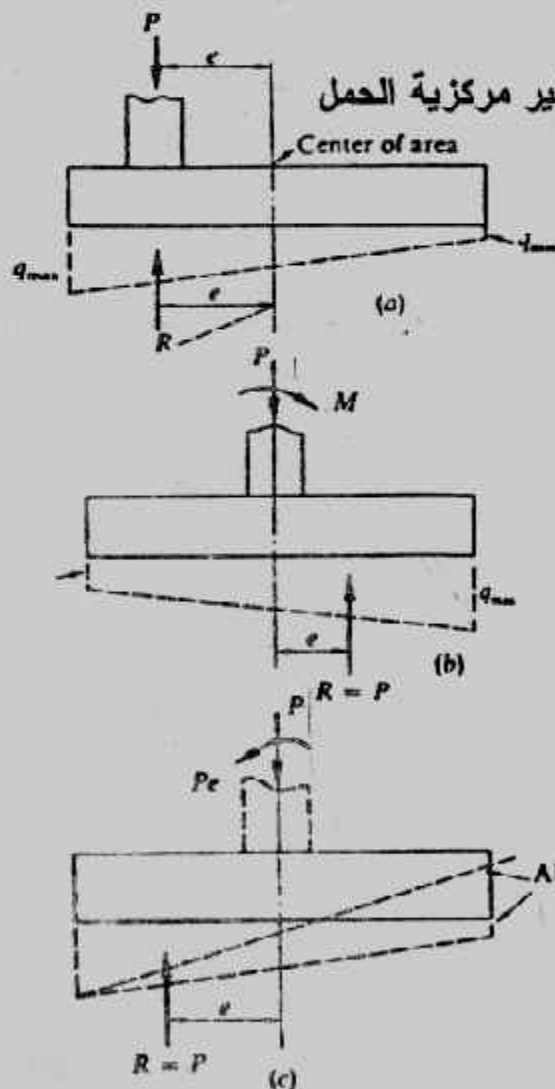
الأحمال في مركز ثقل الأساس وهذا يجعل العمود مرحلا عن مركز الأساس ، وفي هذه الحالة يتعرض الأساس لاجهاد منتظم بسبب تواجد محصلة الأحمال في مركز ثقل الأساس .

Eccentrically loaded bases. In all cases  $q_{max} \leq q_a$ .

$H$  = shear from col. moments or other loading



شكل (٤-١٧) الأساسات الغير مركزية الحمل



شكل (٤-١٨) الإجهادات أسفل القواعد الغير مركزية التحميل

**Example (4-7):**

Design a reinforced concrete footing for a column 30 x 60 cm carrying a load of 80 t and reversible bending moment of 24 mt. The net allowable soil pressure is 1.2 kg/cm<sup>2</sup>. Take :

$f_c = 55 \text{ kg/cm}^2$  ( $f_{cu} = 250 \text{ kg/cm}^2$ ),  $f_s = 1400 \text{ kg/cm}^2$ ,  $q_s = 9 \text{ kg/cm}^2$

$q_p = 9 \text{ kg/cm}^2$  (use working stress method).

**Solution :**

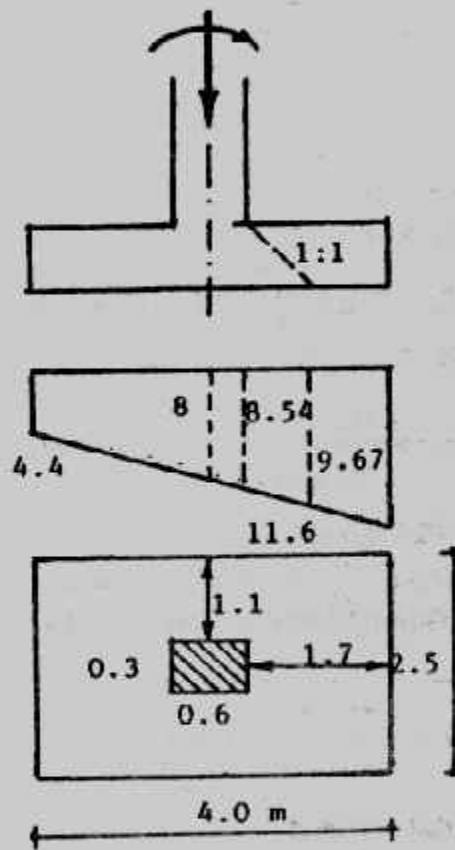
$$e = M/P = 24/80 = 0.3 \text{ m}$$

$$q_2 = \frac{P}{BL} \left(1 \pm \frac{6e}{L}\right)$$

$$q_{\max} = \frac{P}{BL} \left(1 + \frac{6e}{L}\right)$$

$$12 = \frac{80}{BL} \left(1 + \frac{6 \times 0.3}{L}\right)$$

$$B = 6.67 \left(1 + \frac{L \times 1.8}{L^2}\right)$$



شكل (١٩-٤) مثال (٧-٤) أبعاد

By trail and error :

L	B	L.B
2	6.34	12.68
2.5	4.59	11.48
3	3.56	10.68
3.5	2.89	10.12
4	2.42	9.68
4.5	2.08	9.36
5	1.81	9.05

Take  $4 \times 2.5\text{m}$

$$q_1 = \frac{80}{4 \times 2.5} \left( 1 + \frac{6.03}{4} \right) = 11.6 \text{ t/m}^2$$

$$q_2 = \frac{80}{4 \times 2.5} \left( 1 - \frac{6.03}{4} \right) = 4.4 \text{ t/m}^2$$

$q$  at any distance  $x$  from maximum pressure is given by :

$$q = 11.6 - 1.8(x)$$

$$q \text{ at the centre of column} = 11.6 - 1.8 \times 2 = 8 \text{ t/m}^2$$

$$q \text{ at the face of column} = 11.6 - 1.8 \times 1.7 = 8.54 \text{ t/m}^2$$

$$dp = \frac{P - A_c q}{b_o q_o} = \frac{80 - 0.3 \times 0.6 \times 8.54}{2(0.6 + 0.3) \times 100} = 0.436\text{m}$$

Long direction :

$$M_{\max} = 8.54 \times 2.5 \times 107^2/2 + (11.6 - 8.54) \times 2.5 \times \frac{1.07}{2} \times \frac{2}{3} \times 1.7$$

$$= 30.85 + 7.37 = 38.22 \text{ mt}$$

$$d_m = k_1 \sqrt{M/b} = 0.334 \sqrt{38.22 \times 10^5 / 250} = 41.3 \text{ cm}$$

If we take  $b = bc + 20 = 30 + 20 = 50 \text{ cm}$

$$d_m = 0.334 \sqrt{38.22 \times 10^5 / 250} = 92.3 \text{ cm}$$

take  $t = 70 \text{ cm}$  and  $d = 63 \text{ cm}$

$$A_s = \frac{38.22 \times 10^5}{63 \times 1227} = 49.44 \text{ cm}^2$$

take  $18 \phi 19 \text{ L-shape}$ .

Since the moment is reversed the area of steel is placed in both direction, so  $18 \phi 19$  or run through out the length of the footing.

$$\mu = \frac{49.44}{250 \times 63} = 0.0031 > 0.002$$

Check bond stresses

$$Q \text{ at the face of column} = 8.54 \times 2.5 \times 1.7 + (11.6 - 8.54) \times 2.5 \times \frac{1.7}{2}$$

$$= 36.3 + 6.5 = 42.8 \text{ t}$$

$$q_b = \frac{42.8 \times 10^3}{0.87 \times 63 \times 18 \pi \times 1.9} = 7.27 \text{ kg/cm}^2$$

Check shear

$$\text{Critical section of shear at } x = 1.7 - 0.63 = 1.07 \text{ m}$$

$$q \text{ at critical section of shear} = 11.6 - 1.8 \times 1.07 = 9.67 \text{ t/m}$$

$$Q_{sh} = 9.67 \times 2.5 \times 1.07 + (11.6 - 9.67) \times 1.07 \times 2.5 \times \frac{1}{2}$$

$$q_{sl} = \frac{28.45 \times 10^3}{250 \times 63} = 1.81 \text{ kg/cm}^2$$

$$\text{Anchorage length } d_d = \frac{A_s f_s}{\rho q_b} = \frac{2.835 \times 1400}{5.98 \times 10} = 66.4 \text{ cm} < 1.7 \text{ m}$$

$$M = \left( \frac{19.36 \times 10^5}{1227 \times 63} \right) = 25.04 \text{ cm}^2$$

$$\text{min. } A_s = 0.002 \times 400 \times 63 = 50.4 \text{ cm}^2 > 25.8 \quad \text{take } 25 \phi 16$$

check of bond stresses

$$Q_b = 8 \times 4 \times 1.1 = 35.2 \text{ t}$$

$$d = 63 - \frac{1.9}{2} - \frac{1.6}{2} = 61.25 \text{ cm}$$

$$q_b = \frac{35.2 \times 10}{0.87 \times 61.25 \times 25 \pi \times 1.6} = 5.26 \text{ kg/cm}^2$$

$$\text{Anchorage length } d_d = \frac{A_s f_s}{\rho q_b} = \frac{2.01 \times 1400}{5.03 \times 10} = 55.9 \text{ cm} < 1.1 \text{ m}$$

Details of the footing are shown in Fig. (4-20)

#### Example (4-8) :

Design a footing for a concentric column load and a reversible moment. Given data :

$$P = 800 \text{ D} + 800 \text{ L} = 1600 \text{ kN}, M = 800 \text{ kN.m}, q_{na} = 200 \text{ kpa}, f_c = 21 \text{ Mpa}$$

$f_y = 400 \text{ Mpa}$  (use ultimate strength method).

**Solution :**

$$q_{\frac{1}{2}} = \frac{P}{BL} \left( 1 \pm \frac{6e}{L} \right)$$

$$e = M/P = 800 / 1600 = 0.5 \text{ m}$$

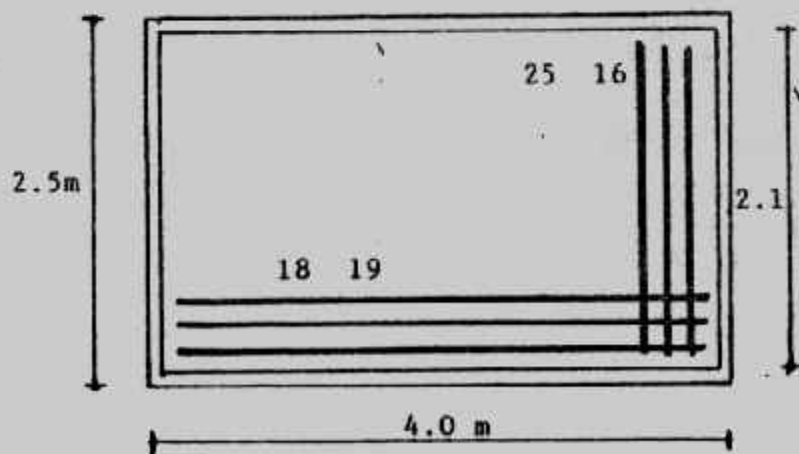
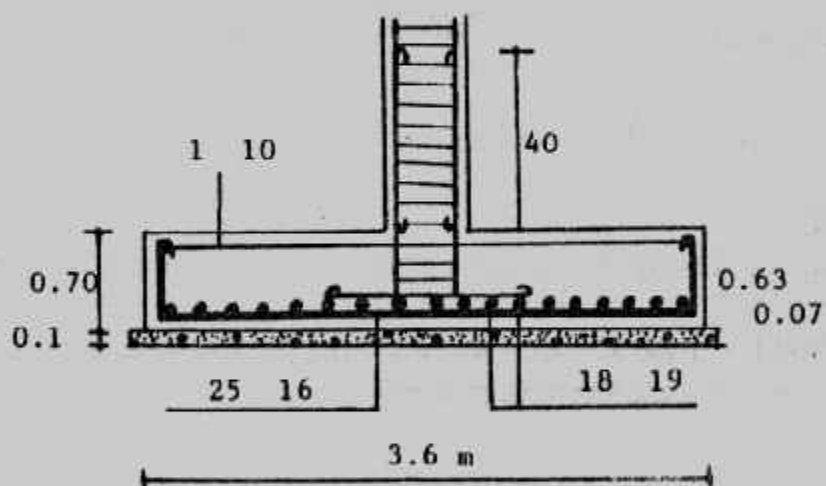
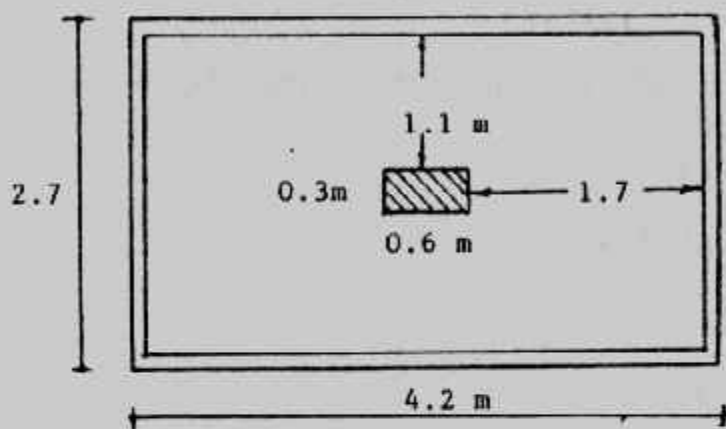
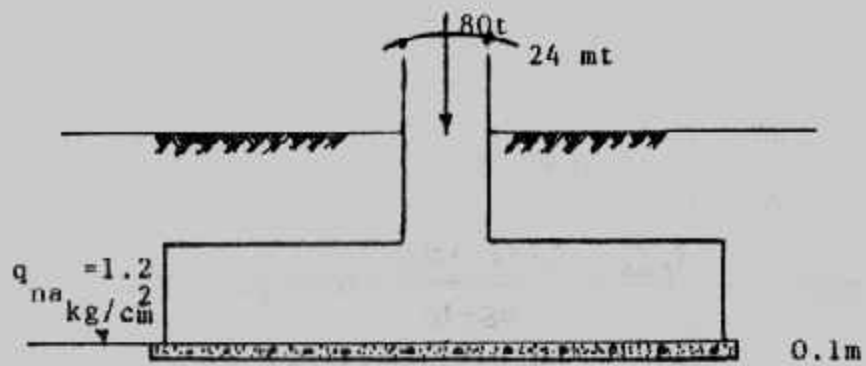
$$200 = \frac{1600}{BL} \left( 1 \pm \frac{6 \times 0.5}{L} \right)$$

by solving for B

$$B = \frac{8}{L} \left( 1 \pm \frac{3}{L} \right)$$

$$\text{for } e \leq \frac{L}{6}, L \text{ must } \geq 3 \text{ m}$$





شکل (۲۰-۴) مثال (۷-۴)

L, m	B, m	L x B, m <sup>2</sup>
3	5.33	16
4	3.5	14

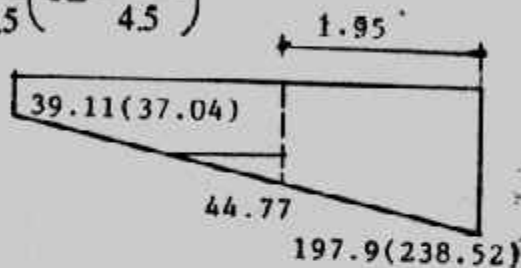
4.5	2.96	13.3
-----	------	------

5	2.56	12
6	2	12

suggested footing size :

B = 3.0 m, L = 4.5 m

$$q_{1/2} = \frac{1600}{3 \times 4.5} \left( 1 \pm \frac{6 \times 0.5}{4.5} \right)$$



$$q_1 = 197.9 \text{ kPa}, q_2 = 39.11 \text{ kPa} < q_n = 200 \text{ kPa}$$

$$P_u = 0.75 (1.4 \times 800 + 1.7 \times 800) = 1860 \text{ kN}$$

$$q_{ult1} = \frac{P_u}{BL} \left( 1 \pm \frac{6e}{L} \right) = \frac{P_u}{BL} \pm \frac{6M_u}{BL^2}$$

$$= \frac{1860}{3 \times 4.5} \pm \frac{6 \times 1020}{3 \times 4.5^2}$$

$$q_{ult1} = 238.52 \text{ kPa}$$

$$q_{ult2} = 37.04 \text{ kPa}$$

Depth for shear (wide - beam action)

$$V_c = 0.17 \phi \sqrt{f_c} = 0.17 \times 0.85 \sqrt{21} = 0.65 \text{ Mpa} = 650 \text{ kPa}$$

$\Sigma F = 0$  on a 1m wide section on right end of footing gives :

$$d (1.0) V_c - \left( \frac{4.5 - 0.6}{2} - d \right) q = 0$$

$$q = \frac{P_u}{BL} \pm \frac{1860}{3 \times 4.5} = 137.78 \text{ kPa}$$

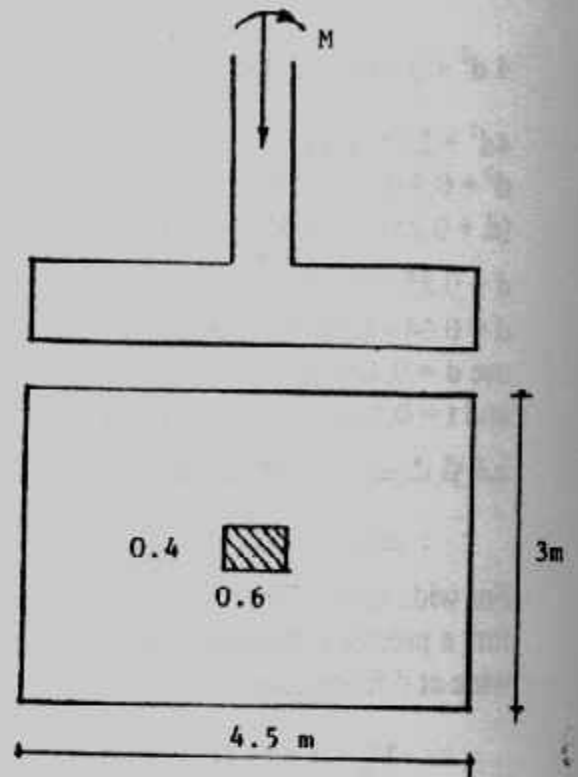
$$650 d - (1.95 - d) 137.78 = 0$$

$$787.78 d = 286.871$$

$$d = 0.36$$

d for two-way action using approximate equation can be found for

$$V_c = 0.34 \phi \sqrt{f_c} = 0.34 \times 0.85 \sqrt{21} = 1.32 \text{ Mpa}$$



شكل (٢١-٤) مثال (٨-٤) أبعاد

(ACI code)



$$A_s^2 - 0.038 A_s + 0.000099 = 0$$

$$A_s = 0.0028 \text{ m}^2/\text{m}$$

$$\begin{aligned} \text{check percent steel } \mu &= \frac{0.0028}{1 \times 0.425} \\ &= 0.0066 > 0.0018 \\ &< 0.016 \end{aligned}$$

$$\text{total steel } A_s = 0.0028 \times 3 = 0.0084 \text{ m}^2 = 84 \text{ cm}^2$$

use 30  $\phi$  19 as a longitudinal reinforcements.

Check development length :

$$L_d = 0.019 A_b f_y / \sqrt{f_c} = 0.019 \times 284 \times 400 \sqrt{21} = 471 \text{ mm}$$

$$\text{also } L_d \geq 0.058 d d f_y = 0.058 \times 19 \times 400 = 440.8 \text{ mm}$$

$$L_{d \text{ actual}} = C - \text{cover} = 1950 - 75 = 1875 \text{ mm} > 471 \text{ mm}$$

Short direction :

Assuming short bars also  $\phi$  19 mm

$$d' = 0.425 - 0.019 = 0.406 \text{ m}$$

$$C_2 = \frac{3 - 0.4}{2} = 1.3 \text{ m}$$

$$q_{\text{average}} = \frac{238.52 + 37.04}{2} = 137.78 \text{ kpa}$$

$$M_u = \frac{137.78 \times 1.3^2}{2} = 116.42 \text{ kN.m}$$

$$a = \text{same as before} = 22.41$$

$$M_u = \phi A_s f_y (d - a/2)$$

$$0.1164 = 0.9 A_s \times 400 (0.406 - \frac{22.41}{2} A_s)$$

Cleaning up, we obtain

$$A_s^2 - 0.036 A_s + 0.00029 = 0$$

$$A_s = 0.00082 \text{ m}^2/\text{m}$$

$$\text{Check percent steel : } \mu = \frac{0.00082}{1 \times 0.406} = 0.002 > 0.0018$$

$$< 0.016$$

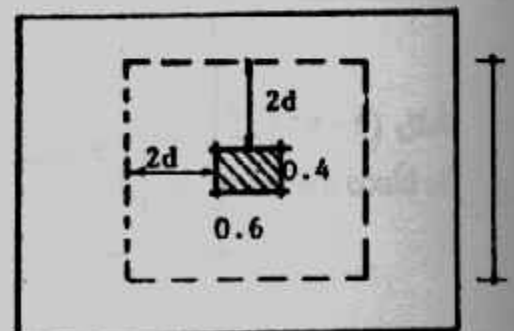
$$A_s \text{ total} = 0.002 \times 4.5 = 0.009 \text{ m}^2 = 90 \text{ cm}^2$$

use 32  $\phi$  19

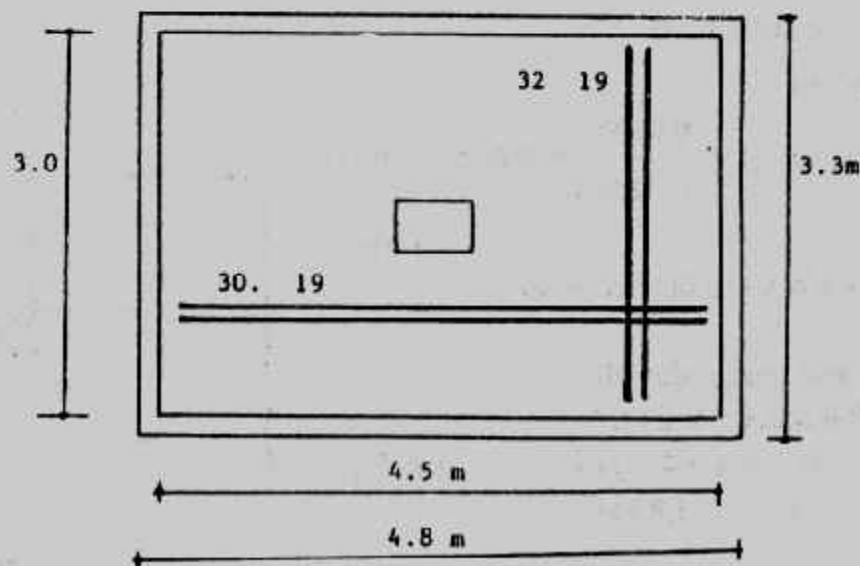
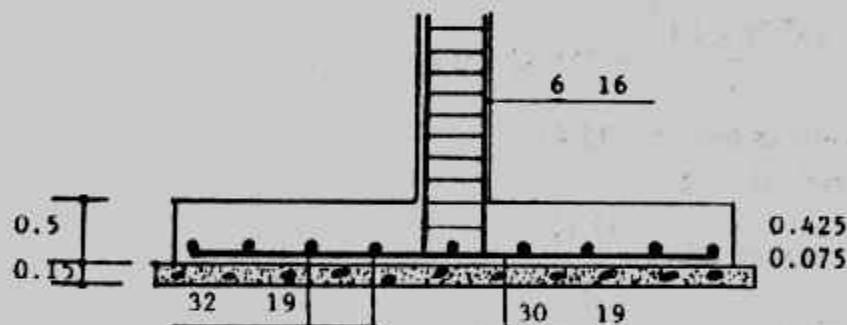
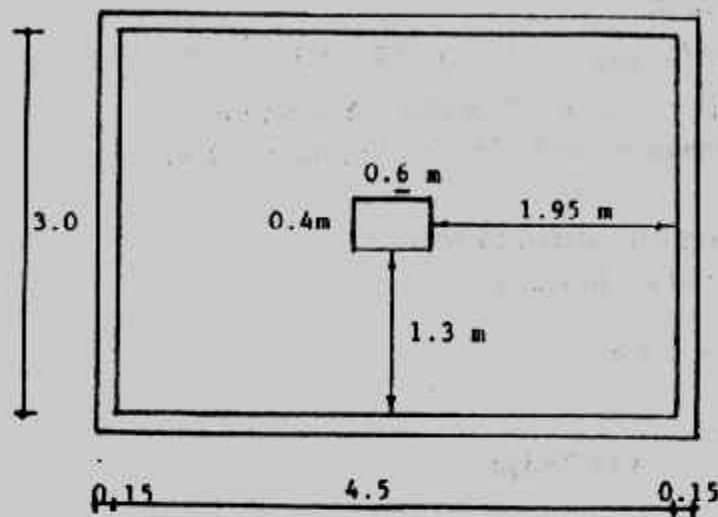
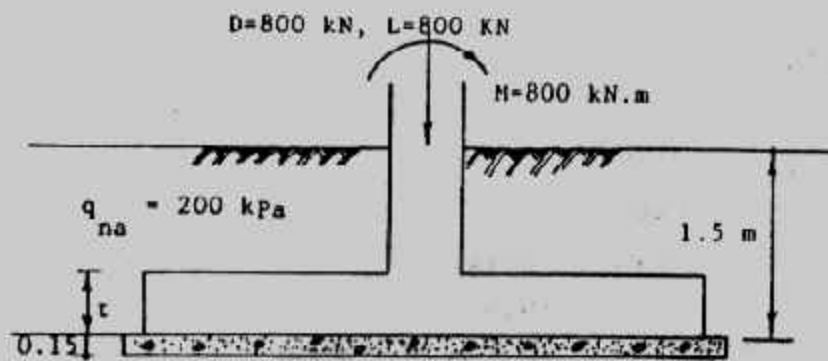
Check bearing and design dowels

$$A_1 = 0.6 \times 0.4 = 0.24 \text{ m}^2$$

$$\begin{aligned} A_1 &= [(0.6 + 4 \times 0.425) (0.4 + 4 \times 0.425)] \\ &= 2.3 \times 2.1 = 4.83 \text{ m}^2 \end{aligned}$$



شكل (٢٣-٤) التحمل



شكل (٢٤-٤) مثال (٨-٤) تفاصيل الخرسانة والحديد

$$\sqrt{\frac{A_2}{A_1}} = \sqrt{\frac{4.83}{0.24}} = 4.49 \gg 2$$

use  $\sqrt{\frac{A_2}{A_1}} = 2$  and  $\phi = 0.7$

$$\begin{aligned} \text{design bearing strength} &= 0.85 \phi f_c A_1 \sqrt{\frac{A_2}{A_1}} \\ &= 0.85 \times 0.7 \times 21 \times 0.24 \times 2 \\ &= 5.998 \text{ MN} = 5998 \text{ kN} > P_u = 1860 \text{ kN} \end{aligned}$$

A minimum area of dowels should be used across the interface of the column and foundation:

$$\text{Minimum area of dowels} = 0.005 A_1 = 0.005 \times 0.24 = 12 \text{ cm}^2$$

so, use 6  $\phi 16$

The final design section is shown in Fig. (4-24)

#### Example (4-9):

Design a footing for a column 40 x 60 carrying a load  $D = 400 \text{ kN}$ ,  $L = 500 \text{ kN}$  and a permanent of  $M_D = 130 \text{ kN.m}$ ,  $M_L = 140 \text{ kN.m}$  in plane parallel to the longer side of column and it always acting in one direction. The net allowable soil pressure is 150 kpa. Use ultimate strength design (USD) and take:

Column:  $f_c = 28 \text{ Mpa}$ ,  $f_y = 400 \text{ Mpa}$ , steel 8  $\phi 25$

Footing:  $f_c = 21 \text{ Mpa}$ ,  $f_y = 400 \text{ Mpa}$

Solution:  $P = 400 + 500 = 900 \text{ kN}$

$$A = 900/150 = 6 \text{ m}^2$$

take  $L/B = 60/40 = 1.5$

$$A = 6 = 1.5 B \times B = 1.5 B^2$$

$$B = 2 \text{ m}, L = 3 \text{ m}$$

$$M = M_D + M_L = 130 + 140 = 270 \text{ kN.m}$$

$$e = M/P = 270/900 = 0.3 \text{ m} < L/6 = 3/6 = 0.5 \text{ m}$$

$$q = 1.4 (400) + 1.7 (500)/2 \times 6 = 235 \text{ kPa}$$

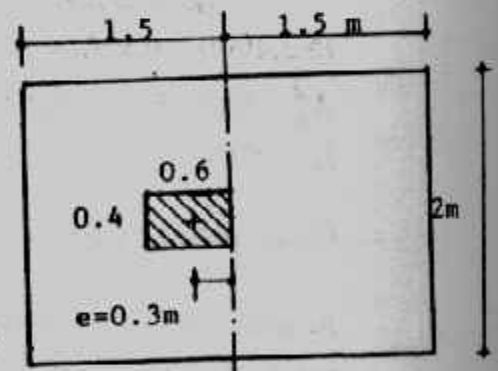
Depth for two-way (use approximate equation)

$$4d^2 + 2(b+c)d = BLq/V_c, \quad V_c = 1.30 \text{ Mpa}$$

$$4d^2 + 2(0.6 + 0.4)d = 1410/1300$$

$$d^2 + 0.5d = 0.271$$

$$d = 0.33 \text{ m}$$



شكل (٢٥-٤) مثال (٩-٤) أبعاد

Depth for wide-beam shear at  $d$  from column for strip 1m wide. We could of course, check  $d = 0.33 \text{ m}$ , but it is about as easy to compute the required  $d$ :

$$d(1)(V_c) = 1(1.5 - d)q$$

$$V_c = 0.65 \text{ Mpa} = 650 \text{ kPa}$$

$$650d = 1(1.5 - d)235$$

$$d = 0.398 \text{ m}$$

take  $t = 50 \text{ cm}$ ,  $d_{act} = 0.425 \text{ m}$



$$M_u = q l^2 / 8 = 235 \times 1.5^2 / 8 = 263.4 \text{ kN m}$$

$$a = A_s f_y / 0.85 f_c B = 400 A_s / 0.85 \times 21 \times 2 = 11.2 A_s$$

$$M_u = \phi A_s f_y (d - a/2)$$

$$263.4 / 1000 = 0.9 A_s \times 400 [0.425 - (11.2 A_s / 2)]$$

Cleaning up, we obtain

$$A_s^2 - 0.076 A_s + 0.00013 = 0$$

$$A_s = 0.0018 \text{ m}^2/\text{m}$$

$$\text{Check percent steel } \mu = \frac{0.0018}{1 \times 0.425} = 0.0042 > 0.0018$$

$$\text{total steel } A_s = 0.0025 \times 2 = 0.005 \text{ m}^2 < 0.016$$

$$= 50 \text{ cm}^2$$

use 18  $\phi$  19 as a longitudinal reinforcement check development length

$$L_d = 0.019 A_b f_y / \sqrt{f_c} = 0.019 \times 284 \times 400 / \sqrt{21} = 471 \text{ mm}$$

$$\text{also } L_d \geq 0.058 d_b f_y = 0.058 \times 19 \times 400 = 440.8 \text{ mm}$$

$$L_{d \text{ actual}} = c - \text{cover} = 1500 - 75 = 1425 > 471$$

**Short direction :**

Assuming short bars also  $\phi$  19 mm

$$d' = 0.425 - 0.019 = 0.406 \text{ m}$$

$$c_2 = \frac{2 - 0.4}{2} = 0.8 \text{ m}$$

$$M_u = 235 \times 0.8^2 / 2 = 75.2 \text{ kN.m}$$

$$a = \text{same as before} = 11.2 A_s$$

$$M_u = \phi A_s f_y (d - a/2)$$

$$75.2 / 1000 = 0.9 A_s \times 400 (0.406 - 11.2 A_s / 2)$$

$$A_s^2 - 0.0725 A_s + 0.000037 = 0$$

$$A_s = 0.001 \text{ m}^2/\text{m}$$

$$\text{Check percent steel } \mu = \frac{0.001}{1 \times 0.406} \approx 0.0025 < 0.0018$$

$$A_s \text{ total} = 0.001 \times 3 = 0.003 \text{ m}^2 = 30 \text{ cm}^2$$

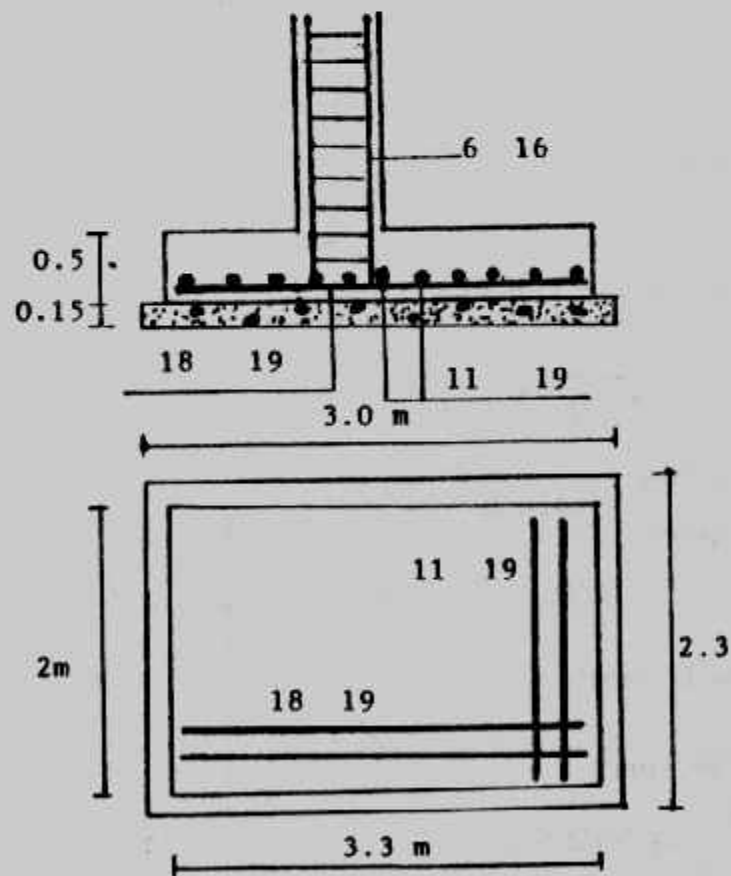
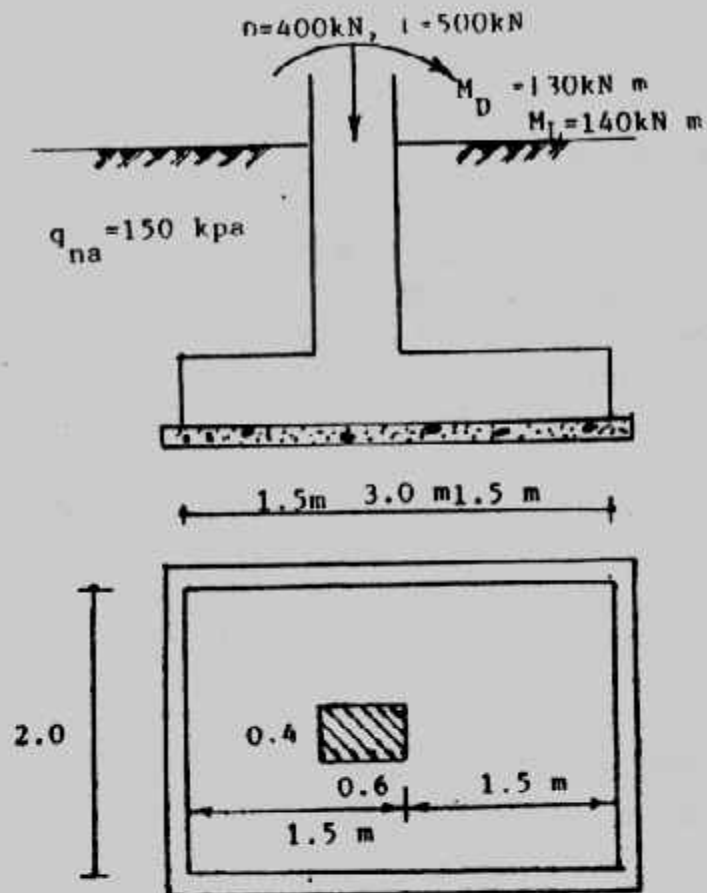
use 11  $\phi$  19 or 15  $\phi$  16

check bearing and design dowels

$$A_1 = 0.6 \times 0.4 = 0.24 \text{ m}^2$$

$$A_2 = (0.6 + 4 \times 0.425) (0.4 + 4 \times 0.425) = 4.83 \text{ m}^2$$

$$\sqrt{\frac{A_2}{A_1}} = \sqrt{\frac{4.83}{0.24}} = 4.49 > 2$$



شكل (٢٦-٤) مثال (٩-٤) تفاصيل الخرسانة والحديد

so use  $\sqrt{\frac{A_2}{A_1}} = 2$  and  $\phi = 0.7$

$$\begin{aligned} \text{design bearing strength} &= 0.85 \phi f_c A_1 \sqrt{\frac{A_2}{A_1}} \\ &= 0.85 \times 0.7 \times 21 \times 0.24 \times 2 \\ &= 5.998 \text{ MN} = 5998 \text{ kN} \end{aligned}$$

the factored column load  $U = 1.4 (400) + 1.7 (500)$   
 $= 1410 \text{ kN} < 5998 \text{ kN}$

A minimum area of dowels should be used across the interface of the column and foundation.

$$\begin{aligned} \text{Minimum area of steel} &= 0.005 A_1 \\ &= 0.005 \times 0.24 = 12 \text{ cm}^2 \end{aligned}$$

So use  $6 \phi 16$

The final design section is shown in Fig. (4-26).

#### Example (4-10):

Redesign example by using the working stress method take :

$$f_c = 550 \text{ kN/m}^2 \text{ (} f_{cu} = 2500 \text{ kN/m}^2 \text{), } f_s = 140 \text{ MN/m}^2, q_s = 90 \text{ kN/m}^2$$

Solution :

$$e = M/P = 270 / 900 = 0.3 \text{ m}$$

$$A = 900 / 50 = 6 \text{ m}^2$$

$$\text{take } \frac{L}{B} = \frac{60}{40} = 1.5 \text{ m}$$

$$q = \frac{900}{3 \times 2} = 150 \text{ kN/m}^2$$

Long direction

$$M_{yy} = 150 \times 2 \times 1.5^2 / 2 = 337.5 \text{ kN.m}$$

$$\begin{aligned} d_m &= k_1 \sqrt{M / b} \\ &= 0.334 \sqrt{337.5 \times 10^4 / 200} = 43.4 \text{ cm} \end{aligned}$$

$$d_p = \frac{900 - 200 \times 0.6 \times 0.4}{2(0.4 + 0.6) 1000} = 0.426 \text{ m} = 42.6 \text{ cm}$$

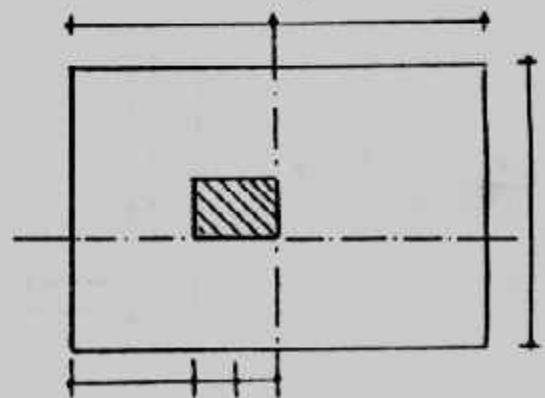
Take  $d = 55 \text{ cm}$  and  $t = 48 \text{ cm}$

$$A_s = \frac{337.5 \times 10^4}{1227 \times 48} = 57.3 \text{ cm}^2$$

take  $21 \phi 19 \text{ mm (} 59.5 \text{ cm}^2 \text{)}$

$$\mu = \frac{A_s}{bd} = \frac{59.5}{200 \times 55} = 0.0054 > 0.002$$

check of bond stress



شكل (٢٧-٤) مثال (١٠-٤) أبعاد

$$Q = 150 \times 2 \times 1.5 = 450 \text{ kN}$$

$$q_b = \frac{450}{0.87 \times 0.48 \times 21 \pi \times 0.019} = 860 \text{ kN/m}^2$$

use L - shape reinforcement

$$\text{Anchorage length } d_d = A_s f_s / \rho q_b = \frac{0.02835 \times 140000}{0.0598 \times 1000} = 66.4 \text{ cm} < 90 \text{ cm}$$

Steel in short direction

$$M_x = 150 \times 3 \times 0.8^2 / 2 = 96 \text{ kN/m}^2$$

$$A_s = \frac{96 \times 10^4}{1227 \times 48} = 16.3 \text{ cm}^2$$

$$A_{s \text{ min}} = 0.002 \times 300 \times 55 = 33 \text{ cm}^2$$

use 17  $\phi$  16

Check of bond

$$Q = 150 \times 3 \times 0.8 = 360 \text{ kN}$$

$$q_b = \frac{360}{0.87 \times 0.48 \times 17 \pi \times 0.016} = 1008.8 \text{ kN/m}^2$$

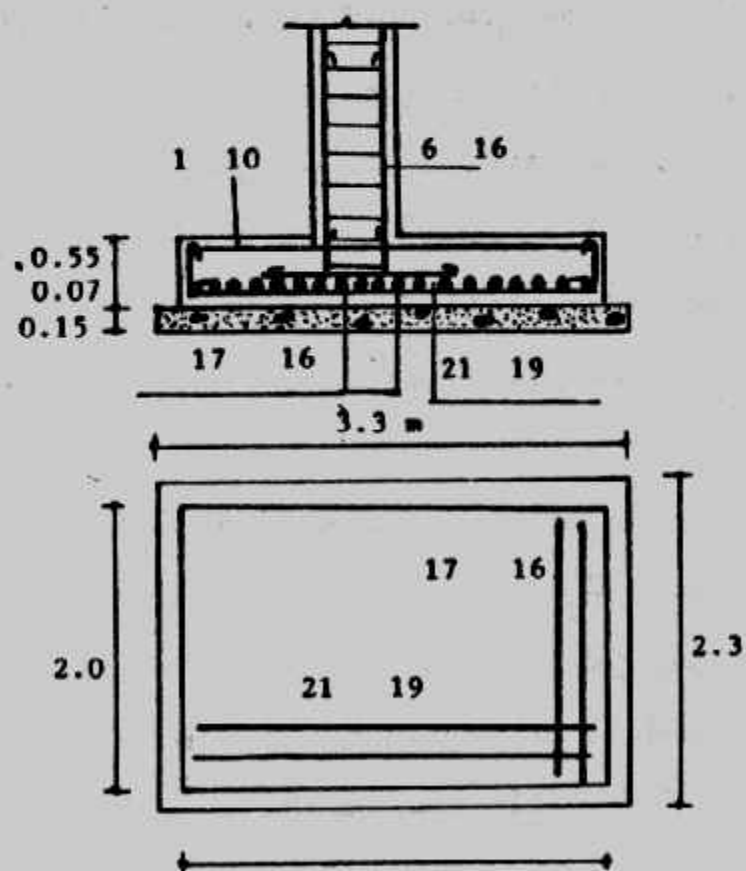
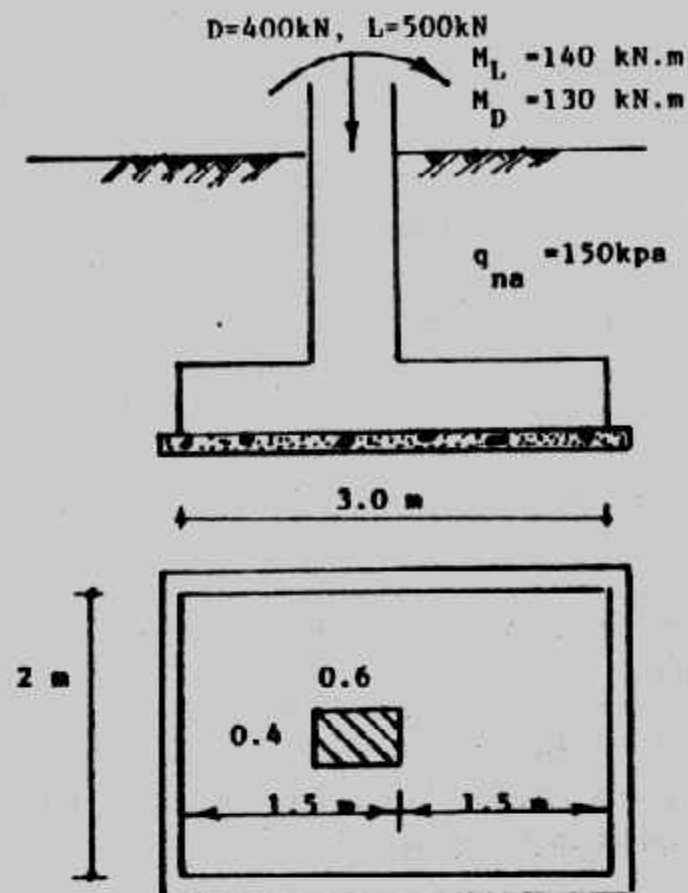
$$d_d = A_s f_s / \rho q_b = 2.01 \times 140000 / 5.03 \times 1000 = 55.9 \text{ cm} < 80 \text{ cm}$$

Details of the footing are shown in Fig. (4-28).

### السملات والميد الرابطة : Semelles and Tie-beams

لا يجوز بناء حوائط الدور الأرضي على التربة مباشرة تجنباً لهبوطها أو تصدعها أو تشريحها ولذا تنفذ كممرات لحملها تسمى السملات. كما تتقل هذه السملات أحمال الحوائط إلى الأعمدة أو القواعد. وهذه السملات قد تنفذ بين الأعمدة شكل (٤-٢٩ أ) أو فوق القواعد مباشرة شكل (٤-٢٩ ب) أو في نفس منسوب القواعد شكل (٤-٢٩ ج). وعادة تكون السملات على عمق لا يقل عن ٢٠ سم أسفل منسوب سطح الأرض وتكون بعرض أكبر من عرض الحائط الذي تحمله بقيمة ٥ سم.

وتصمم السملات كالكمرات العادية تحت أحمال الحوائط فوقها أو الأتربة إن وجدت حيث يؤخذ مثلث من حمل الحائط يعميل بزاوية ٦٠° إذا كان ارتفاع الحائط كبيراً شكل (٤-٣٠ أ) أو شبه منحرف كما في شكل (٤-٣٠ ب) وذلك على اعتبار تكون عقد arch داخل الحائط ينقل جزء من الحائط إلى الأعمدة مباشرة بالاحتكاك والجزء الآخر ينقل للسمل مباشرة. أما في حالة وجود باب أو شباك في الحائط أو في حالة عدم ضمان التصاق جوانب الحائط بالأعمدة فيؤخذ وزن الحائط بالكامل على السمل بالإضافة إلى وزن السمل نفسه.

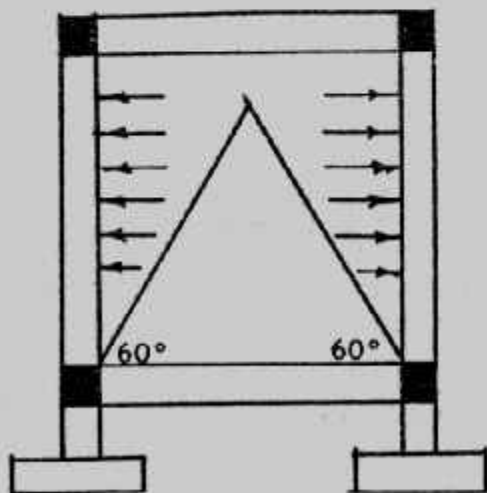
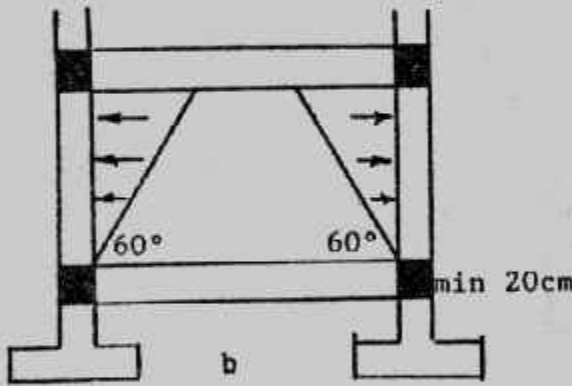


شکل (۲۸-۴) : تفصیل مثال (۱۰-۴)

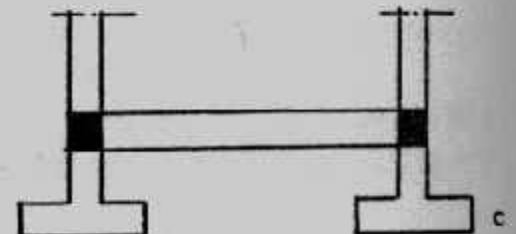
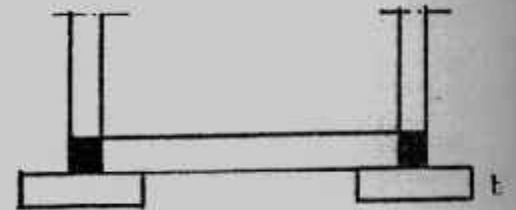
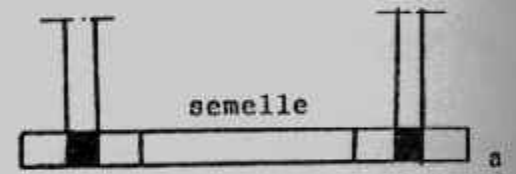
أما إذا كان السمل لا يحمل حائط فيصمم على منشور تربة الردم فوقه والتي تأخذ شكل منشور تميل جوانبه بنسبة ٢ : ١ شكل (٤-٣١) ويفضل أن تصمم السمات على أنها بسيطة الارتكاز وتسليح على أنها كميرات مستمرة تسليح بحديد علوى مساو للحديد السفلى (المحسوب) أو نصفه.

ويجب ألا تتفد السمات على التربة مباشرة بل توضع خرسانة عادية بسمك ١٠-١٥ سم تحت السمات. وتكون خرسانة السمات من نفس خرسانة القواعد وباجهاداتها. ويجب ملاحظة الفرق بين السمات والكميرات الرابطة التي تستخدم لربط القواعد المنفصلة والتي تكون ذات جساءة عالية (العمق لا يقل عن ١ : ٨ البحر) لتقاوم الاجهادات الناتجة عن تحركات هذه القواعد أو دورانها أو الهبوط المتفاوت. وهذه الكميرات تصمم بحيث تقاوم هذه الاجهادات. وتفيد الكميرات الرابطة في أنها تجعل القواعد المنفصلة تعمل معا كوحدة واحدة في تحركها. وعند استخدام الميد الرابطة يمكن الاستغناء عن السمات إذا كانت هذه الميد قريبة من سطح الأرض.

كما يجب ملاحظة الفرق بين السمات والكميرات الرابطة والشدادات التي تربط قواعد الجار بالقواعد الداخلية وتكون الشدادات جزءا أصليا من نظام التأسيس. وسوف تقدم تفاصيل الكميرات الرابطة والشدادات في الأبواب القادمة.

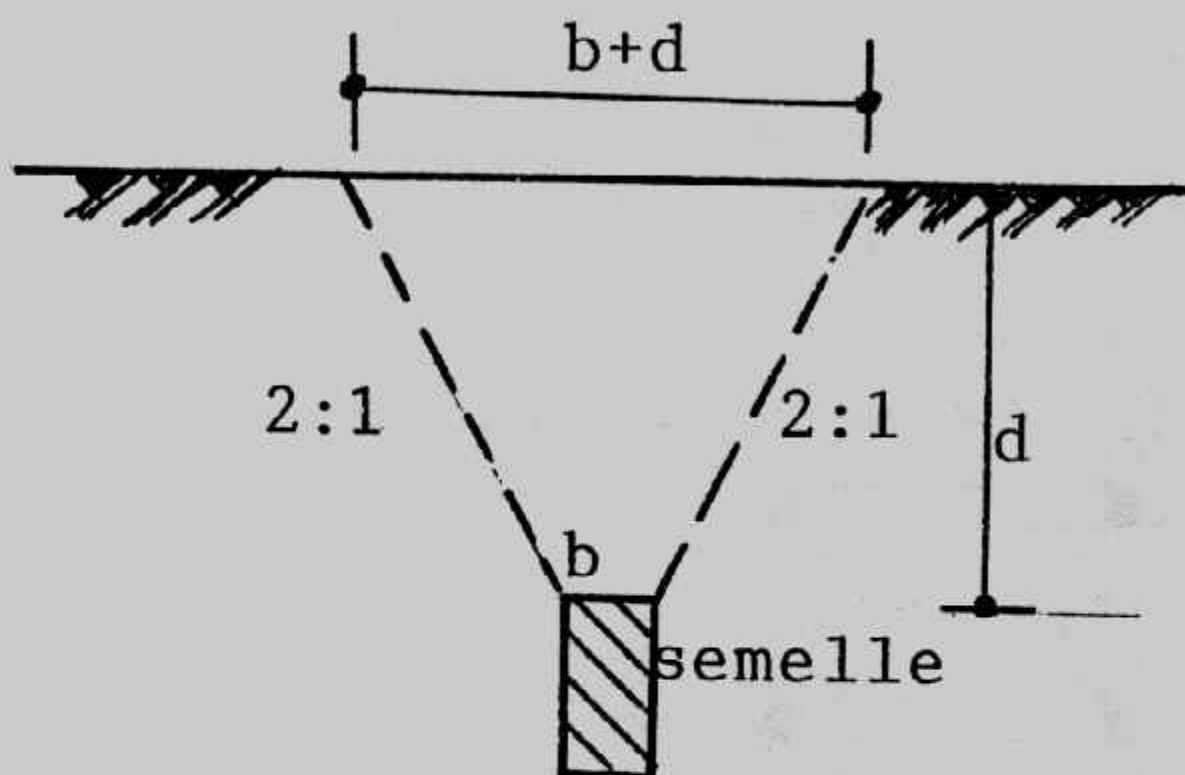


شكل (٤-٣٠) : أحمال السمات.



شكل (٤-٢٩) : أوضاع السمات.





شکل (۴-۳۱) : سمات فوقها ردم .

## الباب الخامس

### تصميم الأساسات الشريطية

### Design of Strip Foundations

#### أنواع الأساسات الشريطية :

الأساسات الشريطية هي بلاطة مستمرة من الخرسانة المسلحة أسفل حائط خرساني أو حجر أو طوب أو لأعمدة واقعة على صف واحد خاصة إذا كانت أحمال هذه الأعمدة متقاربة والبحور بينها متقاربة. ووظيفة الأساسات الشريطية توزيع أحمال الحوائط أو الأعمدة إلى التربة بحيث لا تتعدى الإجهادات المنقولة إلى منسوب التأسيس قدرة تحمل التربة المسموح بها. ويبين شكل (١-٥) أنواع الأساسات الشريطية المختلفة.

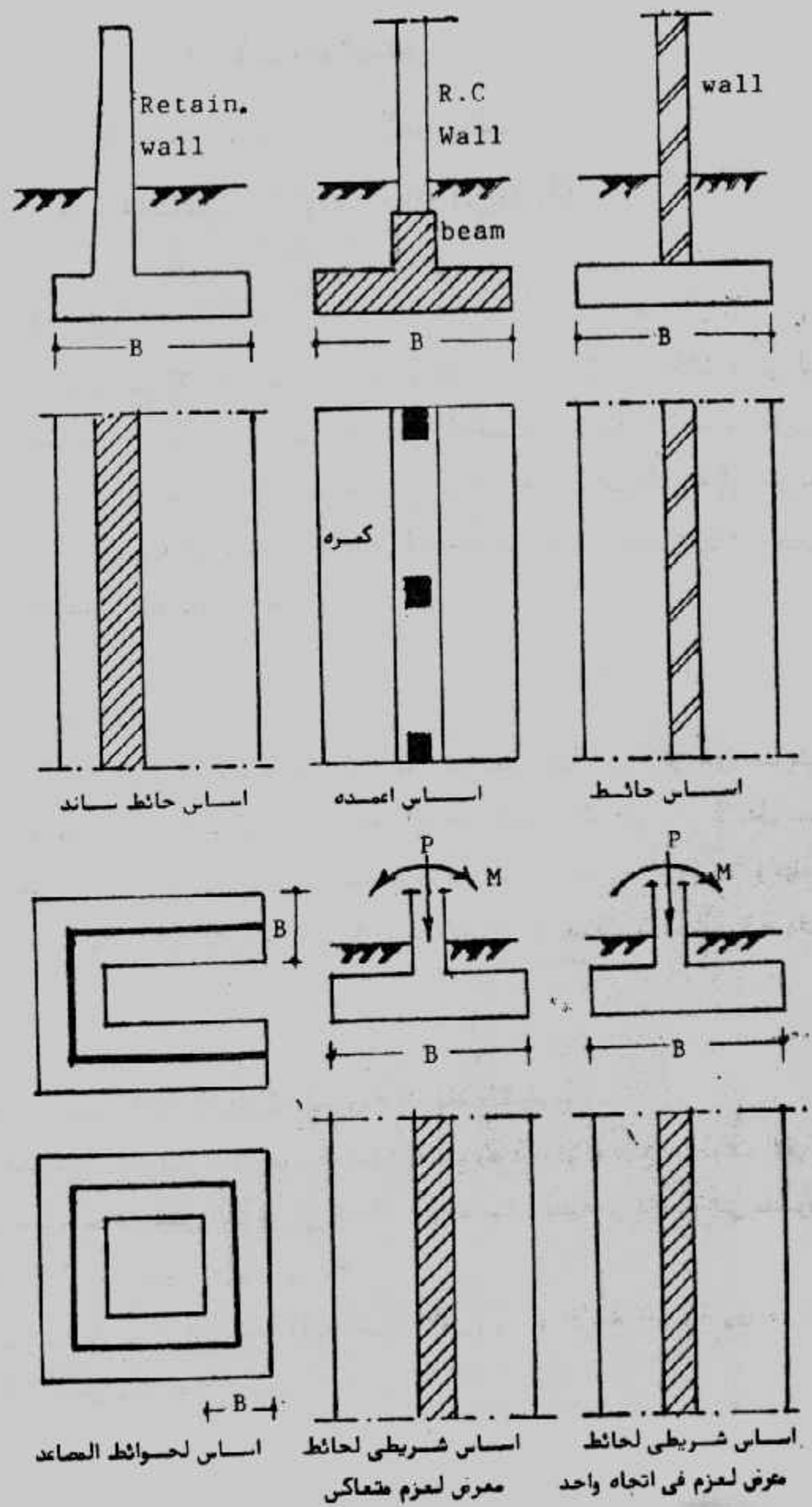
#### الأساسات الشريطية للحوائط :

أساسات الحوائط تكون بلاطة خرسانية مسلحة شريطية بعرض أكبر من عرض الحائط. وتأخذ هذه الأساسات عدة أشكال، شكل (٢-٥) وقد تكون بلاطة بسمك لا يقل عن ٢٥ سم للأحمال الصغيرة في التربة المنتظمة أو حينما تكون قدرة تحمل التربة جيدة (a) وحينما تكون التربة غير منتظمة يستخدم الشكل المبين في (b) أما الأشكال e, d فتستخدم للحوائط ذات الأحمال الثقيلة.

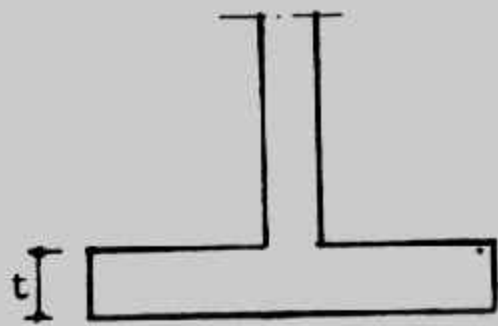
#### تصميم الأساسات الشريطية للحوائط بطريقة المرونة (اجهاد التشغيل) :

عند تصميم الأساسات الشريطية بطريقة المرونة (اجهاد التشغيل) تتبع الخطوات الآتية:

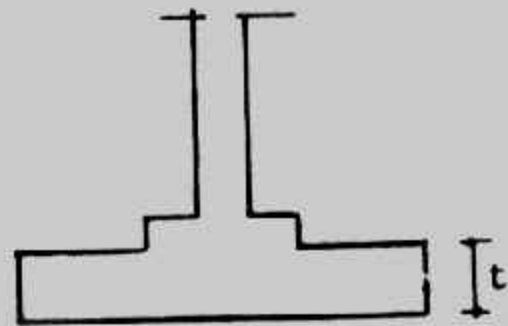
- ١- حساب أقصى حمل متوقع للمتر الطولي في الحائط من الأحمال الحية والدائمة إلى منسوب سطح الأرض  $P$  أو إلى منسوب التأسيس  $P_T$ .
- ٢- الحصول على قدرة تحمل التربة الآمنة (جهد التربة الآمن)  $q_a$  أو الآمنة الصافية  $q_m$ .
- ٣- حساب مساحة الأساس وعرضه



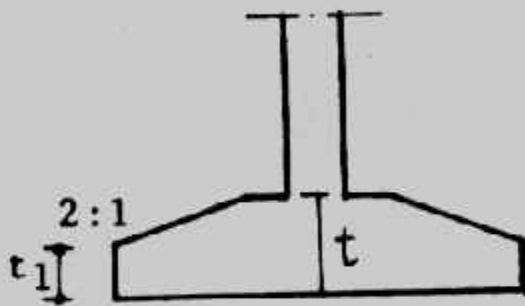
شكل (١-٥) أنواع الأساسات الشريطية



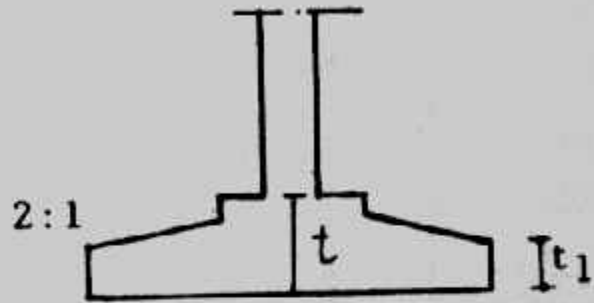
( a )  $t_{min} = 25 \text{ cm}$



( b )  $t_{min} = 30 \text{ cm}$



( c )  $t_{min} = 20 \text{ cm}$



( d )  $t_{min} = 20 \text{ cm}$

شكل (٢-٥) : أشكال أساسات الحوائط.

$$A = \frac{P}{q_{na}} \text{ or } \frac{P}{q_a - D\gamma_a} \text{ or } P_T / q_a$$

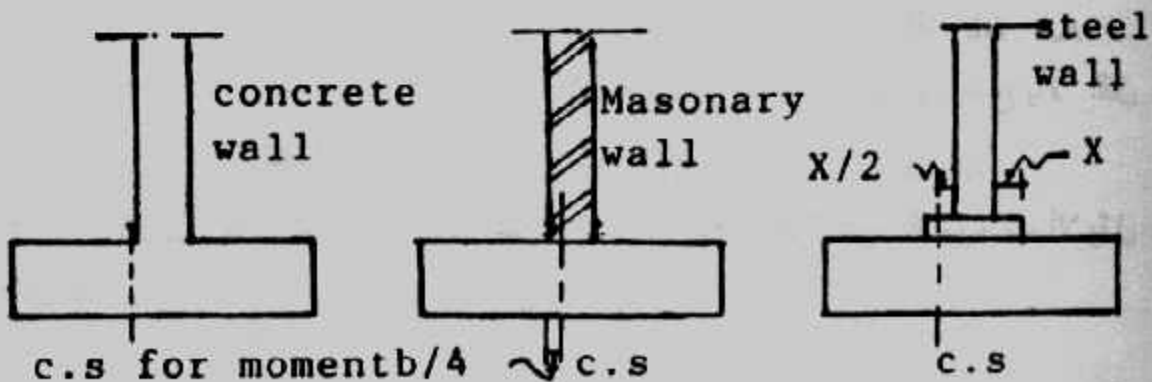
$$B = \frac{A}{l}$$

وتقرب B لأقرب ٥ سم

٤- تحسب الرفرفة C من :  $C = \frac{B-b}{2}$  حيث b عرض الحائط.

٥- حساب جهد التربة الفعلى اللازم للتصميم q :  $q = \frac{P}{A} = \frac{P}{B \times l}$

٦- تحديد المقطع الحرج لعزم الانحناء كما هو مبين بالشكل (٣-٥) :



شكل (٣-٥) المقطع الحرج لعزم الانحناء

ثم يحسب عزم الانحناء من :

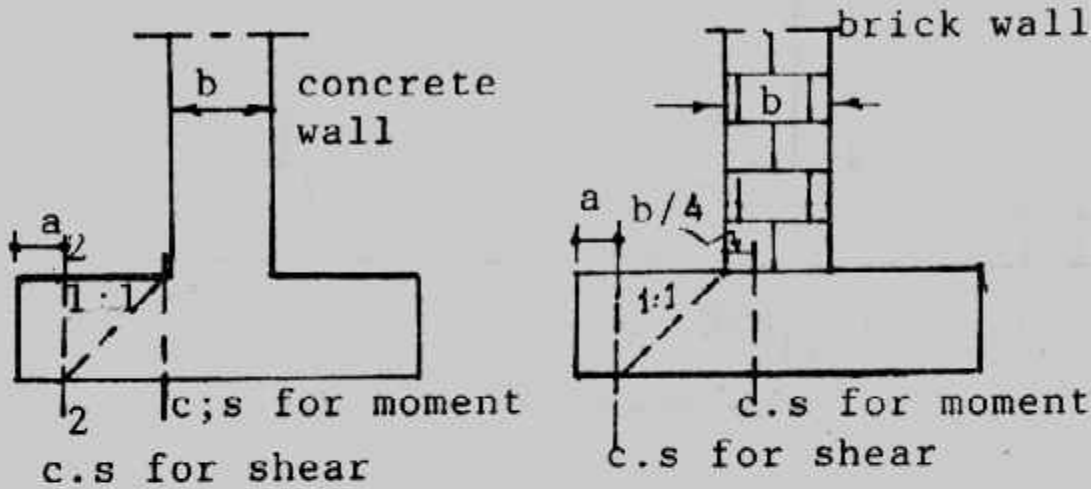
$$M_{\max} = q C^2 / 2 = q (B - b)^2 / 2 \text{ (for concrete wall)}$$

٧- تعيين عمق الأساس d المقاوم للعزم :

$$d_m = k_1 \sqrt{M_{\max} / b}$$

$$b = 100 \text{ cm}$$

٨- تحديد المقطع الحرج للقص كما هو مبين بالشكل (٤-٥) .



شكل (٤-٥) المقطع الحرج للقص .

ثم تحسب قوى القص  $Q_{sh}$  من :

$$Q_{sh} = a \times 1 \times q = [(B - b)/2 - d] q$$

ثم يحسب عمق الأساس المقاوم للقص :

$$b = 100 \text{ cm}$$

$$d_{sh} = Q_{sh} / b \cdot q_{sh}$$

٩- يتم اختيار العمق الأكبر  $d_{sh}$  or  $d_m$

١٠- تعيين تخانة الأساس t حيث :  $t = d + \text{cover}$

حيث يؤخذ الغطاء الخرساني cover من ٥ إلى ٧ سم ويفضل ٧ سم .

١١- تعيين حديد التسليح من :

$$A_s = M / k_2 d$$

١٢- التأكد من أن الحديد المطلوب لا يقل عن النسبة الأدنى لحديد التسليح وننصح بالآلا تقل عن

٠,٠٠٢ من مساحة القطاع الأساسي .

١٣- الحديد الثانوي  $A_s$  يؤخذ كنسبة ٢٠ إلى ٣٠٪ من الحديد الرئيسي  $A_s$  ويجب ألا يقل عن

$$4 \phi 13 \text{ مم} / \text{م}$$

١٤- التأكد من اجهادات التماسك bond في حدود المسموح به • وتحسب اجهادات التماسك  $q_b$  من :

$$q_b = \frac{Q_t}{0.87 d \Sigma o} > q_b \text{ allowable}$$

حيث  $Q_b$  هي القوة المسببة للوزوم عند المقطع الخرج للعزم،  $\Sigma o$  هي محيط أسياخ حديد التسليح عند المقطع الخرج • ويجب ألا تقل أقطار الحديد عن ١٣ مم • ولمنع الشروخ الناتجة عن الهبوط أسفل الحائط نفسه فإنه يمكن استخدام حديد تسليح إضافي في الأساسات أشكال d,c في شكل (٥-٢) بنسبة ١٪ من مساحة المقطع تحت الحائط وتوزع بالتساوي علوى وسفلى •

١٥- التأكد من كفاية طول الأساير بين الحائط والأساس •

### Example (5-1):

A 25 cm concrete wall supports a net load of 50 t/m the depth of the footing below ground level is 1.5 m. The net allowable pressure is 1.5 kg/cm<sup>2</sup> Design R.C. footing for this wall, using  $f_c = 50$  kg/cm<sup>2</sup>,  $f_s = 1400$  kg/cm<sup>2</sup>,  $q_{sh} = 6$  kg/cm<sup>2</sup>. Use plain concrete equals 20 cm.

**Solution :**  $A = \frac{P_{net}}{q_{ns}} = \frac{50}{1.5} = 3.33 \text{ m}^2$

$$B = 3.33/1 = 3.33 \text{ m}$$

$$B_{act} = 3.35 \text{ m}$$

net stress  $q = 50/3.35 = 14.9 \text{ t/m}^2$

$$c = (B - b)/2 = (3.35 - 0.25)/2 = 1.55 \text{ m}$$

$$M_{max} = qc^2/2 = 14.9 \times 1.55^2/2 = 17.9 \text{ mt/m}$$

$$d_m = k_1 \sqrt{\frac{M}{B}} = 0.361 \sqrt{\frac{17.9 \times 10^5}{100}} = 48.3 \text{ cm}$$

$$Q_{sh} = (1.55 - d_{sh}) 14.9$$

$$d_{sh} = Q_{sh} / b \times q_s = \frac{(1.55 - d_{sh}) 14.9}{1 \times 50}$$

$$\therefore d_{sh} = 0.34 \text{ m}$$

take  $t = 60 \text{ cm}$

$$d_{act} = 60 - 7.5 = 52.5 \text{ cm.}$$

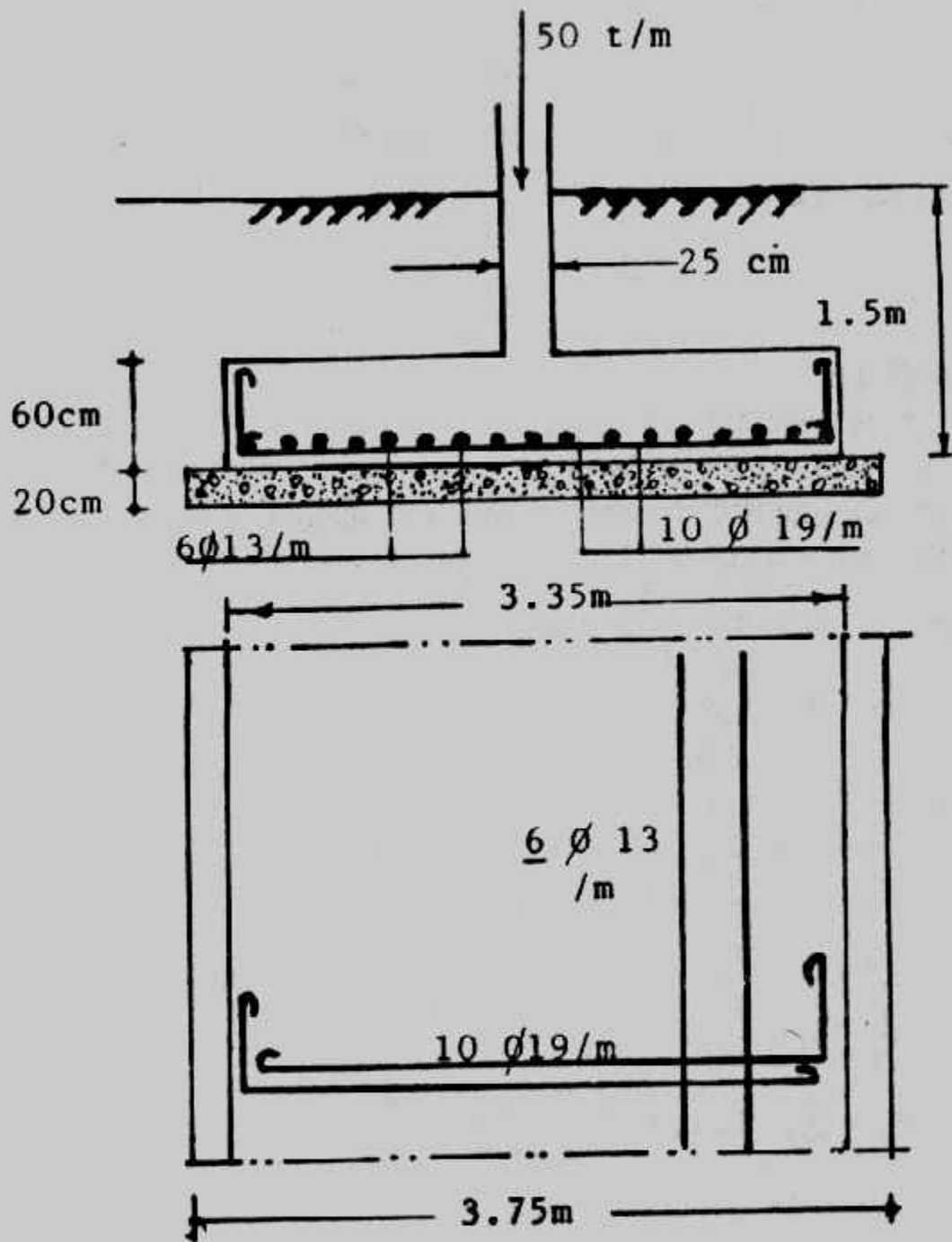
$$A_s = M/k_2. d_{act} = 17.9 \times 10^5 / 1237 \times 52.5 = 27.6 \text{ cm}^2$$

take  $10 \phi 19/\text{m}$  (28.4 cm<sup>2</sup>)

$$A_s/A_c = 28.4/100 \times 52.5 = 0.0054 > 0.002$$

$$A_s = 0.25 \times 28.4 = 7.1 \text{ cm}^2$$





شکل (۵-۵) : مثال (۱-۵) تفصیل.

take  $6 \phi 13/\text{m}$

$$Q_b = 14.9 \times 1.55 \times 1 = 23.1$$

$$q_b = \frac{23.1 \times 1000}{0.87 \times 52.5 \times 10 \times 5.98} = 8.46 \text{ kgk/cm}^2$$

take L-shape reinforcements

$$d_d = \frac{A_s f_s}{\rho q_b} = \frac{2.835 \times 1400}{5.98 \times 10} = 0.66 \text{ m} < C$$

Details of the footing are shown in Fig. (5-5).

### Example (5-2):

Redesign the footing required in example 5-1 using 50cm plain concrete.

**Solution :**

$$A_{pc} = 50/15 = 3.33 \text{ m}^2$$

For plain concrete :  $B_{act} = 3.35 \text{ m}$

$$C_{pc} = t \sqrt{\frac{q_t}{4q}} = 50 \sqrt{\frac{4}{3 \times 1.5}} = 47.14 \text{ cm}$$

take  $C_{pc} = 45 \text{ cm}$

$$B_{RC} = 3.35 - 2 \times 0.45 = 2.45 \text{ m}$$

$$C = \frac{2.45 - 0.25}{2} = 1.1 \text{ m}$$

net stress  $q = 50/2.45 = 20.41 \text{ t/m}^2$  (between P.C. and R.C.)

$$M = q C^2/2 = 20.41 \times 1.1^2/2 = 12.35 \text{ mt/m}$$

$$d_m = K_1 \sqrt{M/b} = 0.361 \sqrt{12.35 \times 10^5 / 100} = 40.12 \text{ cm}$$

shear force  $Q_{sh} = (1.1 - d_{sh}) 20.41$

$$d_{sh} = Q_{sh} / b \quad q_{sh} = (1.1 - d_{sh}) 20.41/50 \\ = 0.32 \text{ m}$$

take  $t = 50 \text{ cm}$

$$d_{act} = 50 - 7.5 = 42.5 \text{ cm}$$

$$A_s = \frac{M}{K_2 d_{act}} = \frac{12.35 \times 10^5}{1237 \times 42.5} = 23.5 \text{ cm}^2$$

take  $9 \phi 19/\text{m}$  ( $25.5 \text{ cm}^2$ )

$$A_s/A_c = 25.5 / 100 \times 42.5 = 0.006 < 0.002$$

$$A_s = 0.25 \times 25.5 = 6.4 \text{ cm}^2$$

take  $5 \phi 13/\text{m}$

$$Q_b = 20.41 \times 1.1 \times 1 = 22.451 \text{ t}$$

$$q_b = \frac{22.45 \times 1000}{0.87 \times 42.5 \times 9 \pi \times 1.9} = 11.28 < 12 \text{ kg/cm}^2$$

take U-shape for main reinforcement

$$d_b = \frac{A_s f_s}{\pi q_b} = \frac{2.01 \times 1400}{5.03 \times 10} = 0.55 \text{ m} < C$$

Details of the footing are shown in Fig. (5-6)

### تصميم الأساسات الشريطية للحوائط بطريقة المقاومة القصوى :

يمكن تلخيص خطوات تصميم الأساسات الشريطية للحوائط بطريقة المقاومة القصوى كما يلي :

- ١- حساب مساحة الخرسانة العادية (لو كانت تخانتها ٠.٣ متر أو أكبر) أو مساحة الخرسانة المسلحة (لو كانت تخانة الخرسانة العادية أقل من ٠.٣ متر) باستخدام جهد التربة ومجموع الأحمال الفعلية :

$$A = B \times l = \frac{P}{q_{na}} \text{ or } \frac{P_T}{q_s}$$

ومن المساحة يمكن إيجاد عرض الأساس B والذي يقرب لأقرب ٥ سم.

- ٢- يعين جهد التربة التصميمي باستخدام الأحمال القصوى والذي يستخدم في الحسابات فيما بعد:

$$q = P_u / A$$

- ٣- يفرض سمك الأساس t ومنه يقدر عمق الأساس الفعال d على ألا يقل سمك الأساس عن ٢٠ سم.

- ٤- يعمل تأكيد على القص الأحادي wide beam حيث تحسب القوى المقاومة للقص في الأساس  $V_u$  ثم تحسب مقاومة القص  $V_c$  والتي يجب أن تكون أقل من المقاومة المحسوبة من :

$$V_c = 0.17 \phi \sqrt{f_c}$$

ويجب مراعاة أن المقطع الحرج للقص على بعد d من وجه الحائط الخرساني وعلى وجه حائط الطوب (أو البلوكات) مباشرة.

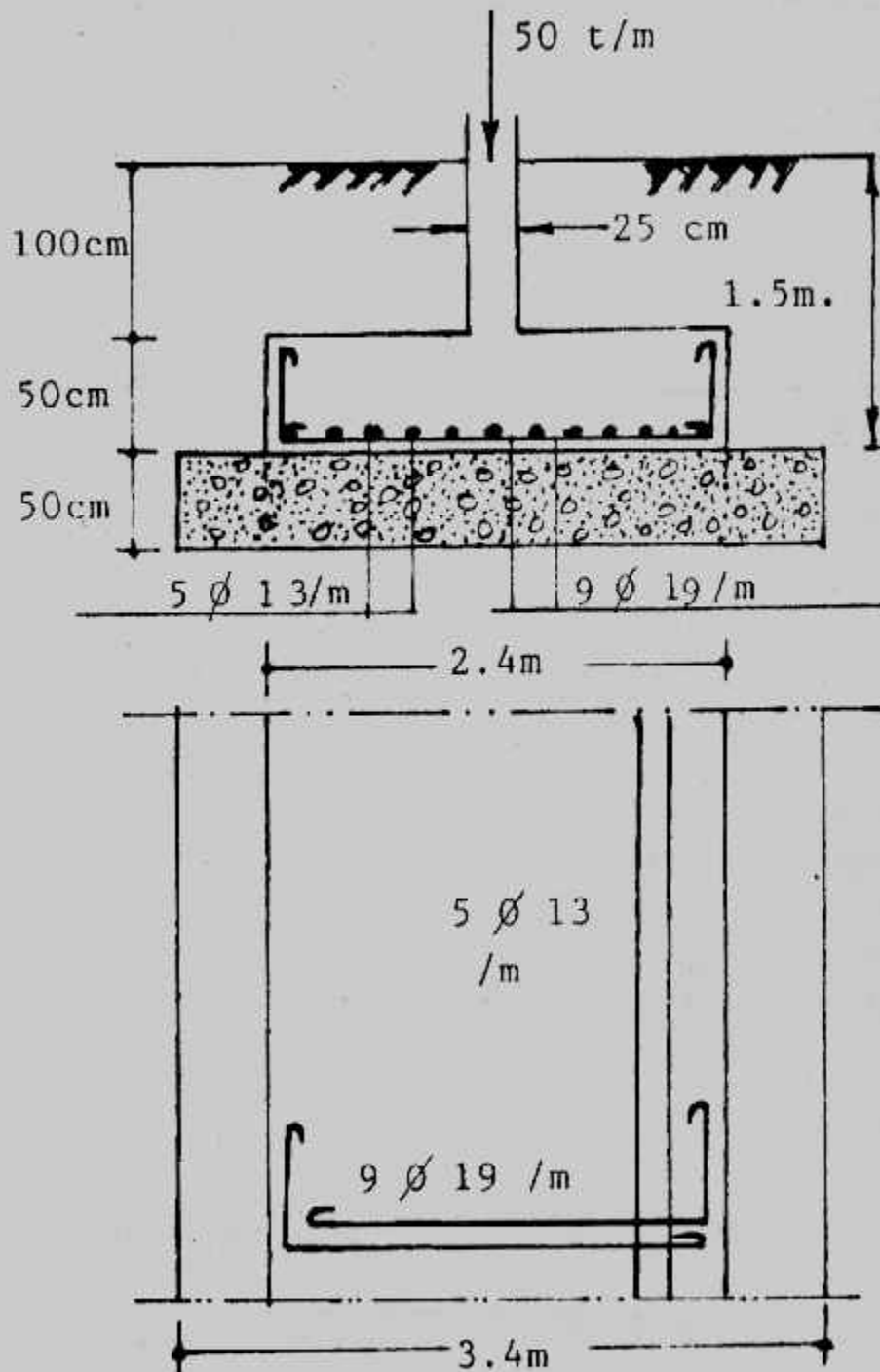
- ٥- حساب عزم الانحناء  $M_u$  عند المقطع الحرج وكذلك :

$$M = \phi A_s f_y \left( d - \frac{a}{2} \right)$$

$$a = A_s f_y / 0.85 f_c b$$

حيث :

تم تعيين حديد التسليح الرئيسي من حل المعادلات السابقة ويجب ألا يقل عن القيمة الدنيا للتسليح.



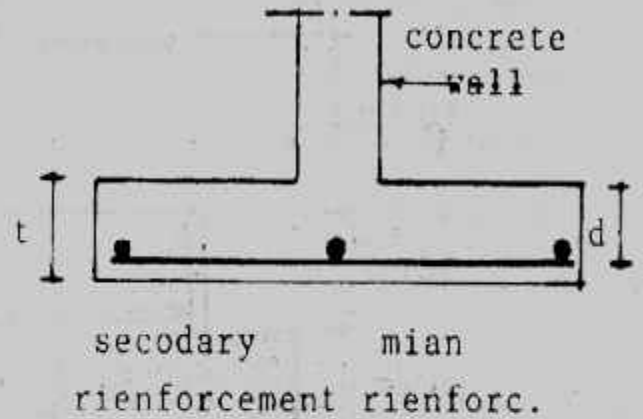
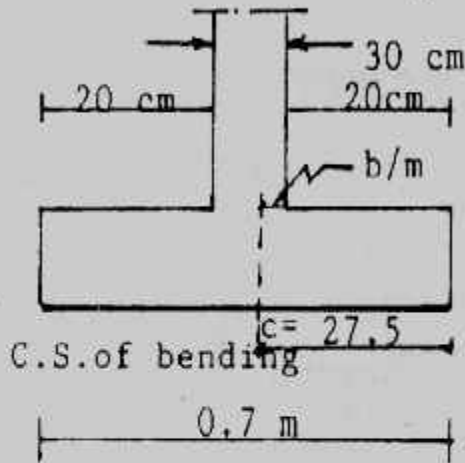
شكل (٦-٥) : مثال (٦-٥) تفاصيل.

$$A_{smin} = 0.0018 \times d \times l$$

٦- الحديد الطولى يؤخذ كنسبة القيمة الدنيا لتسليح المقطع وذلك لمقاومة الإنكماش والتأثيرات الحرارية :

$$A_s = 0.0018 B d$$

وفى الحوائط الخرسانية يوضع هذا الحديد أسفل الأساس وأعلى الحديد الرئيسى أما فى أساسات الحوائط من الطوب أو البلوكات فيوضع الحديد الطولى أعلى الأساس ويفضل أن يؤخذ ربع الحديد فى الناحية السفلية والباقى فى الناحية العلوية. شكل (٧-٥).



شكل (٧-٥) تفاصيل التسليح.

٧- عمل تأكيد على طول التماسك والذي يجب ألا يقل عن ٣٠ سم.

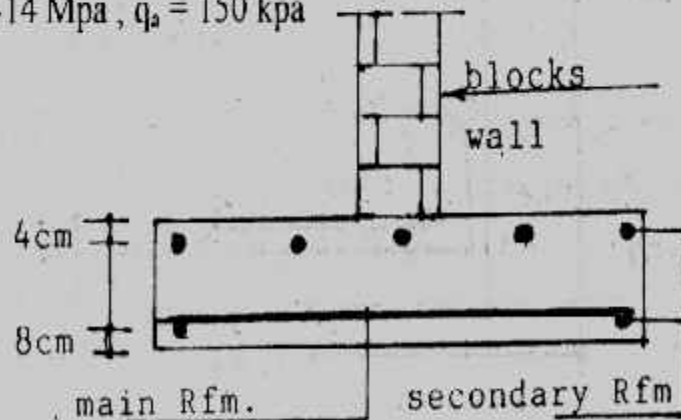
٨- تقدم الرسومات التفصيلية للأساس بالمقاطع المختلفة.

### Example (5-3):

Design the wall footing for the following data :

Wall load consists in 100 kN/m (D = 60, L = 40 kN/m) including wall floor, and roof contribution, wall of concrete block 20 x 30 x 40 cm.

$f_c = 21 \text{ Mpa}$  ,  $f_y = 414 \text{ Mpa}$  ,  $q_s = 150 \text{ kpa}$



شكل (٨-٥) مثال (٣-٥).

**Solution :**

$$B = \frac{100}{150} = 0.67 \text{ m}$$

take  $B = 0.70 \text{ m}$

We will arbitrarily make the depth of footing 40 cm deep overall ( $d = 32 \text{ cm}$ ).

$$\text{The ultimate soil pressure } q = \frac{1.4 \times 60 + 1.7(40)}{0.7} = 217.14 \text{ kPa (ACF)}$$

Check wide - beam shear at the face of the wall as :

$$V_u = 0.2 \times 217.14 = 43.4 \text{ kN}$$

$$v_s = \frac{43.4}{1 \times 0.32} = 135.63 << 650 \text{ kPa}$$

$$C' = 0.2 + \frac{0.3}{4} = 0.275 \text{ m}$$

$$M = q C'^2 / 2$$

$$= 217.14 \times 0.275^2 / 2 = 8.21 \text{ kN.m}$$

$$a = \frac{A_s f_y}{0.85 f_c b} = 400 A_s / 0.85 \times 21 \times 1 = 23.19 A_s$$

$$M_u = \phi A_s f_y (d - a/2)$$

$$\frac{M_u}{\phi f_y} = A_s (d - a/2)$$

$$\frac{8.21}{0.9 \times 414 \times 1000} = A_s (0.32 - 11.6 A_s)$$

$$A_s^2 - 0.0276 A_s = 1.897 \times 10^{-6}$$

$$A_s = 0.069 \times 10^{-3} \text{ m}^2$$

$$\text{For shrinkage } A_s = 0.0018 (0.32) = 0.58 \times 10^{-3} \text{ m}^2 > 0.069 \times 10^{-3}$$

$$= 5.8 \text{ cm}^2$$

use 5  $\phi$  13/ width B

Minimum reinforcement should be furnished in the long direction to offset shrinkage and temperature effects.

$$A_s = 0.0018 B d = 0.0018 \times 0.7 \times 0.32 = 4.032 \times 10^{-4} \text{ m}^2$$

$$= 4.032 \text{ cm}^2$$

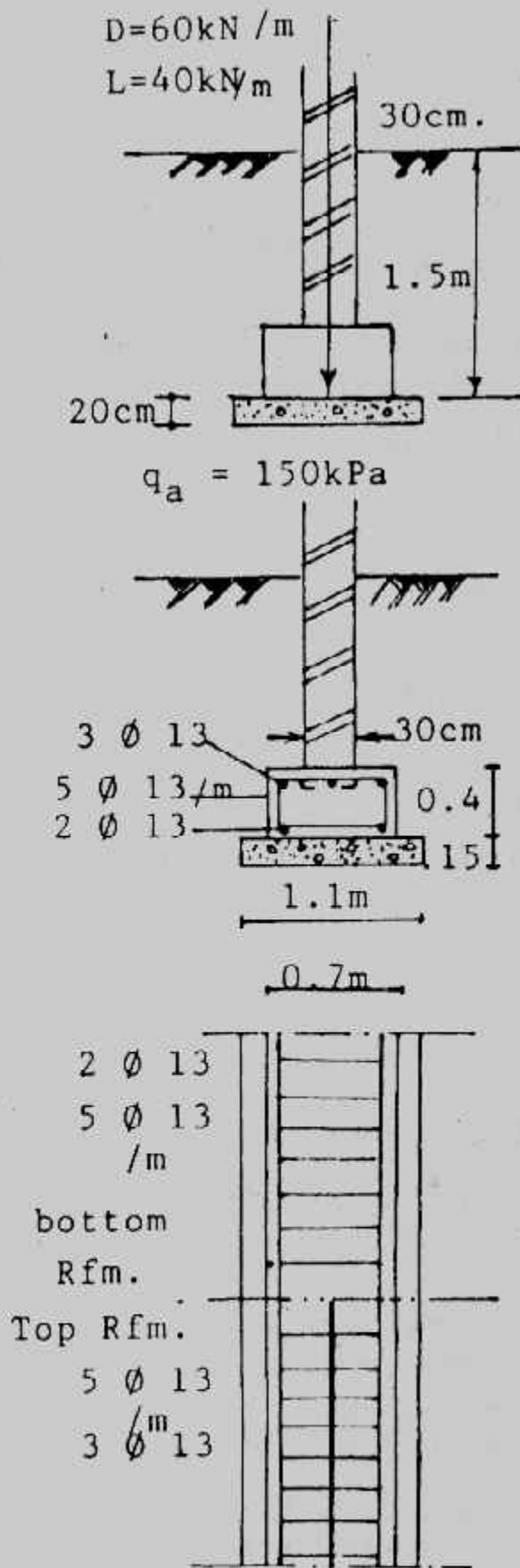
use 5  $\phi$  13 with 3  $\phi$  13 at 4 cm from top, 2  $\phi$  13 at 8 cm from bottom.

Details of design are shown in Fig. (5-9).

**Example (5-4):**

Design a concrete footing for a load - bearing wall with the following characteristics :





شكل (٩-٥) تفاصيل التصميم لمثال (٥-٣).

Dead load  $D = 50 \text{ kN/m}$ , live load  $L = 30 \text{ kN/m}$  Gross allowable bearing capacity of soil  $= 110 \text{ kPa}$

$f_y = 400 \text{ Mpa}$ ,  $f_c = 21 \text{ Mpa}$

unit weight of soil  $= 17 \text{ kN/m}^3$

unit weight of concrete  $= 25 \text{ kN/m}^3$

thickness of wall  $= 0.3 \text{ m}$

Depth of foundation  $= 1.5 \text{ m}$

**Solution :**

The thickness of foundation is  $30 \text{ cm}$ , and the steel bars to be used are assumed  $\phi 13 \text{ mm}$ , so :

$$d = 0.30 - 0.075 - \frac{0.0013}{2} = 0.224 \text{ m}$$

$$\text{weight of foundation} = 0.3 \times 25 = 7.5 \text{ kN/m}^2$$

$$\text{weight of soil above the foundation} = 1.2 \times 17 = 20.4 \text{ kN/m}^2$$

$$q_{\text{net all}} = 110 - 7.5 - 20.4 = 82.1 \text{ kpa}$$

$$B = (d + L) / q_{\text{net all}} = (50 + 30) / 82.1 = 0.974 \text{ m}$$

take  $B = 1.00 \text{ m}$

$$U = 1.4 D + 1.6 L = 1.4 \times 50 + 1.6 \times 30 = 118 \text{ kN (ECOP)}$$

$$q = \frac{118}{1.00 \times 1} = 118 \text{ kN}$$

Check wide - beam shear where the shear occurs at a distance  $d$  from the face of the wall

$$V_u = (0.4 - 0.224) 118 = 20.77 \text{ kN}$$

$$V_c = 0.17 \sqrt{f_c} b d$$

$$= 0.17 \sqrt{21} \times 0.224 \times 1 = 0.175 \text{ MN}$$

$$\phi V_c = 0.85 \times 0.175 = 0.149 \text{ MN} = 149 \text{ kN} > V_u$$

$$M_u = \frac{118(0.35)^2}{2} = 7.23 \text{ kN.m}$$

$$a = A_s f_y / 0.85 f_c b = 400 A_s / 0.85 \times 21 \times 1 = 22.41 A_s$$

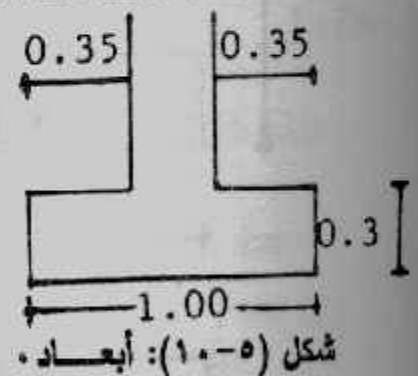
$$\frac{M_u}{\phi f_y} = A_s (d - a/2)$$

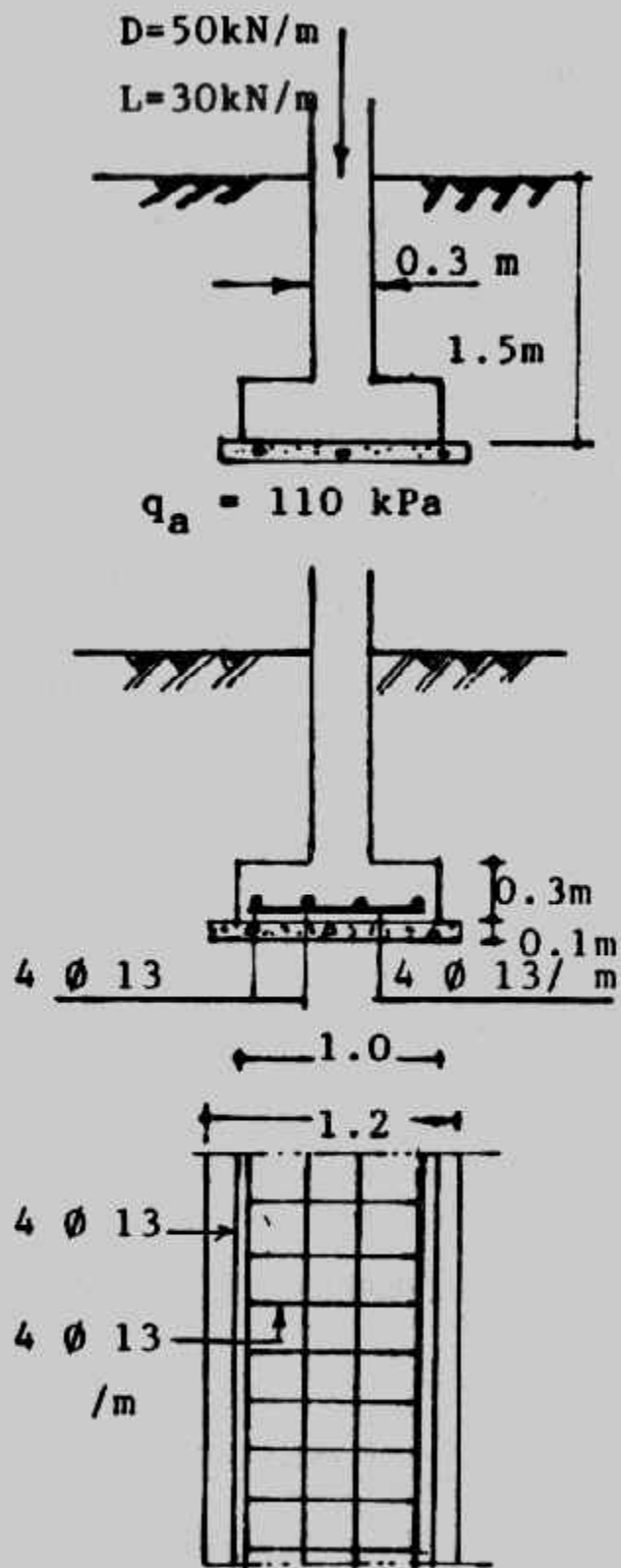
$$\frac{7.23}{0.9 \times 400 \times 100} = A_s \left( 0.224 - \frac{22.41}{2} A_s \right)$$

$$A_s^2 - 0.01999 A_s = 1.79 \times 10^{-6}$$

$$A_s = 0.891 \times 10^{-4} \text{ m}^2$$

$$\text{For shrinkage } A_s = 0.0018 (0.224) = 0.4032 \times 10^{-3} \text{ m}^2 > 0.1122 \times 10^{-3} \text{ m}^2 \\ = 4.03 \text{ cm}^2$$





شکل (۱۱-۵) : مثال (۴-۵) تفصیل .

use  $4 \phi 13$  m

Development length of reinforcement bars

$$l_d = 0.019 A_{bf} \sqrt{f}$$

$$= 0.019 \times 133 \times 400 \sqrt{21} = 22.06 \text{ m}$$

$$L_{d_{\min}} = 0.058 \times 13 \times 400 = 30.16 \text{ cm}$$

take  $L_d = 30.16 < 40 - 7.5 = 32.5 \text{ cm}$

The final design sketch is shown in Fig. (5.11)

الأساسات الشريطية المعرضة لعزم الانحناء :

تعامل الأساسات الشريطية المعرضة لعزم الانحناء دائم الاتجاه أو المنعكس معاملة

الأساسات المفردة المعرضة لهذه العزوم .

### Example (5-5):

Design a strip footing to carry concrete wall subjected to vertical load with 25 t/m and reversible moment 5 mt/m. Given the following data

Allowable bearing capacity = 3 kg/cm<sup>2</sup>

Depth of foundation = 1.2 m

$f_c = 50 \text{ kg/cm}^2$ ,  $f_s = 1400 \text{ kg/cm}^2$

**Solution :**

take  $\gamma_s = 2 \text{ g/cm}^3$

$$P_T = \frac{P}{q_a - D\gamma_s} q_a$$

$$= \frac{25}{30 - 1.2 \times 2} \times 30 = 27.2 \text{ t/m}$$

$$e = M/N = 0.2 \text{ m}$$

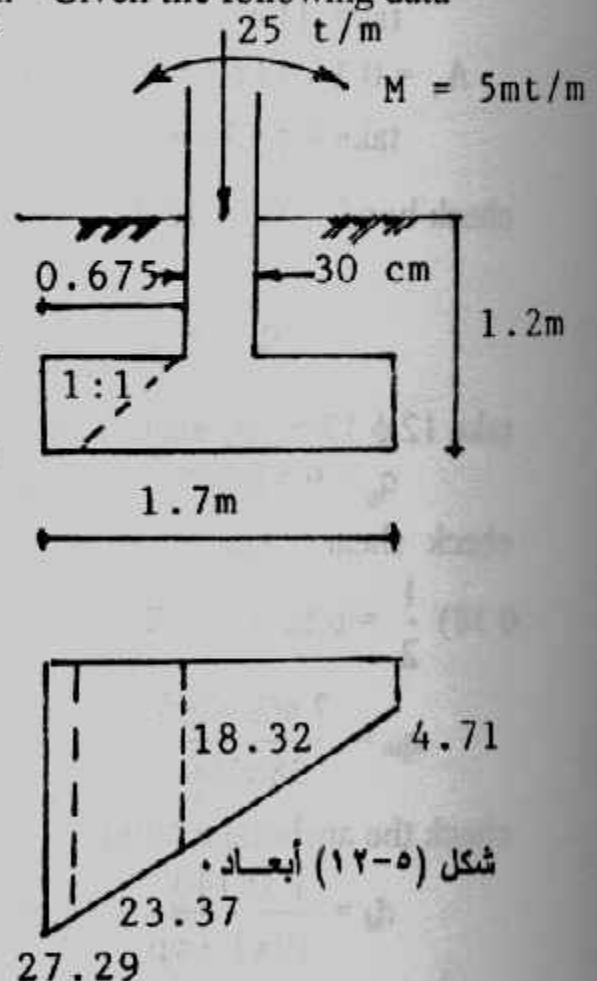
$$q_a = \frac{P_T}{B \times 1} \left( 1 + \frac{6e}{B} \right)$$

$$30 = \frac{27.2}{B} \left( 1 + \frac{6 \times 0.2}{B} \right)$$

$$30 B^2 - 27.2 B - 39.168 = 0$$

Solving this equation gives  $B = 1.68 \text{ m}$

take  $B = 1.7 \text{ m}$



$$q_1 = 27.29 \text{ t/m}$$

$$q_2 = 4.71 \text{ t/m}$$

$$M = 18.32 \times \frac{0.675^2}{2} + \frac{1}{2} \times 8.97 \times 0.675 \times 0.675 \times \frac{2}{3}$$

$$= 4.174 + 1.36 = 5.54 \text{ mt/m}$$

$$d = 0.361 \sqrt{\frac{5.54 \times 10^5}{100}} = 26.87 \text{ cm}$$

take  $t = 40 \text{ cm}$ ,  $d = 33 \text{ cm}$

$$A_s = \frac{5.54 \times 10^5}{1237 \times 33} = 13.57 \text{ cm}^2$$

$$A_{smin} = 0.002 \times 33 \times 100 = 6.6 \text{ cm}^2$$

take  $11 \phi 13 / \text{m}$  ( $14.63 \text{ cm}^2$ )

$$A_v = 0.3 \times 14.63 = 4.39 \text{ cm}^2$$

take  $4 \phi 13 / \text{m}$  ( $5.3 \text{ cm}^2$ )

check bond  $Q_b = 18.32 \times 0.675 + \frac{1}{2} \times 8.97 \times 0.675 = 15.39 \text{ t}$

$$q_b = \frac{15.39 \times 10^3}{0.87 \times 33 \times 11 \times 1.3 \pi} = 11.93 \text{ kg/cm}^2 > 10 \text{ kg/cm}^2$$

take  $12 \phi 13 / \text{m}$  (L-shape) and  $t = 45 \text{ cm}$ ,  $d = 38 \text{ cm}$

$$q_b = 9.5 \text{ kg/cm}^2 < 10 \text{ kg/cm}^2$$

check shear  $Q_{sh} = 23.37 (0.675 - 0.38) \times 1 + (27.29 - 23.37) \times (0.675 - 0.38) \times \frac{1}{2} = 6.89 + 0.578 + 0.578 = 7.468 \text{ t}$

$$q_{sh} = \frac{7.468 \times 10^3}{38 \times 100} = 1.97 < 6 \text{ kg/cm}^2$$

O.K

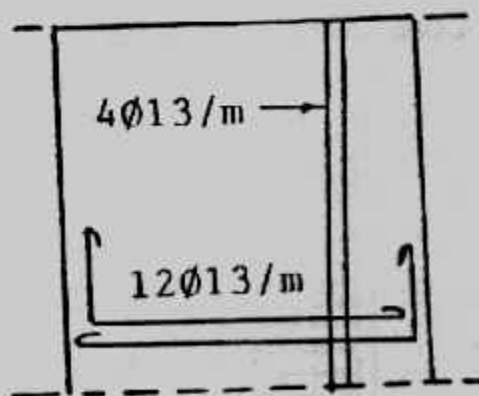
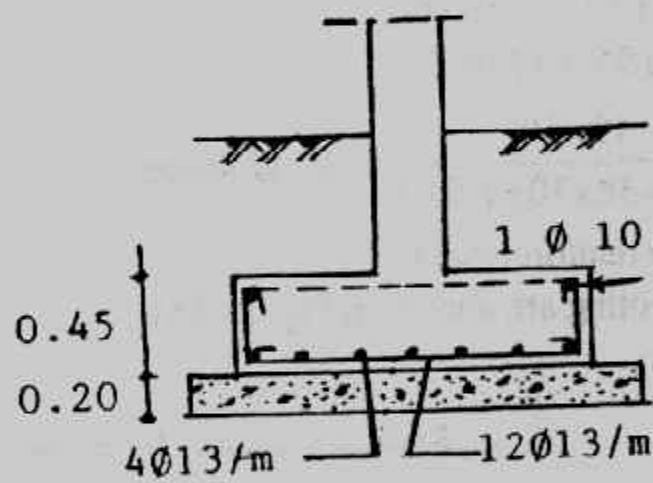
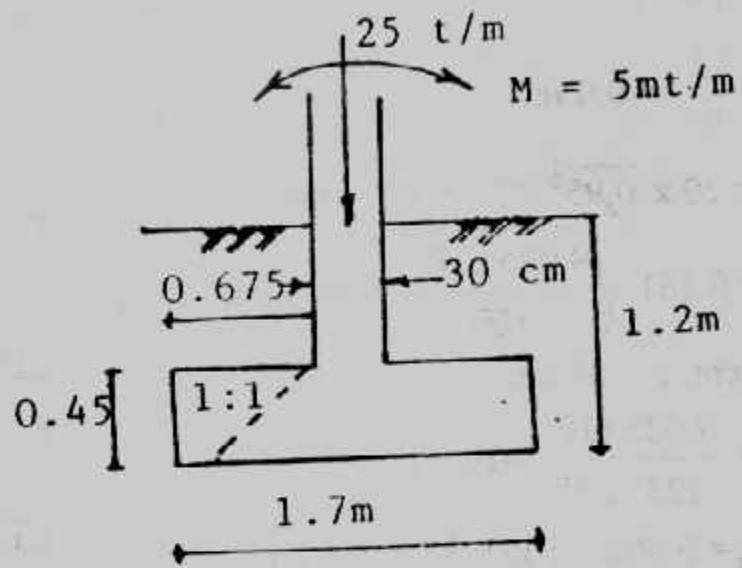
check the anchorage bond

$$d_d = \frac{1.3 \times 1400}{10 \times 1.3 \times p} = 44.56 < 67.5 \text{ cm}$$

Details of the footing are shown in Fig. (5-13)

### Example (5-6):

Design a footing for a wall carrying a load  $30 \text{ t/m}$  and moment of  $15 \text{ mt/m}$  always acting in one direction. The net allowable soil pressure is  $1.5 \text{ kg/cm}^2$ . Take  $f_c = 50 \text{ kg/cm}^2$ ,  $f_s = 1400 \text{ kg/cm}^2$



شکل (۱۳-۵) : مثال (۵-۵) تفصیل.



**Solution :**

$$A = 30/20 = 1.5 \text{ m}^2$$

take  $B = 1.5 \text{ m}$

$$q = \frac{30}{1.5 \times 1} = 20 \text{ t/m}$$

$$e = \frac{12}{30} = 0.4 \text{ m}$$

$$M = 20 \times \frac{0.95^2}{2} = 9.025 \text{ t/m}^2$$

$$d = 0.361 \sqrt{\frac{9.025 \times 10^5}{100}} = 34.3 \text{ cm}$$

take  $t = 45 \text{ cm}$ ,  $d = 38 \text{ cm}$

$$A_s = \frac{9.025 \times 10^5}{1237 \times 38} = 19.2 \text{ cm}^2$$

$$A_{smin} = 0.002 \times 100 \times 38 = 7.6 \text{ cm}^2$$

use  $10 \phi 16/\text{m}$

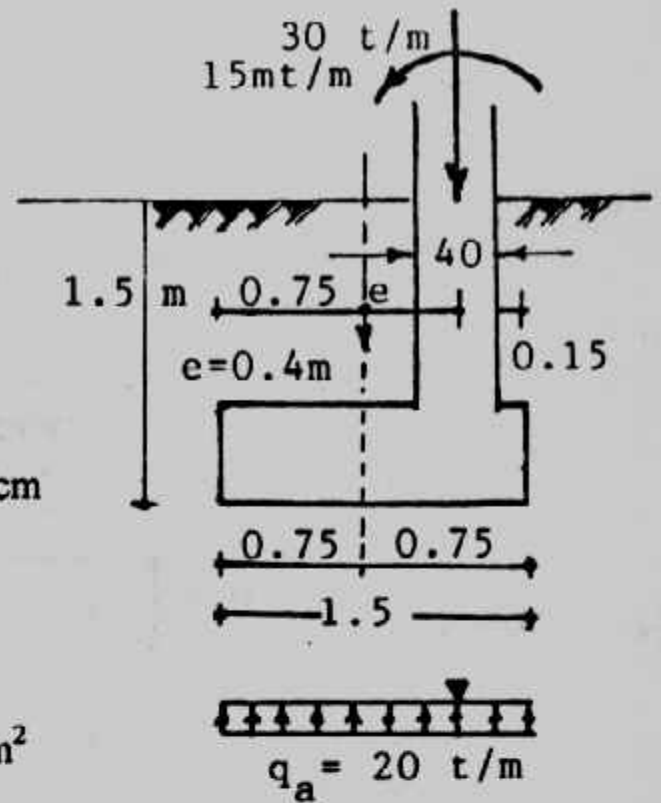
$$A_s = 0.3 \times 19.2 = 5.76 \text{ cm}^2$$

$$q_b = 20 \times 0.95 = 19 \text{ t/m}$$

$$q_b = \frac{19 \times 10^3}{0.87 \times 38 \times 10 \times 1.6 \times \pi} = 11.43 \text{ kg/cm}^2 < 12 \text{ kg/cm}^2$$

use U-shape reinforcement

Details of footing are shown in Fig. (5-15)



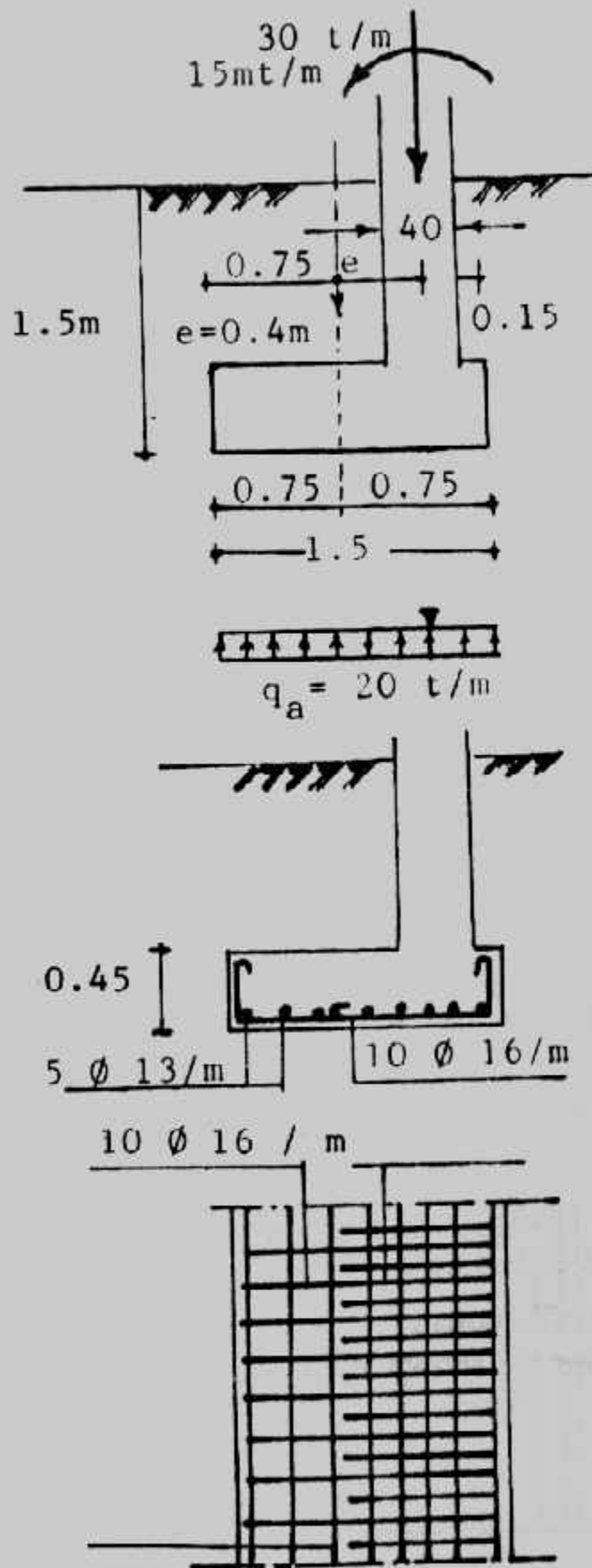
شكل (5-15): أبعاد  $5 \phi 13/\text{m}$

استخدام القواعد الشريطية لحوائط المصاعد ولب المباني :

تستخدم القواعد الشريطية كأساس للحوائط الخرسانية للمصاعد سواء شكلها كان على

شكل □ أو شكل □ . كما تستخدم القواعد الشريطية للـ Core المباني ولحوائط القص

وتصميم بنفس طرق التصميم السابق تقديمها .



شکل (۱۵-۵) مثال (۶-۵) تفصیل

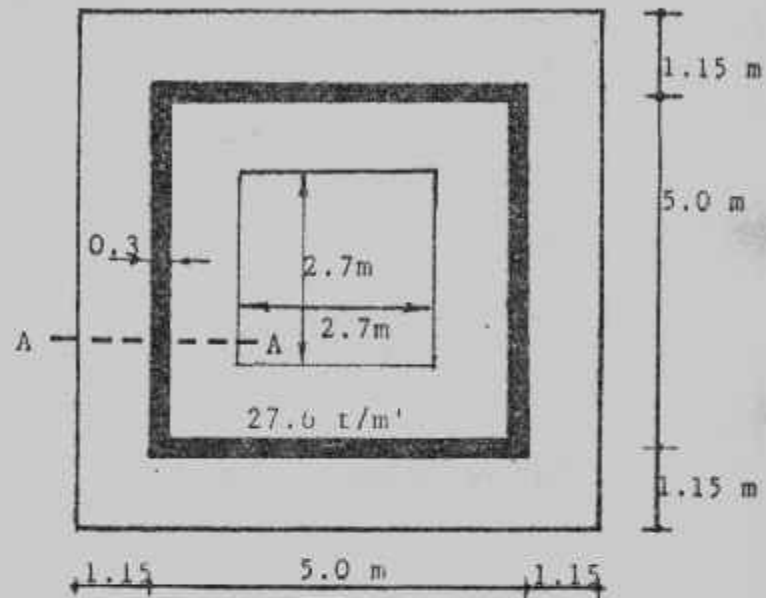
**Example (5-7):**

Design a footing for a building core carrying a load  $30 \text{ t/m}$ , Fig. (5-16).  
 Net allowable bearing capacity is  $1.5 \text{ kg/cm}^2$ . Take  $f_c = 50 \text{ kg/cm}^2$ ,  $f_s = 1400 \text{ kg/cm}^2$ .

**Solution :**

Total load  $= 27.6 \times 5 \times 5 = 690 \text{ t}$

take the area of footing as shown in Fig. (5-16)



شكل (١٦-٥) أبعاد

$$A = 7.3 \times 7.3 - 2.7 \times 2.7 = 46 \text{ m}^2$$

$$q = \frac{690}{46} = 15 \text{ t/m}^2 = q_{na}$$

$$M = 15 \times 1^2 / 2 = 7.5 \text{ mt/m}$$

$$d = 0.361 \sqrt{\frac{7.5 \times 10^5}{100}} = 31.25 \text{ cm}^2$$

take  $t = 40 \text{ cm}$ ,  $d = 33 \text{ cm}$

$$A_s = \frac{7.5 \times 10^5}{1237 \times 33} = 18.37 \text{ cm}^2$$

$$A_{smin} = 0.002 \times 100 \times 33 = 6.6 \text{ cm}^2$$

take  $10 \phi 16$

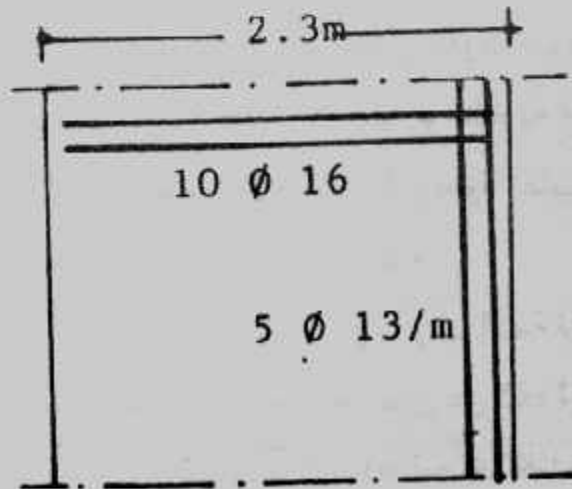
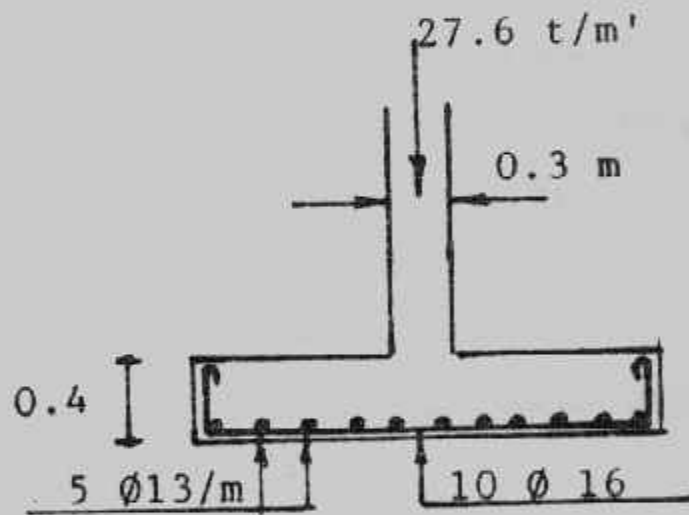
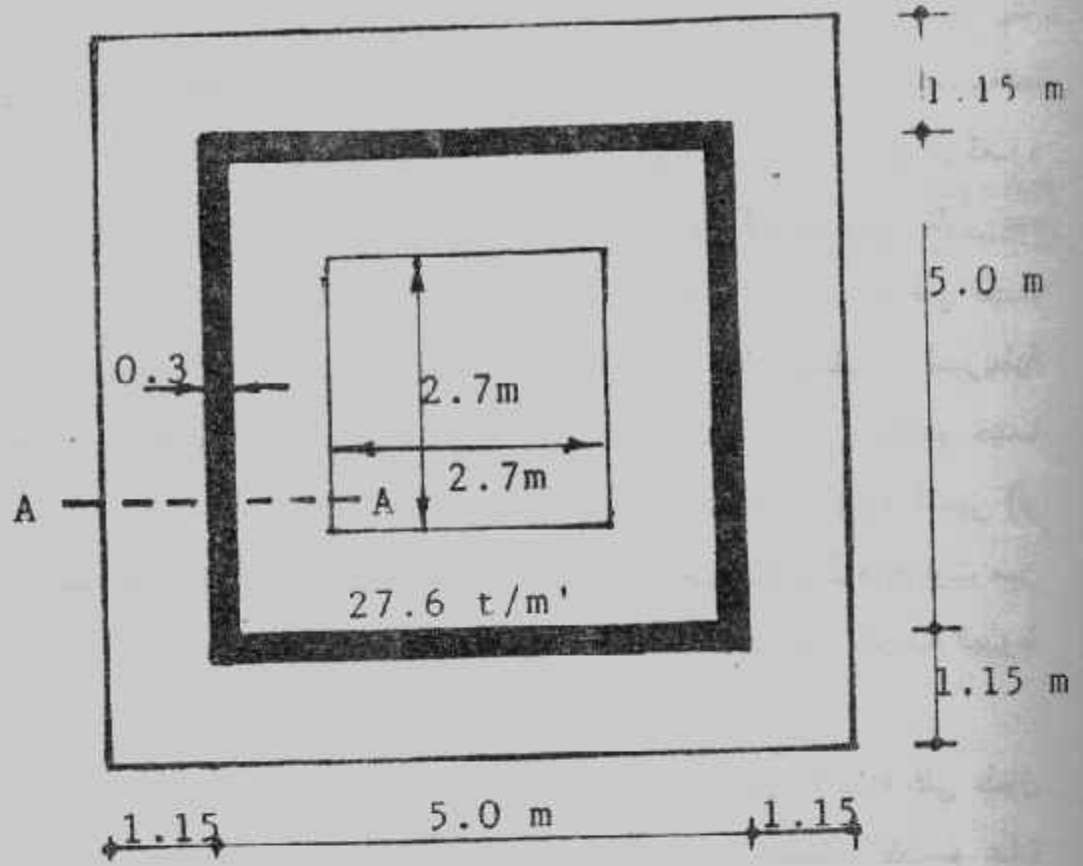
$$A_s = 18.37 \times 0.3 = 5.51 \text{ cm}^2 \text{ take } 5 \phi 13/\text{m}$$

$$Q_b = 15 \times 1 = 15 \text{ t/m}$$

$$q_b = \frac{15 \times 1000}{0.87 \times 33 \times 10 \times 1.6 \times \pi} = 10.39 < 12 \text{ kg/cm}^2$$

use U-shape reinforcement

Details of footing are shown in Fig. (5-17)



Sec. A - A

شکل (۱۷-۵) مثال (۷-۵) تفصیل.

## الأساسات الشريطية تحت صفوف الأعمدة :

يمكن استخدام الأساسات الشريطية للتأسيس تحت صفوف الأعمدة باستخدام كمرّة مستمرة بينهم وفي هذه الحالة يسمى الأساس بالشريطي على شكل حرف T مقلوب وقد تكون هذه الأساسات الشريطية في اتجاه المحاور الطولية أو في اتجاه المحاور العرضية أو في اتجاه المحورين معاً، والحالة الأخيرة تقترب من حالة اللبشة الكمرية. وتستعمل الأساسات الشريطية كحل وسط بين الأساسات المنفصلة وبين أساسات اللبشة ولذا فالأساسات الشريطية تستخدم حينما يكون جهد التربة ضعيفاً أو متوسطاً. كما تستخدم الأساسات الشريطية لمقاومة الهبوط النسبي (أو المتفاوت) لتربة التأسيس حيث أن الأساسات الشريطية أكثر مقاومة للهبوط المتفاوت من الأساسات المنفصلة وتقع الأساسات الشريطية في المرتبة الثانية بعد اللبشة في مقاومة الهبوط المتفاوت.

وتصميم الأساسات الشريطية ذات المحور الواحد على تحمل أحمال الأعمدة على طول محورها. أما الأساسات الشريطية ذات المحورين أو الأساسات الشريطية المتقاطعة فتصمم عادة على افتراض أن كل محور أو اتجاه يحمل حمل العمود كله أي لا يحدث توزيع لحمل العمود في الاتجاهين ورغم أن هذا الافتراض لا يتفق مع الواقع الفعلي إلا أنه يغطي جميع احتمالات التصميم المختلفة. أما طرق التصميم المتقدمة والأكثر دقة فيتم فيها توزيع حمل العمود على الاتجاهين ويصمم كل محور أو اتجاه على الأحمال الفعلية الواصلة إليه من الأعمدة، وهذه الطرق المتقدمة تحتاج إلى دراسات دقيقة في حساب ضغط التماس. وتختلف أساليب تصميم الأساسات الشريطية حسب جسامتها المطلوبة وفقاً لطبيعة تربة التأسيس والهبوط المتفاوت المتوقع. وسوف نعرض هنا أسلوبين لتصميم الأساسات الشريطية :

- الأسلوب الأول (في المثال ٥-٨) يتمثل في تصميم الأساسات الشريطية على أنها غير عالية الجساءة، وهي تستخدم للتربة المتجانسة أو القوية والتي لا يخشى حدوث هبوط متفاوت بها. كما تستخدم حينما تكون أحمال الأعمدة وبحورها عديدة متساوية أو متقاربة القيمة.
- الأسلوب الثاني (في المثال ٥-٩) يتمثل في تصميم الأساسات الشريطية عالية الجساءة وهي تستخدم للتربة الضعيفة أو الغير متجانسة وفي البحور قليلة العدد.

وسوف نقدم أساليب أخرى للتصميم أكثر تقدماً وأدق في أبواب قادمة إن شاء الله. وجدير بالذكر أن الأساس الشريطي الذي نحن بصددته يتكون من شفه أو بلاطة خرسانة مسلحة تتداخل معها كمرّة رأسية مستمرة وتصمم الشفه أو البلاطة المسلحة كما جاء بهذا الباب

وعلى اعتبار ان الكمره تمثل الحائط، أما الكمره المستمرة فتصمم على أنها مرتكزة على الأعمدة وتصمم مقاطعها على أنها T-section أو Rectangular section .

### Example (5-8) :

Design a footing of row of columns shown in Fig (5-18). Net allowable bearing capacity is  $1.5 \text{ kg/cm}^2$  Take  $f_c = 60 \text{ kg/cm}^2$   $f_s = 1400 \text{ kg/cm}^2$

### Solution :

Design of slab :

$$\text{Area} = \frac{3 \times 120 + 2 \times 80}{15} = \frac{360 + 160}{15} = \frac{520}{15} = 34.67 \text{ m}^2$$

$$B = \frac{34.67}{4 \times 6} = 1.44 \text{ m, take } B = 1.5 \text{ m, take } B = 1.5 \text{ m}$$

$$q = \frac{520}{1.5 \times 4 \times 6} = 14.44 \text{ t/m}^2$$

$$C = (1.5 - 0.4) / 2 = 0.55 \text{ m}$$

$$M = 14.44 \times 0.55^2 / 2 = 2.18 \text{ mt}$$

$$d_m = 0.315 \sqrt{\frac{2.18 \times 10^5}{100}} = 14.71 \text{ cm}^2$$

$$Q_{sh} = (0.55 - d_{sh}) 14.4$$

$$d_{sh} = \frac{Q_{sh}}{b \times q_s} = \frac{(0.55 - d_{sh})}{1 \times 50}$$

$$d_{sh} = 0.123 \text{ m}$$

$$\text{take } t = 30 \text{ cm, } d = 0.23 \text{ m}$$

$$A_s = 2.18 \times 10^5 / 1237 \times 23 = 7.66 \text{ cm}^2$$

$$A_{smin} = 0.002 \times 100 \times 23 = 4.6 \text{ cm}^2$$

$$\text{take } 6 \phi 13/\text{m} \quad (7.96 \text{ cm}^2)$$

$$A_s = 0.25 \times 7.66 = 1.915 \text{ cm}^2$$

$$\text{take } 4 \phi 13/\text{m}$$

$$Q_b = 14.4 \times 0.55 = 7.92 \text{ t}$$

$$q_b = \frac{7.92 \times 1000}{0.87 \times 23 \times 6 \pi \times 1.3} = 12.23 \text{ t/m}^2$$

$$\text{take } 8 \phi 13/\text{m} \text{ with L-shape, then } q_b = 9.17 \text{ t/m}^2$$

Design of beam :

The beam is designed as a rectangular section load /m' =  $\frac{520}{24} = 21.67 \text{ t/m}$

the moment calculated by :



$$M = ql^2/12 = 21.67 \times 62/12 = 65 \text{ mt}$$

$$d = 0.315 \text{ m}, d = 128 \text{ cm}$$

$$A_s = \frac{65 \times 10^5}{1217 \times 128} = 41.73 \text{ cm}^2$$

use 11  $\phi$  22

The critical sect. of shear is at  $d$  from the face of edge column

$$Q_{sh} = 47.93 \text{ t}$$

$$q_{sh} = \frac{47.93 \times 1000}{40 \times 128} = 9.36 \text{ kg/cm}^2$$

use 4 branches stirrup  $\phi$  10 at 15 cm in shear zone

$$q_{st} = \frac{4 \times 0.785 \times 1400}{15 \times 40} = 7.33 \text{ kg/cm}^2$$

The reminder can be resisted by bent up bar 4  $\phi$  22.

The details of footing are given in Fig. (5-18)

### Example (5-9):

Design a continuous strip footing for the three columns given in Fig. (5-19).

The net allowable bearing capacity is  $1.3 \text{ kg/cm}$ ,  $f_c = 60 \text{ kg/cm}^2$ ,  $f_s = 2000 \text{ kg/cm}^2$ ,  $q_{sh} = 6 \text{ kg/cm}^2$

**Solution :**

$$R = 120 + 80 + 1000 = 300 \text{ t}$$

$$X = \frac{120 \times 5 + 100 \times 11}{300} = 5.67 \text{ m}$$

$$e = 5.67 - 5.00 = 0.67 \text{ m}$$

$$A = 300/13 = 23.08 \text{ m}^2$$

$$\text{From Fig. (5-19) } L = 11.94 \text{ m}$$

$$B = \frac{23.08}{11.94} = 1.93 \text{ m} \quad \text{taken } 2.0 \text{ m}$$

$$q = \frac{300}{11.94 \times 2} = 12.56 \text{ t/m}^2$$

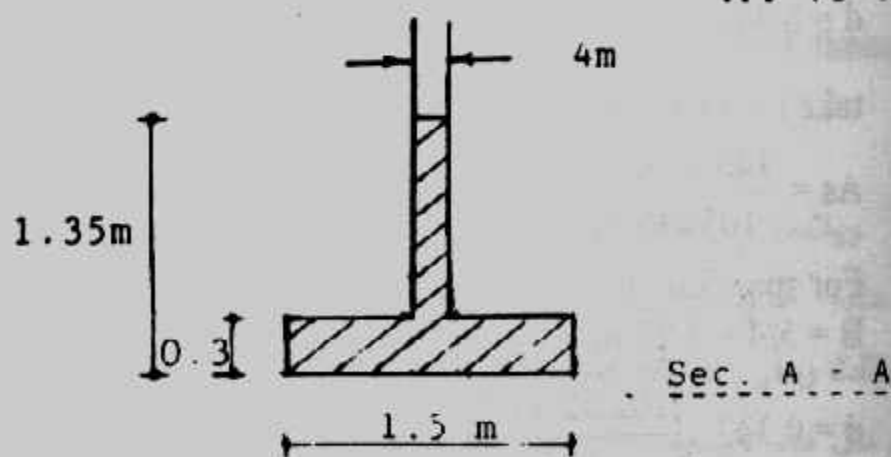
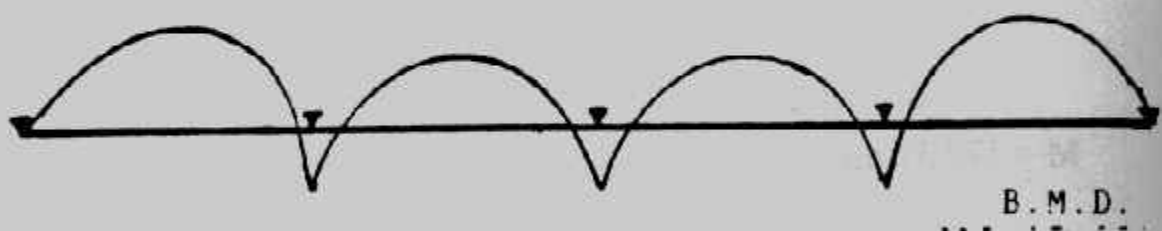
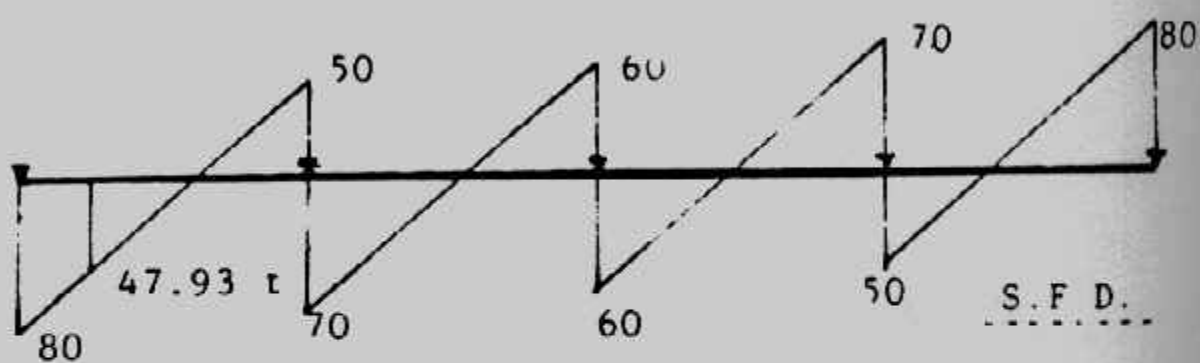
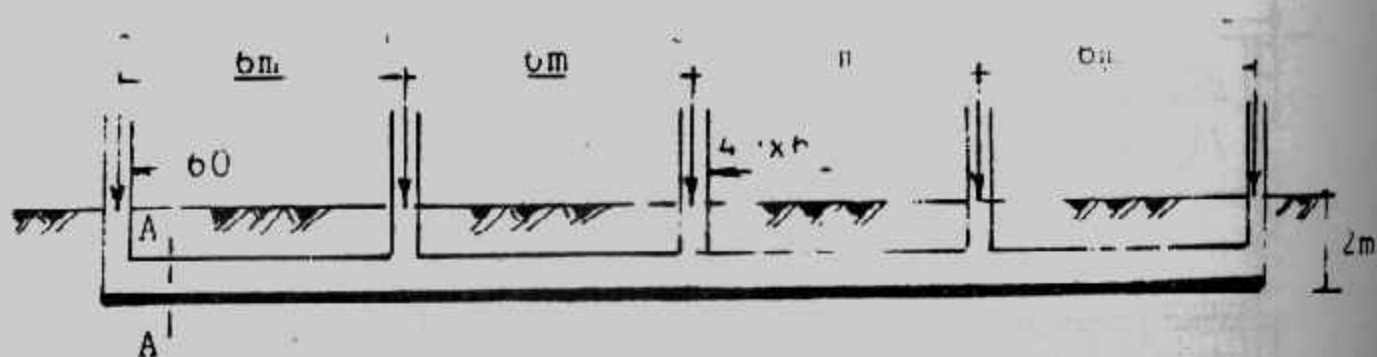
**Design of beam**

If the footing is very rigid, the contact pressure can be assumed uniformly distributed and the beam is statically determined. The internal forces are shown in Fig. (5-19). The beam is designed as a T-section. The effective width  $B$  of T-section equals the smallest of the width of slab or 4 times breadth of beam web or  $1/4$  of smallest span.

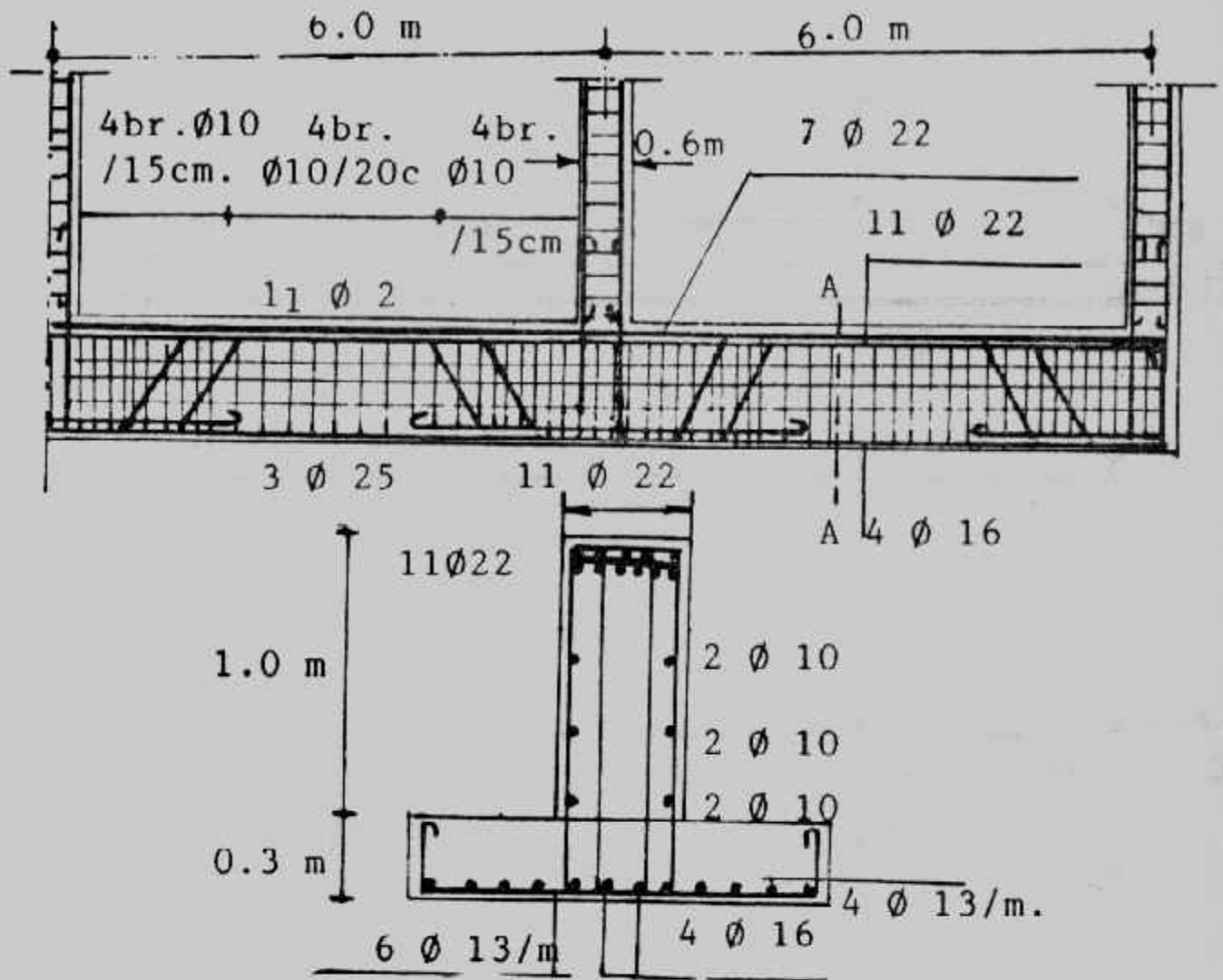
For span 6.0 m.

$$B_{slab} = 2.00 \text{ m} \quad \text{or } 4 \times 0.5 = 2.00 \text{ or } 6/4 = 1.5 \text{ m}$$

take  $B = 1.5 \text{ m}$  (the smallest value).



شکل (۱۸۵) مثال (۸۵) ابعاد و تفصیل.



تابع شكل (١٨-٥): مثال (٨-٥) أبعاد وتفصيل

$$M = 133.37 \text{ mt}$$

$$d = 0.347 \sqrt{\frac{133.37 \times 10^5}{150}} = 103.5 \text{ cm}$$

$$\text{take } t = 110 \text{ and } d = 105 \text{ cm}$$

$$A_s = \frac{133.37 \times 10^5}{105 \times 1804} = 70.4 \text{ cm}^2 \text{ } 15 \phi 25$$

For span 5.0 ms

$$B = 5/4 = 1.25 \text{ m}$$

$$d = 0.347 \sqrt{\frac{102.32 \times 10^5}{125}} = 99.28 \text{ cm}$$

take the same thickness  $t = 110 \text{ cm}$ , and  $d = 105 \text{ cm}$

$$A_s = \frac{102.32 \times 10}{1804 \times 105} = 54 \text{ cm}^2 \quad 11 \phi 25$$

The critical section of shear is at d from the face of edge column.

$$Q_{sh} \text{ max} = 57.53 \text{ t}$$

$$q_{sh} = \frac{57.53 \times 1000}{50 \times 105} = 10.96 \text{ kg/cm}^2$$

use 4 branches stirrup  $\phi 10$  at 15 cm in shear zone :

$$q_{st} = \frac{4 \times 0.785 \times 2000}{15 \times 50} = 8.37 \text{ kg/cm}^2$$

The remainder can be resisted by bent up bars.

Design of slab

$$C = (25 - 0.5)/2 = 0.75 \text{ m}$$

$$M = 12.56 \times 0.75^2/2 = 3.53 \text{ mt}$$

$$d_m = 0.347 \sqrt{\frac{3.53 \times 10^5}{100}} = 20.62 \text{ cm}$$

$$Q_{sh} = (0.75 - d_{sh}) 12.56$$

$$d_{sh} = \frac{Q_{sh}}{b \times q_s} = \frac{(0.75 - d_{sh})}{1 \times 60}$$

$$d_{sh} = 0.13 \text{ m}$$

$$\text{take } t = 30 \text{ cm}, \quad d = 0.23 \text{ cm}$$

$$A_s = 3.53 \times 105 / 1804 \times 23 = 4.6 \text{ cm}^2$$

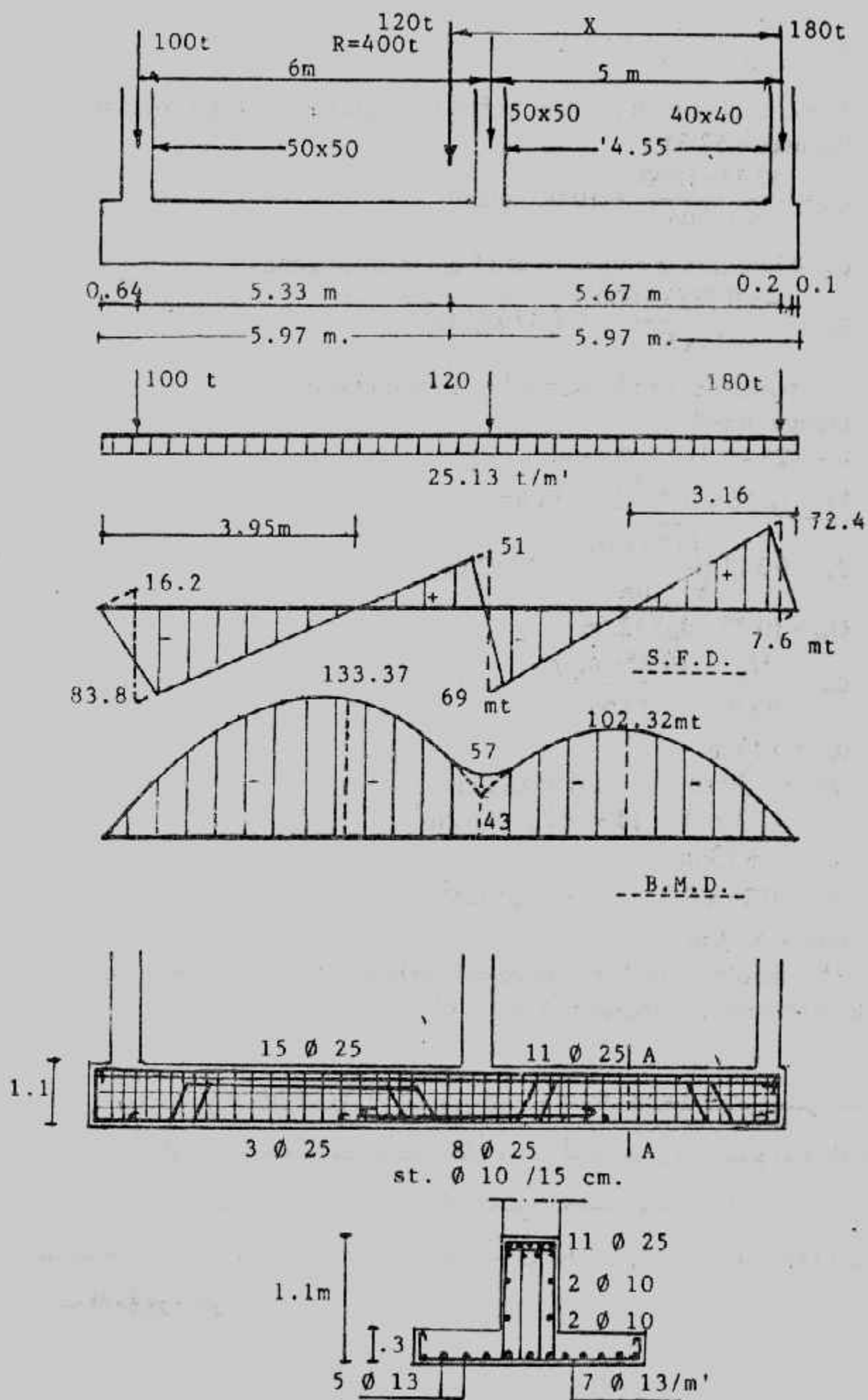
take 7  $\phi 13/\text{m}$

$$A_s = 0.25 \times 8.5 = 2.125 \text{ cm}^2$$

take 4  $\phi 13/\text{m}$

The deformation bars will be safe in bond. The details of dimensions and reinforcements are shown in Fig. (5-19).

وبالاحظ من المثال السابق أن افتراض التوزيع المنتظم لضغط التماس يعطى عادة قوى داخلية عالية. أما إذا تم تصميم هذا الأساس ككمرة على أساس مرن فإن عزم الانحناء ينخفض بمقدار الثلث وعلى ذلك فإن كميتى الخرسانية والتسليح تتخفضان بمقدار ٢٠٪. ولذا فإننا ننصح بتصميم مثل هذه الأساسات على أنها كمرة على أساس مرن. وهذا ما سوف نتعرض له فى أبواب قادمة مرة أخرى.

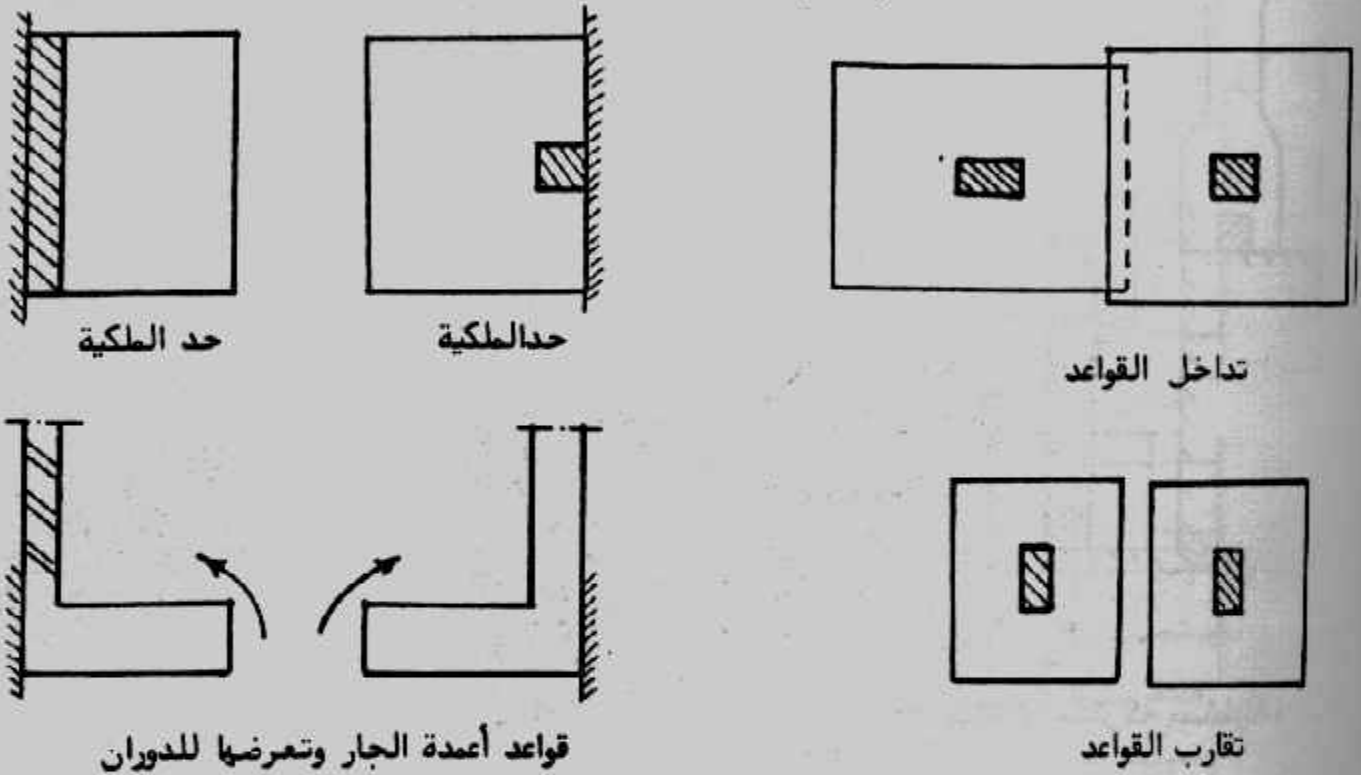


شكل (١٩-٥) مثال (٩-٥) أبعاد وتفاصيل.

## الباب السادس

### القواعد المشتركة Combined Footings

عند التأسيس باستخدام القواعد المنفصلة تظهر بعض المشاكل التي تحول دون استخدام أسلوب القواعد المنفصلة مثل تداخل قاعدتين معاً، أو تقارب قاعدتين لبعضهما. كما أن قواعد أعمدة الجار تمثل مشكلة في حد ذاتها حيث أنها معرضة للدوران لو تم تنفيذها كقواعد منفصلة شكل (١-٦).



شكل (١-٦) مشاكل التأسيس بالقواعد المنفصلة

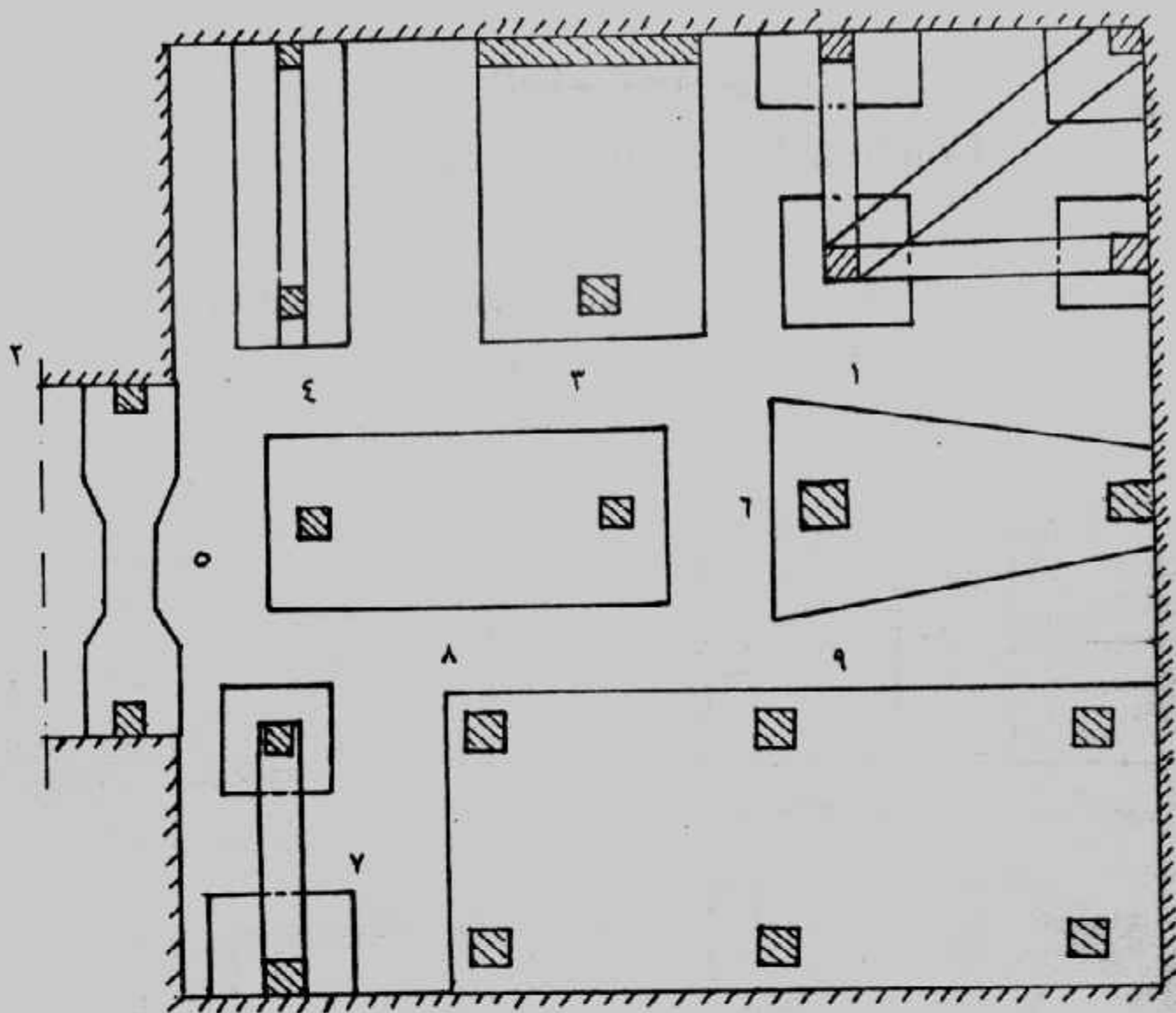
ويمكن التغلب على هذه المشاكل باستخدام نظام التأسيس بالقواعد المشتركة، والقواعد المشتركة يمكن تعريفها بأنها قاعدة أو أساس واحد تحمل أكثر من عمود على نفس الخط. والقواعد المشتركة تصنف من الأساسات السطحية.

وتأخذ القواعد المشتركة أشكالاً متعددة موضحة بمجملها في شكل (٢-٦)

وبمفردها في شكل (٣-٦) وأكثر أشكالها استخداماً هي :

- ١- قواعد مشتركة مستطيلة الشكل Rectangular combined footing
- ٢- قواعد مشتركة شبه منحرف الشكل Trapezoidal combined footing
- ٣- قواعد مشتركة كابولية (strap footing) Contilever combined footing







شكل (٦-٢) القواعد المشتركة واللبشة.

- ١- قاعدة مشتركة مستطيلة داخلية.
- ٢- قاعدة جار مشتركة مستطيلة.
- ٣- قاعدة حائط جار مشتركة مع عمود.
- ٤- قاعدة مشتركة بـ T مقبولة (أو قاعدة مشتركة بكمرة).
- ٥- قاعدة مشتركة غير منتظمة.
- ٦- قاعدة مشتركة شبه منحرف.
- ٧- قاعدة مشتركة كابولية.
- ٨- قواعد مشتركة كابولية معا.
- ٩- لبشة.


والقواعد المشتركة تستخدم حينما لا تسمح المسافة بين عمودين باستخدام قواعد منفصلة، أو حينما يوجد عمود خارجي على حد الملكية لا يصلح معه تنفيذ أساس منفصل فيتم ربط هذا العمود الخارجي بآخر داخلي بأي نظام من أنظمة القواعد المشتركة حيث يمكن التغلب على اللامركزية في الأساس المنفصل الخارجي التي قد تسبب دوران أو هبوط متفاوت كبير أو زيادة كبيرة في الاجهادات المنقولة إلى التربة قد تفوق قدرة تحملها. وشكل (٦-٤) يبين أنواع القواعد المستخدمة في ربط عمود الجار بعمود آخر داخلي.




قاعدة مشتركة لعمود جار



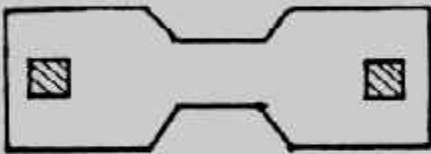
قاعدة مشتركة داخلية (أو متعائلة)



قاعدة مشتركة بكمرة



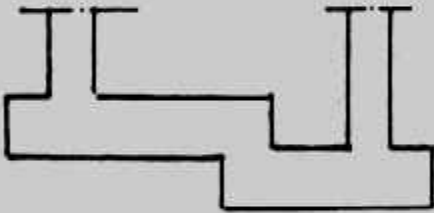
قاعدة مشتركة لحائط جدار



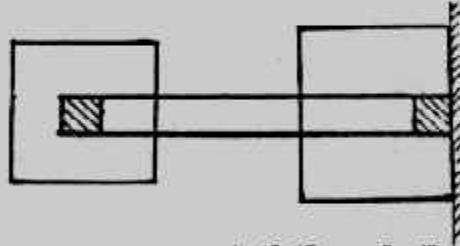
قاعدة مشتركة غير منتظمة




قاعدة مشتركة شبه منحرف



قاعدة مشتركة غير مستوية



قاعدة مشتركة كابلية

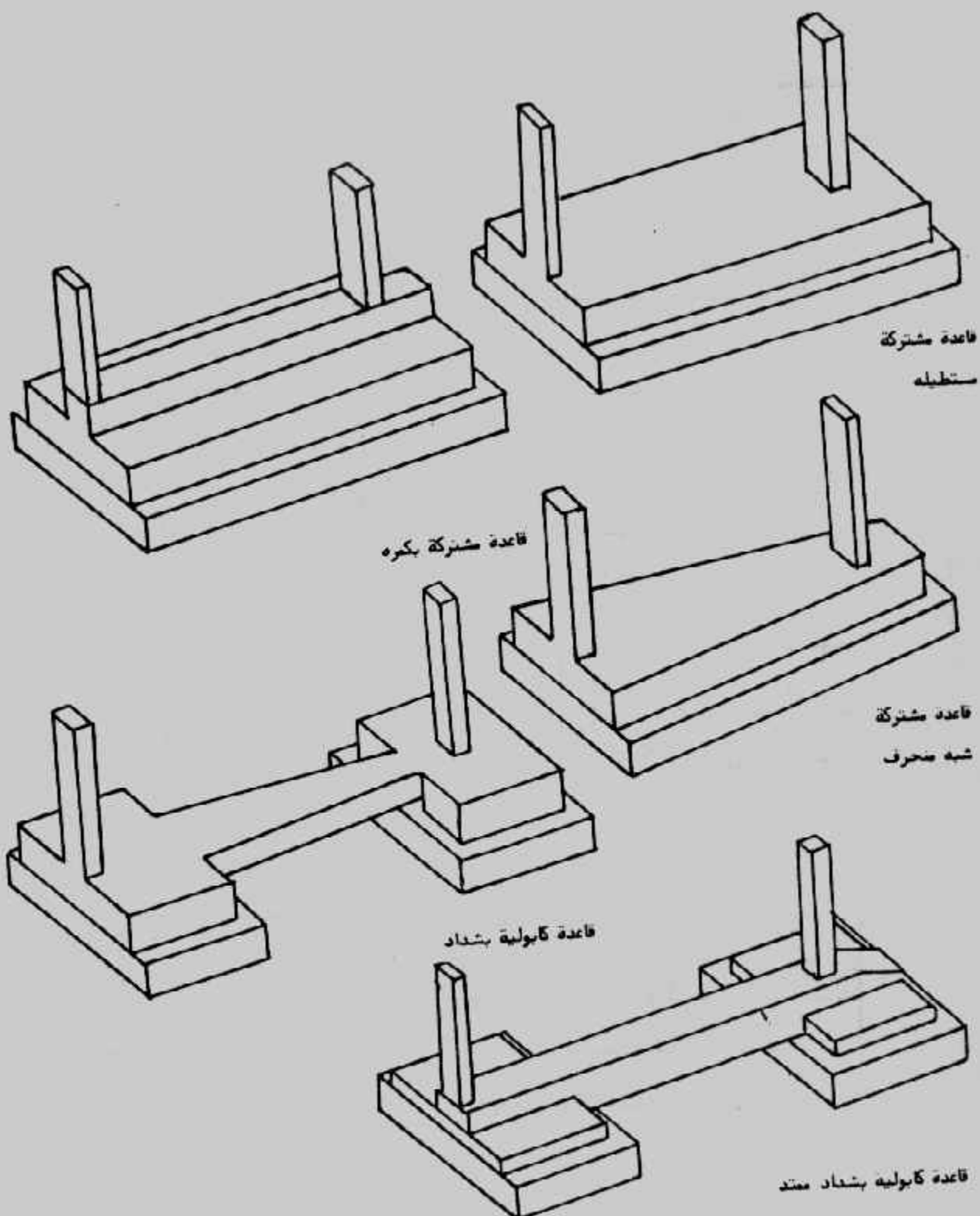


قاعدة مشتركة مستمرة (بكمرة وبدون)



قاعدة مشتركة لحائطين

شكل (٦-٣) : أنواع القواعد المشتركة



شكل (٤-٦): القواعد المشتركة لربط عمود الجار بآخر داخلي

$$\bar{X} = P_2 S/R$$

ويمكن تحديد نصف طول الأساس  $L/2$  من :

$$L/2 = X + Y_1$$

$$L = 2 (\bar{X} + Y_1)$$

ويجب مراعاة أن قيمة  $Y_1$  معلومة من :

$$Y_1 = y + (a_1/2)$$

حيث  $y$  هي بعد وجه العمود عن حد الملكية وهذه القيمة تساوى صفراً لو أن وجه العمود الخارجى يقع على حد الملكية تماماً. كما يجب ملاحظة عدم المبالغة فى تقريب الطول  $L$  تجنباً لحدوث إجهادات غير منتظمة التوزيع أسفل الأساس ولذلك فيكفى التقريب لأقرب ٥ سم أو ١٠ سم.

٢- تحديد عرض الأساس من :

$$B = \frac{R}{q_{na}}$$

$$\text{or } B = \frac{R_T}{q_a}$$

وتقرب  $B$  لأقرب ٥ سم.

٣- تعيين جهد التصميم من :

$$q = \frac{R}{L \times B}$$

٤- تعتبر القاعدة المشتركة محددة استاتيكيًا ولذا يمكن رسم مخطط قوى القص ثم يعين مكان القص المساو للصفـر Zero shear.

٥- يرسم مخطط عزم الانحناء ويعين أقصى انحناء المقابل للقص الصفـرى.

٦- يحدد عمق الأساس المقاوم للعزم  $d_m$  وكذلك المقاوم للقص  $d_{sh}$  بدون تسليح للقص.

ويحدد العمق المقاوم للعزم باستخدام العزم الأقصى  $M_{max}$  كما أن المقطع الحرج للقص يكون على مسافة  $d$  من وجه العمود الذى له قص أكبر (العمود أو الحمل الأكبر أى الداخلى)، شكل (٦-٦) كما يجب تحديد عمق الأساس المقاوم للقص الثاقب  $d_p$  علماً بأن المقطع الحرج للقص الثاقب يقع على بعد  $d/2$  حول العمود كما هو مبين بشكل (٦-٧) وتحسب قوى القص الثاقب كما يأتى :

$$Q_{p1} = P_1 - q (b_1 + d_p) (a_1 + d_p/2 + y)$$

$$Q_{p2} = P_2 - q (b_2 + d_p) (a_2 + d_p)$$

وأما عمق القص الثاقب فيحسب من :

$$d_p = Q_p / q_p \cdot \Sigma$$

حيث  $\Sigma$  هو محيط المقطع الحرج وهو فى هذه الحالة.

وعادة ما تصمم القواعد المشتركة على اعتبار أن القاعدة نفسها عالية الجساءة Rigid أو على اعتبار القاعدة تمثل كمرّة على وسط مرن Beam on an elastic media والاعتبار الأول يمثل الطريقة التقليدية فى التصميم حيث يفترض أن محصلة الأحمال الواصلة من الأعمدة للقاعدة المشتركة تؤثر فى مركز ثقل هذه القاعدة مما يضمن التوزيع المنتظم للإجهادات على التربة. أما الاعتبار الثانى فهو الأكثر دقة ويحتاج إلى مجهود أكبر فى التصميم كما أنه يحتاج إلى طرق تحليل عالية المستوى بالإضافة إلى ضرورة استخدام الحاسبات الآلية فى الحل.

وسوف نركز فى هذا الباب على الاعتبار الأول فى التصميم وهى القواعد المشتركة الجاسئة. وسوف نركز فى باب قادم على الاعتبار الثانى فى التصميم. ويجب ملاحظة أن القواعد المشتركة فى الاعتبار التقليدى للتصميم ولأى عدد من الأعمدة تعتبر محددة استاتيكية حيث أحمال الأعمدة معروفة وهى تمثل ردود أفعال الدعامات (إلى أسفل) أما الأحمال فهى جهد التربة المنتظم والمؤثر من أسفل إلى أعلى.

### تصميم القواعد المشتركة المستطيلة Rectangular Combined Footings :

تستخدم القواعد المشتركة المستطيلة فى الحالات الآتية :

- ١- حينما يحد العمود الخارجى حد ملكية أو جار أو خطوط مياه أو صرف أو أى عمل هندسى آخر يمثل عائقاً لامتداد أساسه المنفصل إذا نفذ له شكل (٥-٦).



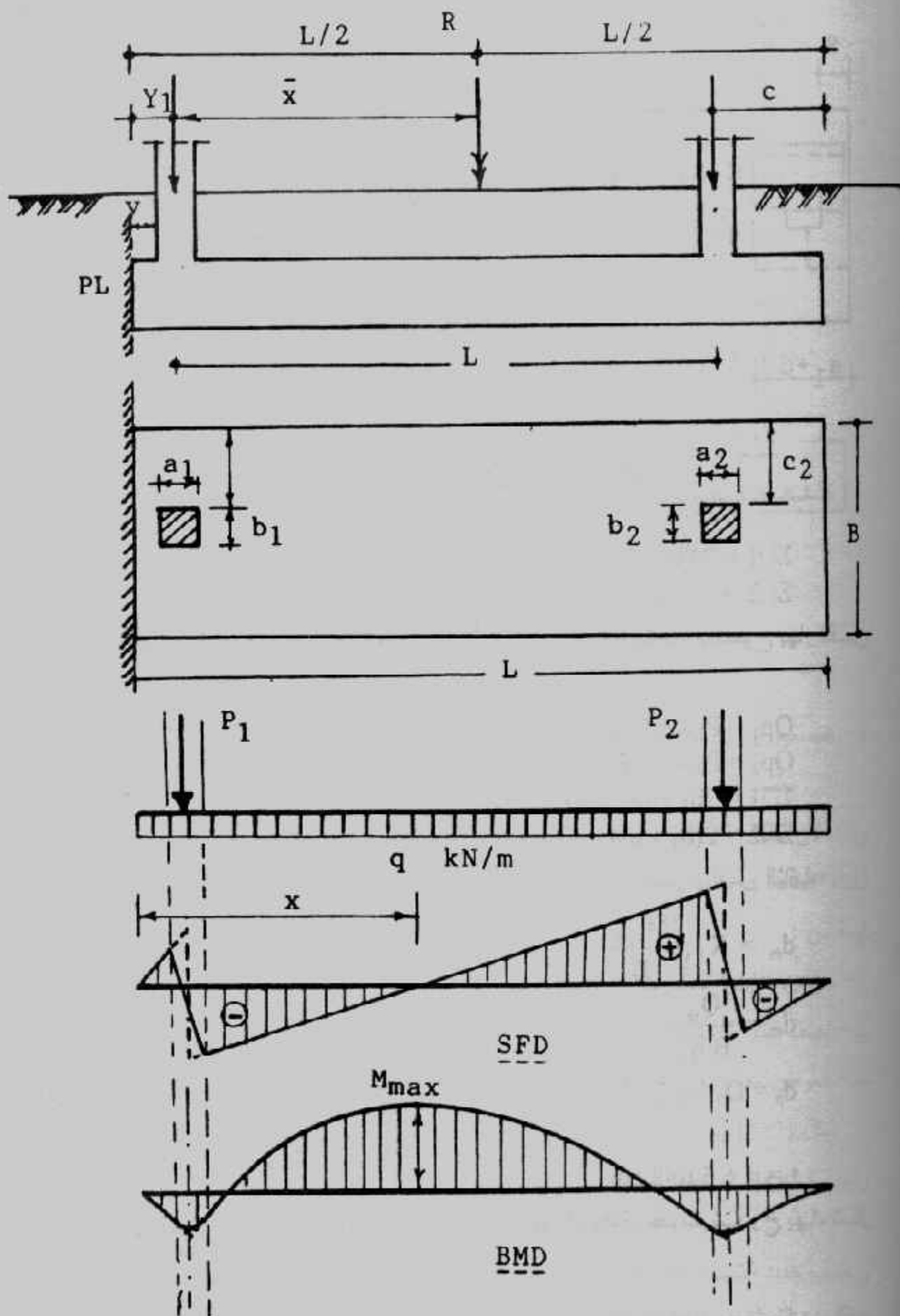
ويشترط أن يكون حمل العمود الخارجى أقل من حمل العمود الداخلى

$$P_1 < P_2$$

- ٢- حينما تكون المسافة بين عمودين داخليين لا تسمح بتنفيذ أساس منفصل لكل منهما. ويبين شكل (٦-٦) خطوات تصميم القواعد المشتركة المستطيلة باستخدام إجهادات التشغيل والتي تتمثل فى الخطوات الآتية :

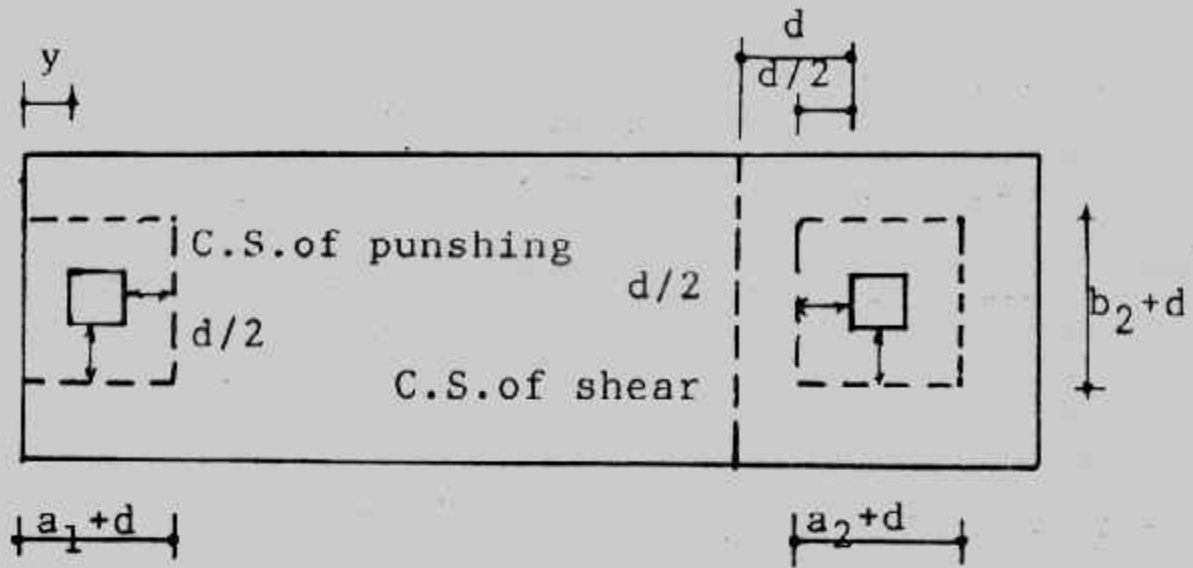
- ١- تعيين محصلة أحمال الأعمدة R وكذلك نقطة تأثيرها  $\bar{X}$

$$R = P_1 + P_2$$



شكل (٦-٦) : القاعدة المشتركة المستطيلة





شكل (٦-٧) : مقاطع القص والقص الثاقب

$$\Sigma \square 1 = 2(b_1 + d_p) + (a_1 + d_p/2 + y)$$

$$\Sigma \square 2 = 2[(b_2 + d_p) + (a_2 + d_p)]$$

كما يمكن أخذ المقطع الحرج حول العمود مباشرة مع زيادة الاجهادات المسموح بها للقص الثاقب وفي هذه الحالة يكون :

$$Q_{p1} = P_1 - q b_1 a_1$$

$$Q_{p2} = P_2 - q b_2 a_2$$

$$\Sigma \square 1 = 2b_1 + (a_1 + y)$$

$$\Sigma \square 2 = 2(b_2 + a_2)$$

ويختار أكبر عمق  $d$  من القيم الثلاثة للسمك المعينة من العزم والقص والقص الثاقب.

$$d_m = K_1 \sqrt{\frac{M_{max}}{B}}$$

$$d_{sh} = \frac{Q_{sh}}{B \cdot q_{sh}}$$

$$d_p = Q_p / q_p \cdot \Sigma \square$$

تم تعيين تخانة الأساس  $t$  من :

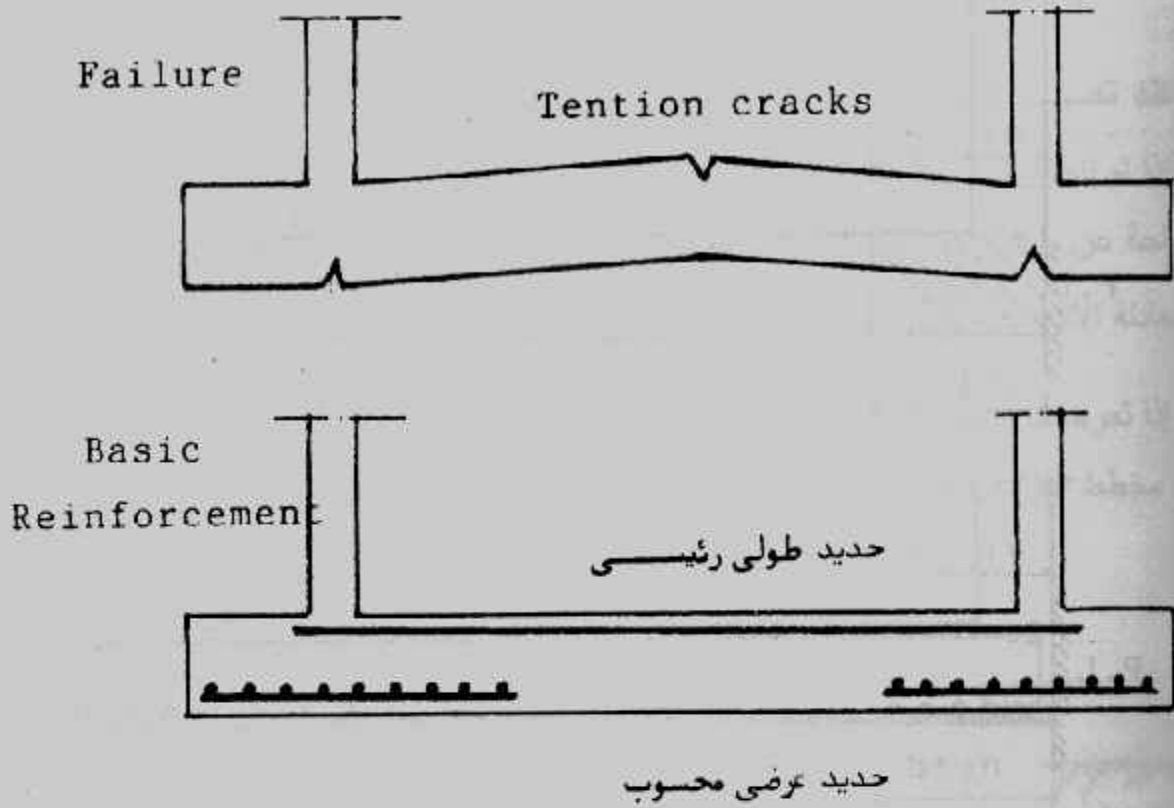
$$t = d + 5 \text{ to } 8 \text{ cm}$$

٧- يحسب الحديد الطولى الرئيسى وهو يغطى المناطق المحتمل حدوث شروخ بها، شكل

(٦-٨) .

ويهمل هنا حساب قوى التماسك وبالتالي اجهادات التماسك حيث تكون القيم

العظمى للعزوم متواجدة مع القطاع الخالى من قوى القص وهى نفسها تكون قوى التماسك .



شكل (٦-٨) : الانهيار والتسليح الرئيسى

٨- التصميم فى الاتجاه العرضى Transverse Direction •  
تصمم القاعدة المشتركة فى الاتجاه العرضى كقاعدة منفصلة لكل عمود على حدة وذلك لأن أحمال الأعمدة توزع فى الاتجاه العرضى أيضاً تحت الأعمدة وتعمل المنطقة تحت الأعمدة عرضياً ككمرات مدفونة ويؤخذ عرض هذه الكمرات العرضية المدفونة أقل قيمة من :

أ - عرض القاعدة المشتركة B •

ب - نصف بحر العمودين المتجاورين •

ج - العرض المحدد بمسافة d من وجهى كل عمود بما فيها عرض العمود نفسه •

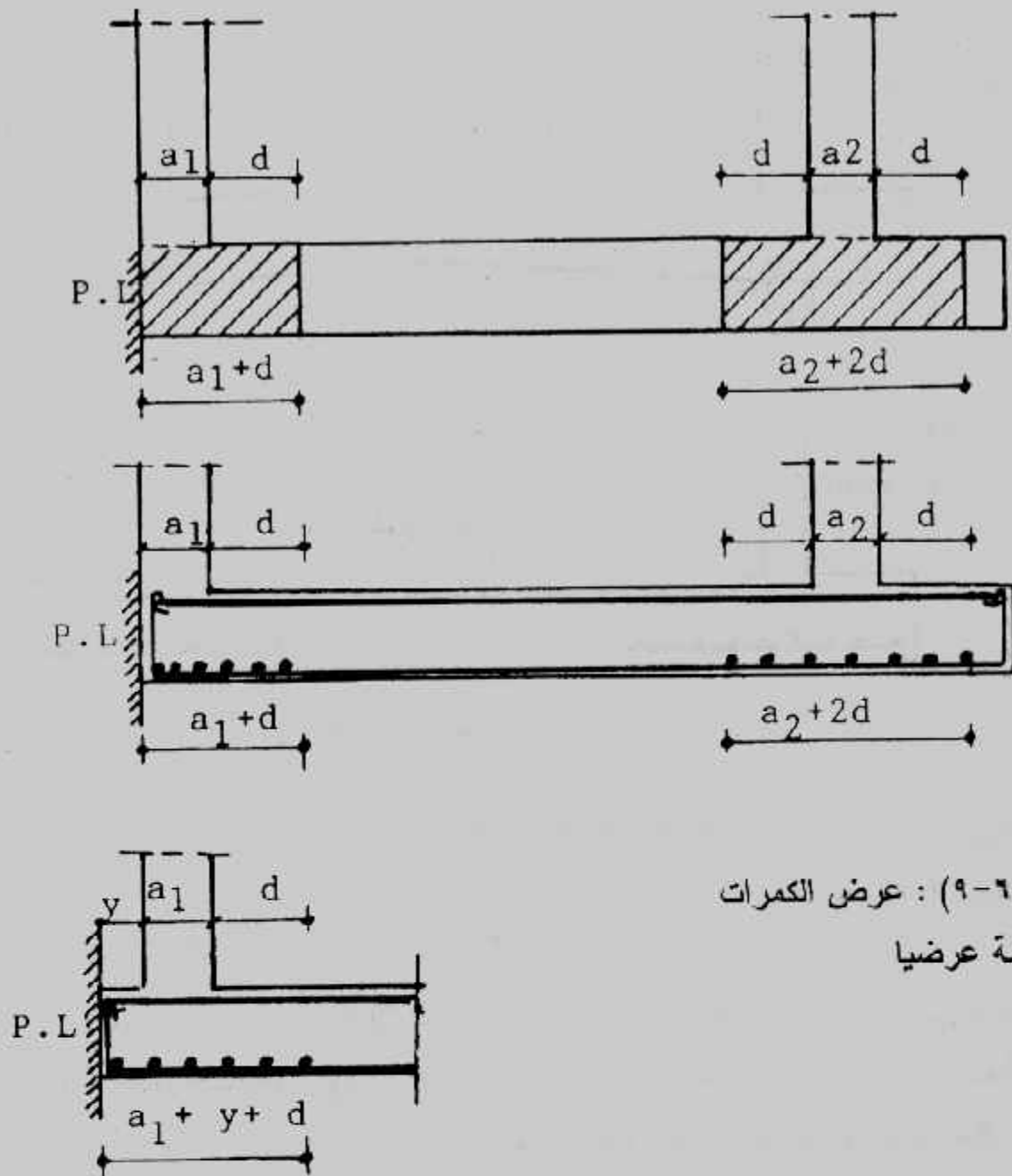
شكل (٦-٩) (يمكن هنا أخذ d/2 بدلاً من d كما جاء بكوند ACI) •

وتحسب العزوم العرضية من :

$$M_1 = P_1 C_1^2 / B \quad , \quad M_2 = P_2 C_2^2 / B$$

ويحسب حديد التسليح اللازم للعزم  $M_1$  ويوضع أسفل الكمرات العرضية  $B_1$  ويحسب حديد

التسليح اللازم للعزم  $M_2$  ويوضع أسفل الكمرات العرضية  $B_2$  •



شكل (٦-٩) : عرض الكمرات  
المدفونة عرضيا

أما الحديد العرضي العلوي والسفلي وكذلك الحديد الطولي في المقاطع الأخرى الغير محسوبة فيوضع بالنسبة الأدنى التي تحقق وجود حديد بقيمة لا تقل عن 0.002 من مساحة أي مقطع.

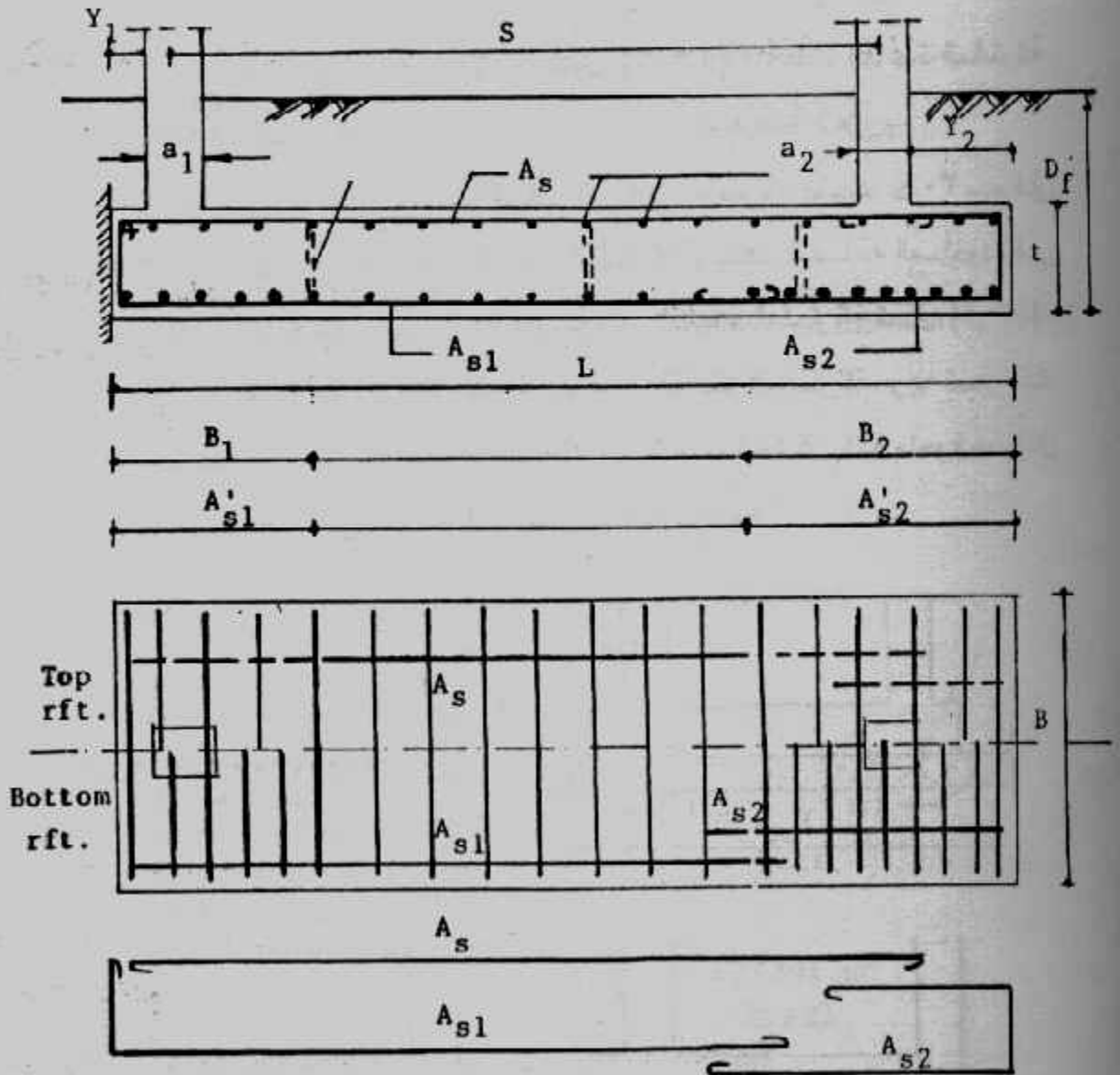
٩- توقع جميع الأبعاد الخرسانية وتفصيل حديد التسليح على رسومات هندسية تفصيلية مرسومة بمقياس رسم مناسب شكل (٦-١٠).

وعند تصميم القواعد المشتركة يجب ملاحظة الآتى :

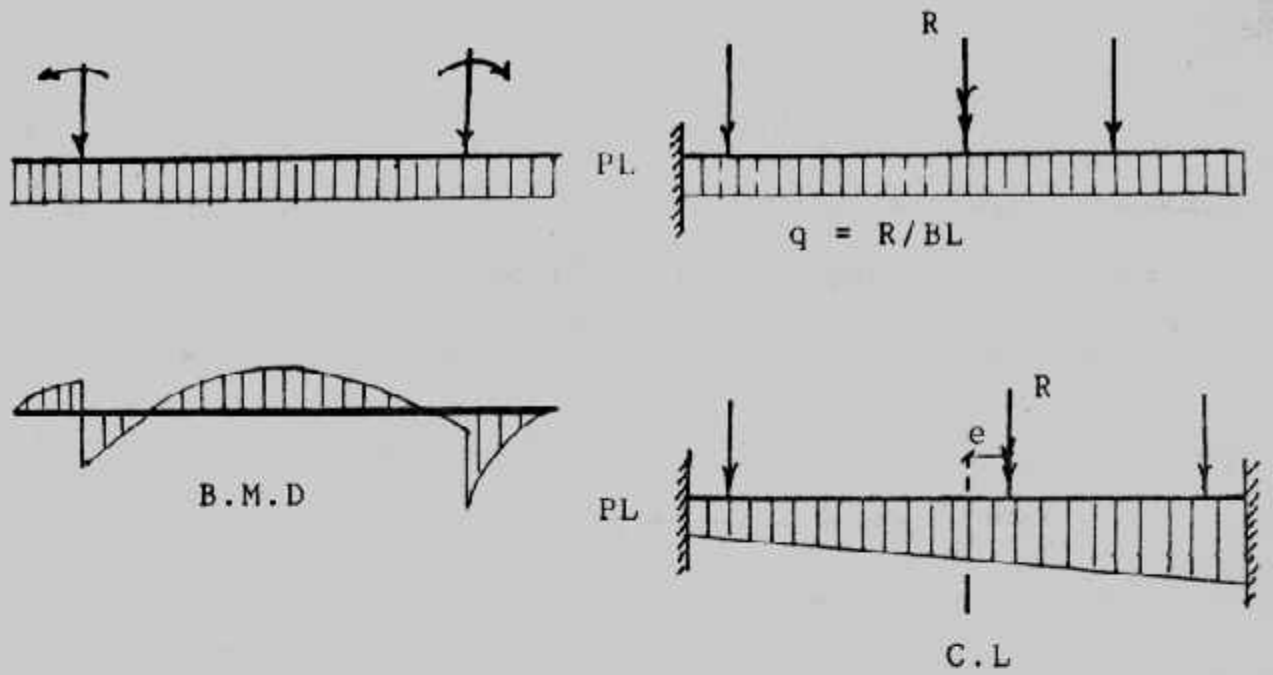
• إذا لم تنطبق محصلة الأحمال  $R$  على مركز ثقل القاعدة فإن القاعدة تكون معرضة لقوة مزاحة عن مركز النقل بمسافة  $e$  شكل (١١-٦) وتحسب اجهادات التربة أسفل الأساس من

$$q = \frac{R}{L \cdot B} \left( 1 \pm \frac{6e}{L} \right) \quad \text{المعادلة الآتية :}$$

• إذا تعرضت أعمد القاعدة المشتركة لعزوم فإن هذه العزوم تدخل فى حساب ورسم مخطط العزوم للقاعدة • شكل (١١-٦) ثم تنفذ خطوات التصميم كما تقدم •

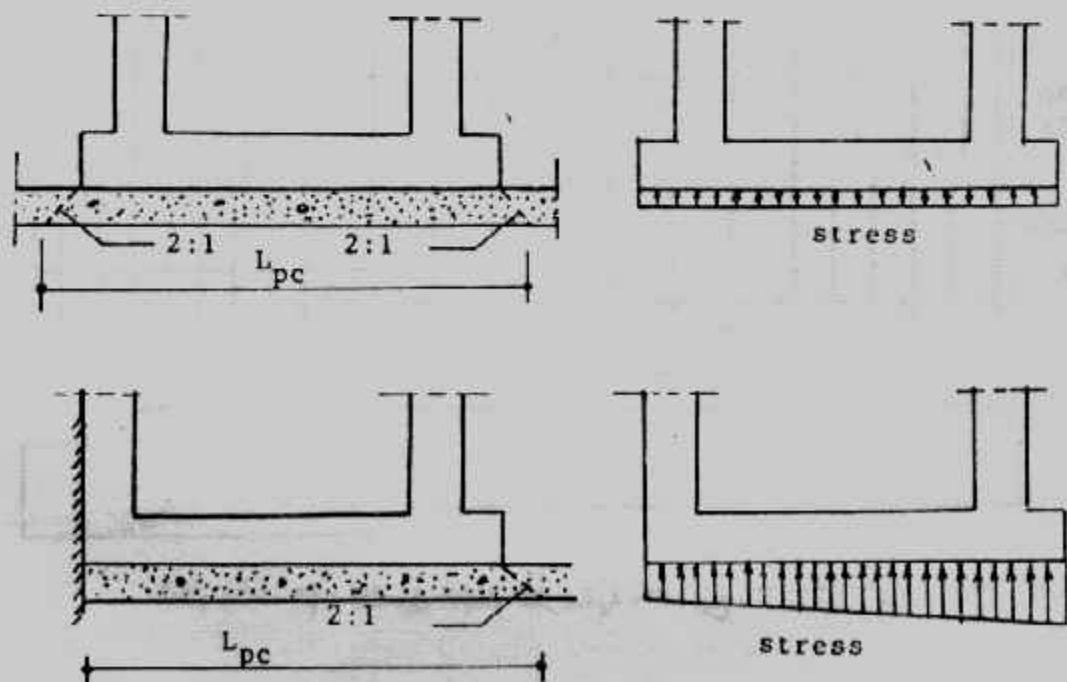


شكل (١٠-٦) : تفاصيل الأبعاد الخرسانية والتسليح.



شكل (١١-٦) : الأحمال غير المتمركزة      شكل (١٢-٦) : أعمدة القاعدة المشتركة على القاعدة المشتركة.

• عند استخدام لبشة من الخرسانة العادية أسفل القواعد المشتركة بسمك  $\leq 30$  سم فإن الخرسانة العادية تدخل في تصميم القاعدة المشتركة وتحدد المساحة المأخوذة في الاعتبار من هذه اللبشة من ميل ٢ : ١ من حدود القاعدة المشتركة شكل (١٣-٦). ويجب مراعاة المحافظة على انتظام الاجهادات أسفل القاعدة المشتركة، وإذا تعذر ذلك فتصمم القاعدة على الإجهادات الفعلية التي تأخذ في هذه الحالة شكل شبه منحرف، مثال (٤-٦) بينما الاجهادات على القواعد الخرسانة العادية منتظمة.



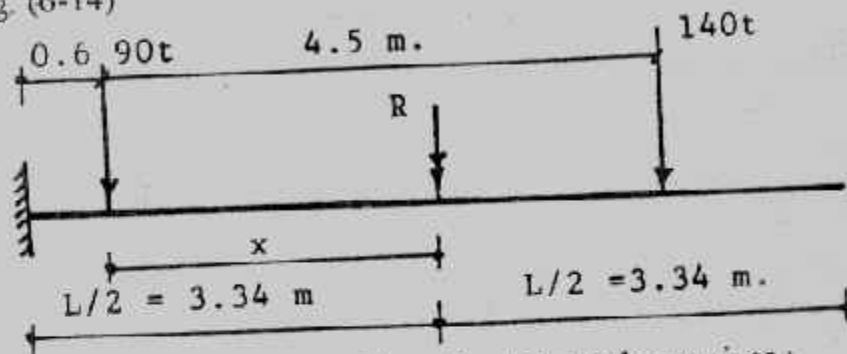
شكل (١٣-٦) : إدخال الخرسانة العادية في تصميم القاعدة المشتركة

**Example (6-1) :**

Design a combined footing for an exterior column 40 x 40 cm carrying a load of 90 t and interior column 60 x 40 carrying 140 t. The distance centre to centre of column is 4.5 m. The outside edge of the footing can be extension 40 cm beyond the outer face of the exterior column. The net allowable soil pressure is  $1.5 \text{ kg/cm}^2$ .  
 Data :  $f_c = 50 \text{ kg/cm}^2$ ,  $f_s = 1400 \text{ kg/cm}^2$ ,  $q_{sh} = 6 \text{ kg/cm}^2$ ,  $q_p = 8 \text{ kg/cm}^2$ ,  $k_1 = 0.361$  and  $k_2 = 1237$ .

**Solution :**

From Fig. (6-14)

**Fig. (6-14)**

Taking moment about the centre line of exterior column gives :

$$230 \quad \bar{x} = 140 (4.5)$$

$$\bar{x} = 2.74 \text{ m}$$

$$L = (2.74 + 0.2 + 0.4) = 6.68 \text{ m}$$

$$A = 230 \div 15 = 15.333 \text{ m}^2$$

$$B = 15.333 \div 6.68 = 2.295 \text{ m} \quad \text{taken } 2.3 \text{ m}$$

$$q = 230 / (2.3 \times 6.68) = 14.97 \text{ t/m}^2$$

Shearing force and bending moment diagrams are drawn and shown in Fig. (6-15).

To find the location of zero shear :

$$(14.97 \times 2.3) \quad x' = 90$$

$$x' = 90 \div 34.43 = 2.614 \text{ m}$$

$$M_{\max} = 34.431 \times 2.614/2 - 90 (2.614 - 0.6) = 63.627 \text{ mt}$$

$$d_m = 0.361 \sqrt{63.527 \times 10^5 / 230} = 60 \text{ cm}$$

Critical section of shear is at d from the face of interior column :

$$Q_{sh} = 75.272 - 34.431/d_{sh}$$

$$d_{sh} = \frac{75.272 - 34.431 d_{sh}}{0.87 \times 60 \times 2.3}$$

$$120.06 d_{sh} = 75.275 - 34.431 d_{sh}$$

$$d_{sh} = 75.275 / 154.491 = 48.72 \text{ cm}$$

$$d_m > d_{sh}$$

$$\text{take } d = 60 \text{ cm, } t = 65 \text{ cm}$$

Longitudinal reinforcement :

$$A_s \text{ top} = M/k_2 d = 63.527 \times 10^5 / 1237 \times 60 = 85.593 \text{ cm}^2$$

$$22 \phi 22$$

$$A_s \text{ bottom} = 28.2 \times 10^5 / 1237 \times 60 = 37.995 \text{ cm}^2$$

$$20 \phi 16$$

Transverse direction :

$$\text{Load under interior column/m} = 90/203 = 39.3 \text{ t/m}$$

$$C_1 = (2.3 - 0.4)/2 = 0.95 \text{ m}$$

$$M_1 = 39.13 \times 0.95^2/2$$

$$= 17.66 \text{ mt}$$



$$A_{s1} = 17.66 \times 10^5 / 1237 \times 60 = 23.79 \text{ cm}^2$$

$$13 \phi 16 / 1.4 \text{ m}$$

$$\text{Load under interior column/m} = 140 / 2.3 = 60.87 \text{ t/m}$$

$$C_2 = (2.3 - 0.4) / 2 = 0.95 \text{ m}$$

$$M_2 = 60.87 \times 0.95^2 / 2 = 27.47 \text{ mt}$$

$$A_{s2} = 27.47 \times 10^5 / 1237 \times 60 = 37.01 \text{ mt}$$

$$20 \phi 16 / 1.08 \text{ m}$$

لاحظ هنا أننا أخذنا مسافة d من وجهى العمود لحساب عرض الكمرات المدفونة تحت كل عمود وذلك لكثرة كمية حديد التسليح المستخدم فى الكمرات المدفونة.

Check punching for interior column (P = 140 t)

$$Q_{p1} = 140 - 14.97 (1.2 \times 1.00) = 122.04 \text{ t}$$

$$q_{p1} = \frac{122.04 \times 10^3}{60 \times 2 (120 + 100)} = 4.62 \text{ kg/cm}^2 < 8 \text{ kg/cm}^2$$

Check punching for exterior column (P = 90 t)

$$Q_{p2} = 90 - 14.97 (1. \times 1) = 75.1 \text{ t}$$

$$q_{p2} = \frac{75.1 \times 10^3}{60 \times 2 (100 + 100)} = 3.13 \text{ kg/cm}^2 < 8 \text{ kg/cm}^2$$

Details are shown in Fig. (6-16)

### Example (6-2) :

Two interior columns each 30 x 50 cm and carries a load of 90 t and reinforced by 8  $\phi$  19 mm, are to be supported by a rectangular combined footing of width equal to 2.5 m. The distance centre to centre of columns is 4.5 m. If the net allowable pressure on soil is 1.2 kg/cm<sup>2</sup>, design the footing using the following data :

$$q_{sh} = 6 \text{ kg/cm}^2, q_p = 10 \text{ kg/cm}^2, f_c = 50 \text{ kg/cm}^2, \text{ and } f_s = 1400 \text{ kg/cm}^2$$

**Solution :**

$$R = 90 \times 2 = 180 \text{ t}$$

$$A = 180 / 120 = 15 \text{ m}^2$$

$$\text{take } B = 2.5 \text{ m}$$

$$L = 15 / 2.5 = 6 \text{ m}$$

$$q = 180 / 2.5 \times 6 = 12 \text{ t/m}^2$$

Shearing force diagram :

$$Q_1 = 30 \times 0.5 = 15 \text{ t}, \quad Q_2 = 90 - 30 \times 1 = 60 \text{ t}$$

Zero shear is at mid of foundation.

Bending moment diagram :

$$M_1 = 30 \times 0.5^2 / 2 = 3.75 \text{ mt}$$

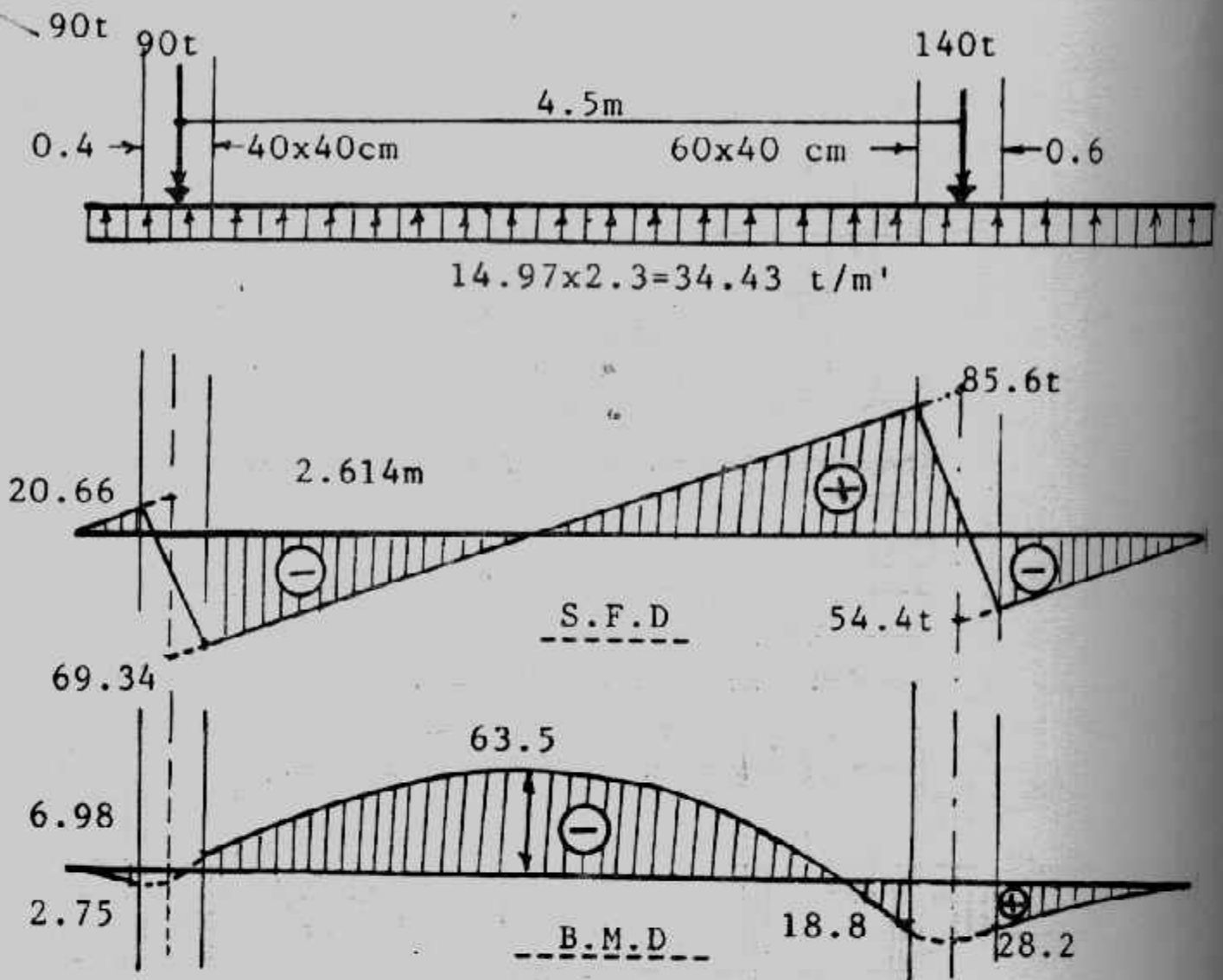
$$M_2 = 90 \times 0.25 - 30 \times 12 / 2 = 22.5 - 15 = 7.5 \text{ mt}$$

$$M_{max} = 90 \times 2.25 - 30 \times 32 / 2 = 202.5 - 135 = 67.5 \text{ mt}$$

To find  $d_{sh}$  :

$$Q_{sh} = 60 - 2.5 \times 12 d = 60 - 30 d$$

$$d_{sh} = \frac{60 - 30 d_{sh}}{60 \times 2.5}$$



شكل (١٥-٦): القص والعزم في مثال (٦-٢)

$$150 d_{sh} = 60 - 30 d_{sh}$$

$$d_{sh} = 60/180 = 0.33 \text{ m}$$

Take critical section of punching at the face of column

$$Q_p = 90 - 12 \times 0.5 \times 0.3 = 88.2 \text{ t}$$

$$d_p = \frac{88.2 \times 10^3}{10 \times 2(30 + 50)} = 55.125 \text{ cm}$$

$$d_{in} = 0.361 \sqrt{67.5 \times 10^5 / 250} = 59.32 \text{ cm}$$

take  $t = 70 \text{ cm}$ ,  $d = 63 \text{ cm}$

Longitudinal reinforcement

$$A_s \text{ top} = 67.5 \times 105 / 1237 \times 63 = 86.62 \text{ cm}^2$$

$$23 \phi 22$$

$$A_s \text{ bottom} = 3.75 \times 103 / 1237 \times 63 = 4.8 \text{ cm}^2$$

Take  $5 \phi 13/\text{m}$  (as a minimum)

Short Direction :

$$\text{Load } / \text{m}' = 90/2.5 = 3 \text{ t/m}'$$

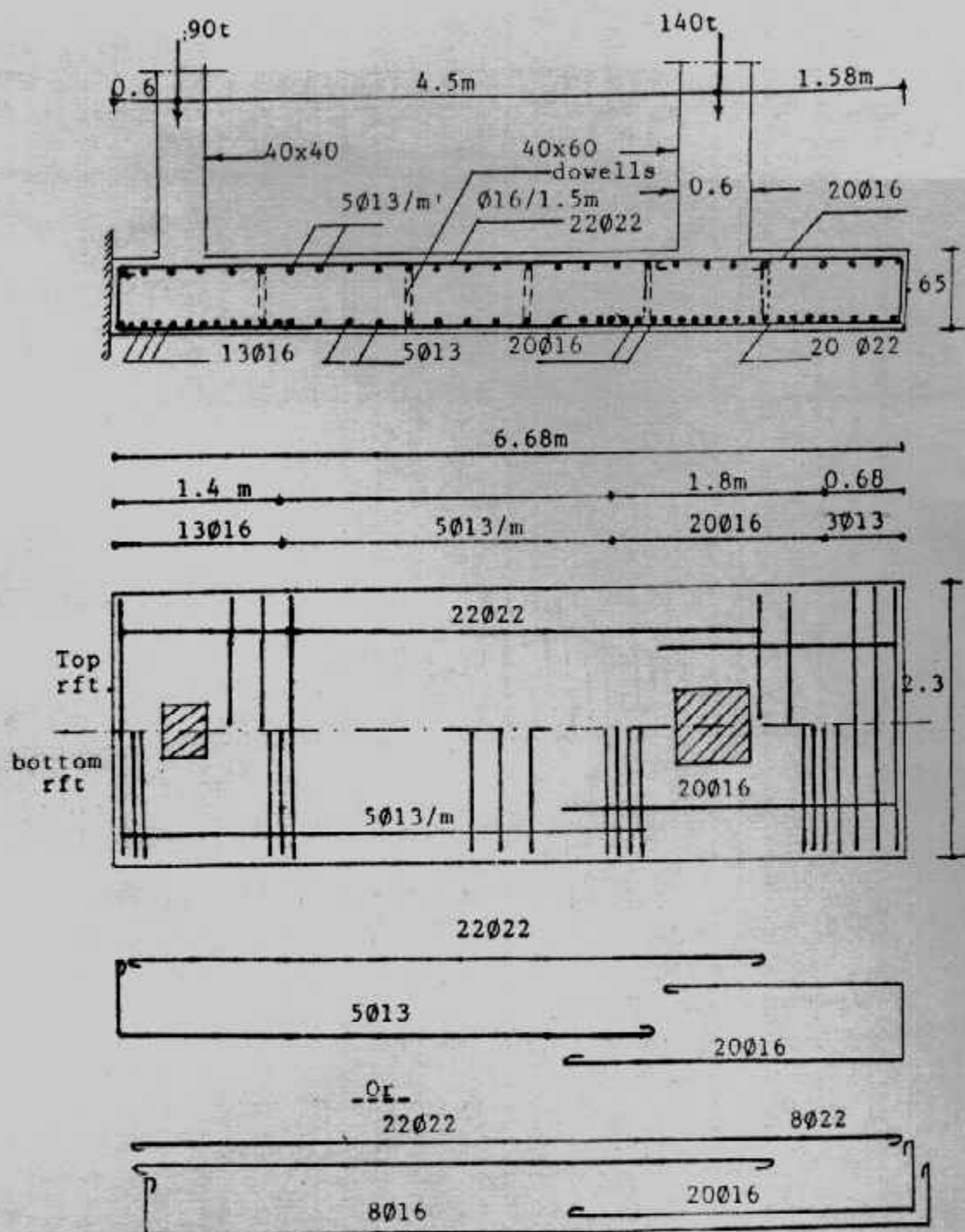
$$C_1 = C_2 = (2.5 - 0.3)/2 = 1.1 \text{ m}$$

$$M_1 = M_2 = 36 \times 1.12/2 = 21.78 \text{ mt/m}'$$

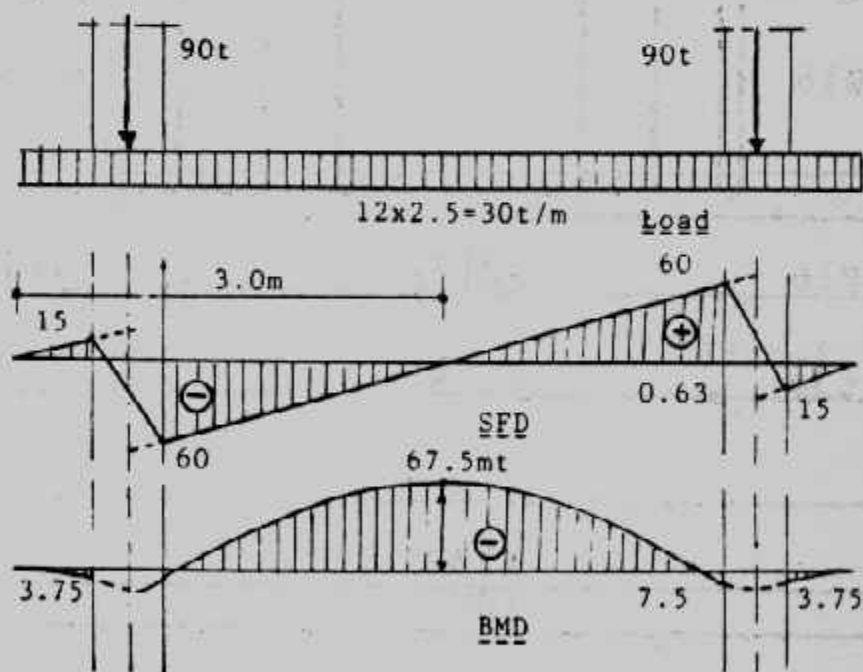
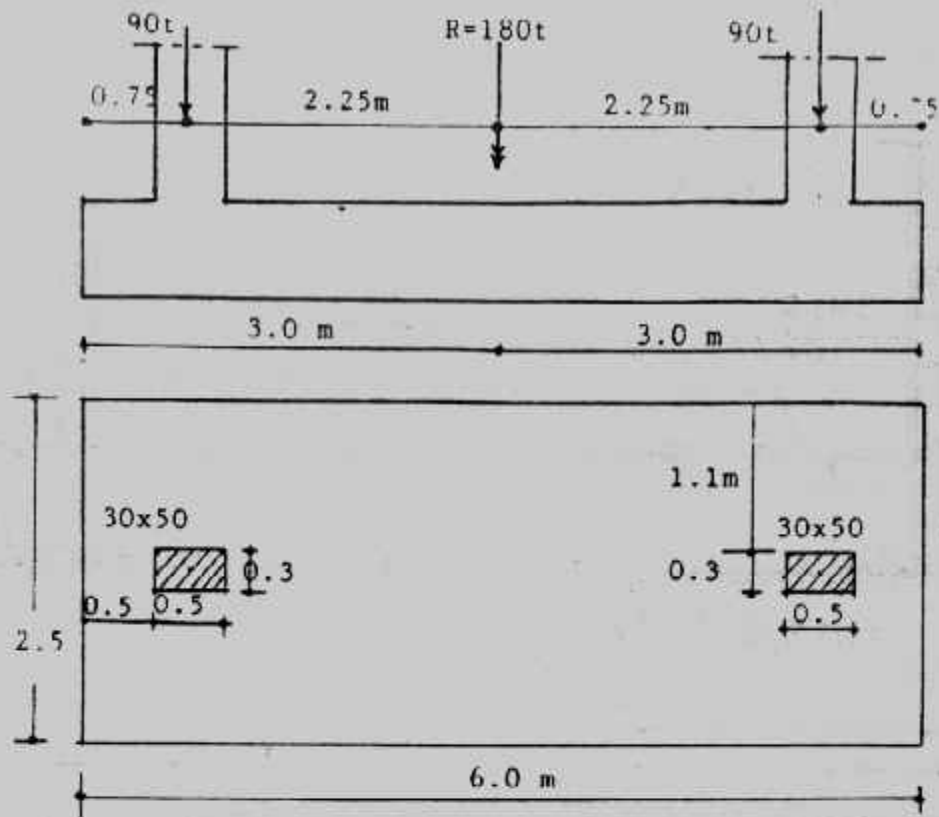
$$A_{s1} = A_{s2} = 21.78 \times 105 / 1237 \times 63 = 27.94 \text{ cm}^2$$

$$14 \phi 16/163 \text{ cm}$$

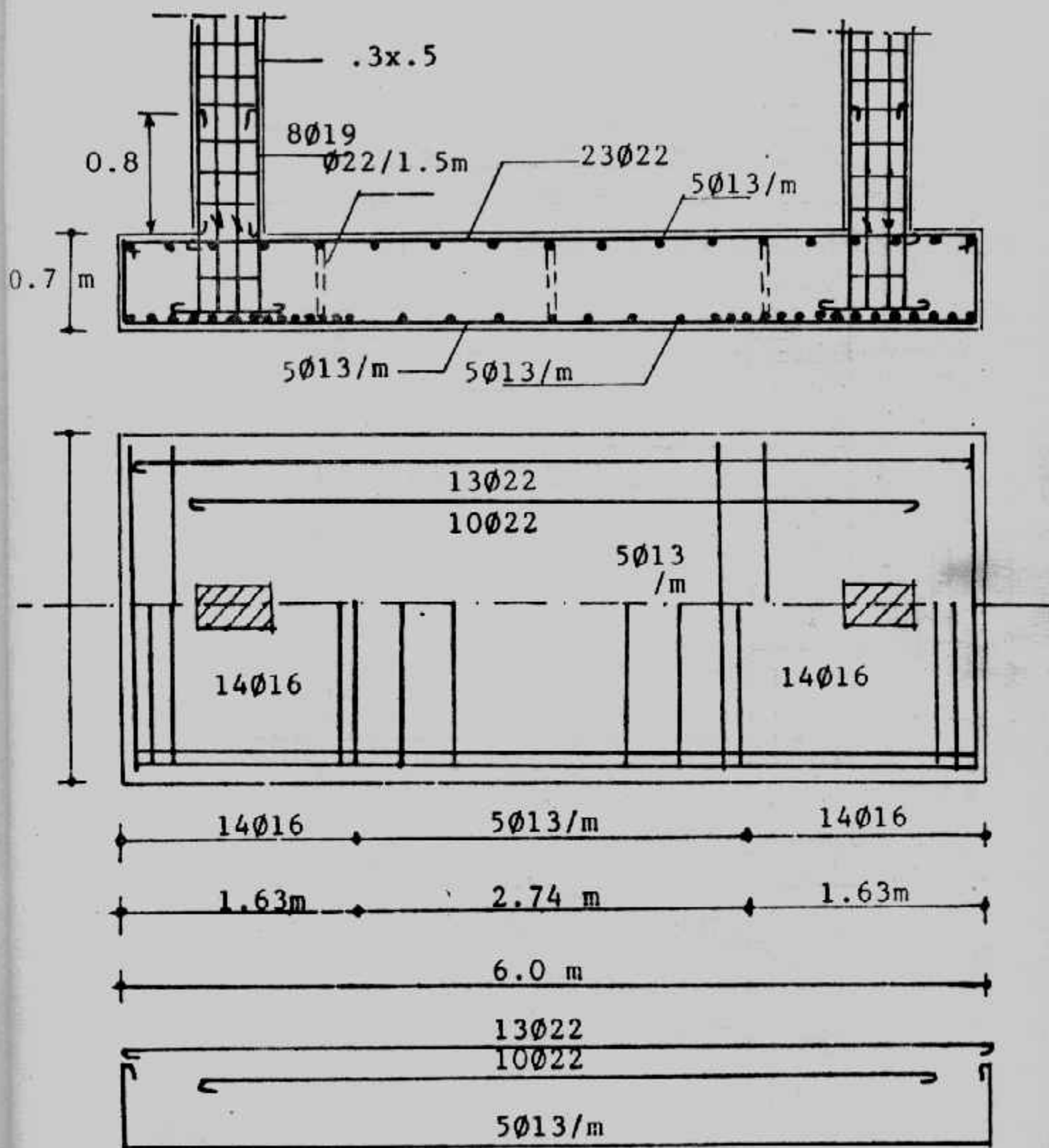
Design details are shown in Fig. (6-18)



شكل (٦-١٦) : أبعاد وتفاصيل التسليح لمثال (٦-٧)



شكل (١٧-٦) : الأبعاد والقوى الداخلية في مثال (٢-٦)



شكل (١٨-٦) : تفاصيل التسليح لمثال (٦-٢)

**Example (6-3):**

Redo example (6-3) using plain concrete 40 cm thickness Data  $f_c = 65$  kg/cm<sup>2</sup>  $f_t = 2000$  kg/cm<sup>2</sup>,  $q_{ah} = 9$  kg/cm<sup>2</sup>,  $q_p = 9$  kg/cm<sup>2</sup>,  $k_1 = 0.324$  and  $k_2 = 1782$   
 $q_p = 9$  kg/cm<sup>2</sup>,  $k_1 = 0.324$  and  $k_2 = 1782$ .

**Solution :**

$$R = 90 + 140 = 230 \text{ t}$$

$$230 x = 140 \text{ (4.5)}$$

$$x = 2.74 \text{ m}$$

$$L_{pc} = 2 (2.74 + 0.2 + 0.4) = 6.68 \text{ m}$$

$$A_{pc} = 230/15 = 15.333 \text{ 2.295 m}$$

$$B_{pc} = 15.333 / 6.68 = 2.295 \text{ taken 2.3 m}$$

$$q = 230 / 2.3 \times 6.68 = 14.97 \text{ t/m}^2$$

$$c = t \sqrt{1.33 / q_a} = 0.4 \sqrt{1.33 / 1.5} = 0.38 \text{ m} \quad \text{taken 0.4 m}$$

$$L_{Re} = 6.68 - 0.4 = 6.28 \text{ m}$$

$$B_{Re} = 2.3 - 2 \times 0.4 = 1.5 \text{ m}$$

Contact stress between plain concrete and reinforced concrete

$$= 230/6.28 \times 1.5 = 24.42 \text{ t/m}^2 < 50 \text{ t/m}^2 \quad \text{o.k}$$

The eccentricity  $e = (6.28/2) - (0.4 + 0.2 + 2.74) = 0.2 \text{ m}$

$$q_2^1 = \frac{230}{6.28 \times 1.5} \left( 1 \pm \frac{6 \times 0.2}{6.28} \right)$$

$$= 24.42 (1 \pm 0.19)$$

$$q_1 = 29.06 \text{ t/m}^2$$

$$q_2 = 19.78 \text{ t/m}^2$$

The maximum field moment  $M_{max}$  lies at point of zero shear which lies at a distance  $x'$  from the left edge of the footing :

$$19.67 x' - (43.59 - 29.67) x' / 6.28 \cdot x' / 2 = 90$$

$$29.67 x' + 1.11 x'^2 = 90$$

$$x' = 2.75 \text{ m}$$

$$M_{max} = 90 (2.75 - 0.6) - 29.67 \times 2.75/2 - (43.59 - 29.67) 275/6.28 \times 2.75/3$$

$$= 75.72 \text{ mt} = 75.72/1.5 = 50.48 \text{ mt/m}$$

$$M_1 = 29.67 \times 0.4^2/2 + (43.59 - 29.67) 0.4/6.28 \times 0.4/3 = 2.26 \text{ mt}$$

$$M_2 = 90 \times 4.8 + 140 \times 0.3 - 29.67 \times 5.4^2/2 + (43.59 - 29.67) 5.4 / 6.28 \times 5.4 / 3$$

$$= 19.87 \text{ mt}$$

$$dm = 0.324 \sqrt{\frac{75.72 \times 100000}{150}} = 72.8 \text{ cm}$$

$$\text{take } t = 80 \text{ cm}, \quad d = 73 \text{ cm}$$

shearing forces :

$$Q_{s1} = 29.67 \times 0.4 + (43.59 - 29.67) 0.4/6.28 \times 0.4/2$$

$$= 29.67 \times 0.4 + 1.11 \times 0.42 = 12.31 \text{ t}$$

$$Q_{s3} = 29.67 \times 4.8 + 1.11 \times 4.82 - 90 = 77.99 \text{ t}$$

$$Q_{s2} = 29.67 \times 5.4 + 1.11 \times 5.42 - 90 - 140 = -37.41 \text{ t}$$

$$Q_{s4} = 29.67 \times 0.8 + 1.11 \times 0.82 - 90 = -37.55 \text{ t}$$

Critical section of shear is at  $d$  from the face of interior column

$$Q_s = 29.67 \times 4.07 + 1.11 \times 4.072 - 90 = 49.14 \text{ t}$$

$$q_s = \frac{49.14 \times 10^3}{150 \times 73} = 4.49 \text{ kg/cm}^2 < 9 \text{ kg/cm}^2$$



Longitudinal reinforcement

$$A_s \text{ top} = \frac{75.72 \times 100000}{73 \times 1782} = 58.2 \text{ cm}^2 \quad 16 \phi 22$$

$$A_s \text{ bottom} = \frac{19.87 \times 100000}{73 \times 1782} = 15.27 \text{ cm}^2 \quad 8 \phi 16$$

Transverse Direction :

$$\text{Load under exterior column/m} = 90/1.5 = 60 \text{ t/m}$$

$$C_1 = (1.5 - 0.4) / 2 = 0.55 \text{ m}$$

$$M_1 = 60 \times 0.55^2 / 2 = 9.075 \text{ mt}$$

$$d' = 73 - 2.2 - 1.3 / 2 = 70.15 \text{ cm}$$

$$A_{s1} = \frac{9.075 \times 10000}{70.15 \times 1782} = 7.26 \text{ cm}^2$$

take  $6 \phi 13/1.13 \text{ m}$

$$\text{Load under interior column/m} = 140/1.5 = 93.33 \text{ t/m}$$

$$M_2 = 93.33 \times 0.55^2 / 2 = 14.12 \text{ mt}$$

$$d' = 73 - 2.2 - 1.6 / 2 = 70 \text{ cm}$$

$$A_s = \frac{14.12 \times 100000}{70 \times 1782} = 11.32 \text{ cm}^2$$

take  $6 \phi 16/1.13 \text{ m}$

$$A_{s \text{ min}} = 0.0002 \times 73 \times 100 = 14.6 \text{ cm}^2 \quad 11 \phi 13/\text{m}$$

take  $6 \phi 13/\text{m}$  upper and  $6 \phi 13/\text{m}$  lower.

لاحظ هنا أننا أخذنا  $d/2$  من وجهى العمود لحساب عرض الكمرات المدفونة تحت كل عمود وذلك لقلّة الحديد المستخدم فى هذه الكمرات المدفونة.

Check punshing :

Check punshing should be checked on a perimeter section a distance  $d/2$  around the column

$$Q_{p1} = 90 - 21.0 (0.4 + 0.73)^2 = 66.27 \text{ t}$$

$$q_{p1} = \frac{66.27 \times 1000}{73 \times 4(40 + 73)} = 2.01 < 9 \text{ kg/cm}^2 \quad \text{o.k}$$

$$Q_{p2} = 140 - 27.32 (0.4 + 0.73) (0.6 + 0.73) = 98.94 \text{ t}$$

$$q_2 = \frac{98.94 \times 1000}{73 \times 2[(40 + 73) + (60 + 73)]} = 98.94 \text{ t}$$

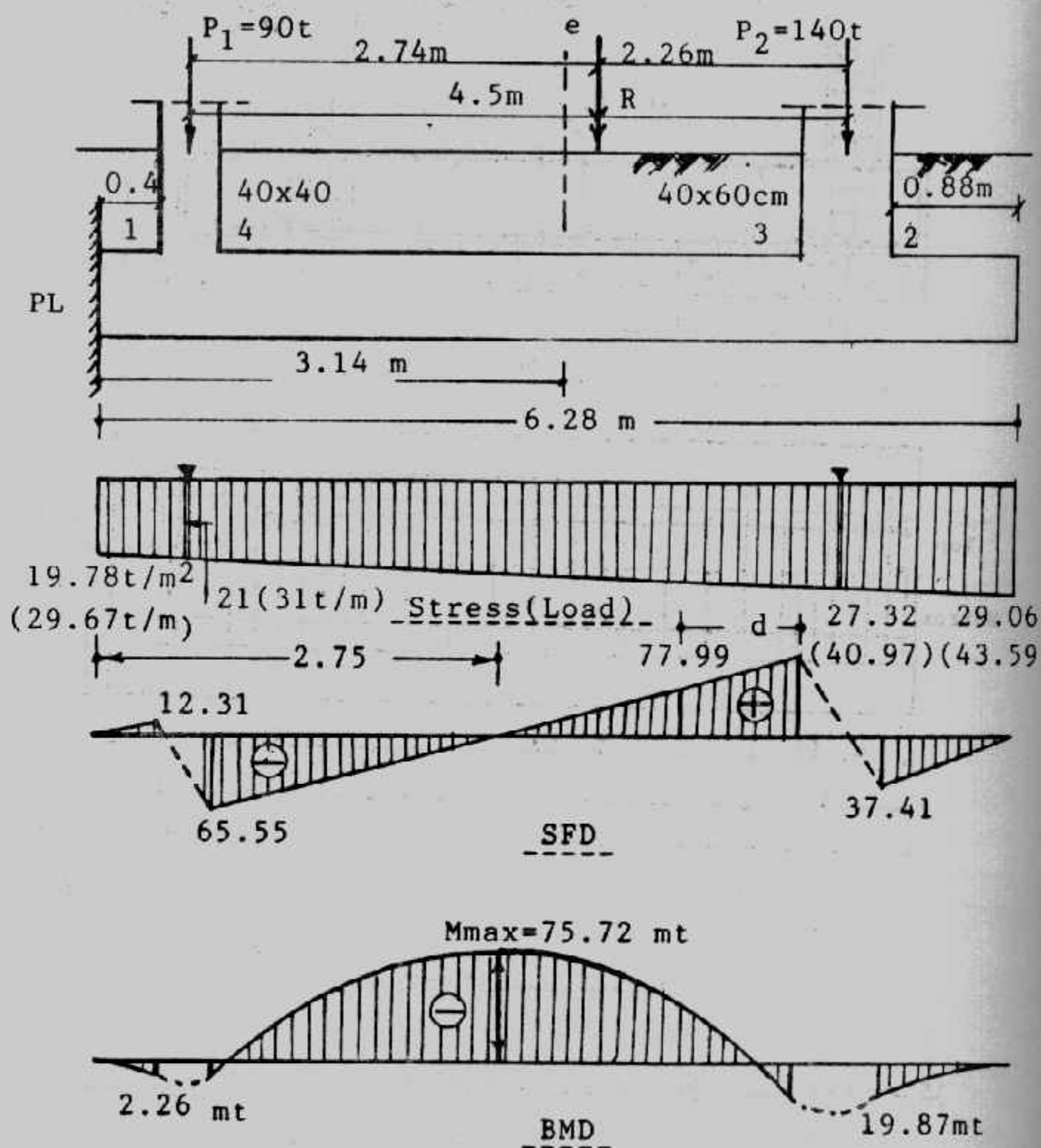
Details of design are shown in Fig. (6-20)

تصميم القواعد المشتركة شبه المنحرف

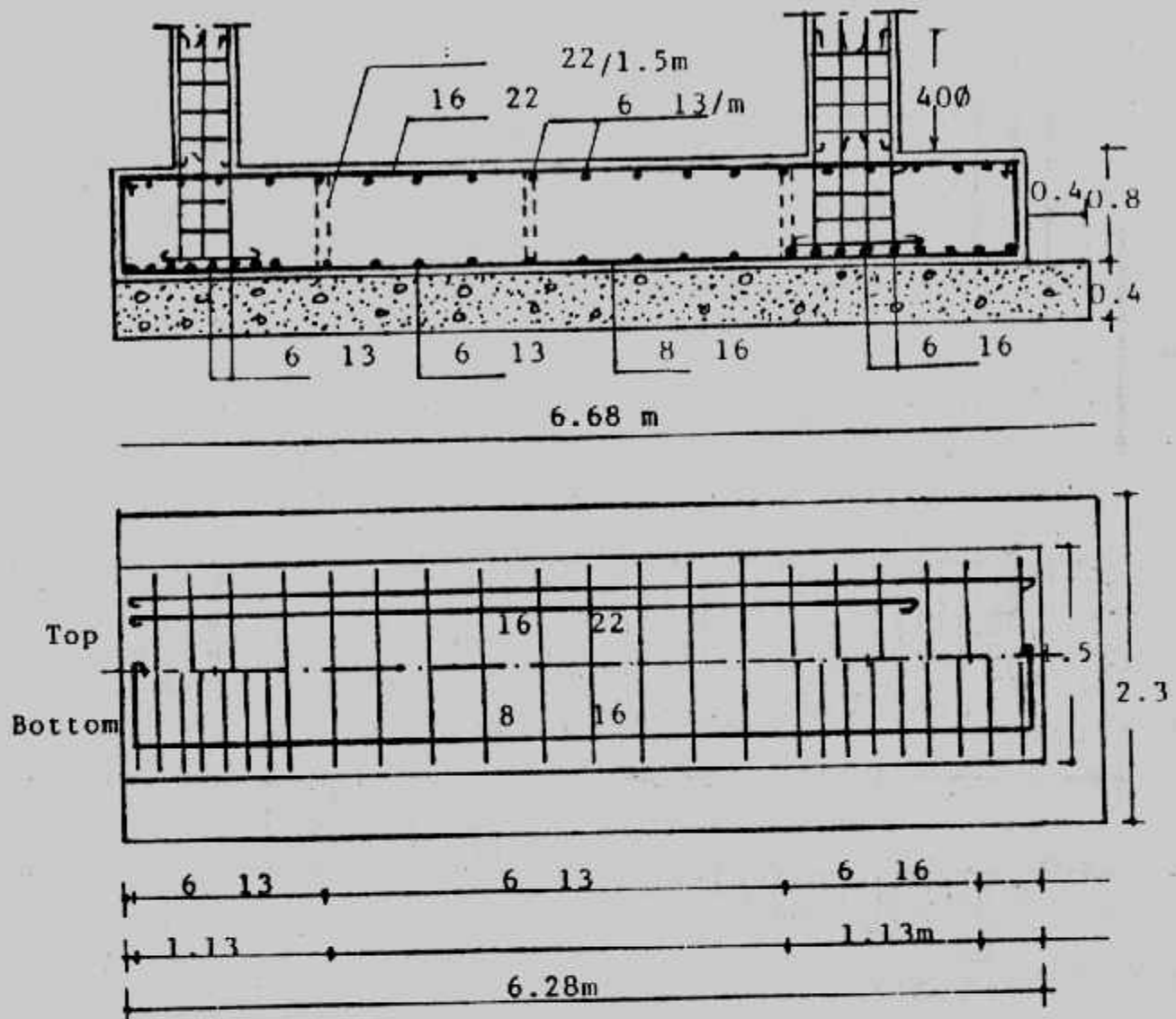
## Combined Trapezoidal Footings

عند تصميم القواعد المشتركة وحينما يكون حمل العمود الخارجى أكبر من حمل العمود الداخلى فإن القواعد المشتركة المستطيلة لا تصلح فى هذه الحالة. وكذلك حينما يكون حد الملكية أو أى مانع آخر مجاور للعمودين الغير متساويين فى الأحمال شكل

٠(٢١-٦)



شكل (٦-١٩) الأبعاد والقوى الداخلية.



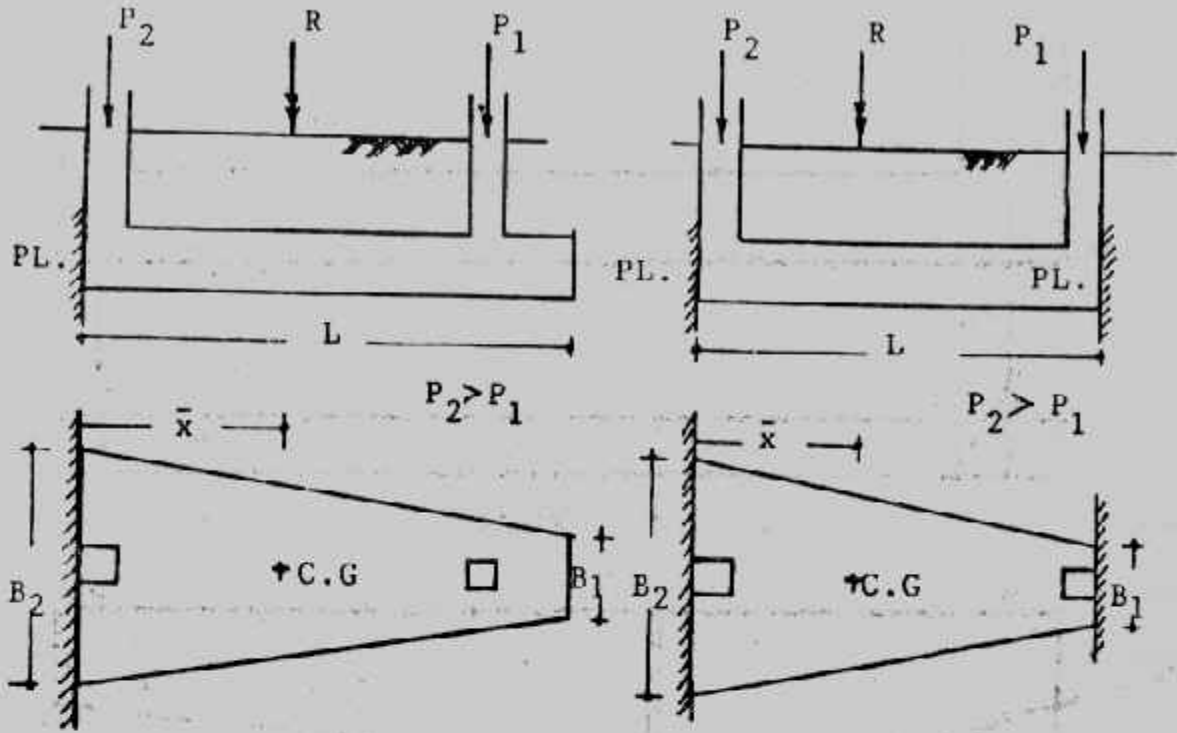
شكل (٦-٢٠) تفاصيل التسليح .

ولضمان توزيع الاجهادات بانتظام على التربة فإن محصلة الأحمال يجب أن تقع في مركز مساحة شبه المنحرف وكذلك تعين مساحة القاعدة من :

$$A = R/q_{na} \quad \text{or} \quad A = R_T / q_a$$

ومن هندسة شكل شبه المنحرف نجد أن :

$$\bar{x} = \frac{L}{3} \left( \frac{2B_1 + B_2}{B_1 + B_2} \right)$$



شكل (٦-٢١) استخدام القواعد المشتركة شبه المنحرف

$$A = \left( \frac{B_1 + B_2}{2} \right) L$$

ومن المعادلتين السابقتين يمكن تعيين المجهولين  $B_1$ ,  $B_2$  علماً بأن طول القاعدة  $L$  قيمة محددة أو مفروضة حسب حالة الأعمدة والموقع.

$$B_1 = \frac{2A}{L} \left( \frac{3\bar{x}}{L} - 1 \right), \quad B_2 = \frac{2A}{L} - B_1$$

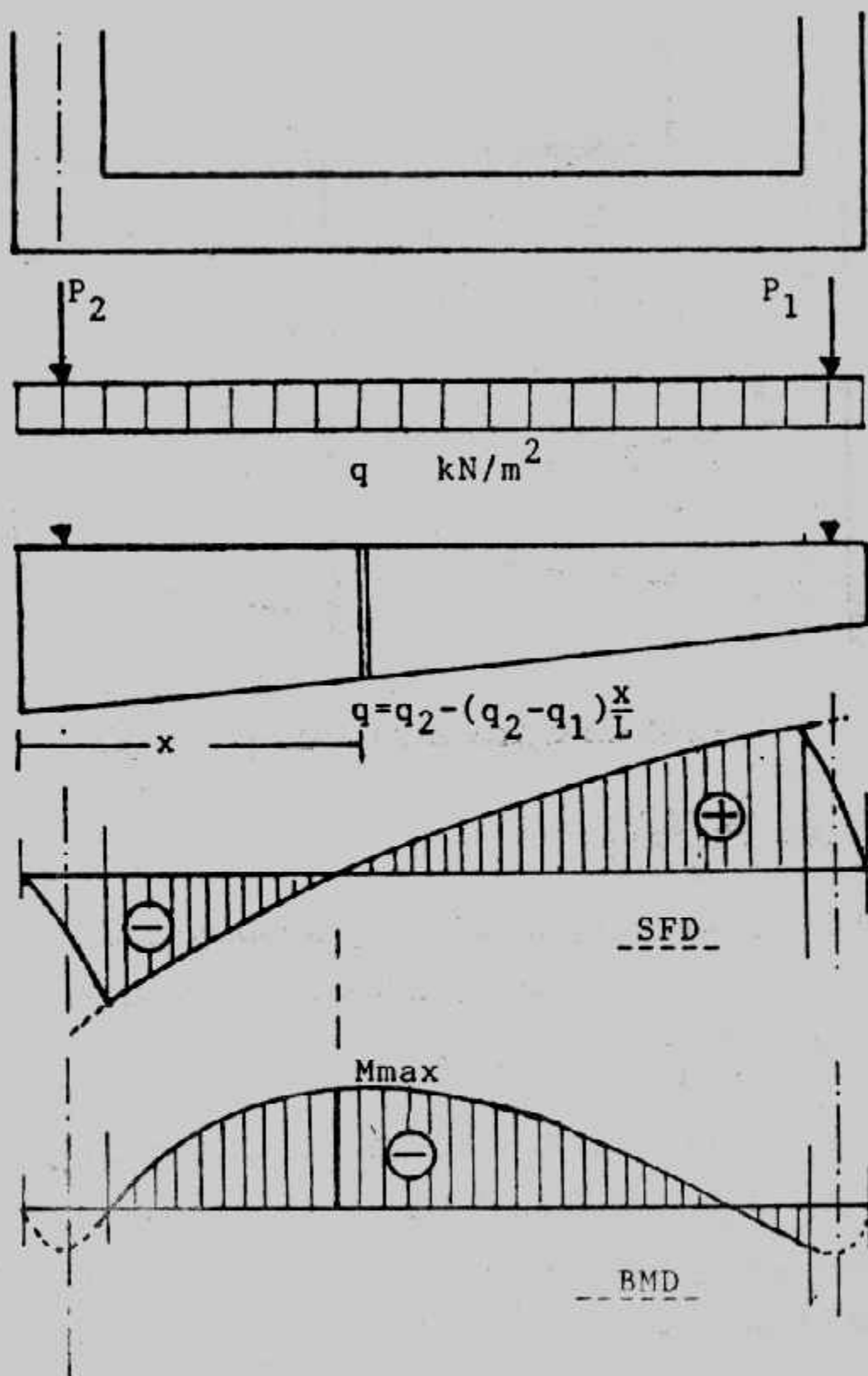
وتستكمل باقى خطوات التصميم كما فى القواعد المشتركة المستطيلة مع مراعاة الآتى :

- رغم أن توزيع الاجهادات على التربة منتظمة لأن محصلة الأحمال تقع فى مركز القاعدة إلا أنه عند تصميم القاعدة فى الاتجاه الطولى فإن هذه الاجهادات تعطى حملاً خطياً مائلاً (الخط منحنى من الدرجة الأولى) وتعطى فى القص منحنى من الدرجة الثانية وفى العزوم منحنى من الدرجة الثالثة.

• يفضل لتسهيل الحل وضع الحمل الناتج عن اجهادات التربة على القاعدة فى صورة

معادلة لحساب الحمل  $q$  عند أى مقطع على مسافة  $x$  من ناحية القاعدة الكبرى  $B_2$

$$q = q_2 - (q_2 - q_1) x / L$$



شكل (٢٢-٦) : الأحمال والقوى الداخلية

وبإجراء التكامل على هذه المعادلة تنتج معادلة لتعيين القص :

$$Q = \int_0^x q dx = q_2 x (q_2 - q_1) x^2 / 2L + C$$

وثابت التكامل هنا يعادل حمل العمود الموجود بين المقطع وبين القاعدة الكبرى  $B_2$  • ومن المعادلة السابقة يمكن تعيين مكان القص الصفري بوضع  $Q = 0$  في هذه المعادلة •

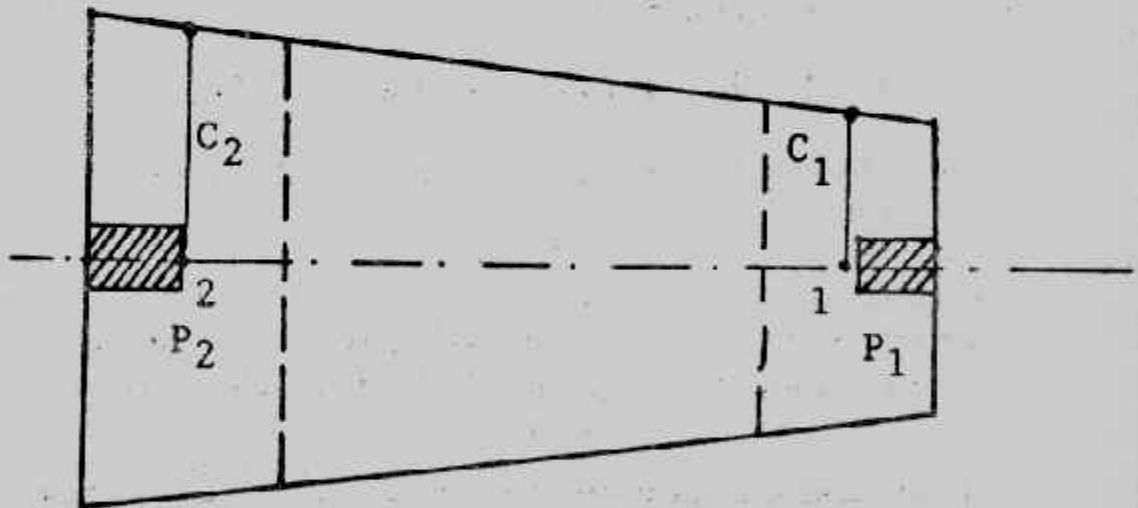
وبإجراء التكامل لمعادلة القص ينتج لنا العزوم

$$M = - \int_0^x Q dx = - (q_2 x^2 / 2 - (q_2 - q_1) x^3 / 6L) + Cx$$

حيث ثابت التكامل هنا مساويا للصفر وما زال  $C$  في المعادلة السابقة تميل حمل العمود بين المقطع والقاعدة الكبرى  $B_2$  كما أن  $x$  المجاورة تمثل زراع العزم للعمود حول المقطع تحت الاعتبار •

• عند تعيين العمق المقاوم للعزم يؤخذ عرض الأساس المقابل للمقطع المعرض لأكبر عزم عند القص الصفري •

• عند حساب العزوم العرضية  $M_1$  تؤخذ المسافات  $C_1$   $C_2$  في منتصف عرض الكمرات العرضية شكل (٢٣-٦) •



شكل (٢٣-٦) زراع العزوم العرضية

#### Example (6-4):

Two columns 45 x 45 and 30 x 30 cm carrying loads 80 and 50 t. The distance centre to centre of columns is 4.25m. Design a trapezoidal combined footing if the net allowable soil pressure is 1.2 kg/cm<sup>2</sup>. The footing should not project beyond the outer faces of the columns. Take  $f_c = 50$  kg/cm<sup>2</sup>,  $f_s = 1400$  kg/cm<sup>2</sup>,  $q_{sh} = 6$  kg/cm<sup>2</sup> and  $q_p = 8$  kg/cm<sup>2</sup>.

**Solution :**

The length of footing  $L = 4.25 + 0.15 + 0.225 = 4.625$  m

$$R = 80 + 50 = 130 \text{ t}$$

Moment about column (2):

$$X_1 \cdot 130 = 50 \times 4.25$$



$$X_1 = 50 \times 4.25 / 130 = 1.635\text{m}$$

$$\bar{X} = 1.635 + 0.225 = 1.85\text{m}$$

$$A = 130/12 = 10.833 \text{ m}^2$$

$$\bar{X} = 1.86 = \frac{4.625}{3} \times \frac{2 B_1 + B_2}{B_1 + B_2} \dots \dots \dots (1)$$

$$A = 10.833 = \frac{B_1 + B_2}{2} \times 4.625 \dots \dots \dots (2)$$

By solving equations 1 and 2 we get :

$$B_2 = 3.72 \text{ m} \quad B_1 = 0.97\text{m} \text{ , Fig. (6-24)}$$

**Long Direction :**

$$q_1 = 0.97 \times 12 = 11.64 \text{ t/m'}$$

$$q_2 = 3.72 \times 12 = 44.6 \text{ t/m'}$$

The stress per metre (as a load) at any distance (x) from  $B_1$  :

$$q_x = 44.64 - X/4.625 (44.64 - 11.64)$$

$$q_x = 44.64 - 7.136 x \dots \dots \dots (\text{load equation})$$

$$\text{at } x = 0.45 \text{ m, } Q = 44.64 (0.45) - 3.568(0.45)^2 - 80 = -60.63\text{t}$$

$$\text{at } x = 6.475\text{m, } Q = 44.64 (6.475) - 3.568 (6.475)^2 - 80 = + 59.45\text{t}$$

To find the location of zero shear

$$Q = 0 = 44.64 x - 3.568 x^2 - 80$$

$$\therefore 3.568 x^2 - 44.64 x + 80 = 0$$

Solving this equation gives  $x = 2.168\text{m}$

To get Bending moment diagram.

$$M = \int_0^x Q dx = (44.64 x^2 / 2 + 7.136 x^3 / 6) + Cx$$

$$M = - (22.32 x^2 + 1.189 x^3) + Cx \dots \dots (\text{bending equation})$$

$$\text{at } x = 0.45\text{m, } M = - [22.32 (0.45)^2 - 1.189 (0.45)^3] + 80 (0.225) = 13.59\text{mt}$$

$$\text{at } x = 3.0 \text{ m, } M = -[22.32(3)^2 - 1.189(3)^3] + 80 (2.775) = 53.22\text{mt}$$

$$\text{at } x = 4.325 \text{ m, } M = -[22.32 (4.325)^2 - 1.189(4.325)^3] + 80 (4.1) = 6.68\text{mt}$$

$$\text{at } x = 4.00, M = -[22.32 (4)^2 - 1.189(4)^3] + 80 (3.775) = 20.98\text{mt}$$

$$\text{at } x = 2.168\text{m, } M_{\text{max}} = -[22.32(2.168)^2 - 1.189 (2.168)^3] + 80 (1.943) = 62.43\text{mt}$$

$$B \text{ at max. bending moment} = 0.97 + 2.75 \frac{(4.625 - 2.168)}{4.625} = 2.43 \text{ mt}$$

$$d_m = 0.361 \sqrt{\frac{62.65 \times 10^5}{243}} = 57.96\text{cm}$$

take  $t = 65 \text{ cm}$ ,  $d = 58 \text{ cm}$

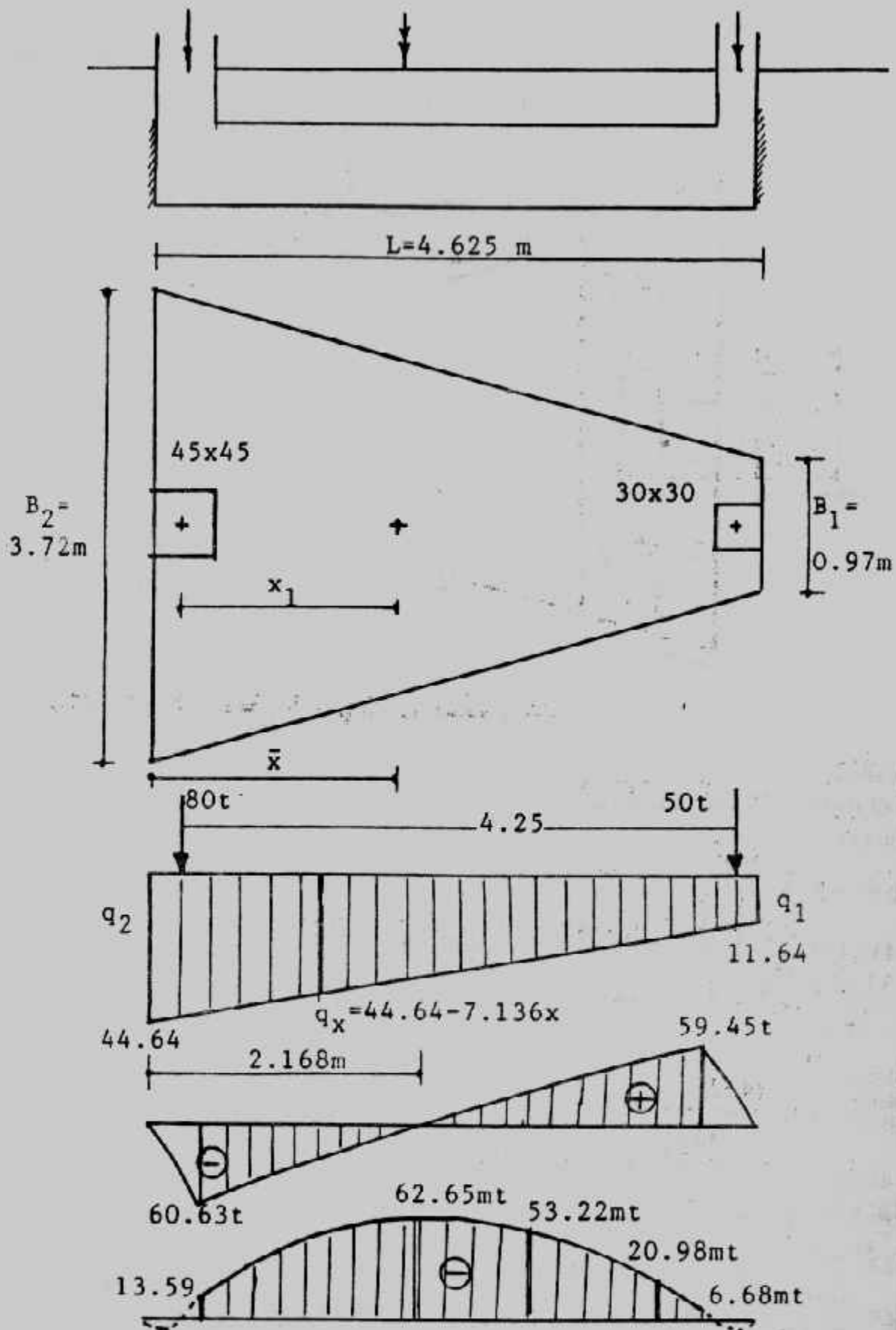
**Check punshing :**

$$Q_{p1} = 50 - 12 (0.88 \times 0.59) = 43.77 \text{ t}$$

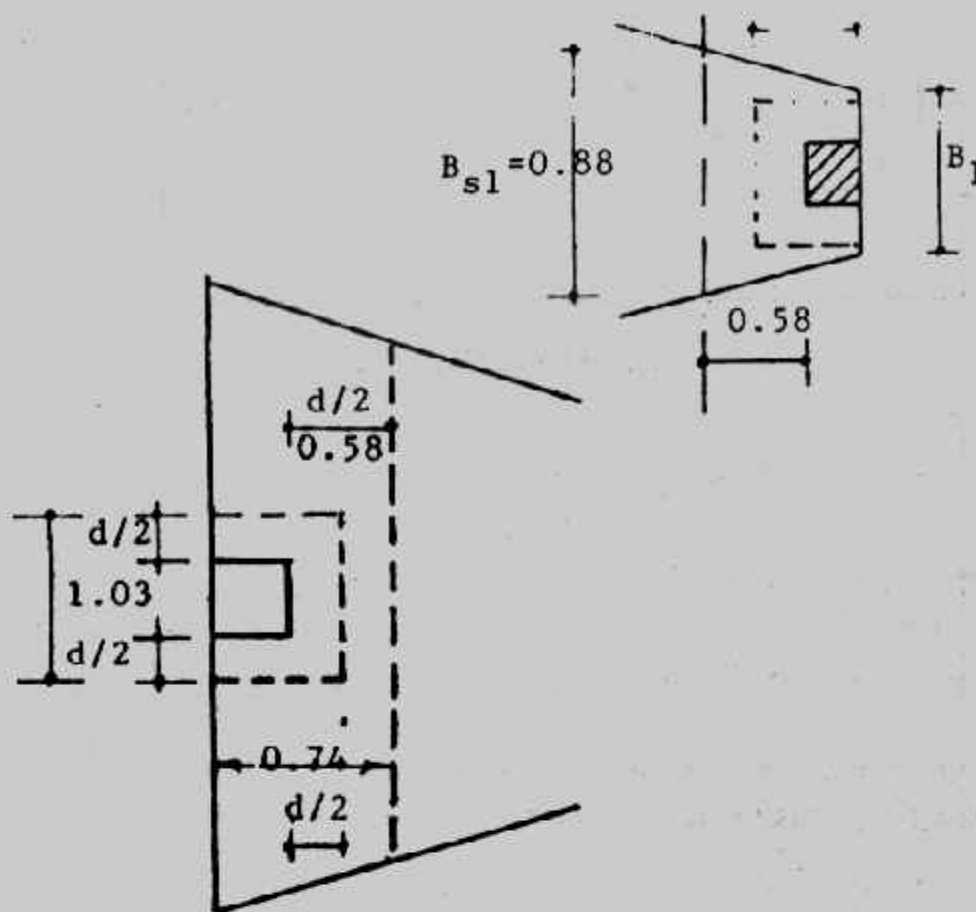
$$q_{p1} = \frac{43.77 \times 1000}{58(2 \times 59 + 88)} = 3.66 < 8 \text{ kg/cm}^2$$

$$Q_{p2} = 80 - 12 (1.03 \times 0.775) = 69.77\text{t}$$

$$q_{p2} = \frac{69.77 \times 1000}{58(2 \times 77.5 + 103)} = 4.68 < 8 \text{ kg/cm}^2$$



شكل (٦-٢٤) : مثال (٦-٣)



شكل (٦-٢٥) المقطع الحرج للنقص الثاقب والنقص

**Check shear :**

Width of footing  $B_{s1}$  and  $d$  from the Column (1):

$$B_{s1} = 0.97 + 2.75 \frac{0.88}{4.625} = 1.49 \text{ m}$$

$$Q_{s1} = 44.64 (4.625 - 0.88) - 3.568 (4.625 - 0.88)^2 - 80 = 37.14$$

$$q_{s1} = \frac{37.14 \times 1000}{58 \times 149} = 4.3 < 6 \text{ kg/cm}^2$$

for column (2)

$$B_{s2} = 0.97 + 2.75 \frac{(4.625 - 1.03)}{4.625} = 3.11 \text{ m}$$

$$Q_{s2} = 44.64 \times 1.03 - 3.568 \times 1.03^2 - 80 = 37.81$$

$$q_{s2} = \frac{37.81 \times 1000}{58 \times 311} = 2.1 < 6 \text{ kg/cm}^2$$

$$A_{s \max} = \frac{62.65 \times 10^2}{58 \times 1237} = 87.32 \text{ cm}^2$$

use 23  $\phi$  22

$$A_s \text{ at } 3 \text{ m} = \frac{53.22 \times 10^5}{58 \times 1237} = 74.18 \text{ cm}^2$$

use 20  $\phi$  22

$$A_s \text{ at } 4 \text{ m} = \frac{20.98 \times 10^5}{58 \times 1237} = 29.24 \text{ cm}^2$$

use 8  $\phi$  22

### Short Direction

Column

Width of beam at column (2) = 0.45 + 0.58 = 1.03 m

Average length of the beam at middle of the 1.03 m

$$= 0.97 + 2.75 \frac{0.88}{4.625} = 1.49 \text{ m}$$

Load per metre of the beam =  $80/3.41 = 23.46 \text{ t/m}$

$$M = \frac{23.46[(3.41 - 0.42)/2]^2}{2} = 26.22 \text{ mt}$$

$$d = 58 - \frac{2.2}{2} - \frac{2.2}{2} = 55.8 \text{ cm}$$

$$A_s = \frac{26.22 \times 10^5}{1237 \times 55.8} = 37.99 \text{ cm}^2$$

$$A_{s \min} = 58 \times 103 \times 0.002 = 11.95 \text{ cm}^2 \quad \text{use } 10 \phi 22$$

Column (1)

Width of beam at column (1) =  $0.30 + 0.58 = 0.88 \text{ m}$

Average length of the beam at middle of the 0.88

$$= 0.97 + 2.75 \frac{0.88}{4.625} = 1.49 \text{ m}$$

Load/m of the beam =  $50/1.49 = 33.56 \text{ t/m}$

$$M = \frac{33.56[(1.49 - 0.3)/2]^2}{2} = 5.94 \text{ mt}$$

$$A_s = \frac{5.94 \times 10^5}{1237 \times 55.8} = 8.61 \text{ cm}^2$$

$$A_{s \min} = 58 \times 149 \times 0.002 = 17.28 \text{ cm}^2 \quad \text{take } 5 \phi 22$$

$$A_{s \min} \text{ in other parts} = 58 \times 100 \times 0.002 = 11.6$$

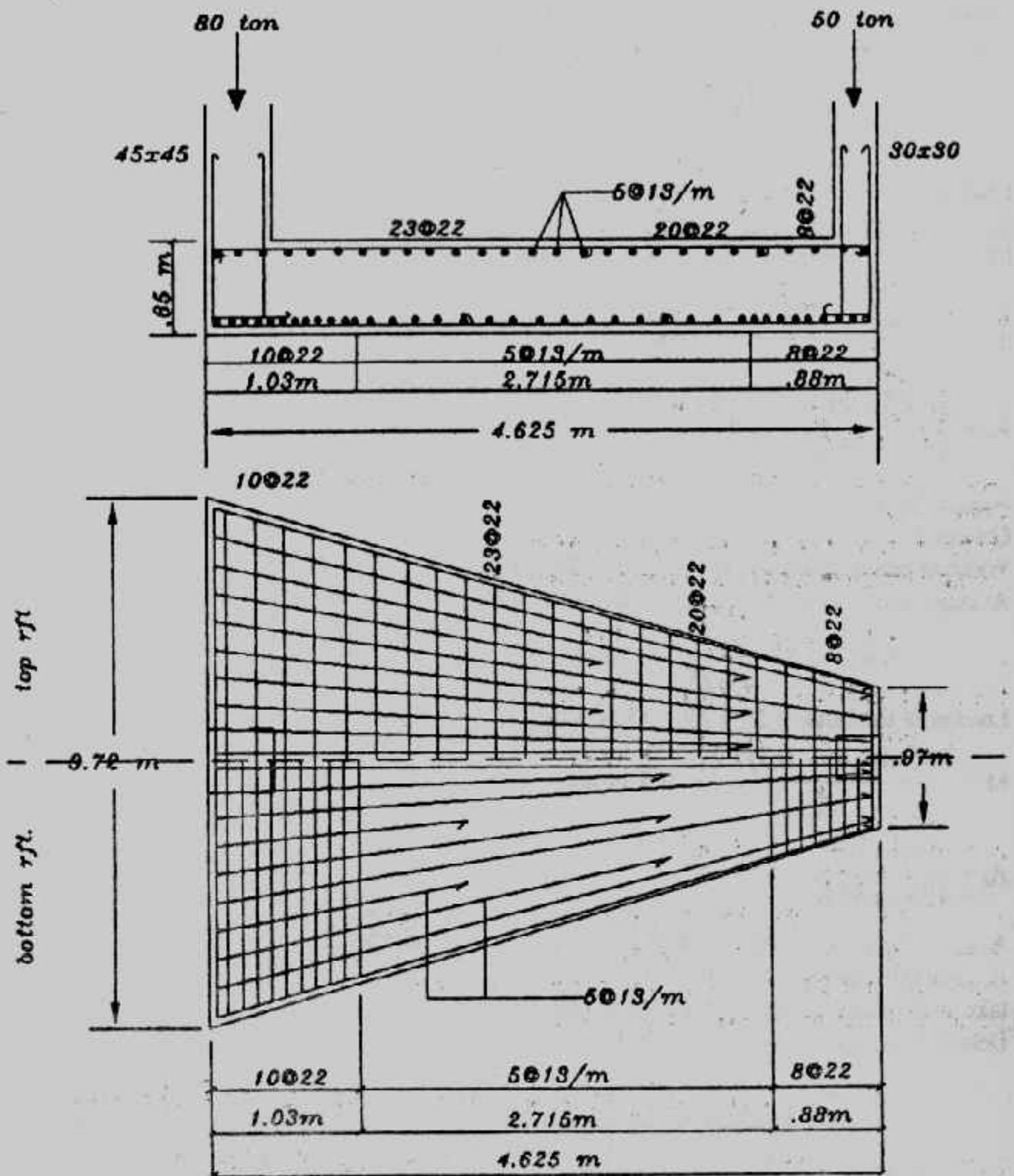
take  $10 \phi 13$  ( $13.27 \text{ cm}^2$ )  $5 \phi 13$  upper and  $5 \phi 13$  lower

Details of design are shown in Fig. (6-26)

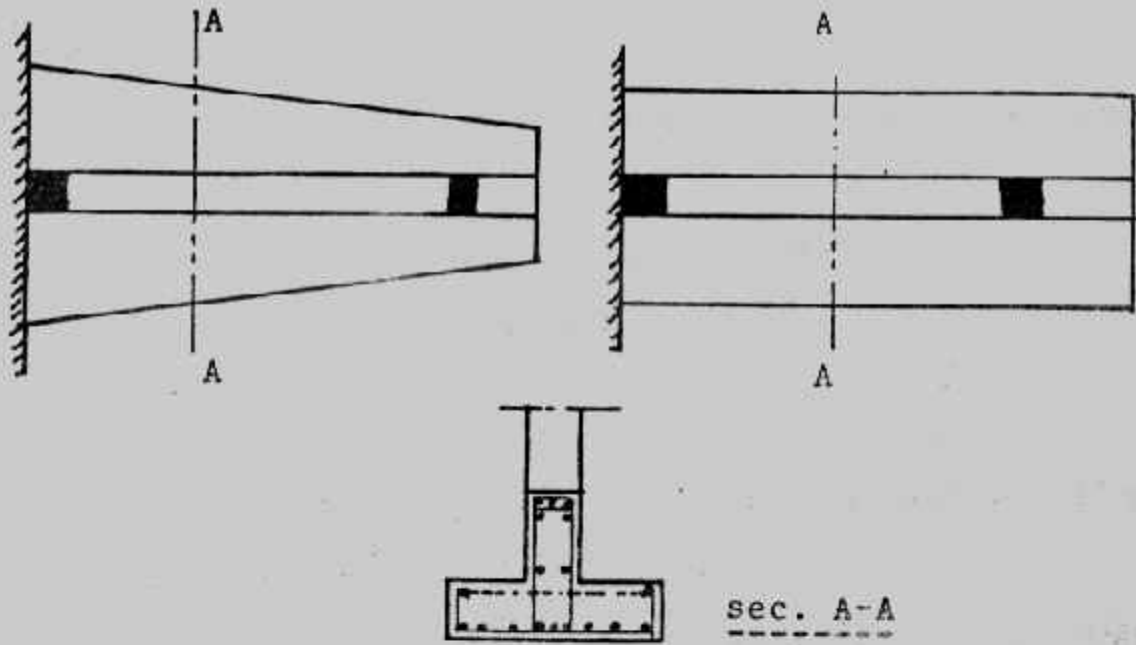
### حالة خاصة من القواعد المشتركة المستطيلة وشبه المنحرف :

في القواعد المشتركة المستطيلة أو شبه المنحرف يمكن إضافة كمره rib رابطة للعمودين وجزء منها مدفون في القاعدة. شكل (٦-٢٧). وهذه الكمره تحول القاعدة المشتركة إلى قاعدة شريطية strip footing وتحمل هذه الكمره العبء الأكبر في الأساس. ولذا يجب العناية التامة بتصميم هذه الكمره حيث أنها تتحمل العزوم في الاتجاه الطولي.

تصمم الكمره كمقطع على شكل حرف T مقلوب بينما تصمم بلاطة الأساس على أنها أساس شريطية Strip footing. ويمكن أن يطلق على هذه القواعد تسمية "القواعد المشتركة الشريطية" وينطبق على تصميمها خطوات تصميم القواعد الشريطية التي أوردناها بالتفصيل في الباب السابق.



شكل (٦-٢٦) : تفاصيل التسليح والأبعاد.



شكل (٦-٢٧) : قواعد مشتركة بكمرة (أساسات شريطية)

تصميم القواعد المشتركة بطريقة الإجهادات القصوى :

#### Design of Combined Footings by Ultimate Stresses Method :

تتلخص خطوات تصميم القواعد المشتركة بطريقة الإجهادات القصوى فيما يلي :

١- توقيع نقطة تأثير محصلة الأحمال على القاعدة.

٢- حساب المساحة التي تحقق جهد التربة Soil pressure حيث :

$$q = R/A$$

عندما تكون محصلة الأحمال R في مركز مساحة القاعدة.

$$q = \frac{R}{A} \left(1 \pm \frac{6e}{L}\right)$$

٣- تحويل الأحمال إلى الأحمال القصوى من المعاملات :

$$U = 1.4 D + 1.7 L$$

$$U = 0.75 [1.4D + 1.7L + 1.7 (\text{Wind or Earthquake})]$$

٤- باستخدام الأحمال القصوى تحسب القيمة القصوى لجهد التربة  $q_u$ .

٥- باستخدام القيم القصوى للأحمال ولجهد التربة يرسم القص وعزم الانحناء مع أخذ

أحمال الأعمدة كأحمال مركزة في مراكز الأعمدة.



٦- تعيين عمق الأساس من :

أ - القص الأحادي wide beam type shear المبني على أن الإجهادات المسموح بها للخرسانة في القص هي :

$$V_c (MN/m^2) = 0.17 \sqrt{f_c} (MN / m^2)$$

كما أن إجهادات القص الفعلية تحسب على بعد d من وجه العمود :

$$V_u = \frac{Q_u}{bd}$$

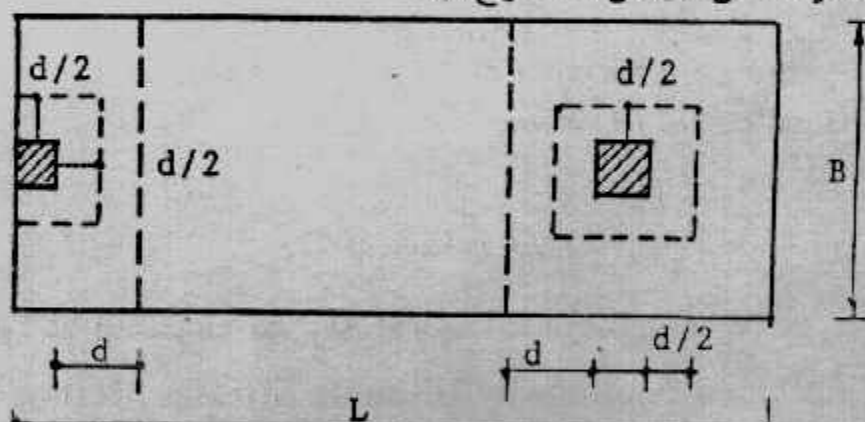
ب- من الشد القطري Diagonal Tension (القص الثاقب Punching shear) شكل (٦-٢٨) المبني على أن الإجهادات المسموح بها للخرسانة في القص •

$$V_c (MN / m^2) = 0.34 \sqrt{f_c} (MN / m^2)$$

$$V_u = \frac{Q_u}{bd}$$


كما أن إجهادات القص الفعلية تحسب من :

ويحسب ذلك لكل عمود بمسافة d/2 من جميع الجهات (القص الثاقب) • ويجب أن تكون الإجهادات الفعلية للقص أقل من المسموح بها •



شكل (٦-٢٨) : المقاطع الحرجة للقص والقص الثاقب

ويؤخذ الحديد العرضي في باقي الأماكن بالنسبة الأدنى لمقاومة الانكماش •



شكل (٦-٢٩) : عرض الكمرات العرضية المدفونة

**Example (6-5):**

Design a rectangular combined footing using the ultimate stresses method given :

$$f_c = 24 \text{ MN/m}^2, f_y = 420 \text{ MN/m}^2, q_{na} = 170 \text{ kN/m}^2, \text{ columns spacing} = 5 \text{ m}$$

$$\text{Column 1 : } 0.40 \times 0.40 \text{ m, } D = 600 \text{ kN, } L = 400 \text{ kN}$$

$$\text{Column 2 : } 0.5 \times 0.5 \text{ m, } D = 800 \text{ kN, } L = 500 \text{ kN}$$

**Solution :**

Compute the footing dimension

$$R = (600 + 400) + (800 + 500) = 2300 \text{ kN}$$

$$\Sigma M \text{ column (1)} = 0$$

$$2300 \bar{X} = 5 \times 1300$$

$$\bar{X} = 2.826 \text{ m}$$

$$L = 2 (2.826 + 0.2) = 6.052 \text{ m}$$

To avoid computational errors the actual computed footing length will be used for all computation.

$$B = \frac{R}{q_{na} L} = \frac{2300}{170 \times 6.05} = 2.236 \text{ m} \quad \text{use actual } B = 2.25 \text{ m}$$

Convert soil pressure to an equivalent ultimate load value

$$U_1 = 1.4 d + 1.7 L$$

$$= 1.4 (600) + 1.7 (400) = 1520 \text{ kN}$$

$$U_2 = 1.4 (800) + 1.7 (500) = 1970 \text{ kN}$$

$$\text{Factor} = (1520 + 1970)/2300 = 1.517$$

$$q_u = 170 (1.517) = 257.89 \text{ kN/m}^2$$

Shearing force and moment diagrams, Fig. (6-30):

$$\text{Load/m of beam } q = q_u B = 257.89 \times 2.236 = 576.64 \text{ kN/m}^2$$

$$\text{or } q = (U_1 + U_2)/L = (1520 + 1970)/6.052 = 576.67 \text{ kN/m}^2$$

$$\text{Shear } Q_x = \int q \, dx = 576.6 x + C$$

Where  $c$  = column loads at the left of the considered sec.

$$\text{at } x = 0.4 \text{ m} \quad Q_x = 576.6 (0.4) - 1520 = -1289.36 \text{ kN}$$

$$\text{at } x = 4.95 \text{ m} \quad Q_x = 576.6 (4.95) - 1520 = 1234.17 \text{ kN}$$

$$\text{at } x = 5.45 \quad Q_x = 576.6 (5.45) - (1520 + 1970) = -347.53 \text{ kN}$$

$$\text{Location of zero shear} \quad 576.6 x - 1520 = 0$$

$$\therefore x = 2.64 \text{ m}$$

$$\text{Moment } M_x = \int Q \, dx = 576.6 x^2/2 + Cx = 288.3 x^2 + Cx$$

$$\text{at } x = 0.4 \text{ m} \quad M = -288.3 (0.4)^2 + 1520 (0.2) = + 257.87 \text{ km.m}$$

$$\text{at } x = 4.95 \text{ m} \quad M = -288.3 (4.95)^2 + 1520 (4.75) = -155.93 \text{ km.m}$$

$$\text{at } x = 5.45 \text{ m} \quad M = -288.3 (5.45)^2 + 1520 (5.25) = + 583.23 \text{ km.m}$$

$$\text{at } x = 2.64 \text{ m} \quad M_{\max} = -288.3 (2.64)^2 + 1520 (2.44) = -1699.46 \text{ km.m}$$

To find depth for wide beam shear at the location of largest shear the allowable concrete stress is :

$$V_c = 0.17 \sqrt{f_c} = 0.17 \sqrt{24} = 0.833 \text{ MN/m}^2 = 833 \text{ kN/m}^2$$

$$Q_{\text{beam}} = 1334.17 - 576.67 d$$

$$Q_{\text{concrete}} = B d v_c = 2.25 (d) 833 = 1874.25 d$$

$$\text{Equating : } 576.67 d + 1874.25 d = 1334.17$$

$$2450.92 d = 1334.17$$

$$d = 0.544 \text{ m}$$

Check diagonal tension

$$V_c = 0.34$$

$$\text{At column (1) the } \sqrt{f_c} = 0.34 \sqrt{24} = 1.666 \text{ MN/m}^2 = 1666 \text{ kN/m}^2$$

At column (1) the perimeter in shear is

$$P = 2 (0.4 + 0.544/2) + (0.4 + 0.544) = 2.288 \text{ m}$$

$$Q_{\text{shear}} = p d v_c = 2.288 \times 0.544 \times 1666 = 2073.62 \text{ kN}$$

$$> 1520 \text{ kN (o.k.)}$$

المفروض عند المقارنة أن يطرح من حمل العمود قيمة  $Acq$  حيث  $Ac$  هي مساحة العمود  
وقد أهمل ذلك هنا :

At column (2) the perimeter in shear is

$$P = 4 (0.5 + 0.544) = 4.176 \text{ m}$$

$$Q_{\text{shear}} = 4.176 \times 0.544 \times 1666 = 2784.7 > 1970 \text{ kN (o.k.)}$$

Take actual  $d = 0.58 \text{ m}$ ,  $t = 0.65 \text{ m}$

Compute negative steel :

$$a = A_s f_y / 0.85 f_c b = 20 A_s / 0.85 \times 24 \times 2.25 = 9.15 A_s$$

$$M_u / \phi f_y = A_s (d - a / 2)$$

$$1699.46 / 0.9 \times 420000 = A_s (0.58 - 9.15 A_s / 2)$$

$$4.575 A_s^2 - 0.58 A_s + 4.496 \times 10^{-3} = 0$$

$$A_s = 7.33 \times 10^{-3} = 73.28 \text{ cm}^2$$

use 15  $\phi$  25 / B (73.65  $\text{cm}^2$ )

Compute positive steel in cantilever part

$$583.23 / 0.9 \times 420000 A_s (0.58 - 9.15 A_s / 12)$$

$$4.575 A_s^2 - 0.58 A_s + 1.543 \times 10^{-3} = 0$$

$$a_s = 2.607 \times 10^{-3} \text{ m}^2 = 26.07 \text{ cm}^2$$

$$A_s = 2.607 \times 10^{-3} \text{ m}^2 = 26.07 \text{ cm}^2$$

$$A_{s \text{ min}} = 0.0018 \times 58 \times 225 = 23.49 \text{ cm}^2$$

use 10  $\phi$  19 / B (28.4  $\text{cm}^2$ )

Run 5  $\phi$  19 ( $A_s / 2$ ) full length of footing.

Design transverse steel (short direction)

$$q_u = (1520 + 1970) / 6.052 \times 2.25 = 256.3 \text{ kN/cm}^2$$

For column (1): width of beam under column (1)

$$= 0.4 + d/2 = 0.4 + 0.58 / 2 = 0.69 \text{ m}$$

$$d = 0.58 - 0.019 - 0.019/2 = 0.55$$

$$M = 256.3 \times 0.95^2 / 2 = 109.65 \text{ kN.m}$$

From previous computations

$$4.575 A_s^2 - 0.55 A_s + 2.9 \times 10^{-4} = 0$$

$$A_s = 5.2 \text{ cm}^2$$

$$A_{s \text{ min}} = 0.0018 \times 69 \times 55 = 6.83 \text{ cm}^2$$

Use 3  $\phi$  19

For column (2) width of beam under column(2)

$$= 0.5 + d = 0.5 + 0.58 = 1.08 \text{ m}$$

$$M = 256.3 \times 0.8752 / 2 = 98.11 \text{ kN.m}$$

$$4.575 A_s^2 - 0.55 A_s + 2.596 \times 10^{-4} = 0$$

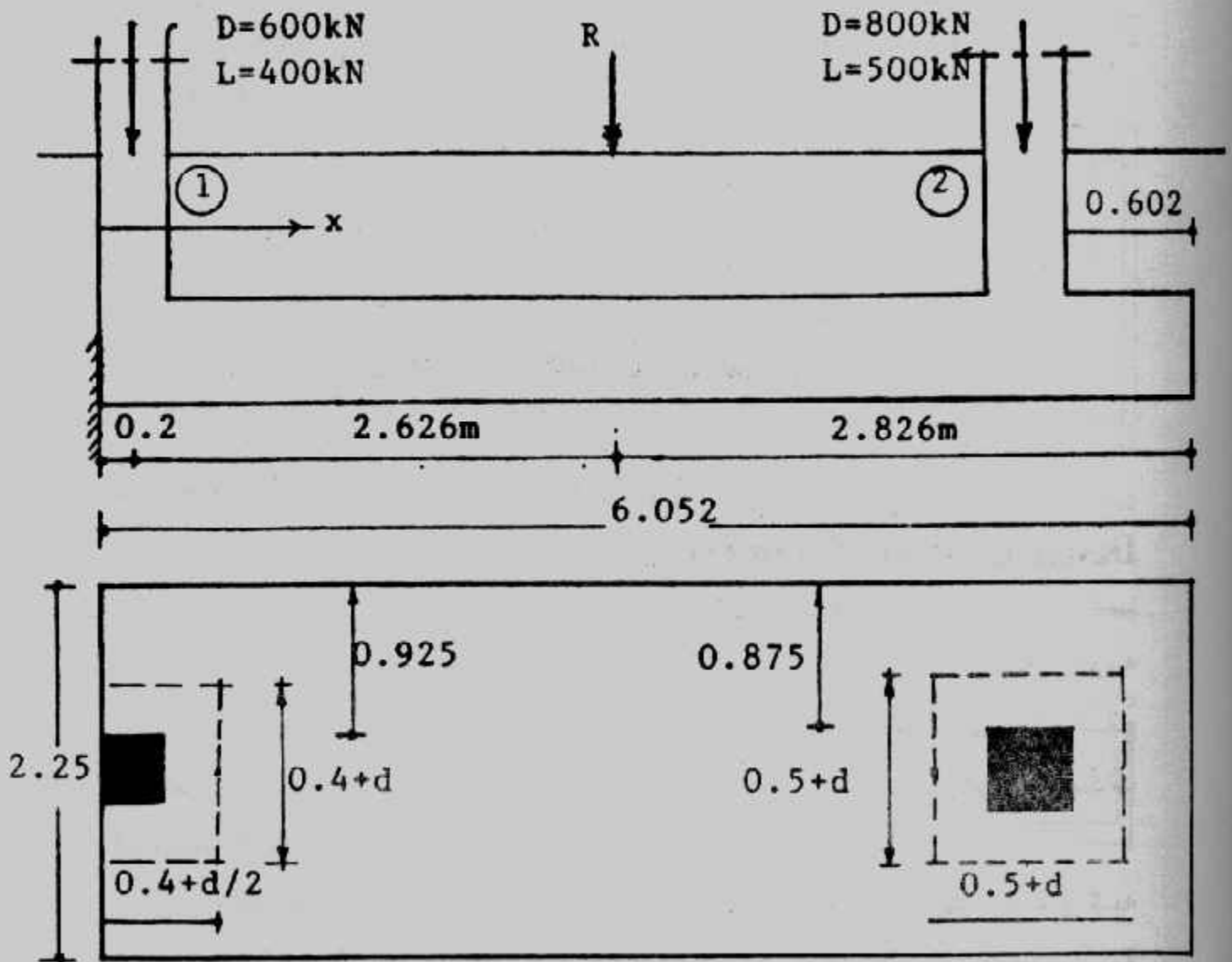
$$A_s = 4.7 \text{ cm}^2$$

$$A_{s \text{ min}} = 0.0018 \times 1.08 \times 55 = 10.69 \text{ cm}^2$$

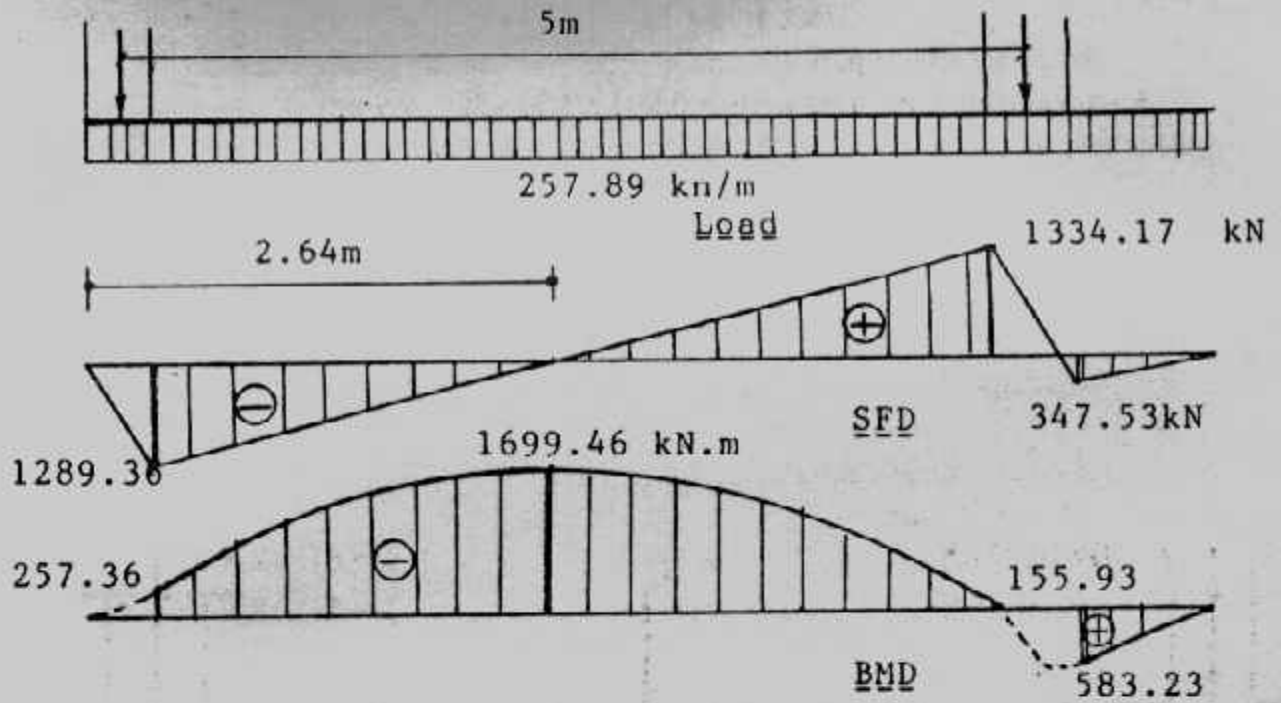
use 4  $\Phi$  19mm

$$\text{Shrinkage bars for other parts} = 0.001 \times 100 \times 55 = 9.9 \text{ cm}^2$$

take 4  $\Phi$  13mm/m' top and 4  $\Phi$  13mm/m' (10.6  $\text{cm}^2$ )



شكل (٣٠-٦): أبعاد مثال (٣١-٦).



شكل (٣١-٦) : القوى الداخلية لمثال (٣١-٦) .

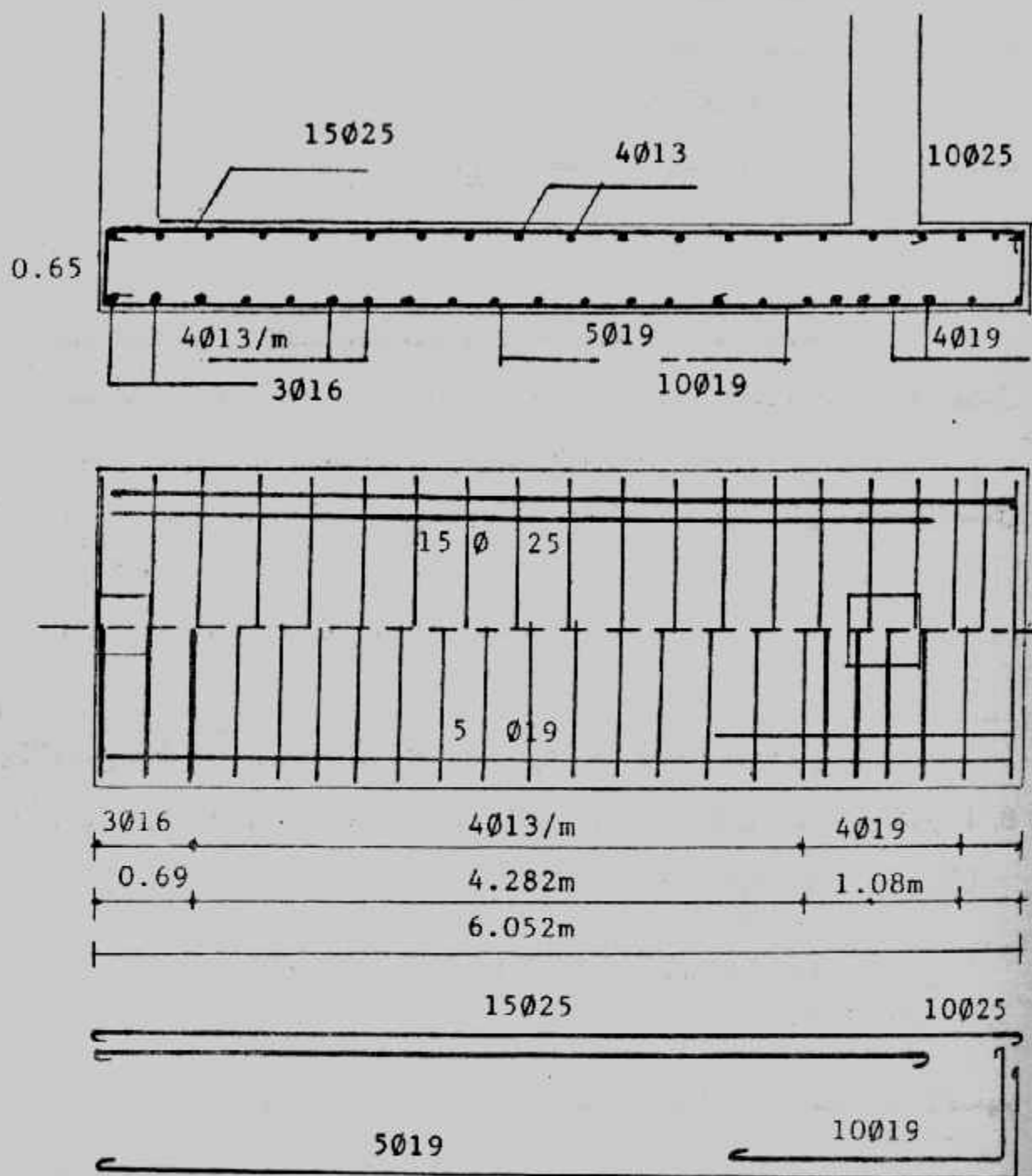
### تصميم القواعد ذات الشداد (القواعد الكابولية)

#### Design of Strap (Cantilever) Footings :

حينما تكون قاعدة الجار الخارجية كابولية أى أن حمل العمود يؤثر فى غير مركزها (غير مركزى) فإنه يلزم ربط هذه القاعدة الكابولية بقاعدة أخرى داخلية مركزية الحمل بشداد أو كمر عالية الجساءة (Strap beam) ، والشداد يعمل على نقل العزم الناتج عن عدم محورية الحمل على القاعدة الخارجية إلى القاعدة الداخلية وتكون الإجهادات المعرضة للتربة تحت القواعد منتظمة التوزيع .

والقواعد ذات الشداد تستخدم لنفس غرض القواعد المشتركة المستطيلة أو شبه المنحرف إذا كانت المسافة بين العمودين كبيرة وقدرة تحمل التربة عالية لا تحتاج لمساحة كبيرة . كما أن القواعد الكابولية أوفر من القواعد المشتركة الأخرى فى المواد المستخدمة من خرسانة وحديد شكل (٣٣-٦) وعند تصميم وتنفيذ الشداد (Strap) يجب مراعاة الاعتبارات الآتية :





شكل (٦-٣٢): تفاصيل التسليح لمثال (٦-٥)



- ١- الشدّاد يجب أن يكون جاسئاً Rigid بدرجة كافية للتحكم فى دوران القاعدة الخارجية ولذا يقترح أن يكون :  $I_{strap}/I_{footing} > 2$  .
- ٢- القواعد يجب أن تكون متناسبة لتعطى إجهادا متقاربا على التربة تحت القاعدتين لتجنب حدوث الهبوط المتفاوت بقيمة كبيرة . وأفضل حل حينما تكون محصلة الأحمال منطبقة على مركز ثقل القاعدتين، وهذا لا يأتى إلا بعد محاولات عديدة .
- ٣- الشدّاد يجب ألا يلامس التربة حتى لا ينشأ ضغط تماس بينه وبين التربة مما يخالف اعتبارات تصميم .
- ٤- يهمل وزن الشدّاد فى اعتبارات التصميم .
- ٥- يجب التأكد من أن الشدّاد يعمل ككمرة عميقة (deep beam) من عدمه .
- ٦- حينما يكون عمق الشدّاد محدودا يمكن زيادة عرضه لتحقيق الجساءة المطلوبة ويفضل أن يكون عرض الشدّاد على الأقل مساويا لعرض أصغر عمود .
- ٧- يجب أن ينطبق محور الشدّاد على محور الأعمدة لتجنب حدوث اللي (Torsion) شكل (٦-٣٣) .
- ٨- التأكد من أن إجهادات القص فى الشدّاد آمنة .

### وتتلخص خطوات تصميم القواعد الكابولية ذات الشدّاد فيما يلى :

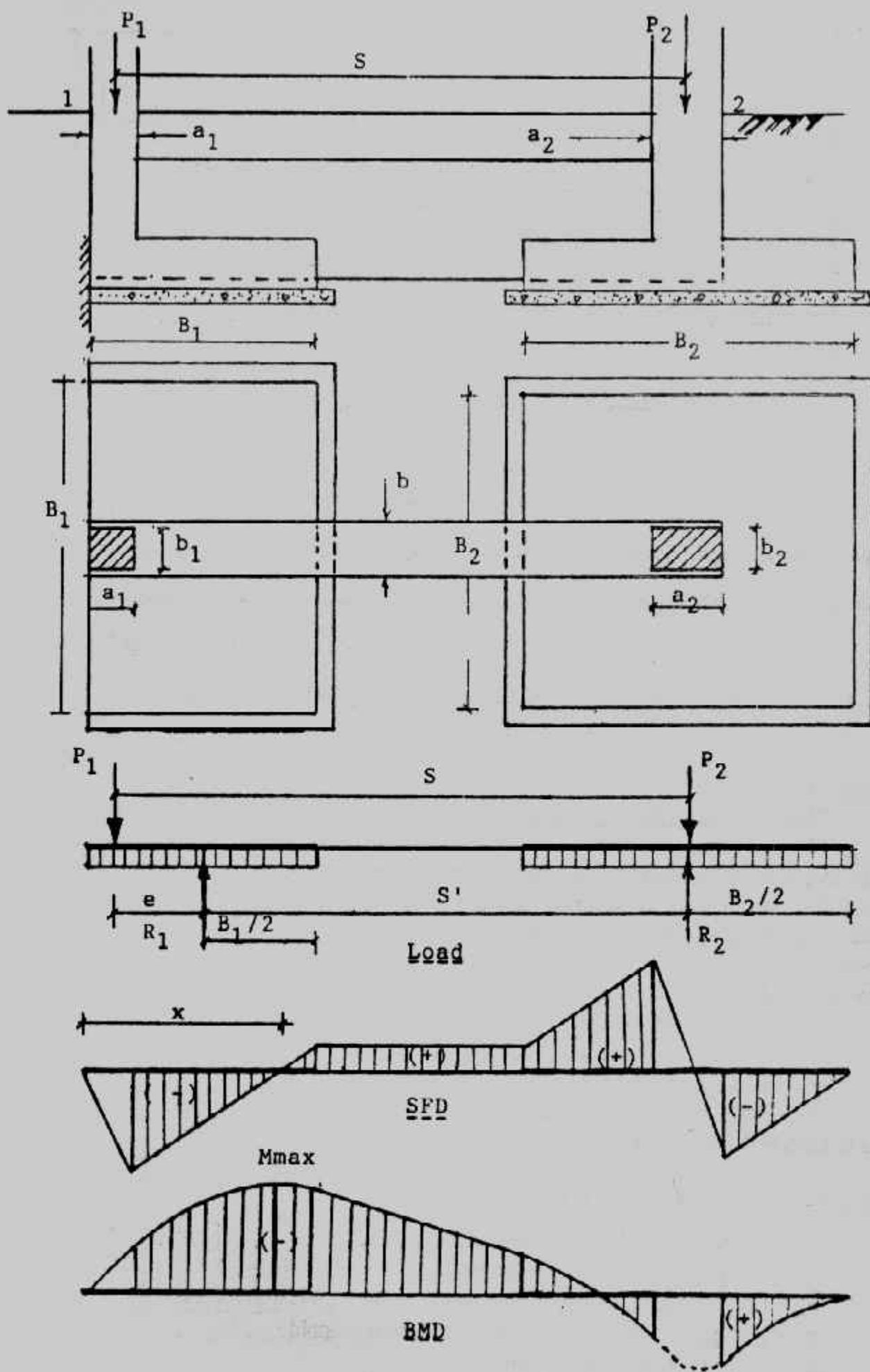
- يفرض طول القاعدة الخارجية  $L$  بحيث تكون  $B_2 > L$  لتقليل الدوران وتكون  $B, L$  متناسبتان معا .  

$$e = L/2 - a_1/2$$

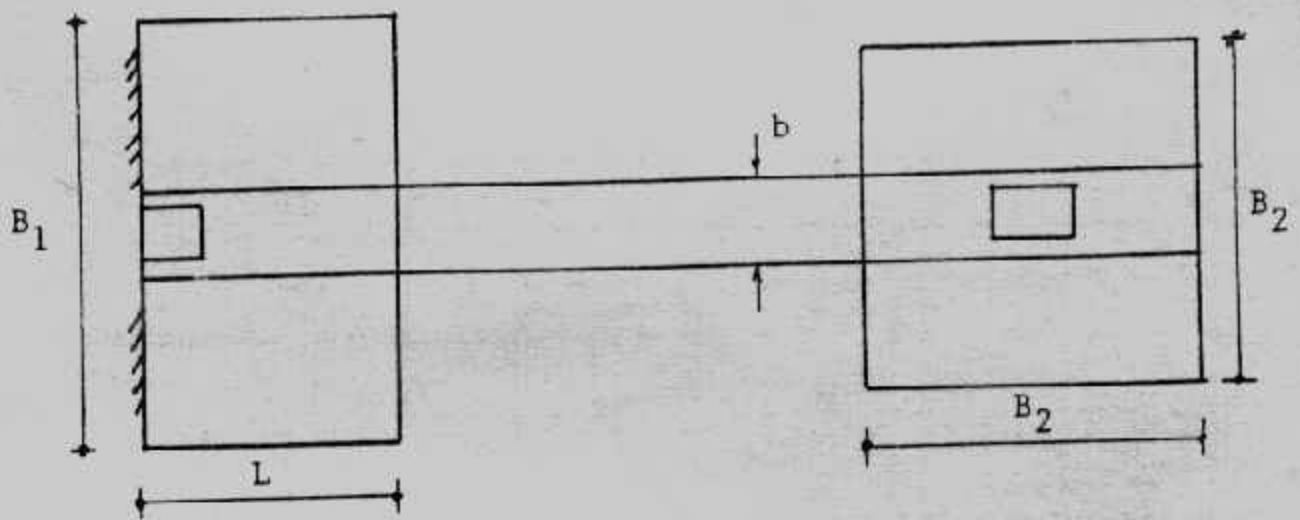
$$S' = S - e$$
- تعين محصلات ردود أفعال التربة  $R_1, R_2$  بأخذ العزوم عند محور العمود الداخلى  

$$R_1 = P_1 \cdot S/S'$$

$$R_2 = (P_1 + P_2) - R_1$$
- تعين مساحات القواعد وتقرب الأبعاد لأقرب ٥ سم ويلاحظ أنه من الأسهل فى التصميم أن تؤخذ القاعدة الداخلية مربعة الشكل .
- يحسب الجهد النهائى للتربة أسفل القاعدتين ويجب أن تكون القيم متقاربة وأقل من قدرة تحمل التربة المسموح بها .
- من النظام الاستاتيكي للأساس يرسم مخطط القص ومخطط العزم ويلاحظ أن أقصى عزم يقابل موضع القص الصفري قرب نهاية القاعدة الخارجية .
- يصمم الشدّاد على تحمل القص والعزم السابق إيجادهما . كما يجب التأكد من أن الشد القطرى (Diagonal Tension) فى حدود المسموح به أو يقاوم باستخدام الحديد المكسح والكانات متعددة الأفرع .



شكل (٦-٣٣) : تصميم القواعد الكابولية .



شكل (٦-٣٤) : الشدّاد الممتد.

- تصمم القاعدة الخارجية على أنها قاعدة شريطية (Strip footing).
  - تصمم القاعدة الداخلية كقاعدة مربعة أو مستطيلة إذا كان الشدّاد ينتهي عند نهاية العمود.
  - أما إذا كان الشدّاد ممتد لنهاية القاعدة فتصمم هذه القاعدة على أنها قاعدة شريطية أيضاً،
- شكل (٦-٣٤).
- تقدّم الرسومات التفصيلية لبيان الأبعاد الخرسانية والتسليح شكل (٦-٣٥).

#### Example (6-6):

Design a strap footing to support an exterior column 40 x 40 cm carrying a load of 80 t and an interior column 40 x 60 cm carrying a load of 145t. The distance centre to centre of columns is 5 m. The outside edge of the footing should not project beyond the outside face of exterior column. The net allowable soil pressure is 1.6 kg/cm<sup>2</sup> take  $f_c = 60 \text{ kg/cm}^2$ ,  $q_{nh} = 7 \text{ kg/cm}^2$ ,  $q_p = 10 \text{ kg/cm}^2$

**Solution :**

Assume  $L = 2 \text{ m}$

$$e = (2/2 - 0.4/2) = 0.8 \text{ m}$$

$$S' = 5 - 0.8 = 4.2 \text{ m}$$

$$R_1 = 80 \times 5.0 / 4.2 = 95.24 \text{ t}$$

$$R_2 = (80 + 145) - 95.24 = 129.76 \text{ t}$$

$$\text{Area of footing 1} = 95.24 / 16 = 5.95 \text{ m}^2$$

$$L = 2 \quad B_1 = 5.95 / 2 = 2.975 \text{ taken } 3 \text{ m}$$

$$\text{Area of footing 2} = 129.76 / 16 = 8.11 \text{ m}^2$$

$$B_2 = \sqrt{8.11} = 2.848 \text{ m taken } 2.85 \text{ m.}$$

$$q_1 = 95.24 / (2 \times 3) = 15.87 \text{ t/m}^2$$

$$q_2 = 129.76 / (2.85 \times 2.85) = 15.975 \text{ t/m}^2$$

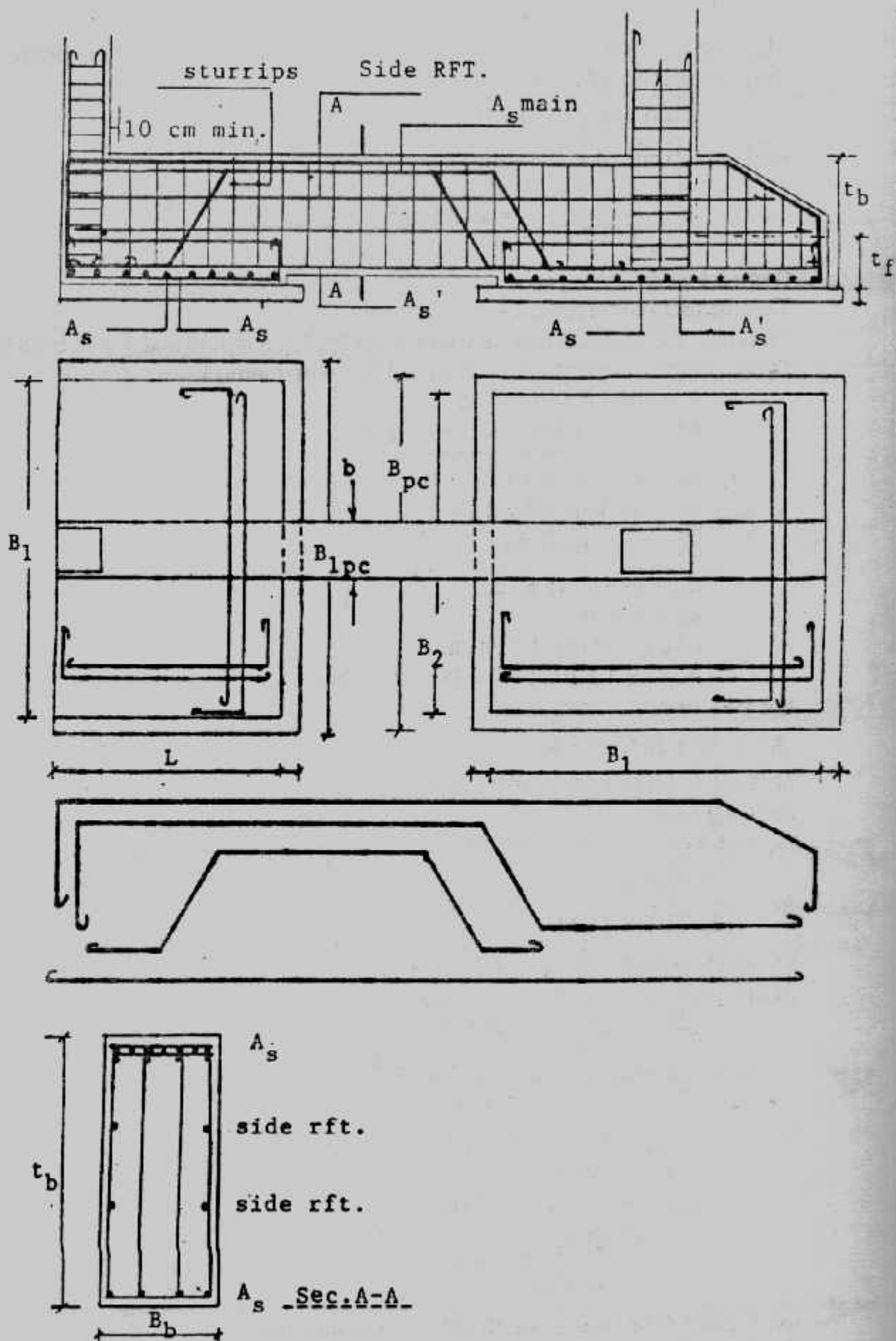
$$q_1 \approx q_2 < q_{na} \quad \text{So, the assumption of } L \text{ is reasonable}$$

$$q_1 \text{ t/m}^2 = 15.87 \times 3 = 47.61 \text{ t/m}^2$$

$$= 15.975 \times 2.85 = 45.53 \text{ t/m}^2$$

Shear force and bending moment diagrams are drawn and shown in Fig. (6-36)

Zero shear is at (x) from left edge



شكل (٦-٣٥) تسليح القواعد الكابولية

$$47.61(x) - 80 = 0$$

$$x = 1.68 \text{ m}$$

$$M_{\max} = 80 \times (1.68 - 0.2) - 47.61 \times 1.68^2/2 = 51.21 \text{ m.t. Design of strap beam}$$

Take the breadth of the strap = 50 cm

$$d = 0.313 \sqrt{51.21 \times 10^5 / 50} = 100.17 \text{ cm}$$

take  $t = 110 \text{ cm}$ ,  $d = 103 \text{ cm}$

$$A_s = \frac{51.21 \times 10^5}{1217 \times 103} = 40.85 \text{ cm}^2$$

take  $11 \phi 22$

Take bottom reinforcement  $4 \phi 16 (8 \text{ cm}^2)$

To satisfy the diagonal tension take 4 branches  $6 \phi 8 \text{ mm/m}$  and  $4 \phi 22$  bend bars.

Design of the exterior footing (designed as a strip footing).

$$C = (3.0 - 0.5) = 1.25 \text{ m}$$

$$M = 15.87 \times 1 \times 1.25^2/2 = 12.4 \text{ mt}$$

$$d_m = 0.313 \sqrt{12.4 \times 10^5 / 100} = 34.85 \text{ cm}$$

$$d_{sh} = \frac{15.87(1.25 - d_{sh})}{100 \times 70}$$

$$d_{sh} = 19.84 - 15.87 d_{sh}$$

$$d_{sh} = 0.23 \text{ m}$$

take  $t = 45 \text{ cm}$ ,  $d = 38 \text{ cm}$

$$A_s = 12.4 \times 10^5 / 1217 \times 38 = 26.81 \text{ cm}^2$$

use  $10 \phi 19/\text{m}$

$$A_s^1 = 0.2 \times 26.81 = 5.362$$

$$\text{or } A_{s \min} = 0.002 \times 100 \times 38 = 7.6 \text{ cm}^2$$

use  $6 \phi 13/\text{m}$

$$Q_b = 15.87 \times 1 \times 1.25 = 19.625 \text{ t}$$

$$q_b = \frac{19.625 \times 10^3}{28.81 \times 10^5 / 285} = 31.5 \text{ cm}$$

$$Q_p = 145 - 15.975 \times 1.725 \times 0.5 = 131.22 \text{ t}$$

$$\text{Perimeter} = 50 + 2 \times 172.5 = 395 \text{ cm}$$

$$d_p = 131.22 \times 10^3 / 395 \times 10 = 33.22 \text{ cm}$$

$$d_{sh} = \frac{15.975(1.125 - d_{sh}) 2.85}{2.85 \times 60}$$

$$60 d_{sh} = 17.97 - 15.975 d_{sh}$$

$$d_{sh} = 0.24 \text{ m}$$

take  $t = 45 \text{ cm}$ ,  $d = 38 \text{ cm}^2$

$$A_s = \frac{28.81 \times 10^5}{1217 \times 38} = 62.3 \text{ cm}^2$$

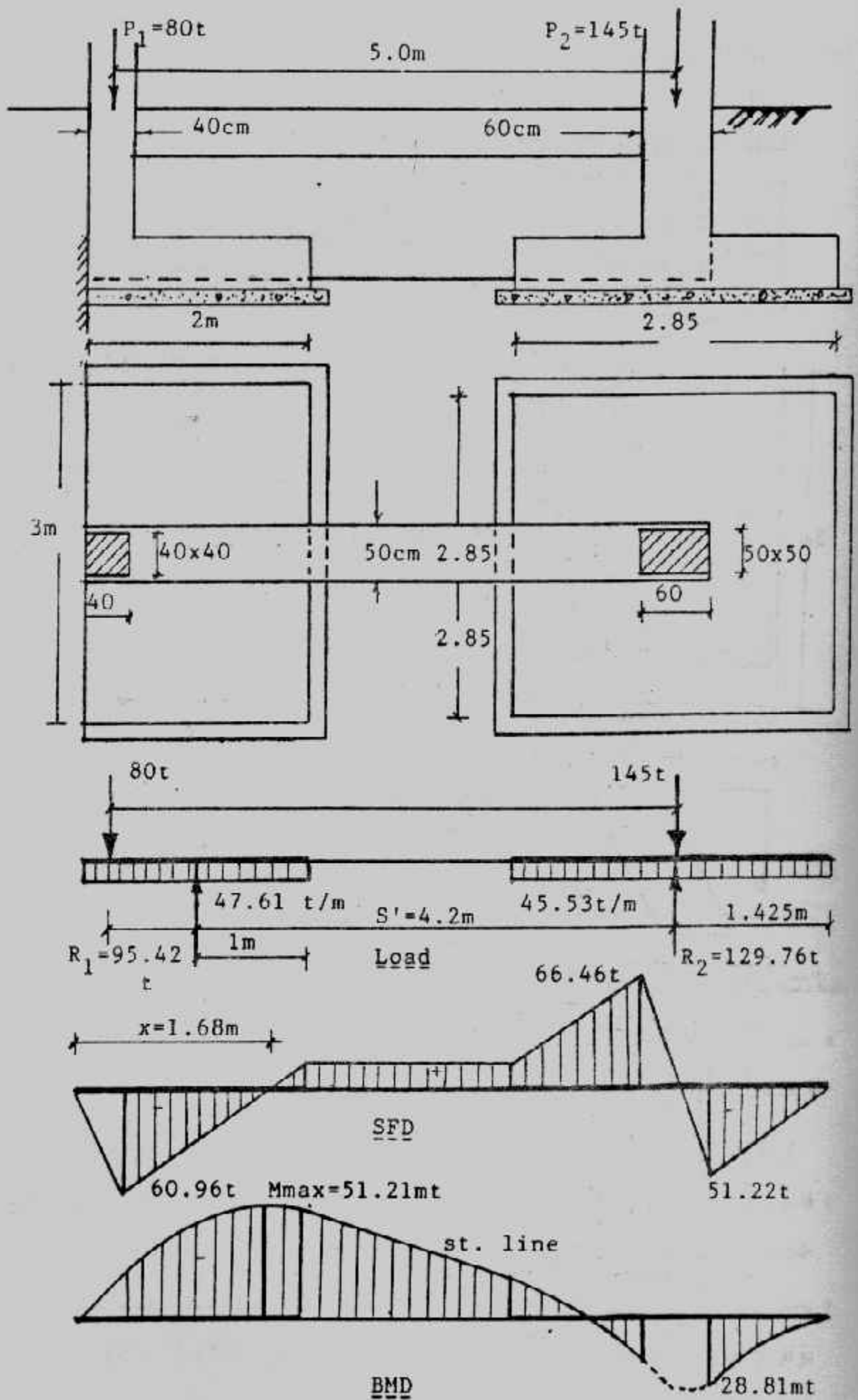
use L-shape  $31 \phi 16$  over width  $285 \text{ cm}$  both direction

$$q_b = \frac{51.22 \times 10^3}{0.87 \times 31 \pi 1.6 \times 38} = 9.94 \text{ kg/cm}^2$$

O.K.

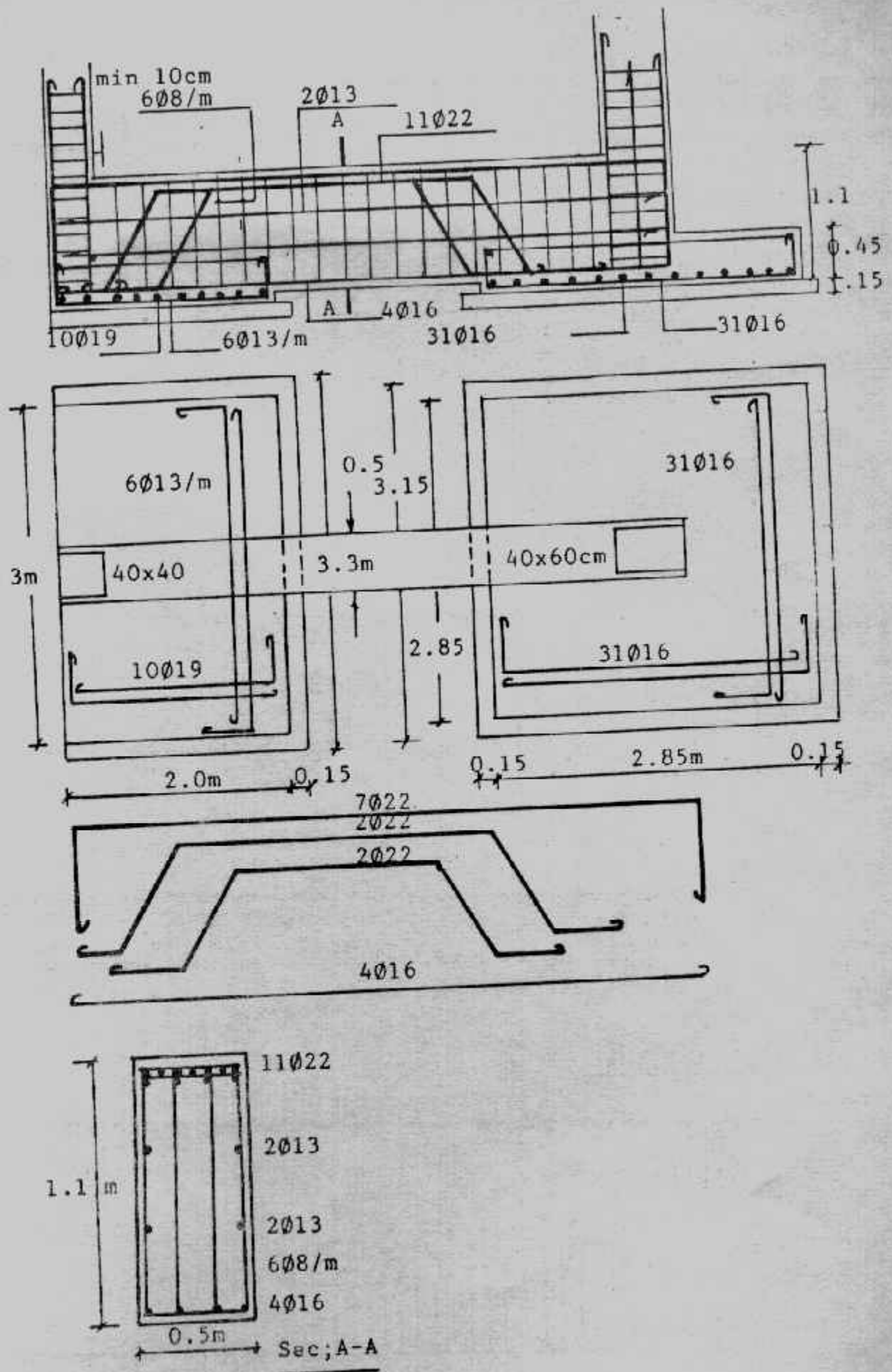
Details of dimensions and reinforcement are shown in Fig. (6-37)





شكل (٣٦-٦) : القوى الداخلية لمثال (٦-٦)





شكل (٣٧-٦) : أبعاد وتسليح مثال (٦-٦).

**Example (6-7):**

Redo example (6-6) if the strap is extended to the right side of interior footing

**Solution :**

The design is performed by the same manner except the following steps :

For strap beam

$$103 = K_1 \sqrt{28.81 \times 10^5 / 50}$$

$$K_1 = 0.43 \quad K_2 = 1254$$

$$A_s \text{ bottom} = 28.81 \times 105 / 1254 \times 103 = 22.31 \text{ cm}$$

take  $4 \phi 22 + 4 \phi 16$

For interior footing :

The interior footing is designed as a strip footing

$$C = (2.85 - 0.5) / 2 = 1.175 \text{ m}$$

$$M = 15.975 \times 1.175 / 2 = 11.03 \text{ mt}$$

$$d_m = 0.313 \sqrt{11.03 \times 10^5 / 100} = 32.87 \text{ cm}^2$$

$$d_{sh} = \frac{15.975(1.175 - d_{sh})}{1.0 \times 70}$$

$$70 d_{sh} = 18.77 - 15.975 d_{sh}$$

$$d_{sh} = 0.21 \text{ m}$$

$$\text{take } t = 45 \text{ cm, } d = 38 \text{ cm}$$

$$A_s = 11.03 \times 10^5 / 1217 \times 38 = 23.85 \text{ cm}^2$$

$$\text{use } 9 \phi 19 / \text{m}^2 \text{ and } A_s = 6 \phi 13 / \text{m}^2$$

$$Q_b = 15.975 \times 1 \times 1.175 = 18.77 \text{ t}$$

$$q_b = \frac{18.77 \times 10^3}{0.87 \times 9 \times 1.9 \times 38} = 10.557 \text{ t/m}^2$$

use L-shape  $10 \phi 19 / \text{m}$

Details of reinforcement are shown in Fig. (6-38)

### حالات خاصة للقواعد ذات الشدات :

• عندما تكون القاعدة الداخلية بعيدة فإنه يمكن ربط الشدات في سمل داخلي شكل (٦-٣٩)

• ويصمم السمل على وجود رد فعل من الشدات لأعلى عليه  $R'$

$$R(S - S') = R' \cdot S'$$

$$R' = R(S - S') / S'$$

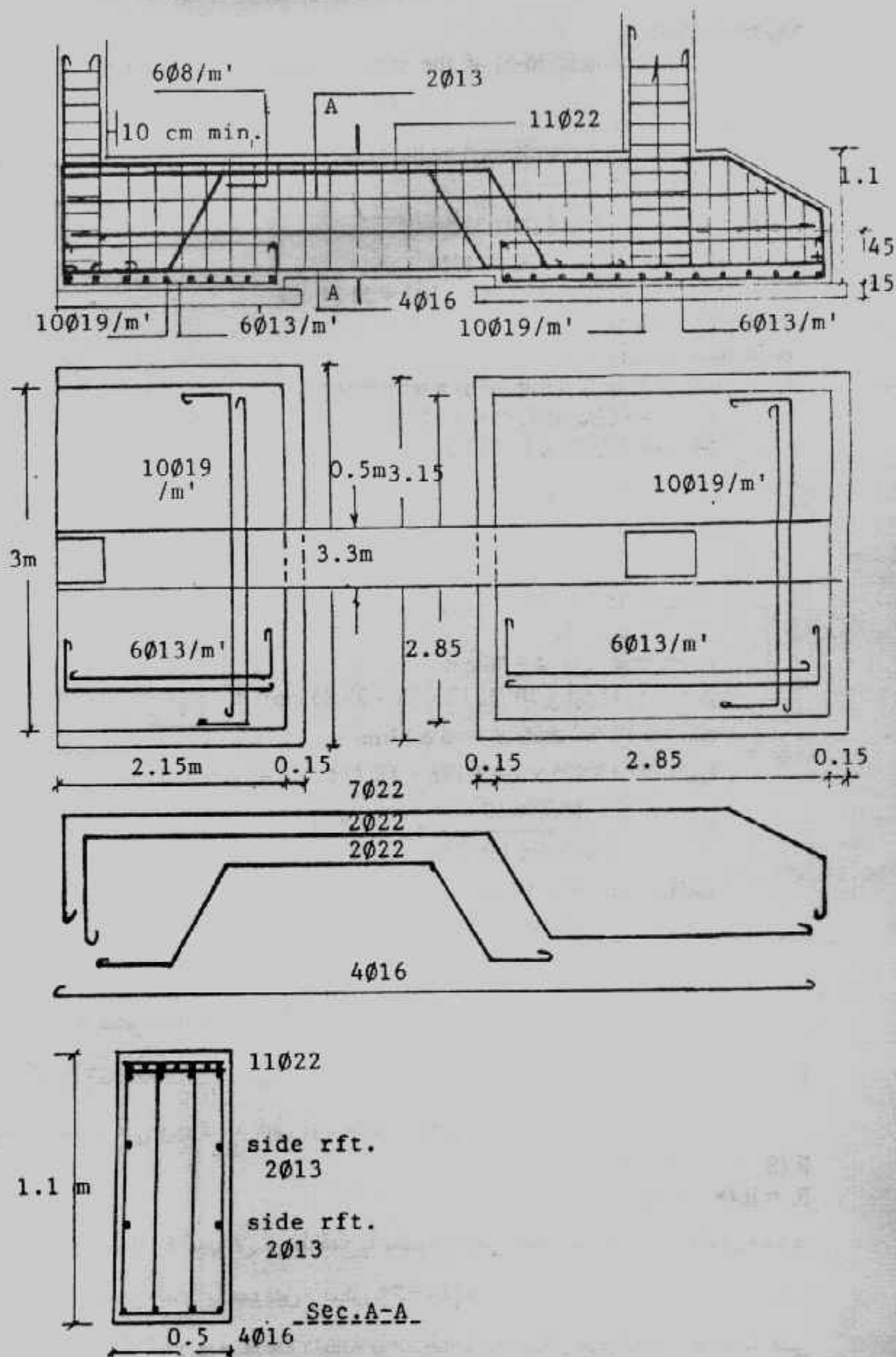
• قاعدة الركن المجاورة للجيران تربط قطريا بعمود داخلي مع مراعاة أن ينطبق محور

الشدات على المحور المار بالعمودين . شكل (٦-٤٠)

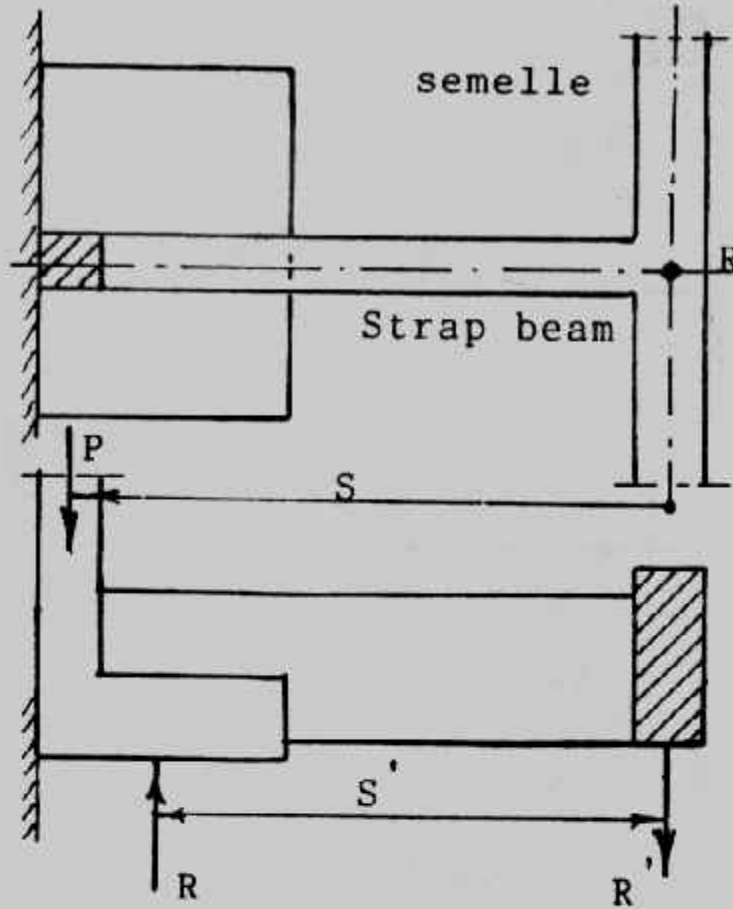
• يمكن ربط القاعدة الخارجية بقاعدة داخلية بواسطة شدات مائل مع تجنب حدوث اللي

بوقوع القوى ومحصلات ردود فعل التربة على نفس المحور شكل (٦-٤١) وفي حالة

الميل الزائد يمكن استخدام شدادين شكل (٦-٤٢)



شکل (۶-۳۸) : مثال (۶-۷)

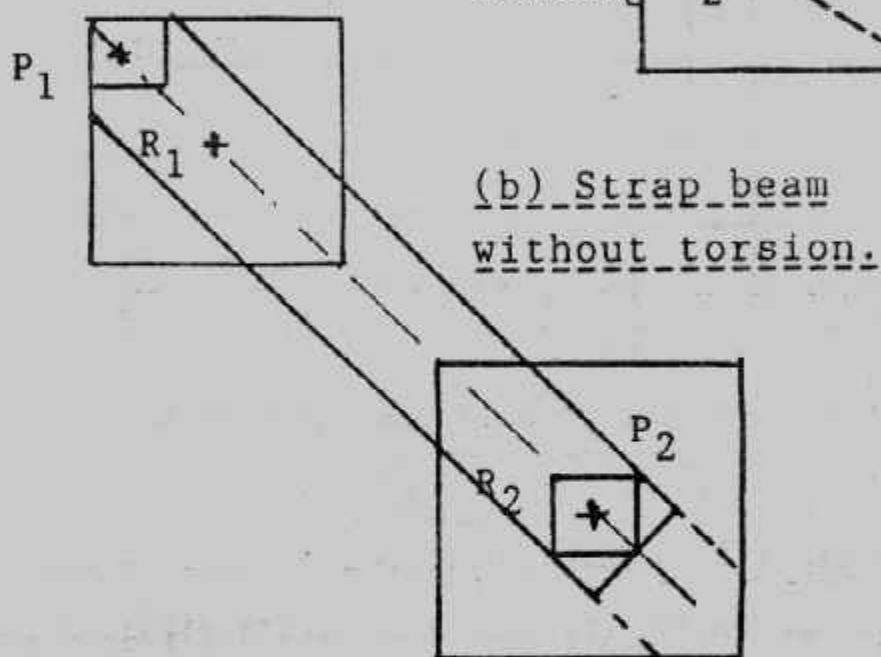
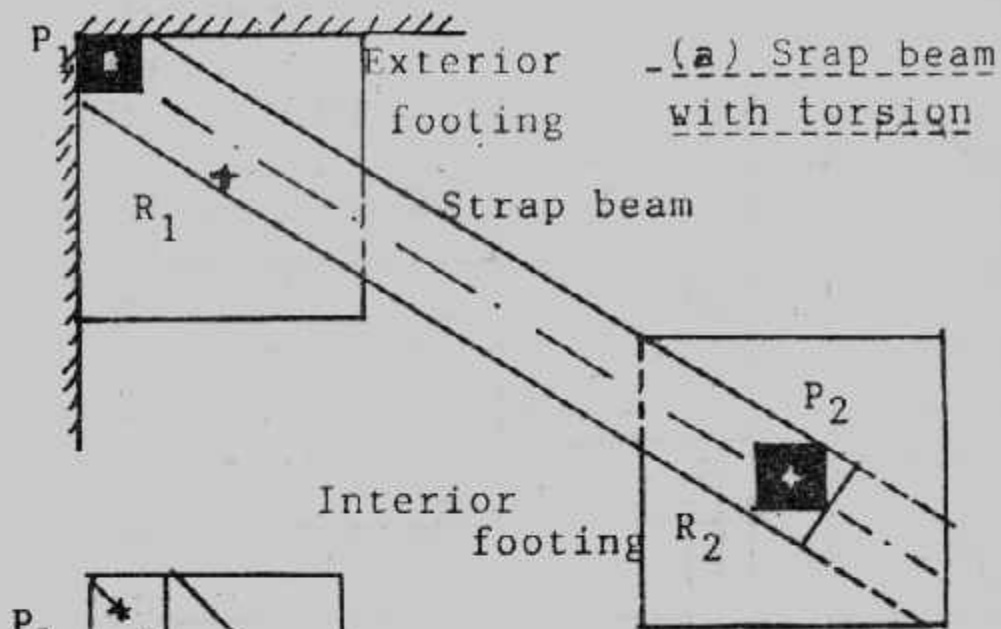


شكل (٦-٣٩) : تحميل الشدائد على سمل.

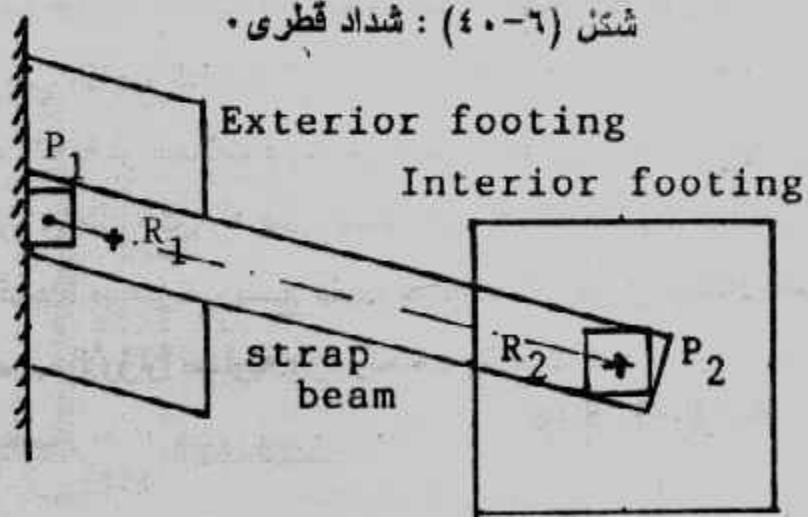
• يمكن ربط قاعدتين خارجيتين بقاعدة واحدة داخلية شكل (٦-٤٣) . وفي هذه الحالة يؤخذ تصميم القاعدة (١) ، (٢) معا ، ثم القاعدتين (٣) ، (٢) معا عند تصميم الشدائد والقواعد الخارجية ، أما القاعدة الداخلية (٢) فتصمم على الحالة الأخرج وهي التي تجعل  $R_2$  رد فعل . التربة على القاعدة الداخلية أكبر ما يمكن .

• حينما لا يوجد قواعد داخلية أو سمالات قريبة من قاعدة الجار يتم عمل قاعدة في نهاية الشدائد وزنها يزيد مرة ونصف عن رد فعل الشدائد على هذه القاعدة (أي معامل الأمان هنا ١,٥) ، أو تنفذ قاعدة صغيرة يوضع عليها بلوكات ذات أوزان تعادل المطلوب ، شكل (٦-٤٤) ، وتحسب الأوزان مساوية مرة ونصف  $R_2$  حيث :

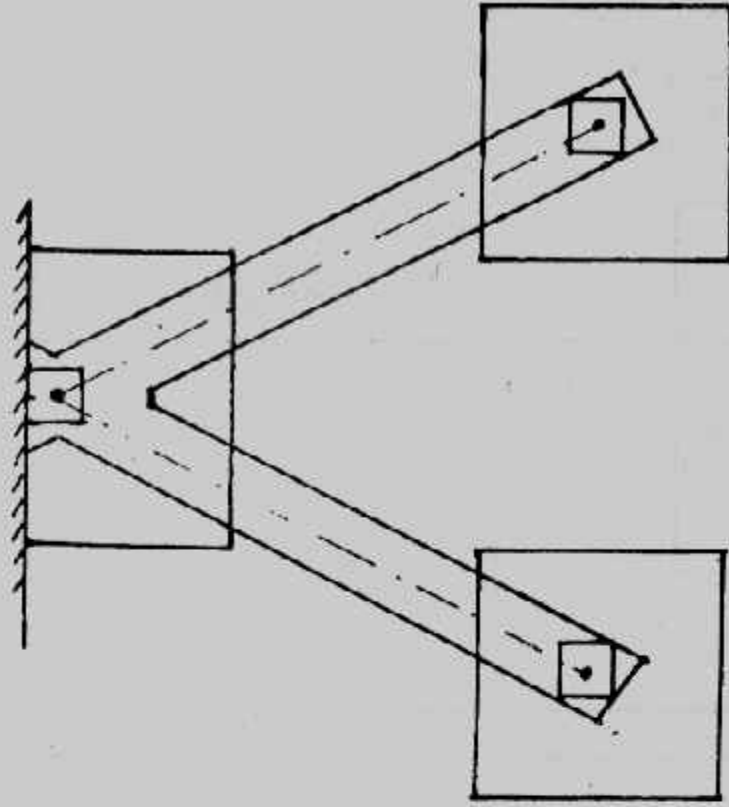
$$R_2 = P_1 (S - S')/S'$$



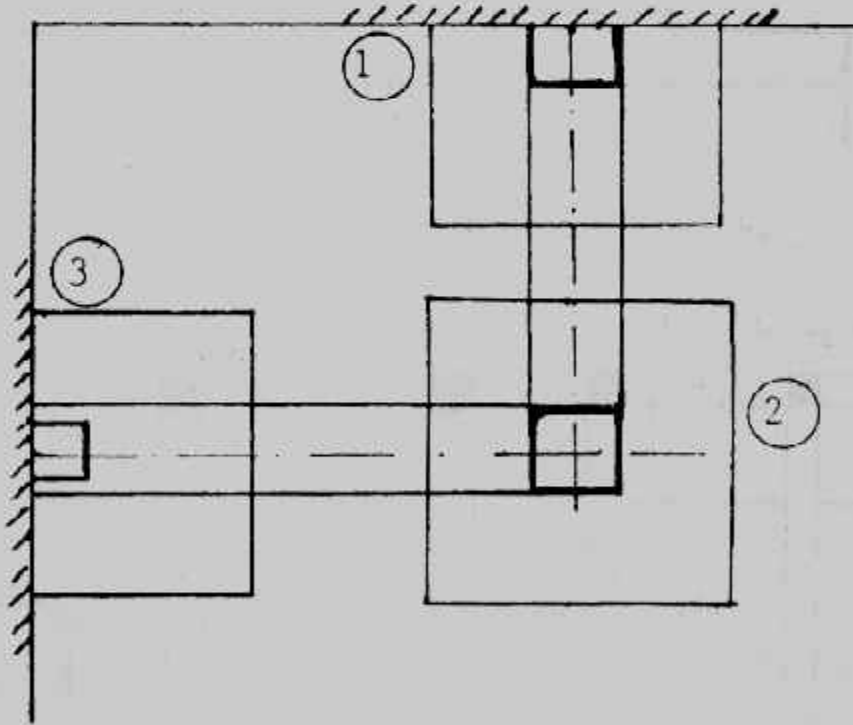
شکل (۶-۴۰) : شداد قطری •



شکل (۶-۴۱) : شداد مائل •



شكل (٦-٤٢): قاعدة خارجية بشدادين مائلين .

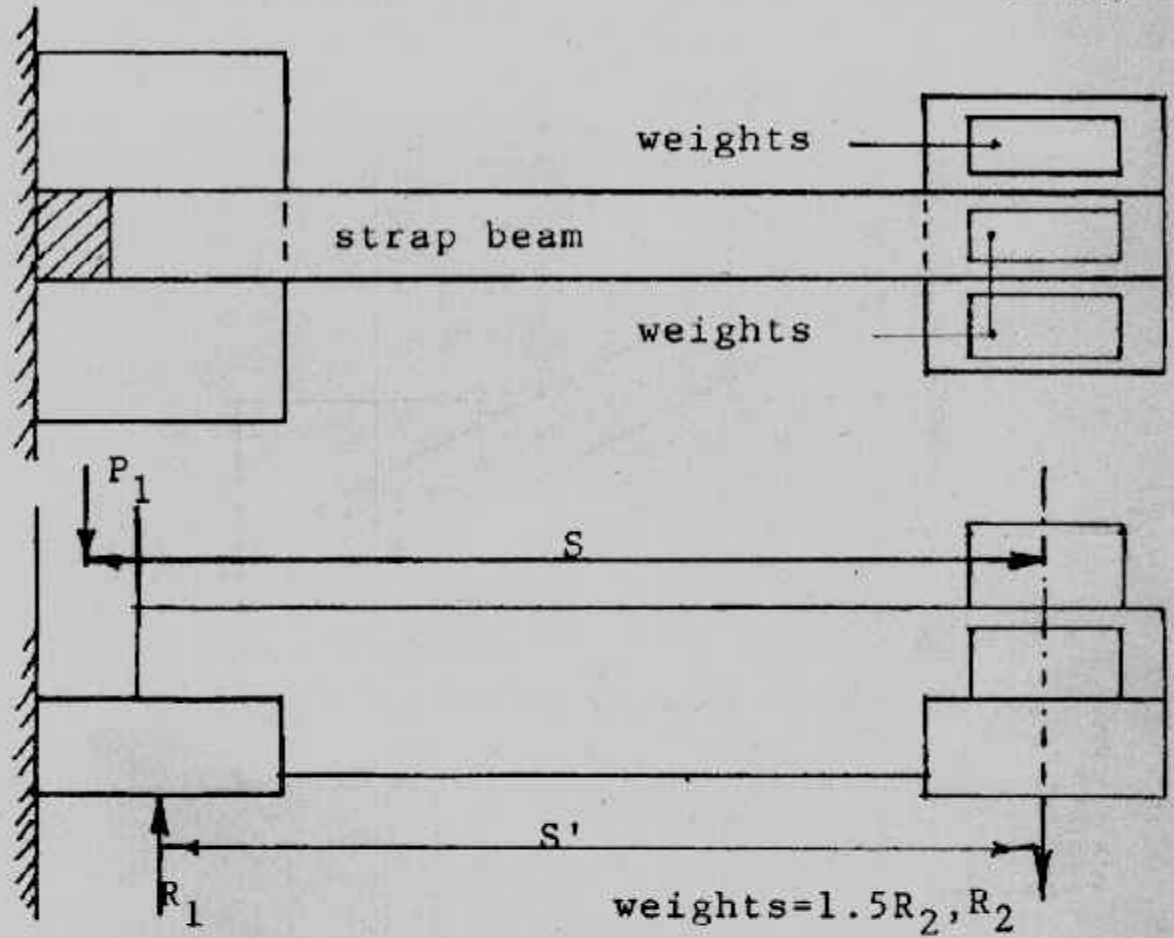


شكل (٦-٤٣) : ربط قاعدتين خارجيتين بقاعدة واحدة داخلية .

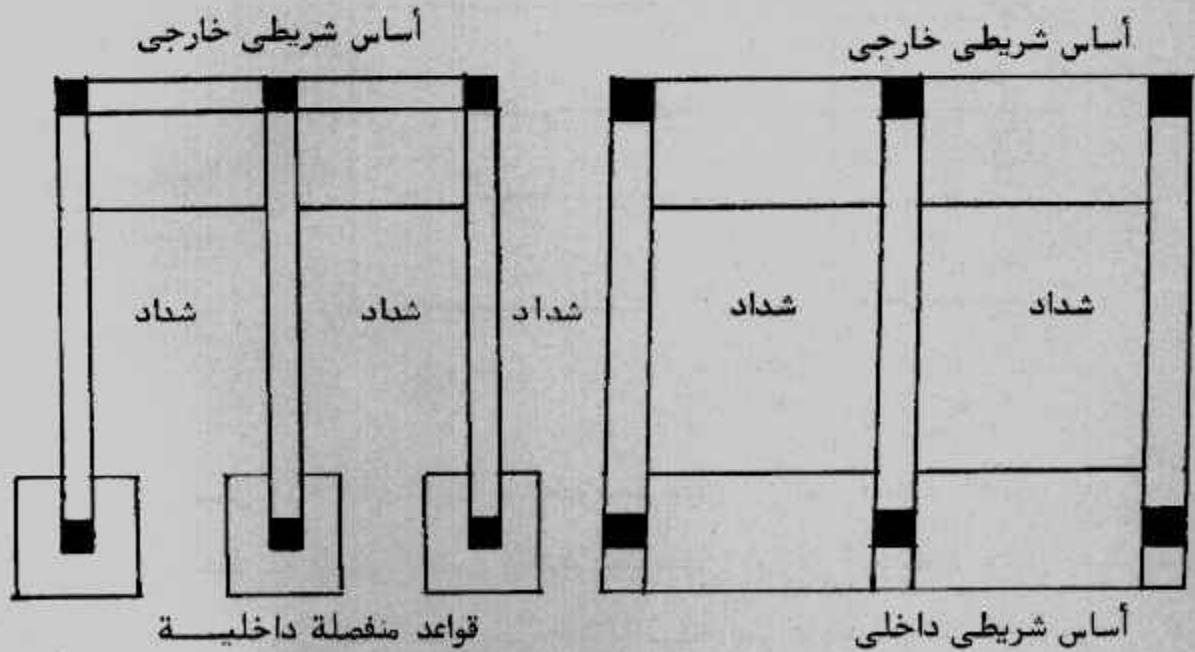
ويلاحظ أنه كلما زاد طول الشدادة قلت قيمة الأوزان المستخدمة ولكن أبعاد وتسليح الشدادة نفسه تزيد . وفي هذه الحالة يجب العناية بربط الشدادة بالقاعدة الداخلة المعرضة لقوى لأسفل .



- يمكن ربط قاعدة جار شريطية بقواعد داخلية منفصلة أو شريطية شكل (٤٤-٦).
- في جميع حالات القواعد ذات الشداد يجب العناية الخاصة بربط الشداد بالقواعد وبالأعمدة.



شكل (٤٤-٦) : ربط قاعدة كابولية بدون عمود داخلي.



شكل (٤٥-٦) : ربط قواعد الجار الشريطية.

## الباب السابع

### تصميم اللبشة بالطرق التقليدية


### Traditional Design Method for Raft (Mat)

أساسات اللبشة (أو الحصىرة) Raft or Mat هي كتلة خرسانية عبارة عن بلاطة لا كمرية أو بلاطة بكرات تستخدم للتأسيس لعدد من الأعمدة في اتجاهين مختلفين (أكثر من عمودين) • واللبشة عبارة عن أساس مشترك، كما أنها تعتبر سقف خرساني مقلوب ترتكز عليه الأعمدة • كما أن اللبشة تدخل ضمن تصنيف الأساسات السطحية وتستخدم أساسات اللبشة في الحالات الآتية :


١. تستخدم اللبشة كأساسات مرنة للمنشآت ذات الكتلة الواحدة مثل صوامع الغلال والأسمنت والمدخن والمآذن والخزانات والأبراج والماكينات الكبيرة •
٢. حيث تكون قدرة تحمل التربة (جهد التربة) صغيرة أو أحمال الأعمدة كبيرة بقدر يجعل الأساسات السطحية الأخرى - إذا استخدمت - تغطي أكثر من ٥٠٪ من مساحة موقع المبنى حيث تكون أساسات اللبشة في هذه الحالة أفضل هندسيا واقتصاديا •
٣. في حالة التربة الغير متجانسة الخواص على مساحة موقع المبنى مما يخشى معه حدوث الهبوط المتباين •
٤. في حالة التربة القابلة للانضغاط Compressible soil حيث لا يمكن التحكم في الهبوط المتباين •
٥. للمنشآت ذات البدرومات التي تتواجد أسفل منسوب المياه الجوفية مما يستلزم استخدام أساس لبشة يجعل للبدروم مناعة عالية لتسرب المياه الجوفية داخله •
٦. في حالات خاصة للتربة اللينة ذات الانضغاطية العالية ويسمى في هذه الحالة Floating Raft حيث يزال حجم من تربة الموقع يعادل وزن المنشأ أو وزن جزء منه بحيث يقل هبوط هذه التربة إلى قيمة مقبولة أو مسموح بها •
٧. للمنشآت ذات الحساسية العالية للهبوط المتباين •

### أنواع أساسات اللبشة : Types of Raft (Mat) Foundation

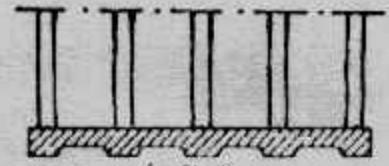
تستخدم عدة أنواع من أساسات اللبشة شكل (٧-١) منها :




A-A



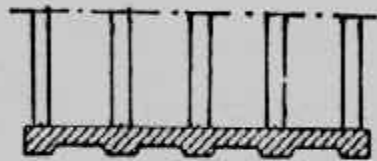
(a) flat slab




B-B



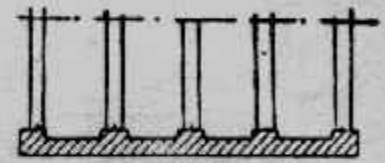
(b) plate thickened under columns




C-C



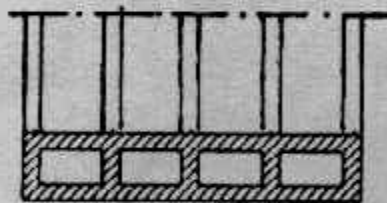
(c) waffle-slab




D-D



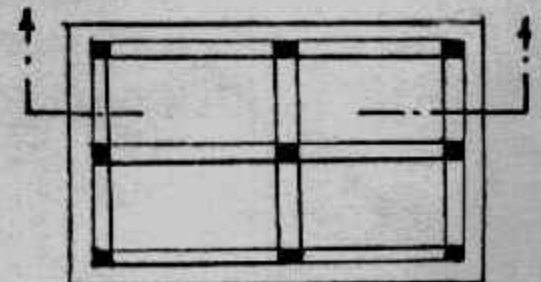
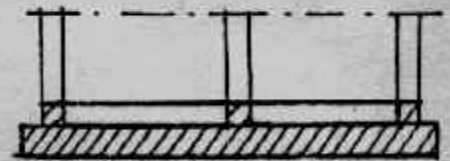
(d) plate with pedestals



E-E



(e) base walls as part of mat



(f) ribbed raft

شكل (١-٧): أشكال اللبشة.

- ١- اللبشة المسطحة Flat Raft وهي بلاطة خرسانية منتظمة السطح لا كمرية وهذا النوع من أكثر الأنواع استخداما ويكون مناسباً عندما تكون العمدة ذات تقسيط متعرب وفي صفوف منتظمة أو شبه منتظمة. ويتراوح سمك هذه اللبشة بين ٦٠ سم إلى ٢ متر.
- ٢- اللبشة المسطحة المقواه تحت الأعمدة Flat Raft Thickened Under Columns : وفي هذا النوع يزداد سمك اللبشة المسطحة أسفل الأعمدة ذات الأحمال الكبيرة لمقاومة قص الاختراق وعزم الانحناء أسفلها وقد تكون هذه الزيادة في السمك أسفل البلاطة أو أعلاها
  - Pedestal
- ٣- اللبشة الكمرية Beams and Slab Raft يمكن استخدام كمرات رئيسية وثانوية في اتجاهين وتقع الأعمدة عند نقط تقابل الكمرات، وقد تكون هذه الكمرات أسفل البلاطة أو أعلى البلاطة.
- ٤- لبشة البلاطة بالحوائط (اللبشة الصندوقية) Slab with Basement Walls (Box Raft) يستخدم هذا النوع حينما تكون العزوم على اللبشة كبيرة وذلك نتيجة لكبر حمل الأعمدة واتساع المسافات بين الأعمدة. ويمكن عمل اللبشة على شكل صندوقى بعمل تجاويف خلوية في اللبشة لزيادة سمك الأساس بدون زيادة كبيرة في وزن الأساس. كما يمكن عمل اللبشة في صورة بناء صندوقى باستخدام حوائط وأسقف وأرضية متصلة اتصالاً صلباً ومستمراً (كهياكل جاسئة).

### الهبوط المتباين للبشة Differential Settlement of Raft :

أساسات اللبشة كأي أساس يجب أن تكون آمنة من انهيار القص Shear Failure وأمنه من الهبوط الزائد Excessive Settlement والهبوط عادة لا يرتبط بالتربة الرملية وإنما يرتبط بالتربة الناعمة ولقد اقترح معهد الخرسانة الأمريكي ACI الطريقة الآتية لحساب الهبوط المتباين لأساسات اللبشة وذلك باستخدام معامل الجساءة  $K_r$  Rrigidity Factor والذي يحسب من :

$$K_r = \frac{E' I_b}{B \cdot B^3}$$

where :  $E'$  = modulus of elasticity of the material used in the structure.

$E$  = modulus of elasticity of the soil

$B$  = width of foundation

$I_b$  = moment of inertia of the structure per unit length at right angles to  $B$ .

أما الجزء  $E' I_b$  فيعبر عنه :



$$E'I_b = E \left( I_F + \Sigma I_b + S \frac{ah^3}{12} \right)$$

where  $E'I_b$  = flexural rigidity of the foundation per unit length at right angles to B

$\Sigma E'I_b$  = flexural rigidity of the framed members

$\Sigma (E'ah^3/12)$  = flexural rigidity of the shear walls

a = shear wall thickness

h = shear wall height

واعتمادا على قيمة  $K_r$  فإن النسبة  $\delta$  وهى :

$\delta$  = Differential settlement/total settlement

فإنها تحسب كالتى :

1- If  $K_r > 0.5$ , it can be treated as a rigid mat, and  $\delta = 0$

2- If  $K_r = 0.5$ , then  $\delta \approx 0.1$ .

3- If  $K_r = 0$   $\delta = 0.35$  for square mats ( $B/L = 1$ ) and  $\delta = 0.5$  for long

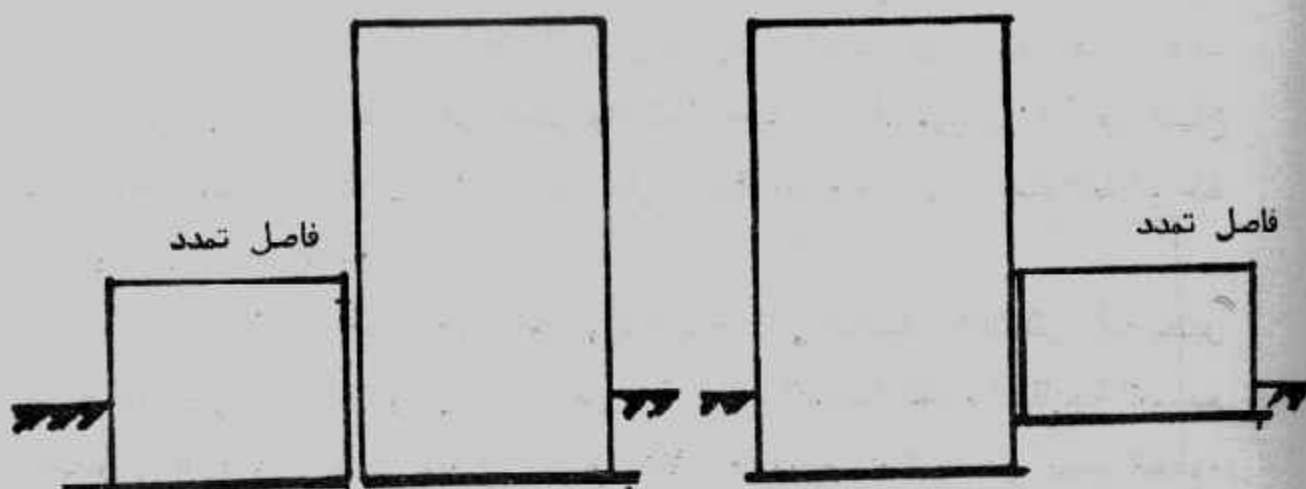
### تنفيذ اللبشة Construction fo Raft :

يمكن تنفيذ اللبشة على تربة التأسيس (بينهما خرسانة عادية طبعا) أو على خوازيق ذات تقسيط متساو فى الاتجاهين. وتنفذ اللبشة من الخرسانة المسلحة والتي تصب فى مساحات صغيرة أبعادها عادة  $6 \times 6$  مترا ولا تزيد عن  $10 \times 10$  مترا وذلك لتجنب حدوث شروخ الإنكماش Shrinkage Cracks ويجب اختيار وصلات الصب بعناية عند أماكن القص المنخفض والتي غالبا ما تكن فى منتصف البحور بين الأعمدة وتترك فترة زمنية لا تقل عن ٢٤ ساعة بين صب المساحات المتجاورة كما يجب أن تبقى أسياخ التسليح مستمرة عبر الوصلات وعند الحاجة لوصل أسياخ التسليح فإنه يجب ألا يقل طول وصلة الأسياخ عن ٥٠ مرة قطر السيخ. كما يجب أن تكون الخرسانة قوية لنقل قوى القص عبر الوصلات.

ولبشة الخرسانة المسلحة ككل الأساسات الخرسانية المسلحة لا توضع فوق التربة مباشرة بل يجب صب لبشة من الخرسانة العادية أسفلها وذلك لتسهيل العمل فى الموقع عند رص الحديد ومنع المياه الجوفية من الاختلاط بالخرسانة المسلحة لللبشة وفى هذه الحالة يكون منسوب التأسيس أسفل الخرسانة العادية وهو المنسوب الذى حسبت عنده قدرة تحمل التربة.

وفى بعض أنواع التربة اللينة والمغمورة بالمياه الجوفية عند منسوب التأسيس فإنه يمكن استخدام طبقات الإحلال من الدقشوم أو الزلط أو خليط الزلط بالرمل مع الدمك الجيد وذلك لمنع هروب الخرسانة فى التربة اللينة أو اختلاطها بالتربة وانفصال مكوناتها بتأثير المياه الجوفية. ويحدد سمك طبقة الإحلال حسب حالة التربة واعتبارات التصميم ولكن

يجب ملاحظة أنه في حالة أساسات اللبشة فإن طبقات الإحلال لا تكون مؤثرة في تقليل الإجهادات الواصلة من اللبشة للتربة كما هو الحال في القواعد المنفصلة .  
وعند تنفيذ مبنى يتكون من أكثر من ارتفاع على لبشة كما في شكل (٧-٢) .



شكل (٧-٢) : مبنى متغير الارتفاع على لبشة

فإنه يجب عمل فاصل هبوط بين جزئى أو أجزاء المبنى المتباينة في الارتفاع وذلك بسبب اختلاف الضغط الواقع من أجزاء المبنى على التربة والذي يؤدي إلى حدوث هبوط مختلف ومتباين . كما يمكن في بعض الحالات تغيير منسوب التأسيس لهذه الأجزاء .

### تصميم اللبشة Design of Raft :

كان وما يزال تصميم اللبشة بدقة وبأخذ جميع اعتبارات التصميم عملاً ليس سهلاً . ولذلك فلقد بدأ الباحثون تصميم اللبشة بطرق تقريبية بسيطة تؤدي إلى حلول تقريبية . ويطلق على هذه الطرق "الطرق التقليدية" . ثم مع التوسع في استخدام طرق التحليل العددي ومع انتشار استخدام الحسابات الإلكترونية أمكن تصميم اللبشة بطرق أكثر دقة .

وتصمم اللبشة كعنصر جاسئ Rigid Raft أو كلبشة مرنة Flexible Raft .  
وتعامل اللبشة كعنصر جاسئ حينما يكون الإجهاد الذي تنقله إلى التربة منتظم التوزيع ويساوى الوزن الكلى للمبنى مقسوماً على مساحة اللبشة، ويحدث ذلك عندما تنطبق محصلة الأحمال مع مركز نقل اللبشة . وهذا الافتراض صحيح إذا كانت الأعمدة متقاربة الأحمال والبحور وهذا طبعاً يصعب تحقيقه عملياً في جميع الأحوال، ولذلك فإنه يمكن تحقيق هذا الافتراض إذا كان التجاوز في الحمل والبحور لا يتعدى ٢٠% . ويمكن تقسيم اللبشة إلى



عدد من الأجزاء حسب كثافة التحميل ويصمم كل جزء على متوسط الإجهاد الواقع عليه .  
وتعامل اللبشة كعنصر جاسئ عندما تتفد على تربة غير قاسية لأن اللبشة على هذه التربة  
تعيد توزيع الإجهادات عندما يحدث هبوط غير متساو . وتنضم اللبشة كعنصر مرن  
Flexible عندما تتعرض اللبشة إلى أحمال لا مركزية كبيرة أو عندما تتفد على تربة قاسية  
Stiff . وعند تصميم اللبشة المرنة فإنه إذا لم يؤخذ الهبوط المتباين في الاعتبار فإن ضعف  
حديد التسليح المحسوب يستخدم في التسليح وقد تصل نسبة حديد التسليح إلى ١٪ من قطاع  
اللبشة مقسمة إلى حديد علوى وحديد سفلى . وفي اللبشة المرنة قد يزيد سمك القطاع عند  
الأعمدة لمنع الانهيار بالقص .

ويجب الإشارة إلى أن وزن الحصى لا يدخل في الحساب الإنشائي لأنه يعتبر  
حمل مباشر على الأرض . وسوف تقدم في هذا الباب تفصيلا الطرق التقليدية لتصميم  
اللبشة وهي طرق تقريبية لحد ما . أما الطرق الأكثر دقة فسوف نناقشها في الباب القادم .  
والطرق التقريبية تستخدم حينما تكون اللبشة عالية الجساءة والأعمدة متقاربة التحميل  
والبحور . وهذه الطرق هي :

- ١- تصميم اللبشة كقاعدة مستمرة .
- ٢- تصميم اللبشة كبلاطة منبسطة .
- ٣- تصميم اللبشة بالطريقة التقليدية .
- ٤- تصميم اللبشة الكمرية .

#### أولا : تصميم اللبشة كقاعدة مستمرة Continuous Footing Raft :

هذه الطريقة تقريبية وبدائية لتصميم اللبشة اللاكمرية وتستخدم كحل تقريبي

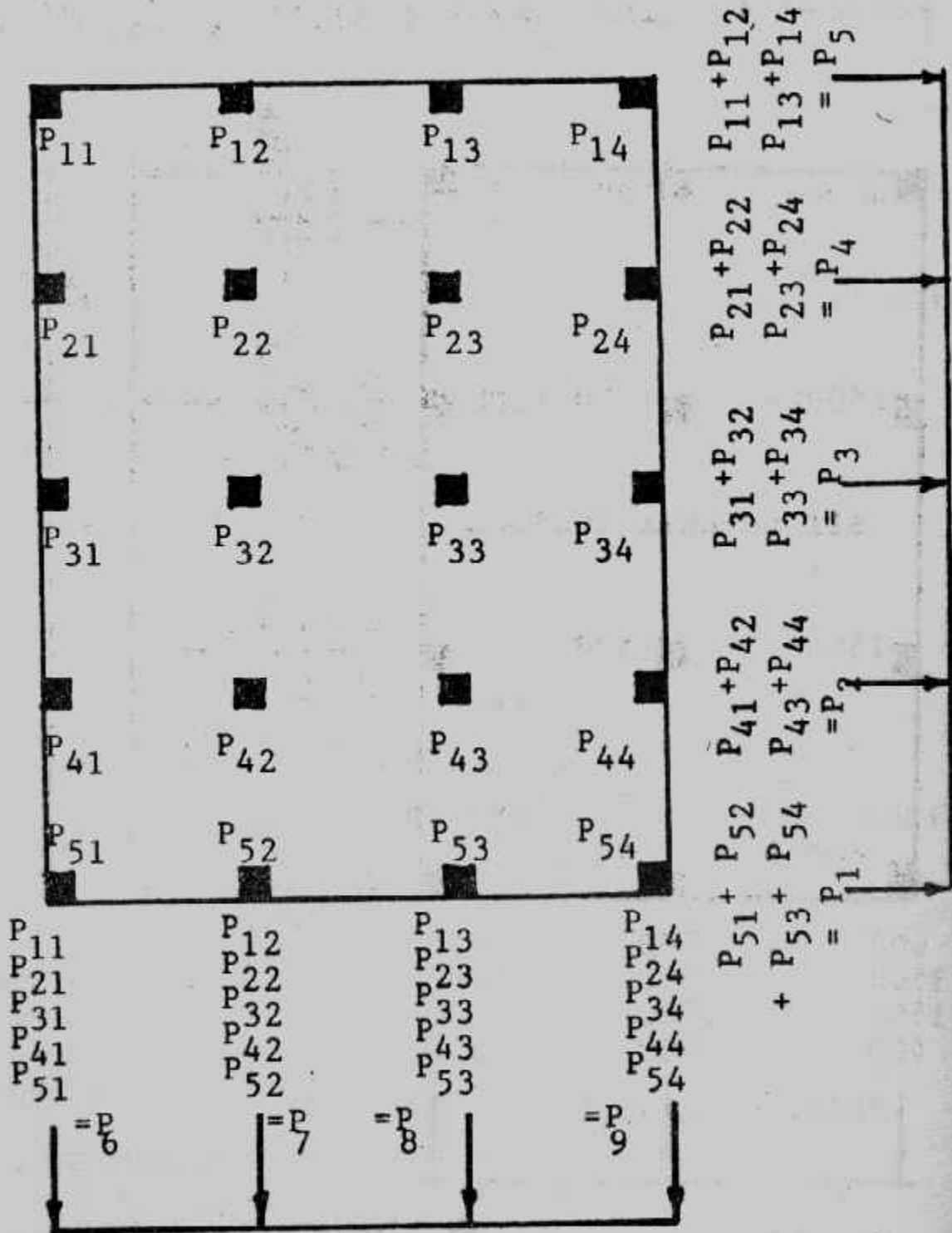
أو أولى لللبشة وتتم هذه الطريقة بالخطوات الآتية :

- ١- لكل اتجاه من الاتجاهين الطولى والعرضى تسقط مجموع أحمال الأعمال على طول  
وعرض اللبشة شكل (٧-٣) .
- ٢- تعين محصلة الأحمال ومكانها لكل اتجاه .
- ٣- لكل اتجاه يحسب الجهد تحت الأساس المستمر بأى طريقة لحساب الإجهادات . ويلاحظ  
أن الجهد يأخذ شكل شبه منحرف إذا كانت المحصلة لا مركزية .
- ٤- يحسب ويرسم كل من القص والعزوم عند القطاعات المختلفة في الاتجاهين .
- ٥- يصمم القطاع من حيث التسليح ليقاوم القص والقص الثاقب والعزوم .


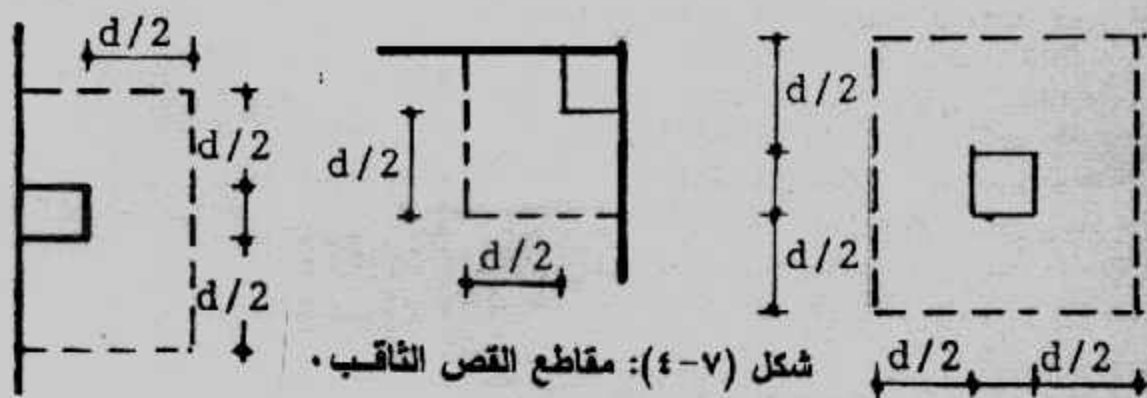
٦- يلاحظ أن القص الثاقب هو المؤثر في تحديد سمك اللبشة ذات الجساءة العالية ويحسب العمق للحالات المختلفة للأعمدة : عمود داخلي وعمود جار وعمود ركن كما في شكل (٧-٤).

**Example (7-1):**

Design a continuous footing raft for columns shown in Fig. (7-5). The net allowable soil pressure is  $52.5 \text{ kN/m}^2$ ,  $f_c = 50 \text{ kg/cm}^2$ ,  $f_s = 1400 \text{ kg/cm}^2$ ,  $q_p = 800 \text{ kN/m}^2$ .



شكل (٧-٣) : تصميم اللبشة كقاعدة مستمرة.



شكل (٥-٧) مثال (١-٧) أبعاد وأحمال.

**Solution :**

Longitudinal direction :

$$P_1 = 400 + 500 + 350 = 1250 \text{ kN}$$

$$P_2 = 1500 + 1500 + 1200 = 4200 \text{ kN}$$

$$P_3 = 1500 + 1500 + 1200 = 4200 \text{ kN}$$

$$P_4 = 400 + 500 + 450 = 1350 \text{ kN}$$

$$R = 1250 + 4200 + 4200 + 1350 = 11000 \text{ kN}$$

$$\bar{X}_1 = (4200 \times 7 + 4200 \times 14 + 1350 \times 21) / 11000 = 10.595 \text{ m}$$

$$e = 10.5 - 10.595 = 0.095 \text{ m}$$

$$q_{1,2} = \frac{R}{BL} \left( 1 \pm \frac{6e}{L} \right)$$

$$= \frac{1100}{16.5 \times 21.5} \left( 1 \pm \frac{6 \times 0.095}{21.5} \right)$$

$$q_1 = 31.83 \text{ kN/m}^2 = 31.83 \times 16.5 = 525.195 \text{ kN/m}$$

$$q_2 = 30.19 \text{ kN/m}^2 = 30.19 \times 16.5 = 498.135 \text{ kN/m}$$

The stresses, stress load, shearing forces and bending moments are given in Fig. (7-6).

**Short direction :**

$$P_5 = 400 + 1500 + 1500 + 400 = 3800 \text{ kN}$$

$$P_6 = 500 + 1500 + 1500 + 500 = 4000 \text{ kN}$$

$$P_7 = 450 + 1200 + 1200 + 350 = 3200 \text{ kN}$$

$$R = 3800 + 4000 + 3200 = 11000 \text{ kN}$$

$$\bar{X}_2 = (4000 \times 8 + 3200 \times 16) / 11000 = 7.564 \text{ m}$$

$$e = 8 - 7.564 = 0.436 \text{ m}$$

$$q_{1,2} = \frac{11000}{16.5 \times 21.5} \left( 1 \pm \frac{6 \times 0.436}{16.5} \right)$$

$$q_1 = 35.92 \text{ kN/m}^2 = 35.92 \times 21.5 = 772.28 \text{ kN/m}$$

$$q_2 = 26.09 \text{ kN/m}^2 = 26.09 \times 21.5 = 560.935 \text{ kN/m}$$

The stresses, stress load, shearing forces and bending moments are given in Fig. (7-7).  
from Figs. (7-6) and (7-7), it is clear that

$$M_{\max} = 8090.42 \text{ kN.m}$$

$$= 8090.42 / 21.5 = 376.3 \text{ kN.m/m}$$

$$d = 0.361 \sqrt{376.3 \times 10^4 / 100} = 70.03 \text{ cm}$$

$$\text{take } t = 0.80 \text{ m, } d = 0.73 \text{ m}$$

check punching fig. (7-8):

$$b_o = 2 (0.5 + d/2) + (0.5 + d) = 1.5 \cdot 2d$$

$$= 1.5 + 2 \times 0.73 = 2.96 \text{ m}$$

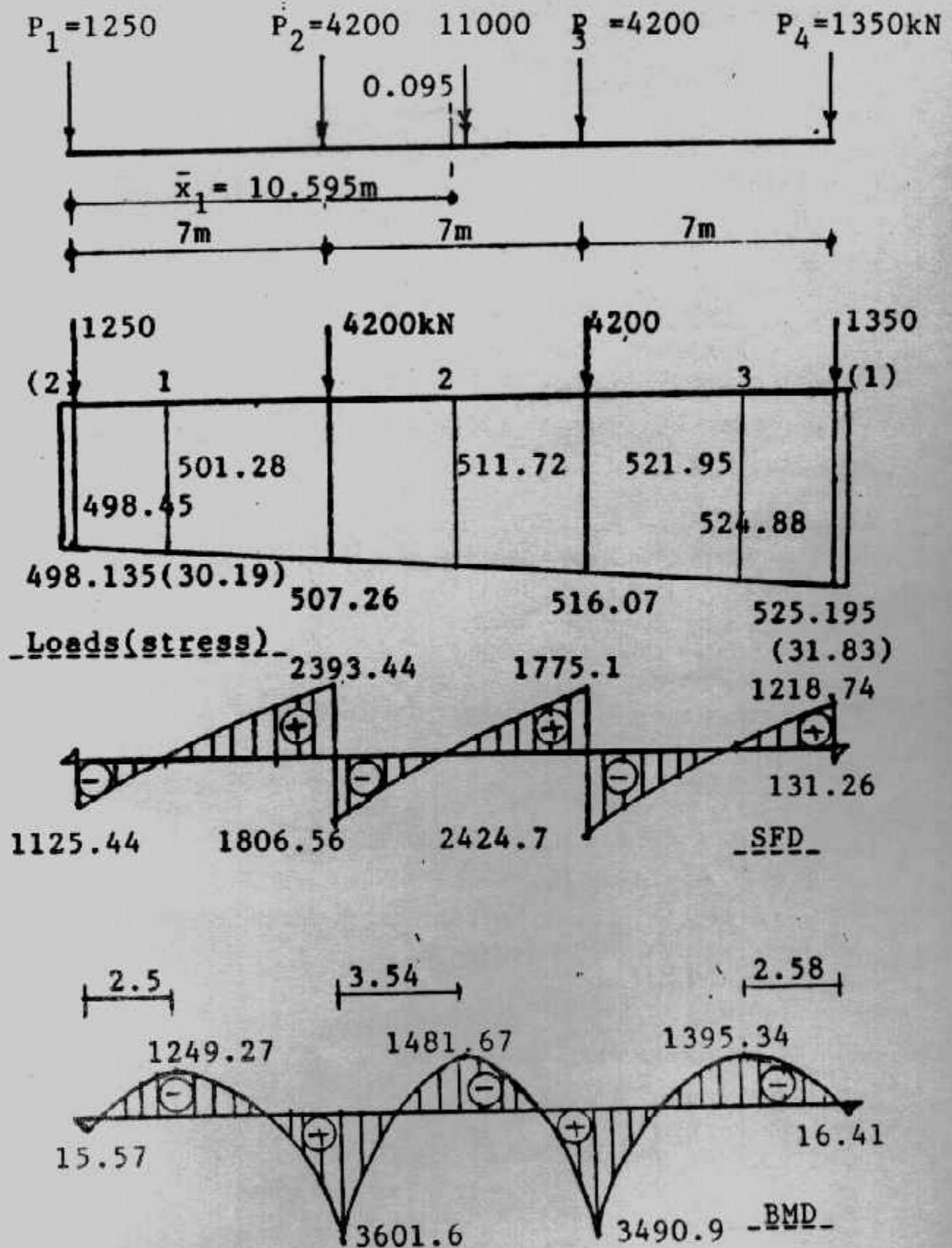
$$A_o = (0.5 + d/2) (0.5 + d) = (0.5 + 0.73/2) (0.5 + 0.73)$$

$$= 0.865 \times 1.23 = 1.064 \text{ m}$$

$$q_p = 1500 - 1.064 \times 35.92 = 1461.78 \text{ kN}$$

$$d_p = \frac{Q_p}{q_p b_o} = 0.62 \text{ m}$$

$$A_s \text{ Top short} = \frac{376.3 \times 10^4}{1237 \times 73} = 41.67 \text{ cm}^2$$



شكل (٦-٧): الأحمال والقوى الداخلية للاتجاه الطولي.



take  $9 \phi 25/m'$  and  $5 \phi 16/m'$  in bottom (min.)

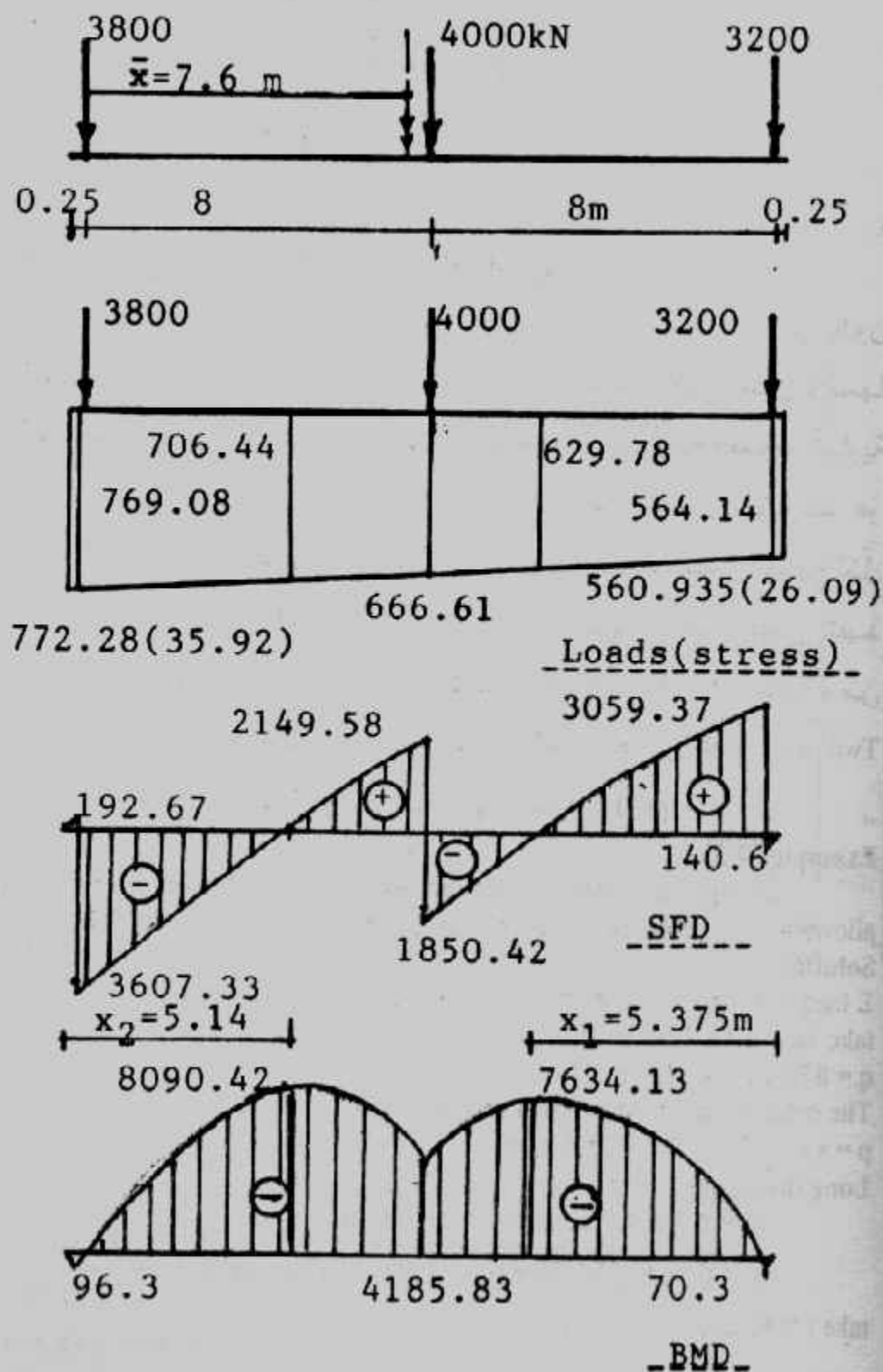
$M_{max} (-ve) = 1481.67/16.5 = 89.8 \text{ kN.m/m'}$

As top long =  $89.8 \times 10^4 / (1237 \times 73) = 9.94 \text{ cm}^2$   $5 \phi 16 / m'$

$M_{max} (+ve) = 3490.16.5 = 211.57 \text{ kN.m/m'}$

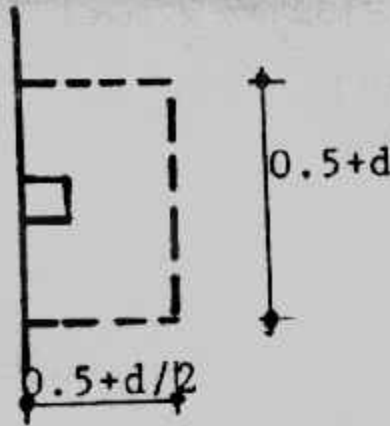
As bottom long =  $\frac{211.57}{1237 \times 73} = 23.43 \text{ kN.m/m'}$

Details of design are shown in Fig. (7-9).



شكل (٧-٧) : الأحمال والقوى الداخلية للاتجاه العرضي.





شكل (٧-٨): القص .

### ثانيا : تصميم اللبشة كبلطة منبسطة Design of Flat Slab Raft :

اللبشة ذات التخانة الواحدة تقسم إلى شرائح أعمدة وشرائح وسط على أن يكون عرض شرائح العمود  $b + 2d$  حيث  $b$  عرض العمود و  $d$  تخانة البلاطة التي يمكن فرضها ١٠/١ (عشر) البحر الصافي بين الأعمدة . كما يمكن أخذ عرض شريحة العمود مساوية  $3b$ ، شكل (٧-١٠) . وتصمم شرائح الأعمدة ككمرات مستمرة محملة بأحمال مثلثية كما هو مبين بالشكل (٧-١٠) . ويحسب عزم الانحناء  $Pl^2/12$  . ويحسب السمك والتسليح لكل شريحة، كما يحسب السمك ليكون كافيا لكل من القص والقص الثاقب ويمكن تنفيذ Pedestals عند الأعمدة لتحقيق ذلك في بعض الحالات، شكل (٧-١١) . أما الجزء من اللبشة الواقع بين شرائح الأعمدة في الاتجاهين فإنه يصمم لبلاطة باتجاهين Two way slab مثبتة على شرائح الأعمدة وبنفس تخانتها ويؤخذ العزم لهذا الجزء  $pl^2/12$  .

#### Example (7-2) :

Design the raft foundation for columns shown in Fig. (7-13). The net allowable soil pressure is  $0.52 \text{ kg/cm}^2$ ,  $f_c = 50 \text{ kg/cm}^2$ ,  $f_s = 1400 \text{ kg/cm}^2$ .

#### Solution :

$$\Sigma \text{ load} = 3 \times 80 + 1 \times 90 + 2 \times 100 + 2 \times 110 + 120 = 870 \text{ t}$$

$$\text{take } 14.3 \times 11.7 \text{ m}$$

$$q = 870 / 14.3 \times 11.7 = 5.2 \text{ t/m}^2$$

The columns strips are shown in Fig. (7-13)

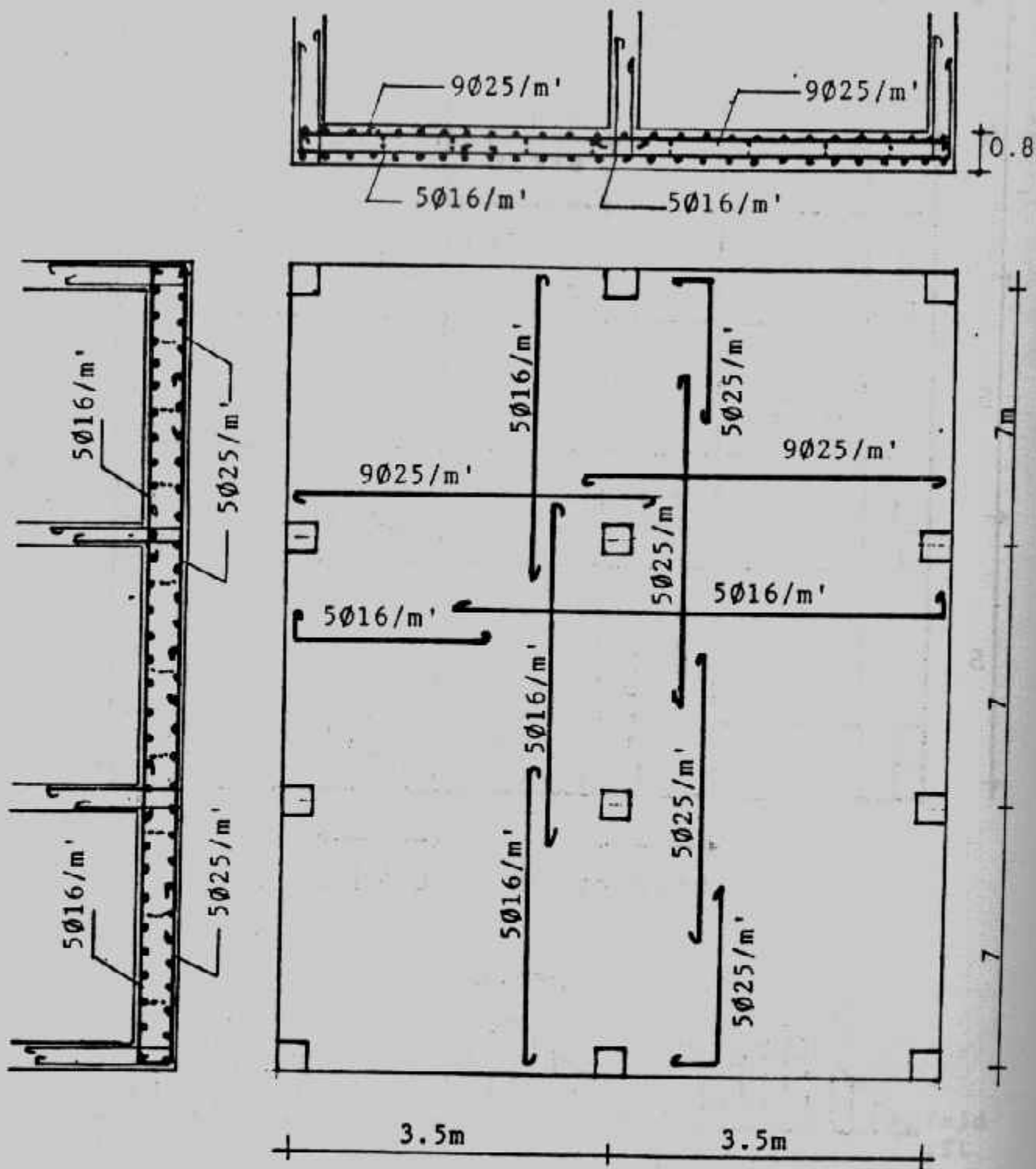
$$p = s.q. = 5.5 \times 5.2 = 28.6 \text{ t/m}^2$$

#### Long direction :

$$M = 5.2 \times 4.5 \times 5.5^2 / 12 = 58.98 \text{ mt}$$

$$d = 0.361 \sqrt{58.98 \times 10^5 / 150} = 71.59 \text{ cm}^2$$

$$\text{take } t = 80 \text{ cm}, d = 73 \text{ cm}$$



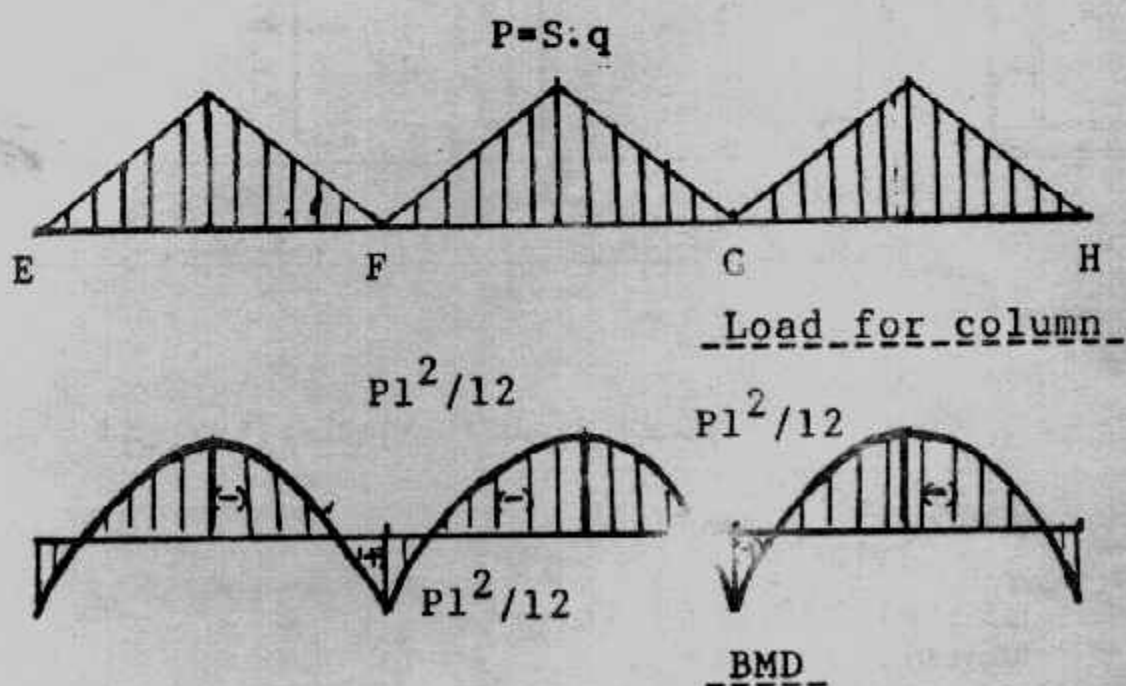
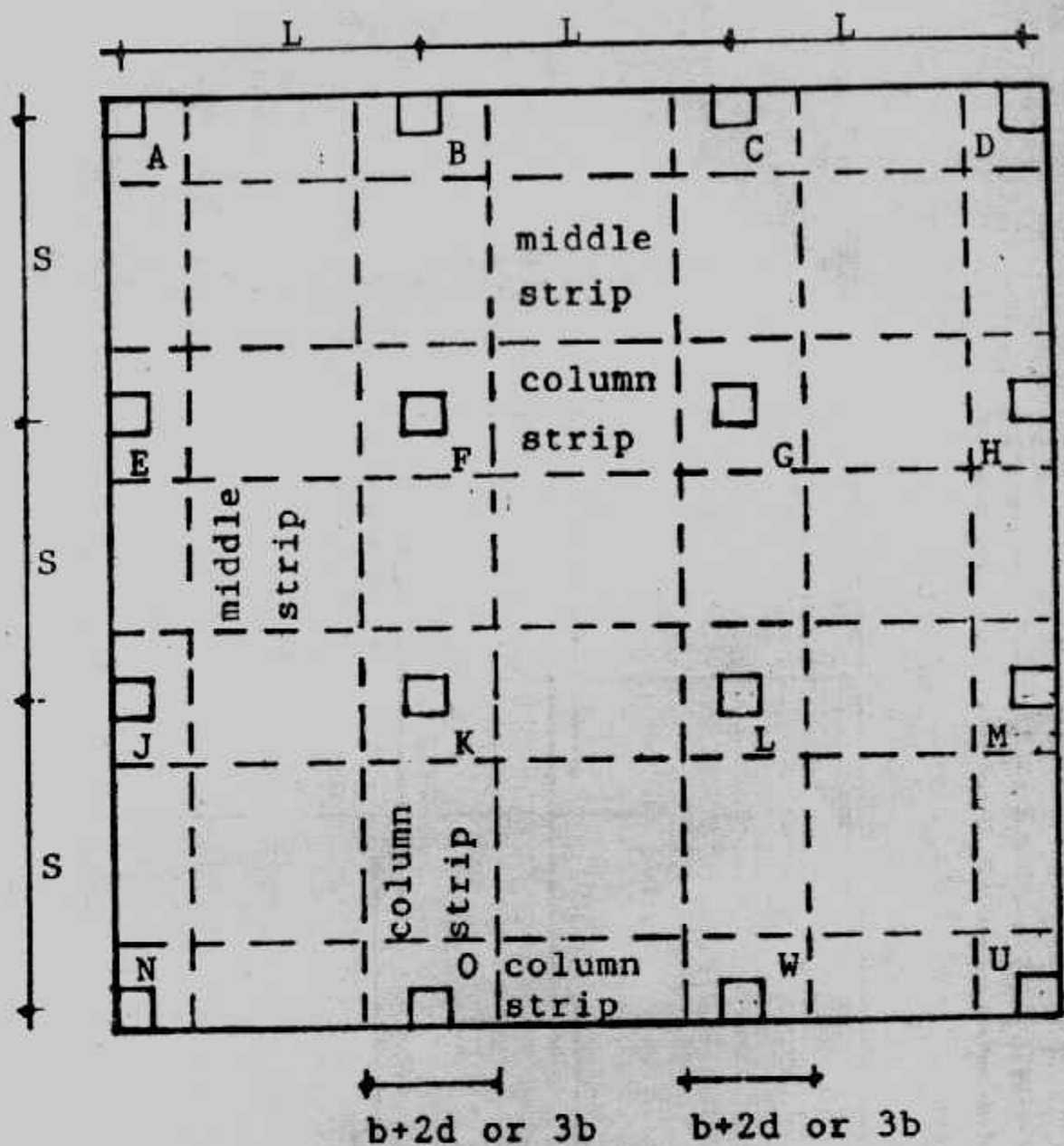
شكل (٩-٧) : مثال (١-٧) تفاصيل التصميم •

$$A_s = \frac{58.98 \times 10^5}{73 \times 1237} = 65.31 \text{ cm}^2$$


take 14  $\phi$  25/1.5 m or 10  $\phi$  25/m'

**Short Direction**

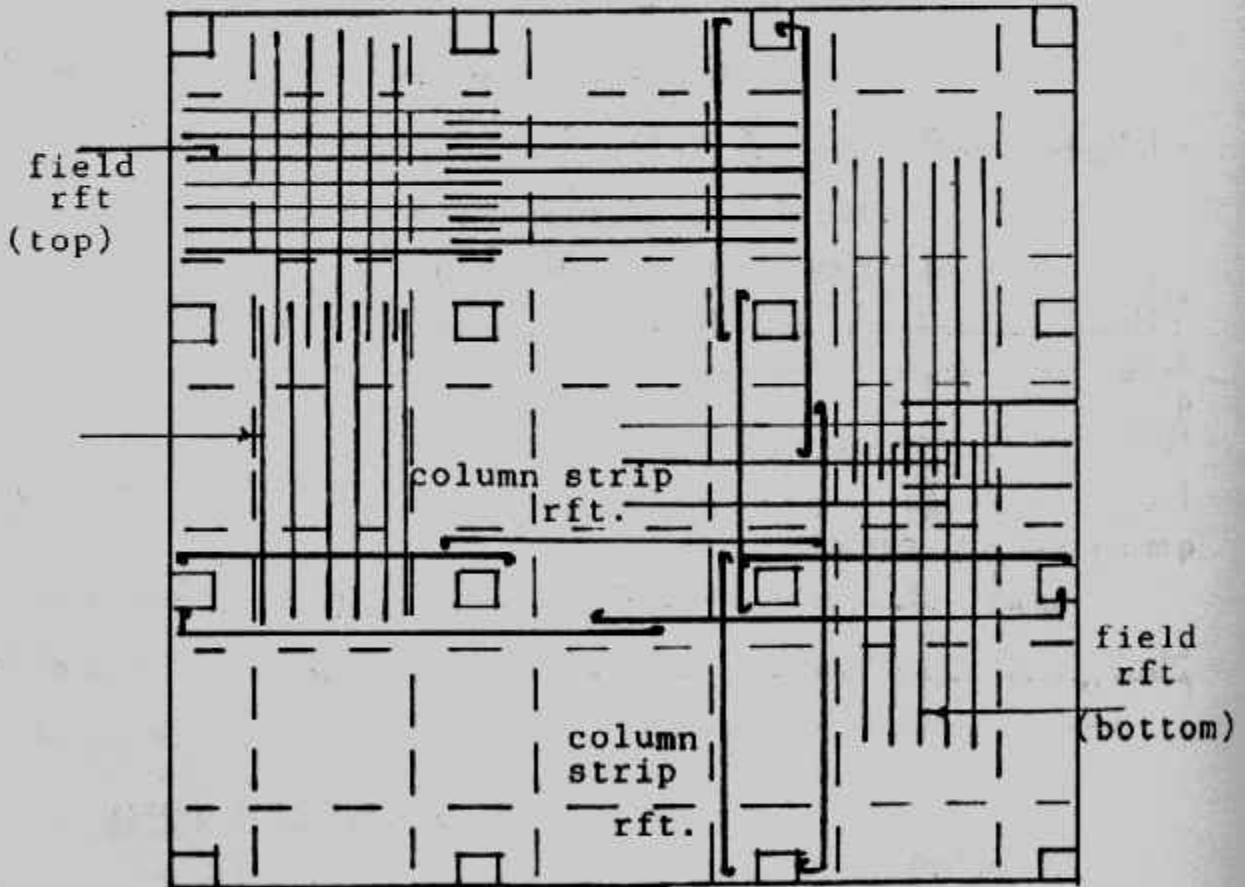
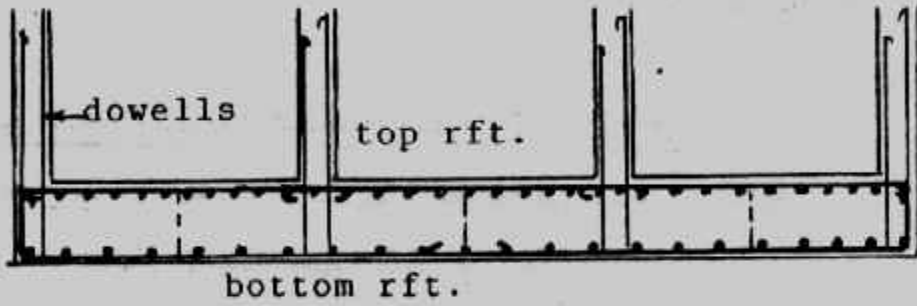
$$M = 5.5 \times 5.2 \times 4.5^2 / 12 = 48.26 \text{ mt}$$



شكل (٧-١٠): تصميم اللبشة كبلطة منبسطة.



شكل (٧-١١) : أعمدة مقواه في نهايتها .



شكل (٧-١٢) : تفاصيل تسليح اللبشة كبلطة منبسطة .

$$A_s = \frac{48.26 \times 10^5}{73 \times 1237} = 53.44 \text{ cm}^2$$

take 11  $\phi$  25/1.5 m or 8  $\phi$  25/m

**Middle strips**

$$q = 5.2 \text{ t/m}^2$$

$$M_{\max} = ql^2/12 = 5.2 \times 4^2/12 = 6.93 \text{ mt/m}$$

$$A_{\min} = 0.002 \times 73 \times 100 = 14.6 \text{ cm}^2$$

take 6  $\phi$  19/m

**Check of punshing**

$$Q_p = 120 - 5.2 \times 0.5 \times 0.5 = 118.7 \text{ t}$$

$$q_p = 118.7 \times 10^3 / 50 \times 4 \times 68 = 9.42 \text{ kg/cm}^2 \text{ safe}$$

The details of design are shown in Fig. (7-14).

### ثالثاً : تصميم اللبشة بالطريقة التقليدية Conventional Method :

تتلخص طريقة تصميم اللبشة بهذه الطريقة فى الخطوات الآتية :

١- تعيين محصلة أحمال الأعمدة المبينة بشكل (٧-١٥) .

$$R = P_1 + P_2 + P_3 + \dots$$

٢- تختار مساحة اللبشة بحيث تغطى الأعمدة كلها أو المساحة كلها .

٣- يحدد موقع المحصلة R ومنها تعين الإزاحات  $e_y, e_x$  .

٤- تحدد خصائص مساحة اللبشة  $\Delta$  وهى المساحة ومركزها وعزوم القصور الذاتى  $I_x, I_y$  .

٥- تحسب عزوم أحمال الأعمدة حول محورى  $y, x$  ليعين  $M_y, M_x$

$$M_x = R \cdot e_y \quad \text{or} \quad M_y = R \cdot e_x$$

٦- يحسب توزيع الجهد على التربة أسفل اللبشة عند نقط تأثير الأعمدة باستخدام المعادلة :

$$q = \frac{R}{\Delta} \pm \frac{M_x}{I_x} \pm \frac{M_y}{I_y} X$$

ويراعى عند أى نقطة تحقيق ما يلى :

$$q \text{ at any point} \leq q_{\text{net allwable}}$$

٧- تقسم اللبشة إلى شرائح فى الاتجاهين فى منتصف المسافة بين محاور الأعمدة .

٨- تصمم كل شريحة على أقصى إجهاد واقع عليها ويعتبر هذا الإجهاد الأقصى منتظم التوزيع على الشريحة .


ويحسب عزم الاتحناء من :

$$M = qL^2/10$$

إذا كانت الشريحة تحمل أكثر من ثلاث أعمدة

$$M = qL^2/8$$

إذا كانت الشريحة تحمل ثلاث أعمدة أو عمودين



شكل (٧-١٣) : مثال (٧-٢) .

ويشترط لحساب العزوم بالطريقة المذكورة ألا يزيد أى بحر للأعمدة عن ٢٠٪ عن البحر المجاور . وإذا لم يتحقق هذا الشرط يحسب عزم الاتحناء بأحد الطرق المعروفة فى حساب الإنشاءات . وبطريقة أخرى أكثر عمومية يمكن تعيين العزوم والقص بالخطوات الآتية :

أ - يؤخذ لكل شريحة جهد التربة المتوسط عليها  $q_{av}$  وهو نصف جموع أقصى وأقل جهد على طول الشريحة .

ب- حيث أن محصلة جهد التربة على الشريحة لا تساوى مجموع أحمال الأعمدة عليها فإنه يجب ضبط أحمال الأعمدة بإيجاد معامل تعديل أحمال الأعمدة :

$$\text{Average load} = 1/2 [ (q_{av} \cdot B_1 \cdot B + (P_1 + P_2 + P_3 + P_4) ]$$

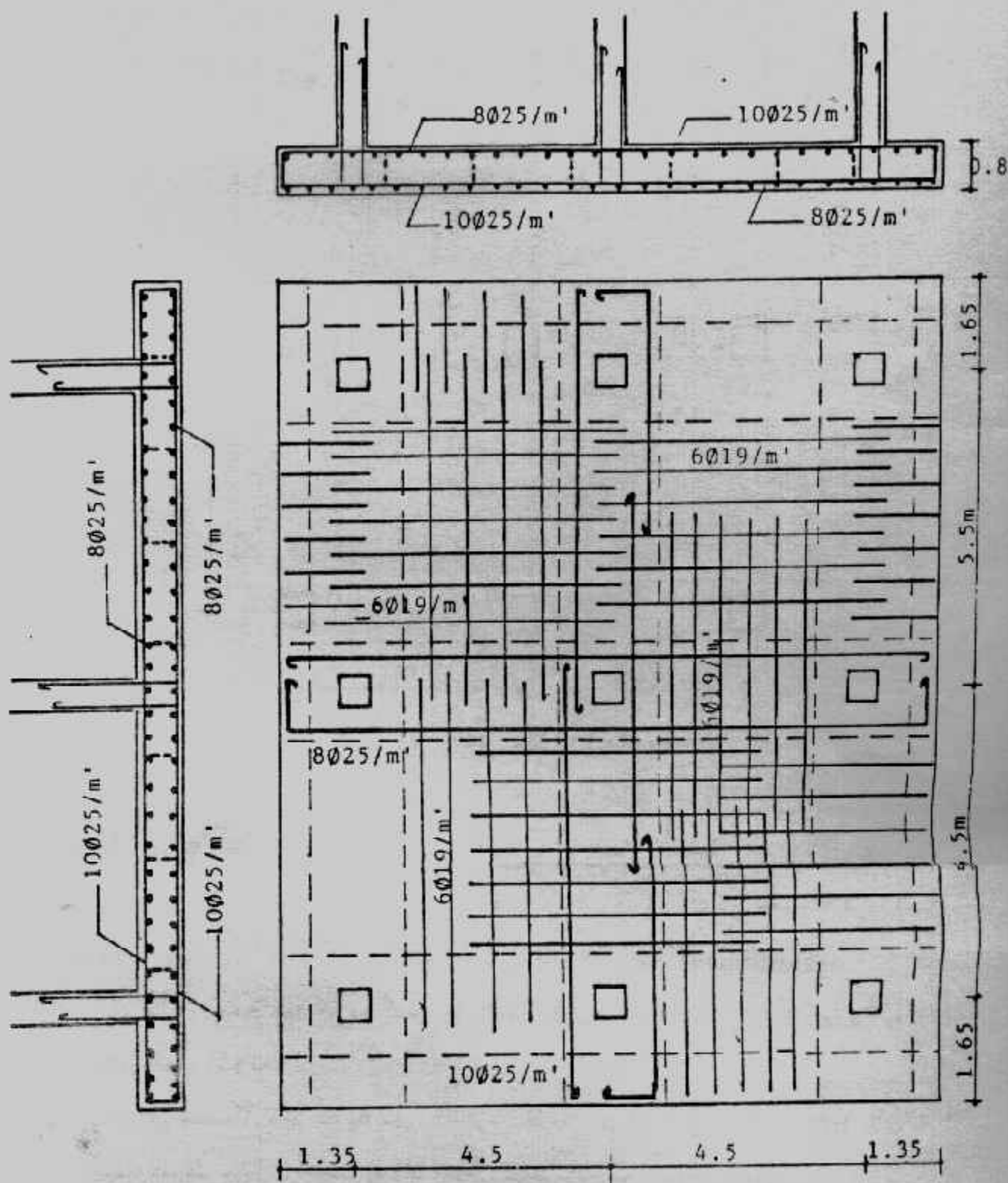
$$q_{av} (\text{modified}) = q_{av} (\text{average load} / q_{av} B_1 B)$$

وبذلك يكون معامل تعديل أحمال الأعمدة

$$F = \text{average load} / (P_1 + P_2 + P_3 + P_4)$$

وعند حل هذه الشريحة تؤخذ أحمال الأعمدة  $FP_1, FP_2, FP_3, FP_4$  ثم يوجد العزم والقص بعد ذلك . وتكرر الخطوات لكل شريحة .





شكل (٧-١٤): تفاصيل التسليح.

ج- يؤخذ أقصى عزم موجب وسالب لكل الشرائح في نفس الاتجاه ويصمم المقطع من حيث السمك والحديد في الاتجاهين .

٩- يجب ملاحظة أن يحسب سمك اللبشة بحيث يقاوم القص والقص الثاقب شكل (٧-١٥) . والقص الثاقب هنا هو الأكثر تأثيراً .

١٠- ترسم المساقط المختلفة لللبشة لبيان تفاصيل التصميم .

### Example (7-3):

The plan of a mat foundation with columns loads is shown in Fig. (7-16). The size of the mat is 16.5 m x 21.5 m. All columns are 0.5m x 0.5 m in section. Given  $q_{net\ all} = 60 \text{ kN/m}^2$ ,  $f_c = 20.7 \text{ MN/m}^2$ ,  $f_y = 413.7 \text{ MN/m}^2$  and Design the given mat.

**Solution :**

تقسم اللبشة إلى شرائح طولية وشرائح عرضية كما بشكل (٧-١٦) .

$$\text{Area of raft } A = (16.5)(21.5) = 354.75 \text{ m}^2$$

$$I_x = BL^3/12 = (16.5)(21.5)^3/12 = 13.665 \text{ m}^4$$

$$I_y = LB^3/12 = (21.5)(16.5)^3/12 = 8050 \text{ m}^4$$

$$R = 350 + 2(400) + 450 + 2(500) + 2(1200) + 4(1500) = 11000 \text{ kN}$$

$$\begin{aligned} \bar{X} &= P_1 \times 1 + P_2 \times 2 + P_3 \times 3 + \dots / R \\ &= (8.25)(500 + 1500 + 1500 + 500) + (16.25)(350 + 1200 + 1200 + 450) \\ &\quad + (0.25)(400 + 1500 + 1500 + 400) / 11000 \\ &= 7.814 \text{ m} \end{aligned}$$

$$e_x = \bar{X} - B/2 = 7.814 - 8.25 = -0.436 \approx -0.44 \text{ m}$$

$$M_y = R.e_x = (11000)(0.44) = 4840 \text{ kN.m}$$

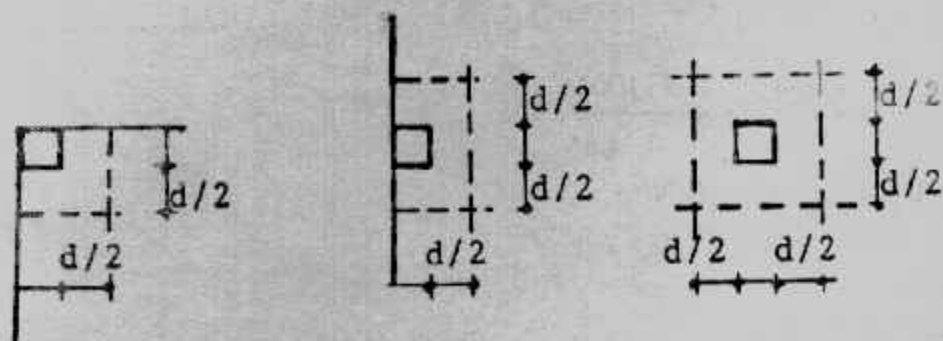
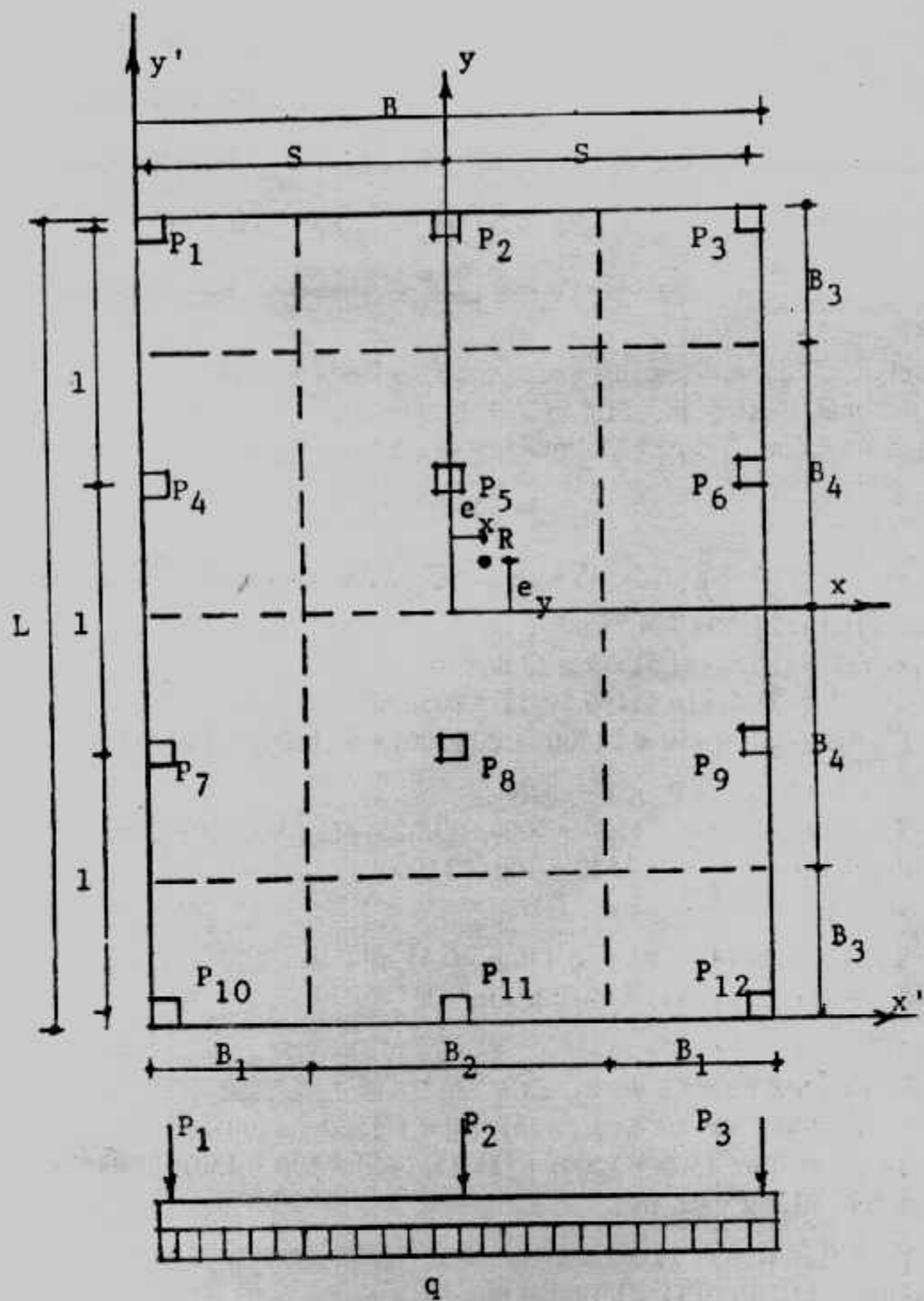
Similarly

$$\begin{aligned} \bar{Y} &= P_1 Y_1 + P_2 Y_2 + P_3 Y_3 + \dots / R \\ &= (0.25)(400 + 500 + 350) + (7.25)(1500 + 1500 + 1200) \\ &\quad + (14.25)(1500 + 1500 + 1200) + (21.25)(400 + 500 + 450) / 11000 \\ &= 10.85 - 21.5/2 = 0.1 \text{ m} \end{aligned}$$

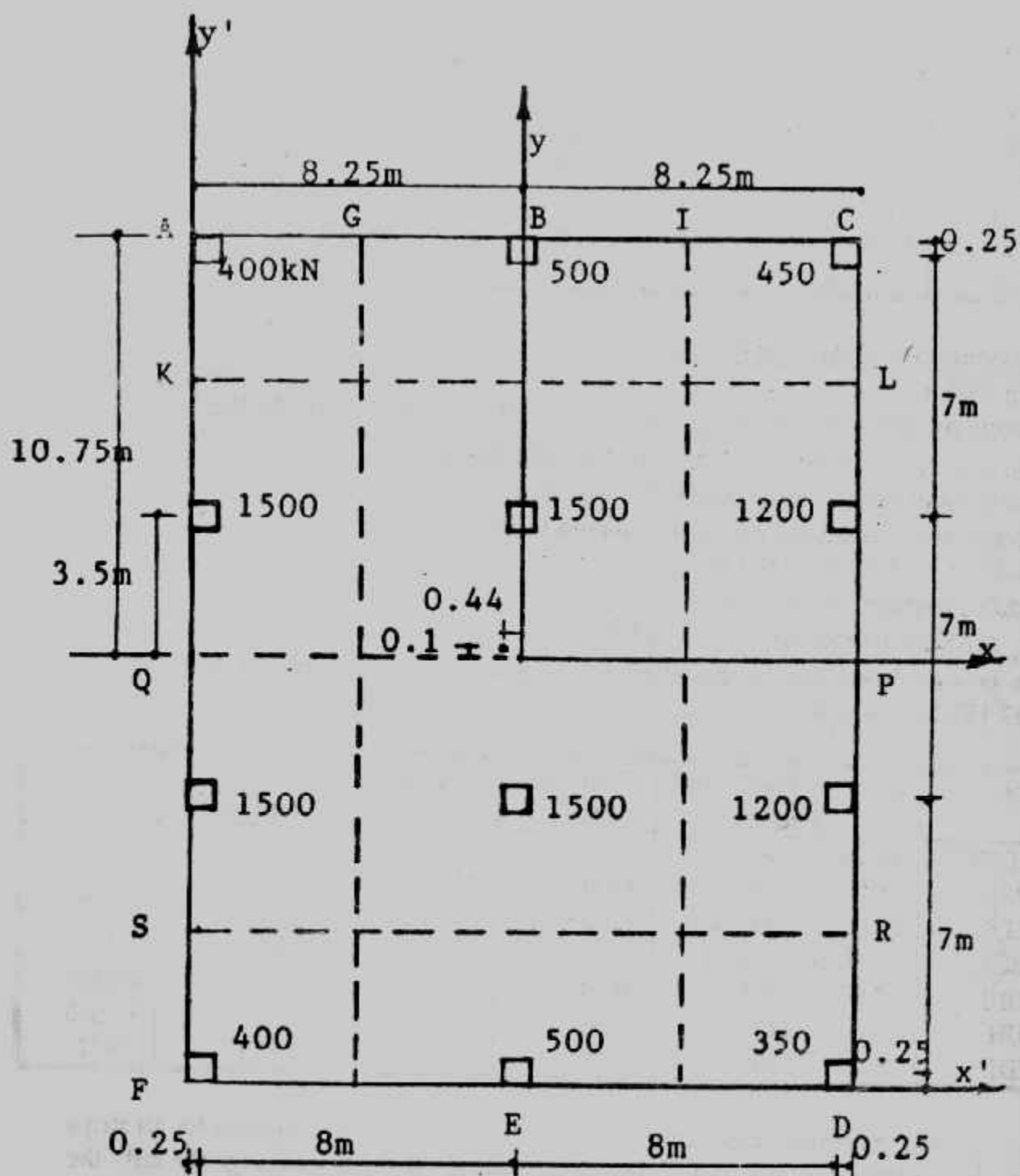
$$e_y = \bar{Y} - L/2 = 10.85 - 21.5/2 = 0.1 \text{ m}$$

$$M_x = R.e_y = (11000)(0.1) = 1100 \text{ kN.m}$$

$$\begin{aligned} q &= \frac{R}{A} \pm \frac{M_y \cdot x}{I_y} \pm \frac{M_x \cdot y}{I_x} \\ &= \frac{11000}{354.75} \pm \frac{(4840)x}{8050} \pm \frac{(1100)y}{1.3665} \\ &= 31 \pm 0.6x \pm 0.08y \text{ (kN/m}^2\text{)} \end{aligned}$$



شكل (٧-١٥) : الطريقة التقليدية .



شكل (١٦-٧) : مثال (٣-٧).

### Calculation of soil pressure :

Point	x, y	R/A	0.6 x	0.08 y	q (kN/m <sup>2</sup> )
A	8.25, 10.75	31	4.95	0.86	36.81
B	0, 10.75	31	0	0.86	31.86
C	8.25, 10.75	31	4.95	0.86	26.91
D	8.25, 10.75	31	4.95	0.86	25.19
E	0, 10.75	31	0	0.86	30.14
F	8.25, 10.75	31	4.95	0.28	35.09
K	8.25, 3.5	31	4.95	0.28	26.35
M	8.25, 3.5	31	4.95	0.28	36.25
L	8.25, 3.5	31	4.95	0.28	25.7
N	8.25, 3.5	31	4.95	0.28	35.64

### Determination of internal forces :

#### Strip EDSR

$$\text{Average soil pressure} = q_{av} = (q_F + q_D)/2 = (35.09 + 35.19)/2 = 30.14 \text{ kN/m}^2$$

$$\text{Total soil reaction} = 30.14 \times 3.75 \times 16.5 = 1864.913 \text{ kN}$$

$$\text{Total column loads} = 400 + 500 + 350 = 1250 \text{ kN}$$

$$\text{Average load} = (\text{load soil reaction} + \text{column loads})/2$$

$$(1864.913 + 1250)/2 = 1557.457 \text{ kN}$$

$$\text{modified average soil pressure} = q_{av} (\text{modified})$$

$$= q_{av} (1557.457/1864.913) = 25.171 \text{ kN}$$

The column loads can be modified in a similar manner by multiplying factor  $F = 1557.457/1250 = 1.246$

Strip	$q_{av}$	Total soil reaction	Total col. loads	Average load	$q_{av}$ (modified)	F
FEDSR	30.14	1864.913	1250	1557	25.171	1.246
QPSR	35.95	4152.225	4200	4176.115	36.157	0.9941
KLQP	26.03	3006.465	4200	3603.23	31.20	0.8579
ABCKL	31.86	1971.34	1350	1660.67	26.84	1.23
AGHF	35.95	3285	3800	3542.5	38.768	0.9322
GIJH	31.0	5332	4000	4666	27.12	1.1665
ICDJ	26.05	2380.32	3200	2790.16	30.535	0.872

The shearing force diagrams and bending moment diagrams for all strips are shown in Figs. (7-17) and (7-18). Determination for the thickness of the raft : the critical section for punching shear will be at the column carrying 1500 kN of load at the edge of the raft Fig. (7-19).

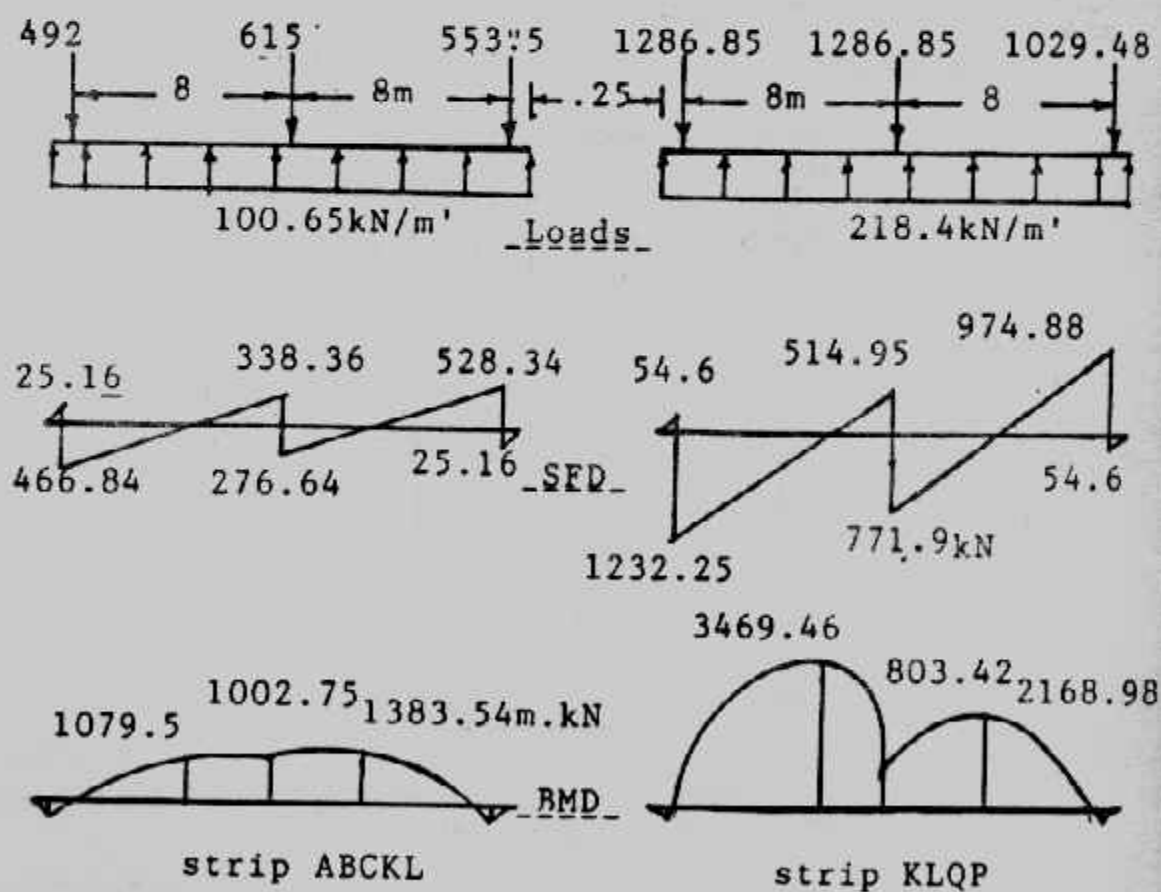
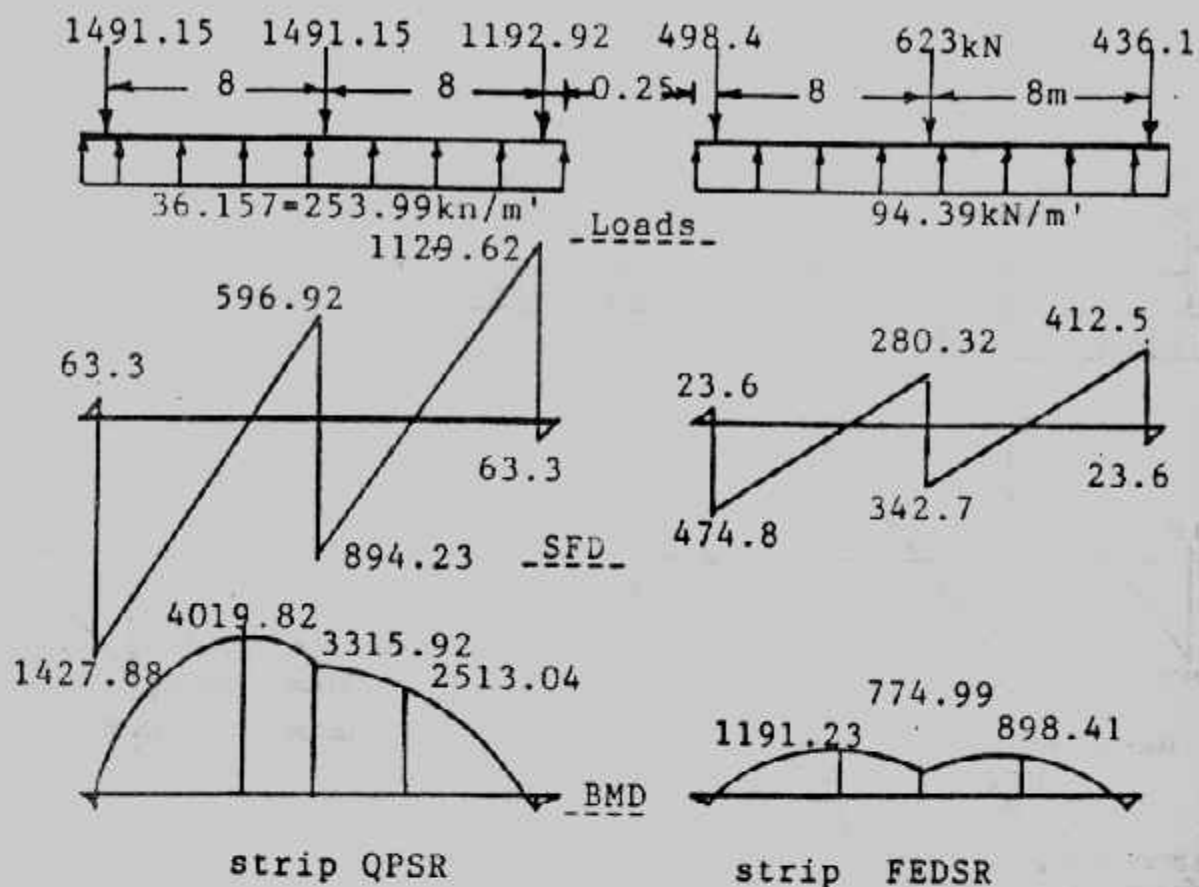
$$b_o = (0.5 + d/2) + (0.5 + d/2) + (0.5 + d) \\ = 1.5 + 2d$$

$$U = (b_o d) (\phi) (0.34 \sqrt{f_c}) \\ = (1.7) (1500) = 2550 \text{ kN} = 2.55 \text{ MN}$$

$$2.55 = (1.5 + 2d) (d) (0.85) (0.34 \sqrt{20.7})$$

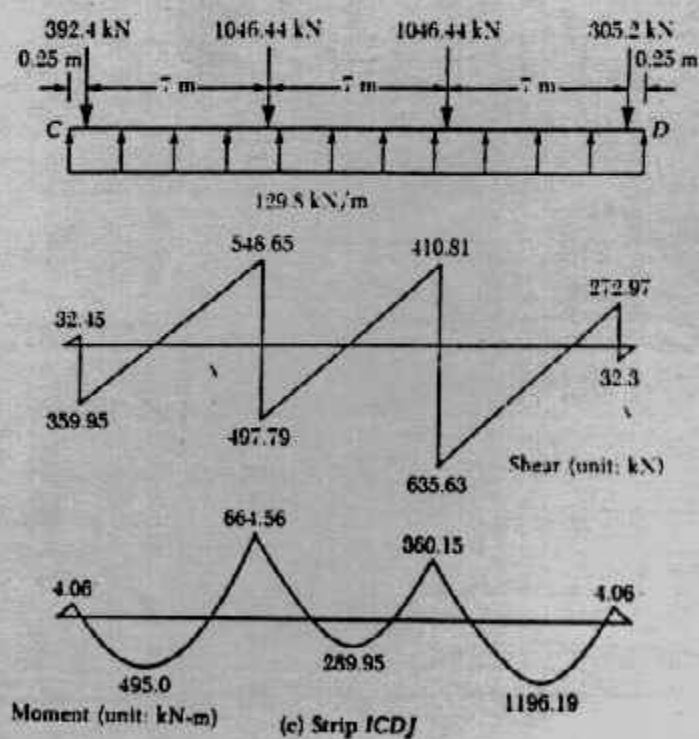
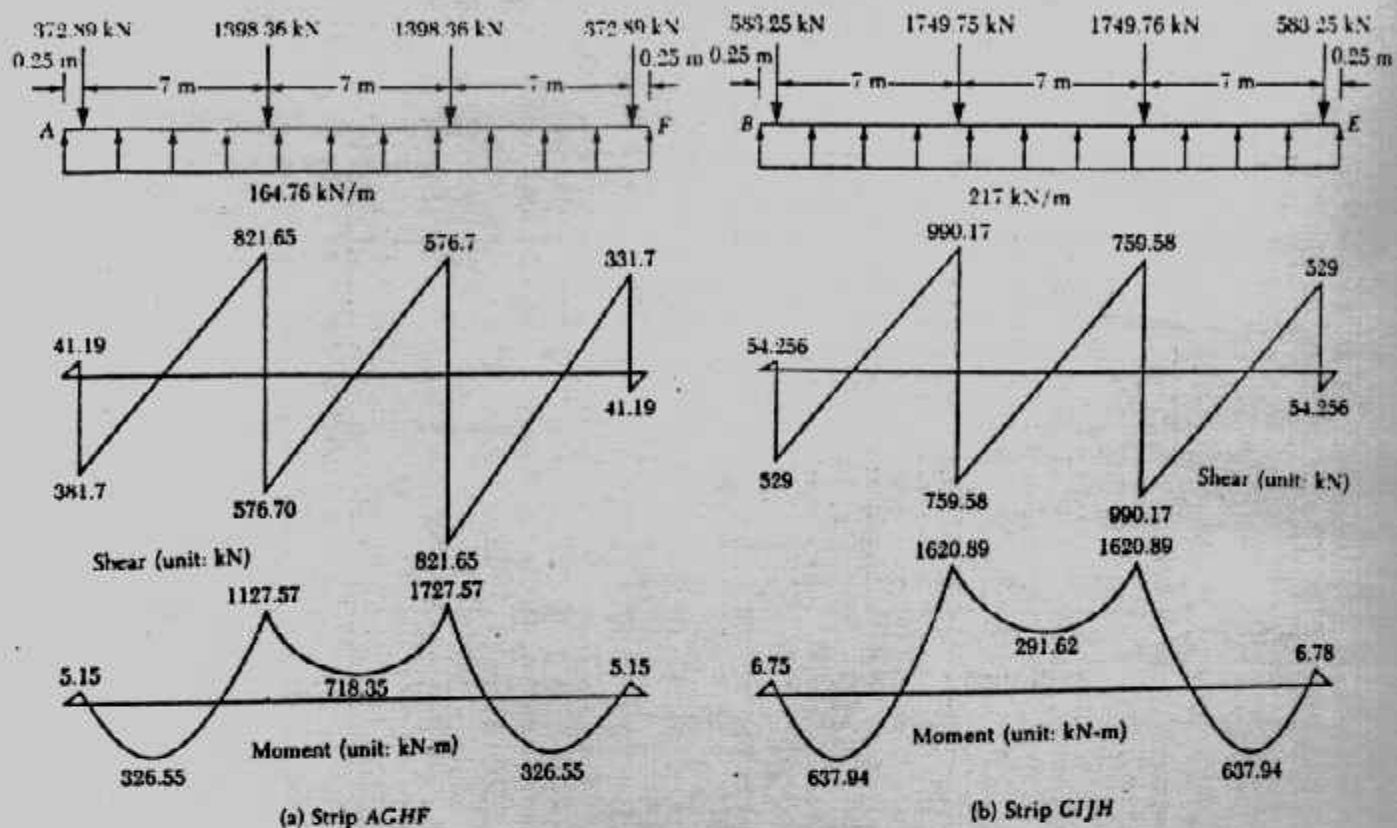
$$(1.5 + 2d) d = 1.94 \quad d \approx 0.68 \text{ m}$$





شكل (٧-١٧) : القوى الداخلية للشرائح العرضية.





شكل (٧-١٨) : القوى الداخلية للشرائح الطولية.

take  $t = 0.8 \text{ m}$

the thickness of this raft will satisfy the wide beam shear condition across the strips.

Determination of reinforcement :

From the moment diagrams, it can be seen that from the moment diagrams, it can be seen that the maximum negative moment is located in strip QPSR.

$$M_{-ve \text{ max}} = 4019.82 \text{ kN.m}$$

$$M/m = 4019.82 / 7 = 574.26 \text{ kN.m/m}$$

Similarly, the maximum positive moment is located in strip ICDJ and its magnitude is :

$$M_{+ve} = 1727.57 \text{ kN.m}$$

$$M/m = 1727.57 / 4.25 = 406.5 \text{ kN.m/m}$$

$$\alpha = A_s (413.7) / 0.85 (20.7) (1) = 23.51 A_s$$

$$A_s = 0.0425 \alpha$$

$$M = (574.26) (1.7) = (0.9) (0.0425 \alpha) (413.7 \times 1000) (0.68 - 0.0425 \alpha / 2)$$

$$976.242 = 10760.337 \alpha - 336.26 \alpha^2$$

$$336.26 \alpha^2 - 10760.337 \alpha + 976.242 = 0$$

$$\alpha = 0.091$$

$$A_s = 0.0425 \times 0.091 = 0.0039 \text{ m}^2/\text{m} = 39 \text{ cm}^2$$

take  $8 \phi 25/\text{m}$

Provide 16mm diameter bars at 400 mm centre - to - centre as a lower reinforcement in short direction. For the long direction upper reinforcement :

$$M_u = (406.5) (1.7) = \phi A_s (413.7 \times 1000) (0.68 - \alpha/2)$$

$$\phi = 0.9$$

$$\alpha = \frac{A_s f_y}{0.85 f_c b} = \frac{(A_s) (413.7)}{(0.85) (20.7) (1)} = 23.51 A_s$$

$$A_s = 0.0425 \alpha$$

$$M_u = 691.22 = (0.9) (0.0425 \alpha) (413700) (0.68 - 0.0425 \alpha / 2)$$

$$\alpha \approx 0.0645$$

$$A_s = (0.0425) (0.0645) = 0.00274 \text{ m}^2/\text{m} = 27.4 \text{ cm}^2/\text{m}$$

take  $6 \phi 25/\text{m}$

Lower reinforcement :

$$M_u (281.5) (1.7) = \phi A_s (413.7 \times 1000) (0.68 - \alpha/2)$$

$$\phi = 0.9, A_s = 0.0425 \alpha,$$

$$\text{So } 478.38 = (0.9) (0.0425 \alpha) (413.7 \times 1000) (0.68 - 0.0425 \alpha / 2)$$

Solution of the preceding equation gives

$$\alpha = 0.045$$

$$A_s = (0.045) (0.0425) = 0.001913 \text{ m}^2/\text{m} = 19.13 \text{ cm}^2/\text{m}$$

take  $4 \phi 25/\text{m}$

Arrangement of the reinforcement is shown in Fig. (7-19).

#### Example (7-4):

Design a rigid mat for the 6 columns shown in Fig.(7-20). All columns are  $40 \times 40 \text{ cm}$ . The net allowable soil pressure is  $0.7 \text{ kg/cm}^2$ , the area of mat is given,  $f_c = 55 \text{ kg/cm}^2$ ,  $f_s = 1400 \text{ kg/cm}^2$ ,  $q_p = 8 \text{ kg/cm}^2$

Solution :

Properties of mat :

$$A = 7 \times 12 = 84 \text{ m}^2$$

$$R = 2 \times 80 + 3 \times 70 + 60 = 430 \text{ t}$$

$$\bar{X} = 1(80 + 70) + 6(80 + 60) + 11(70 + 70)/430 = 5.884$$

$$e_x = 6 - 5.884 = 0.116\text{m}$$

$$M_y = R.e_x = 430 \times 0.116 = 49.88 \approx 50 \text{ mt}$$

$$\bar{Y} = 1(70 + 60 + 70) + 6(80 + 80 + 70)/430 = 3.674 \text{ m}$$

$$e_y = 3.5 - 3.674 = 0.174 \text{ m}$$

$$M_x = R.e_y = 430 \times 0.174 = 75 \text{ mt}$$

$$I_x = 12 \times 73/12 = 343 \text{ m}^4$$

$$I_y = 7 \times 123/12 = 1008 \text{ m}^4$$

$$q = \frac{R}{A} \pm \frac{M_x}{I_x} y + \frac{M_y}{I_y} x$$

$$= \frac{430}{84} \pm \frac{75}{343} y + \frac{50}{1008} x$$

$$q = 5.12 \pm 0.219 y \pm 0.0496 x$$

Point	x, y	P/A	0.219 y	0.496 x	q
A	6, 3.5	- 5.12	- 0.767	- 0.2976	6.18
B	6, 3.5	- 5.12	- 0.767	+ 0.2976	5.59
C	6, 3.5	- 5.12	+ 0.767	+ 0.2976	4.06
D	6, 3.5	- 5.12	+ 0.767	- 0.2976	4.65

In the long direction the raft will be divided into three equivalent beams (strips) of: strip AB with a width 3.5 m and soil pressure of  $q = 6.18 \text{ t/m}^2$  (using the max soil pressure along one edge of the strip).

$$M_{\max} = wL^2/8$$

$$= 6.18 \times 5^2/8$$

$$= 19.31 \text{ mt/m'}$$

$$d_m = 0.334 \sqrt{19.31 \times 10^5 / 100}$$

$$= 46.41 \text{ cm}$$

$$\text{take } t = 55 \text{ cm, } d = 48 \text{ cm}$$

Check punching:

$$Q_p = 80 - (6.18)(0.9 \times 0.9) = 75 \text{ t}$$

$$q = \frac{75 \times 10^3}{50 \times 4 \times 90} = 4.167 \text{ kg/c}^2 < 8 \text{ o.k}$$

Determination of reinforcement:

$$\text{Strip AB: } A_s = \frac{19.31 \times 10^5}{48 \times 1227} = 32.79 \text{ cm}^2/\text{m' } 9 \phi 22/\text{m'}$$

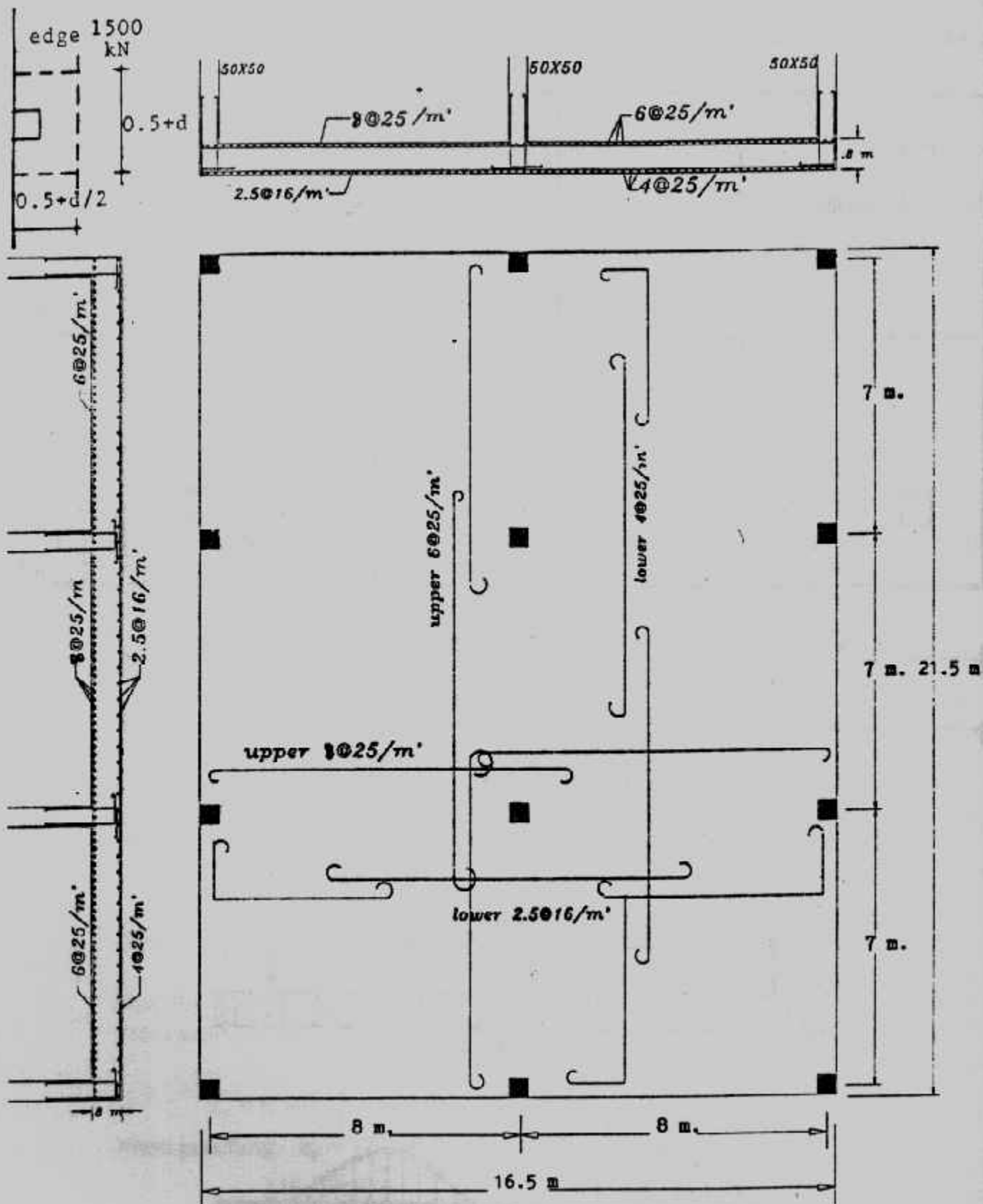
use 9  $\phi$  22 top and bottom.

$$\text{Strip DC: } q = q_A + q_D/2$$

$$= (6.18 + 4.65)/2 = 5.415 \text{ t/m}^2$$

$$M = 5.415 \times 52/8 = 16.92 \text{ mt/m'}$$

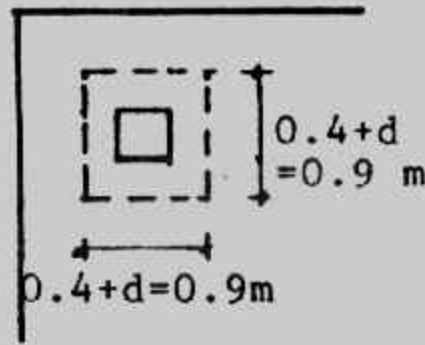
$$A_s = \frac{16.92 \times 10^5}{48 \times 1227} = 28.73 \text{ cm}^2/\text{m' } 8 \phi 22/\text{m'}$$



شكل (٧-١٩) : تفاصيل التصميم لمثال (٧-٣).







شكل (٧-٢٢) القص الثاقب

For short direction we can take the maximum stress for the three strips.

$$q = 6.18 \text{ t/m}^2$$

$$M_{\max} = \frac{6.18 \times 5^2}{8} = 19.31 \text{ mt/m} \text{ (one - span)}$$

$$A_s = \frac{19.31 \times 10^5}{48 \times 1227} = 32.79 \text{ cm}^2/\text{m} \quad 9 \phi 22/\text{m}$$

The details are shown in Fig. (7-23).

#### Example (7-5):

Design a mat for columns shown in Fig. (7.24). All columns are 50 x 50 cm, take  $f_c = 60 \text{ kg/cm}^2$ ,  $f_s = 2000 \text{ kg/cm}^2$ ,  $q_p = 10 \text{ kg/cm}^2$ ,  $q_{\text{net all}} = 0.64 \text{ kg/cm}^2$

#### Solution :

Properties of mat :

$$R = 5 \times 100 + 3 \times 110 + 3 \times 90 + 1 \times 80 = 1180 \text{ t}$$

$$A = R/q_{\text{net all}} = 12180/6.4 = 184.375 \text{ m}^2$$

Take area of mat 15 x 12.5 m

$$A = 187.5 \text{ m}$$

$$q = 1180/187.5 = 6.29 \text{ t/m}^2$$

$$\bar{X} = \frac{(100 + 100 + 100) 4.5 + (100 + 100 + 100) 2 \times 4.5 + (80 + 110 + 90) 3 \times 4.5}{1180}$$

$$= 6.75 \text{ m}$$

$$\bar{Y} = (110 + 100 + 100 + 110) 5.5 + (90 + 100 + 100 + 90) 2 \times 5.5 / 1180 = 5.5 \text{ m}$$

$$e_x = 0, e_y = 0, M_x = 0, M_y = 0$$

Determination of depth :

$$\text{From short direction } M_{\max} = qL^2/8 = 6.29 \times 5.52/8 = 23.78 \text{ mt/m}$$

$$d_m = 0.347 \sqrt{23.78 \times 10^5 / 100} = 53.51 \text{ cm}$$

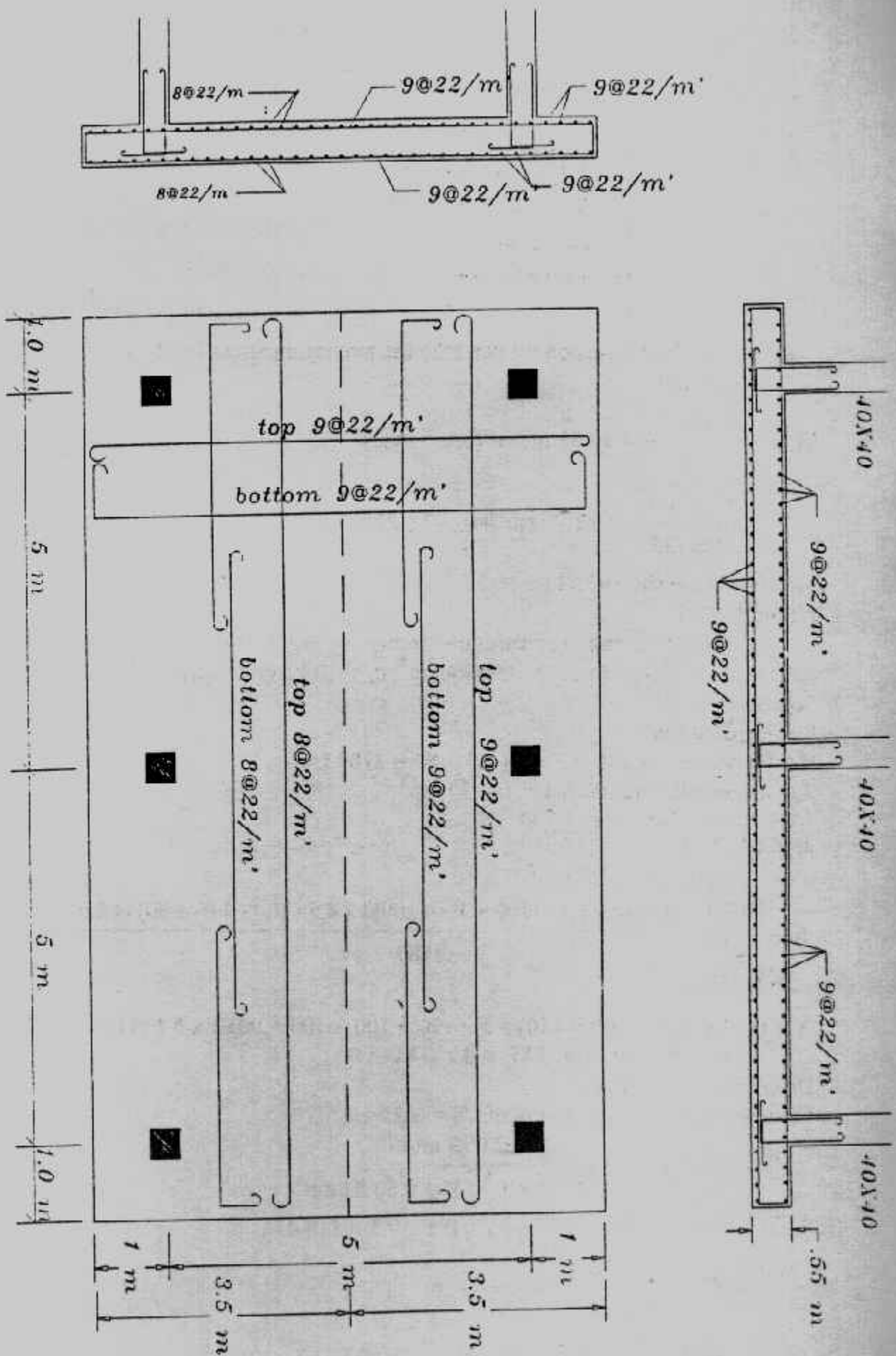
$$\text{From punching } q_p = 120 - 6.29 \times 0.5 \times 0.5 = 118.43 \text{ t}$$

$$d_p = \frac{118.43 \times 10^3}{10 \times 4 \times 50} = 59.21 \text{ cm}$$

$$\text{take } t = 70 \text{ cm}, d = 63 \text{ cm}$$

Determination of reinforcement





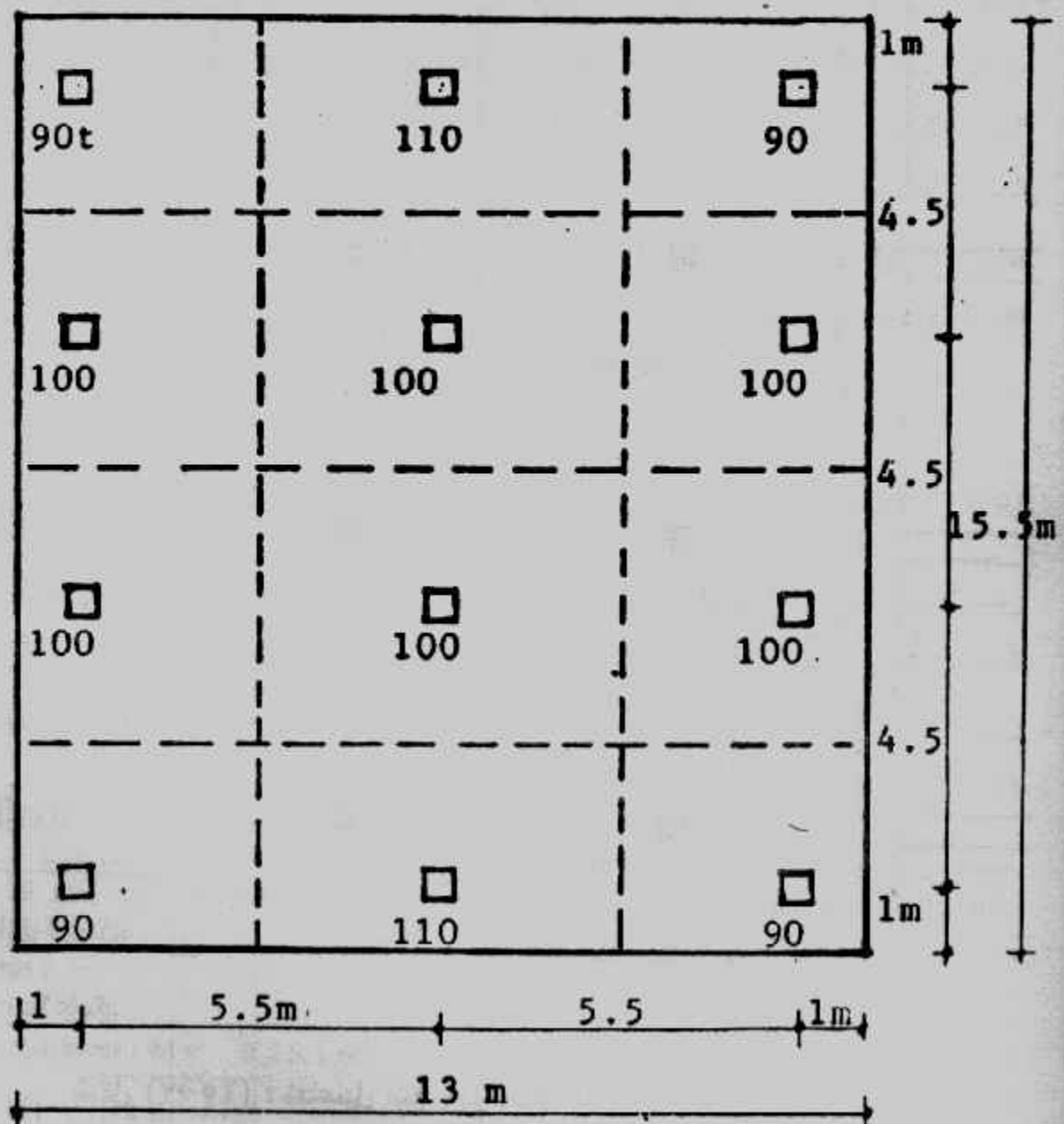
شكل (٢٣-٧) : تفاصيل التسليح لمثال (٣-٧).

Short direction  $A_s$ , top, bottom =  $\frac{23.78 \times 10^5}{63 \times 1793} = 21.05 \text{ cm}^2$

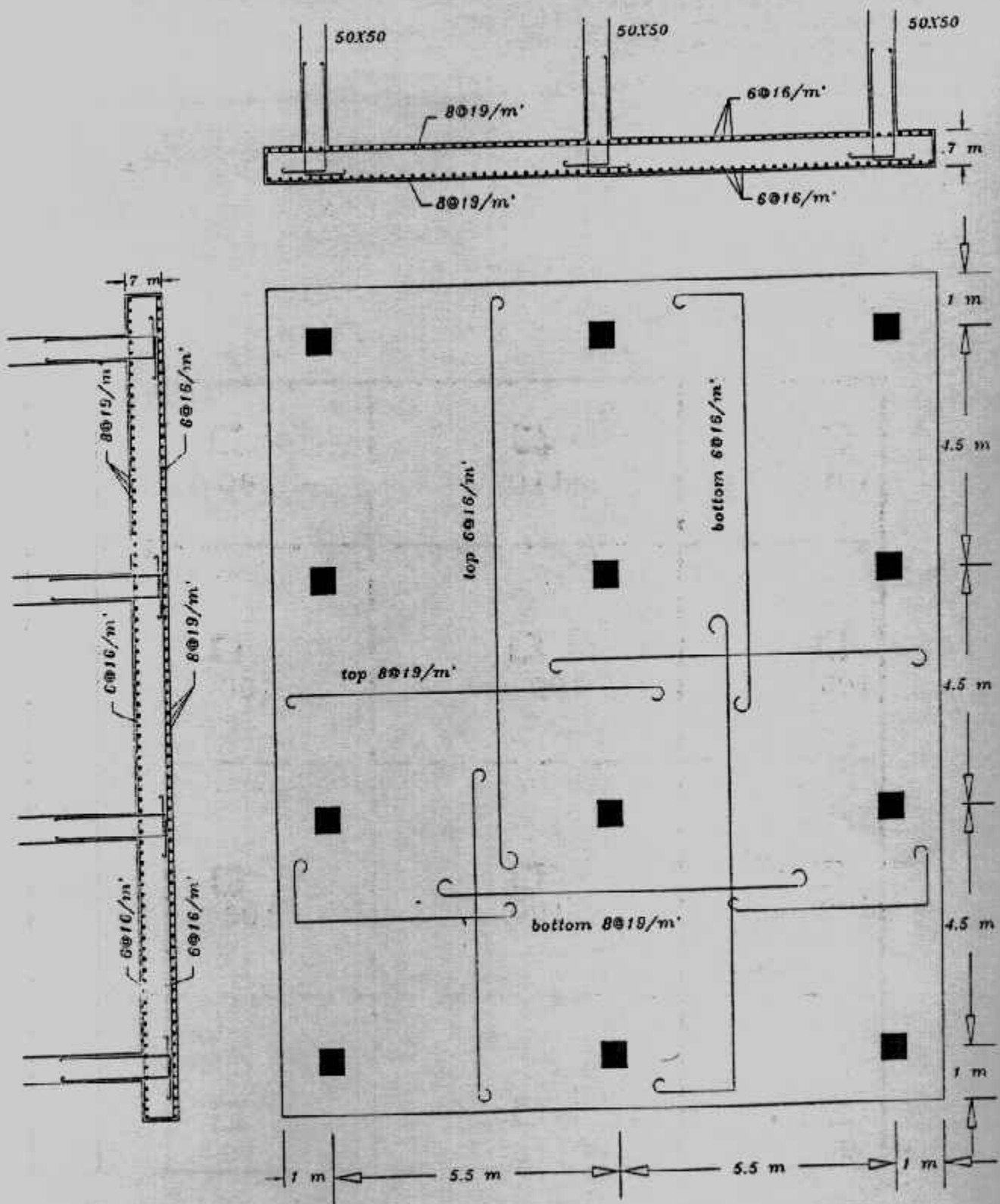
Long direction,  $M = qL^2/10 = 6.29 \times 4.5^2/10 = 12.74 \text{ cm}^2$

$A_s$ , top, bottom =  $\frac{12.74 \times 10^5}{63 \times 1793} = 11.28 \text{ cm}^2$

Details of design are shown in Fig. (7-25)



شكل (٧-٢٤) : مثال (٧-٥).



شكل (٧-٢٥) : تفاصيل التصميم لمثال (٧-٥).

#### رابعاً : تصميم اللبشة الكمرية : Design of Ribbed Raft :

اللبشة الكمرية هي السقف المقلوب من البلاطات والكمرات الثانوية والرئيسية .  
وهي تستخدم حينما تكون أحمال الأعمدة وبحورها مساوية أو متغيرة فيما بينها في حدود ٢٠٪ حيث تكون الاجهادات منتظمة التوزيع وتساوى وزن المبنى مقسوماً على مساحة اللبشة . ويجب حساب مساحة اللبشة بحيث تعطى اجهادات على التربة  $q$  أقل أو تساوى جهد التربة المسموح به .

وتصميم اللبشة الكمرية كسقف مقلوب . حيث تصمم البلاطات الكابولية على عزم قدره  $qL/2$  حيث  $L$  هي طول الكابولي . وتصميم البلاطات الداخلية أحادية أو ثنائية الاتجاه بسيطة الارتكاز أو مستمرة ويؤخذ العزم للبلاطات المستمرة  $qL^2/12$  حيث  $L$  هو بحر البلاطة . شكل (٧-٢٦) . وللبلاطات ثنائية الاتجاه توزع الأحمال في الاتجاهين بمعاملات جراثوف أما الكمرات الثانوية مثل  $B_1, B_2$  ، فإنها تحسب كما يلي :

الحمل المنتظم لكل متر على الكمرية  $B_2 = qL^3$

الحمل المنتظم لكل متر على الكمرية  $B_1 = q(L^3/2 + L_4)$

ليكن  $R_1, R_2$  ، هما رد فعل  $B_1$  ورد فعل  $B_2$  على الكمرية الرئيسية  $B_3$  وبفرض أن  $R_1 = KR_2$  فإنه يمكن حساب  $K$  من :

$$K = R_1 / R_2 = \frac{q(L_{3/2} + L_4)}{qL_3} = \frac{L_{3/2} + L_4}{L_3}$$

ويمكن الحصول على معادلة الاتزان الآتية من مجموع القوى وردود الأفعال :

$$2R_1 + 8R_2 = 2P_1 + 2P_2$$

ويحل المعادلتين السابقتين يمكن إيجاد رد الفعل  $R_1, R_2$  وتصمم هذه الكمرات على الحمل الموزع عليها (الجهد) وردود الأفعال شكل (٧-٢٧) . أما الكمرات الرئيسية فتصمم على ردود الأفعال من الكمرات الثانوية والجهد الموزع عليها وأحمال الأعمدة كما في شكل (٧-٢٨) .

#### Example (7-6):

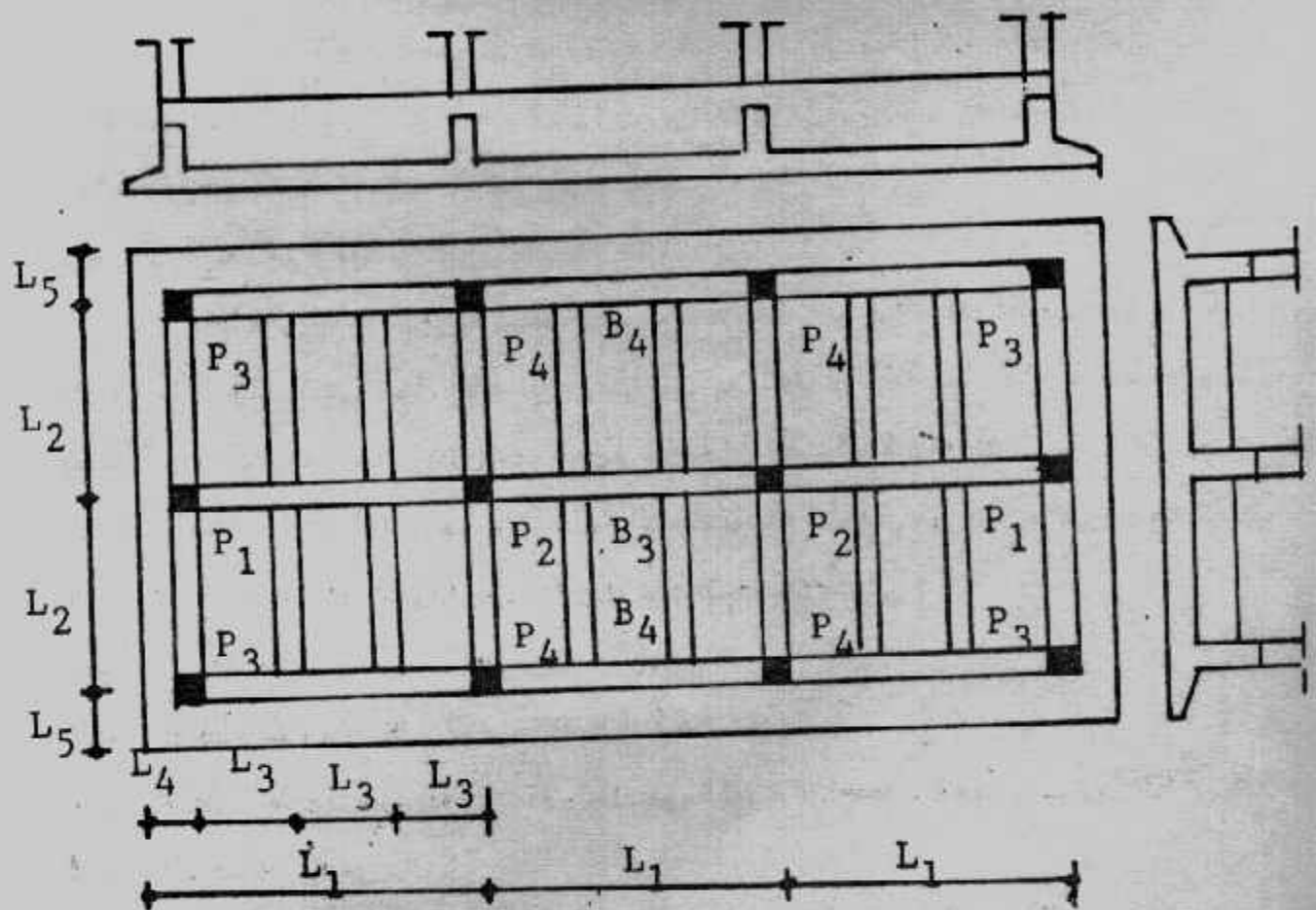
Design a ribbed raft for the columns given in Fig. (7-29). All columns are 50 x 50 cm, the net allowable soil pressure is 0.52 kg/cm<sup>2</sup>. Take  $f_c = 50$  kg/cm<sup>2</sup>,  $f_s = 1400$  kg/cm<sup>2</sup>

Solution :

Design of slab.

long. cantilever :  $M = 5.2 \times 1.65^2 / 2 = 7.1$  mt/m'

$$d = 0.361 \sqrt{7.1 \times 10^5 / 100}$$



شكل (٧-٢٦): اللبشة كسقف مقلوب.

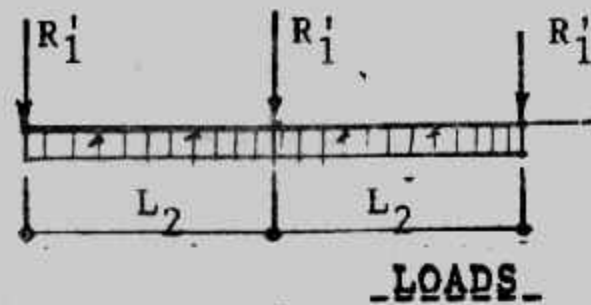
take  $t = 40\text{cm}$ ,  $d = 33\text{ cm}$

$$A_s = \frac{7.1 \times 10^5}{1237 \times 33} = 11.6 \text{ cm}^2 \quad 9 \phi 16/\text{m'}$$

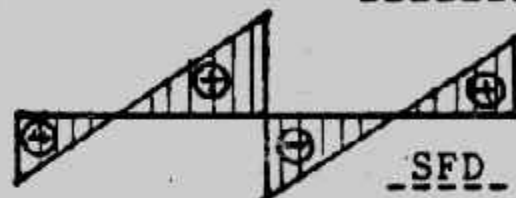
Short cantilever :  $M = 5.2 \times 1.35^2/2 = 4.74 \text{ mt/m'}$

$$A_s = \frac{7.1 \times 10^5}{1237 \times 33} = 17.4 \text{ cm}^2 \quad 6 \phi 16/\text{m'}$$

Intermediate slab :  $M = 5.2 \times 1.5^2/12 = 0.98 \text{ mt/m'}$



LOADS

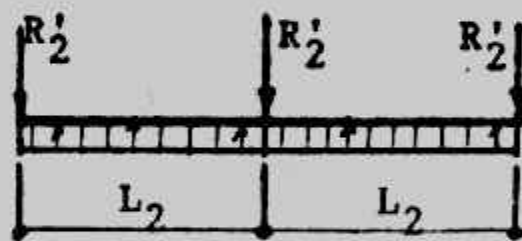


SFD

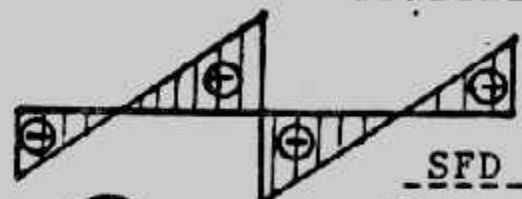


BMD

beam  $B_1$



LOADS



SFD

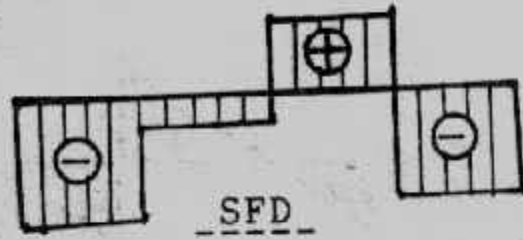
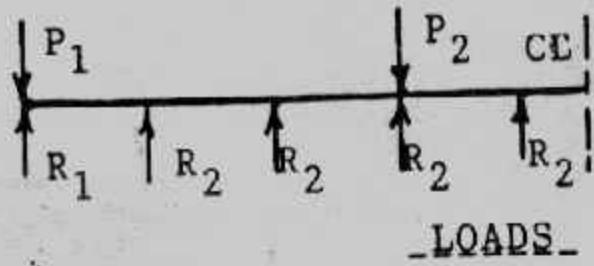


BMD

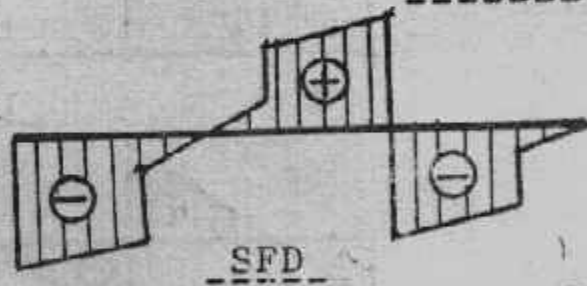
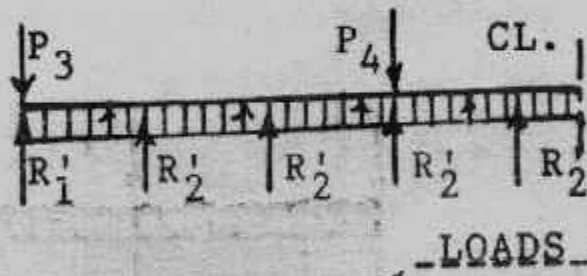
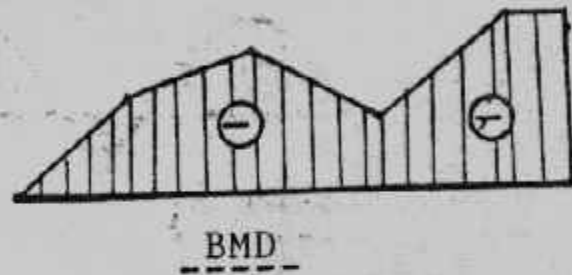
beam  $B_2$

شكل (٧-٢٧) : الأحمال والقوى الداخلية للكمرات الثانوية .






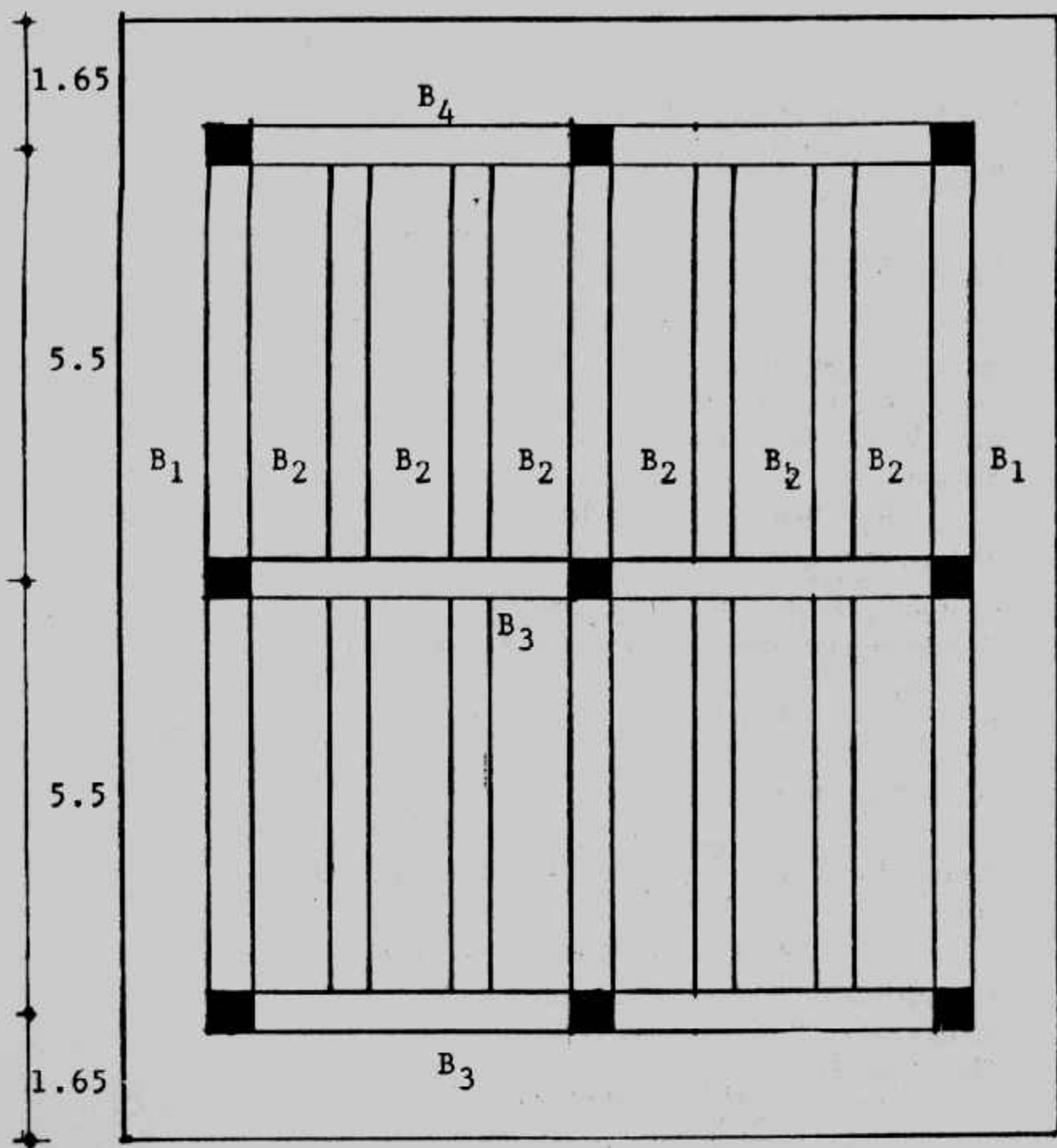
beam  $B_3$



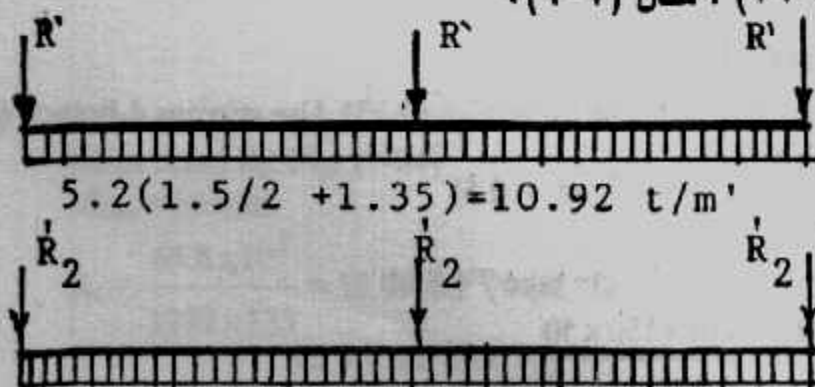
beam  $B_4$



شكل (٧-٢٨) القوى الداخلية للكمرات



شكل (٢٩-٧) : مثال (٦-٧).



$$5.2(1.5/2 + 1.35) = 10.92 \text{ t/m'}$$

$$5.2 \times 1.5 = 7.8 \text{ t/m'}$$

شكل (٣٠-٧) : الكمرات الثانوية.

$$A_s = \frac{0.98 \times 10^5}{1237 \times 33} = 2.4 \text{ cm}^2 \quad 5 \phi 13/\text{m}$$

Design of secondary beams Fig. (7-30)

$$R_1/R_2 = \frac{1.5/2 + 1.35}{1.5} = 1.4$$

$$5.2 (1.5/2 + 1.35) = 10.92 \text{ t/ml}$$

$$R_1 = 1.4 R_2 \dots (1)$$

$$5.2 \times 1.5 = 7.8 \text{ t/m}$$

$$2R_1 + 5R_2 = 100 + 120 + 110 \quad (2)$$

Solving eqns. 1 and 2 gives

$$R_1 = 5923 \text{ t}, R_2 = 42.31 \text{ t}$$

Similary :

$$R_1 = 30 \text{ st}$$

$$R_2 = 21.8 \text{ t}$$

SFD and BMD are shown in Fig. (7-31)

$$d = 0.361 \sqrt{42.6 \times 10^5 / 150} = 60.84 \text{ cm (T.sec.)}$$

To reduce reinforcement take beams  $B_1$  and  $B_2$   $90 \times 50$   $d = 83 \text{ cm}$

$$A_s = \frac{42.6 \times 10^5}{1237 \times 83} = 41.49 \text{ cm}^2 \quad (9 \phi 25)$$

$$A_s^1 = 0.2 \times 41.49 = 8.3 \text{ cm}^2 \quad (5 \phi 16)$$

$$\text{For beam } B_2 \quad A_s = \frac{30.5 \times 10^5}{1237 \times 83} = 29.71 \text{ cm}^2 \quad (7 \phi 25)$$

$$A_s^1 = 0.2 \times 29.71 = 5.94 \text{ cm}^2 \quad (3 \phi 16)$$

For diagonal tension use min reinforcement  $5 \phi 8/\text{m}$

Stirrups and  $2 \phi 25$  bent bars, Fig. (7-32).

**Main beam  $B_4$  :**

Loads, SFD, BMD are shown in Fig. (7-33)

$$d = 0.361 \sqrt{65.8 \times 10^5 / 10} = 130.96 \text{ cm}$$

take  $t = 140 \text{ cm}$ ,  $d = 133 \text{ cm}$

$$A_s = \frac{65.8 \times 10^5}{1237 \times 133} = 40 \text{ cm}^2 \quad (9 \phi 25)$$

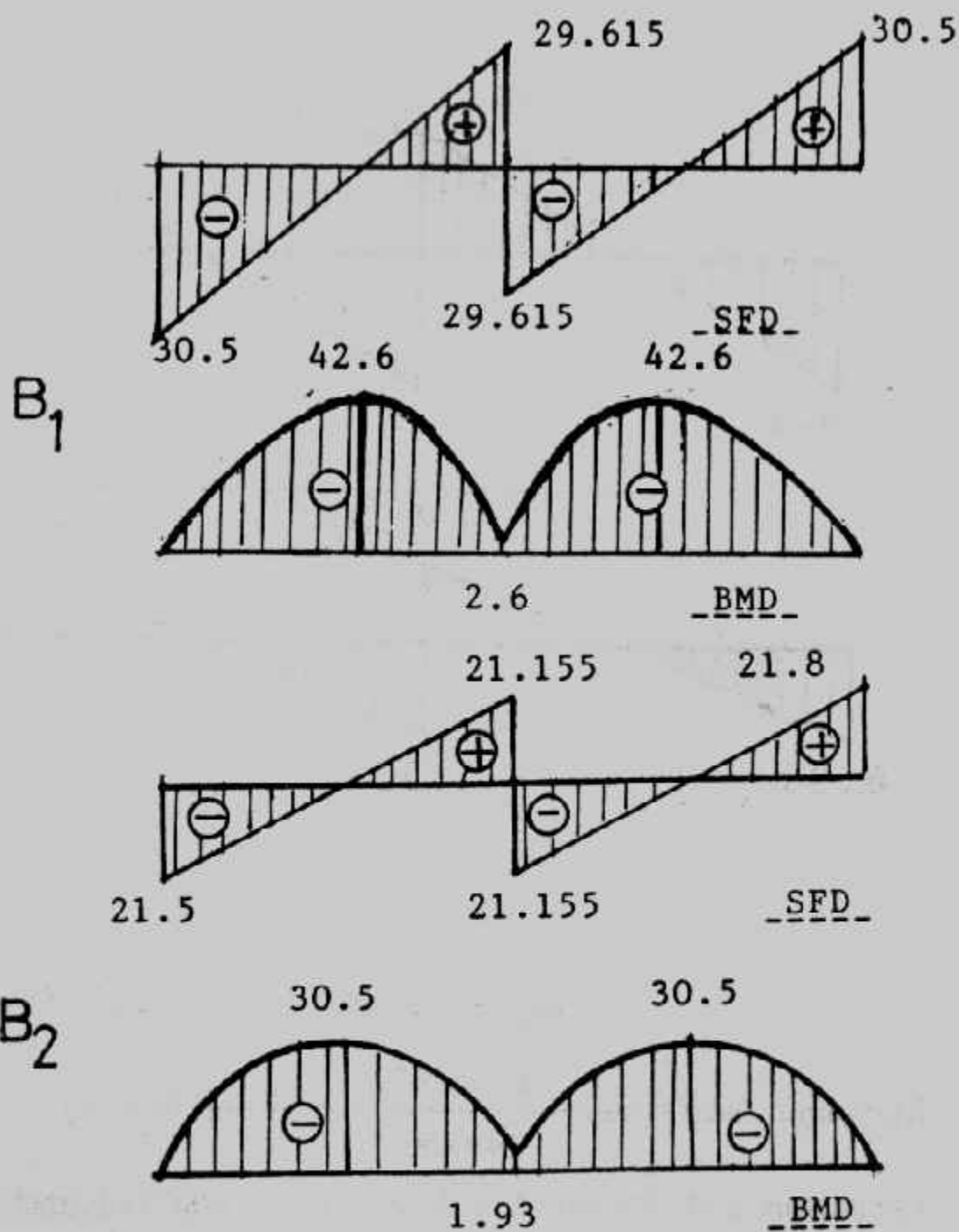
$$A_s^1 = 0.2 \times 40 = 8 \text{ cm}^2 \quad (4 \phi 16)$$

Diagonal tension diagram for  $B_4$  is shown in Fig. (7-33). Use stirrups 4-branch  $\phi 8$ .

$$3.6 = \frac{0.5 \times 4 \times 1400}{50 \times S} \quad (A_s \text{ st.} = 0.5)$$

Spacing between stirrups  $S = 15.55 \text{ cm}$  take  $7 \phi 8/\text{m}$

$$\text{bent bars } A_s \text{ bent} = \frac{(7.25 - 6.6) \times 150 \times 50}{1400} = 3.48 \text{ use } 4 \phi 25$$

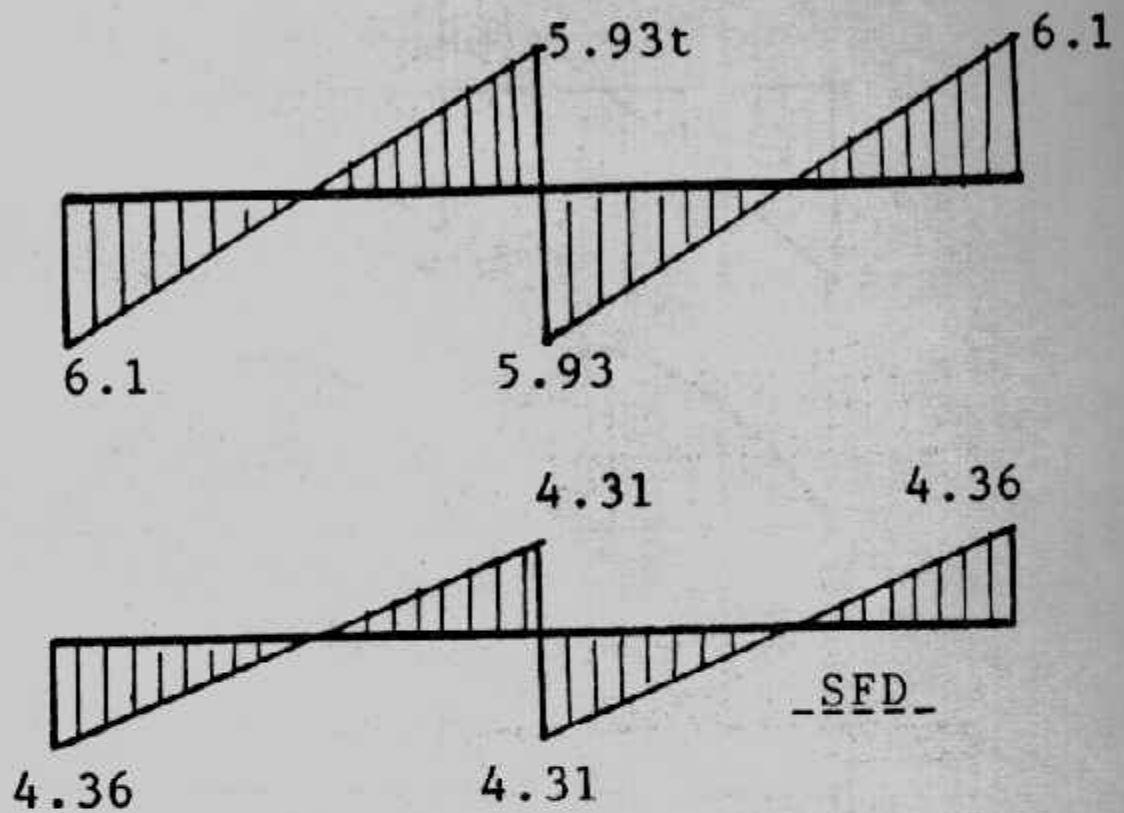


شكل (٧-٣١): القوى الداخلية للكمرات الثانوية.

Main beam  $B_3$ , Fig. (7-34)

$$M_{\max} = 65.8 \text{ mt}$$

$$A_s = \frac{65.8 \times 10^5}{1237 \times 133} = 39.99 \text{ cm}^2 (9 \phi 25)$$



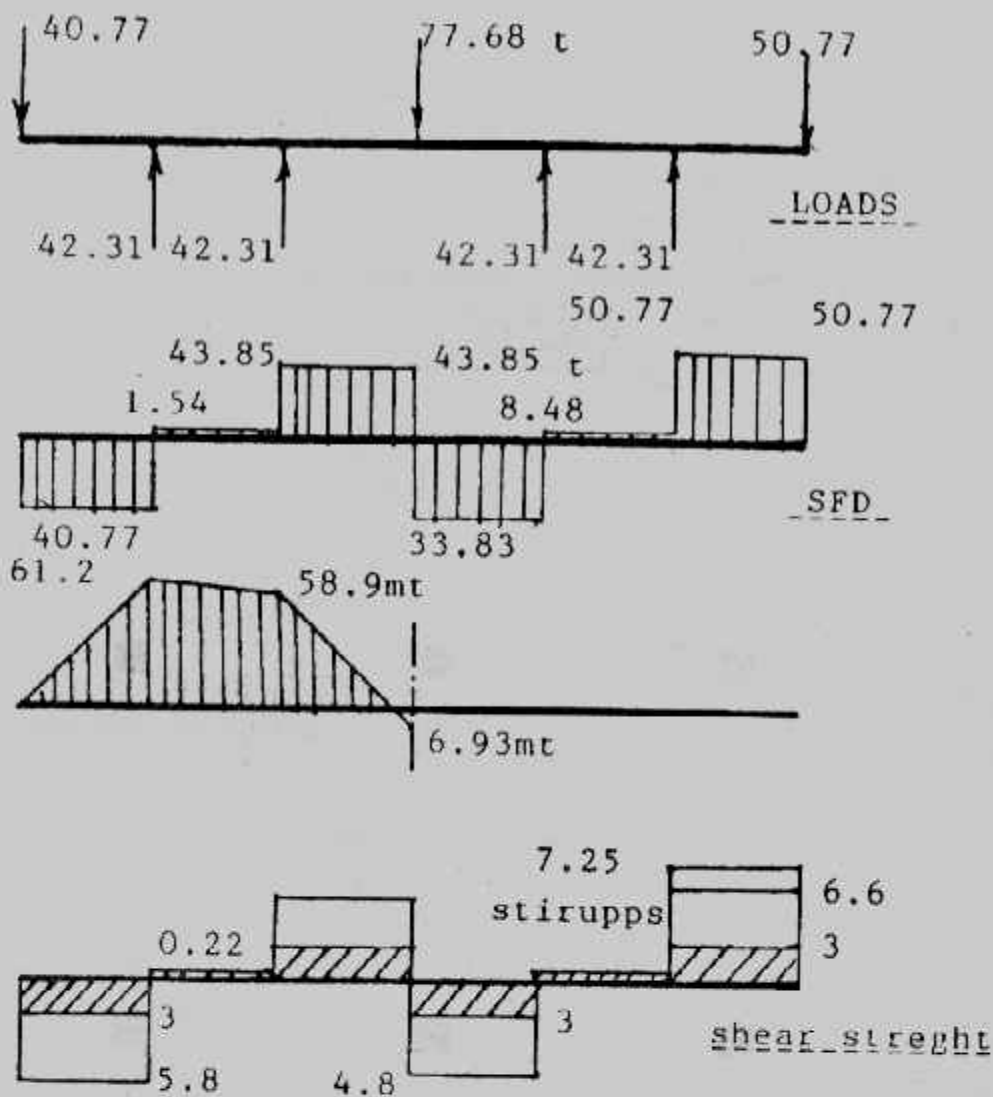
شكل (٧-٣٢) اجهادات القص للكمرات الثانوية.

$$\text{Maximum shear stress} = \frac{49.5 \times 10^3}{140 \times 50} = 39.99 \text{ cm}^2 (9 \phi 25)$$

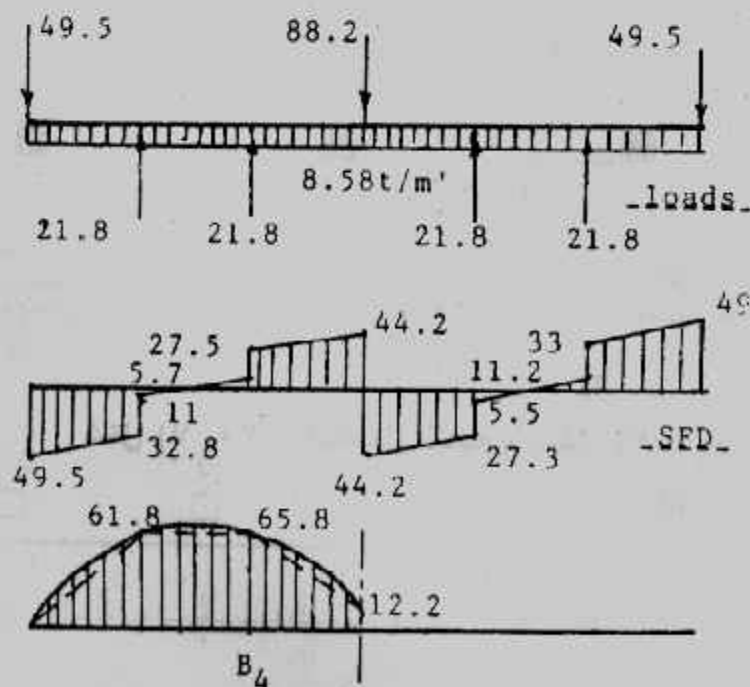
use stirrups and bent bar as in B<sub>4</sub> stirrupe 7  $\phi$  8/m' (4 branch)

bent bar 4  $\phi$  25

Details of design are show in Fig. (7-35)

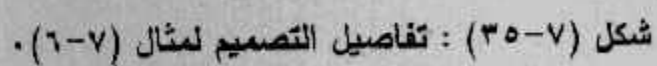
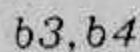


شكل (٣٣-٧) : الكمره  $B_4$



شكل (٣٤-٧) : الكمره  $B_3$





## الباب الثامن

### التحليل العددي للأساسات

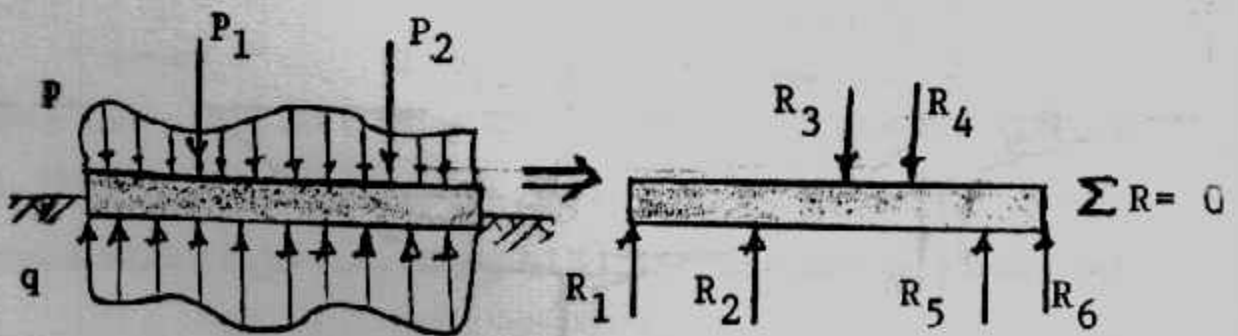
### Numerical Analysis of Foundations

كان تصميم الأساسات الضخمة والمشاركة يتم بطرق تقريبية إلى حد ما، تم مع تقدم الأبحاث والعلم صمم المهندسون هذه الأساسات بطرق أكثر دقة وتقدما تعتمد على حل معادلات تفاضلية إلا أن المصممون كانوا لا يملكون المقدرة والوقت لحل هذه المعادلات. ومع تقدم طرق التحليل العددي وباستخدام المقدرة الفائقة للحاسبات الإلكترونية (الكمبيوتر) أمكن الآن حل كثير من المسائل الهندسية المدنية. بل وأن كثير من هذه المسائل أصبح لها الآن برامج جاهزة للاستخدام على الكمبيوتر مباشرة لحل أى عنصر إنشائي وبطرق أكثر دقة وتقدما.

هذا التطور يؤدي إلى الحصول على منشآت أكثر أمانا واقتصادا ولكن بعض الخطر يكمن فى الإستناد التام من قبل المصمم على الكمبيوتر مما يؤدي إلى فقد جزء من التحكم فى الحسابات الذى كان يحدثه بنفسه من قبل. ولذا فإنه يجب عمل بعض التحققات على نتائج الكمبيوتر حتى يمكن التحكم فى الحسابات ونتائجها. وهذا الباب يستلزم أن يكون القارئ ملما باستخدام الكمبيوتر وعلم المصفوفات وأن يكون لديه فكرة عامة عن طرق التحليل العددي مثل طريقة الفروق المحدودة وطريقة العناصر المحدودة.

#### معنى تصميم الأساسات :

وظيفة الأساس هى توزيع الحمل الواقع عليه من المنشأ، وقد يكون هذا الحمل مركزا أو موزعا. وهذا التوزيع يخلق ضغط تماس لأعلى Upward contact pressure بين التربة والسطح السفلى للأساس.



شكل (٨-١) الأحمال والإجهاد.

وعند أى مقطع فى الأساس يمكن إعتبار قيمة الضغط العلوى  $q$  مكافئا لقوة رأسية لأعلى  $Q$  والقوى المؤثرة والقوى الرأسية العلوية فى حالة اتزان أى أن مجموعهما الجبرى يساوى صفراً. وهذه القوى تسبب قوى قص وعزوم. وبمعرفة هذه القوى الداخلية يمكن تصميم الأساس أى معرفة أبعاده وتسليحه.

شكل ضغط التماس Contact Pressure وتوزيعه تحت الأساس يعتمد على عدة

عوامل أهمها :

- ١- شكل الأساس .
- ٢- درجة جساءة الأساس Rigidity .
- ٣- نوع التربة .
- ٤- شكل الحمل .

١- شكل الأساس Form of the Foudnation : أفضل شكل للأساس هو الشكل المنتظم Regular . ويأخذ الأساس شكل دائرى، أو مربع، أو مستطيل أو شبه منحرف ويختلف شكل ضغط التماس حسب شكل الأساس .

٢- جساءة الأساس Rigidity of Foundation : دارس هندسة الأساسات يقابله دائماً تعبيران : أساس مرن Flexible foundation وأساس جاسئ Rigidity foundation وعامة الأساس المرن هو الذى لا يبدى مقاومة للانحناء (الشكل) ويأخذ شكل هبوط طبقاً لهبوط التربة تحته . أما الأساس الجاسئ فهو الذى يقاوم الانحناء (الشكل) وشكل هبوطه منتظم بخلاف التربة تحته . ولتفسير ذلك رياضياً :

من نظرية الكمره

$$M/I = E/R$$

(Beam Theory)

Where  $M$  = Bending moment

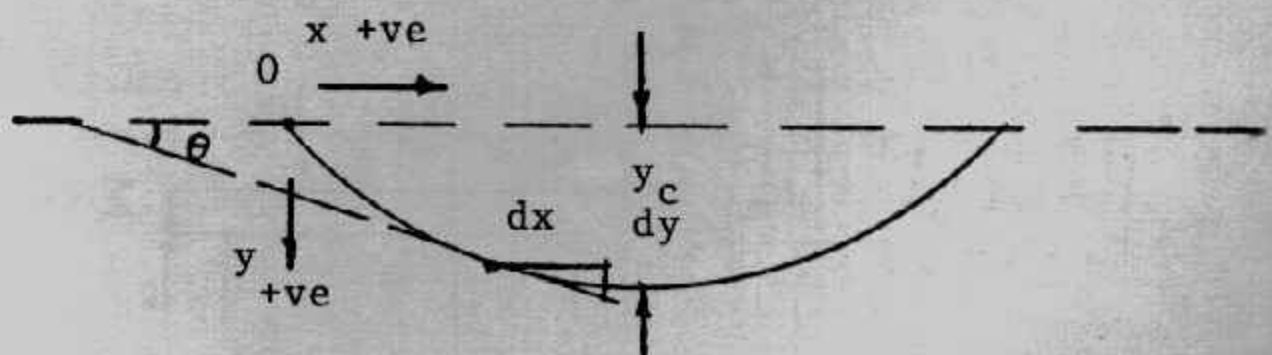
$E$  = Modulus of elasticity of the material comprising the beam.

$I$  = Moment of inertia of the beam.

$R$  = Resulting radus of curvature.

وبدراسة كمره بسيطة الإرتكاز تحت حمل منتظم التوزيع وترخيم مركزى

Central deflection  $Y_c$  واعتبار الدعامة اليسرى نقطة أصل كما فى شكل (٨-٢) .



شكل (٨-٢) ترخيم كمره بسيطة .

فإن زاوية الميل هي  $\theta$  Slope angle عند أى نقطة حينما تكون صغيرة كما يحدث فى حالة الكمرات فإن :

$$\theta = \tan \theta = dy / dx$$

النقطتان A, B على الكمرة المسافة بينهما  $dx$  وطول المنحنى بينهما  $ds$ ,  $d\theta$  - الزاوية على محور  $x$  المصنوعة بواسطة المماس عند B (الزيادة فى  $ds$  تسبب نقصا فى الزاوية ولذا تؤخذ  $-d\theta$ )

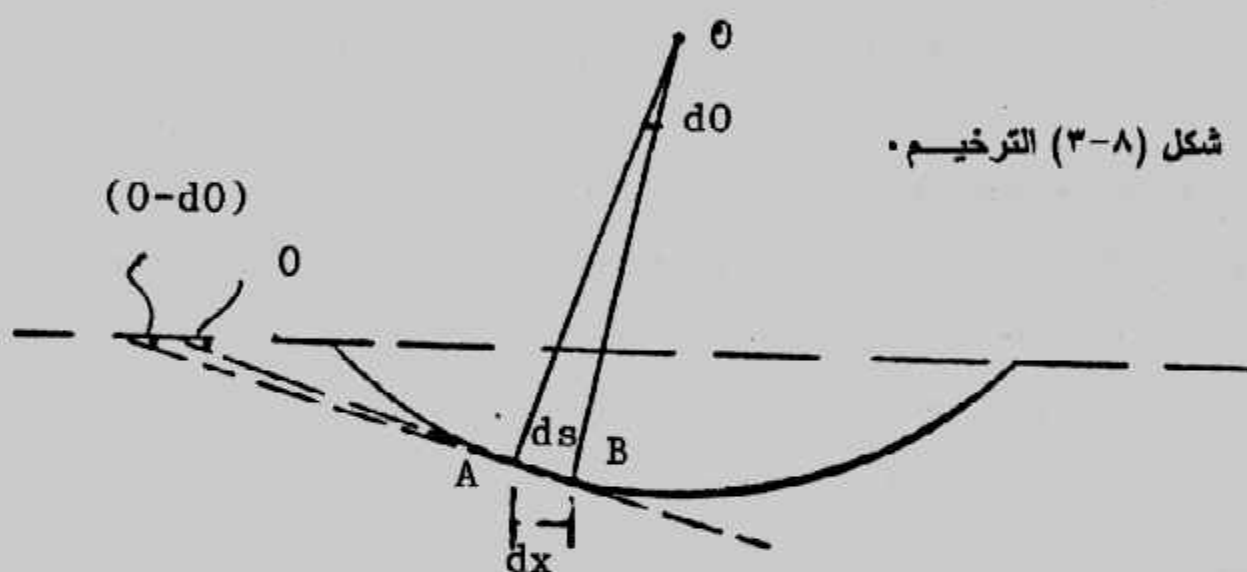
شكل (٣-٨) وحينئذ

$$d\theta / ds \text{ is -ve and } 1/R = -d\theta/ds$$

$$ds = dx$$

$$\therefore 1/R = -d\theta / ds = -d\theta / dx = -d(dy/dx) / dx^2$$

$$\therefore -M/EI = d^2y / dx^2$$



$$dy/dx = \frac{1}{EI} \int -M dx = \frac{1}{EI} [-Mx + A]$$

$$y = \frac{1}{EI} \iint -M dx dx = \frac{1}{EI} [-\frac{Mx^2}{2} + Ax + B]$$

وتكون الكمرة جاسنة تماما إذا كان :

$$y = 0, EI = \infty$$

وتكون الكمرة مرنة تماما إذا كان :

$$y = \infty, EI = 0$$

٣- نوع التربة Type of Soil : التربة المتماسكة Cohesive soil مثل الطمي والطين وهما يتصرفان كتربة مرنة عند تحميلهما، والأساس عليهما يعامل بنظرية المرونة. والتربة الغير متماسكة Cohesionless soil مثل الزلط والرمل وهذه التربة لا تسلك السلوك المرن.



٤- نوع الحمل Form of Loading : نوع الحمل المؤثر على الأساس يعتمد على شكل

ووظيفة المنشأ وتعيين قيمة الحمل عامل هام فى التصميم .

### الحلول القياسية المعتمدة على ضغط التماس :

توجد كثير من الحلول المعتمدة على ضغط التماس ولكنها تحتوى على بعض

العيوب منها :

١- تطبق الحلول على حالات تحميل بسيطة فقط .

٢- التربة يجب أن تؤخذ إما متماسكة تماما أو غير متماسكة تماما .

٣- الأساس يجب أن يفرض إما مرن تماما أو جاسئ تماما .

٤- الحلول تطبق على الأساس الدائرية والمربعة والشريحة .

### شكل ضغط التماس :

يعتمد شكل توزيع ضغط التماس على صفات المرونة لكل من الأساس والتربة

تحت الأساس .

وبدراسة ضغط التماس تحت أساس دائرى وأساس شريحة Strip معرضين لحمل

منتظم وهما من النوع الجاسئ على تربة نصف مرنة، وبفرض أن اجهادات القص على

قاعدة الأساس مساوية الصفر، وجد أن توزيع ضغط التماس يعتمد على معامل  $K_r$  :

$$K_r = \frac{1}{6} \left( \frac{1 - \nu_s^2}{1 - \nu_F^2} \right) \left( \frac{E_F}{E_S} \right) \left( \frac{T}{b} \right)^3$$

where :  $\nu_s$  = Poisson's ratio for soil

$\nu_F$  = Poisson's ratio for foundation material

$E_F, E_s$  = Young's modulus of foundation material and soil, respectively.

$b$  =  $\begin{cases} \text{half - width for strip foundation.} \\ \text{radius for circular foundation} \end{cases}$

$T$  = Thickness of foundation

ويلاحظ أن :

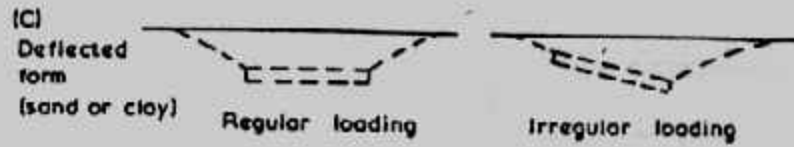
$K_r = 0$  يبين أن الأساس مرن تماما Perfectly flexible foundation

$K_r = \infty$  بين أن الأساس جاسئ تماما Perfectly rigid foundation

### الأساس الجاسئ Rigid :

جساءة الأساس تجعل الهبوط تحت الأساس للحمل المنتظم متساوى وتجعله يتغير

خطيا إذا كان الحمل غير منتظم . وهنا ضغط التماس يعتمد على نوع التربة شكل (٨-٤) .



### شكل (٨-٤) : الأساس الجاسئ.

وللأساس الجاسئ ( $K_f = \infty$ ) تكون  $q_c/q = 0.67$  عند محور الأساس الشريحة.

و  $q_c/q = 0.5$  عند محور الأساس الدائري. وعند أطراف الأساس تقترب  $q_c$  من اللانهاية

شكل (٨-٥).

### الأساس المرن Flexible :

الأساس المرن لا يبدى مقاومة للانحناء. وضغط التماس دائما منتظم للأحمال

المركزة والموزعة أو يكون ضغط التماس متغير بانتظام تحت الأحمال المركزة اللامركزية

(eccentric) شكل (٨-٦) وحينما يكون الأساس مرتكزا على رمل Sand فإن الهبوط عند

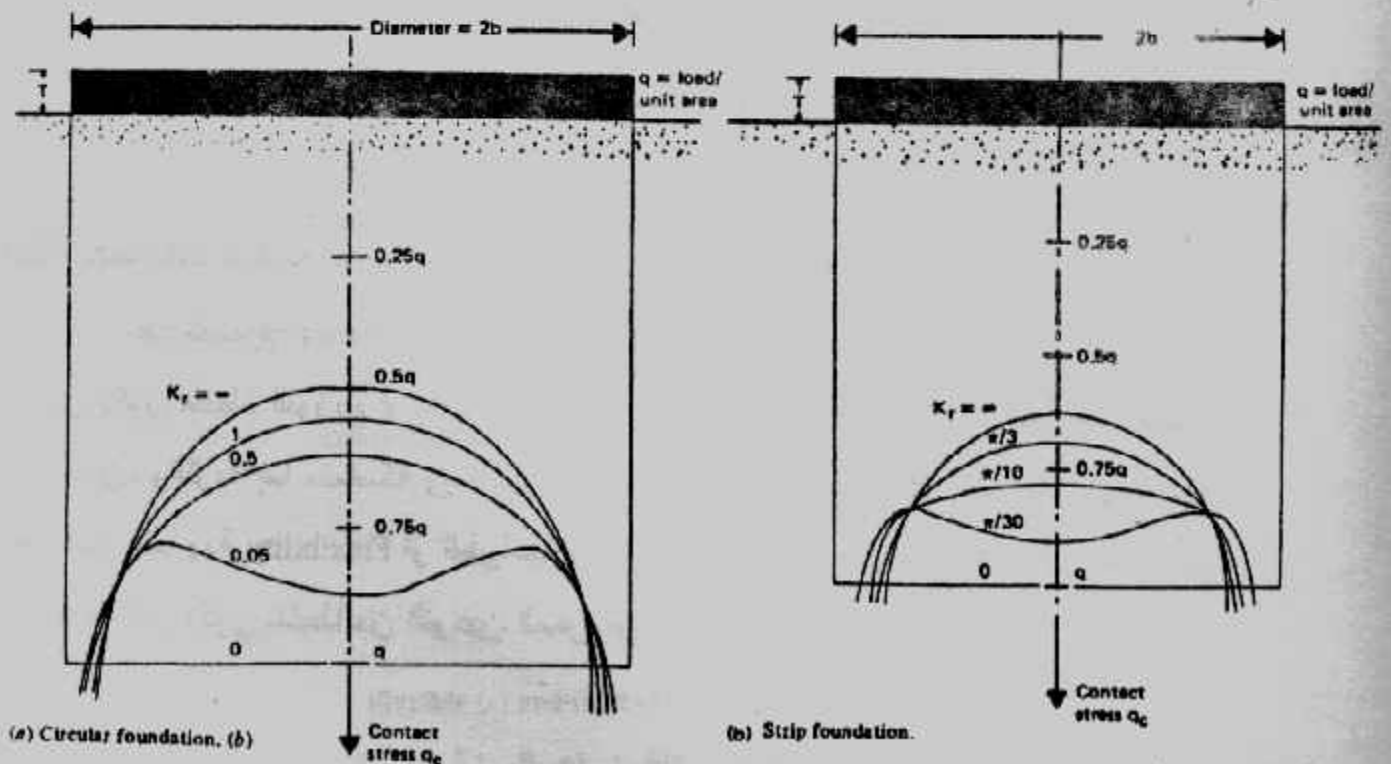
الأطراف يكون أكبر من الهبوط في الوسط. أما حينما يكون الأساس مرتكزا على الطين

Clay فإن الهبوط تحت المركز يكون أكبر من الهبوط عند الأطراف بقيم تصل إلى ١,٥

مرة شكل (٨-٦ ب).

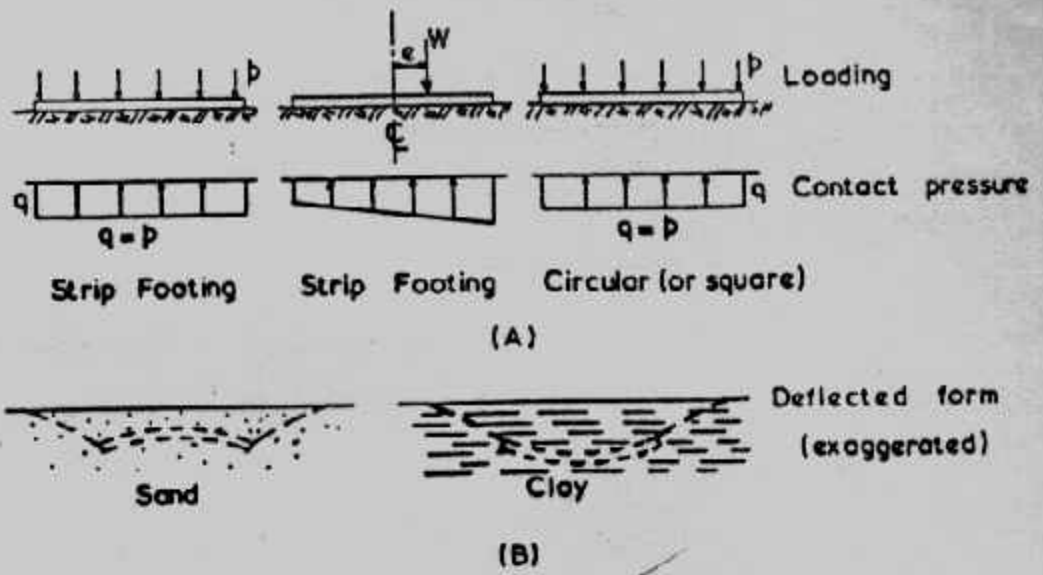
وتبين الأشكال (٨-٧، ٨، ٩) توزيع ضغط التماس تحت الأساس المرن وتحت

الأساس الجاسئ عند ارتكازهما على الرمل والطين.

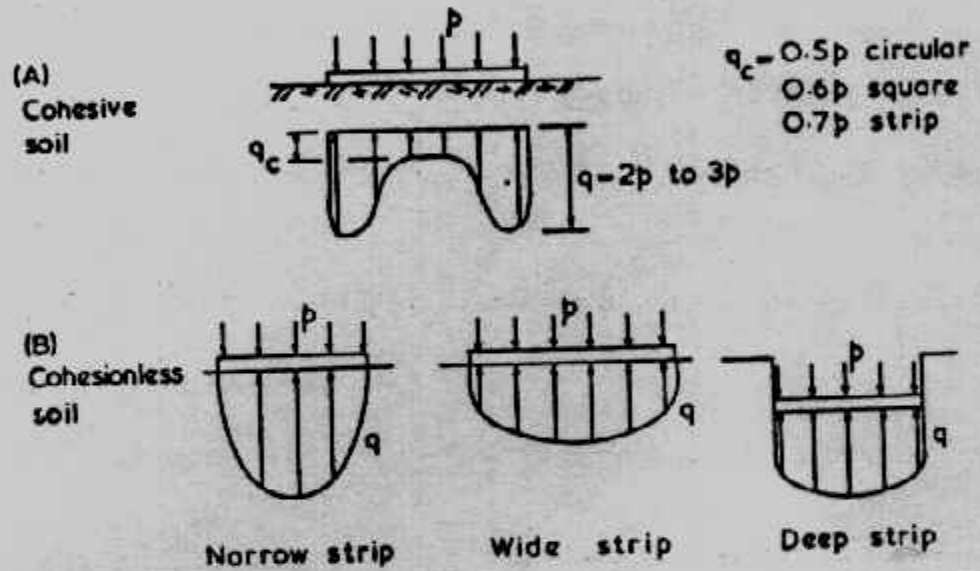


### شكل (٨-٥) : ضغط التماس للأساس الجاسئ.





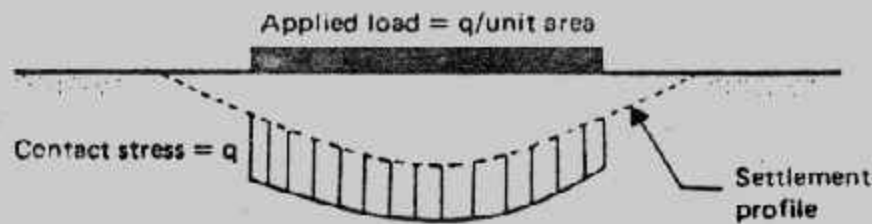
شكل (٨-٦) : الأساسات المرنة واللامركزية .



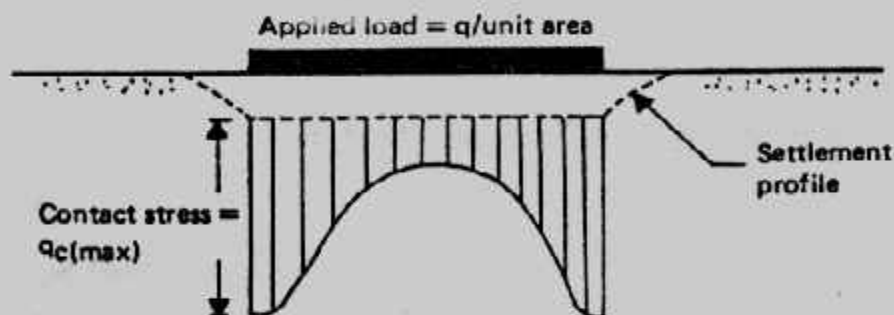
شكل (٨-٧) : ضغط التماس للأساسات .

### نظام حسابات التصميم : Routine Design Calculations

عند تصميم الأساسات الدائرية والمربعة فإن أغلب المصممين يفترض أن ضغط التماس يكون منتظم التوزيع أو يتغير بانتظام . وكل الحلول نفترض أن الأساس إما جسيء وإما مرن، والتربة إما متماسكة وإما غير متماسكة . بينما الواقع أن كل الأساسات لها درجة معينة من المرونة Flexibility أو الطواعية وأغلب الترب خليط من النوعين وعلى هذا فإن ضغط التماس يكون خليطاً من النوعين المعروفين .



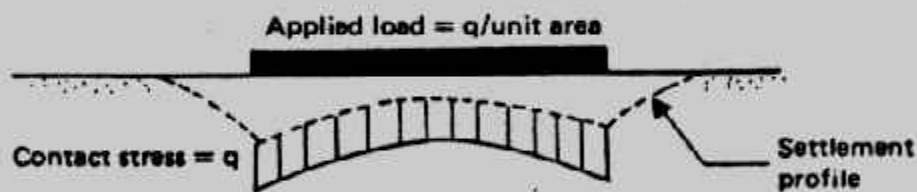
(a)



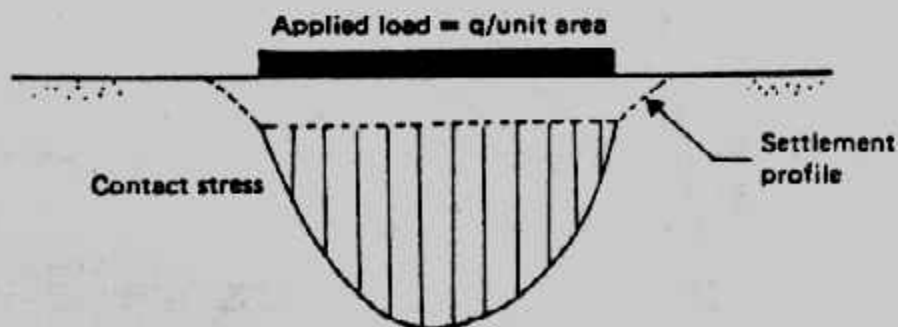
(b)

Flexible (a) and rigid (b) foundations on clay.

شكل (٨-٨) : ضغط التماس للأساسات المرنة على الطين •



(a)



(b)

Flexible (a) and rigid (b) foundations on sand.

شكل (٩-٨) : ضغط التماس للأساسات المرنة على الرمل •

## معاملات المرونة للتربة : Elastic Properties of Soil

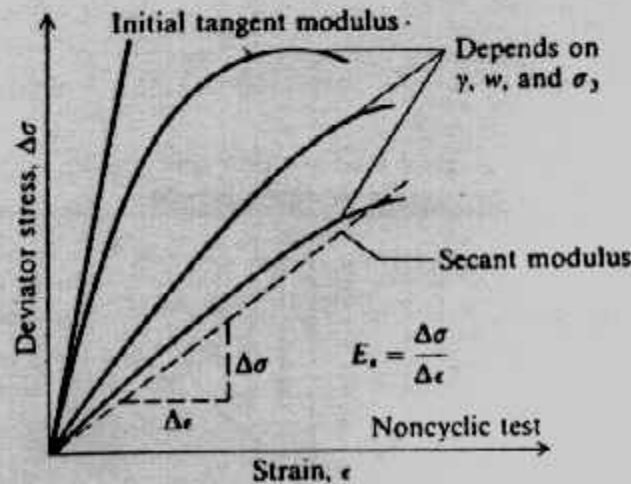
معامل المرونة  $E_s$  ، ومعامل بواس  $\mu$  ، ومعامل رد فعل التربة  $K_s$  ومعامل الجساءة (القص)  $G$  تسمى معاملات المرونة، وتعيين قيمها للتربة مهم لاستخدامها في طرق التصميم الدقيقة والحديثة ومعامل الجساءة (القص)  $G$  يستخدم في تصميم الأساسات المعرضة لحمل ديناميكية أو اهتزازية.

### أ- معامل المرونة $E_s$ Stress-Strain Modulus :

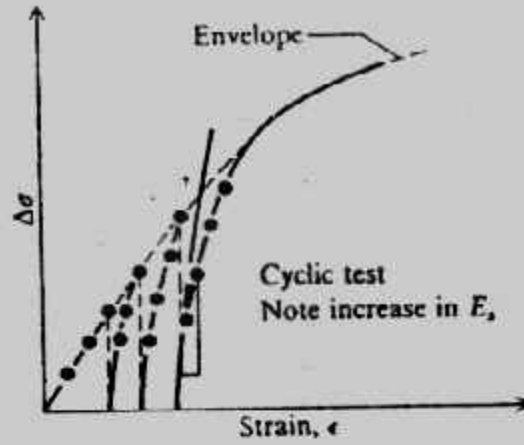
معامل المرونة أو معامل ينح Young's Modulus يعين من ميل القاطع أو ميل المماس لمنحنيات الاجهاد - الانفعال الناتجة من اختبارات الضغط الثلاثي Triaxial Tests . أشكال (٨-١٠)، (٨-١١)، ويؤخذ معامل المماس الابتدائي غالبا Initial Tangent Modulus للأسباب الآتية :

- ١- التربة مرنة فقط قرب بداية المنحنى .
- ٢- يعطى أقل قيمة حيث أن معامل التقاطع يعطى قيمة أكبر كثيرا .
- ٣- أقل تباعد بين النتائج يوجد في هذه المنطقة .

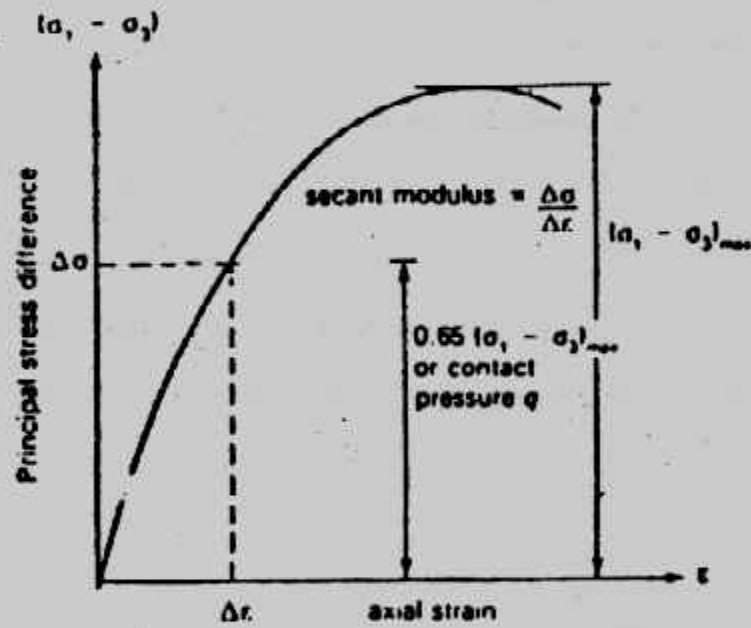
ويقترح بعض الباحثين أفضل معامل تماس يمكن الحصول عليه، من Cycling Deviator Stress في حدود خمس مرات ثم يحدث الانهيار ويوضح شكل (٨-١٢) طريقة أخرى لتعيين معامل المرونة . وبعض القيم التقريبية لمعامل المرونة للأنواع المختلفة للتربة معطاه في جدول (٢-١٦)، (٢-١٧) بالباب الثاني من هذا الكتاب .



شكل (٨-١٠) : معامل المرونة



شكل (٨-١١) : معامل المرونة .



شكل (٨-١٢) : معامل المرونة .

وحينما يتعذر الحصول على معامل المرونة من التجارب المعملية فإنه يمكن الحصول على معامل المرونة من بعض التجارب الحقلية كما ذكر في الباب الثاني من هذه الكتاب والجداول (٢-١٩، ٢٠، ٢١، ٢٢) تعطى علاقات معامل المرونة بنتائج التجارب الحقلية، وفي نهاية هذا الباب معطى طرق تعيين معامل المرونة من التجارب المعملية والحقلية كما نص عليها الكود المصرى لميكانيكا التربة والاساسات .

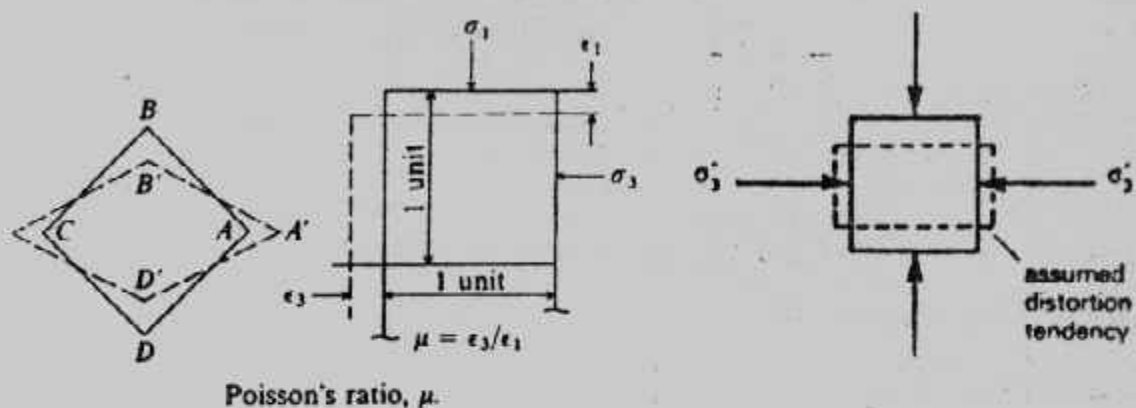
ب- معامل بواسن **Poisson's ratio** :

معامل بواسن يعرف بأنه النسبة بين انفعال الضغط المحورى وانفعال التمدد

المرضى بشكل (٨-١٣) :

$$\mu = \epsilon_3 / \epsilon_1$$

ويتضح من التعريف السابق أن قيمة معامل بواسن يمكن أن تكون سالبة حينما يوجد انكماش عرضي ولقد بينت التجارب العملية أن هذا المعامل ممكن أن تكون قيمته أكبر من ٠,٥ وفي هذه الحالة تكون التربة لدنة أى أن نظرية المرونة لا تطبق عليها.



شكل (٨-١٣) : معامل بواسن .

وبين جدول (٨-١) مجداول قيم معامل بواسن لأنواع التربة المختلفة وبين جدول

(٨-٢) القيمة التى ينصح بها الكود المصرى لميكانيكا التربة والاساسات .

جدول (٨-١) حدود قيم معامل بواسن .

Values or value ranges for Poisson's ratio  $\mu$

Type of soil	$\mu$
Clay, saturated	0.4-0.5
Clay, unsaturated	0.1-0.3
Sandy clay	0.2-0.3
Silt	0.3-0.35
Sand, gravelly sand	-0.1-1.00
commonly used	0.3-0.4
Rock	0.1-0.4 (depends somewhat on type of rock)
Loess	0.1-0.3
Ice	0.36
Concrete	0.15

جدول (٨-٢) القيم التقديرية لنسبة بواسن .

نوع التربة	طين مشبع	طمي ورمل
$\mu$	٠,٥	٠,٣

ج- معامل الجساءة (القص) Shear Modulus  $G$  :

معامل القص أو الجساءة يعرف بأنه النسبة بين إجهاد القص وانفعال القص

$$G = S / \epsilon_s$$

ويمكن تعيينه من معامل المرونة ومعامل بواسن

$$G = E_p / 2 (1 + \mu)$$

د- معامل رد فعل التربة  $K_s$  : Modulus of Subgrade Reaction

معامل رد فعل التربة من المعاملات الهامة التى تدخل فى تصميم الأساسات المرنة كالطرق والكممرات والبلاطات على التربة المرنة كما يدخل فى حساب ضغط التماس . ويعرف معامل رد فعل التربة بأنه هو النسبة بين وحدة ضغط التربة والهبوط المقابل لها :

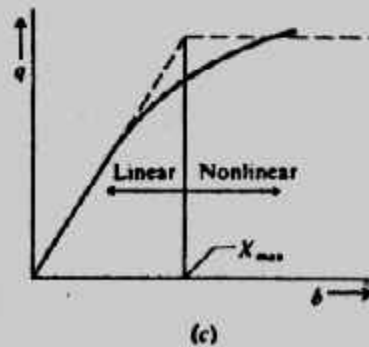
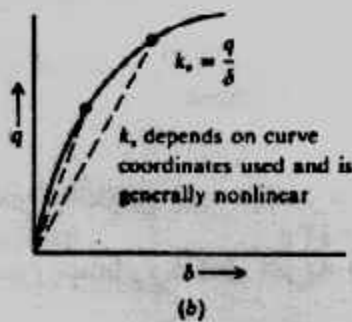
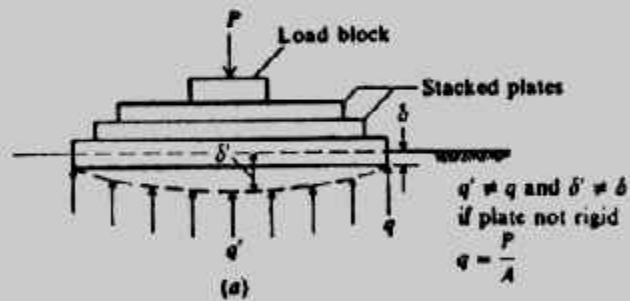

$$k_s = q / \Delta \quad \text{kN/m}^3$$

$q$  = intensity of soil pressure.

$\Delta$  = settlement under intensity  $q$  .


وبالرغم من بساطة التعريف إلا أن تعيين هذا المعامل ليس بالأمر اليسير لأن الأبحاث أثبتت أن هذا المعامل لا يتغير من تربة إلى تربة فقط حسب صفاتها الميكانيكية وإنما يتغير أيضا طبقا لمنسوب وحجم وشكل الأساس . ويعين معامل رد فعل التربة من اختبار التحميل Plate Loading Test حيث اقترح معمل أبحاث الطرق الأمريكى حساب معامل رد فعل التربة من الضغط المقابل لهبوط قدرة ١.٣ مم فى اختبار تحميل لوح ٠.٣ × ٠.٣ م شكل (٨-١٤) .

وقيمة معامل رد فعل التربة ليست ثابتة للتربة الواحدة ولكنها تعتمد على عدة عوامل مثل طول الأساس (L) وعرضه (B) وأيضا عرض الأساس . وعلى ذلك فعند استخدام أساس عرضه B × B فإن القيمة الناتجة من اختبار تحميل لوح ٠.٣ × ٠.٣ سوف تعدل على النحو الآتى، شكل (٨-١٥) :



شكل (٨-١٤) : تعيين معامل رد فعل التربة من اختبار التحميل .





Definition of coefficient of subgrade reaction.

شكل (٨-١٥) معامل رد فعل التربة.

$$k_s = k_{0.3} \left( \frac{B + 0.3}{2B} \right)^2 \quad \text{for foundations on sandy soils}$$

where  $k_{0.3}$  and  $k$  = coefficients of subgrade reaction of footings measuring 0.3 (m) x 0.3 (m) and B (m) x B (m), respectively (unit  $\text{kN/m}^3$ ).

$$k_s (\text{kN/m}^3) = k_{0.3} (\text{kN/m}^3) \left[ \frac{0.3 (\text{m})}{B (\text{m})} \right] \quad \text{for foundation on Clays}$$

ولأساس مستطيل الشكل B x L لنفس التربة فإن معامل رد فعل التربة يحسب من :

$$k_s = \frac{k_{(B \times B)} \left( 1 + \frac{B}{L} \right)}{1.5}$$

Where :

$k_s$  = Coefficient of subgrade modulus of the rectangular foundation (L x B).

$k_{(B \times B)}$  = Coefficient of subgrade modulus of a square foundation having dimension of B x B

والمعادلة السابقة تبين أن قيمة معامل رد فعل التربة لأساس طويل جداً بعرض B هي بالتقريب  $0.67 k_{(B \times B)}$  . وكما أن قيمة معامل المرونة تزيد مع العمق للتربة الخشنة فإن قيمة معامل رد فعل التربة يزيد أيضاً مع العمق للتربة الخشنة أيضاً والتي تمتد مسافة لا تقل عن B تحت الأساس .

$$K_{sf} = K_{ss} \left( 1 + \frac{2D_f}{B} \right) \leq 2 K_{sf}$$

Where :  $K_{sf}$  = Coefficient of subgrade modulus at foundation level.

$K_{ss}$  = Coefficient of subgrade modulus at grounds surface.

$D_f$  = Foundation depth.

وتوجد طرق أخرى غير مباشرة لتعيين معامل رد فعل التربة فلقد اقترح سكوت Scott

1981 تعيين معامل رد فعل التربة الرملية من رقم الاختراق القياسي N :

$$k_{0.3} (\text{MN/m}^3) = 1.8 N$$

Where N = Corrected standard penetration resistance

كما اقترح سلاح المهندسين الأمريكي The US Corps of Engineering حساب معامل رد

فعل التربة من الهبوط المقابل لإجهاد قدره  $0.7 \text{ kg/cm}^2$  على سطح الأرض

$$k_s = 0.7 / \delta \quad \text{kg/cm}^2$$

كما يمكن تعيين معامل رد فعل التربة من معامل كاليفورنيا CBR

$$k_s = q_{CBR} / 0.25$$

كما اقترح بولس حساب معامل رد فعل التربة بطريقة تقريبية من قدرة تحمل التربة الآمنة من:

$$k_s = 40 q_a \text{ (FS) kN/m}^3$$

Where :  $q_a = q_{ult} / \text{FS}$

FS معامل الأمان لهبوط قدره ٢,٥ سنتيمتر أما لو كان الهبوط ٠,٦ أو ١,٢٥ أو ١,٩ اسم

فإن الرقم ٤٠ يصبح ٨٠, ١٢٠, ١٦٠ كما اقترح فيسك حساب معامل رد فعل التربة من معاملات المرونة :

$$k_s = Bk_s = 0.65 \sqrt[12]{\frac{E_s B^4}{E_F I_F}} \frac{E_s}{1 - \mu^2}$$

or

$$k_s = 0.65 \sqrt[12]{\frac{E_s B^4}{E_F I_F}} \frac{E_s}{B(1 - \mu^2)}$$

Where :  $E_s$  = Young's modulus of soil.

$B$  = Foundation width.

$E_F$  = Young's modulus of foundation material

$I_F$  = moment of inertia of the cross section for the foundation.

$\mu$  = Poisson's ratio of soil

للأغراض العملية يمكن تعرض المعادلة السابقة إلى :

$$k = \frac{E_s}{B(1 - \mu^2)}$$

كما نورد بعض المراجع إمكانية حساب معامل رد فعل التربة من الهبوط الفوري  $S_i$  :

$$k_s = \Delta q_i / S_i$$

ومعامل رد فعل التربة مفيد جدا في تصميم الطرق والمطارات سواء منها الجاسئ Rigid

من الخرسان أو المرنة Flexible من الأسفلت. كما يمكن الحكم على جساءة أو مرونة

الأساسات بدلالة معامل رد فعل التربة على النحو الآتي :

For rigid footing

$$\lambda L < \pi$$

Intermediate

$$\pi / 4 < \lambda L < \pi$$

For flexible footing

$$\lambda L > \pi$$

$$\text{where } \lambda = 4 \sqrt{\frac{k_s B}{4 E_c I}}$$

$E_c \cdot I$  = Young's modulus and moment of inertio for footing material

ونظرا للتكلفة العالية لاختبار التحميل والزمن الطويل اللازمة للاختبار وصعوبة التقدير الدقيق للهبوط فإن المراجع اقترحت على المصممين قيما تقريبية لمعامل رد فعل التربة لأنواع التربة المختلفة نوجزها في جدول (٣-٨) .

جدول (٣-٨) قيم  $K_c$  للأساسات على سطح الأرض

Soil	State	$K_c$ MN/m <sup>3</sup>
Dry or moist sand	loose ( $N < 10$ )	8 - 25
	Medium ( $N = 10-30$ )	25 - 125
	Dense ( $N > 30$ )	125 - 375
Submerged sand	Loose ( $N < 10$ )	10 - 15
	Medium ( $N = 10-30$ )	35 - 40
	Dense ( $N > 30$ )	130-150
Clayay sand	Medium dense	32 - 80
Silty sand	Medium dense	24 - 48
Clay	Stiff ( $q_u = 100-200$ )	12 - 25
	Very stiff ( $q_u = 200-400$ )	25 - 50
	Hard ( $q_u > 400$ )	> 50

(Note  $q_u$  = unconfined compression strength)

كما بين جدول (٤-٨) فيما أخرى مقترحة لمعامل رد فعل التربة

جدول (٤-٨) قيم أخرى لمعامل رد فعل التربة .

Soil	Unified classification	$K_c$ kg/cm <sup>3</sup>
Gravel, gravelly	GW loose	5 - 10
	dense	15 - 20
	GP loose	5 - 10
	dense	10 - 20
Sand, Sandy	GC	8 - 15
	GM	5 - 15
	SW loose	1 - 3
	dense	5 - 15
	SP loose	1 - 3
	dense	5 - 8
	SC	6 - 15
	SM	3 - 8
Clay, Silt	Soft $q_u = 0.1-1$ kg/cm <sup>2</sup>	3 - 5q
	Medium $q_u = 1.5-4$ kg/cm <sup>2</sup>	3 - 5 q
	Hard $q_u > 4$ kg/cm <sup>2</sup>	3 - 5q

## حل هيتنى لكمرة على تربة مرنة

### The Hetenyi Solution of a Beam on an Elastic Foundation

قدم هيتنى (Hetenyi, 1948) حلاً تقليدياً لكمرة على أساس مرّن وهذا الحل يعتمد على معادلة تفاضلية لكمرة محملة بحمل موزع  $q$ ، وللكمرة على التربة فإن  $q$  يكون رد فعل التربة، وباستخدام معامل رد فعل التربة:

$$q = k_s \cdot y$$

وتكون المعادلة التفاضلية :

$$EI \frac{d^4 y}{dx^4} = -q = -k_s \cdot y$$

وهذا الحل يعتمد على فرض وينكلر Winkler الذى يعتبر أن تربة التأسيس عبارة عن مجموعة من اليايات Springs والمعادلة السابقة هي معادلة تفاضلية من الدرجة الرابعة والحل العام لها يضم أربع ثوابت هي  $D, C, B, A$  تعين من حالات الحدود عند نهايتى الكمرة تحت الحمل :

$$\lambda = \sqrt[4]{\frac{k_s B}{4EI}}$$

$B, E, I$  = Footing width, elastic modulus of footing material, and moment of inertia

ويجب أن نتذكر أن :

$$dy/dx = \theta = \text{slope}$$

الدوران = التفاضل الأول للهبوط

$$d^2 y/dx^2 = M = \text{bending moment}$$

العزم = التفاضل الثانى

$$d^3 y/dx^3 = Q = \text{Shear}$$

القص = التفاضل الثالث

$$d^4 y/dx^4 = P = \text{load}$$

الحمل = التفاضل الرابع

وبين جدول (٥-٨) حل المعادلات التفاضلية لحالات التحميل المبينة فى شكل

(١٥-٨) للأحمال المركزة. وعند  $x = 0$  فى شكل (١٥-٨) فإن حالات الحدود :


at $x =$	Shear	Moment	Slope	Deflection
0	0	C	unknown	unknown
a (load)	+	$M_L = -M_R$	$\theta_L = \theta_R$	unknown
L	0	0	unknown	unknown

وحل الكمرة ذات الطول المحدد المحملة بحمل على مسافة  $a$  من النهاية اليسرى للكمرة وباستخدام حالات الحدود تأخذ الصورة الآتية :

$$v = \frac{P\lambda}{k_s (\sinh^2 \lambda L - \sin^2 \lambda L)} \left\{ 2 \cosh \lambda x \cos \lambda x (\sinh \lambda a \cosh \lambda b - \sin \lambda L \cosh \lambda a \cos \lambda b) + (\cosh \lambda x \sin \lambda b) + \sinh \lambda x \cos \lambda x \left[ \sinh \lambda L (\sin \lambda a \cosh \lambda b - \cos \lambda a \sinh \lambda b) + \sin \lambda L (\sinh \lambda a \cos \lambda b - \cosh \lambda a \sin \lambda b) \right] \right\}$$

$$M = \frac{P}{k_s (\sinh^2 \lambda L - \sin^2 \lambda L)} \left\{ 2 \cosh \lambda x \cos \lambda x (\sinh \lambda a \cosh \lambda b - \sin \lambda L \cosh \lambda a \cos \lambda b) + (\cosh \lambda x \sin \lambda b) + \sinh \lambda x \cos \lambda x \left[ \sinh \lambda L (\sin \lambda a \cosh \lambda b - \cos \lambda a \sinh \lambda b) + \sin \lambda L (\sinh \lambda a \cos \lambda b - \cosh \lambda a \sin \lambda b) \right] \right\}$$

جدول (٨-٥) حلول كمرة غير محدودة على أساس مرن.

Concentrated load at end	Moment at end
 $y = \frac{2V_1\lambda}{k_s} D_{1x}$ $\theta = \frac{-2V_1\lambda^2}{k_s} A_{1x}$ $M = \frac{-V_1}{\lambda} B_{1x}$ $Q = -V_1 C_{1x}$	$y = \frac{-2M_1\lambda^2}{k_s} C_{1x}$ $\theta = \frac{4M_1\lambda^2}{k_s} D_{1x}$ $M = M_1 A_{1x}$ $Q = -2M_1\lambda B_{1x}$
Concentrated load at center	Moment at center
$y = \frac{P\lambda}{2k_s} A_{1x}$ $\theta = \frac{-P\lambda^2}{k_s} B_{1x}$ $M = \frac{P}{4\lambda} C_{1x}$ $Q = \frac{-P}{2} D_{1x}$	$y = \frac{M_0\lambda^2}{k_s} B_{1x} \text{ deflection}$ $\theta = \frac{M_0\lambda^3}{k_s} C_{1x} \text{ slope}$ $M = \frac{M_0}{2} D_{1x} \text{ moment}$ $Q = \frac{-M_0}{2} A_{1x} \text{ shear}$

The A, B, C, and D coefficients are:



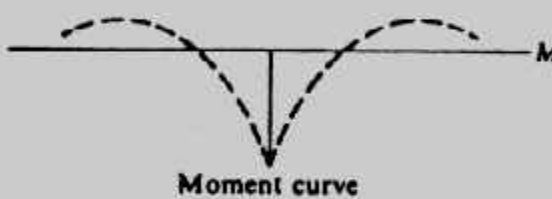
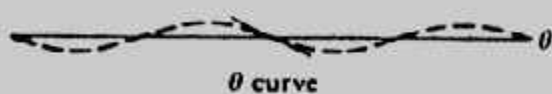
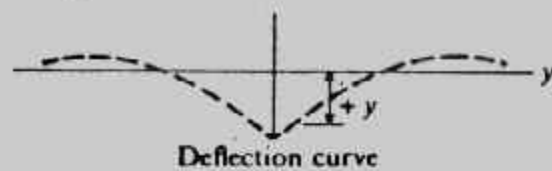
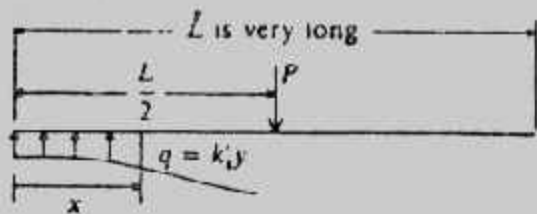
$$A_{1x} = e^{-\lambda x} (\cos \lambda x + \sin \lambda x)$$

$$B_{1x} = e^{-\lambda x} \sin \lambda x$$

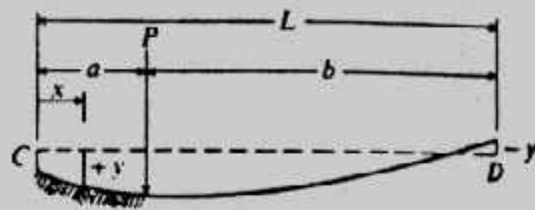
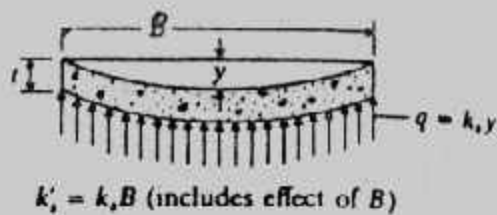
$$C_{1x} = e^{-\lambda x} (\cos \lambda x - \sin \lambda x)$$

$$D_{1x} = e^{-\lambda x} \cos \lambda x$$

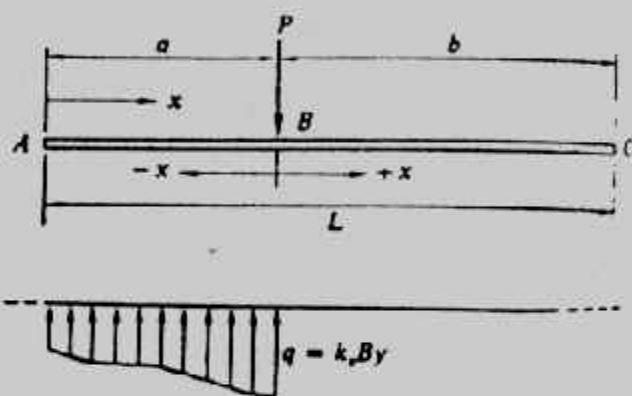




(a) Infinite length beam on an elastic foundation.



(b) Finite length beam on elastic foundation.



(c)

شكل (٨-١٥) : الكمرة على أساس مرن .

$$Q = \frac{P}{(\sin^2 \lambda L - \sin^2 \lambda L)} \left\{ \cosh \lambda x \cos \lambda x (\sinh \lambda a \cosh \lambda b \right. \\ x (\sin \lambda L \cosh \lambda a \cos \lambda b - \sin \lambda L \cosh \lambda a \cos \lambda b) \\ + \sinh \lambda x \cos \lambda x \left[ \sinh \lambda L (\sin \lambda a \cosh \lambda b - \cos \lambda a \sinh \lambda b) \right. \\ \left. + \sin \lambda L (\sinh \lambda a \cos \lambda b - \cosh \lambda a \sin \lambda b) \right] \left. \right\}$$

والمعادلات السابقة تستخدم إذا كانت  $x < a$  أما إذا كانت  $x > a$  فإن  $a$  توضع مكان  $b$  في المعادلات وتقاس  $x$  من ناحية  $D$  وهذه المعادلات يمكن أن تكتب في الصورة الآتية :

$$y = \frac{P\lambda}{k_s} A' \quad M = \frac{P}{2\lambda} B' \quad \text{and} \quad Q = PC'$$



حيث  $A', B', C'$  هي القيم الباقية من المعادلات السابقة. أما بالنسبة للحمل الموزع، شكل (٨-١٦-٢)، وشكل (٨-١٧) فإن الهبوط deflection عند أى نقطة  $I$  نتيجة الحمل

$$y_I = \frac{p\lambda}{2k_s} \left[ \int_0^r e^{-\lambda\xi} \{\cos(\lambda\xi) + \sin(\lambda\xi)\} d\xi + \int_0^s e^{-\lambda\xi} \{\cos(\lambda\xi) + \sin(\lambda\xi)\} d\xi \right] \quad \text{الموزع هو:}$$

والمعادلة السابقة تختصر للمعادلة الآتية بإدخال  $r, s$  علماً بأن  $r$  للشمال تؤخذ بإشارة سالبة:

$$y_I = \frac{p}{2k_s} [2 - D(\lambda r) - D(\lambda s)].$$

وبمعرفة  $s, r$  يمكن إيجاد الهبوط عند أى نقطة تحت الحمل، وبالمثل يمكن تعيين الدوران

والعزم والقص من العلاقات:

$$\theta_I = \frac{pB}{4\lambda} \left[ \frac{2\lambda^2}{k_s B} \{A(\lambda r) - A(\lambda s)\} \right]$$

$$M_I = \frac{pB}{4\lambda} \left[ \frac{1}{\lambda} \{B(\lambda r) + B(\lambda s)\} \right]$$

$$V_I = \frac{pB}{4\lambda} \left[ \{C(\lambda r) - C(\lambda s)\} \right]$$

أما إيجاد الهبوط عند نقطة  $I$  خارج الحمل على شماله أو يمينه فيتم بالعلاقات الآتية:

$$y_I = \pm \frac{p}{2k_s} [D(\lambda r) - D(\lambda s)]; \theta_I = \pm \frac{p\lambda}{2k_s} [A(\lambda r) - A(\lambda s)],$$

$$M_I = \mp \frac{pB}{4\lambda^2} [B(\lambda r) - B(\lambda s)]; V_I = \frac{pB}{4\lambda} [C(\lambda r) - C(\lambda s)].$$

وبالنسبة لكمرات المعرضة لعزم انحناء مركز، شكل (٨-١٦-د) فإن الهبوط والدوران

والعزم والقص يتم تعيينهم من المعادلات:

$$[y(x); \theta(x); M(x); V(x)] = \frac{M_0}{B} \left[ \frac{\lambda^2}{k_s} B(\lambda x); \frac{\lambda^3}{k_s} C(\lambda x); \frac{B}{2} D(\lambda x); -\frac{\lambda B}{2} A(\lambda x) \right].$$

وفى هذه الحالة وعندما يكون العزم فى اتجاه عقرب الساعة فإن  $y(x)$  يكون موجه على

يمين النقطة تحت الاعتبار وتكون سالبة على الشمال،  $\theta(x)$  تكون موجبة على اليمين

والشمال، و  $M(x)$  يكون موجب على اليمين وسالب على الشمال، و  $Q(x)$  يكون سالب لكل

من الشمال واليمين، وتعكس الإشارات السابقة إذا كانت العزم ضد اتجاه عقرب الساعة.

وحل هينتى المذكور من السهل تحويله إلى برنامج على الكمبيوتر. ويعيب حل

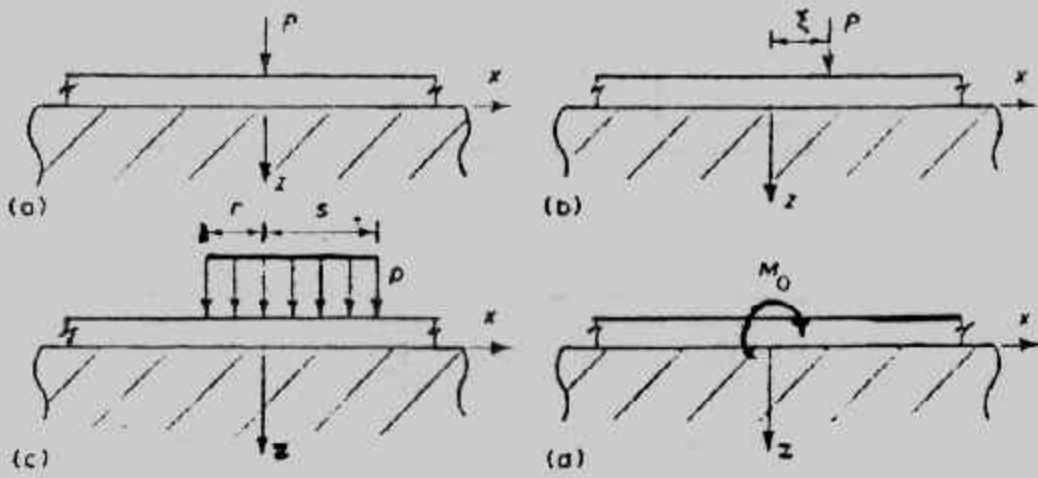
هنتى أنه يغفل وزن الكمرة ويصعب التحميل على الكمرة بأحمال متنوعة كما يصعب تغيير

صفات الأساس وتغيير معامل رد فعل التربة على طول الكمرة.

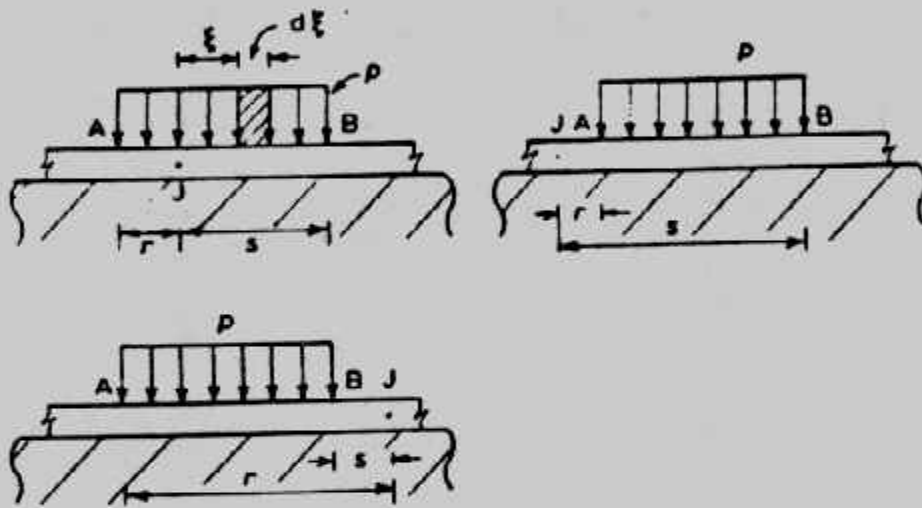
وفى حالة وجود أكثر من حمل على الكمرة فإنه يمكن استخدام مبدأ التجميع

(Superposition) أى حل الكمرة عدة مرات، كل مرة تحت تأثير حمل واحد ثم يتم تجميع

النتائج على الكمرة كما فى شكل (٨-١٨).



شكل (٨-١٦) الأحمال المختلفة على الكمرة.

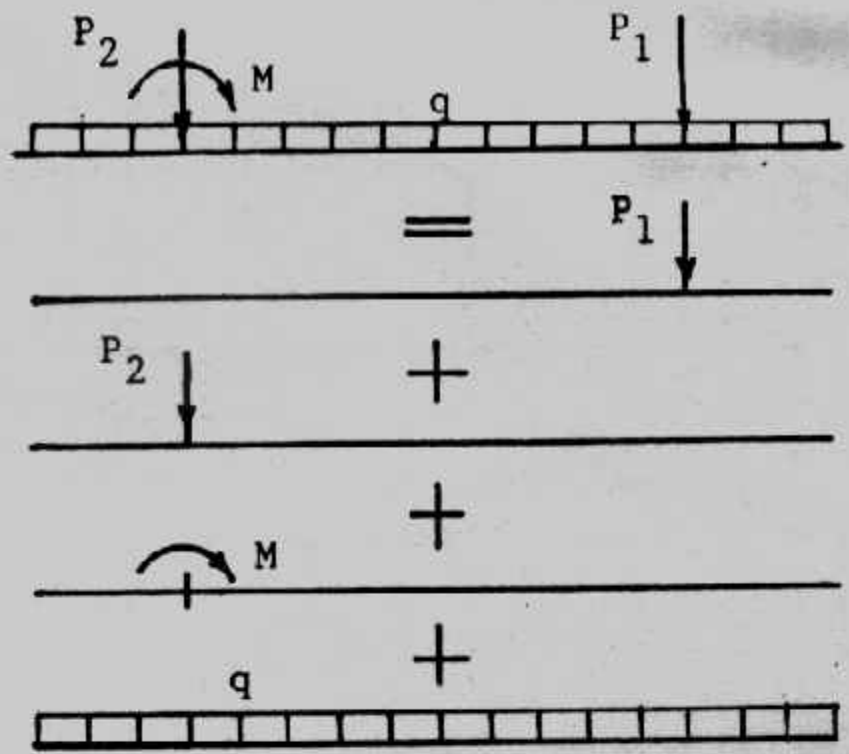


شكل (٨-١٧) حالة الحمل الموزع.

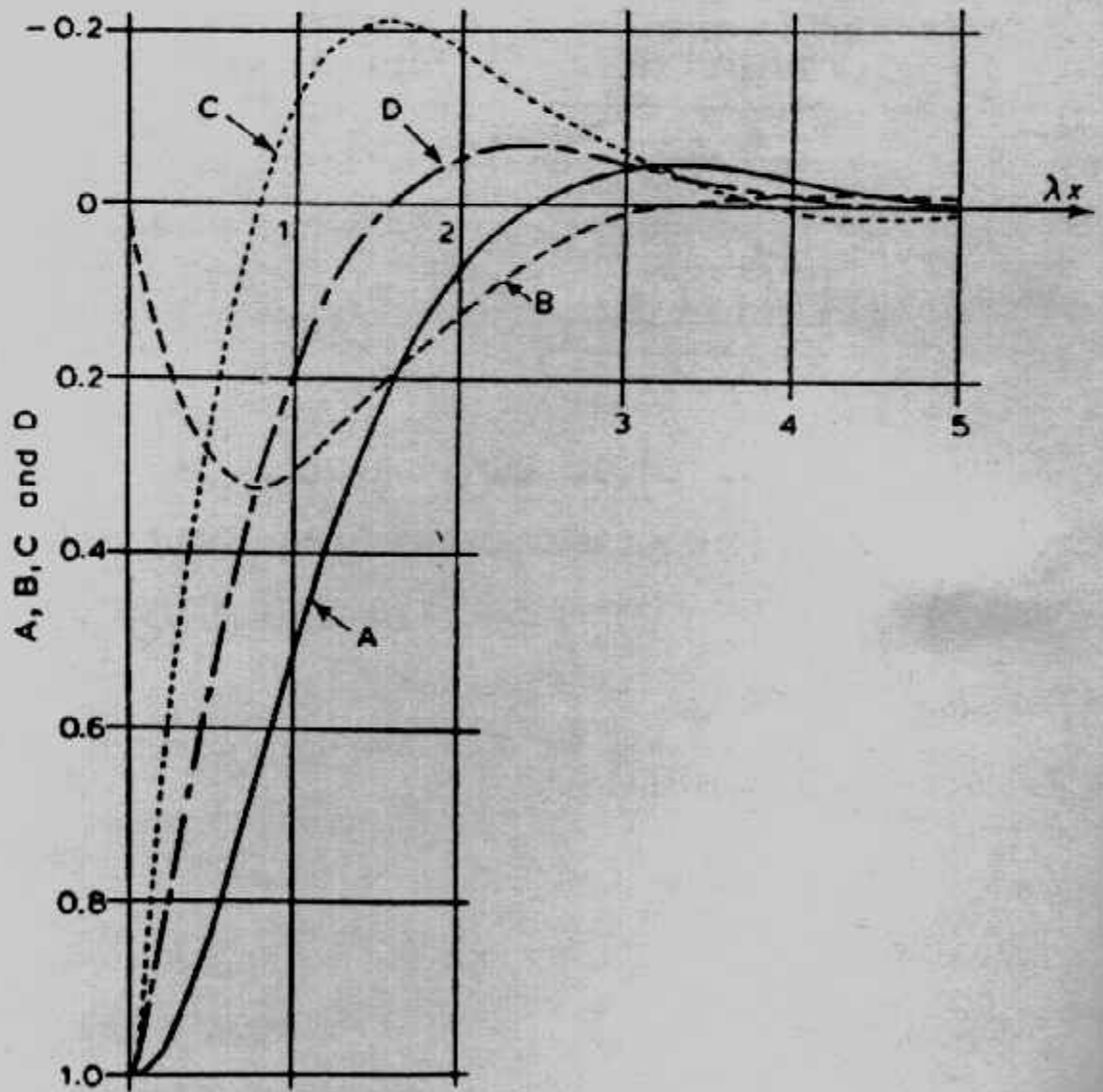
أما الثوابت الموجودة في العلاقات السابقة D, C, B, A فإنها تحسب من العلاقات الموجودة في جدول (٨-٥) أو تعين من الشكل (٨-١٩) أو تعين من جدول (٨-٦).

#### Example (8-1):

Solve the beam shown in Fig. (8-20) using Heteny solution,  $B = 3.048\text{m}$ ,  $k_s = 1.540 \text{ kN/m}^3$ ,  $E_c = 22408756 \text{ kN/m}^2$



شكل (٨-١٨) مبدأ التجميع في طريقة هيتنى.

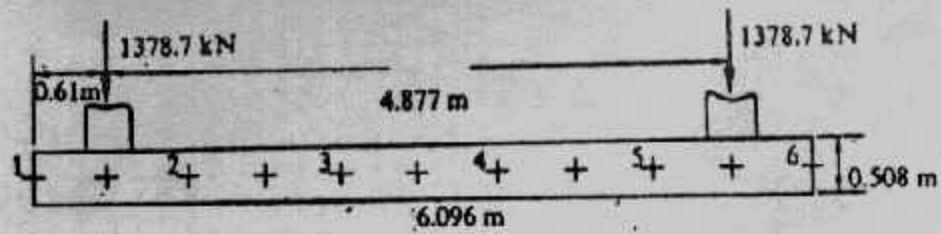


شكل (٨-١٩) منحنيات لتعيين الثوابت A, B, C, D

جدول (٦-٨) تعيين الثوابت A, B, C, D, E<sub>1</sub> and E<sub>2</sub>

Functions A, B, C, D, E<sub>1</sub> and E<sub>2</sub> for use with the Winkler model

$\lambda x$	A	B	C	D	E <sub>1</sub>	E <sub>2</sub>	$\lambda x$	A	B	C	D	E <sub>1</sub>	E <sub>2</sub>
0	1.0000	0	1.0000	1.0000	$\infty$	$\infty$	3.6	-0.0366	-0.0121	-0.0124	-0.0245	1.0256	0.9771
0.1	0.9907	0.0903	0.8100	0.9003	2.7634	1492.537	3.7	-0.0341	-0.0131	-0.0079	-0.0210	1.0276	0.9751
0.2	0.9651	0.1627	0.6398	0.8024	1.5265	233.645	3.8	-0.0314	-0.0137	-0.0040	-0.0177	1.0287	0.9738
0.3	0.9267	0.2189	0.4888	0.7077	1.1249	74.6826	3.9	-0.0286	-0.0140	-0.0008	-0.0147	1.0292	0.9732
0.4	0.8784	0.2610	0.3564	0.6174	0.9323	34.8797	4.0	-0.0258	-0.0139	0.0019	-0.0120	1.0290	0.9733
0.5	0.8231	0.2908	0.2415	0.5323	0.8239	19.7941	4.1	-0.0231	-0.0136	0.0040	-0.0095	1.0282	0.9738
0.6	0.7628	0.3099	0.1431	0.4530	0.7584	12.6566	4.2	-0.0204	-0.0131	0.0057	-0.0074	1.0271	0.9747
0.7	0.6997	0.3199	0.0599	0.3798	0.7178	8.8028	4.3	-0.0179	-0.0125	0.0070	-0.0054	1.0258	0.9758
0.8	0.6354	0.3223	-0.0093	0.3131	0.6931	6.5147	4.4	-0.0155	-0.0117	0.0079	-0.0038	1.0241	0.9773
0.9	0.5712	0.3185	-0.0657	0.2527	0.6795	5.0582	4.5	-0.0132	-0.0108	0.0085	-0.0023	1.0222	0.9790
1.0	0.5083	0.3096	-0.1108	0.1988	0.6739	4.0740	4.6	-0.0111	-0.0100	0.0089	-0.0011	1.0205	0.9805
1.1	0.4476	0.2967	-0.1457	0.1510	0.6745	3.3807	4.7	-0.0092	-0.0091	0.0090	+0.0001	1.0186	0.9822
1.2	0.3899	0.2807	-0.1716	0.1091	0.6800	2.8746	4.8	-0.0075	-0.0082	0.0089	0.0007	1.0167	0.9839
1.3	0.3355	0.2626	-0.1897	0.0729	0.6892	2.4967	4.9	-0.0059	-0.0073	0.0087	0.0014	1.0149	0.9857
1.4	0.2849	0.2430	-0.2011	0.0419	0.7017	2.2066	5.0	-0.0046	-0.0065	0.0084	0.0019	1.0132	0.9872
1.5	0.2384	0.2226	-0.2068	0.0158	0.7166	1.9802	5.1	-0.0033	-0.0057	0.0080	0.0023	1.0115	0.9889
1.6	0.1959	0.2018	-0.2077	-0.0059	0.7338	1.7997	5.2	-0.0023	-0.0049	0.0075	0.0026	1.0099	0.9903
1.7	0.1576	0.1812	-0.2047	-0.0235	0.7524	1.6550	5.3	-0.0014	-0.0042	0.0069	0.0028	1.0084	0.9918
1.8	0.1234	0.1610	-0.1985	-0.0376	0.7724	1.5369	5.4	-0.0006	-0.0035	0.0064	0.0029	1.0071	0.9931
1.9	0.0932	0.1415	-0.1899	-0.0484	0.7933	1.4396	5.5	0.0000	-0.0029	0.0058	0.0029	1.0059	0.9943
2.0	0.0667	0.1230	-0.1794	-0.0563	0.8145	1.3593	5.6	0.0005	-0.0023	0.0052	0.0029	1.0047	0.9953
2.1	0.0439	0.1057	-0.1675	-0.0618	0.8358	1.2927	5.7	0.0010	0.0018	0.0046	0.0028	1.0036	0.9964
2.2	0.0244	0.0895	-0.1548	-0.0652	0.8571	1.2365	5.8	0.0013	-0.0014	0.0041	0.0027	1.0028	0.9972
2.3	0.0080	0.0748	-0.1416	-0.0668	0.8775	1.1900	5.9	0.0015	-0.0010	0.0036	0.0026	1.0021	0.9979
2.4	-0.0056	0.0613	-0.1282	-0.0669	0.8974	1.1505	6.0	0.0017	-0.0007	0.0031	0.0024	1.0014	0.9986
2.5	-0.0166	0.0492	-0.1149	-0.0658	0.9160	1.1175	6.1	0.0018	-0.0004	0.0026	0.0022	1.0008	0.9992
2.6	-0.0254	0.0383	-0.1019	-0.0636	0.9336	1.0895	6.2	0.0019	-0.0002	0.0022	0.0020	1.0003	0.9997
2.7	-0.0320	0.0287	-0.0895	-0.0608	0.9498	1.0660	6.3	0.0019	+0.0001	0.0018	0.0018	0.9999	1.0001
2.8	-0.0369	0.0204	-0.0777	-0.0573	0.9642	1.0466	6.4	0.0018	0.0003	0.0015	0.0017	0.9997	1.0003
2.9	-0.0403	0.0132	-0.0666	-0.0534	0.9772	1.0303	6.5	0.0018	0.0004	0.0012	0.0015	0.9994	1.0005
3.0	-0.0423	0.0070	-0.0563	-0.0493	0.9883	1.0067	6.6	0.0017	0.0005	0.0009	0.0013	0.9992	1.0008
3.1	-0.0431	0.0019	-0.0469	-0.0450	0.9982	1.0059	6.7	0.0016	0.0006	0.0006	0.0011	0.9990	1.0010
3.2	-0.0431	-0.0024	-0.0383	-0.0407	1.0065	0.9969	6.8	0.0015	0.0006	0.0004	0.0010	0.9989	1.0011
3.3	-0.0422	-0.0058	-0.0306	-0.0364	1.0131	0.9899	6.9	0.0014	0.0006	0.0002	0.0008	0.9988	1.0012
3.4	-0.0408	-0.0085	-0.0237	-0.0323	1.0184	0.9844	7.0	0.0013	0.0006	0.0001	0.0007	0.9988	1.0012
3.5	-0.0389	-0.0106	-0.0177	-0.0283	1.0226	0.9801							



Note alternate coding and metric units

شكل (٢٠-٨) : مثال (١-٨) .

Solution :

$$I = 3.048 \times 0.5083 / 12 = 0.0332982 \text{ m}^4$$

$$\lambda = 4 \sqrt{\frac{k_s \cdot B}{4 IE}} = 4 \sqrt{\frac{7540.5 \times 3.048}{4 \times 0.033285 \times 22408736}} = 0.29623$$

يبين الجدول (٧-٨) الهبوط والعزم والقص على المسافات المختلفة على طول الكمرة وذلك بالنسبة للحمل  $P_1$  على مسافة :

$$0.61 / 6.096 = 0.1L$$

ويبين جدول (٨-٨) الهبوط والعزم والقص على المسافات المختلفة على طول الكمرة وذلك بالنسبة للحمل  $P_2$  على مسافة .

$$5.486 / 6.096 = 0.9L$$

أما جدول (٩-٨) فيبين نتائج تطبيق مبدأ التجميع للحالتين السابقتين وفيه نجد الهبوط والعزم والقص الكلي على الكمرة .

ويبين شكل (٢١-٨) القوى الداخلية والهبوط على طول الكمرة .

جدول (٧-٨) الهبوط والعزم والقص للحمل  $P_1$

BETA = 1.806 LAMBDA = 0.29623 COL DIST = 0.6096 M  
FIG LENGTH = 6.096 M FIG WIDTH = 3.0480 M FIG DEPTH = 0.5080 M  
SOIL MODULUS = 7540.50 KN/SQ M MOD ELAST = 22408736.0 KN/SQ M  
MOM OF INERTIA = 0.332985E-01 M \*\*4 COL LOAD = 1378.72 KN

DIST	LOAD AT 0.1 L	MOM	SHEAR
0.0	1.9793	0.0	0.0
0.1	1.6693	0.0612	0.3295
0.2	1.6693	0.0612	-0.6705
0.3	1.3586	-0.1299	-0.3972
0.4	1.0559	-0.2324	-0.1794
0.5	0.7680	-0.2659	-0.0149
0.6	0.4971	-0.2493	0.0990
0.7	0.2424	-0.2001	0.1656
0.8	0.0006	-0.1351	0.1873
0.9	-0.2324	-0.0700	0.1663
1.0	-0.4607	-0.0200	0.1037
1.0	-0.6876	-0.0000	0.0000



جدول (٨-٨) الهبوط والعزم والقص للحمل P2

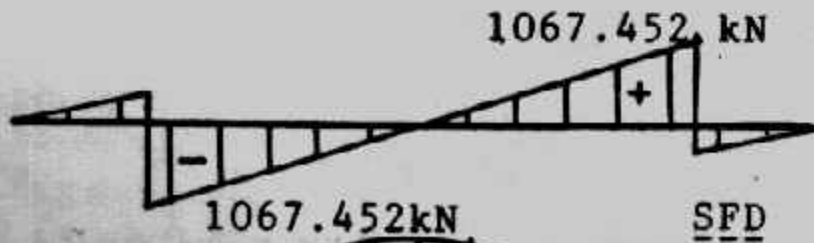

BETA = 1.806 LAMDA = 0.29623 COL DIST = 5.4860 M  
 FTG LENGTH = 6.096 M FTG WIDTH = 3.0480 M FTG DEPTH = 0.5080 M  
 SOIL MODULUS = 7540.50 KN/SQ M MOD ELAST = 22408736.0 KN/SQ M  
 MOM OF INERTIA = 0.332985E-01 M\*\*4 CCL LOAD = 1378.72 KN

DIST	LOAD AT 0.9 L	DEF	MOM	SHEAR
0.0		-0.6876	0.0	0.0
0.1		-0.4607	-0.0200	-0.1037
0.2		-0.2324	-0.0700	-0.1663
0.3		0.0006	-0.1351	-0.1873
0.4		0.2424	-0.2001	-0.1656
0.5		0.4971	-0.2493	-0.0990
0.6		0.7680	-0.2659	0.0149
0.7		1.0559	-0.2324	0.1794
0.8		1.3586	-0.1299	0.3972
0.9		1.6693	0.0612	0.6703
0.9		1.6693	0.0612	-0.3295
1.0		1.9793	-0.0000	-0.0000

جدول (٩-٨) تجميع الهبوط والعزم والقص

TOTAL DEFL, MOM AND SHEAR AT 0.1 PTS ARE:

DIST.M	DEF.M	MOM,KN-M	SHEAR,KN
0.0	0.023	0.0	0.0
0.6096	0.021	95.924	311.264
0.6096	0.021	95.922	-1067.451
1.2192	0.020	-465.200	-776.927
1.8288	0.019	-855.230	-505.608
2.4384	0.018	-1084.614	-248.887
3.0480	0.018	-1160.274	-0.000
3.6576	0.018	-1084.617	248.887
4.2672	0.019	-855.232	505.607
4.8768	0.020	-465.199	776.927
5.4864	0.021	95.921	1067.452
5.4864	0.021	95.926	-311.264
6.0960	0.023	-0.001	0.001




شكل (٨-٢١) القوى الداخلية والهبوط على الكمره



## طريقة الفروقات المحدودة The Finite Differences Method :

طريقة الفروقات المحدودة قدمها العالم مالتر Malter 1960 وسوف نعرضها هنا ليس لأنها سهلة التطبيق ولكن لأنها مناسبة لحل مسائل الأساسات وخاصة الأساسات المشتركة لأى عدد من الأعمدة واللبشة.

وفى هذه الطريقة توجد بعض التقريبات : الأول منها أن الكمرة beam التى تدرس تتكون من عدد من المقاطع المتساوية الطول . وهذا العدد من المقاطع يجب ألا يقل عن أربعة فى الكمرات العادية ولا يقل عن ثمانية فى كمرات الأساس . وكلما زاد عدد المقاطع كلما زادت الدقة . وننصح بعدد من المقاطع قدره عشرة أو أكثر للحصول على دقة مقبولة والشكل رقم (٨-٢٢) يبين كمرة مقسمة إلى أربعة أقسام متساوية والهبوط تحت النقط العقدية Nodal points ١، ٢، ٣، ٤، ٥ هى  $y_1, y_2, y_3, y_4, y_5$ .



شكل (٨-٢٢) كمرة بأربع أقسام

بأخذ النقطة العقدية الداخلية (2)

$$dy/dx \approx \Delta y / \Delta x = \frac{y_1 - y_2}{a} \quad \text{فى اتجاه 1-2}$$

$$dy/dx \approx \Delta y / \Delta x = \frac{y_2 - y_3}{a} \quad \text{فى اتجاه 2-3}$$

$$d^2y/dx^2 \approx \frac{\Delta^2 y}{\Delta x^2} = \frac{\Delta \left( \frac{\Delta y}{\Delta x} \right)}{\Delta x} \quad \text{أى أن :}$$

$$= \frac{1}{a} \left( \frac{y_1 - y_2}{a} - \frac{y_2 - y_3}{a} \right) = \frac{y_1 - 2y_2 + y_3}{a^2}$$

وعند النقط 3,4، يمكن استنتاج تعبيرات مماثلة . أما بالنسبة للنقط الخارجية 5,1

فيمكن تخيل وجود نقطة (0)، نقطة (6) خارج الكمرة (تقريب رياضى) وتعبير الفروقات المحدودة لنقطة (١) يأخذ الشكل الآتى :

$$\frac{y_0 - 2y_1 + y_2}{a^2}$$

والعلاقات بين عزم الانحناء والهبوط على طول الكمرة تعطى فى صورة المصفوفة:

$$\begin{bmatrix} M_1 \\ M_2 \\ M_3 \\ M_4 \\ M_5 \end{bmatrix} = -\frac{EI}{a^2} \begin{bmatrix} 1 & -2 & 1 & 0 & 0 & 0 & 0 \\ 0 & 1 & -2 & 1 & 0 & 0 & 0 \\ 0 & 0 & 1 & -2 & 1 & 0 & 0 \\ 0 & 0 & 1 & -2 & 1 & 0 & 0 \\ 0 & 0 & 0 & 1 & -2 & 1 & 0 \\ 0 & 0 & 0 & 0 & 1 & -2 & 1 \end{bmatrix} \begin{bmatrix} y_0 \\ y_1 \\ y_2 \\ y_3 \\ y_4 \\ y_5 \\ y_6 \end{bmatrix}$$

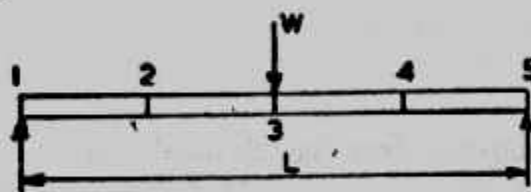
$y_6, y_5$  قيم تخيلية ولذا يجب أن تزال من المعادلة. وهذا يحدث من إزالة العمود الأول والأخير من المصفوفة.

$$\begin{bmatrix} M_1 \\ M_2 \\ M_3 \\ M_4 \\ M_5 \end{bmatrix} = -\frac{EI}{a^2} \begin{bmatrix} -2 & 1 & 0 & 0 & 0 \\ 1 & -2 & -1 & 0 & 0 \\ 0 & 1 & -2 & -1 & 0 \\ 0 & 0 & 1 & -2 & 1 \\ 0 & 0 & 0 & 1 & -2 \end{bmatrix} \begin{bmatrix} y_1 \\ y_2 \\ y_3 \\ y_4 \\ y_5 \end{bmatrix}$$

والأمثلة الآتية (٢-٨)، (٣-٨) توضح كيفية تطبيق طريقة الفروقات المحدودة لإيجاد الترحيم Deflection الأقصى لكمرة بسيطة الارتكاز ومعرضة لحمل مركزى فى منتصفها فى المثال (٢-٨) ولكمرة معرضة لعزم انحناء خارجى مركزى فى المثال (٣-٨).

#### Example (8-2):

A simply supported beam of uniform EI carries a central load W. Assuming the the beam is split into four equal sections determine an expression for the central deflection of the beam. Assume that supports 1 and 5 do not yield. The beam is illustrated in Fig. (8-23).



شكل (٢٣-٨) مثال (٢-٨)

The two reactions are equal to  $W/2$  and  $y_1 = y_5 = 0$

$$-M_2 = -\frac{W}{2} \times a = -\frac{Wa}{2} = EI \left[ \frac{y_1 - 2y_2 + y_3}{a^2} \right] \quad (1)$$

$$-M_3 = -\frac{W}{2} \times 2a = -Wa = EI \left[ \frac{y_2 - 2y_3 + y_4}{a^2} \right] \quad (2)$$

$$-M_4 = -\frac{W}{2} \times 3a \times Wa = -\frac{Wa}{2} = EI \left[ \frac{y_3 - 2y_4 + y_5}{a^2} \right] \quad (3)$$

But  $y_1 = y_5 = 0 \therefore$  equations can be rewritten :

$$-2y_2 + y_3 = -\frac{Wa^3}{2EI} \quad (1)$$

$$y_2 - 2y_3 + y_4 = -\frac{Wa^3}{EI} \quad (2)$$

$$y_3 + 2y_4 = -\frac{Wa^3}{2EI} \quad (3)$$

From (1),  $y_2 = \frac{Wa^3}{4EI} + \frac{y_3}{2}$  and from (3),  $y_4 = \frac{Wa^3}{2EI} + \frac{y_3}{2}$

Substituting in (2)  $\frac{Wa^3}{4EI} + \frac{y_3}{2} - 2y_3 + \frac{Wa^3}{2EI} + \frac{y_3}{2} = -\frac{Wa^3}{EI}$

i.e.  $y_3 = \frac{3Wa^3}{2EI}$

But  $a = L/4 \therefore y_3 = \frac{3}{128} \frac{Wa^3}{EI}$

Note : Theoretical solution is  $y_3 = \frac{Wa^3}{48EI}$

### Example (8-3):

A simply supported beam of uniform cross section has a span of 16m and is subjected to a clockwise moment of 16kNm at the point shown in Fig. (8-24).

Considering bending effects only determine an expression, by finite differences, for the deflection of the beam at the point of application of the moment. It can be assumed that the supports of the beam are unyielding.

First find the reactions at the supports and then determine the bending moment diagram.

Taking moments about the left hand support :

$$Q_5 \times 16 - 16 = 0 \quad \therefore Q_5 = 1 \text{ kN upwards.}$$

Taking moments about right hand support :

$$Q_1 \times 16 + 16 = 0 \quad \therefore Q_1 = 1 \text{ kN downwards.}$$

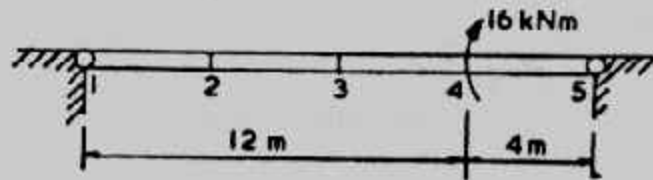
The bending moment diagram can now be obtained and values assigned to each nodal point :

$$M_2 = -4 \text{ kNm; } M_3 = -8 \text{ kNm; } M_4 = 1/2 (4-12) = -4 \text{ kNm}$$


$$-M_2 = 4 = EI \frac{y_1 - 2y_2 + y_3}{a^2} \quad (1)$$

$$-M_3 = 8 = EI \frac{y_2 - 2y_3 + y_4}{a^2} \quad (2)$$

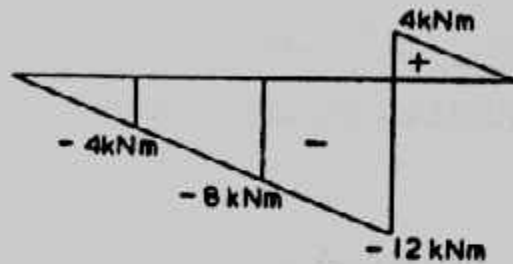
(A) Loading



(B) Reactions



(C) Bending Moment Diagram



شكل (٢٤-٨) مثال (٣-٨)

$$-M_4 = 4 = EI \frac{y_3 - 2y_4 + y_5}{a^2} \quad (3)$$

But  $y_1 = y_5 = 0$

$$\therefore \text{From (1)} \quad y_2 = \frac{2a^2}{EI} + \frac{y_3}{2}$$

$$\text{From (3)} \quad y_3 = \frac{4a^2}{EI} + 2y_4$$

Substituting in (2) for  $y_3$ :

$$-\frac{2a^2}{EI} + \frac{y_3}{2} - 2y_3 + y_4 = \frac{8a^2}{EI}$$

$$\therefore -\frac{2a^2}{EI} - \frac{3y_3}{2} + y_4 = \frac{8a^2}{EI}$$

and substituting for  $y_3$ :

$$-\frac{2a^2}{EI} - \frac{3}{2} \times \frac{4a^2}{EI} - \frac{3 \times 2y_4}{2} + y_4 = \frac{8a^2}{EI}$$

$$\therefore y_4 = -\frac{8a^2}{EI} - \frac{8 \times 4^2}{EI} = -\frac{128}{EI} \text{ (an upward deflection)}$$

طرق تصميم الأساسات المشتركة بطريقة الفروق المحدودة :

توجد ثلاث مداخل مختلفة لتصميم الأساسات المشتركة وهي :

١- طريقة الجساءة Conventional Method or Rigid Method

وفروض هذه النظرية هي :

أ - الأساس يفترض أنه جاسئ تماما وهبوطه لا يؤثر في ضغط التماس .

ب- ضغط التماس منتظم التوزيع أو ذو توزيع خطي .

٢- طريقة الأساس المرن والأرضية بسيطة المرونة (شكل ٨-٢٥) Elastic foundation

with a simplified elastic subgrade يفترض في هذه الطريقة أن التربة تعمل كإيادات

Springs على أبعاد متساوية وكل منها يعمل بمفرده دون ارتباط بالآخرين ويعبر عن

الأساس بـ  $IE$  .

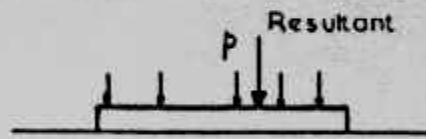
٣- طريقة الأساس وما تحت الأساس (الأرضية) مرنين Elastic foundation and subgrade

يعبر عن جساءة الأساس أيضا بـ  $IE$  وتربة التأسيس تعرض على أنها كاملة المرونة

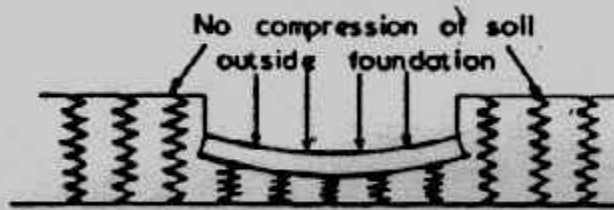
Fully elastic وخاضعة لقانون هوك Hook's law في جميع الاتجاهات شكل (٨-٢٥) .

وطريقة الجساءة تتم بكمية أقل من الحسابات عن الطريقتين الأخرتين اللتين تحتاجان

إلى أساليب وطرق عديدة .



(A) Rigid Method



(B) Elastic Beam and simplified (Winkler) elastic subgrade



(C) Full elasticity

شكل (٨-٢٥) : فروض التصميم للأساسات المشتركة .



استخدام أسلوب الفروقات المحدودة لتطبيق طريقة الأساس المرن وما تحت

الأساس بسيط المرنة : Elastic foundation with a simplified elastic subgrade

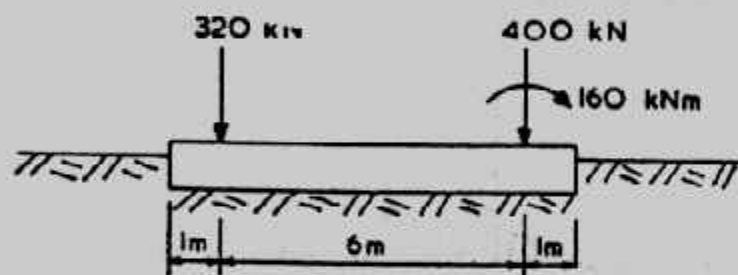
يستخدم تكنيك الفروقات المحدودة لتطبيق طريقة الأساس المرن والأرضية بسيطة

المرنة وسوف نقدم طريقة الحل في المثالي التالي مع حله أيضا بالطريقة التقليدية لتوضيح الفروق في النتائج.

#### Example (8-4):

Assume that fig. (8-26) represents a typical foundation beam subjected to the loading shown and that it is required to obtain the bending moment and shear force diagrams for the beam. The subgrade can be assumed to be a stiff clay.

So that the values obtained from each method can be compared it will be assumed that the beam is of reinforced concrete and has a constant cross section of 500 mm deep by 700 mm wide. The beam carries a uniform load, including its own weight, of 16 kN/m run.



شكل (٨-٢٦) : مثال (٨-٤)

#### (a) Solution by rigid method :

The procedure is as follows :

Determine  $R_v$ , the resultant vertical force of the applied loading

Determine  $e$ , the eccentricity of  $R_v$  about the centre line of the foundation.

Determine maximum and minimum bearing pressures from standard formulae

Determine shear force and bending moment values.

$$R_v = 400 + 320 + 16 \times 8 = 848 \text{ kN.}$$

Taking moments about left hand edge of beam :

$$R_v X = 16 \times \frac{8^2}{2} + 320 \times 1 + 400 \times 7 + 160$$

Where  $x$  : distance of  $R_v$  from left hand edge

$$\therefore x = \frac{3792}{848} = 4.472 \text{ m}$$

$$= 4.472 \text{ m}$$

and  $R_v$  acts at  $e = 0.472 \text{ m}$  to the right of the centre line of the foundation. the maximum and minimum bearing pressures can be obtained from standard formulae available in most soils text books.

In this case with is within the middle third and

$$q_{\max}^{\min} = \frac{R_v}{L} \left( 1 \pm \frac{6e}{L} \right) \times \frac{1}{B}$$

$$= \frac{848}{8} \left( 1 \pm \frac{6 \times 0.472}{8} \right) \times \frac{1}{0.7}$$

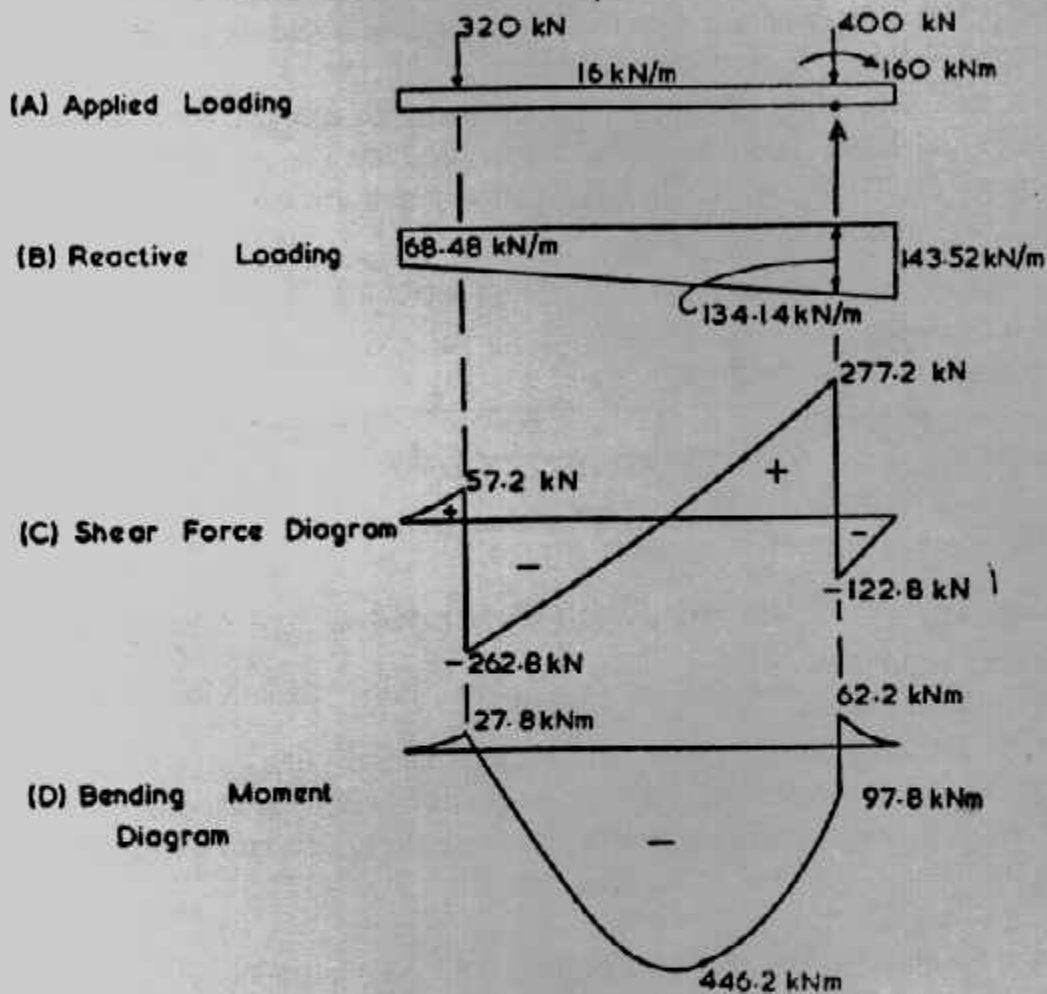


$$= 205.02 \text{ and } 97.83 \text{ kN/m}^2$$

In order to draw the shear force diagram it is best to think of  $q$ , not as a pressure, but as a uniformly varying load beneath the foundation. Maximum upward force =  $0.7 \times 205.02 = 143.52 \text{ kN/m}$ .

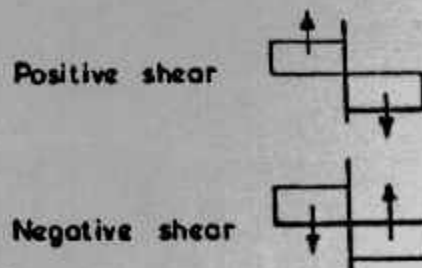
Minimum upward force =  $0.7 \times 97.83 = 68.48 \text{ kN/m}$ .

The P and Q<sup>u</sup> force system, the downward and upward reactive forces at relevant sections along the beam, can now be evaluated and the bending moment and shear force diagrams obtained (Fig. 8-27).



شكل (٨-٢٧) : الحل التقليدي •

The calculations are straightforward and only typical ones will be shown. Shear force-conventions is :



Shear force at point A :

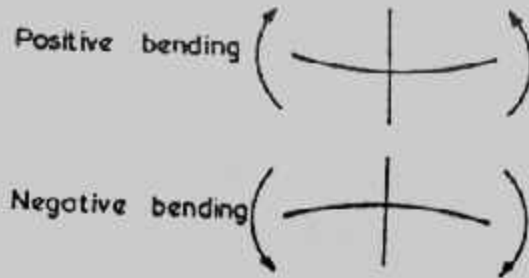
Considering forces to the right of A (i.e. without the 400 kN load)

$$F = - \frac{(143.52 + 134.14)}{2} \times 1.0 + 16 \times 1.0 = - 122.83 \text{ kN}$$

Considering forces the left of A (i.e. with the 400 kN load)

$$F = 400 - 122.83 = 277.17 \text{ kN.}$$

Bending moment-convention is



Bending moment at A :

Considering forces to the right of A (i.e. without the 160 kNm moment).

$$M = 134.1 \times \frac{1}{2} + \frac{9.38}{2} \times \frac{2}{3} - 16 \times \frac{1}{2} = 62.2 \text{ kNm}$$

Considering the effect of the 160 kNm moment will give

$$M = 62.2 - 160 = -97.8 \text{ kNm.}$$

Various points along the beam can be selected for evaluation of bending moments and the resulting diagram is as shown in Fig. (8-27) Maximum bending moment is 446 kNm.

(b) Solution by elastic foundation with a simplified elastic subgrade :

Depth of beam = 500 mm

Width of beam = 700 mm

The following properties will be assumed :

Modulus of elasticity for concrete,  $E_c = 20000 \text{ MN/m}^2$

Modulus of subgrade reaction,  $K_{s_1} = 30 \text{ MN/m}^3$

للحصول على دقة معقولة يقسم الأساس إلى ثمانية مقاطع متساوية الطول يتسع نقط عقدية. ولكننا هنا ولتوضيح التكنيك والطريقة المستخدمة سوف نقسم الأساس إلى أربعة مقاطع

وخمسة نقاط كما في شكل (A-28-8) وبذلك يكون طول كل مقطع  $a = 2\text{m}$

وعند الخمسة نقاط العقدية نفرض أن الهبوط deflections هو  $y_1, y_2, y_3, y_4, y_5$  ويكون ضغط

التماس هو :

$$q = k_s y$$

$$q_1 = k_s y_1$$

كما يجب تعيين  $k_s$  من  $k_{s_1}$  للطين الصلب stiff clay

There are five nodal points; let their deflections be  $y_1, y_2, y_3, y_4$  and  $y_5$ .

Then  $q_1 = k_s y_1$ ;  $q_2 = k_s y_2$ ...etc.

For a stiff clay  $k_s = (k_{s_1}/b) \times 0.305 = 20/0.7 \times 0.305 = 12 \text{ MN/m}^3$

Moment of inertia of beam =  $(1/12) BD^3$

$$EI = 20000 (1/12) 0.7(0.5)^3 = 145.75 \text{ Mnm}^2.$$

Assume that the contact pressures act as concentrated upward reactive forces,  $Q_1, Q_2, Q_3, Q_4$  and  $Q_5$  at the nodal points 1, 2, 3, 4, and 5.

$$Q_1 = q_1 \times \text{area} = q_1 \times a/2 \times B = k_s y_1 a/2 B$$

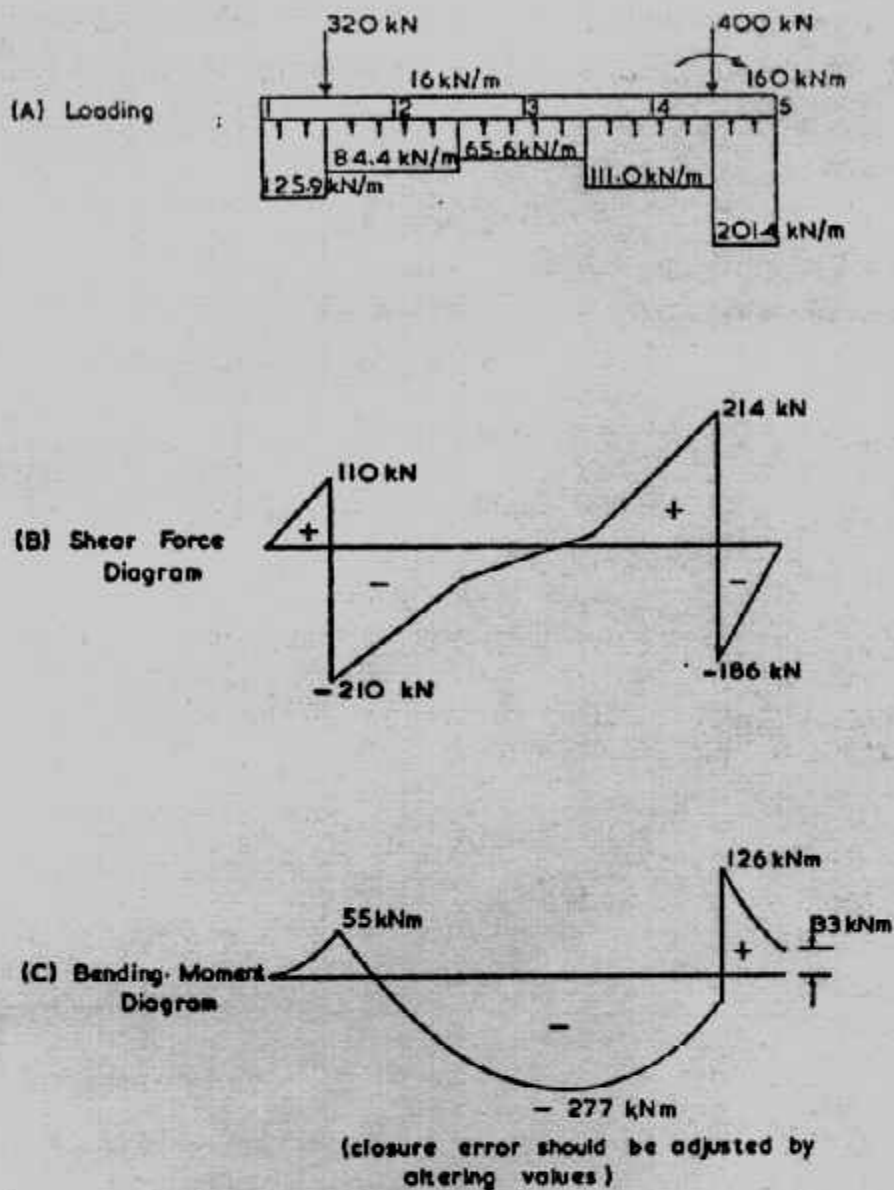
$$= 12 (2/2) 0.7 \times y_1 = 9.1 y_1$$

Similarly,  $Q_2 = 18.2 y_2$ ...etc.

There is no applied moment at either end of the beam so it can be assumed that points 1 and 5 are not fixed and that  $M_1 = M_5 = 0$ .

Expressions for  $M_2, M_3$  and  $M_4$  can be evaluated :

$$M_2 = Q_1 \times 2 - 320 \times 1 - 16 \times 22/2 = 18.2 y_1 - 352 \quad (1)$$



شكل (٨-٢٨) طريقة الأساس وما تحته بسيط المرونة (٤ شرائح).

$$M_3 = 26.4 y_1 + 36.4 y_2 - 1088 \quad (2)$$

$$M_4 = 54.6 y_1 + 72.8 y_2 + 36.4 y_3 - 1888 \quad (3)$$

we know that  $-M = EI \frac{d^2 y}{dx^2}$

$$\text{and, from Appendix III : } \frac{d^2 y}{dx^2} = \frac{y_1 - 2y_2 + y_3}{a^2}$$

hence, equation 1 may be rewritten as :

$$-18.2 y_1 = \frac{145.750}{4} (y_1 - 2y_2 + y_3)$$

$$\text{i.e. } 1.5 y_1 - 2y_2 + y_3 = 0.66 \quad (1)$$

Similarly for equations 2 and 3 :

$$1.0 y_1 + 2.0 y_2 - 2y_3 + y_4 = 29.86 \quad (2)$$

$$1.5 y_1 + 2.0 y_2 + 2.0 y_3 - 2.0 y_4 + 1.0 y_5 = 51.81 \quad (3)$$

(Note that EI is expressed as 145.750 Mnm<sup>2</sup> so that they values will be in millimeters).

There are five unknowns ( $y_1$  to  $y_5$ ) so two further simultaneous equations are required. These can be obtained by equating  $M_1$  (or  $M_5$ ) to zero and equating  $\Sigma R$  to zero.

$\Sigma M_5 = 0$  gives

$$72.8 y_1 + 109.2 y_2 + 72.8 y_3 + 26.4 y_4 = 2992 \quad (4)$$

$$9.1 y_1 + 18.2 y_2 + 18.2 y_3 + 18.2 y_4 + 9.1 y_5 = 848 \quad (5)$$

Expressing in matrix form :

$$\begin{bmatrix} 1.5 & -2 & 1 & 0 & 0 \\ 1.0 & 2 & -2 & 1 & 0 \\ 1.5 & 2 & 2 & -2 & 1 \\ 72.8 & 109.2 & 72.8 & 36.4 & 0 \\ 9.1 & 18.2 & 18.2 & 18.2 & 9.1 \end{bmatrix} \begin{bmatrix} y_1 \\ y_2 \\ y_3 \\ y_4 \\ y_5 \end{bmatrix} = \begin{bmatrix} 9.66 \\ 29.86 \\ 51.81 \\ 2992.0 \\ 848.0 \end{bmatrix}$$

By inverting the matrix we obtain :

$$\begin{bmatrix} 0.3687 & 0.2581 & 0.0829 & 0.0020 & -0.0091 \\ -0.2396 & 0.0323 & 0.0461 & 0.0042 & -0.0051 \\ -0.0323 & -0.3226 & -0.0323 & 0.0053 & 0.0035 \\ 0.0461 & 0.0323 & -0.2396 & 0.0003 & 0.0263 \\ 0.0829 & 0.2581 & 0.3687 & -0.0215 & 0.0694 \end{bmatrix} \begin{bmatrix} 9.66 \\ 29.86 \\ 51.81 \\ 2992 \\ 848 \end{bmatrix} = \begin{bmatrix} y_1 \\ y_2 \\ y_3 \\ y_4 \\ y_5 \end{bmatrix}$$

Note : To reduce rounding off errors it is important to work to at least four decimal places in the inverse matrix.

Multiplying out leads to :

Deflection (mm)	Q values (kN)	q values (kN/m <sup>2</sup> )	Corresponding reactive forces/m length of beam
$y_1 = 13.8$	$Q_1 = 125.9$	$q_1 = 179.8$	125.9
$y_2 = 9.3$	$Q_2 = 168.9$	$q_2 = 120.6$	84.4
$y_3 = 7.2$	$Q_3 = 131.2$	$q_3 = 93.7$	65.6
$y_4 = 12.2$	$Q_4 = 222.0$	$q_4 = 158.6$	111.0
$y_5 = 22.1$	$Q_5 = 201.4$	$q_5 = 287.7$	201.4

Check  $\Sigma = 849.4$  (Round off error = 1.4)

ولتعيين العزوم والقوى فمن الأفضل استخدام ضغط التماس  $q$  ويفضل ضرب قيم ضغط التماس في العرض  $0.7\text{m}$  ليعطى رد فعل كحمل بالكيلو نيوتن لكل متر طولى من طول الأساس.

ولزيادة الدقة فى الحل نعيد حل المثال مرة أخرى بتقسيم كمره الأساس إلى ثمان مقاطع متساوية الطول لتسع نقاط.

and  $Q_2 = 9.1 y_2$  etc. The expressions for the bending moments  $M_2$  to  $M_6$  are :

$$M_2 = 4.55 y_1 - 8$$

$$M_3 = 9.1 y_1 + 9.1 y_2 - 352$$

$$M_4 = 13.65 y_1 + 18.2 y_2 + 9.1 y_3 - 712$$

$$M_5 = 18.2 y_1 + 27.3 y_2 + 18.2 y_3 + 9.1 y_4 - 1088$$

$$M_6 = 22.75 y_1 + 36.4 y_2 + 27.3 y_3 + 18.2 y_4 + 9.1 y_5 - 1480$$

$$M_7 = 27.3 y_1 + 45.5 y_2 + 36.4 y_3 + 27.3 y_4 + 18.2 y_5 + 9.1 y_6 - 1888$$

$$M_8 = 31.85 y_1 + 54.6 y_2 + 45.5 y_3 + 36.4 y_4 + 27.3 y_5 + 18.2 y_6 + 9.1 y_7 - 2232$$



Note.  $M_8$  is taken to be the average of the two moment values that occur at point 8 when the applied moment of 160 kNm is allowed for, i.e. when calculating  $M_8$  either take moments of all the forces to the left of point 8 and add 160/2 kNm or take moments of all forces to the right of point 8 and subtract 160/2 kNm.

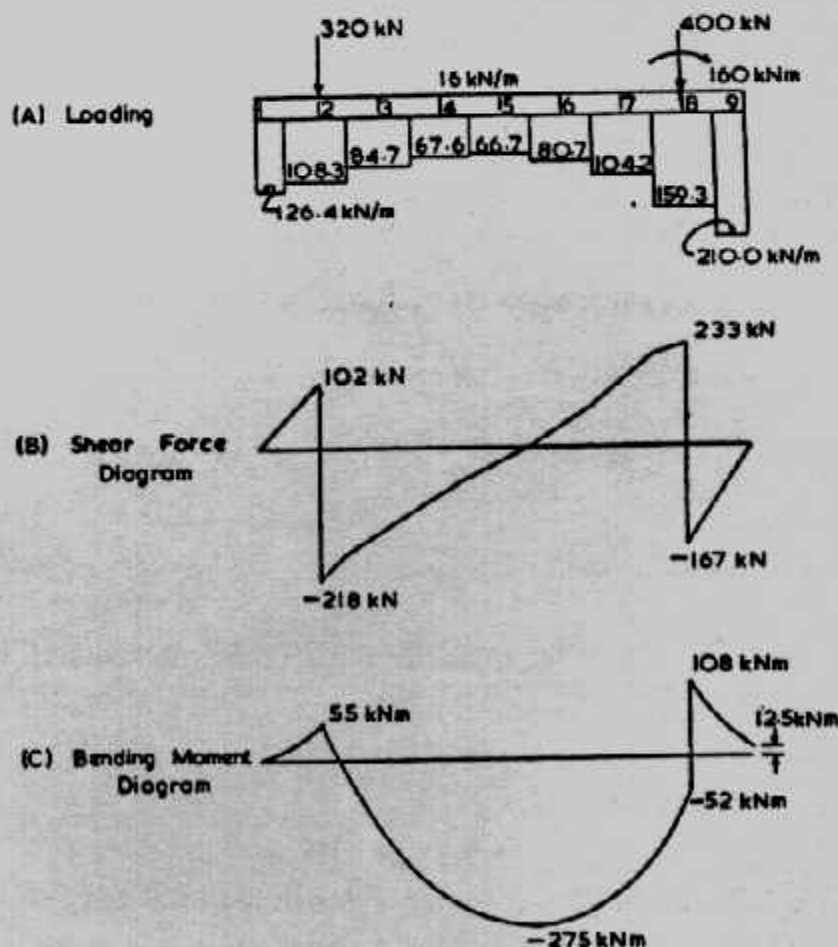
The remaining two required simultaneous equations are obtained from  $M_9 = 0$  and  $\Sigma R = 0$ . The final matrix form of the equations is:

$$\begin{bmatrix} 1.0312 & -2.0 & 1.0 & 0 & 0 & 0 & 0 & 0 & 0 & 0 \\ 0.0624 & 1.0624 & -2.0 & 1.0 & 0 & 0 & 0 & 0 & 0 & 0 \\ 0.0937 & 0.1249 & 1.0624 & -2.0 & 1.0 & 0 & 0 & 0 & 0 & 0 \\ 0.1249 & 0.1873 & 0.1249 & 1.0624 & -2.0 & 1.0 & 0 & 0 & 0 & 0 \\ 0.1561 & 0.2497 & 0.1873 & 0.1249 & 1.0624 & -2.0 & 1.0 & 0 & 0 & 0 \\ 0.1873 & 0.3122 & 0.2497 & 0.1873 & 0.1249 & 1.0624 & -2.0 & 1.0 & 0 & 0 \\ 0.2185 & 0.3746 & 0.3122 & 0.2497 & 0.1873 & 0.1249 & 1.0624 & -2.0 & 1.0 & 0 \\ 36.4 & 63.7 & 54.6 & 45.5 & 36.4 & 27.3 & 18.2 & 9.1 & 0 & 0 \\ 4.55 & 9.1 & 9.1 & 9.1 & 9.1 & 9.1 & 9.1 & 9.1 & 4.55 & 0 \end{bmatrix} \begin{bmatrix} y_1 \\ y_2 \\ y_3 \\ y_4 \\ y_5 \\ y_6 \\ y_7 \\ y_8 \\ y_9 \\ y_v \end{bmatrix} = \begin{bmatrix} 0.0549 \\ 2.4151 \\ 4.8851 \\ 7.4648 \\ 10.1544 \\ 12.9537 \\ 15.8628 \\ 2992.0 \\ 848.0 \end{bmatrix}$$

The inversion of the matrix leads to:

$$\begin{bmatrix} 0.6533 & 0.8486 & 0.7806 & 0.5909 & 0.3724 & 0.1812 & 0.0499 & 0.0020 & -0.0110 \\ -0.2290 & 0.1784 & 0.3310 & 0.3263 & 0.2412 & 0.1322 & 0.0407 & 0.0034 & -0.0089 \\ -0.1317 & -0.5182 & -0.1429 & 0.0433 & 0.0983 & 0.0775 & 0.0300 & 0.0047 & -0.0066 \\ -0.0608 & -0.2790 & -0.6862 & -0.2970 & -0.0828 & 0.0033 & 0.0136 & 0.0056 & -0.0030 \\ -0.0144 & -0.1092 & -0.3351 & -0.7361 & -0.3351 & -0.1092 & -0.0144 & 0.0057 & 0.0032 \\ 0.0136 & 0.0033 & -0.0828 & -0.2970 & -0.6863 & -0.2790 & -0.0608 & 0.0039 & 0.0134 \\ 0.0300 & 0.0775 & 0.0983 & 0.0433 & -0.1429 & -0.5182 & -0.1317 & -0.0009 & 0.0289 \\ 0.0407 & 0.1322 & 0.2412 & 0.3263 & 0.3310 & 0.1785 & -0.2290 & -0.0104 & 0.0503 \\ 0.0499 & 0.1811 & 0.3724 & 0.5909 & 0.7806 & 0.8486 & 0.6533 & -0.0259 & 0.0762 \end{bmatrix} \begin{bmatrix} 0.0549 \\ 2.4151 \\ 4.8851 \\ 7.4648 \\ 10.1544 \\ 12.9537 \\ 15.8628 \\ 2992 \\ 848 \end{bmatrix} = \begin{bmatrix} y_1 \\ y_2 \\ y_3 \\ y_4 \\ y_5 \\ y_6 \\ y_7 \\ y_8 \\ y_9 \end{bmatrix}$$

Note: The calculations should be worked through using four figures of decimals. This involves little extra effort when using a calculator and considerably reduces the closure errors in the bending moment and shear force diagrams. After the final values have been evaluated they can then be rounded off.



شكل (٨-٢٩): الحل بطريقة الأساس المرن وما تحته بسيط المرونة (٨ شرائح).

استخدام الفروقات المحدودة للحل بطريقة "الأساس وما تحت مرنان" :

### Solution by the Elastic Foundation and Subgrade Method

في هذه الطريقة تعتبر طبقة ما تحت الأساس تامة المرونة بدرجة أكبر من تلك التي افترضها وينكلر Winkler وهذا الفرض معقول للصخور والطين المشبع وتقريبى لباقي أنواع التربة وتحتوى هذه الطريقة على مشكلة أخرى ألا وهى تعيين معامل مرونة التربة  $E_s$  ونسبة بواسن .

وبافتراض الحمل المركز P يؤثر على سطح طبقة شبه لا نهاية المرونة وطبقاً لبوزينسك Boussinesq (شكل ٨-٣٠) فإن الإزاحة الرأسية تعطى كما يلي :

$$y = \frac{P(1 - \mu^2)}{\pi r E_s}$$

where  $\mu$  = Poisson's ratio  
 $E_s$  = modulus of elasticity of the subgrade  
 $r$  = radial distance from P to the point considered

والتعبير السابق عادة ما يكتب على صورة

$$y = \frac{JP}{E_s r}$$



شكل (٨-٣٠) مبدأ بوزينسك

Where J is a dimensionless number equal to  $\frac{1 - \mu^2}{E_s}$

وتتراوح قيمة J بين 0.3151، 0.2387 لقيم بواسن بين 0.1، 0.5 وتختل المعادلة السابقة إذا

كانت  $r = 0$  ولذا فيفترض أن P تؤثر على التربة من خلال لوح Plate مربع أبعاده B x B

ولذلك فيحسب الهبوط deflection تحت الحمل مباشرة بالمعادلة :  $y_p = \frac{3PJ}{E_s B}$

وباستخدام مبدأ التجزئ والتجميع يمكن تعيين سطح الإزاحة تحت مساحة التحميل إذا كانت

هذه المساحة ممكنة التقسيم إلى مقاطع مناسبة والحمل يفرض أنه مركز على كل مقطع فى

مركزه Q، وتصبح المعادلات كالتى :

$$y = \frac{QJ}{E_s r} \quad \text{and} \quad y_p = \frac{3QJ}{E_s B}$$

وباستخدام تكتيك الفروقات المحدودة نقسم الكمرة إلى عدد من المقاطع المتساوية الطول a،

ويمكن تقديم علاقات الهبوط فى صورة المصفوفات كمايلي :



$$\begin{bmatrix} y_1 \\ y_2 \\ y_3 \\ \vdots \\ y_n \end{bmatrix} = \frac{J}{BE_s} \begin{bmatrix} 3 & 1 \times \frac{B}{a} & \frac{1}{2} \times \frac{B}{a} & \frac{1}{3} \times \frac{B}{a} & \frac{1}{4} \times \frac{B}{a} & \dots \\ 1 \times \frac{B}{a} & 3 & 1 \times \frac{B}{a} & \frac{1}{2} \times \frac{B}{a} & \frac{1}{3} \times \frac{B}{a} & \dots \\ \frac{1}{2} \times \frac{B}{a} & 1 \times \frac{B}{a} & 3 & 1 \times \frac{B}{a} & \frac{1}{2} \times \frac{B}{a} & \dots \\ \vdots & \vdots & \vdots & \vdots & \vdots & \ddots \\ \vdots & \vdots & \vdots & \vdots & \vdots & \ddots \end{bmatrix} \begin{bmatrix} Q_1 \\ Q_2 \\ Q_3 \\ \vdots \\ Q_n \end{bmatrix}$$

وعلى فرض أن الكمرية تقسم إلى أربعة مقاطع متساوية فإن تأثير  $Q_1$  يكون :

$$\text{Settlement at point 1, due to } Q_1 = \frac{3Q_1 J}{E_s B}$$

$$\text{Settlement at point 2, due to } Q_1 = \frac{Q_1 J}{E_s r}$$

$$\text{Where } r = \text{distance from } Q_1 = a = a \times \frac{B}{B}$$

$$\text{Hence, settlement at point 2, due to } Q_1 = \frac{Q_1 J}{E_s B} \times 1 \times \frac{B}{a}$$

$$\text{Settlement at point 3, due to } Q_1 = \frac{Q_1 J}{E_s r} = \frac{Q_1 J}{E_s 2a} = \frac{Q_1 J}{E_s B} \times \frac{1}{2} \times \frac{B}{a}$$

حينئذ والقيمة  $y_1$  فإن صف المصفوفة يصبح :

$$\begin{bmatrix} 3 & 1 \times \frac{B}{a} & \frac{1}{2} \times \frac{B}{a} & \frac{1}{3} \times \frac{B}{a} & \dots \end{bmatrix}$$

وبضرب المصفوفة في قيمة ثابتة  $J/BE_s$  وعلى اعتبار شكل التحميل المبين في شكل

(٨-٣١) فإن عزوم الانحناء عند كل نقطة تحسب كما يلي :

$$M_1 = 0$$

$$M_2 = 2Q_1 - 352$$

$$M_3 = 4Q_1 + 2Q_2 - 1088$$

$$M_4 = 6Q_1 + 4Q_2 + 2Q_3 - 1888$$

$$M_5 = 0$$

ومن العلاقة

$$M = -EI (d^2y / dx^2)$$

فإن قيم العزوم تأخذ المصفوفة

$$\begin{bmatrix} M_1 \\ M_2 \\ M_3 \\ M_4 \\ M_5 \end{bmatrix} = -\frac{EI}{a^3} \begin{bmatrix} -2 & 1 & 0 & 0 & 0 \\ 1 & -2 & 1 & 0 & 0 \\ 0 & 1 & -2 & 1 & 0 \\ 0 & 0 & 1 & -2 & 1 \\ 0 & 0 & 0 & 1 & -2 \end{bmatrix} \begin{bmatrix} y_1 \\ y_2 \\ y_3 \\ y_4 \\ y_5 \end{bmatrix}, \quad \frac{EI}{a^3} = \frac{145.75}{4}$$

وحيث كل من  $M_5, M_1$  تساوى صفراً فإنها تزال من المعادلات، أي يحذف الصف الأول والأخير من المصفوفة وتصبح :

$$\begin{bmatrix} M_2 \\ M_3 \\ M_4 \end{bmatrix} = -\frac{145.75}{4} \begin{bmatrix} 1 & -2 & 1 & 0 & 0 \\ 0 & 1 & -2 & 1 & 0 \\ 0 & 0 & 1 & -2 & 1 \end{bmatrix} \begin{bmatrix} y_1 \\ y_2 \\ y_3 \\ y_4 \\ y_5 \end{bmatrix} \quad (A)$$

وبفرض أن  $E_s = 20 \text{ MN/m}^2$  ،  $\mu = 0.5$

$$J = 0.2387$$

$$a = 2 \text{ m} \quad \text{وبوضع } B = 0.7 \text{ m}$$

فإن المصفوفة التي تربط  $Q, y$  تصبح :

$$\begin{bmatrix} y_1 \\ y_2 \\ y_3 \\ y_4 \\ y_5 \end{bmatrix} = \frac{0.2387}{20000 \times 0.7} \begin{bmatrix} 3 & 0.35 & 0.175 & 0.1167 & 0.0875 \\ 0.35 & 3 & 0.35 & 0.175 & 0.1167 \\ 0.175 & 0.35 & 3 & 0.35 & 0.175 \\ 0.1167 & 0.175 & 0.35 & 3 & 0.35 \\ 0.0875 & 0.1167 & 0.175 & 0.35 & 3 \end{bmatrix} \begin{bmatrix} Q_1 \\ Q_2 \\ Q_3 \\ Q_4 \\ Q_5 \end{bmatrix}$$

وبالتعويض عن  $y$  في المعادلة (A)

$$\begin{bmatrix} M_2 \\ M_3 \\ M_4 \end{bmatrix} = -\frac{0.2387 \times 145.75}{20 \times 0.7 \times 4} \begin{bmatrix} 1 & -2 & 1 & 0 & 0 \\ 0 & 1 & -2 & 1 & 0 \\ 0 & 0 & 1 & -2 & 1 \end{bmatrix} \cdot \begin{bmatrix} 3 & 0.35 & 0.175 & 0.1167 & 0.0875 \\ 0.35 & 3 & 0.35 & 0.175 & 0.1167 \\ 0.175 & 0.35 & 3 & 0.35 & 0.175 \\ 0.1167 & 0.175 & 0.35 & 3 & 0.35 \\ 0.0875 & 0.1167 & 0.175 & 0.35 & 3 \end{bmatrix} \begin{bmatrix} Q_1 \\ Q_2 \\ Q_3 \\ Q_4 \\ Q_5 \end{bmatrix}$$

$$\begin{bmatrix} M_2 \\ M_3 \\ M_4 \end{bmatrix} = -0.6213 \begin{bmatrix} 2.475 & -5.3 & 2.475 & 0.1167 & 0.0291 \\ 0.1167 & 2.475 & -5.3 & 2.475 & 0.1167 \\ 0.0291 & 0.1167 & 2.475 & -5.3 & 2.475 \end{bmatrix} \begin{bmatrix} Q_1 \\ Q_2 \\ Q_3 \\ Q_4 \\ Q_5 \end{bmatrix}$$

والمصفوفة السابقة عبارة عن ثلاث معادلات بخمس مجاهيل أى يلزم معادلتين أخريتين  
يمكن إيجادهما من :

$$M_5 = 0 \quad ; \quad \Sigma R = 0$$

وتكون المصفوفة النهائية :

$$\begin{bmatrix} 5.694 & -5.3 & 2.475 & 0.1167 & 0.0291 \\ 6.5547 & 5.694 & -5.3 & 2.475 & 0.1167 \\ 9.686 & 6.5547 & 5.694 & -5.3 & 2.475 \\ 8 & 6 & 4 & 2 & 0 \\ 1 & 1 & 1 & 1 & 1 \end{bmatrix} \begin{bmatrix} Q_1 \\ Q_2 \\ Q_3 \\ Q_4 \\ Q_5 \end{bmatrix} = \begin{bmatrix} 566.6 \\ 1751.2 \\ 3038.8 \\ 2992 \\ 848 \end{bmatrix}$$

الصفوف الثلاث الأول من المصفوفة السابقة هم المعادلات السابقة أى العزوم  $M_4, M_3, M_2$ ،  
أما الصف الرابع فهو العزم  $M_5$  المساوية صفر والصف الخامس هو مجموع القوى كلها أى  
 $\Sigma R = 0$  أو

$$Q_1 + Q_2 + Q_3 + Q_4 + Q_5 = 848$$

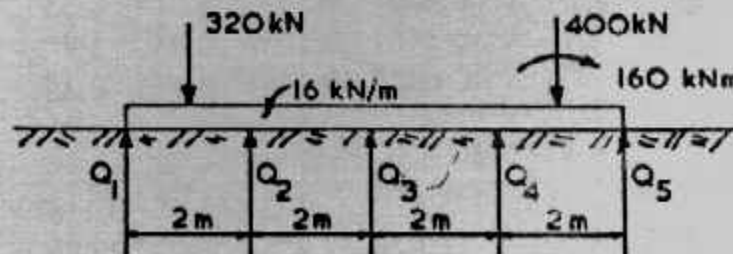
وباستخدام المصفوفة المعكوسة نحصل على :

$$\begin{bmatrix} Q_1 \\ Q_2 \\ Q_3 \\ Q_4 \\ Q_5 \end{bmatrix} = \begin{bmatrix} 0.0798 & 0.0535 & 0.0192 & 0.0081 & -0.0561 \\ -0.1062 & 0.0041 & 0.0150 & 0.0583 & -0.0346 \\ -0.0079 & -0.1151 & -0.0079 & 0.1053 & 0.0332 \\ 0.0150 & 0.0041 & -0.1062 & 0.0818 & 0.2619 \\ 0.0192 & 0.0535 & 0.0798 & -0.2536 & 0.7956 \end{bmatrix} \begin{bmatrix} 566.6 \\ 1751.2 \\ 3038.8 \\ 2992 \\ 848 \end{bmatrix}$$

ويتم الحصول على قيم القوى  $Q$  :

$$Q_1 = 173.9; Q_2 = 137; Q_3 = 113.2; Q_4 = 159.8; Q_5 = 263.0 \text{ kN.}$$

وتكون الخطوة التالية بعد ذلك هى إيجاد العزوم والقص وتزداد دقة الحل بتقسيم الكمرة  
إلى أقسام بعدد أكبر .



شكل (٨-٣١) : الحل بطريقة الأساس وما تحته مرتان .

ومن دراسة اقتصاديات الحلول الثلاث المذكورة سابقا لقاعدة مشتركة تبين أن طريقة الأساس المرن وما تحته بسيط المرونة توفر ٢٥٪ من كميات الخرسانة و ١٥٪ من كميات الحديد المستخدمة في الطريقة التقليدية للتصميم بينما طريقة الأساس وما تحته مرنان فإنها توفر ٤٠٪ من كميات الخرسانة و ٢٠٪ من كميات الحديد المستخدمة في الطريقة التقليدية.

### الأساسات المتغيرة في عزم القصور الذاتى Footings of Variable Inertia

الحلول السابقة تحتاج إلى أبعاد الأساس، وتوجد هذه الأبعاد أولا بطريقة الجساءة. وقد تكون بلاطة الأساس متغيرة العرض مما يجعل مقاطع الأساس متغيرة في عزم القصور الذاتى.

أ- الأساسات المتغيرة في عزم القصور الذاتى بطريقة "الأساس المرن وما تحت الأساس بسيط المرونة":

هذه الطريقة صالحة أيضا للأساسات المتغيرة في عزم القصور الذاتى وتتم بنفس الخطوات السابق ذكرها ما عدا ما عزم القصور الذاتى الذى سوف يعين لكل نقطة عقدية وبالتالي تتغير EI من نقطة إلى أخرى والمثال التالى بين خطوات الحل.

#### Example (8-5):

Details of a proposed reinforced concrete foundation slab are given in Fig. (8-32). The slab is of constant 125 mm thickness and the subgrade consists of sand with  $\bar{k}_s = 15 \text{ MN/m}^3$ .  $E_c = 20000 \text{ MN/m}^2$ .

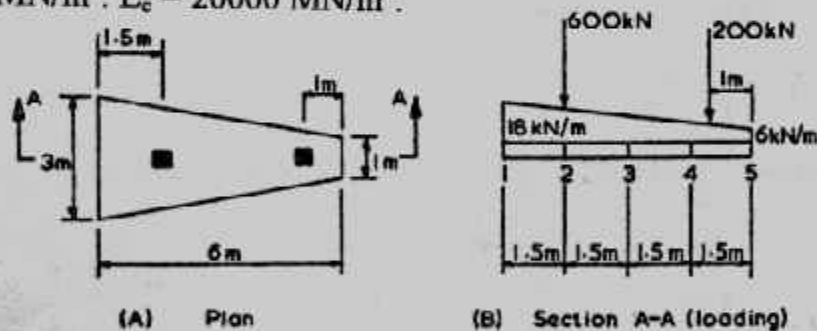


Fig. (8-32) Foundation of varying width

The loading diagram, along centre line of foundation, is as shown in Fig. (8-32) B.

For sands  $\bar{k}_s = k_{s1}$

Average width of foundation, B (for determination of  $k_s$ ) = 2.0 m

$$k_s = 15 \left( \frac{2 + 0.305}{2 \times 2} \right)^2 = 5.0 \text{ MN/m}^3.$$

Divide slab into four equal sections, to give 5 nodal points (see fig. 8-32).

Nodal point	Width (m)	I (m <sup>4</sup> )	EI (kNm <sup>2</sup> )
1	3	0.0004883	9765
2	2.5	0.0004069	8138
3	2.0	0.0003255	6510
4	1.5	0.0002441	4883
5	1	0.0001628	3255

By considering Fig. (8-32) B, the reactive forces,  $Q$  at the nodal points are given by :

$$Q_1 = k, y_1 \times \text{area} = 5 \times 2.875 \times 1.5/2 = 10.781 y_1$$

$$Q_2 = 5 \times 2.5 \times 1.5 \times y_2 = 18.75 y_2$$

$$Q_3 = 5 \times 2 \times 1.5 \times y_3 = 15.0 y_3$$

$$Q_4 = 5 \times 1.5 \times 1.5 \times y_4 = 11.25 y_4$$

$$Q_5 = 5 \times 1.125 \times 1.5/2 \times y_5 = 4.219 y_5$$

From fig. (8-32) B the expressions for the moments at the nodal points are :

$$M_2 = Q_1 \times 1.5 - 15 \times \frac{1.5^2}{2} - 3 \times \frac{1.5^2}{3} = 1.5 Q_1 - 19.125$$

$$M_3 = Q_1 \times 3 + Q_2 \times 1.5 - 600 \times 1.5 - 12 \times \frac{3^2}{2} - 6 \times 3 \\ = 3 Q_1 + 1.5 Q_2 - 972$$

$$M_4 = Q_1 \times 4.5 + Q_2 \times 3.0 + Q_3 \times 1.5 - 600 \times 3.0 - 9 \times \frac{4.5^2}{2} \\ - 9 \times \frac{4.5^2}{3}$$

$$= 4.5 Q_1 + 3 Q_2 + 1.5 Q_3 - 1951.875$$

$$M_5 = 6 Q_1 + 4.5 Q_2 + 3 Q_3 + 1.5 Q_4 - 3152$$

$$\text{Now } -M_2 = \frac{EI}{a^2} (y_1 - 2y_2 + y_3) \dots \text{etc.}$$

$$\therefore M_2 = \frac{1.5^2}{8138} (16.175 y_1 - 19.125) = - (y_1 - 2y_2 + y_3)$$

$$\text{i.e. } 1.00447 y_1 - 2 y_2 + y_3 = 0.005287 \quad (1)$$

$$M_3 = \frac{1.5^2}{6510} (32.343 y_1 + 28.125 y_2 - 972) \\ = - (y_2 - 2y_3 + y_4)$$

$$\text{i.e. } 0.011178 y_1 + 1.009721 y_2 - 2 y_3 + y_4 = 0.3359 \quad (2)$$

Similarly (for  $M_4$ ):

$$0.02235 y_1 + 0.02592 y_2 + 1.010367 y_3 - 2 y_4 + y_5 = 0.899389 \quad (3)$$

The remaining two equations can be obtained from the facts that  $M_1 = 0$  and  $\Sigma R = 0$ :

$$64.686 y_1 + 84.375 y_2 + 45 y_3 + 16.875 y_4 = 3152 \quad (4)$$

$$10.871 y_1 + 18.75 y_2 + 15 y_3 + 11.25 y_4 + 4.219 y_5 = 872 \quad (5)$$



Expressing equations (1) to (5) in matrix form gives:

$$\begin{bmatrix} 1.0045 & -2 & 1 & 0 & 0 \\ 0.0112 & 1.0097 & -2 & 1 & 0 \\ 0.0224 & 0.0259 & 1.0104 & -2 & 1 \\ 64.686 & 84.375 & 45 & 16.875 & 0 \\ 10.781 & 18.75 & 15 & 11.25 & 4.219 \end{bmatrix} \begin{bmatrix} y_1 \\ y_2 \\ y_3 \\ y_4 \\ y_5 \end{bmatrix} = \begin{bmatrix} 0.0053 \\ 0.3359 \\ 0.8994 \\ 3152 \\ 872 \end{bmatrix}$$

By inverting the matrix the expression becomes:

$$\begin{bmatrix} y_1 \\ y_2 \\ y_3 \\ y_4 \\ y_5 \end{bmatrix} = \begin{bmatrix} 0.4618 & 0.3666 & 0.1262 & 0.0132 & -0.0299 \\ -0.3203 & -0.0512 & 0.0082 & 0.0053 & -0.0019 \\ -0.1044 & -0.4707 & -0.1103 & -0.0026 & 0.0262 \\ 0.1095 & 0.1062 & -0.2304 & -0.0107 & 0.0546 \\ 0.3224 & 0.6812 & 0.6477 & -0.0193 & 0.0835 \end{bmatrix} \begin{bmatrix} 0.0053 \\ 0.3359 \\ 0.8994 \\ 3152 \\ 872 \end{bmatrix}$$

Leading to the values:

$$\begin{aligned} y_1 &= 15.77 \text{ mm} & \text{Hence: } Q_1 &= 170 \text{ kN} \\ y_2 &= 15.04 & Q_2 &= 282 \\ y_3 &= 14.39 & Q_3 &= 216 \\ y_4 &= 13.71 & Q_4 &= 154 \\ y_5 &= 12.79 & Q_5 &= 54 \end{aligned}$$

The longitudinal bending moment diagram can now be obtained and is illustrated in Fig. (8-33A).

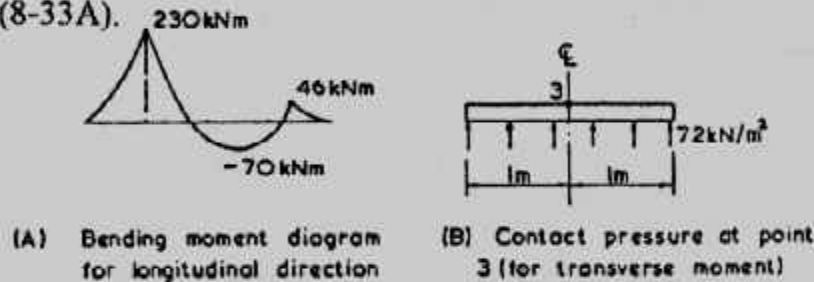


Fig. (8-33) : Foundation of varying width

As both the bending moment values and the foundation width vary, it is necessary to determine the required reinforcement at several points along the beam. For example, at nodal point 2 the total moment is 230 kNm, i.e., moment/metre width at point 2 is  $230/2.5 = 92 \text{ kNm/m}$ .

ولتعيين الحديد العرضي يلزم حساب للعزم العرضي عند النقط المختارة على طول الأساس. كما يمكن الحصول على  $q$  بطريقة سريعة من العلاقة  $q = k_y y$  الموزعة بانتظام تحت البلاطة. فمثلا العزم العرضي عند نقطة 3 هو  $q_3 = 5 \times 14.4 = 72 \text{ kN/m}^2$  وهذا الضغط يؤثر على عرض الأساس 1.5 m

Maximum transverse moment =  $72 \times 0.5 = 36 \text{ kNm}$ .

كما يمكن الحصول على دقة أكبر بتقسيم الأساس إلى عدد أكبر من المقاطع.

ب- الأساسات المتغيرة في عزم القصور الذاتي بطريقة "الأساس وما تحته مرنان":

يمكن استخدام طريقة "الأساس وما تحته مرنان" في حل الأساسات المتغيرة الأبعاد


أى المتغيرة في عزم القصور الذاتي وذلك بتكنيك الفروقات المحدودة وبين الشكل (٨-٣٤) نماذج لتلك الأساسات.

وقد سبق ذكر الإزاحة Deformation الناتجة عن حمل مركز  $Q$  تحته تحسب من

المعادلة الآتية:

$$y_p = \frac{3QJ}{E_s \cdot B}$$




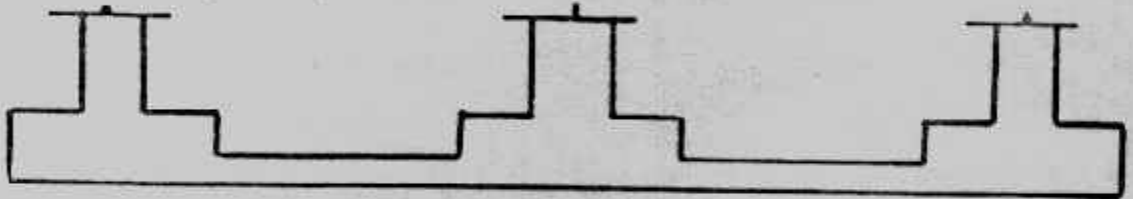




( أ ) أساليب متغيرة العرض

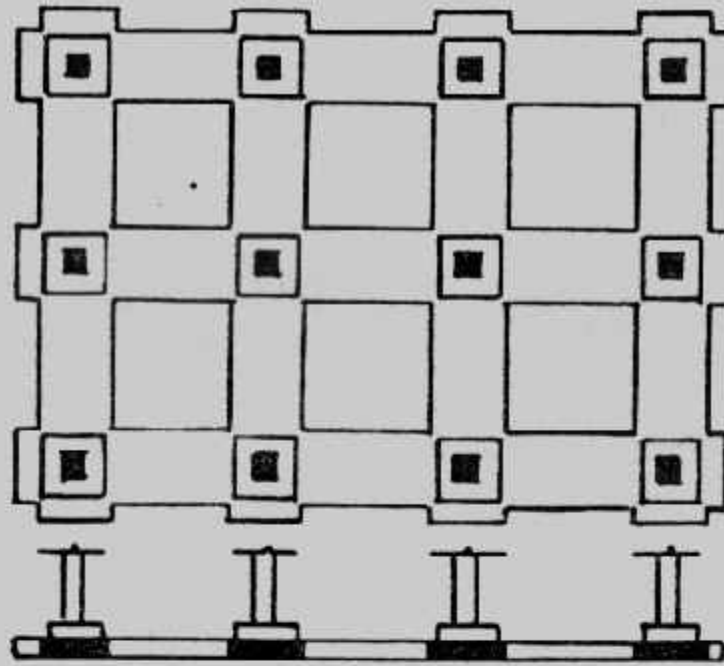


( ب ) أساليب متغيرة التخلية ( السمك )

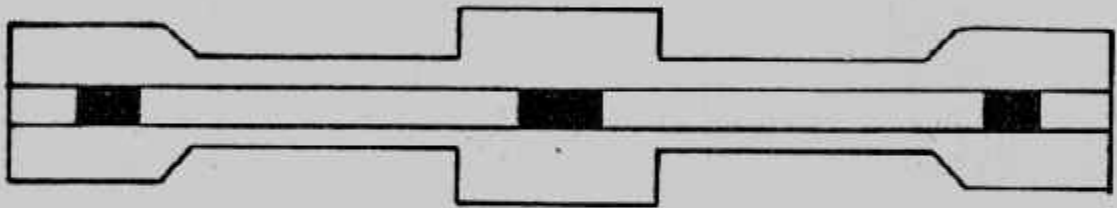


( ج ) لبشة متغيرة التخلية ( السمك )

شكل ( ٨-٣٤ ) : نماذج من الأساسات المتغيرة في عزم القصور الذاتي .

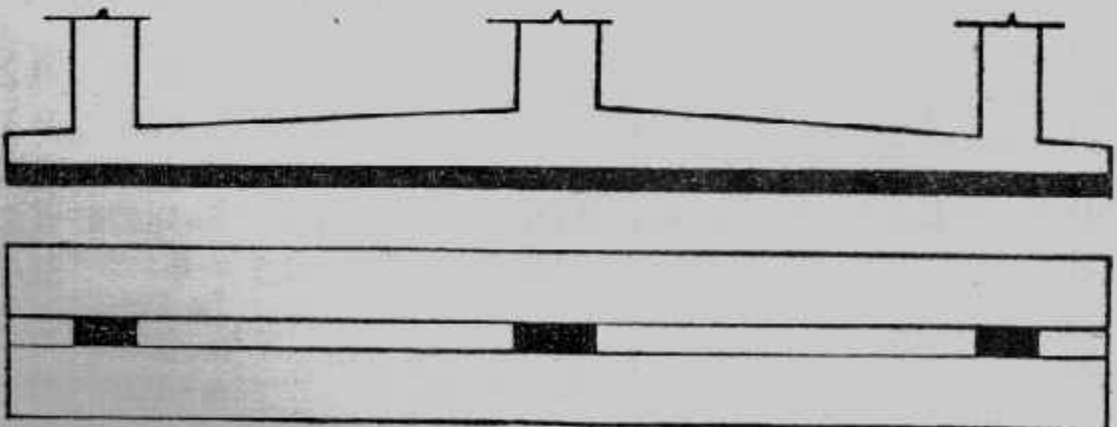


( د ) أساسات ذات الشدادات متغيرة التخلية



( هـ ) أساس كمرى متغير العرض

( و ) أساس كمرى متغير فى تخلية الكمره .



تابع شكل ( ٨-٣٤ )

وفي شكل (٢٣) نعتبر الأساس المشترك المتغير في العمق والعرض وطبقا لتكنيك الفروقات المحدودة فإن الأساس يقسم إلى مقاطع متساوية الطول  $a$  وبعرض متغير (على الأقل ٨ مقاطع بتسع نقاط) وعزم القصور الذاتي يجب أن يحسب عند كل نقطة. والمصفوفة التالية تبين علاقات الربط بين الهبوط  $y$  والقوة  $Q$ .

$$\begin{bmatrix} y_1 \\ y_2 \\ y_3 \\ y_4 \\ y_5 \\ \dots \\ y_n \end{bmatrix} = \frac{J}{aE_s} \begin{bmatrix} 3a/B_1 & 1 & 0.5 & 0.33 & 0.25 & \dots \\ 1 & 3a/B_2 & 1 & 0.5 & 0.33 & \dots \\ 0.5 & 1 & 3a/B_3 & 1 & 0.5 & \dots \\ 0.33 & 0.5 & 1 & 3a/B_4 & 0.5 & \dots \\ 0.25 & 0.33 & 0.5 & 1 & 3a/B_5 & \dots \\ \dots & \dots & \dots & \dots & \dots & \dots \\ \dots & \dots & \dots & \dots & \dots & \dots \end{bmatrix} \begin{bmatrix} Q_1 \\ Q_2 \\ Q_3 \\ Q_4 \\ Q_5 \\ \dots \\ \dots \end{bmatrix} \quad (A)$$

$$[y] = \frac{J}{aE_s} [A] \cdot [Q]$$

أما العلاقات بين  $M, y$  فهي :

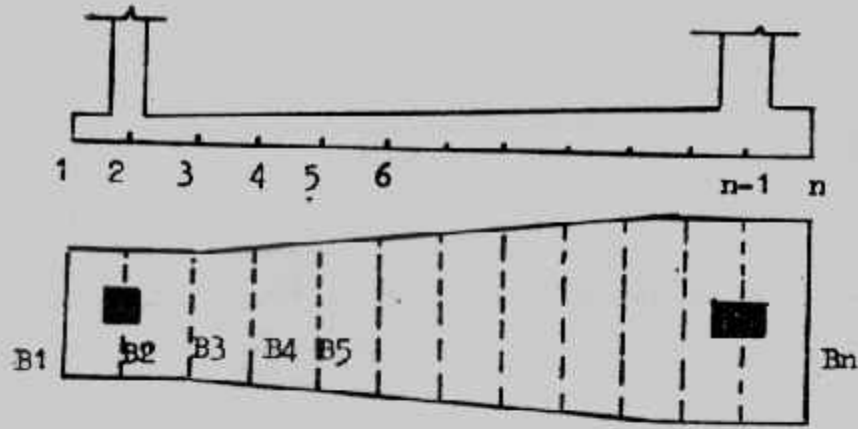
$$\begin{bmatrix} M_1/EI_1 \\ M_2/EI_2 \\ M_3/EI_3 \\ M_4/EI_4 \\ M_5/EI_5 \\ \dots \\ M_n/EI_n \end{bmatrix} = -\frac{1}{a^2} \begin{bmatrix} -2 & 1 & 0 & 0 & \dots & \dots \\ 1 & -2 & 1 & 0 & \dots & \dots \\ 0 & 1 & -2 & 1 & \dots & \dots \\ 0 & 0 & 1 & -2 & \dots & \dots \\ 0 & 0 & 0 & 0 & \dots & \dots \\ \dots & \dots & \dots & \dots & \dots & \dots \\ \dots & \dots & \dots & \dots & \dots & -2 \end{bmatrix} \begin{bmatrix} y_1 \\ y_2 \\ y_3 \\ y_4 \\ y_5 \\ \dots \\ y_n \end{bmatrix}$$

$$[M/EI_n] = -\frac{1}{a} [B] \cdot [y] \quad (B)$$

ومن العلاقات السابقة تستنتج العلاقات بين  $Q, M$  :

$$\begin{bmatrix} M_1/EI_1 \\ M_2/EI_2 \\ M_3/EI_3 \\ M_4/EI_4 \\ M_5/EI_5 \\ \dots \\ M_n/EI_n \end{bmatrix} = -\frac{J}{a^3 E_s} \begin{bmatrix} -2 & 1 & 0 & 0 & \dots & \dots \\ 1 & -2 & 1 & 0 & \dots & \dots \\ 0 & 1 & -2 & 1 & \dots & \dots \\ 0 & 0 & 1 & -2 & \dots & \dots \\ 0 & 0 & 0 & 0 & \dots & \dots \\ \dots & \dots & \dots & \dots & \dots & \dots \\ \dots & \dots & \dots & \dots & 1 & -2 \end{bmatrix} \begin{bmatrix} 3a/B_1 & 1 & 0.5 & 0.33 & 0.25 & \dots \\ 1 & 3a/B_2 & 1 & 0.5 & 0.33 & \dots \\ 0.5 & 1 & 3a/B_3 & 1 & 0.5 & \dots \\ 0.33 & 0.5 & 1 & 3a/B_4 & 0.5 & \dots \\ 0.25 & 0.33 & 0.5 & 1 & 3a/B_5 & \dots \\ \dots & \dots & \dots & \dots & \dots & \dots \\ \dots & \dots & \dots & \dots & \dots & \dots \end{bmatrix} \begin{bmatrix} Q_1 \\ Q_2 \\ Q_3 \\ Q_4 \\ Q_5 \\ \dots \\ \dots \end{bmatrix}$$

$$[M/EI_n] = \{-J/a E_s\} \cdot [B] \cdot [A] \cdot [Q] \quad (C)$$



شكل (٨-٣٥) : أساس مشترك متغير الأبعاد .

ويمكن حساب العزوم moments بواسطة الأحمال وقوى التماس عند كل نقطة :

$$[M] = [C] \quad (D)$$

ونحصل بذلك على عدد (n-2) من المعادلات المحتوية Q أما المعادلتان المتبقيتان فيتم

الحصول عليهما من  $M_n = 0, \Sigma Y = 0$  وحينئذ :

$$[C/EI_n] = \{-J/a^3 E_s\} \cdot [B] \cdot [A] \cdot [Q] \quad (C)$$

والآن يمكن تعيين ضغط التماس والهبوط . ثم تحسب قوى القص والعزم . وبالرغم من أن هذه الطريقة تستخدم للأساسات المستمرة والمشاركة المتغيرة القصور الذاتي فإنها تستخدم لبعض الأنواع الأخرى من الأساسات مثل الأساس الشبكي Grid foundation ، والأساس الكابولي Strap foundation المتغيرين في عزم القصور .

#### Example (8-6) :

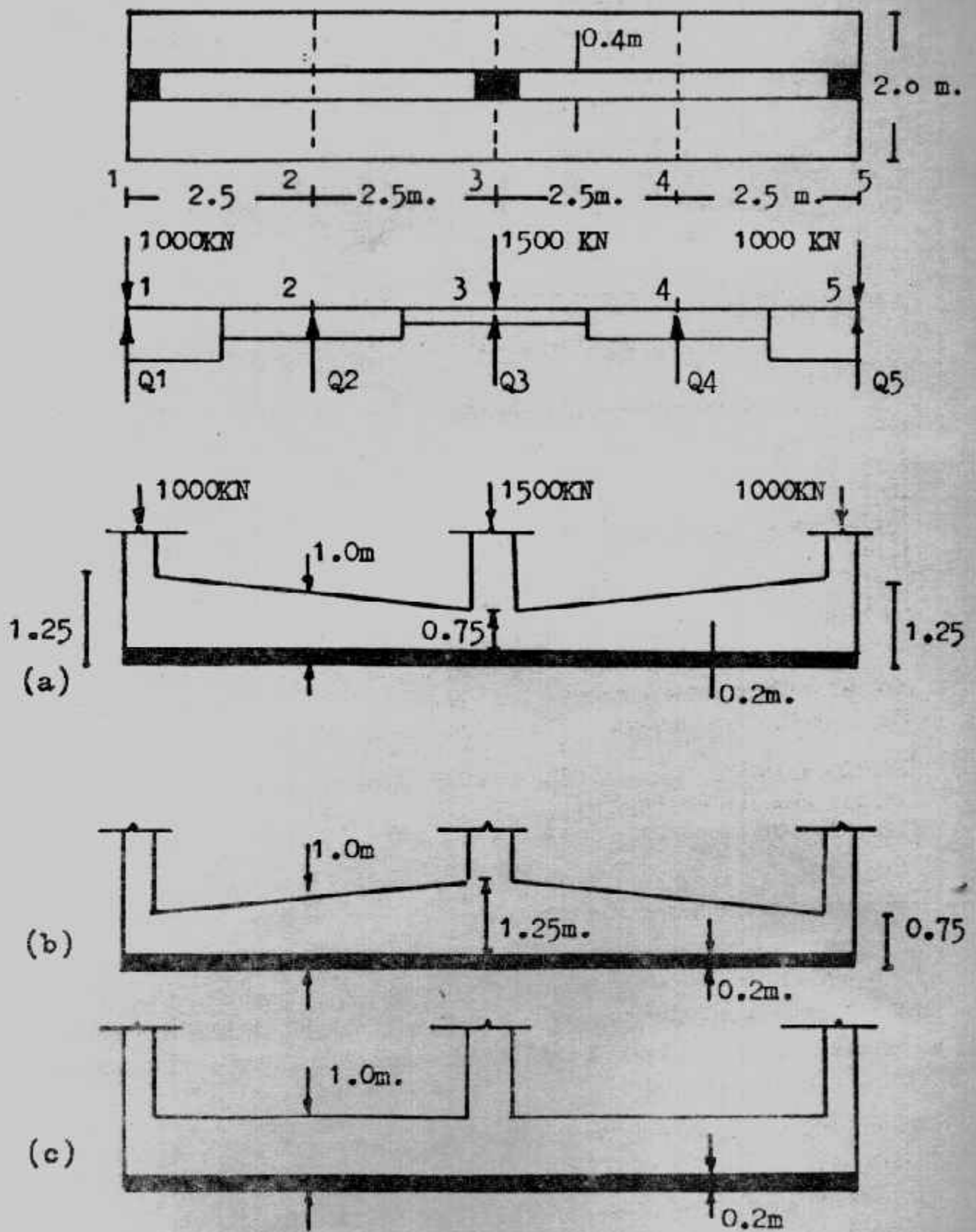
Details of a proposed reinforced concrete foundation are given in fig. (8-36)  
 $E_c = 20000 \text{ MN/m}^2$ ,  $E_s = 25 \text{ MN/m}^2$ ,  $J = 0.305$ .

For illustrative purposes, the foundation will be divided into four equal sections and five nodal points, i.e.  $a = 2.5\text{m}$ . and  $B = 2\text{m}$ , fig. (8-36) the moment of inertia at nodal points are :

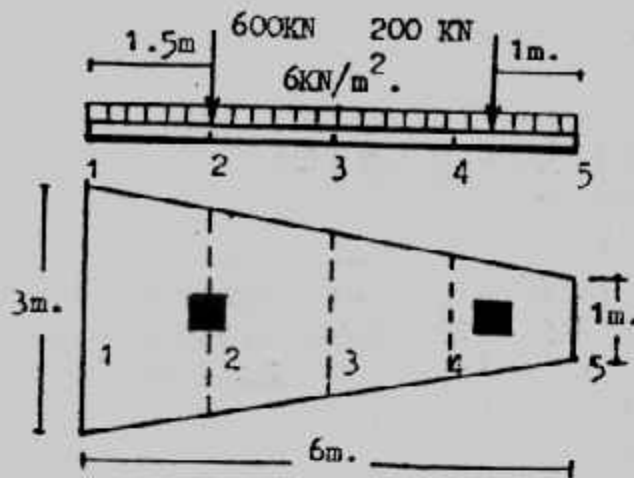
$I_1 = 0.115 \text{ m}^4$	$EI_1 = 2390 \times 10^3 \text{ Mnm}^2$
$I_2 = 0.0628 \text{ m}^4$	$EI_2 = 1256 \times 10^3 \text{ Mnm}^2$
$I_3 = 0.026 \text{ m}^4$	$EI_3 = 537 \times 10^3 \text{ Mnm}^2$
$I_4 = 0.0628 \text{ m}^4$	$EI_4 = 1256 \times 10^3 \text{ Mnm}^2$
$I_5 = 0.1195 \text{ m}^4$	$EI_5 = 2390 \times 10^3 \text{ Mnm}^2$

The expressions for the moments at nodal points are :

$$\begin{aligned} M_1 &= 0 \\ M_2 &= 2.5 Q_1 - 2500 \\ M_3 &= 5 Q_1 + 2.5 Q_2 - 500 \\ M_4 &= 7.5 Q_1 + 5 Q_2 + 2.5 Q_3 - 11250 \end{aligned}$$



شكل (٨-٣٦) : مثال (٨-٥)، (٨-٧)



شكل (٨-٣٧) : مثال (٨-٥)

$$M_5 = 0$$

The matrix expression (A) can be formed as :

$$\begin{bmatrix} y_1 \\ y_2 \\ y_3 \\ y_4 \\ y_5 \end{bmatrix} = \{ 0.305/2.5 \times 25 \times 1000 \} \begin{bmatrix} 3.75 & 1 & 0.5 & 0.33 & 0.25 \\ 1 & 3.75 & 1 & 0.5 & 0.33 \\ 0.5 & 1 & 3.75 & 1 & 0.5 \\ 0.33 & 0.5 & 1 & 3.75 & 1 \\ 0.25 & 0.33 & 0.5 & 1 & 3.75 \end{bmatrix} \cdot \begin{bmatrix} Q_1 \\ Q_2 \\ Q_3 \\ Q_4 \\ Q_5 \end{bmatrix}$$

M1 and M5 are both equal to zero and can be removed from the matrix expression (B) provided that the top and bottom rows of the matrix are also removed. The expression then becomes :

$$\begin{bmatrix} M_2/1256 \times 1000 \\ M_3/537 \times 1000 \\ M_4/1256 \times 1000 \end{bmatrix} = \{ -1/2.5 \times 2.5 \} \begin{bmatrix} 1 & -2 & 1 & 0 & 0 \\ 0 & 1 & -2 & 1 & 0 \\ 0 & 0 & 1 & -2 & 1 \end{bmatrix} \cdot \begin{bmatrix} y_1 \\ y_2 \\ y_3 \\ y_4 \\ y_5 \end{bmatrix}$$

Hence, the expression (c) can be obtained :

$$\begin{bmatrix} M_2/1256 \\ M_3/537 \\ M_4/1256 \end{bmatrix} = -7808 \times 1000 \begin{bmatrix} 1 & -2 & 1 & 0 & 0 \\ 0 & 1 & -2 & 1 & 0 \\ 0 & 0 & 1 & -2 & 1 \end{bmatrix} \cdot \begin{bmatrix} 3.75 & 1 & 0.5 & 0.33 & 0.25 \\ 1 & 3.75 & 1 & 0.5 & 0.33 \\ 0.5 & 1 & 3.75 & 1 & 0.5 \\ 0.33 & 0.5 & 1 & 3.75 & 1 \\ 0.25 & 0.33 & 0.5 & 1 & 3.75 \end{bmatrix} \cdot \begin{bmatrix} Q_1 \\ Q_2 \\ Q_3 \\ Q_4 \\ Q_5 \end{bmatrix}$$

Multiplying out this latest expression gives :

$$\begin{bmatrix} M_2/1256 \\ M_3/537 \\ M_4/1256 \end{bmatrix} = -0.0007808 \begin{bmatrix} 2.25 & -5.5 & 2.25 & 0.33 & 0.09 \\ 0.33 & 2.25 & -5.5 & 2.25 & 0.33 \\ 0.09 & 0.33 & 2.25 & -5.5 & 2.25 \end{bmatrix} \cdot \begin{bmatrix} Q_1 \\ Q_2 \\ Q_3 \\ Q_4 \\ Q_5 \end{bmatrix}$$



Substituting the expressions for M2, M3 and M4 three equations relating the five Q values, are obtained. The remaining required two equations are obtained from:

$$M5 = 0 = 10 Q1 + 7.5 Q2 + 5 Q3 + 2.5 Q4 - 17500$$

$$\Sigma Y = 0 = Q1 + Q2 + Q3 + Q4 + Q5 - 3500$$

Then, the final expression is :

$$\begin{bmatrix} 4.702 & -5.5 & 2.25 & 0.33 & 0.09 \\ 4.054 & 4.112 & -5.5 & 2.25 & 0.33 \\ 7.445 & 5.233 & 4.702 & -5.5 & 2.25 \\ 10 & 7.5 & 5 & 2.5 & 0 \\ 1 & 1 & 1 & 1 & 1 \end{bmatrix} \cdot \begin{bmatrix} Q1 \\ Q2 \\ Q3 \\ Q4 \\ Q5 \end{bmatrix} = \begin{bmatrix} 2451.712 \\ 3724.416 \\ 11032.704 \\ 17500 \\ 3500 \end{bmatrix}$$

Leading to the values

$$Q1 = 832.1 \text{ kN}$$

$$\text{Hence : } M2 = -419.75 \text{ kNm}$$

$$Q2 = 585.9 \text{ kN}$$

$$M3 = 352.05 \text{ kNm}$$

$$Q3 = 663.9 \text{ kN}$$

$$M4 = 419.75 \text{ kNm}$$

$$Q4 = 585.9 \text{ kN}$$

$$Q5 = 832.1 \text{ kN}$$

Obviously much greater accuracy is obtained if the analysis is carried out with the foundation divided into a greater number of sections.

**Example (8-7):**

Fig. (8-37) shows the details of concrete trapizoidal foundation. The slab is of constant 0.125m. thickness and the subgrade consists of sand with  $E_s = 10 \text{ MN/m}^2$ ,  $E_c = 20000 \text{ MN/m}^2$  and  $\nu = 0.2$ . The contact pressures and deflections are required to be determined.

$$J = (1 - \nu^2) / \pi = 0.305$$

The slab foundation is divided to four sections to give five nodal points, a = 1.5m, fig. (8-37) the following data can be obtained.

Nodal point	Width (m)	I (m <sup>4</sup> )	EI (kNm <sup>2</sup> )
1	B1 = 3	I1 = 4883 x 10 <sup>-7</sup>	EI1 = 9765
2	B2 = 2.5	I2 = 4069 x 10 <sup>-7</sup>	EI2 = 8138
3	B3 = 2	I3 = 3255 x 10 <sup>-7</sup>	EI3 = 6510
4	B4 = 1.5	I4 = 2441 x 10 <sup>-7</sup>	EI4 = 4883
5	B5 = 1	I5 = 1628 x 10 <sup>-7</sup>	EI5 = 3255

By considering the loading diagram, along centre line of foundation, and the reactive forces, Q at the nodal points, the expressions for the moments at the nodal points are :

$$M1 = 0$$

$$M2 = 1.5 Q1 - 19.125$$

$$M3 = 3 Q1 + 1.5 Q2 - 972$$

$$M4 = 4.5 Q1 + 3 Q2 + 1.5 Q3 - 1951.875$$

$$M5 = 0$$

The expression (4) can be formed as :

$$\begin{Bmatrix} y1 \\ y2 \\ y3 \\ y4 \\ y5 \end{Bmatrix} = \{0.305/1.5 \times 10 \times 1000\} \begin{Bmatrix} 1.50 & 1 & 0.5 & 0.33 & 0.25 \\ 1 & 1.80 & 1 & 0.5 & 0.33 \\ 0.5 & 1 & 2.25 & 1 & 0.5 \\ 0.33 & 0.5 & 1 & 3.00 & 1 \\ 0.25 & 0.33 & 0.5 & 1 & 4.50 \end{Bmatrix} \begin{Bmatrix} Q1 \\ Q2 \\ Q3 \\ Q4 \\ Q5 \end{Bmatrix}$$

Removing M1 and M5 (M1 = M5 = 0) from the expression (5), the top and bottom rows of the matrix are also removed.

The expression then becomes :

$$\begin{Bmatrix} M2/8138 \times 1000 \\ M3/6510 \times 1000 \\ M4/4883 \times 1000 \end{Bmatrix} = \{-1/1.5 \times 1.5\} \begin{Bmatrix} 1 & -2 & 1 & 0 & 0 \\ 0 & 1 & -2 & 1 & 0 \\ 0 & 0 & 1 & -2 & 1 \end{Bmatrix} \begin{Bmatrix} y1 \\ y2 \\ y3 \\ y4 \\ y5 \end{Bmatrix}$$

The expression (6) can be obtained as :

$$\begin{Bmatrix} M2/8138 \\ M3/6510 \\ M4/4883 \end{Bmatrix} = -9037 \times 10^{-6} \begin{Bmatrix} 1 & -2 & 1 & 0 & 0 \\ 0 & 1 & -2 & 1 & 0 \\ 0 & 0 & 1 & -2 & 1 \end{Bmatrix} \begin{Bmatrix} 3.75 & 1 & 0.5 & 0.33 & 0.25 \\ 1 & 3.75 & 1 & 0.5 & 0.33 \\ 0.5 & 1 & 3.75 & 1 & 0.5 \\ 0.33 & 0.5 & 1 & 3.75 & 1 \\ 0.25 & 0.33 & 0.5 & 1 & 3.75 \end{Bmatrix} \begin{Bmatrix} Q1 \\ Q2 \\ Q3 \\ Q4 \\ Q5 \end{Bmatrix}$$

Multiplying out the previous expression gives

$$\begin{Bmatrix} M2/8138 \\ M3/6510 \\ M4/4883 \end{Bmatrix} = -9037 \times 10^{-6} \begin{Bmatrix} 0 & -1.6 & 0.75 & 0.33 & 0.09 \\ 0.33 & 0.30 & -2.5 & 1.50 & 0.33 \\ 0.09 & 0.33 & 0.75 & -4.0 & 3.00 \end{Bmatrix} \begin{Bmatrix} Q1 \\ Q2 \\ Q3 \\ Q4 \\ Q5 \end{Bmatrix}$$

By substituting the expressions for M2, M3 and M4 three equations relating the five Q values, are obtained. The remaining required two equations are obtained from M5 = 0 and  $\Sigma Y = 0$  as follows :

$$M5 = 0 = 6 Q1 + 4.5 Q2 + 3 Q3 + 1.5 Q4 - 3152$$

$$\Sigma Y = 0 = Q1 + Q2 + Q3 + Q4 + Q5$$

The final expression is :

$$\begin{Bmatrix} 20.408 & -1.6 & 0.75 & 0.33 & 0.09 \\ 51.35 & 25.81 & -2.5 & -1.50 & 0.33 \\ 102 & 68.357 & 34.764 & -4.0 & 3.00 \\ 6 & 4.5 & 3 & 1.5 & 0 \\ 1 & 1 & 1 & 1 & 1 \end{Bmatrix} \begin{Bmatrix} Q1 \\ Q2 \\ Q3 \\ Q4 \\ Q5 \end{Bmatrix} = \begin{Bmatrix} 260.204 \\ 16530 \\ 44260.204 \\ 31520 \\ 872 \end{Bmatrix}$$

Leading to the values :

$$Q1 = 49.8 \text{ kN}, Q2 = 539.78 \text{ kN}, Q3 = 74.36 \text{ kN}$$

$$Q4 = 133.9 \text{ kN}, Q5 = 74.12 \text{ kN}$$

Substitution these results in expression (4) gives :

$$y1 = 14.5 \text{ mm}, y2 = 24.1 \text{ mm}, y3 = 18.33 \text{ mm}$$

$$y4 = 16.98 \text{ mm}, y5 = 14.11 \text{ mm}$$

Accuracy is increased if the beam is divided into a larger number of sections.

**Example (8-8) :**

Figure (8-36) shows three different reinforced concrete foundations (a), (b) and (c) respect to the moment of inertia. All these foundations are solved by using the present method for  $E_s = 10 \text{ MN/m}^2$  and  $E_u = 25 \text{ MN/m}^2$ .  $E_c = 20000 \text{ MN/m}^2$ . The procedure of analysis was previously illustrated in example (8-5). The results are listed as follows :

Foundation	$E_s$ $\text{MN/m}^2$	Q1,Q5 kN	Q2,Q4 kN	Q3 kN	M2,M4 kNm	M3 kNm	y1,y5 mm	y2,y4 mm	y3 mm
(a)	10	852.2	530.3	734.9	-369.5	586.9	2.10	2.00	2.27
(a)	25	832.1	585.9	663.9	-419.8	352.1	2.19	2.08	2.19
(b)	10	839.3	525.0	771.29	-402.0	509.0	2.17	2.10	2.33
(b)	25	799.6	584.9	730.8	-501.0	460.3	2.12	2.09	2.12
(c)	10	841.9	526.1	764.0	-395.3	524.7	2.11	2.01	2.30
(c)	25	823.5	585.7	681.7	-441.3	581.8	2.15	2.08	2.22
(c)	*	862.5	717.5	582.5	-845.0	291.0	6.90	2.87	2.33

\* Hetenyi solution ,  $k_s = 5000 \text{ kN/m}^3$

Comparison the tabulated results indicates :

- The bending moment distribution for foundation (b) seems much better than that obtained for foundation (a).
- The positive bending moment increases as well as the negative bending moment decreases for the increasing in the value of  $E_s$ .
- Both foundations (a) and (c), almost have the same results for a constant value of  $E_s$ .
- For foundation (c), the solution obtained in this study indicates better bending moment distribution than that obtained by the Hetenyi solution.

### طريقة العناصر المحدودة لكمره على تربة تأسيس مرنة :

#### Finite Element Solution of Beam on Elastic Foundation :

طريقة العناصر من اكفا الطرق لحل كمره (أساس) على تربة تأسيس مرنة بإدخال جميع مؤثرات التربة والأساس . وعند أى نقطة عنقودية شكل (٨-٣٨) فإنه يمكن ربط القوى الخارجية  $P_i$  بالقوى الداخلية  $F_i$  باستخدام معامل ثابت  $A$  حيث :

$$P_i = A_i F_i$$

ولمجموعة من النقاط العنقودية لأى منشأ وباستخدام المصفوفات حيث  $P$  مصفوفات عمودية،  $A$  مصفوفة مستطيلة (سوف نرفع من أسماء المصفوفات الأقواس [ ]) تصبح المعادلة :

$$P = AF \quad \dots\dots\dots(a)$$

وتربط الحركة الداخلية Internal deformation لعناصر المنشأ عند النقطة العقدية node بحركة النقطة الخارجية External node displacement بالعلاقة :

$$e = BX$$

وحيث إن B هي المصفوفة الانتقالية للمصفوفة A أى

$$B = A^T = \text{the transpose of the matrix A}$$

$$e = A^T X \quad \dots \dots \dots (b)$$

وتربط القوى الداخلية للعنصر بالإزاحات الداخلية للعنصر :

$$F = Se \dots \dots \dots (c)$$

والمعادلات c,b,a هي المعادلات الأساسية لطريقة العناصر المحدودة ويمكن

ربطها معا

$$F = Se = SA^T X$$

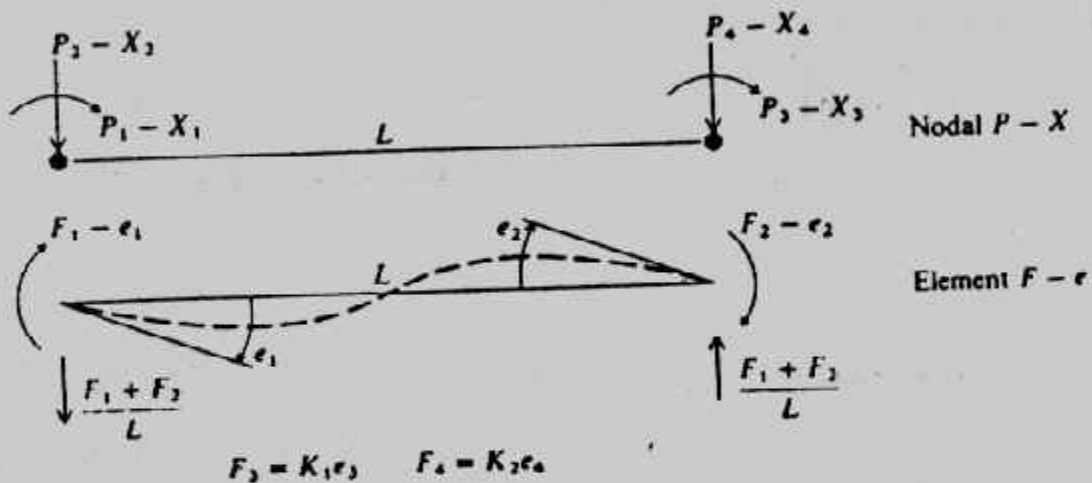
$$P = AF = ASA^T X$$

ويمكن إيجاد المجاهيل X باستخدام معكوس المصفوفة المربعة  $ASA^T$

$$X = [ASA^T]^{-1} P$$

ثم بالراجع يمكن إيجاد القوى الداخلية للعنصر اللازمة للتصميم . وعلى ذلك فهذه الطريقة

تعطى بيانات التصميم وبيانات الحركة (الإزاحة) .



شكل (٨-٣٨) : قوى العنصر الداخلية وقوى النقطة الخارجية

فى طريق العناصر المحدودة .

المصفوفة (A) :

بين شكل (٨-٣٨) كمرّة مرتكزة على مجموعة من اليايات بثابت K وهذه الكمرّة عليها أحمال خارجية من العزوم المركزة فى نقطة P1 إلى P6 مقابلة لدوران النقط X1 إلى X6 وقوى خارجية رأسية P7 إلى P12 مقابل انتقال رأسى X7 إلى X12 ويلاحظ أن P يمكن أن تكون قوى رأسية أو عزوم X ويمكن أن تكون دوران أو انتقال . والكمرّة المبينة بالشكل مقسمة إلى خمس عناصر محدودة بست نقاط عقدية والقوى الداخلية موجودة عن كل نقطة . ويلاحظ أن F1 إلى F10 العزوم الداخلية لنهايات العناصر ، F11 إلى F16 هي قوى اليايات الداخلية . كذلك e1 إلى e10 هي دوران نهايات العناصر ، e11 إلى e16 هي انضغاط اليايات . وعند نقطة ١



$$\begin{aligned}
P_1 - F_1 &= 0 \\
P_1 &= F_1 \\
P_7 - F_1/a - F_2/a + F_{11} &= 0 \\
P_7 &= F_1/a + F_2/a - F_{11}
\end{aligned}$$

وعند النقطة ٢

$$P_2 = F_2 + F_3$$

ولتحقيق مجموع القوى الرأسية يساوى صفراً •

$$P_8 = -F_1/a - F_2/a + F_3/a + F_4/a - F_{12}$$

وعند نقطة ٦

$$P_6 = F_{10}$$

ومجموع القوى الرأسية

$$P_{12} = -F_9/a - F_{10}/a - F_{16}$$

ويأخذ عناصر أكثر عدداً فإن المصفوفات سوف يزيد حجمها • وحجم المصفوفة هنا يكون

$$N = \text{number of elements} = 5$$

$$P = 2N + 2 = 12 = NP$$

$$F = 3N + 1 = 16 = NF$$

وتكون المصفوفة بحجم  $NP \times NF$  ، شكل (٤٠-٨)

المصفوفة B :

إذا دارت النقطة ١ بقيمة  $X = 1 \text{ rad}$  فإن ياي التربة لا يستطيع مقاومة الدوران

وأن  $e_i$  تدور كالاتى:

$$e_1 = X_1 + X_7/a - X_8/a$$

وبالمثل :

$$e_2 = X_2 + X_7/a - X_8/a$$

$$e_3 = X_2 + X_8/a - X_9/a$$

$$e_4 = X_3 + X_8/a - X_9/a$$

والحركات deformations الداخلية للياي  $e_{11}$  إلى  $e_{16}$  تكون :

$$e_{11} = -X_7$$

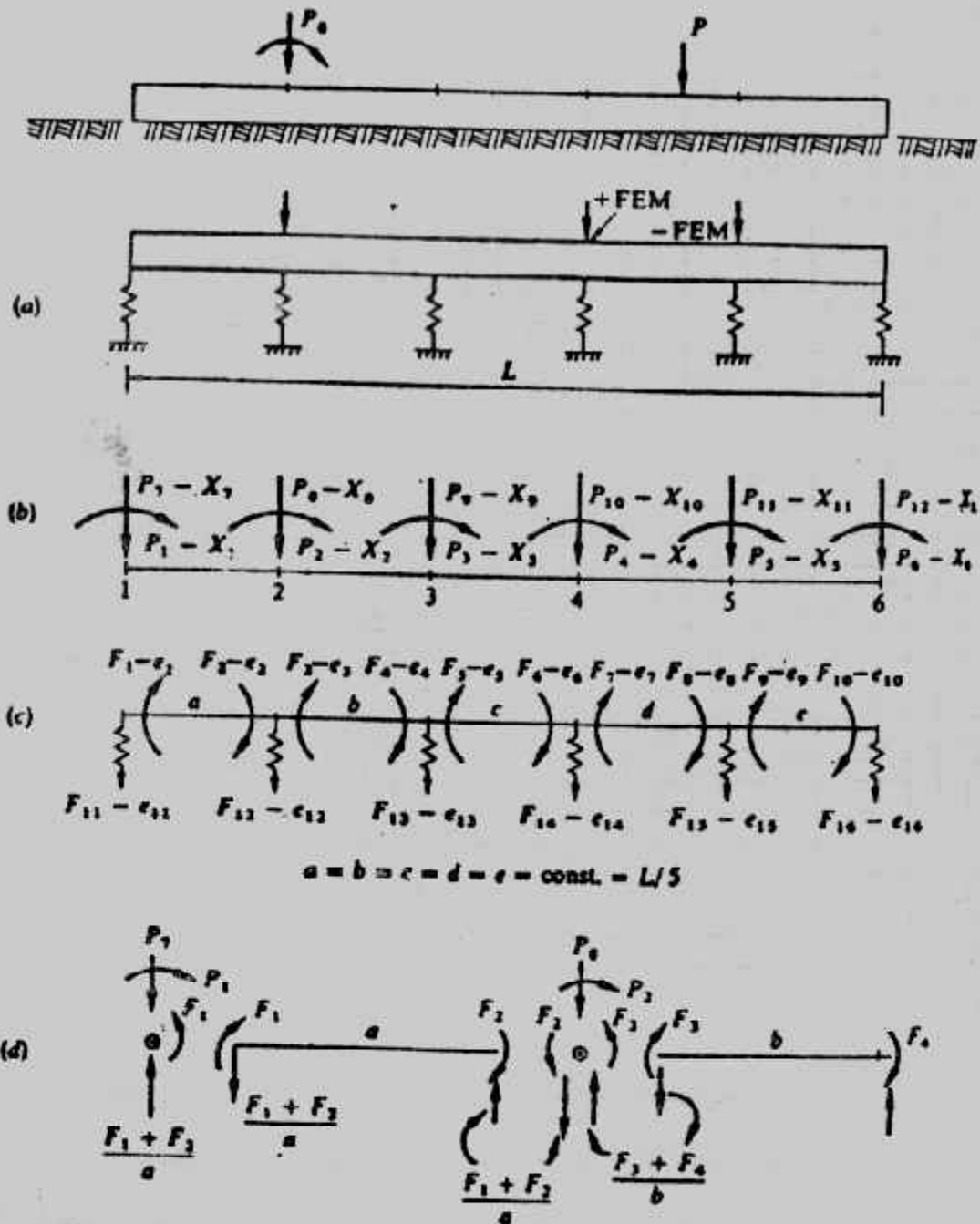
$$e_{12} = -X_8$$

.....

والمصفوفة B كاملة مبنية فى شكل (٤٠-٨) مع ملاحظة أن :

$$B = A^T$$

والكمبيوتر يبرمج لتعيين (I, J) مباشرة من A (I, J) •



شكل (٨-٣٩) حل الكمرة على تأسيس مرن

أ - مبدأ وينكلر      ب - نظام P-X

ج - نظام F-e      د - تكوين المصفوفة A بين ١ ، ٢

مصفوفة S :

بالرجوع لمبدأ الكمرة المرافقة Conjugate-beam principle في شكل (٨-٤١)

$$\frac{F_1 L}{3EI} - \frac{F_2 L}{6EI} = e_1$$

$$-\frac{F_1 L}{6EI} + \frac{F_2 L}{3EI} = e_2$$

يتبين أن  $e_2, e_1$  هما :



1	2	3	4	5	6	7	8	9	10	11	12	13	14	15	16
1	1														
2		1	1												
3				1	1										
4						1	1								
5								1	1						
6										1					
7	Z	Z									-1				
8	-Z	-Z	Z	Z							-1				
9			-Z	-Z	Z	Z						-1			
10					-Z	-Z	Z	Z					-1		
11							-Z	-Z	Z	Z				-1	
12									-Z	-Z					-1

(a)

1	2	3	4	5	6	7	8	9	10	11	12
1	1					Z	-Z				
2		1				Z	-Z				
3			1					Z	-Z		
4				1				Z	-Z		
5					1					Z	-Z
6						1				Z	-Z
7							1			Z	-Z
8								1		Z	-Z
9									1		Z
10										1	Z
11											-1
12											-1
13											-1
14											-1
15											-1
16											-1

(b)

1	2	3	4	5	6	7	8	9	10	11	12	13	14	15	16
1	A	B													
2	B	A													
3			A	B											
4			B	A											
5					A	B									
6					B	A									
7							A	B							
8							B	A							
9									A	B					
10									B	A					
11											K <sub>1</sub>				
12												K <sub>1</sub>			
13													K <sub>2</sub>		
14														K <sub>2</sub>	
15															K <sub>1</sub>
16															K <sub>2</sub>

(c)

F	1	2
1	A	B
2	B	A
3	A	B
4	B	A
5	A	B
6	B	A
7	A	B
8	B	A
9	A	B
10	B	A
11	K <sub>1</sub>	0
12	K <sub>2</sub>	0
13	K <sub>1</sub>	0
14	K <sub>2</sub>	0
15	K <sub>1</sub>	0
16	K <sub>2</sub>	0

(d)

Segment length,  $a = \text{constant}$

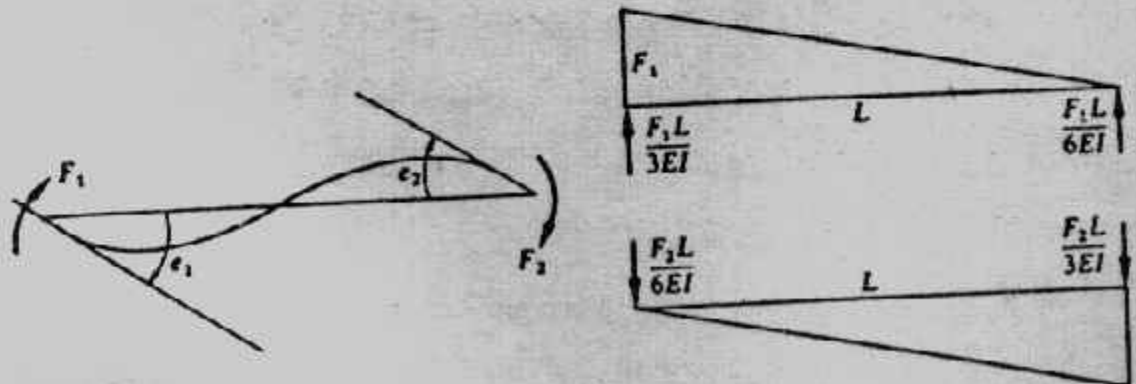
$$Z = \frac{1}{a}$$

$$A = \frac{4EI}{a}$$

$$B = \frac{2EI}{a}$$

شكل (٨-٤) مصفوفات طريقة العناصر المحدودة

- أ - المصفوفة الاستاتيكية A    ب - مصفوفة الإزاحات  $B = A^T$   
 ج - مصفوفة القساوة S    د - مصفوفة S في عمودين



شكل (٨-٤) مبدأ الكمرة المرافقة.

وبحل المعادلتين J. I لأوا شريحة في شكل (٣٩-٨) حيث  $a = L$  :

$$F_1 = \frac{4EI}{L} e_1 + \frac{2EI}{L} e_2$$

$$F_2 = \frac{2EI}{L} e_1 + \frac{4EI}{L} e_2$$

وبالمثل

$$F_3 = \frac{4EI}{b} e_3 + \frac{2EI}{b} e_4$$

$$F_4 = \frac{2EI}{b} e_3 + \frac{4EI}{b} e_4$$

.....

والقوة  $F_{11}$  تكون

$$F_{11} = K_1 e_{11}$$

حيث الرمز  $K$  يستخدم هنا من حركة الياى :

$$F = K\delta$$

ويعين للتربة (الياى) من معامل رد فعل التربة  $K_s$  وعرض الكمرة  $B$  :

$$k_1 = aBk_s$$

$$k_2 = (a + b) / 2 Bk_s$$

$$k_6 = eBk_s$$

and if  $a = b = c \dots = e = h$ ,

$$k_s = Bhk_s$$

والمصفوفة  $S$  كاملة مبنية في شكل (٤٠-٨) ويمكن كتابتها في عمودين فقط

للتخفيف عن ذاكرة الكمبيوتر .

المصفوفة  $P$  :

$P_i$  كما هو في شكل (٣٩-٨) هي القوى أو العزوم الخارجية المؤثرة على النقط،

وامتدادا للمعادلات من  $a$  إلى  $h$  نجد :

$$P_1 = F_1 + 0F_2 + 0F_3 + \dots + 0F_{16}$$

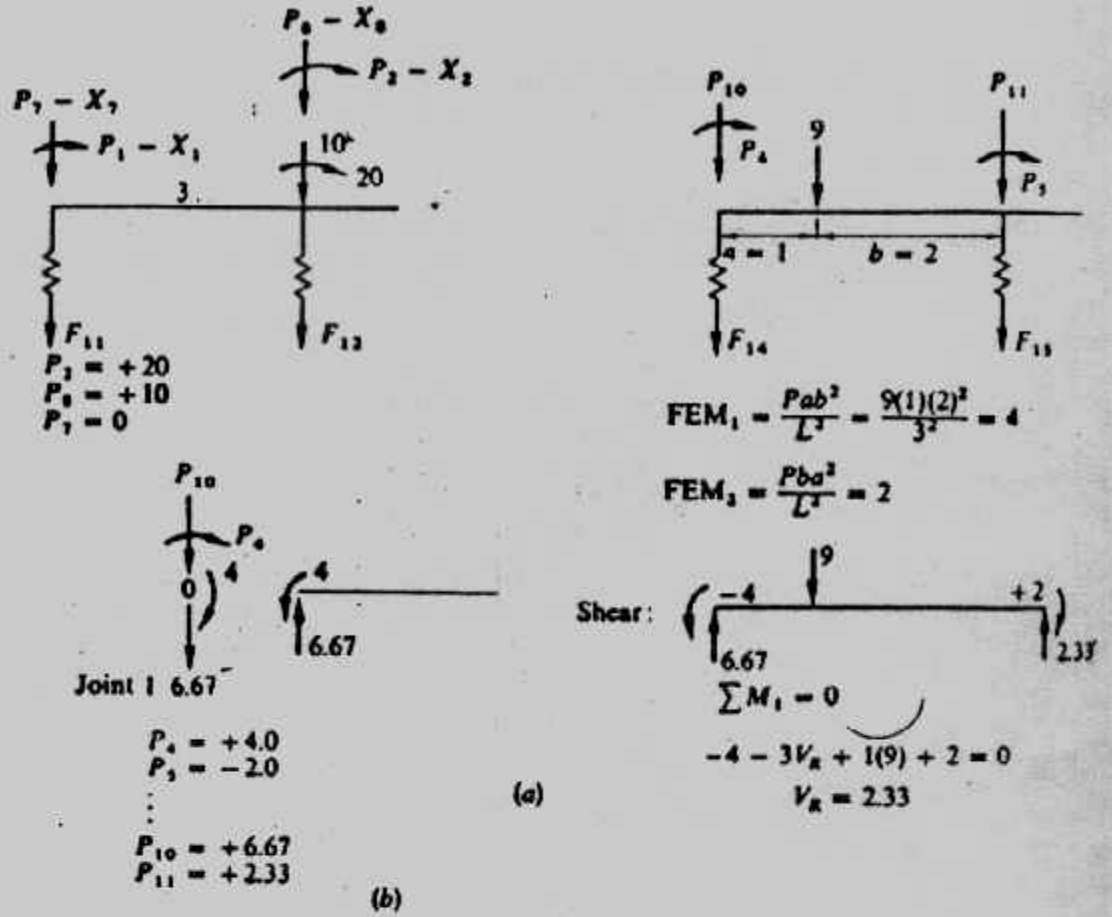
$$P_2 = 0F_1 + F_2 + F_3 + \dots + 0F_{16}$$

$$P_3 = 0F_1 + 0F_2 + 0F_3 + F_4 + F_5 + \dots + 0F_{16}$$

$$P_7 = F_1 / a + F_2 / a + \dots - F_{11} + \dots + 0F_{16}$$

$$P_{12} = 0F_1 + 0F_2 \dots - F_9 / e - F_{10} / e + \dots - F_{16}$$

وبين شكل (٤٢-٨) مثالين لحساب القوى في المصفوفة  $P$



شكل (٨-٤) العلاقة بين الأحمال الخارجية والمصفوفة P

برنامج الكمبيوتر للعناصر المحدودة لكمرة على تربة تأسيس مرنة :

خطوات حل كمرة على تربة تأسيس مرنة باستخدام العناصر المحدودة يمكن

تلخيصها في الآتي، شكل (٨-٤٣)، وشكل (٨-٤٤) :

١- يعمل رسم لنظام الأساس من حيث F-e, P-X كما في شكل (٨-٣٩)، شكل (٨-٤٣) .

٢- تكوين المصفوفة A وبالتالي  $A^T$  .

٣- تكوين المصفوفة S بعمودين .

٤- تكوين المصفوفة  $SA^T$  وتخزينها لإيجاد :

$$ASA^T = A \times SA^T$$

وبعد إيجاد معكوس  $ASA^T$  تحسب مصفوفة F :

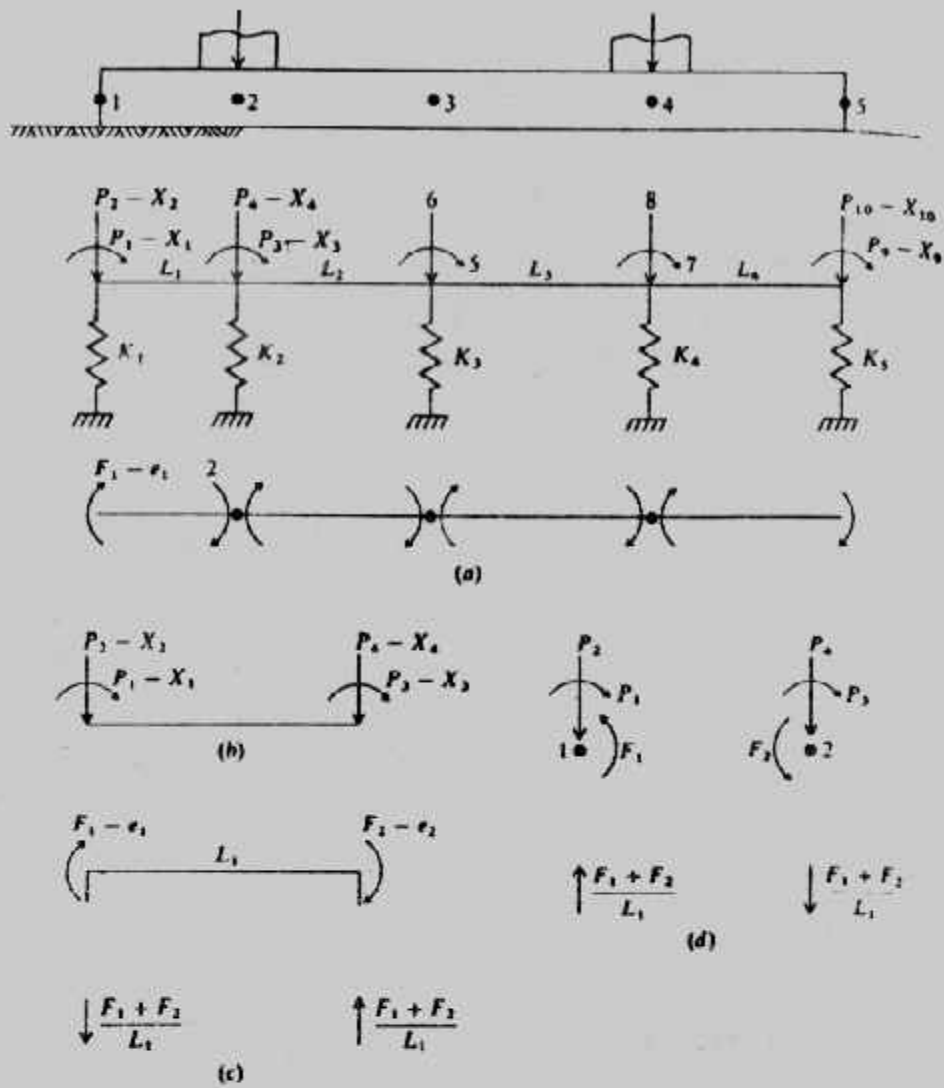
$$F = SA^T \times X$$

مع ملاحظة أن مصفوفة  $ASA^T$  دائما ذات حجم  $P \times P$  أو  $2N + 2$  حيث N عدد شرائح

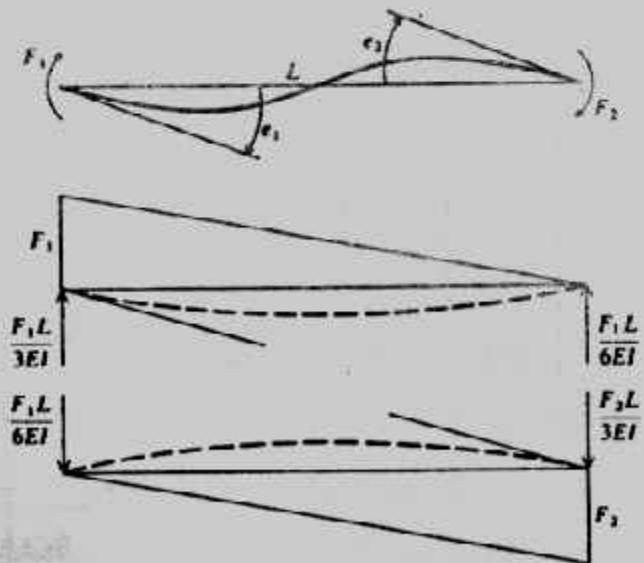
الكمرة .

٦- حساب إزاحة النقطة العقدية X :

$$X = [ASA^T]^{-1} P$$



Conjugate-beam relationships between end moments and beam rotations.



شكل (٨-٤) : خطوات الحل بالعناصر المحدودة.

$P \backslash F$	1	2
1	1	0
EA = 2	$1/L$	$1/L$
3	0	1
4	$-1/L$	$-1/L$

$e \backslash F$	1	2
1	$\frac{4EI}{L}$	$\frac{2EI}{L}$
ES = 2	$\frac{2EI}{L}$	$\frac{4EI}{L}$

$e \backslash X$	1	2	3	4
1	1	$1/L$	0	$-1/L$
EA <sup>T</sup> = 2	0	$1/L$	1	$-1/L$

$F \backslash e$	1	2
1	$\frac{4EI}{L}$	$\frac{2EI}{L}$
ES = 2	$\frac{2EI}{L}$	$\frac{4EI}{L}$

 $\xrightarrow{\quad\quad\quad} ESA^T =$ 

$\frac{4EI}{L}$	$\frac{6EI}{L^2}$	$\frac{2EI}{L}$	$-\frac{6EI}{L^2}$
$\frac{2EI}{L}$	$\frac{6EI}{L^2}$	$\frac{4EI}{L}$	$-\frac{6EI}{L^2}$

1	0
$1/L$	$1/L$
0	1
$-1/L$	$-1/L$

 $EA =$ 
 $\xrightarrow{\quad\quad\quad} EASA^T =$ 

$\frac{4EI}{L}$	$\frac{6EI}{L^2}$	$\frac{2EI}{L}$	$-\frac{6EI}{L^2}$
$\frac{6EI}{L^2}$	$\frac{12EI}{L^3} + K_1$	$\frac{6EI}{L^2}$	$-\frac{12EI}{L^3}$
$\frac{2EI}{L}$	$\frac{6EI}{L^2}$	$\frac{4EI}{L}$	$-\frac{6EI}{L^2}$
$-\frac{6EI}{L^2}$	$-\frac{12EI}{L^3}$	$-\frac{6EI}{L^2}$	$+\frac{12EI}{L^3} + K_2$

شكل (٨-٤٤) : مصفوفات العناصر المحدودة.

مع ملاحظة أن  $X$  قد تكون دوران أو إزاحات :  
 ٧- عمل تأكيد لعناصر الانتقال في مصفوفة  $X$  إلى الصفر أو إلى سالب أو قيم في حدود الحركة الغير خطية nonlinear deflection :

- لقيم الانتقال السالبة والصفرية، الصفر خارج قيم  $K$  في مصفوفة  $S$  .
- لقيم  $X$  الأكبر من قيم  $X_{max}$  المعينة والتي تمثل حركة التربة في المرحلة الخطية Linear يتم ضرب قيم  $K$  في المصفوفة  $S$  للحصول على القوى :

$$G_i = S_i \times X_{max}$$

- ٨- يتم تطبيق قوى  $G_i$  على النقط العقدية كقوة  $P$  سالبة في مصفوفة  $P$  لإيجاد  $P$  عند النقط:

$$P_i + G_i = PM_i$$

- ٩- إعادة تكوين مصفوفة  $S$  المعدلة،  $SA^T$ ،  $ASA^T$ ،  $X$  .

١٠- تكرار الخطوات ٨، ٩ حتى الوصول إلى :

- نفس العدد أو أقل للنقط العقدية في الحل الجارى يكون عندها حركة deflection مساوى الصفر أو سالب أو أكبر من الناتج في الحل السابق مباشرة .
- أو تنفيذ عدد كاف من تكرار الحلول .

ولقد أعطى البرنامج التفصيلي للكمبيوتر في عديد من المراجع منها بولس ١٩٧٤،  
 ١٩٨٨ كما أن البرنامج الجاهز أصبح متاحا الآن ضمن برامج الكمبيوتر في الأسواق .

### تصميم الأساسات المشتركة ككمرة على تربة مرنة بالعناصر المحدودة :

تصميم الأساسات ككمرة على تربة مرنة تستلزم مبدئيا تصميمها بالطريقة التقليدية Conventional (Rigid) لإيجاد السمك اللازم للقص والعرض والمساحة الملائمة لجهد التربة المسموح به وباستخدام هذه الأبعاد مع  $k$  يتم الدخول في تصميم الأساس ككمرة على تربة مرنة بطريقة العناصر المحدودة .

عزم الانحناء للأساسات ككمرة على تربة مرنة يكون دائما أقل من الناتج من الطريقة التقليدية ولذلك فهو يحتاج إلى حديد أكثر اقتصادا .  
 وينصح بزيادة عزم الانحناء بقيمة لا تقل عن ١٠٪ لأن العزم المحسوب عادة ما يكون أقل من المقاس فعليا . وهذه الزيادة في العزم تستلزم زيادة طفيفة في حديد التسليح ومع ذلك يظل الحديد المستخدم في هذه الطريقة أقل من المستخدم في الطريقة التقليدية . أما الحديد في الاتجاه العرضي فيتم حسابه كما في الطريقة التقليدية .

Example : (8-9):

Referring to Fig. (8-45) obtain a finite -element solution.

Solution :

Beam depth = 0.508 m, Beam width = 3.048m




$$k_s = 7540.32 \text{ kN/m}^3$$

$$P = 1378.7 \text{ kN}$$

$$E = 22408750 \text{ kN/m}^2$$

Divisions = 10

The output results are shown in Fig. (8-46) and Fig. (8-47).



شكل (٨-٤٥) : مثال (٨-٩) .

#### Example (8-10):

Given the general footing data shown in Fig. (8-48). Assume the loads are factored and as might be obtained (without end overhang) from some type of tank structure where the loads are from the walls. Take  $k_s = LF \times k_s = 1.571 \times 14000 = 220000 \text{ kN/m}^3$  obtain the finite element solution.

#### Solution :

Comments based on Fig. (8-48)

- 1-  $\Sigma F_v = 0$  (3377.7 versus 3375) within computer round-off, single precision, and seven digit.
- 2- Far end of 9 and near end of 10 :  $468.8 - 549 \approx 81$  versus 81 kN m applied.
- 3- Far end of 12 should be 0.00 (versus 0.000).
- 4- If largest soil pressure  $259.79/LF = 259.8/1.571 = 165.4 < q_a$  this footing would be satisfactory.
- 5- Largest translation = 0.01181 m = 11.8 mm (at node 1)  
largest rotation = -0.000251 rad.

Selected additional output interpretation and checks are shown on Fig. (8-49).

The output results are shown in Fig. (8-50).

### تصميم أساسات اللبشة : Mat Foundations

توجد عدة طرق لتصميم أساسات اللبشة منها :

- ١- الطرق التقريبية : وفيها تقسم اللبشة إلى شرائح طولية وعرضية وتصمم كل شريحة على أنها أساس مشترك أو مستمر . وتستخدم هذه الطرق حينما تكون الأعمدة لها بحور وأحمال متساوية أو متقاربة وتستخدم أيضا هذه الطرق حينما تكون اللبشة عالية الجساءة . ولقد سبق تقديم هذه الطرق في الباب السابق .
- ٢- طريقة المرونة التقريبية Approximate Flexible Method وفي هذه الطريقة يفترض أن التربة عبارة عن عدد غير محدود من اليايات المرنة (مبدأ وينكلر) .

## BEAM ON ELASTIC FOUNDATION BY DISPLACEMENT METHOD

BEAM LENGTH = 6.10 M  
BEAM WIDTH = 3.05 M  
BEAM DEPTH = 0.5080 M  
BEAM MOD OF ELAS = 22408736. KN/SQ M  
MOD. OF SUBGRADE REAC. = 7540. KN/CU M  
THE MAX VALUE OF LINEAR SOIL DEFL = 3.81 CM  
THE UNIT WEIGHT OF BEAM = 23.600 KN/CU M

		MOMENT OF INERTIA (IN **4)		SEG LENGTH, M
W	NO	1	0.033298	0.6096
W	NO	2	0.033298	0.6096
W	NO	3	0.033298	0.6096
W	NO	4	0.033298	0.6096
W	NO	5	0.033298	0.6096
W	NO	6	0.033298	0.6096
W	NO	7	0.033298	0.6096
W	NO	8	0.033298	0.6096
W	NO	9	0.033298	0.6096
W	NO	10	0.033298	0.6096

COL NODE POINT = 2      P = 1378.70 KN      COL MOMENT = 0.0      KN-M

COL NODE POINT = 10      P = 1378.70 KN      COL MOMENT =      0.0      KN-M

	P-MATRIX	BM WT MATRIX	SOIL MATRIX	SUM = PM(1)
1	0.0	0.0	0.0	0.0
2	0.0	0.0	0.0	0.0
3	0.0	0.0	0.0	0.0
4	0.0	0.0	0.0	0.0
5	0.0	0.0	0.0	0.0
6	0.0	0.0	0.0	0.0
7	0.0	0.0	0.0	0.0
8	0.0	0.0	0.0	0.0
9	0.0	0.0	0.0	0.0
10	0.0	0.0	0.0	0.0
11	0.0	0.0	0.0	0.0
12	0.0	0.0	0.0	0.0
13	0.0	0.0	0.0	0.0
14	0.0	0.0	0.0	0.0
15	0.0	0.0	0.0	0.0
16	0.0	0.0	0.0	0.0
17	0.0	0.0	0.0	0.0
18	0.0	0.0	0.0	0.0
19	0.0	0.0	0.0	0.0
20	0.0	0.0	0.0	0.0
21	0.0	0.0	0.0	0.0
22	0.0	0.0	0.0	0.0
23	0.0	0.0	0.0	0.0
24	0.0	0.0	0.0	0.0
25	0.0	0.0	0.0	0.0
26	0.0	0.0	0.0	0.0
27	0.0	0.0	0.0	0.0
28	0.0	0.0	0.0	0.0
29	0.0	0.0	0.0	0.0
30	0.0	0.0	0.0	0.0
31	0.0	0.0	0.0	0.0
32	0.0	0.0	0.0	0.0
33	0.0	0.0	0.0	0.0
34	0.0	0.0	0.0	0.0
35	0.0	0.0	0.0	0.0
36	0.0	0.0	0.0	0.0
37	0.0	0.0	0.0	0.0
38	0.0	0.0	0.0	0.0
39	0.0	0.0	0.0	0.0
40	0.0	0.0	0.0	0.0
41	0.0	0.0	0.0	0.0
42	0.0	0.0	0.0	0.0
43	0.0	0.0	0.0	0.0
44	0.0	0.0	0.0	0.0
45	0.0	0.0	0.0	0.0
46	0.0	0.0	0.0	0.0
47	0.0	0.0	0.0	0.0
48	0.0	0.0	0.0	0.0
49	0.0	0.0	0.0	0.0
50	0.0	0.0	0.0	0.0
51	0.0	0.0	0.0	0.0
52	0.0	0.0	0.0	0.0
53	0.0	0.0	0.0	0.0
54	0.0	0.0	0.0	0.0
55	0.0	0.0	0.0	0.0
56	0.0	0.0	0.0	0.0
57	0.0	0.0	0.0	0.0
58	0.0	0.0	0.0	0.0
59	0.0	0.0	0.0	0.0
60	0.0	0.0	0.0	0.0
61	0.0	0.0	0.0	0.0
62	0.0	0.0	0.0	0.0
63	0.0	0.0	0.0	0.0
64	0.0	0.0	0.0	0.0
65	0.0	0.0	0.0	0.0
66	0.0	0.0	0.0	0.0
67	0.0	0.0	0.0	0.0
68	0.0	0.0	0.0	0.0
69	0.0	0.0	0.0	0.0
70	0.0	0.0	0.0	0.0
71	0.0	0.0	0.0	0.0
72	0.0	0.0	0.0	0.0
73	0.0	0.0	0.0	0.0
74	0.0	0.0	0.0	0.0
75	0.0	0.0	0.0	0.0
76	0.0	0.0	0.0	0.0
77	0.0	0.0	0.0	0.0
78	0.0	0.0	0.0	0.0
79	0.0	0.0	0.0	0.0
80	0.0	0.0	0.0	0.0
81	0.0	0.0	0.0	0.0
82	0.0	0.0	0.0	0.0
83	0.0	0.0	0.0	0.0
84	0.0	0.0	0.0	0.0
85	0.0	0.0	0.0	0.0
86	0.0	0.0	0.0	0.0
87	0.0	0.0	0.0	0.0
88	0.0	0.0	0.0	0.0
89	0.0	0.0	0.0	0.0
90	0.0	0.0	0.0	0.0
91	0.0	0.0	0.0	0.0
92	0.0	0.0	0.0	0

THE INITIAL STIFFNESS MATRIX IN 2-COLS IS

INITIAL	STIFFNESS	MATRIX	IN 2-COL
1	4896173.00	2448085.00	0.00
2	2448085.00	4896173.00	0.00
3	4896173.00	2448085.00	0.00
4	2448085.00	4896173.00	0.00
5	4896173.00	2448085.00	0.00
6	2448085.00	4896173.00	0.00
7	4896173.00	2448085.00	0.00
8	2448085.00	4896173.00	0.00
9	4896173.00	2448085.00	0.00
10	2448085.00	4896173.00	0.00
11	4896173.00	2448085.00	0.00
12	2448085.00	4896173.00	0.00
13	4896173.00	2448085.00	0.00
14	2448085.00	4896173.00	0.00
15	4896173.00	2448085.00	0.00
16	2448085.00	4896173.00	0.00
17	4896173.00	2448085.00	0.00
18	2448085.00	4896173.00	0.00
19	4896173.00	2448085.00	0.00
20	2448085.00	4896173.00	0.00
21	14010.36	0.00	0.00
22	14010.36	0.00	0.00
23	14010.36	0.00	0.00
24	14010.36	0.00	0.00
25	14010.36	0.00	0.00
26	14010.36	0.00	0.00
27	14010.36	0.00	0.00
28	14010.36	0.00	0.00
29	14010.36	0.00	0.00
30	14010.36	0.00	0.00
31	14010.36	0.00	0.00

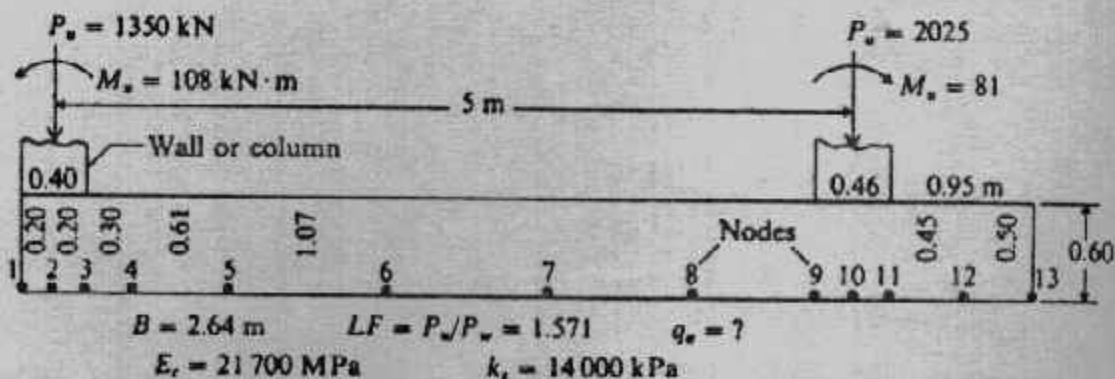
شكل (٨-٤): مثال (٨-٩).

THE LOAD MATRIX (KN OR KN-M) IS				THE JOINT DEFLECTIONS (M OR RADIANS) ARE				THE FORCE MATRIX (KN OR KN-M) IS			
LOAD	DIR.			JOINT	DIR.			MOMENT			
LOAD	DIR.	1	0.0	JOINT	DIR.	1	-0.00178004	MOMENT	1	0.2500	Round-off
LOAD	DIR.	2	0.0	JOINT	DIR.	2	-0.00185246	MOMENT	2	-177.0625	
LOAD	DIR.	3	0.0	JOINT	DIR.	3	-0.00179212	MOMENT	3	175.6250	
LOAD	DIR.	4	0.0	JOINT	DIR.	4	-0.00138393	MOMENT	4	323.3125	
LOAD	DIR.	5	0.0	JOINT	DIR.	5	-0.00074858	MOMENT	5	-325.2500	
LOAD	DIR.	6	0.0	JOINT	DIR.	6	-0.00000125	MOMENT	6	674.0625	
LOAD	DIR.	7	0.0	JOINT	DIR.	7	0.00074618	MOMENT	7	-675.1875	
LOAD	DIR.	8	0.0	JOINT	DIR.	8	0.00138182	MOMENT	8	880.1875	
LOAD	DIR.	9	0.0	JOINT	DIR.	9	0.00179049	MOMENT	9	-874.9375	
LOAD	DIR.	10	0.0	JOINT	DIR.	10	0.00185110	MOMENT	10	949.6250	
LOAD	DIR.	11	0.0	JOINT	DIR.	11	0.00177876	MOMENT	11	-948.4375	
LOAD	DIR.	12	0.0	JOINT	DIR.	12	0.002137150	MOMENT	12	881.3125	
LOAD	DIR.	13	1378.7000	JOINT	DIR.	13	0.02047165	MOMENT	13	-080.6250	
LOAD	DIR.	14	0.0	JOINT	DIR.	14	0.01934008	MOMENT	14	675.5000	
LOAD	DIR.	15	0.0	JOINT	DIR.	15	0.01835753	MOMENT	15	-675.0625	
LOAD	DIR.	16	0.0	JOINT	DIR.	16	0.01769904	MOMENT	16	325.3750	
LOAD	DIR.	17	0.0	JOINT	DIR.	17	0.01746760	MOMENT	17	-325.1250	
LOAD	DIR.	18	0.0	JOINT	DIR.	18	0.01769743	MOMENT	18	177.7500	
LOAD	DIR.	19	0.0	JOINT	DIR.	19	0.01835466	MOMENT	19	-177.3750	
LOAD	DIR.	20	0.0	JOINT	DIR.	20	0.01933599	MOMENT	20	0.2500	
LOAD	DIR.	21	1378.7000	JOINT	DIR.	21	0.02046877	FORCE	21	-302.2244	
LOAD	DIR.	22	0.0	JOINT	DIR.	22	0.02156578	FORCE	22	-286.8152	
								FORCE	23	-270.9612	
								FORCE	24	-257.1956	
								FORCE	25	-247.9699	
								FORCE	26	-244.7273	
								FORCE	27	-247.9474	
								FORCE	28	-257.1538	
								FORCE	29	-270.9041	
								FORCE	30	-286.7466	
								FORCE	31	-302.1443	

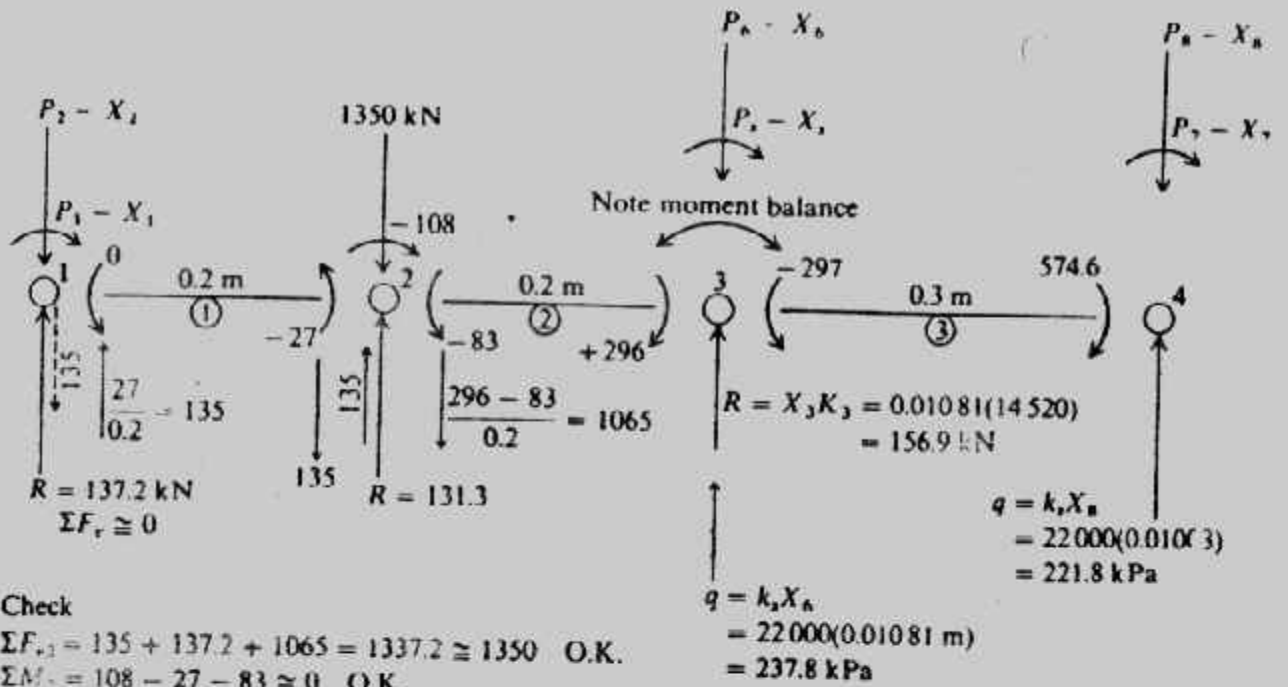
Checking: @  $M_6 = 948.44/1.356 = 699.4$  (699.2 ES-2.3)  
 @  $IF_6 = 1994.1/4.4475 = 448.9^\circ$  (448.4°)

DEAR AT EACH SEGMENT, KN	BEND. MOMENT AT EACH ORDINATE KN-M (ORIG. FEMS ADDED)	SOIL REACTION AT EA. ORD., KN	SOIL PRESSURE KN/50 M
1 291.0864	1 0.2500	302.2244	162.056
2 -823.0742	2 175.6250	286.8152	154.363
3 -374.3889	3 -325.2500	270.9612	145.830
4 -339.4692	4 -675.1875	257.1956	138.422
5 -113.7753	5 -879.9375	247.9699	133.456
6 108.6761	6 -948.4375	244.7273	131.711
7 334.3477	7 -880.6250	247.9474	133.444
8 569.2256	8 -675.0625	257.1538	138.399
9 -817.8239	9 -325.1250	270.9041	145.799
10 -296.3755	10 177.3750	286.7466	154.326
	11 -0.2500	302.1443	162.013
	SUM OF SOIL REACTIONS =	2974.7891	( 2980.15)

• شكل (٤٧-٨): مثال (٩-٨) •



• شكل (٤٨-٨): مثال (١٠-٨) •



Check

$$\Sigma F_{v,1} = 135 + 137.2 + 1065 = 1337.2 \approx 1350 \text{ O.K.}$$

$$\Sigma M_1 = 108 - 27 - 83 \approx 0 \text{ O.K.}$$

$$I = \frac{Bt^3}{12} = \frac{2.64(0.6)^3}{12} = 0.047520 \text{ m}^4 \text{—moment of inertia of any element}$$

$$K_1 = 22000 \left( \frac{0.2}{2} \right) (2.64)(2) = 11616 \text{ kN/m}$$

$$K_2 = 22000(0.2)(2.64) = 11616 \text{ kN/m}$$

Soil spring computations for first two nodes

$R$  = node spring force

Large numbers in SI produce round-off error using single precision

شكل (٨-٤٩): مثال (٨-١٠).

٣- طرق العناصر المميزة Discrete Element Methods : حيث تقسم اللبشة إلى عناصر وتضم هذه الطرق :

أ - طريقة الفروق المحدودة •

ب- طريقة العناصر المحدودة •

ج- طريقة الشبكة المحدودة •

وسوف تقدم في هذا الباب فكرة عن هذه الطرق علماً بأن هذه الطرق تستلزم المام

القارئ بالمصفوفات والكمبيوتر وطرق التحليل العددي •

تصميم اللبشة بطريقة المرونة التقريبية :

**Design of Mat by Approximate Flexible Method :**

تعتمد هذه الطريقة على مبدأ وينكلر Winkler الذي يفترض أن التربة عبارة عن

عدد غير محدد من اليايات المرنة ذات ثابت مرونة هو معامل رد فعل التربة  $K_s$  • ولقد

اقترح هذه الطريقة معهد الخرسانة الأمريكي ACI • والتصميم أساسا هنا يعتمد على نظرية الأسطح Plates theory تحت حمل واحد • وإذا وجد أكثر من حمل فيستخدم مبدأ التجميع Super-position لتعيين العزم والقص والهبوط لأي نقطة • وتتلخص هذه الطريقة في الخطوات الآتية :

١- حساب عمق اللبشة استنادا على التأثير الثنائي Two-way action للعمود الحرج (الركن أو الجانب أو الداخلى) •

٢- حساب جساءة بلاطة اللبشة :

$$D = \frac{E_c d^3}{12(1 - \mu_c^2)} \quad (\text{units of moment})$$

$E_c$  = Young's modulus of foundation material

$\mu_c$  = poisson's ratio of foundation material

٣- حساب نصف قطر القساوة المؤثرة radius of effective stiffness

$$L = \sqrt[4]{\frac{D}{k_s}} \quad (\text{units of length})$$

لاحظ أن منطقة تأثير أى عمود هي من ٣ إلى ٤ مرات نصف القطر L •

٤- حساب العزوم المماسية والقطرية والقص والهبوط باستخدام المعادلات الآتية :

$$M_r = -\frac{P}{4} \left[ Z_4 - \frac{1 - \mu_c}{x} Z_3 \right]$$

$$M_t = -\frac{P}{4} \left( \mu_c Z_4 + \frac{1 - \mu_c}{x} Z_3 \right)$$

$$\Delta H = \frac{PL^2}{8D} \quad (\text{at load})$$

$$\Delta H = \frac{PL^2}{4D} Z_3 \quad (\text{at distance } r \text{ from load})$$

$$V = -\frac{P}{4L} Z_4$$

$\mu_c$  = Poisson's ratio for mat (use 0.15 for concrete)

$x$  = distance ratio  $r/L$

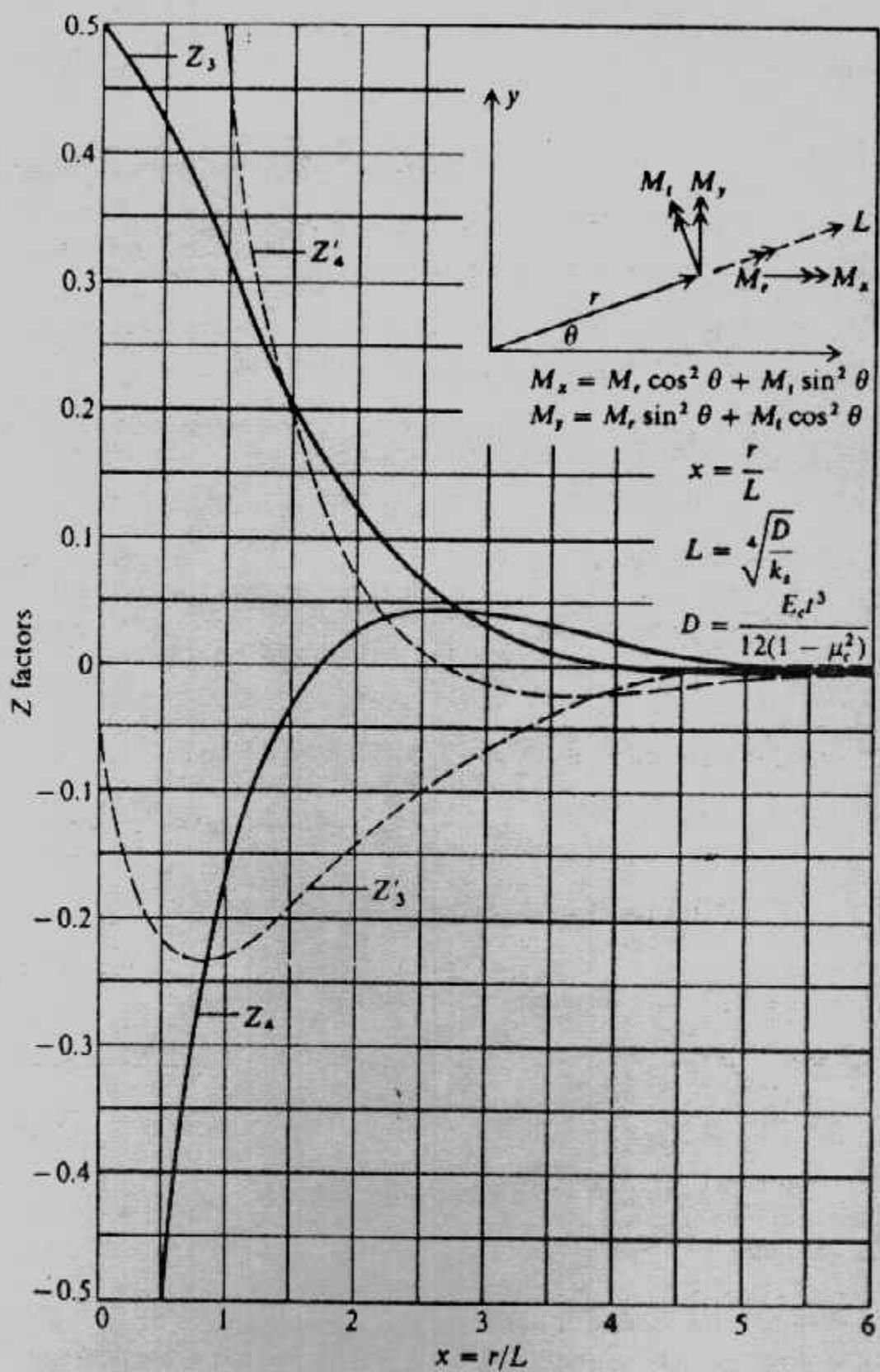
$Z_i$  = factors

$M_r, M_t$  = radial and tangential moments per unit of width

$V$  = shear per unit of width of plate

$M_x, M_y$  على محاور مستطيلة يمكن حسابها كما هو مبين بشكل (٨-٥١) •





شكل (٨-٥١) : معاملات طريقة المرونة التقريبية.



٥- إذا كانت حافة اللبشة تقع في منطقة تأثير العمود فإن العزم والقص على طول الحافة يعين على افتراض أن اللبشة ممتدة في هذا المكان . ويؤخذ القص والعزم عند الحافة الموازية كحمل حافة بإشارة معاكسة .

### تصميم اللبشة بطريقة الفروق المحدودة :

#### Design of Mat by Finite Differences Method :

طريقة الفروق المحدودة لللبشة تستخدم المعادلة التفاضلية من الدرجة الرابعة للأسطح والقشريات Plates and shells .

$$\frac{\partial^4 w}{\partial x^4} + \frac{2\partial^4 w}{\partial x^2 \partial y^2} + \frac{\partial^4 w}{\partial y^4} = \frac{q}{D} + \frac{P}{D(\partial x \partial y)}$$

وبالتعويض المباشر عن  $y''$  .  $y''''$  من جدول (٨-١٠) وباستخدام  $\partial x = \partial y = h$  نرى أن معادلة الفروق المحدودة للهبوط عند أى نقطة عقدية على اللبشة باستخدام شبكة مربعة شكل (٨-٥٢) تصبح

$$20w_o - 8(w_T + w_B + w_R + w_L) + 2(w_{TL} + w_{TR} + w_{EL} + w_{BR}) + (w_{TT} + w_{BB} + w_{LL} + w_{RR}) = \frac{qh^4}{D} + \frac{Ph^2}{D}$$

الإشارات  $q + P$  تكون في الاتجاه السفلى،  $q$  تكون جهد التربة لأعلى أو حمل اللبشة لأسفل كما أن جهد التربة يرتبط بمعامل رد فعل التربة

$$-q = k_s w$$

ويأخذ القيمة السابقة للهبوط ونقلها للطرف الأيسر من المعادلة الرئيسية تنتج زيادة في جزء  $20W$  إلى :

$$\left(20 + k_s \frac{h^4}{D}\right) w_o$$

ويجب مراعاة الوحدات فإذا كان  $qh^4/D$  بالمتري فإن الهبوط  $w$  يكون بالمتري . ويوضح شكل (٨-٥٣) تطبيق المعادلة الرئيسية السابقة .

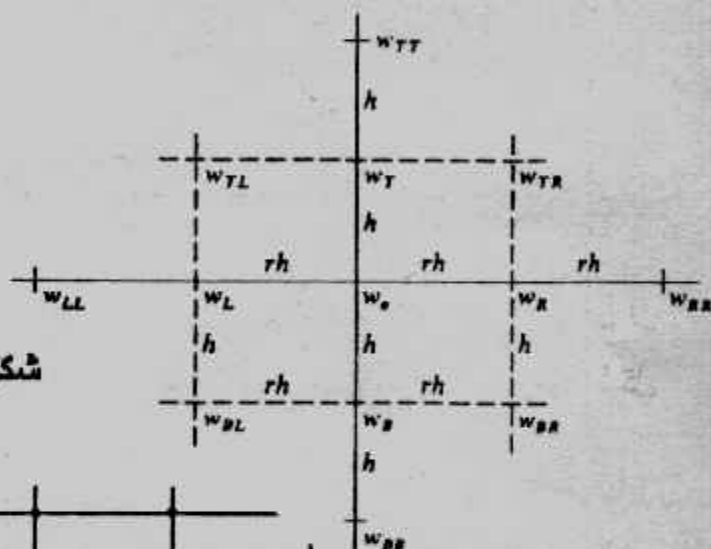
وبحل اللبشة بشبكة مستطيلة أبعادها  $h$  ،  $rh$  كما في شكل (٨-٥٤) فإن المعادلة الرئيسية نأخذ الشكل الآتي .

$$\left(\frac{6}{r^4} + \frac{8}{r^2} + 6\right)w_o + \left(-\frac{4}{r^4} - \frac{4}{r^2}\right)(w_L + w_R) + \left(-\frac{4}{r^2} - 4\right)(w_T + w_B) + \frac{2}{r^2}(w_{TL} + w_{TR} + w_{BL} + w_{BR}) + w_{TT} + w_{BB} + \frac{1}{r^4}(w_{LL} + w_{RR}) = \frac{qrh^2}{rD} + \frac{Ph^2}{rD}$$

وحيث  $q = -k_s w_o$  فإن عنصر  $w_o$  يصبح :

$$\left(\frac{6}{r^4} + \frac{8}{r^2} + 6 + \frac{k_s h^4}{D}\right)w_o$$

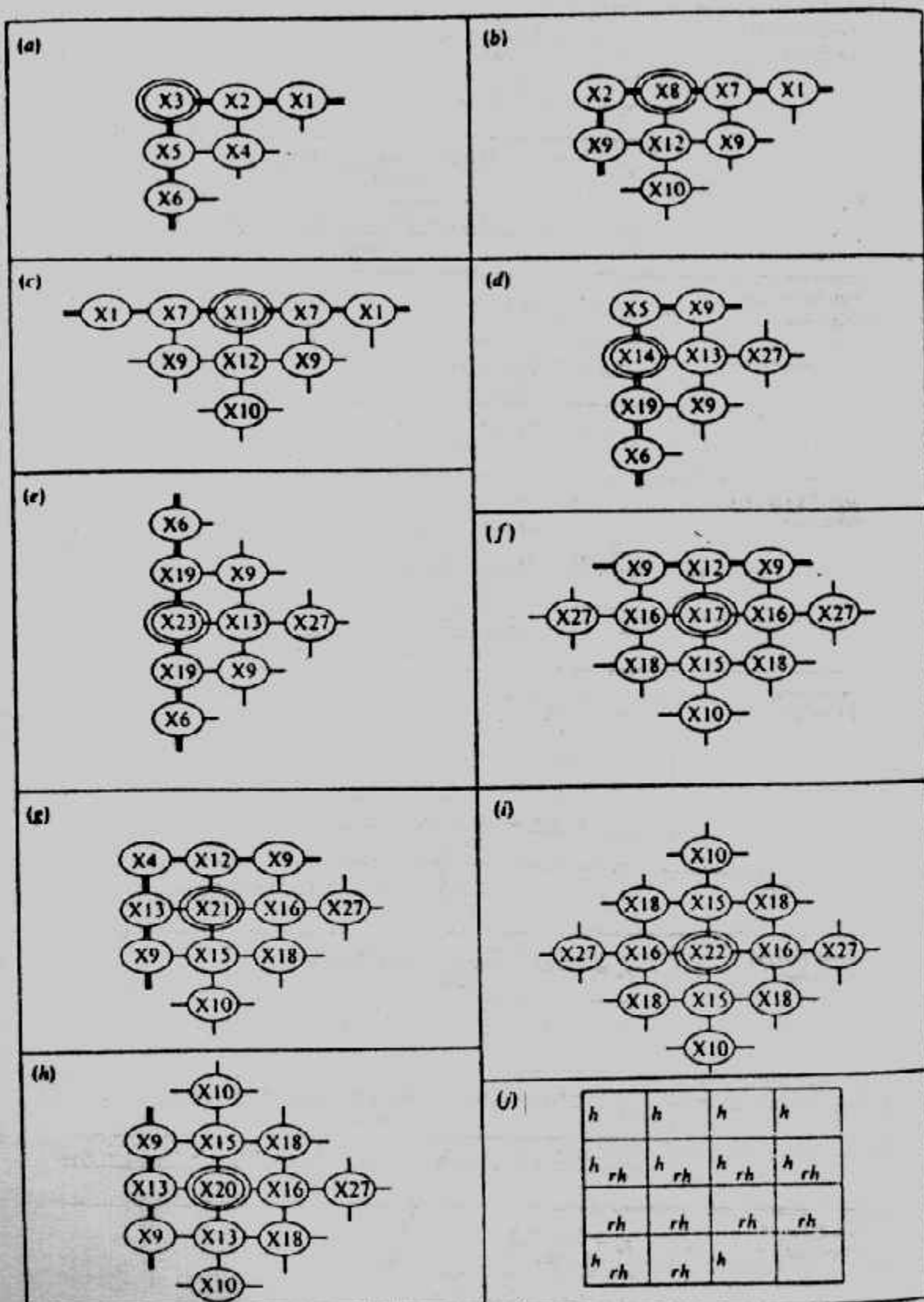
ويوضح شكل (٥٤-٨) وجدول (١١-٨) تطبيق المعادلة الأخيرة على شبكة مستطيلة.



شكل (٥٢-٨): شبكة الفروق المحدودة

7.1	7.2	7.3				
6.1	6.2	6.3	1	6.4	6.5	
			TT			
5.1	5.2	5.3	2	5.4	2	5.5
		TL	T	TR		
4.1	4.2	4.3	20	4.4	4.5	4.6
	LL	L	10	R	RR	
3.1	3.2	3.3	2	3.4	2	3.5
		BL	B	BR		
2.1	2.2	2.3	1	2.4	2.5	2.6
			BB			
1.1	1.2	1.3		1.4	1.5	1.6
						1.7

شكل (٥٣-٨) : تطبيق معادلة الفروق المحدودة.



شكل (٨-٥٤) : طريقة الفروق المحدودة على شبكة مستطيلة .



جدول (٨-١٠) الفروق المحدودة.

Second forward  
differences

$$y'_n = \frac{-y_{n+2} + 4y_{n+1} - 3y_n}{2(\Delta x)}$$

$$y''_n = \frac{-y_{n+3} + 6y_{n+2} - 5y_{n+1} + 2y_n}{(\Delta x)^2}$$

$$y'''_n = \frac{-3y_{n+4} + 14y_{n+3} - 24y_{n+2} + 18y_{n+1} - 5y_n}{2(\Delta x)^3}$$

$$y''''_n = \frac{-2y_{n+5} + 11y_{n+4} - 24y_{n+3} + 26y_{n+2} - 14y_{n+1} + 3y_n}{(\Delta x)^4}$$

First backward  
differences

$$y'_n = \frac{y_n - y_{n-1}}{\Delta x}$$

$$y''_n = \frac{y_n - 2y_{n-1} + y_{n-2}}{(\Delta x)^2}$$

$$y'''_n = \frac{y_n - 3y_{n-1} + 3y_{n-2} - y_{n-3}}{(\Delta x)^3}$$

Second backward  
differences

$$y'_n = \frac{3y_n - 4y_{n-1} + y_{n-2}}{2(\Delta x)}$$

$$y''_n = \frac{2y_n - 5y_{n-1} + 4y_{n-2} - y_{n-3}}{(\Delta x)^2}$$

$$y'''_n = \frac{5y_n - 18y_{n-1} + 24y_{n-2} - 14y_{n-3} + 3y_{n-4}}{2(\Delta x)^3}$$

First central  
differences

$$y'_n = \frac{y_{n+1} - y_{n-1}}{2(\Delta x)}$$

$$y''_n = \frac{y_{n+1} - 2y_n + y_{n-1}}{(\Delta x)^2}$$

$$y'''_n = \frac{y_{n+2} - 2y_{n+1} + 2y_{n-1} - y_{n-2}}{2(\Delta x)^3}$$

$$y''''_n = \frac{y_{n+2} - 4y_{n+1} + 6y_n - 4y_{n-1} + y_{n-2}}{(\Delta x)^4}$$

Second central  
differences

$$y'_n = \frac{-y_{n+2} + 8y_{n+1} - 8y_{n-1} + y_{n-2}}{12(\Delta x)}$$

$$y''_n = \frac{-y_{n+2} + 16y_{n+1} - 30y_n + 16y_{n-1} - y_{n-2}}{12(\Delta x)^2}$$

$$y'''_n = \frac{-y_{n+3} + 8y_{n+2} - 13y_{n+1} + 13y_{n-1} - 8y_{n-2} + y_{n-3}}{8(\Delta x)^3}$$

$$y''''_n = \frac{-y_{n-3} + 12y_{n+2} - 39y_{n+1} + 56y_n - 39y_{n-1} + 12y_{n-2} - y_{n-3}}{6(\Delta x)^4}$$

First forward  
differences

$$y'_n = \frac{y_{n+1} - y_n}{\Delta x}$$

$$y''_n = \frac{y_{n+2} - 2y_{n+1} + y_n}{(\Delta x)^2}$$

$$y'''_n = \frac{y_{n+3} - 3y_{n+2} + 3y_{n+1} - y_n}{(\Delta x)^3}$$

$$y''''_n = \frac{y_{n+4} - 4y_{n+3} + 6y_{n+2} - 4y_{n+1} + y_n}{(\Delta x)^4}$$

جدول (٨-١١) قيم الفروق المحدودة.

$X1 = \frac{1}{2r^4} (1 - \mu^2)$	$X2 = -\frac{1}{r^4} (1 - \mu^2) - \frac{2}{r^2} (1 - \mu)$
$X3 = \frac{1}{2r^4} (1 - \mu^2) + \frac{2}{r^2} (1 - \mu) + \frac{1}{2} (1 - \mu^2)$	$X4 = \frac{2}{r^2} (1 - \mu)$
$X5 = -\frac{2}{r^2} (1 - \mu) - (1 - \mu^2)$	$X6 = \frac{1}{2} (1 - \mu^2)$
$X7 = \frac{2}{r^4} (1 - \mu^2) - \frac{2}{r^2} (1 - \mu)$	$X8 = \frac{5}{2r^4} (1 - \mu^2) + \frac{4}{r^2} (1 - \mu) + 1.0$
$X9 = \frac{1}{r^2} (2 - \mu)$	$X10 = 1.0$
$X11 = \frac{3}{r^4} (1 - \mu^2) + \frac{4}{r^2} (1 - \mu) + 1.0$	$X12 = -\frac{2}{r^2} (2 - \mu) - 2.0$
$X13 = -\frac{2}{r^4} - \frac{2}{r^2} (2 - \mu)$	$X14 = \frac{1}{r^4} + \frac{4}{r^2} (1 - \mu) + \frac{1}{2} (1 - \mu^2)$
$X15 = -\frac{4}{r^2} - 4$	$X16 = -\frac{4}{r^4} - \frac{4}{r^2}$
$X17 = \frac{6}{r^4} + \frac{8}{r^2} + 5$	$X18 = \frac{2}{r^2}$
$X19 = -\frac{2}{r^2} (1 - \mu) - 2(1 - \mu^2)$	$X20 = \frac{5}{r^4} + \frac{8}{r^2} + 6$
$X21 = \frac{5}{r^4} + \frac{8}{r^2} + 5$	$X22 = \frac{6}{r^4} + \frac{8}{r^2} + 6$
$X23 = \frac{1}{r^4} + \frac{4}{r^2} (1 - \mu) + 3(1 - \mu^2)$	$X27 = \frac{1}{r^4}$

والقيم المبينة فى شكل (٨-٥٤) يمكن استخدامها لحل أى مسألة سواء كانت الشبكة مستطيلة أو مربعة، وعلى سبيل المثال إذا أخذنا ركن من اللبشة كما هو مبين بشكل (٨-٥٥) فإنه يمكن الحصول على معادلة الفروق المحدودة للنقطة العقدية باستخدام نظام شبكة النقطة المركزية Centre-point grid system وعلاقة العزم.

$$\frac{\partial^2 w}{\partial x^2} + \mu \frac{\partial^2 w}{\partial^2 y} = 0$$

$$\frac{\partial^3 w}{\partial x^3} + (2 - \mu) \frac{\partial^3 w}{\partial x \partial y^2} = 0$$

وعلاقة القص



والعزم والقص المتعامدان على الحافة الحرة يساويان الصفر. وإذا كانت نقطة ١٩ على اللبشة فإنه لا توجد مشكلة. ولكن لو كانت غير موجودة على اللبشة كما هو الحال هنا فإننا نطبق المعادلتين السابقتين. وبمساواة العزم المتعامد على الحافة عند نقطة ١٨ بالصفر نجد:

$$\frac{1}{(rH)^2} (w_{17} - 2w_{18} + w_{19})^2 + \frac{\mu}{H^2} (w_{22} - 2w_{18} + w_{13}) = 0$$

وبحذف  $H^2$  تتحول إلى :

$$w_{17} - 2w_{18} + w_{19} + \mu r^2 w_{22} - 2\mu r^2 w_{18} + \mu r^2 w_{13} = 0$$

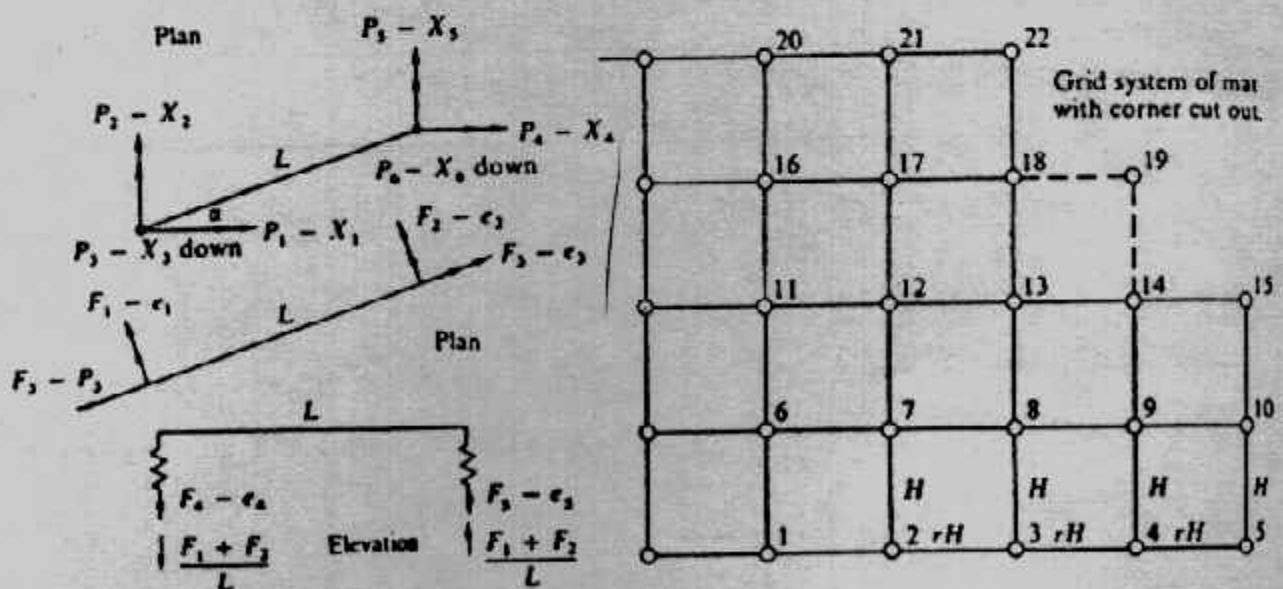
وبالحل لـ Wig نجد :

$$w_{19} = -\mu r^2 w_{13} - w_{17} + (2 + 2\mu r^2) w_{18} - \mu r^2 w_{22}$$

وبالتعويض عن هذه القيمة في قيمة الفرق عند نقطة ١٣ وتطبيق  $2r^2/r^4$  نحصل على معادلة الفروق المحدودة عند نقطة ١٣ وباستخدام جدول (٨-١١).

$$\begin{aligned} X10 \cdot w_3 + X18 \cdot w_7 + X15 \cdot w_8 + X18 \cdot w_9 + X27 \cdot w_{11} + X16 \cdot w_{12} \\ + (X22 - 2\mu) \cdot w_{13} + X16 \cdot w_{14} + X27 \cdot w_{15} + 0 \cdot w_{17} \\ + (-4 + 4\mu) \cdot w_{18} + (1 - 2\mu) \cdot w_{22} \\ = \frac{1}{Dr^3} [PH^2 - k_s(rH)^2 \cdot w_{13}] \end{aligned}$$

ويعيب طريقة الفروق المحدودة تلك المصفوفة الكبيرة التي يجب حلها بالكمبيوتر والتي تأخذ وقتاً طويلاً وقد تصل المصفوفة إلى  $1000 \times 1000$ . كما يعيب هذه الطريقة أيضاً إدخال تأثير حالات الحدود وحالات تثبيت العمود، وإدخال تأثير وجود ثقوب وميول بخرسانة اللبشة، كذلك صعوبة الحل بوجود عزم مركز في نقطة بل يجب توزيع العزم على عرض اللبشة. أما مزايا هذه الطريقة فتتمثل في سهولة وسرعة التطبيق.



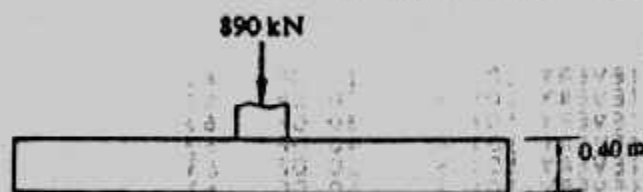
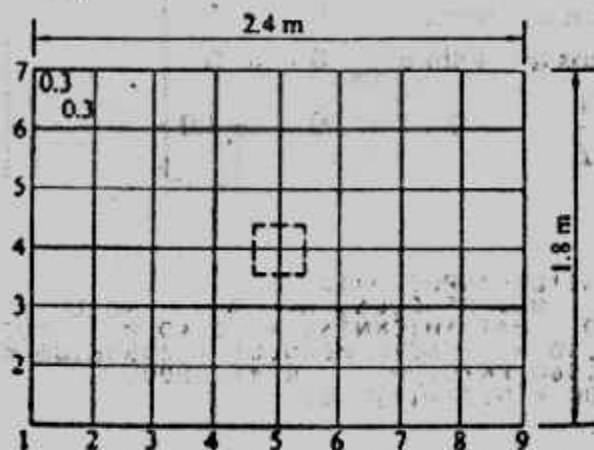
شكل (٨-٥٥) : نقطة خارج اللبشة.

#### Example (8-11):

Compute the bending moments of the rectangular spread footing (metric) shown in Fig.(8-56) use a grid of 0.3 x 0.3 m. Take  $E_c = 22,408,730$  kN/sq m. The



allowable soil pressure is 2kg/sq cm from which one can compute  $k_s \approx 23.536 \text{ kN/cu m}$ . Concrete unit weight ( $\gamma_c$ ) gives 23.56 kN/cu m. Poisson's ratio is taken as 0.15



شكل (٨-٥٦) : مثال (٨-١١).

**Solution :**

Figs. (8-57, 58, 59, 60) give the input and out put of solution.

تصميم اللبشة بطريقة العناصر المحدودة :

**Finite Element Method for Mat Foundation :**

في طريقة العناصر المحدودة تكون الإزاحة على الشكل الآتي :

$$u = a_1 + a_2X + a_3Y + a_4X^2 + a_5XY + a_6Y^2 + a_7X^3 + a_8X^2Y + a_9XY^2 + a_{10}Y^3 + a_{11}X^4 + a_{12}X^3Y + a_{13}X^2Y^2 + a_{14}XY^3 + a_{15}Y^4$$

وبالنسبة للمستوى المستطيل يوجد ثلاث إزاحات عند كل ركن (node) أي ١٢ مجهول شكل

(٨-٦١)

ويتقسم اللبشة إلى أعضاء شبكية grid members بمقاومة لي وعزم . وصفات

الأعضاء الشبكية يمكن تعيينها من الأبعاد التي تحدد من موقع العضو داخل الشبكة . فمثلا

الأعضاء من ١ إلى ٣ لها عرض يعادل نصف عرض الأعضاء ٤ ، ٨ ، ١٠ ، ١١ .

وبالرجوع لشكل (٨-٣٩) الذي يوضح عنصر P-X ومخطط F-c يتم الحصول على

المصفوفة A والمصفوفة S :

$$A = \begin{bmatrix} P \backslash F & 1 & 2 & 3 & 4 & 5 \\ 1 & -\sin \alpha & 0 & -\cos \alpha & 0 & 0 \\ 2 & +\cos \alpha & 0 & -\sin \alpha & 0 & 0 \\ 3 & +\frac{1}{L} & +\frac{1}{L} & 0 & -1.0 & 0 \\ 4 & 0 & -\sin \alpha & +\cos \alpha & 0 & 0 \\ 5 & 0 & +\cos \alpha & +\sin \alpha & 0 & 0 \\ 6 & -\frac{1}{L} & -\frac{1}{L} & 0 & 0 & -1.0 \end{bmatrix}$$

$$S = \begin{bmatrix} F \backslash e & 1 & 2 & 3 & 4 & 5 \\ 1 & \frac{4E1}{L} & \frac{2E1}{L} & & & \\ 2 & \frac{2E1}{L} & \frac{4E1}{L} & & & \\ 3 & & & \frac{GJ}{L} & & \\ 4 & & & & K & \\ 5 & & & & & K \end{bmatrix}$$

MAT FOUNDATION INPUT DATA  
 NO OF ROWS, N= 7 NO. OF COLS, M= 9 NO OF NON-ZERO 0-VALUES = 1  
 POISSONS RATIO = .150 MAT THICKNESS = 0.40 M MOD ELAS = 22408730.0 KN/SQ  
 GRID DIMENSION = 0.30 M SOIL MODULUS = 23536.00 KN/CU M  
 UNIT WT OF FTG = 23.560 KN/CU M R = 1.00000  
 D = 122264. DC = 0.736111D-06

MAT DIMENSIONS ARE: X= 2.400 M Y = 1.800 M

THE FOUNDATION LOADS AND COORDS ARE

4 5 890.000  
 INVERSION COUNT (EVERY 10) = 10 OF 63  
 INVERSION COUNT (EVERY 10) = 20 OF 63  
 INVERSION COUNT (EVERY 10) = 30 OF 63  
 INVERSION COUNT (EVERY 10) = 40 OF 63  
 INVERSION COUNT (EVERY 10) = 50 OF 63  
 INVERSION COUNT (EVERY 10) = 60 OF 63

THE LOAD MATRIX & FTG WEIGHT		LOAD MATRIX		FOOTING WT	
INCL	DDIV	FOOTING WT	LOAD	MATRIX	FOOTING WT
1	0.000000	0.212040	33	0.000001	0.848159
2	0.000000	0.424079	34	0.000001	0.848159
3	0.000000	0.424079	35	0.000001	0.848159
4	0.000000	0.424079	36	0.000000	0.424079
5	0.000000	0.424079	37	0.000000	0.424079
6	0.000000	0.424079	38	0.000001	0.848159
7	0.000000	0.424079	39	0.000001	0.848159
8	0.000000	0.424079	40	0.000001	0.848159
9	0.000000	0.212040	41	0.000001	0.848159
10	0.000000	0.424079	42	0.000001	0.848159
11	0.000001	0.848159	43	0.000001	0.848159
12	0.000001	0.848159	44	0.000001	0.848159
13	0.000001	0.848159	45	0.000000	0.424079
14	0.000001	0.848159	46	0.000000	0.424079
15	0.000001	0.848159	47	0.000001	0.848159
16	0.000001	0.848159	48	0.000001	0.848159
17	0.000001	0.848159	49	0.000001	0.848159
18	0.000000	0.424079	50	0.000001	0.848159
19	0.000000	0.424079	51	0.000001	0.848159
20	0.000001	0.848159	52	0.000001	0.848159
21	0.000001	0.848159	53	0.000001	0.848159
22	0.000001	0.848159	54	0.000000	0.424079
23	0.000001	0.848159	55	0.000000	0.212040
24	0.000001	0.848159	56	0.000000	0.424079
25	0.000001	0.848159	57	0.000000	0.424079
26	0.000001	0.848159	58	0.000000	0.424079
27	0.000000	0.424079	59	0.000000	0.424079
28	0.000000	0.424079	60	0.000000	0.424079
29	0.000001	0.848159	61	0.000000	0.424079
30	0.000001	0.848159	62	0.000000	0.424079
31	0.000001	0.848159	63	0.000000	0.212040
32	0.000656	0.848159			

شكل (٨-٥٧) : مثال (٨-١١).

ويأى التربة يحسب من  $k \cdot LB/4$  . كما يمكن تكوين المصفوفات  $ASA^T$  ,  $SA^T$  وكما هو مبين  
 بشكل (٨-٦٢) يمكن تكوين المصفوفة  $ASA^T$  لكل نقطة node ثم يتم تكوين المصفوفة  
 $ASA^T$  الكلية للبشة . ثم يستكمل الحل كما سبق بيانه بالنسبة للكمرات بالعناصر المحدودة .

THE BENDING MOMENTS IN SLAB ARE AS FOLLOWS

COORDS	X-AXIS	Y-AXIS	COORDS	X-AXIS	Y-AXIS
1	1	0.0	5	1	0.0
1	2	-16.2486	5	2	-6.8705
1	3	-42.5486	5	3	-35.1486
1	4	-75.1063	5	4	-87.5601
1	5	-94.5094	5	5	-157.9818
1	6	-75.1063	5	6	-87.5601
1	7	-42.5486	5	7	-35.1486
1	8	-16.2486	5	8	-6.8705
1	9	0.0	5	9	0.0
2	1	0.0	6	1	0.0
2	2	-11.4208	6	2	-11.4208
2	3	-39.3576	6	3	-39.3576
2	4	-79.6091	6	4	-79.6091
2	5	-111.5566	6	5	-111.5566
2	6	-79.6091	6	6	-79.6091
2	7	-39.3576	6	7	-39.3576
2	8	-11.4208	6	8	-11.4208
2	9	0.0	6	9	0.0
3	1	0.0	7	1	0.0
3	2	-6.8705	7	2	-16.2486
3	3	-35.1486	7	3	-42.5486
3	4	-87.5601	7	4	-75.1063
3	5	-157.9818	7	5	-94.5094
3	6	-87.5601	7	6	-75.1063
3	7	-35.1486	7	7	-42.5486
3	8	-6.8705	7	8	-16.2486
3	9	0.0	7	9	0.0
4	1	0.0			
4	2	-3.0026			
4	3	-28.0423			
4	4	-84.8139			
4	5	-247.5834			
4	6	-84.8139			
4	7	-28.0423			
4	8	-3.0026			
4	9	0.0			

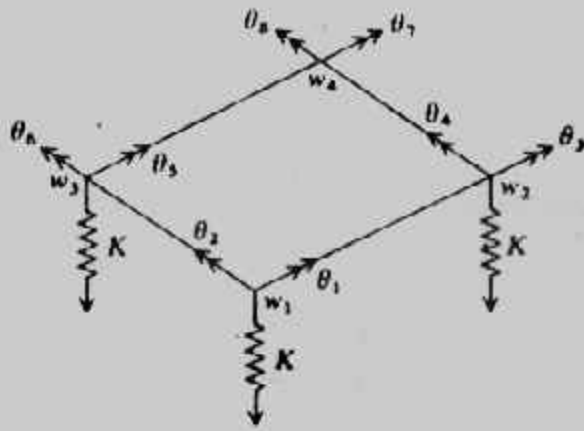
شكل (٨-٥٩) : مثال (٨-١١).

طريقة الشبكات المحدودة لللبشة :

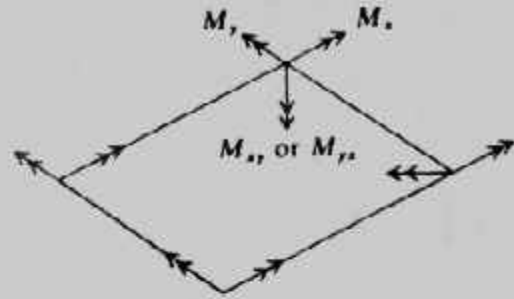
## The Finite-Grid Method for Mat Foundation

هذه الطريقة أنسب الطرق لتصميم اللبشة حيث أنها تتميز بما يلي :

- ١- من السهل تفسير نتائج عناصر العمود - الكمرات والمعرضة لعزم أولى فقط، حيث يكون العزم لوحدة العرض هو عزم النقطة العقدية مقسوما على عرض العنصر .
- ٢- من السهل الحصول على القص في نهايات العناصر، حيث يكون القص هو مجموع العزوم عند نهايات العناصر مقسوما على طول العنصر وعرضه ويكون هذا القص لوحدة العرض .
- ٣- من السهل إدخال عزوم الأعمدة المركزة .
- ٤- من السهل إدخال حالات الحدود .
- ٥- هذه الطريقة أسهل بها عمل امتداد للنقط العقدية ذات الثلاث درجات تحرر إلى نقط عقدية ذات ست درجات تحرر 6-degree of freedom أسلوب الحل بهذه الطريقة يتشابه مع طريقة العناصر المتناهية في الصغر (المحدودة) الممتدة إلى العمود - الكمرات والمستخدم للأسطح Plates وتستخدم نفس المعادلات :



(a) Displacements



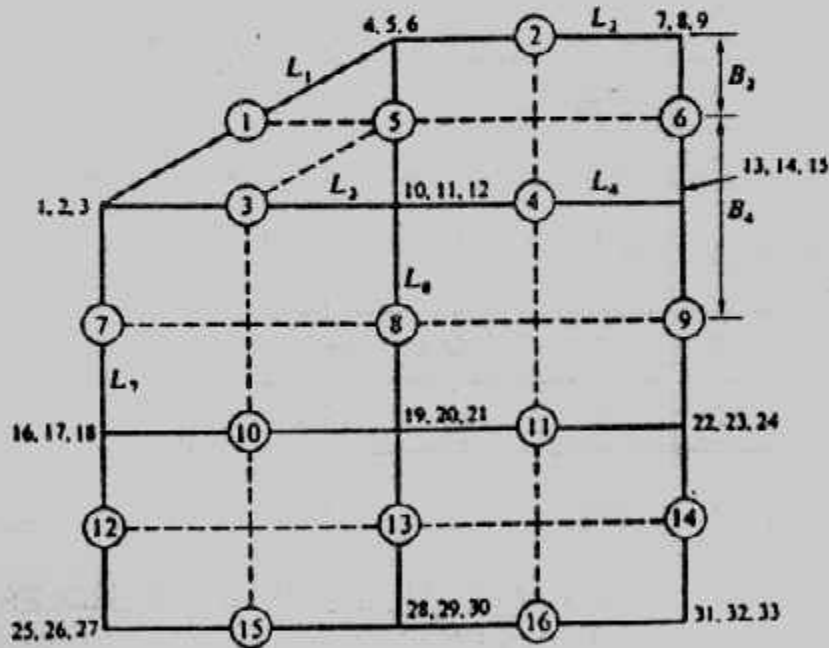
(b) Forces

شكل (٦١-٨) طريقة العناصر المحدودة باستخدام العنصر المستطيل .

$$P = AF \quad e = A^T X F \quad = Se = SA^T X$$

$$P = ASA^T X \quad \text{and} \quad X = (ASA^T)^{-1} P$$

ولكن قبل ذلك يجب تطوير مصفوفات ES, EA



شكل (٦٢-٨) تقسيم اللبشة بالأعضاء الشبكية .


بالرجوع لشكل (٦٣-٨) فإن المصفوفة EA تكون من  $\Sigma F$  عند كل نقطة ومثلاً عند نقطة ١

$$P_1 = F_1 \sin \alpha + OF_2 - F_3 \cos \alpha$$

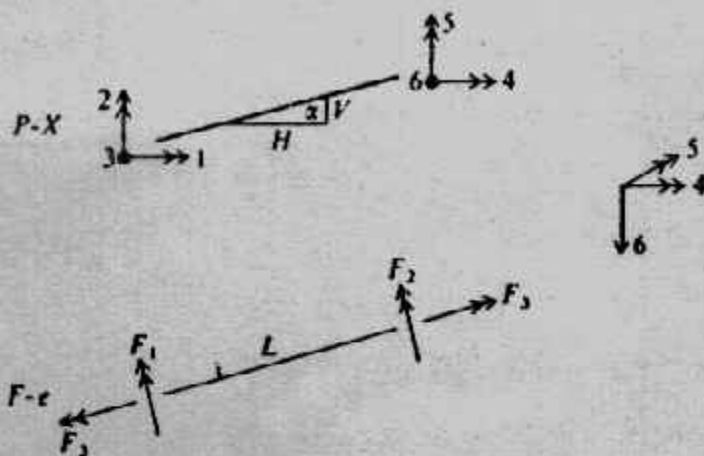
$$P_2 = F_1 \cos \alpha + OF_2 - F_3 \sin \alpha$$

$$P_3 = F_1 / L + F_2 / L + OF_3$$





(a) Gridding



(b) P-X and F-e coding

شكل (٨-٦٣) : طريقة الشبكات المحدودة للبشة.

وتكون المصفوفة الناتجة هي :

P \ F	F		
	1	2	3
1	$-\sin \alpha$	0	$-\cos \alpha$
2	$\cos \alpha$	0	$-\sin \alpha$
3	$\frac{1}{L}$	$\frac{1}{L}$	0
4	0	$-\sin \alpha$	$\cos \alpha$
5	0	$\cos \alpha$	$\sin \alpha$
6	$-\frac{1}{L}$	$-\frac{1}{L}$	0

EA =

وتأخذ المصفوفة ES الشكل الآتي شاملا معامل اللي للقوة  $F_3$ .

F \ e	e		
	1	2	3
1	$\frac{4EI}{L}$	$\frac{2EI}{L}$	0
2	$\frac{2EI}{L}$	$\frac{4EI}{L}$	0
3	0	0	$\frac{\Omega GJ}{L}$

ES =

ومعامل اللي  $L$  يجب أن يحسب للشبكات المستطيلة ومعامل الضبط  $\Omega$  يستخدم لجعل الحل أفضل

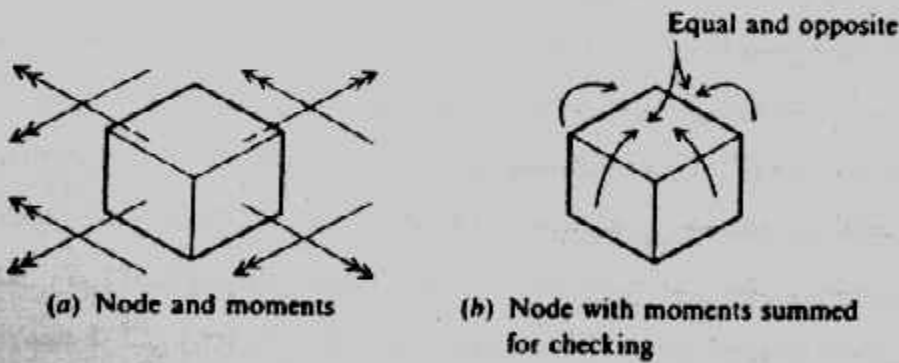
$$\Omega = 0.75L/B \leq 1.1$$

حيث  $L, B$  هما أطوال عنصر الشبكة : الطول والعرض . ومبدأ رد فعل التربة كإي عند النقط سهل تطويره حيث يكون العنصر القطري في مصفوفة القساوة هو معامل إيا التربة  $K_i$

$$(A_{ii} + K_i) X_i = P_i$$

وللأساسات المنفصلة يؤخذ  $K_i = 0$  ويعاد تكون مصفوفة القساوة Stiffness matrix وتحل مرة أخرى لإيجاد الإزاحات  $X_i$  . وتتمثل خطوات الحل بهذه الطريقة بإيجاد تخانة اللبشة المقاومة للقص . ومن الإزاحات من  $P = (ASA^T)^{-1} P$  يمكن حل  $X = SA^T X$  لكل عنصر لإيجاد قوى العنصر . وبرنامج الكمبيوتر يمكنه إخراج المصفوفات  $EASA^T, ASA^T (EASA^T), SA^T (ESA^T)$  سيكون حجمها  $6 \times 6$

ويكرر الحل إلى أن يصل إلى التقارب، والتقارب يعنى أن يكون عدد النقط العقدية الحالى بالتربة  $N_i$  يساوى  $N_i - 1$  عدد النقط المستخدمة أو  $N_i = N_i - 1$  وحينما يحدث التقارب فإن البرنامج حينئذ يحسب عزوم العنصر وقوى اللي باستخدام  $F = ESA^T X$  ويجب التحقق من العزوم الناتجة عند النقط . شكل (٨-٦٤) . كما يجب ملاحظة أنه عند أى نقطة عقدية يكون مجموع القوى الرأسية من مصفوفة  $P$  ورد فعل التربة ومجموعة قوى القص للعنصر عند النقطة مساويا للصفر .



Checking moments in output for statistics at a node.

شكل (٨-٦٤) : التحقق من العزوم عند النقطة .