


المؤسسة: مدرسة	مادة الرياضيات	السنة الدراسية: 2017/ 2018
المستوى: الأول	الفرض: 2 / الدورة: 2	اسم التلميذ(ة):

(1) - ألون بطاقة الطفل الذي يمكن له شراء القصة (5, 1 ن):

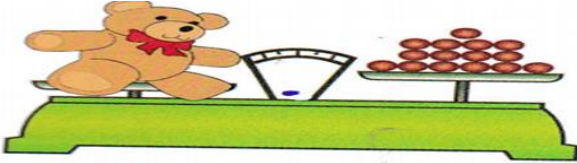
<p>رشيد</p> <table> <tr><td>10</td><td>10</td><td>10</td></tr> <tr><td>10</td><td>10</td><td>10</td></tr> <tr><td>10</td><td>10</td><td>10</td></tr> <tr><td>5</td><td></td><td></td></tr> </table>	10	10	10	10	10	10	10	10	10	5			<p>فاطمة</p> <table> <tr><td>10</td><td>10</td><td>10</td></tr> <tr><td>10</td><td>10</td><td>10</td></tr> <tr><td>10</td><td>10</td><td>10</td></tr> <tr><td>1</td><td>10</td><td>10</td></tr> <tr><td>1</td><td></td><td></td></tr> </table>	10	10	10	10	10	10	10	10	10	1	10	10	1			<p>سعد</p> <table> <tr><td>10</td><td>10</td><td>10</td></tr> <tr><td>10</td><td>10</td><td>10</td></tr> <tr><td>10</td><td>10</td><td>10</td></tr> <tr><td>5</td><td>10</td><td>10</td></tr> <tr><td>5</td><td></td><td></td></tr> </table>	10	10	10	10	10	10	10	10	10	5	10	10	5			 <p>93 درهما</p>
10	10	10																																											
10	10	10																																											
10	10	10																																											
5																																													
10	10	10																																											
10	10	10																																											
10	10	10																																											
1	10	10																																											
1																																													
10	10	10																																											
10	10	10																																											
10	10	10																																											
5	10	10																																											
5																																													

(2) - أصل (5, 1 ن):

أربعة وتسعون	*	67	*
ستة وسبعون	*	94	*
سبعة وستون	*	76	*

4 عشرات و 7 وحدات	*	94	*
8 عشرات و 4 وحدات	*	47	*
9 عشرات و 4 وحدات	*	84	*

4- ألاحظ كفتي الميزان وأرسم الإبرة (1 ن):

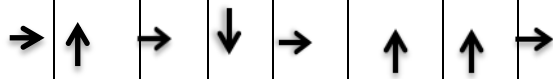
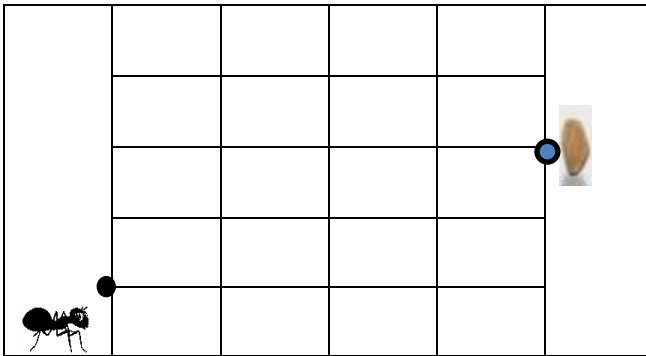


3- أرتب الأعداد من الأصغر إلى الأكبر (5, 1 ن):

54 - 99 - 82 - 65 - 91

... < ... < ... < ... < ...

6- ألاحظ القن، ثم أرسم السبيل الذي ستسلكه النملة إلى حبة القمح (2 ن):



5- أضع و أنجز (5, 1 ن):

43 + 49 =	12 + 64 =
.	.
.	.
+	+
.	.
.	.
=	=
.	.
.	.

7 ألون خانات الجدول حسب إيقاع الترصيف (1 ن):

أحمر	أصفر				
أصفر	أحمر				
أحمر	أصفر				